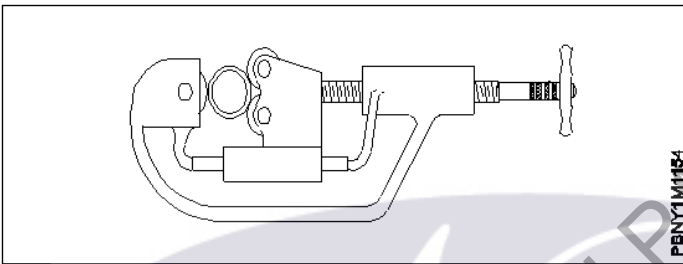
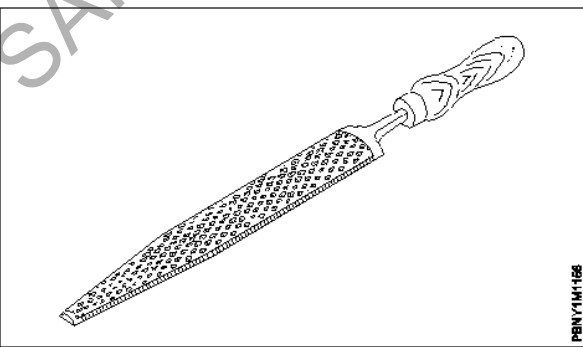


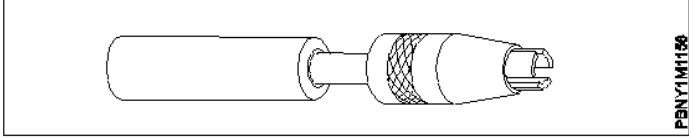
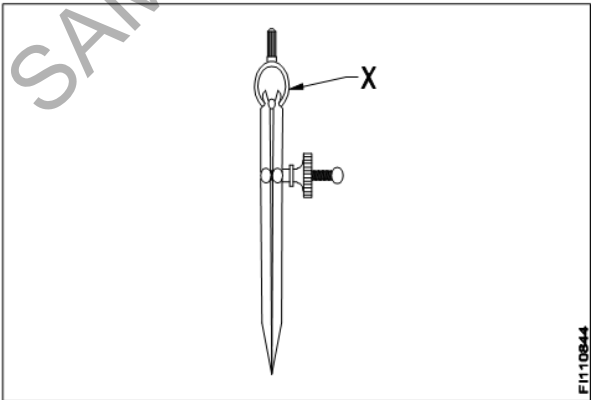
ALL INDIA TRADE TEST - 2024 FOR CRAFTSMEN
TRAINING SCHEME (CTS)
Trade Name: Plumber
Year: 1st Year

Exam Date :
Exam Time :

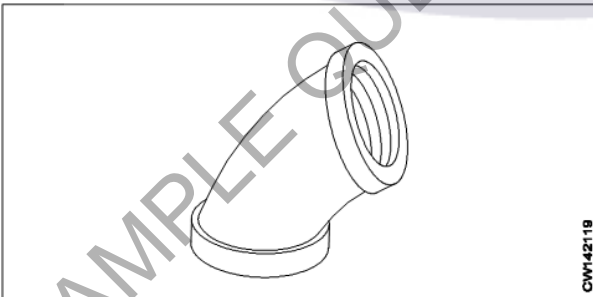
Note:

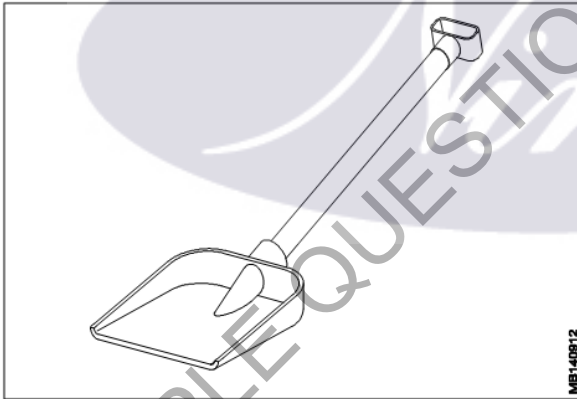
1. Tick the correct option out of four alternatives provided
2. All questions carry equal marks (2 Marks each)
3. There is no negative marking

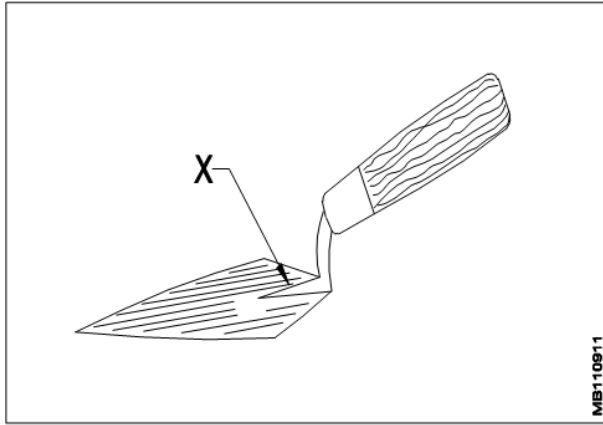
Sr. No.	Q ID	Question Body and Alternatives	Marks	Negative Marks
Trade Theory				
1	1	<p>What is the name of tool shown in figure? चित्र में दिखाए गए टूल का नाम क्या है?</p>  <p>A1 : Pipe wrench पाइप रिच</p> <p>A2 : Pipe cutter पाइप कटर</p> <p>A3 : Multi wheel chain pipe cutter मल्टी व्हील चेन पाइप कटर</p> <p>A4 : Pipe thread cutter पाइप थ्रेड कटर</p>	2.0	0.00
Trade Theory				
2	2	<p>What is the name of tool shown in figure? चित्र में दिखाए गए टूल का नाम क्या है?</p>  <p>A1 : Reamer रीमर</p> <p>A2 : Flat file फ्लैट फाइल</p>	2.0	0.00

		<p>A3 : Rasp cut file रास्प कट फ़ाइल</p> <p>A4 : Single cut file एकल कट फ़ाइल</p>		
Trade Theory				
3	3	<p>What is the name of vice shown in figure? चित्र में दिखाए गए वाइस का नाम क्या है?</p>  <p>A1 : Hand vice हैंड वाइस</p> <p>A2 : Bench vice बेंच वाइस</p> <p>A3 : Pin vice पिन वाइस</p> <p>A4 : Leg vice लेग वाइस</p>	2.0	0.00
Trade Theory				
4	4	<p>Which one is an indirect measuring instrument? अप्रत्यक्ष मापने वाला यंत्र कौन सा है?</p> <p>A1 : Steel rule स्टील रूल</p> <p>A2 : Vernier caliper वर्नियर कैलिपर</p> <p>A3 : Outside caliper आउटसाइड कैलिपर</p> <p>A4 : Bevel protector बेवल प्रोटेक्टर</p>	2.0	0.00
Trade Theory				
5	5	<p>What is the name of part marked as 'X' shown in figure? चित्र में दिखाए गए 'X' से चिह्नित भाग का नाम क्या है?</p>  <p>A1 : Peg पैग</p> <p>A2 : Spring स्प्रिंग</p>	2.0	0.00

		सिंग A3 Washer : वॉशर A4 Fulcrum : फुलक्रम		
Trade Theory				
6	6	What is the name of caliper shown in figure? चित्र में दिखाए गए कैलीपर का नाम क्या है? <div data-bbox="256 418 791 795" data-label="Image"> </div>	2.0	0.00
		A1 Firm joint inside caliper : फर्म जॉइंट इनसाइड कैलिपर A2 Firm joint outside caliper : फर्म जॉइंट आउटसाइड कैलिपर A3 Spring joint outside caliper : स्प्रिंग जॉइंट आउटसाइड कैलिपर A4 Spring joint inside caliper : स्प्रिंग जॉइंट इनसाइड कैलिपर		
Trade Theory				
7	7	What is the weight of hammer used for marking purpose? अंकन उद्देश्य के लिए उपयोग किए जाने वाले हथौड़े का वजन कितना है?	2.0	0.00
		A1 125 gms : 125 gms A2 200 gms : 200 gms A3 250 gms : 250 gms A4 300 gms : 300 gms		
Trade Theory				
8	8	What is the use of odd leg caliper? ओड लैग कैलिपर का उपयोग क्या है?	2.0	0.00
		A1 For scribing arcs and circles : वृत्त और वृत्त-चाप को चिह्नित करने के लिए A2 For marking lines parallel to inside and outside edges : अंदर और बाहरी किनारों के समानांतर रेखाओं को चिह्नित करने के लिए A3 For measuring the internal dimensions : आंतरिक आयाम को मापने के लिए		

		<p>A4 : For measuring the external dimensions बाहरी आयाम को मापने के लिए</p>		
Trade Theory				
9	9	<p>What is the application of inside caliper? अंदर कैलिपर के आवेदन क्या है?</p> <p>A1 : To measure external measurement बाहरी माप को मापने के लिए</p> <p>A2 : To transfer measurement from steel rule इस्पात शासन से माप स्थानांतरित करने के लिए</p> <p>A3 : To measure internal measurement आंतरिक आयामों को मापने के लिए</p> <p>A4 : To mark lines लाइनों को चिह्नित करने के लिए</p>	2.0	0.00
Trade Theory				
10	10	<p>What is the formula to calculate tap drill size? टैप ड्रिल के आकार की गणना करने के लिए सूत्र क्या है?</p> <p>A1 : Minor dia = major dia + (2 x depth) Minor dia = major dia + (2 x depth)</p> <p>A2 : Minor dia = major dia - (2 x depth) Minor dia = major dia - (2 x depth)</p> <p>A3 : Minor dia = major dia + (2 + depth) Minor dia = major dia + (2 + depth)</p> <p>A4 : Minor dia = major dia + (2 - depth) Minor dia = major dia + (2 - depth)</p>	2.0	0.00
Trade Theory				
11	11	<p>What is the type of elbow shown in figure? चित्र में दिखाई गई एल्बो का प्रकार क्या है?</p>  <p>A1 : 15° elbow 15° एल्बो</p> <p>A2 : 45° elbow 45° एल्बो</p> <p>A3 : 60° elbow 60° एल्बो</p> <p>A4 : 90° elbow 90° एल्बो</p>	2.0	0.00
Trade Theory				
12	12	<p>What are the weld positions for butt joints in pipes by gas welding? गैस वेल्डिंग द्वारा पाइपों में बट जॉइंट्स के लिए वेल्ड की पोजीशन क्या है?</p>	2.0	0.00

		<p>A1 : 1G, 2G and 5G</p> <p>1G, 2G and 5G</p> <p>A2 : 1G, 2G and 6G</p> <p>1G, 2G and 6G</p> <p>A3 : 1G, 2G and 3G</p> <p>1G, 2G and 3G</p> <p>A4 : 1G, 2G and 4G</p> <p>1G, 2G and 4G</p>		
Trade Theory				
13	13	<p>What is the angle of blow pipe held in right ward welding? सही वार्ड वेल्डिंग में आयोजित झटका पाइप के कोण क्या है?</p> <p>A1 : Blow pipe held at an angle of 40°- 50° 40° - 50° के कोण पर आयोजित ब्लो पाइप</p> <p>A2 : Blow pipe held at an angle of 30°- 40° 30° - 40° के कोण पर आयोजित ब्लो पाइप</p> <p>A3 : Blow pipe held at an angle of 20°- 30° 20° - 30° के कोण पर आयोजित ब्लो पाइप</p> <p>A4 : Blow pipe held at an angle of 10°- 20° 10° - 20° के कोण पर आयोजित ब्लो पाइप</p>	2.0	0.00
Trade Theory				
14	14	<p>What is the name of mason tool shown in figure? चित्र में दिखाए गए मेसन टूल का नाम क्या है?</p>  <p>A1 : Mortar pan मोर्टार पैन</p> <p>A2 : Pickaxe कुदाल से मिट्टी खुरपना</p> <p>A3 : Shovel शावल</p> <p>A4 : Spade कुदाल</p>	2.0	0.00
Trade Theory				
15	15	<p>What is the name of part marked as 'X' in mason's trowel shown in figure? चित्र में दिखाए गए मेसन ट्रॉव में 'X' के रूप में चिह्नित भाग का नाम क्या है?</p>	2.0	0.00



A1
:

Frog

फ्रॉग

A2
:

Heel

हील

A3
:

Shank

शंक

A4
:

Ferrule

फरुले

Trade Theory

16

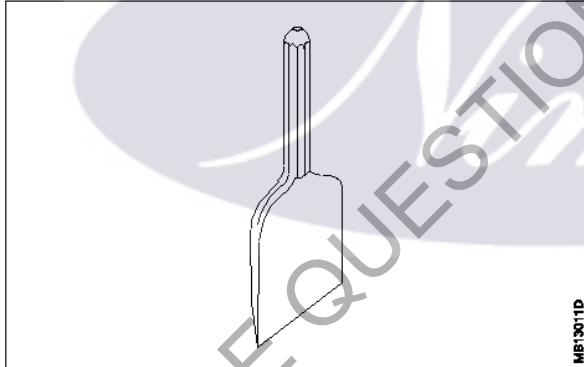
16

What is the name of tool shown in figure?

चित्र में दिखाए गए टूल का नाम क्या है?

2.0

0.00



A1
:

Club hammer

क्लब हथौड़ा

A2
:

Scotch

स्कॉच मदीरा

A3
:

Bolster

सिलेंडर

A4
:

Jointers

जॉइंटर्स

Trade Theory

17

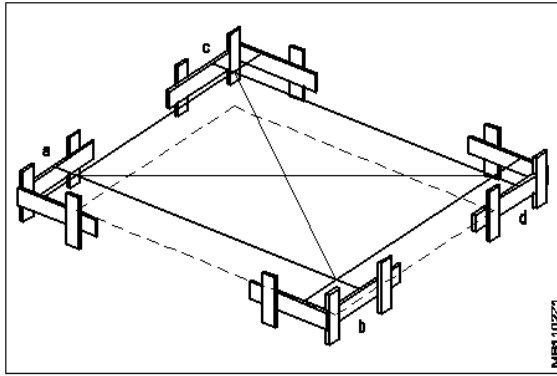
17

What is sequence to set out a building shown in figure?

चित्र में दिखाए गए बिल्डिंग को सेट करने का सीक्वेंस क्या है?

2.0

0.00



A1
: Marking third line of the building

इमारत की तीसरी लाइन अंकन

A2
: Verifying diagonal distance between profile markings

प्रोफाइल चिह्नों के बीच विकर्ण दूरी सत्यापित किया जा रहा

A3
: Marking fourth line of the building

इमारत की चौथी लाइन अंकन

A4
: Driving nails on the pegs

खूंटे पर नाखून ड्राइविंग

Trade Theory

18

18

What is the point angle of centre punch?
केंद्र पंच का बिंदु कोण क्या है?

A1
: 30°

30°

A2
: 45°

45°

A3
: 60°

60°

A4
: 90°

90°

2.0

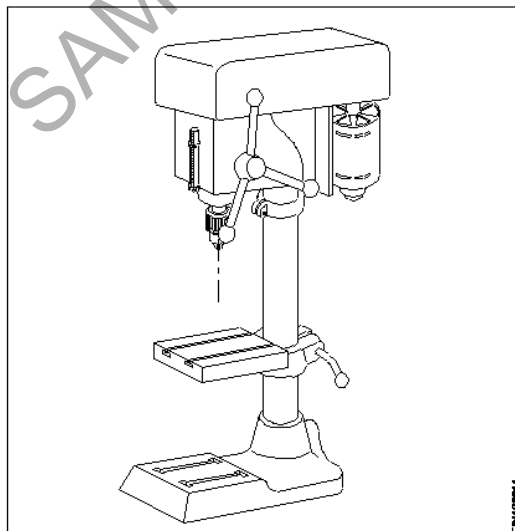
0.00

Trade Theory

19

19

What is the name of machine shown in figure?
चित्र में दिखाई गई मशीन का नाम क्या है?



A1
: Pedestal drilling machine

2.0

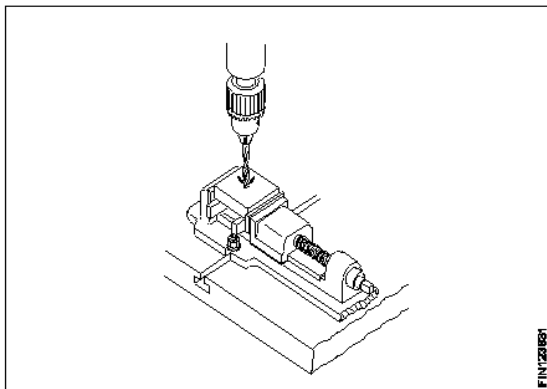
0.00

- पेडस्टल ड्रिलिंग मशीन
A2
: Bench drilling machine
खंडपीठ ड्रिलिंग मशीन
A3
: Bench grinder
बेंच ग्राइंडर
A4
: Pedestal grinder
पेडस्टल ग्राइंडर

Trade Theory

20 20 What is the name of process shown in figure? 2.0 0.00

चित्र में दिखाई गई प्रक्रिया का नाम क्या है?

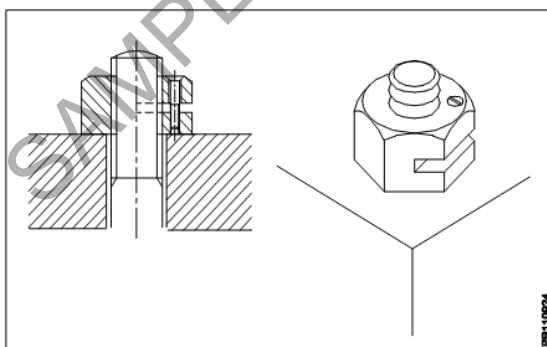


- A1 Reaming
: रीमिंग
A2 Drilling
: ड्रिलिंग
A3 Tapping
: दोहन
A4 Counter sinking
: काउंटर ड्रब

Trade Theory

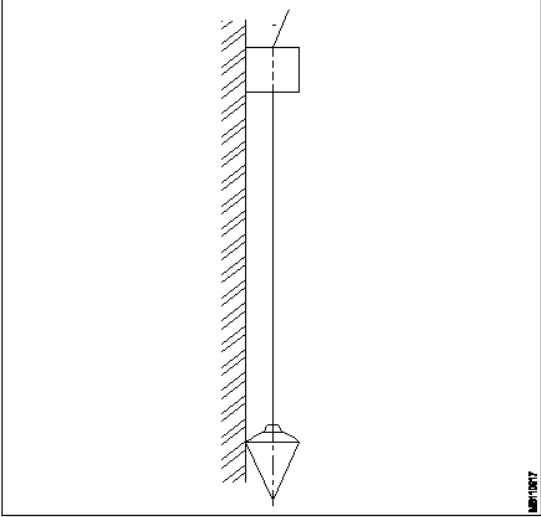
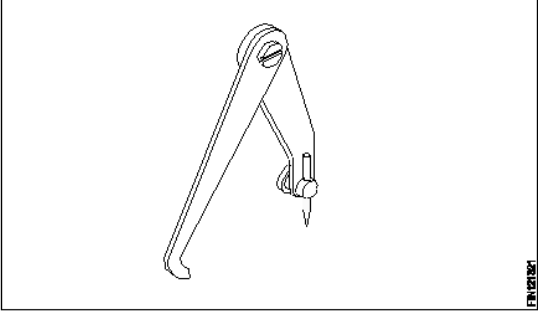
21 21 What is the name of nut shown in figure? 2.0 0.00

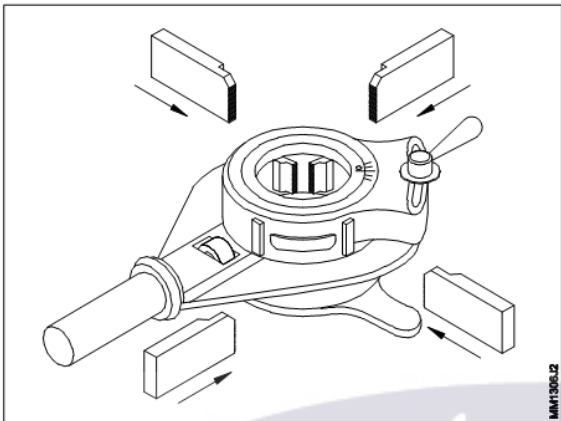
चित्र में दिखाए गए नट का नाम क्या है?



- A1 Sawn nut
: सौन नट
A2 Castle nut
: कैसल नट
A3 Slotted nut
: स्लॉटेड नट

		A4 Grooved nut : ग्रूव्ड नट		
Trade Theory				
22	22	Which nuts are used to protect thread at the bolt end from damages? कौन से नट का उपयोग बोल्ट छोर पर थ्रेड्स को क्षतिग्रस्त होने से बचाने के लिए किया जाता है? A1 Wing nut : विंग नट A2 Round nut : राउंड नट A3 Slotted nut : स्लॉटेड नट A4 Domed cap nut : डॉमेड कैप नट	2.0	0.00
Trade Theory				
23	23	Which material is used to manufacture soldering iron tip? कौन सा सामग्री टांका लोहे टिप निर्माण करने के लिए प्रयोग किया जाता है? A1 Cast iron : कच्चा लोहा A2 Steel : इस्पात A3 Bronze : पीतल A4 Copper : तांबा	2.0	0.00
Trade Theory				
24	24	Which is non - corrosive flux? नॉन - कोरोसिव फ्लक्स कौन सा है? A1 Hydrochloric acid : हाइड्रोक्लोरिक एसिड A2 Zinc chloride : जिंक क्लोराइड A3 Ammonium chloride : अमोनियम क्लोराइड A4 Tallow resin : टालो रेसिन	2.0	0.00
Trade Theory				
25	25	Which is prepared as artificial sand? कृत्रिम रेत के रूप में तैयार किया जाता है? A1 Sea sand : समुद्री बालू A2 River sand : नदी रेत A3 Crushing stone sand : पत्थर रेत क्रशिंग A4 Pit sand :	2.0	0.00

26	26	<p>What is the name of instrument shown in figure?</p> <p>चित्र में दिखाए गए इंस्ट्रूमेंट का नाम क्या है?</p>  <p>A1 : Mason trowel मेसन करणी</p> <p>A2 : Mason's square मेसन के वर्ग</p> <p>A3 : Plumb bob प्लंब बॉब</p> <p>A4 : Wooden peg लकड़ी खूंटी</p>	2.0	0.00
27	27	<p>Which is used for setting out and checking for squareness with the aid of a straight edge or plumb rule?</p> <p>किसका उपयोग सीधे किनारे या साहुल नियम की सहायता से स्क्वेरेनेस स्थापित करने और जांचने के लिए किया जाता है</p> <p>A1 : Mason's square मेसन के वर्ग</p> <p>A2 : Builders square बिल्डर्स वर्ग</p> <p>A3 : Try square वर्ग का प्रयास करें</p> <p>A4 : Bevelled square बेवेल्लेड स्क्वायर</p>	2.0	0.00
28	28	<p>What is the name of caliper shown in figure?</p> <p>चित्र में दिखाए गए कैलीपर का नाम क्या है?</p> 	2.0	0.00

		<p>A1 : Outside caliper आउटसाइड कैलिपर</p> <p>A2 : Jenny caliper जेनी कैलिपर</p> <p>A3 : Inside caliper इनसाइड कैलिपर</p> <p>A4 : Divider डिवाइडर</p>		
Trade Theory				
29	29	<p>What is the name of die stock shown in figure? चित्र में दिखाए गए डाई स्टॉक का नाम क्या है?</p>  <p>A1 : Screw die stock स्कू डाई स्टॉक</p> <p>A2 : Quick cut die stock क्विक कट डाई स्टॉक</p> <p>A3 : Button pattern stock बटन पैटर्न स्टॉक</p> <p>A4 : Ratchet type die stock रैचेट टाइप डाई स्टॉक</p>	2.0	0.00
Trade Theory				
30	30	<p>What is the formula to calculate blank size of round rod before cutting the external thread? एक्सटर्नल थ्रेड की कटिंग से पहले राउंड रॉड के ब्लैंक साइज की गणना करने का फार्मूला क्या है?</p> <p>A1 : Blank size=Thread size -0.1 x pitch of the thread Blank size=Thread size -0.1 x pitch of the thread</p> <p>A2 : Blank size=Thread size +0.1 pitch of the thread Blank size=Thread size +0.1 pitch of the thread</p> <p>A3 : Blank size=Thread size -0.01 pitch of the thread Blank size=Thread size -0.01 pitch of the thread</p> <p>A4 : Blank size=Thread size +0.01 pitch of the thread Blank size=Thread size +0.01 pitch of the thread</p>	2.0	0.00
Trade Theory				
31	31	<p>Which colour is painted on oxygen cylinder? ऑक्सीजन सिलेंडर पर कौन सा रंग पेंट किया जाता है?</p> <p>A1 : Maroon colour मैरून रंग</p> <p>A2 Red colour</p>	2.0	0.00

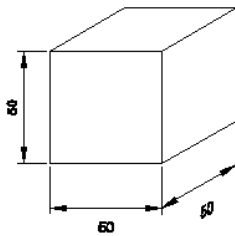
		: लाल रंग A3 : Black colour : काला रंग A4 : Yellow colour : पीला रंग		
Trade Theory				
32	32	What is the pressure range between the oxygen cylinder? ऑक्सीजन सिलेंडर के बीच दबाव सीमा क्या है? A1 : 90 to 120 Kg/cm ² 90 to 120 Kg/cm ² A2 : 120 to 150 Kg/cm ² 120 to 150 Kg/cm ² A3 : 15 to 16 Kg/cm ² 15 to 16 Kg/cm ² A4 : 14 to 15 Kg/cm ² 14 to 15 Kg/cm ²	2.0	0.00
Trade Theory				
33	33	What is the pressure range between the dissolved acetylene gas cylinder? भंग एसिटिलीन गैस सिलेंडर के बीच दबाव सीमा क्या है? A1 : 14 to 15 Kg/cm ² 14 to 15 Kg/cm ² A2 : 15 to 16 Kg/cm ² 15 to 16 Kg/cm ² A3 : 120 to 150 Kg/cm ² 120 to 150 Kg/cm ² A4 : 110 to 120 Kg/cm ² 110 to 120 Kg/cm ²	2.0	0.00
Trade Theory				
34	34	Which type of filler rod contains iron, carbon, silicon and manganese? भराव रॉड किस प्रकार का लोहा, कार्बन, सिलिकॉन और मैंगनीज शामिल? A1 : Alloy type filler rod for ferrous metals लौह धातु के लिए मिश्र धातु प्रकार भराव रॉड A2 : Ferrous type filler rod लौह प्रकार भराव रॉड A3 : Non-ferrous filler rod अलौह भराव रॉड A4 : Alloy type filler rod non ferrous metals मिश्र धातु प्रकार भराव रॉड गैर लौह धातुओं	2.0	0.00
Trade Theory				
35	35	Which type of filler metal does not require flux while gas welding? भराव धातु किस प्रकार का प्रवाह है, जबकि गैस वेल्डिंग की आवश्यकता नहीं है? A1 : High silicon cast iron उच्च सिलिकॉन कच्चा लोहा A2 : Mild steel - Type S - FSI	2.0	0.00

		हल्के स्टील - प्रकार S - FSI A3 : Copper filler rod कॉपर भराव रॉड A4 : Medium nickel bronze मध्यम निकल पीतल		
Trade Theory				
36	36	Which type of flux removes oxides on base metal surface? प्रवाह किस प्रकार का आधार धातु की सतह पर आक्साइड को हटा? A1 : Inorganic fluxes अकार्बनिक अपशिष्टों A2 : Organic fluxes कार्बनिक अपशिष्टों A3 : Resin राल A4 : Tallow तेल	2.0	0.00
Trade Theory				
37	37	Which type of bricks are used in construction such as bridges, storage buildings etc.? इन निर्माणों में किस प्रकार की ईंटों का उपयोग किया जाता है जैसे कि पुल, भंडारण भवन आदि? A1 : Solid bricks ठोस ईंटों A2 : Perforated bricks छिद्रित ईंटों A3 : Heavy duty bricks भारी शुल्क ईंटों A4 : Fire bricks आग ईंटों	2.0	0.00
Trade Theory				
38	38	Which bond of bricks are laid cross wise with 5 cm lap each coarse? ईंटों की किस चिनाई को प्रत्येक 5 सेमी मोटाई की दूरी के साथ क्रॉस वार किया जाता है? A1 : Stretcher bond स्ट्रेचर बंधन A2 : Raking bond बटोर बंधन A3 : Header bond हैडर बंधन A4 : Dutch bond डच बंधन	2.0	0.00
Workshop Calculation and Science				
39	39	Which metal contains iron as a major content? इनमें से किस धातु में प्रमुख सामग्री के रूप में लोहा होता है? A1 : Brass metal पीतल धातु A2 : Bronze metal ब्रॉज धातु	2.0	0.00

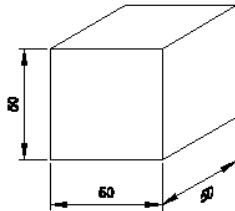
		A3 : Zinc ज़िंक A4 : Ferrous metal लोह धातु		
Workshop Calculation and Science				
40	40	Which property of metal has its power of returning to its original shape after the applied force is released? धातु की कौन सा गुण बल लगाने पर विरूपित तथा बल हटाने पर वापस अपने पूर्ववस्था में आने की क्षमता रखता है? A1 : Malleability आघातवर्धनीयता A2 : Tenacity दृढ़ता A3 : Elasticity प्रत्यास्तथा A4 : Plasticity सुघट्यता	2.0	0.00
Workshop Calculation and Science				
41	41	Which among the following is an insulator? निम्नलिखित में से कौन एक कुचालक है? A1 : Copper ताँबा A2 : Aluminium एल्यूमिनियम A3 : Silver चाँदी A4 : Mica मिका	2.0	0.00
Workshop Calculation and Science				
42	42	What is termed as the quantity of matter contained in a body? वस्तु में निहित पदार्थ की मात्रा को क्या कहा जाता है? A1 : Density घनत्व A2 : Volume आयतन A3 : Mass द्रव्यमान A4 : Specific gravity विशिष्ट गुरुत्व	2.0	0.00
Workshop Calculation and Science				
43	43	What is called mass per unit volume of a substances? किसी पदार्थ के द्रव्यमान प्रति इकाई आयतन को क्या कहते हैं? A1 : Mass द्रव्यमान A2 : Weight भार A3 : Density	2.0	0.00

		घनत्व A4 : Volume आयतन		
Workshop Calculation and Science				
44	44	<p>What is the specific gravity of the solid, if density of the solid is 19.5 g/cm^3?</p> <p>यदि ठोस का घनत्व 19.5 g/cm^3 है तो ठोस का विशिष्ट गुरुत्व कितना होगा है,?</p> <p>A1 : 18.0 18.0</p> <p>A2 : 18.5 18.5</p> <p>A3 : 19.0 19.0</p> <p>A4 : 19.5 19.5</p>	2.0	0.00
Engineering Drawing				
45	45	<p>Identify the conventional symbol of material?</p> <p>सामग्री के पारंपरिक प्रतीक को पहचानें?</p> <div data-bbox="264 826 850 1055" data-label="Image"> </div> <p>A1 : Lead लेड</p> <p>A2 : Steel इस्पात</p> <p>A3 : Glass कांच</p> <p>A4 : Porcelain चीनी मिट्टी</p>	2.0	0.00
Engineering Drawing				
46	46	<p>Identify the conventional symbol of material?</p> <p>सामग्री के पारंपरिक प्रतीक को पहचानें?</p> <div data-bbox="255 1617 839 1839" data-label="Image"> </div> <p>A1 : Concrete संगीत कार्यक्रम</p> <p>A2 : Steel इस्पात</p> <p>A3 : Wood</p>	2.0	0.00

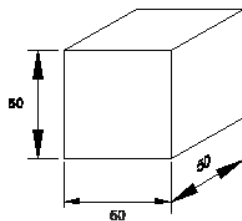
		लकड़ी A4 : Glass कांच		
Engineering Drawing				
47	47	<p>Identify the conventional symbol of material?</p> <p>सामग्री के पारंपरिक प्रतीक को पहचानें?</p> <div data-bbox="261 327 834 557" data-label="Image"> </div> <p>A1 Steel : इस्पात</p> <p>A2 Wood : लकड़ी</p> <p>A3 Glass : कांच</p> <p>A4 Concrete : ठोस</p>	2.0	0.00
Engineering Drawing				
48	48	<p>What is the trimmed size of A4 sheet?</p> <p>A4 शीट का ट्रिम किया हुआ आकार क्या है?</p> <p>A1 841 x 1189 : 841 x 1189</p> <p>A2 594 x 841 : 594 x 841</p> <p>A3 210 x 297 : 210 x 297</p> <p>A4 148 x 210 : 148 x 210</p>	2.0	0.00
Engineering Drawing				
49	49	<p>Which drawing dimension is correct as per IS standard?</p> <p>IS मानक के अनुसार कौन सा ड्राइंग आयाम सही है?</p> <p>A1</p> <div data-bbox="300 1684 549 1904" data-label="Image"> </div> <p>A2</p>	2.0	0.00



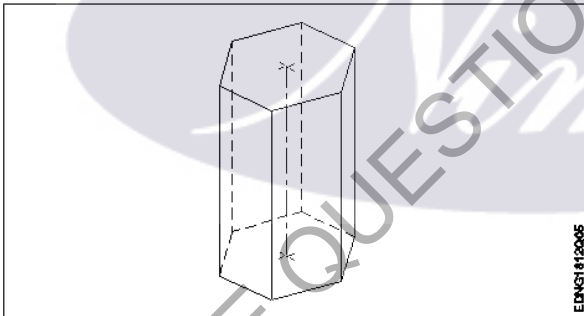
A3
:



A4
:



Engineering Drawing

50	50	<p>Identify the name of prism? चित्र में दिखाए गए प्रिज्म का नाम क्या है?</p>  <p>EDNG3112005</p> <p>A1 : Square prism स्क्वायर प्रिज्म</p> <p>A2 : Pentagonal prism पंचकोणीय प्रिज्म</p> <p>A3 : Triangular prism त्रिकोणीय प्रिज्म</p> <p>A4 : Hexagonal prism हेक्सागोनल प्रिज्म</p>	2.0	0.00
----	----	--	-----	------

Employability Skills

51	51	<p>Fill in the blank with correct word. "They _____ good friends" रिक्त में सही शब्द भरें। "They _____ good friends"</p> <p>A1 : is</p> <p>is</p> <p>A2 : am</p> <p>am</p>	2.0	0.00
----	----	--	-----	------

		A3 are : are A4 was : was		
Employability Skills				
52	52	Fill in the blank with present progressive tense of the verb. "The train _____ through the tunnel" क्रिया के वर्तमान प्रगतिशील काल के साथ रिक्त स्थान भरें। "The train _____ through the tunnel" A1 passed : passed A2 is passing : is passing A3 had passed : had passed A4 was passing : was passing	2.0	0.00
Employability Skills				
53	53	Fill in the blank with proper interrogative adjective. _____ are you going? उचित ईंटोरोगेटिव विशेषण के साथ रिक्त स्थान भरें। _____ are you going? A1 Who : Who A2 Where : Where A3 Which : Which A4 What : What	2.0	0.00
Employability Skills				
54	54	Fill in the blank with proper pronoun. "I made this cake _____" रिक्त स्थान में उचित सर्वनाम के साथ भरें। "I made this cake _____" A1 myself : myself A2 yourself : yourself A3 himself : himself A4 itself : itself	2.0	0.00
Employability Skills				
55	55	Fill in the blank with proper pronoun. "She made this cake _____" रिक्त स्थान में उचित सर्वनाम के साथ भरें। "She made this cake _____" A1 itself : itself A2 myself : myself A3 herself : herself	2.0	0.00

		A4 : himself himself		
Employability Skills				
56	56	Fill in the blank with proper reflexive pronoun. "She has hurt _____" रिक्त स्थान में उचित प्रतिवर्ती सर्वनाम के साथ भरें। "She has hurt _____" A1 : myself myself A2 : herself herself A3 : himself himself A4 : itself itself	2.0	0.00
Employability Skills				
57	57	Fill in the blank with suitable adjective for the given sentence "The little girl's..... eyes revealed her mischief" दिए गए वाक्य के लिए उपयुक्त विशेषण के साथ रिक्त स्थान भरें। "The little girl's..... eyes revealed her mischief" A1 : chubby chubby A2 : weak weak A3 : short sighted short sighted A4 : twinkling twinkling	2.0	0.00
Employability Skills				
58	58	Fill in the blank with suitable place preposition. "My house is _____ the third floor" उपयुक्त स्थान पूर्वसर्ग के साथ रिक्त स्थान भरें। "My house is _____ the third floor" A1 : at at A2 : in in A3 : on on A4 : under under	2.0	0.00
Employability Skills				
59	59	Fill in the correct question word. "_____ is the speaker at the function?" सही प्रश्न शब्द भरें। "_____ is the speaker at the function?" A1 : What What A2 : When When A3 : Why Why A4 : Who Who	2.0	0.00
Employability Skills				

60	60	Low level language is also called _____. निम्न स्तर की भाषा को _____ भी कहा जाता है	2.0	0.00
		A1 : source code सोर्स कोड A2 : middle ware मध्यस्थ A3 : machine language मशीन भाषा A4 : assembly language असेंबली भाषा		
Employability Skills				
61	61	Pronunciation refers to _____. उच्चारण _____ को संदर्भित करता है	2.0	0.00
		A1 : diphthong संयुक्त स्वर A2 : consonant व्यंजन A3 : punctuation विराम चिह्न A4 : production of sound ध्वनि का उत्पादन		
Employability Skills				
62	62	Re-arrange the following set of words into meaningful sentence. "teacher / school / worked / she / a / as". शब्दों के निम्नलिखित सेट को सार्थक वाक्य में फिर से व्यवस्थित करें। "teacher / school / worked / she / a / as"	2.0	0.00
		A1 : School worked as a she teacher School worked as a she teacher A2 : She worked as a school teacher She worked as a school teacher A3 : She teacher worked as a school She teacher worked as a school A4 : Worked she as a school teacher Worked she as a school teacher		
Employability Skills				
63	63	Rise and fall of pitch of voice is called _____. आवाज की पिच का उठना और गिरना _____ कहलाता है	2.0	0.00
		A1 : vowel स्वर A2 : intonation आवाज़ का उतार-चढ़ाव A3 : consonant व्यंजन A4 : pronunciation उच्चारण		
Employability Skills				
64	64	The word that expresses a sudden and strong feeling is called _____. वह शब्द जो अचानक और मजबूत भावना व्यक्त करता है उसे _____ कहा जाता है	2.0	0.00

		<p>A1 : punctuation विराम चिह्न</p> <p>A2 : interjection विस्मयादिबोधक</p> <p>A3 : conjunction संयोजन के रूप</p> <p>A4 : apostrophe एपोस्ट्रॉफी</p>		
Employability Skills				
65	65	<p>When you greet higher official's such as Teacher, Instructor or Supervisor, you should use _____. जब आप शिक्षक, प्रशिक्षक या पर्यवेक्षक जैसे उच्च अधिकारियों का अभिवादन करते हैं, तो आपको _____ का उपयोग करना चाहिए</p> <p>A1 : Good morning Good morning</p> <p>A2 : Hello Hello</p> <p>A3 : Hey Hey</p> <p>A4 : Hi Hi</p>	2.0	0.00
Employability Skills				
66	66	<p>Which is a silent letter in the word "ANSWER"? "ANSWER" शब्द में कौन सा मूक अक्षर है?</p> <p>A1 : R R</p> <p>A2 : E E</p> <p>A3 : S S</p> <p>A4 : W W</p>	2.0	0.00
Employability Skills				
67	67	<p>Which one is a "Do's" of discussion etiquettes? चर्चा के शिष्टाचारों में से कौन सा "Do's" है?</p> <p>A1 : Loose your temper अपना आपा खोएं</p> <p>A2 : Listen to others दूसरों की सुनें</p> <p>A3 : Talk about irrelevant details अप्रासंगिक विवरण के बारे में बात करें</p> <p>A4 : Use impolite or rude language अभद्र या अशिष्ट भाषा का उपयोग करें</p>	2.0	0.00
Employability Skills				
68	68	<p>Which one is a "Don't" of discussion etiquette? चर्चा शिष्टाचार का "Don't" है?</p> <p>A1 : Be open minded</p>	2.0	0.00

		<p>दिमाग खुला रखना</p> <p>A2 : Use moderate tone</p> <p>मध्यम स्वर का प्रयोग करें</p> <p>A3 : Listen to others</p> <p>दूसरों की सुनें</p> <p>A4 : Argue unnecessary</p> <p>अनावश्यक बहस करें</p>		
Employability Skills				
69	69	<p>Which one is a brain of computer? कंप्यूटर का मस्तिष्क कौन सा है?</p> <p>A1 : Keyboard</p> <p>कीबोर्ड</p> <p>A2 : CPU</p> <p>सी पी यू</p> <p>A3 : Monitor</p> <p>मॉनिटर</p> <p>A4 : Hard disk</p> <p>हार्ड डिस्क</p>	2.0	0.00
Employability Skills				
70	70	<p>Which one is an exclamatory sentence? कौन सा विस्मयादिबोधक वाक्य है?</p> <p>A1 : What a beautiful house it is!</p> <p>What a beautiful house it is!</p> <p>A2 : It is a beautiful house.</p> <p>It is a beautiful house.</p> <p>A3 : Is it a beautiful house?</p> <p>Is it a beautiful house?</p> <p>A4 : Your house is beautiful.</p> <p>Your house is beautiful.</p>	2.0	0.00
Employability Skills				
71	71	<p>Which one is in active voice? सक्रिय आवाज में कौन सा है?</p> <p>A1 : Ram has passed the exam.</p> <p>Ram has passed the exam.</p> <p>A2 : The ball was caught by him.</p> <p>The ball was caught by him.</p> <p>A3 : The book was being read by her.</p> <p>The book was being read by her.</p> <p>A4 : We were driven home by dad.</p> <p>We were driven home by dad.</p>	2.0	0.00
Employability Skills				
72	72	<p>Which one is in passive voice? निष्क्रिय आवाज में कौन सा है?</p> <p>A1 : Mohan is painting a house.</p> <p>Mohan is painting a house.</p> <p>A2 : She was reading a book.</p>	2.0	0.00

		<p>She was reading a book.</p> <p>A3 : Her birthday was celebrated by us.</p> <p>Her birthday was celebrated by us.</p> <p>A4 : I have seen that movie.</p> <p>I have seen that movie.</p>		
Employability Skills				
73	73	<p>Which one is NOT a conjunction?</p> <p>कौन सा एक संयोजन नहीं है?</p> <p>A1 : And</p> <p>And</p> <p>A2 : Or</p> <p>Or</p> <p>A3 : But</p> <p>But</p> <p>A4 : On</p> <p>On</p>	2.0	0.00
Employability Skills				
74	74	<p>Which one is NOT a benefit of the role playing?</p> <p>भूमिका निभाने का कौन सा लाभ नहीं है?</p> <p>A1 : Builds confidence</p> <p>आत्मविश्वास पैदा करता है</p> <p>A2 : Develops listening skill</p> <p>सुनने का कौशल विकसित करता है</p> <p>A3 : Develops creative problem-solving skill</p> <p>रचनात्मक समस्या-समाधान कौशल विकसित करता है</p> <p>A4 : Develops boredom</p> <p>बोरियत पैदा करता है</p>	2.0	0.00
Employability Skills				
75	75	<p>Which one is NOT a vowel?</p> <p>कौन सा स्वर नहीं है?</p> <p>A1 : a</p> <p>a</p> <p>A2 : e</p> <p>e</p> <p>A3 : f</p> <p>f</p> <p>A4 : i</p> <p>i</p>	2.0	0.00

Plumber - 1 Year - Set 2

S.No.	Correct Answer Key
1	A2
2	A3
3	A3
4	A3
5	A2
6	A3
7	A3
8	A2
9	A3
10	A2
11	A2
12	A1
13	A1
14	A3
15	A2
16	A3
17	A2
18	A4
19	A2
20	A2
21	A1
22	A4
23	A4
24	A4
25	A3
26	A3
27	A2
28	A2
29	A4
30	A1
31	A3
32	A2
33	A2
34	A1
35	A2
36	A1
37	A3
38	A3

S.No.	Correct Answer Key
39	A4
40	A3
41	A4
42	A3
43	A3
44	A4
45	A2
46	A4
47	A4
48	A3
49	A1
50	A4
51	A3
52	A2
53	A2
54	A1
55	A3
56	A2
57	A4
58	A3
59	A4
60	A3
61	A4
62	A2
63	A2
64	A2
65	A1
66	A4
67	A2
68	A4
69	A2
70	A1
71	A1
72	A3
73	A4
74	A4
75	A3

Note:

"In case answers found to be inaccurate due to typographical error or any other reason please sent mail to qbnimigrievance@gmail.com"