


**ALL INDIA TRADE TEST - 2024 FOR CRAFTSMEN  
TRAINING SCHEME (CTS)  
Trade Name: Electrician  
Year: 1st Year**

Exam Date :

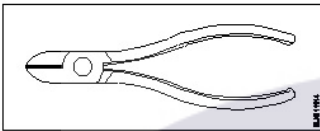

Exam Time :


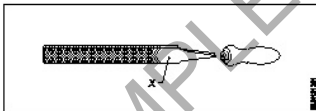
**Note:**

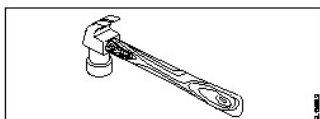
1. Tick the correct option out of four alternatives provided
2. All questions carry equal marks (2 Marks each)
3. There is no negative marking

Sr. No.	Q ID	Question Body and Alternatives	Marks	Negative Marks
Trade Theory				
1	1	<p>What is the name of the safety sign as shown in the figure?</p> <p>चित्र में दर्शाए गए सुरक्षा चिन्ह का नाम क्या है?</p> <div style="text-align: center;">  </div> <p>A1 : Warning sign चेतावनी चिन्ह</p> <p>A2 : Mandatory sign आवश्यक चिन्ह</p> <p>A3 : Prohibition sign निषेधक चिन्ह</p> <p>A4 : Information sign सूचनात्मक चिन्ह</p>	2.0	0.00
Trade Theory				
2	2	<p>What is smothering in extinguishing of fire?</p> <p>आग बुझाने में स्मूथरिंग क्या है?</p> <p>A1 : Adding the fuel element to the fire अग्नि में ईंधन मिलाना</p> <p>A2 : Removing the fuel element from the fire अग्नि से ईंधन अलग करना</p> <p>A3 : Using of water to lower the temperature जल का उपयोग करके तापमान कम करना</p> <p>A4 : Isolating the fire from the supply of oxygen अग्नि को ऑक्सीजन की आपूर्ति से अलग करना</p>	2.0	0.00
Trade Theory				
3	3	<p>Which step of the 5s-concept refers “Standardization”?</p> <p>5s-संकल्पना में निम्न में से कौन सा चरण “Standardization” को इंगित करता है?</p> <p>A1 : Step - 1 Step - 1</p> <p>A2 : Step - 2 Step - 2</p>	2.0	0.00

		A3 Step - 3 : Step - 3 A4 Step - 4 : Step - 4		
Trade Theory				
4	4	Which pliers is used for making the wire hooks and loops? कौन से प्लायर का उपयोग तार के हुक और लूप बनाने में होता है?  A1 Flat nose pliers : फ्लैट नोज़ प्लायर A2 Long nose pliers : लॉन्ग नोज़ प्लायर A3 Round nose pliers : राउंड नोज़ प्लायर A4 Diagonal cutting pliers : डायगोनल कटिंग प्लायर	2.0	0.00
Trade Theory				
5	5	What is the use of the pincer? पिसर का क्या उपयोग है?  A1 Twisting the flexible wires : फ्लेक्सिबल तार को ट्विस्ट करना A2 Cutting larger diameter of wires : तारों के बड़े व्यास को काटना A3 Extracting the pin nails from the wood : लकड़ी में से पिन तथा कीलें निकालना A4 Holding small objects, where finger cannot reach : छोटी वस्तु पकड़ना, जहाँ ऊँगली न पहुँच सके	2.0	0.00
Trade Theory				
6	6	What is the back ground colour of the warning signs in the safety sign category? सुरक्षा संकेत श्रेणी में चेतावनी संकेतों का बैकग्राउंड कलर क्या है?  A1 Blue : नीला A2 White : श्वेत A3 Yellow : पीला A4 Green : हरा	2.0	0.00
Trade Theory				
7	7	Which is the waste disposal method that produces the heat? अपशिष्ट निपटान की वह कौन सी विधि है जो ऊष्मा उत्पन्न करती है?  A1 Landfill : लैंडफिल A2 Composting : खाद डालना	2.0	0.00

		A3 Incineration : भस्मीकरण A4 Waste compaction : अपशिष्ट संघनन		
Trade Theory				
8	8	Which disposal method of waste save lot of energy? अपशिष्ट के निपटान की कौन सी विधि बहुत अधिक ऊर्जा बचाती है?  A1 Land fill : लैंडफिल A2 Recycling : रीसाइक्लिंग A3 Incineration : भस्मीकरण A4 Composting : खाद बनाना	2.0	0.00
Trade Theory				
9	9	What is the name of the tool as shown in the figure? चित्र में दिखाए गए उपकरण का नाम क्या है?  A1 Nose pliers : वायर स्ट्रिपर A2 Crimping tool : क्रिम्पिंग टूल A3 Combination pliers : कॉम्बिनेशन प्लायर A4 Diagonal cutting pliers : डायगोनल कटिंग प्लायर	2.0	0.00
Trade Theory				
10	10	What is the name of the file as shown in the figure? चित्र में दिखाए गए फाइल का नाम क्या है?  A1 Rasp cut file : रैस्प कट फाइल A2 Single cut file : सिंगल कट फाइल A3 Double cut file : डबल कट फाइल A4 Curved cut file : कर्व्ड कट फाइल	2.0	0.00

Trade Theory				
11	11	<p>What is the name of the drill bit as shown in the figure?</p> <p>चित्र में दिखाए गए ड्रिल बिट का नाम क्या है?</p> <div></div> <p>A1 Flat drill bit : फ्लैट ड्रिल बिट</p> <p>A2 Taper shank bit : टेपर शैंक बिट</p> <p>A3 Countersink bit : काउंटरसिंक बिट</p> <p>A4 Straight shank bit : स्ट्रेट शैंक बिट</p>	2.0	0.00
Trade Theory				
12	12	<p>Which file is used for sharpening the blunt teeth of a tenon saw?</p> <p>टेनन आरी के कुंद दांतों को तेज करने के लिए किस फाइल का उपयोग किया जाता है?</p> <p>A1 Square file : वर्गाकार फाइल</p> <p>A2 Round file : गोल फाइल</p> <p>A3 Triangular file : त्रिकोणीय फाइल</p> <p>A4 Half round file : आधा गोल फाइल</p>	2.0	0.00
Trade Theory				
13	13	<p>What is the name of the part marked 'X' as shown in the figure?</p> <p>चित्र में दिखाए गए 'X' चिह्नित भाग का नाम क्या है?</p> <div></div> <p>A1 Edge : एज</p> <p>A2 Heel : हील</p> <p>A3 Tang : टैंग</p> <p>A4 Point : शोल्डर</p>	2.0	0.00
Trade Theory				
14	14	<p>What is the name of the hammer as shown in the figure?</p> <p>चित्र में दिखाए गए हथौड़े का नाम क्या है?</p>	2.0	0.00



A1 : Claw hammer

क्लॉ हैमर

A2 : Ball pein hammer

बाल पीन हैमर

A3 : Cross pein hammer

क्रॉस पीन हैमर

A4 : Straight pein hammer

स्ट्रेट पीन हैमर

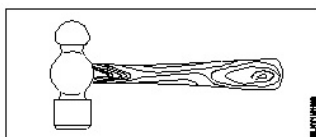
Trade Theory

15

15

What is the name of the tool as shown in the figure?

चित्र में दिखाए गए उपकरण का नाम क्या है?



A1 : Claw hammer

क्लॉ हैमर

A2 : Tack hammer

टैक हैमर

A3 : Cross pein hammer

क्रॉस पीन हैमर

A4 : Ball pein hammer

स्ट्रेट पीन हैमर

2.0

0.00

Trade Theory

16

16

Which is the physical hazard?

कौन सा शारीरिक खतरा है?

A1 : Smoking

धूम्रपान

A2 : Vibration

कम्पन

A3 : Corrosive

संक्षारक

A4 : Bacteria

बैक्टीरिया

2.0

0.00

Trade Theory

17

17

Which type of fire extinguisher is used for fire on electrical equipment?

विद्युत उपकरणों में आग लगने पर किस प्रकार के अग्निशामक यंत्र का उपयोग किया जाता है?

A1 : Halon type

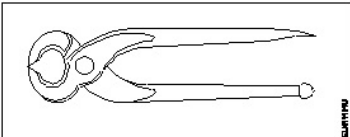
हेलॉन प्रकार

A2 : Foam type

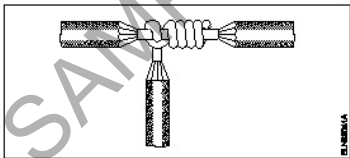
फ़ोम प्रकार

2.0

0.00

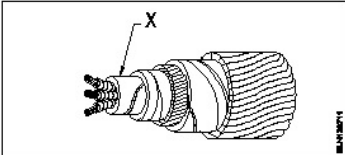

		<p>A3 Gas cartridge water type : गैस कार्ट्रिज जल प्रकार</p> <p>A4 Stored pressure water type : संग्रहित दबाव जल प्रकार</p>		
Trade Theory				
18	18	<p>What is the name of the tool as shown in the figure? चित्र में दिखाए गए उपकरण का नाम क्या है?</p>  <p>A1 Wire stripper : वायर स्ट्रिपर</p> <p>A2 Side cutter : साइड कटर</p> <p>A3 Pincer : पिसर (चिमटा)</p> <p>A4 Gimlet : गिम्लेट</p>	2.0	0.00
Trade Theory				
19	19	<p>Which is the correct sequence of operation to be performed while using the fire extinguisher? अग्निशामक यंत्र का प्रयोग करते समय कौन सा कार्यक्रम अपनाया जाना चाहिए?</p> <p>A1 Pull, Aim, Squeeze, Sweep : खींचना, निशाना लगाना, दबाना, घुमाना</p> <p>A2 Pull, Aim, Sweep, Squeeze : खींचना, निशाना लगाना, घुमाना, दबाना</p> <p>A3 Push, Arrange, Squeeze, Sweep : धकेलना, व्यवस्थित करना, दबाना, घुमाना</p> <p>A4 Push, Arrange, Sweep, Sequence : धकेलना, व्यवस्थित करना, घुमाना, अनुक्रम</p>	2.0	0.00
Trade Theory				
20	20	<p>Which Personal Protective Equipment (PPE) is used for the protection from fumes? धुएँ से सुरक्षा के लिए किस व्यक्तिगत सुरक्षा उपकरण (PPE) का उपयोग किया जाता है?</p> <p>A1 Apron : एप्रन</p> <p>A2 Goggles : चश्मा</p> <p>A3 Ear muff : कान का कवर</p> <p>A4 Respirator : श्वासयंत्र</p>	2.0	0.00
Trade Theory				
21	21	<p>What is starving in extinguishing of fire? आग बुझाने में स्टार्विंग क्या है?</p> <p>A1 Adding fuel to the fire</p>	2.0	0.00

		<p>अग्नि में ईंधन मिलाना</p> <p>A2 : Using water to cool the fire</p> <p>जल का उपयोग करके तापमान कम करना</p> <p>A3 : Removing fuel element from the fire</p> <p>आग से ईंधन तत्व निकालना</p> <p>A4 : Preventing oxygen supply to the fire</p> <p>अग्नि को ऑक्सीजन की आपूर्ति से रोकना</p>		
Trade Theory				
22	22	<p>Which artificial respiration method is to be performed to the victim with injuries on the chest and belly? छाती और पेट पर चोट लगने पर पीड़ित को कृत्रिम श्वसन की कौन सी विधि अपनाई जानी चाहिए?</p> <p>A1 : Schafer's method</p> <p>शेफर विधि</p> <p>A2 : Mouth to mouth method</p> <p>मुंह से मुंह विधि</p> <p>A3 : Holger - Nelson's back pressure method</p> <p>होलगर-नेल्सन की पीठ दबाव विधि</p> <p>A4 : Nelson's arm-lift back pressure method</p> <p>नेल्सन की आर्म-लिफ्ट बैक प्रेशर विधि</p>	2.0	0.00
Trade Theory				
23	23	<p>Which type of occupational health hazard is cause for infection due to bacteria? बैक्टीरिया के कारण किस प्रकार का व्यावसायिक स्वास्थ्य खतरा संक्रमण का कारण बनता है?</p> <p>A1 : Electrical hazard</p> <p>विद्युत खतरा</p> <p>A2 : Biological hazard</p> <p>जैविक खतरा</p> <p>A3 : Physiological hazard</p> <p>शारीरिक खतरा</p> <p>A4 : Psychological hazard</p> <p>मनोवैज्ञानिक खतरा</p>	2.0	0.00
Trade Theory				
24	24	<p>Which is the golden hour for the victim injured on head with risk of dying? सिर पर चोट लगने तथा मृत्यु के जोखिम वाले पीड़ित के लिए स्वर्णिम समय कौन सा है?</p> <p>A1 : First 15 minutes</p> <p>First 15 minutes</p> <p>A2 : First 30 minutes</p> <p>First 30 minutes</p> <p>A3 : First 45 minutes</p> <p>First 45 minutes</p> <p>A4 : First 60 minutes</p> <p>First 60 minutes</p>	2.0	0.00
Trade Theory				
25	25	<p>Which condition of the victim is referred as COMA stage? पीड़ित की किस स्थिति को कोमा अवस्था कहा जाता है?</p> <p>A1 : Unconscious but can respond to calls</p> <p>बेहोश लेकिन बुलाने पर जवाब दे सकता है</p>	2.0	0.00

		<p>A2 : Conscious but cannot respond to calls होश में लेकिन बुलाने पर जवाब नहीं दे सकता</p> <p>A3 : Breathing and respond to calls सांस लेना और बुलाने पर जवाब देना</p> <p>A4 : Lie totally senseless and do not respond to calls पूरी तरह से बेहोश होकर लेटना और बुलाने पर जवाब न देना</p>		
Trade Theory				
26	26	<p>Which criteria must be satisfied for the quality of PPE's? PPE की गुणवत्ता के लिए किन मानदंडों को पूरा किया जाना चाहिए?</p> <p>A1 : It should with stand the hazards यह खतरों का सामना करने में सक्षम होना चाहिए</p> <p>A2 : It cannot be used for long period इसे लंबे समय तक इस्तेमाल नहीं किया जा सकता</p> <p>A3 : Made by non standard material गैर मानक सामग्री से बना है</p> <p>A4 : Low cost कम लागत</p>	2.0	0.00
Trade Theory				
27	27	<p>What is the possible range to measure the size of the wire in a Standard Wire Gauge (SWG)? मानक वायर गेज (SWG) में तार के आकार को मापने की संभावित सीमा क्या है?</p> <p>A1 : 0-44 0-44</p> <p>A2 : 0-42 0-42</p> <p>A3 : 0-38 0-38</p> <p>A4 : 0-36 0-36</p>	2.0	0.00
Trade Theory				
28	28	<p>What is the name of the wire joint as shown in the figure? चित्र में दिखाए अनुसार तार के जोड़ का क्या नाम है?</p>  <p>A1 : Aerial tap joint एरियल टैप जॉइंट</p> <p>A2 : Knotted tap joint नॉटेड टैप जॉइंट</p> <p>A3 : Duplex cross tap joint डुप्लेक्स क्रॉस टैप जॉइंट</p> <p>A4 : Double cross tap joint डबल क्रॉस टैप जॉइंट</p>	2.0	0.00
Trade Theory				
29	29	<p>What is the full form of "XLPE" Cable?</p>	2.0	0.00



		<p>“XLPE” केबल का पूर्ण रूप क्या है?</p> <p>A1 : Cross Line Poly Ethylene Cross Line Poly Ethylene</p> <p>A2 : X’ess Line Phase Earthing X’ess Line Phase Earthing</p> <p>A3 : Cross Linked Poly Ethylene Cross Linked Poly Ethylene</p> <p>A4 : Excess Length Paper and Ebonite Excess Length Paper and Ebonite</p>		
Trade Theory				
30	30	<p>How many electrons are there in the valence shell of a copper atom?</p> <p>तांबे के परमाणु के संयोजकता कोश में कितने इलेक्ट्रॉन होते हैं?</p> <p>A1 : 1 1</p> <p>A2 : 2 2</p> <p>A3 : 8 8</p> <p>A4 : 18 18</p>	2.0	0.00
Trade Theory				
31	31	<p>Which effect of the electric current takes place in the neon lamp?</p> <p>निऑन लैंप में विद्युत धारा का कौन सा प्रभाव होता है?</p> <p>A1 : Heating effect ऊष्मीय प्रभाव</p> <p>A2 : Magnetic effect चुम्बकीय प्रभाव</p> <p>A3 : Chemical effect रासायनिक प्रभाव</p> <p>A4 : Gas ionization effect गैस आयनीकरण प्रभाव</p>	2.0	0.00
Trade Theory				
32	32	<p>What is the unit of insulation resistance?</p> <p>इन्सुलेशन प्रतिरोध की इकाई क्या है?</p> <p>A1 : Ohm Ohm</p> <p>A2 : Kilo ohm Kilo ohm</p> <p>A3 : Milli ohm Milli ohm</p> <p>A4 : Mega ohm Mega ohm</p>	2.0	0.00
Trade Theory				
33	33	<p>Which type of soldering flux is used for soldering aluminium conductors?</p> <p>एल्युमीनियम कंडक्टरों को सोल्डर करने के लिए किस प्रकार के सोल्डरिंग फ्लक्स का उपयोग किया जाता है?</p>	2.0	0.00

		<p>A1 Tallow : टैलो</p> <p>A2 Kynal flux : काइनल फ्लक्स</p> <p>A3 Zinc chloride : ज़िंक क्लोराइड</p> <p>A4 Sal ammonia : साल अमोनिया</p>		
Trade Theory				
34	34	<p>What is the name of the part marked 'X' in UG cables as shown in the figure? जैसा कि चित्र में दिखाया गया है, UG केबलों में 'X' से चिह्नित भाग का नाम क्या है?</p>  <p>A1 Serving : सर्विंग</p> <p>A2 Bedding : बेडिंग</p> <p>A3 Armouring : आर्मरिंग</p> <p>A4 Lead sheath : लेड शीथ</p>	2.0	0.00
Trade Theory				
35	35	<p>What is the name of the joint as shown in the figure? चित्र में दिखाए गए जोड़ का नाम क्या है?</p>  <p>A1 Married joint : मैरिड जॉइंट</p> <p>A2 Scarfed joint : स्कार्फ़ेड जॉइंट</p> <p>A3 Western union joint : वेस्टर्न यूनियन जॉइंट</p> <p>A4 Britannia straight joint : ब्रिटानिया सीधा जॉइंट</p>	2.0	0.00
Trade Theory				
36	36	<p>What is the use of Britannia 'T' joint? ब्रिटानिया 'टी' जॉइंट का क्या उपयोग है?</p> <p>A1 Extending the length of the lines : लाइनों की लंबाई बढ़ाना</p> <p>A2 Inside and outside wiring installation : आंतरिक और बाह्य वायरिंग स्थापित करना</p>	2.0	0.00

		<p>A3 Mechanical stress not required on conductor : कंडक्टर पर यांत्रिक तनाव की आवश्यकता नहीं है</p> <p>A4 Tapping the service connection from overhead lines : ओवरहेड लाइनों से सर्विस कनेक्शन को टैप करना</p>		
Trade Theory				
37	37	<p>What is the name of the part marked 'X' of the belted U.G cable as shown in the figure? चित्र में दिखाए गए बेल्टेड U.G. केबल के 'X' चिह्नित भाग का नाम क्या है?</p>  <p>A1 Jute filling : पटसन फाइलिंग</p> <p>A2 Armouring : आर्मरिंग</p> <p>A3 Lead sheath : लेड शीथ</p> <p>A4 Paper insulation : पेपर इंसुलेशन</p>	2.0	0.00
Trade Theory				
38	38	<p>What is the purpose of the bedding insulation in the U.G. cable? U.G. केबल में बेड इन्सुलेशन का उद्देश्य क्या है?</p> <p>A1 Protect the cable from mechanical injury : केबल को यांत्रिक क्षति से बचाना</p> <p>A2 Protect the cable from moisture and gases : केबल को नमी एवं गैस से बचाना</p> <p>A3 Protect armouring from atmospheric condition : आर्मरिंग को वायुमंडलीय स्थितियों से बचाना</p> <p>A4 Protect the metallic sheath against corrosion : धात्विक कवच को क्षरण से बचाना</p>	2.0	0.00
Workshop Calculation and Science				
39	39	<p>What are the two classifications of system of units? इकाइयों की प्रणाली के दो प्रकार कौनसे हैं?</p> <p>A1 British and Metric : ब्रिटिश और मीट्रिक</p> <p>A2 Gravitational and non-gravitational : गुरुत्वाकर्षण और गैर-गुरुत्वाकर्षण</p> <p>A3 Fundamental and derived : मौलिक और व्युत्पन्न</p> <p>A4 Metric and International : मैट्रिक और इंटरनेशनल</p>	2.0	0.00
Workshop Calculation and Science				
40	40	<p>What are fundamental units? इनमें से मूलभूत इकाइयाँ कौन-कौनसी हैं?</p>	2.0	0.00

		<p>A1 : Length, Mass, Volume लंबाई, द्रव्यमान, आयतन</p> <p>A2 : Length, Mass, Time लंबाई, द्रव्यमान, समय</p> <p>A3 : Length, Mass, Area लंबाई, द्रव्यमान, क्षेत्रफल</p> <p>A4 : Length, Pressure, Volume लंबाई, दाब, आयतन</p>		
Workshop Calculation and Science				
41	41	<p>What denotes letter 'M' in MKS system? MKS प्रणाली में 'M' अक्षर क्या दर्शाता है?</p> <p>A1 : Mile Mile</p> <p>A2 : Meter Meter</p> <p>A3 : Millimeter Millimeter</p> <p>A4 : Micron Micron</p>	2.0	0.00
Workshop Calculation and Science				
42	42	<p>How many millimetres are there in 1 inch? 1 इंच में कितने मिलीमीटर होते हैं?</p> <p>A1 : 2.54 mm 2.54 mm</p> <p>A2 : 25.4 mm 25.4 mm</p> <p>A3 : 24.5 mm 24.5 mm</p> <p>A4 : 2.45 mm 2.45 mm</p>	2.0	0.00
Workshop Calculation and Science				
43	43	<p>Convert decimal 0.000659 to fraction? 0.000659 दशमलव भिन्न को साधारण भिन्न में बदलें?</p> <p>A1 : <math>\frac{659}{1000}</math></p> <p>A2 : <math>\frac{659}{10000}</math></p> <p>A3 : <math>\frac{659}{100000}</math></p> <p>A4 : <math>\frac{659}{1000000}</math></p>	2.0	0.00

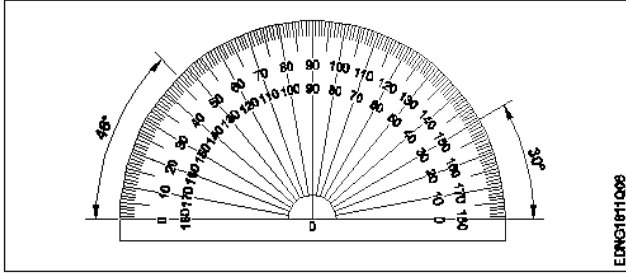
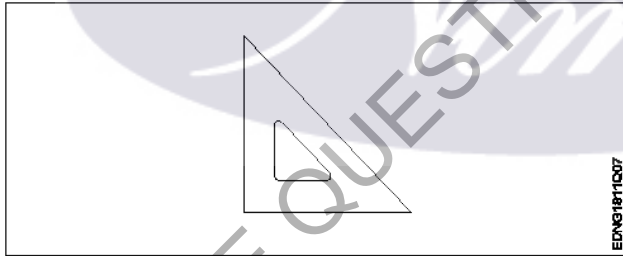
44	44	<p>What is the square root of 529?</p> <p>529 का वर्गमूल क्या है?</p> <p>A1 13 :</p> <p>13</p> <p>A2 23 :</p> <p>23</p> <p>A3 33 :</p> <p>33</p> <p>A4 43 :</p> <p>43</p>	2.0	0.00
----	----	---	-----	------

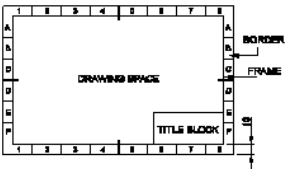
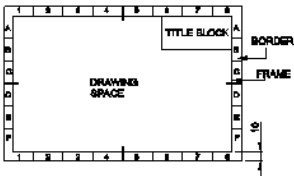
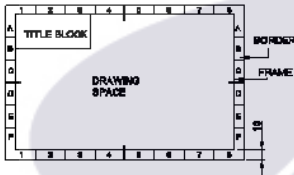
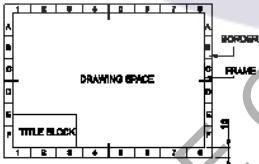
## Engineering Drawing

45	45	<p>Identify the conventional symbol of material?</p> <p>चित्र में दिखाए गए सामग्री के पारंपरिक प्रतीक का पता लगाएं?</p> <div data-bbox="264 696 887 940" data-label="Image"> </div> <p>A1 Water :</p> <p>पानी</p> <p>A2 Concrete :</p> <p>ठोस</p> <p>A3 Asbestos :</p> <p>ऐस्बेस्टस</p> <p>A4 Glass :</p> <p>कांच</p>	2.0	0.00
----	----	---	-----	------

## Engineering Drawing

46	46	<p>Identify the conventional symbol of material?</p> <p>चित्र में दिखाए गए सामग्री के पारंपरिक प्रतीक का पता लगाएं?</p> <div data-bbox="264 1514 871 1771" data-label="Image"> </div> <p>A1 Lead :</p> <p>लेड</p> <p>A2 Glass :</p> <p>कांच</p> <p>A3 Wood :</p> <p>लकड़ी</p>	2.0	0.00
----	----	---	-----	------

		A4 : Paper कागज़		
Engineering Drawing				
47	47	<p>Identify the name of instrument? चित्र में दिखाए गए उपकरणों के नाम की पहचान करें?</p>  <p>A1 Set square : गुनिया</p> <p>A2 Protractor : चांदा</p> <p>A3 French curve : फ्रांसीसी वक्र</p> <p>A4 'T' square : टी स्कायर</p>	2.0	0.00
Engineering Drawing				
48	48	<p>Identify the name of set square? सेट स्कायर का नाम खोजें?</p>  <p>A1 15° set square : 15° सेट स्कायर</p> <p>A2 60° set square : 60° सेट स्कायर</p> <p>A3 30° set square : 30° सेट स्कायर</p> <p>A4 45° set square : 45° सेट स्कायर</p>	2.0	0.00
Engineering Drawing				
49	49	<p>Compass used to draw for ____. कम्पास का उपयोग ____ को ड्रा करने के लिए किया जाता है.</p> <p>A1 rectangle : आयत</p> <p>A2 square : वर्ग</p>	2.0	0.00

		A3 circle : वृत्त A4 triangle : त्रिकोण		
Engineering Drawing				
50	50	<p>Which title block position is correct as standard practice?  एक मानक अभ्यास के रूप में कौन सी शीर्षक ब्लॉक स्थिति सही है?</p> <p>A1  :</p>  <p>A2  :</p>  <p>A3  :</p>  <p>A4  :</p> 	2.0	0.00
Employability Skills				
51	51	<p>To be in a job or work is _____  नौकरी या काम में होना है .....</p> <p>A1 Employ  : रोजगार</p> <p>A2 Skill  : कौशल</p> <p>A3 Knowledge  : ज्ञान</p> <p>A4 Aptitude  : योग्यता</p>	2.0	0.00
Employability Skills				
52	52	<p>Information like date of birth, permanent address form a part of one's _____ in the resume.  जन्म तिथि, स्थायी पता जैसी जानकारी रिज्यूमे में किसी के _____ का हिस्सा होती है।</p> <p>A1 Career objectives  :</p>	2.0	0.00

		कैरियर के उद्देश्यों A2 Personal details : व्यक्तिगत विवरण A3 Achievements : उपलब्धियों A4 Qualifications : योग्यता		
Employability Skills				
53	53	A person with a growth mindset is always willing to _____ एक विकास मानसिकता वाला व्यक्ति हमेशा ..... तैयार रहता है।  A1 relax : आराम करने में A2 grow, change, learn : बढ़ो, बदलो, सीखो A3 keep quiet : चुप रहने में A4 become rich : अमीर बनने	2.0	0.00
Employability Skills				
54	54	Jobs that have become outdated in the past 5 years _____ ..... नौकरियां जो पिछले 5 वर्षों में पुरानी हो गई हैं।  A1 STD booth : STD बूथ A2 ola : ओला A3 uber : उबेर A4 swiggy : Swiggy	2.0	0.00
Employability Skills				
55	55	Ethics means _____ नैतिकता का अर्थ है....।  A1 decide what is right and wrong for a human conduct : तय करें कि मानव आचरण के लिए क्या सही है और क्या गलत A2 name of a city : एक शहर का नाम A3 employability skills : रोज़गार कौशल A4 not relevant to society : समाज से संबंधित नहीं है	2.0	0.00
Employability Skills				
56	56	Values are _____ मान हैं .....।  A1 not punctual	2.0	0.00



		<p>समयनिष्ठ नहीं</p> <p>A2 : Motivates our attitude and action</p> <p>हमारे दृष्टिकोण और कार्रवाई को प्रेरित करता है</p> <p>A3 : very costly</p> <p>बहुत कीमती</p> <p>A4 : all have same value</p> <p>सभी का मूल्य समान है</p>		
Employability Skills				
57	57	<p>_____ is a brief statement about purpose and principles of the Constitution. .....संविधान के उद्देश्य और सिद्धांतों के बारे में संक्षिप्त विवरण है।</p> <p>A1 : Syllabus</p> <p>पाठ्यक्रम</p> <p>A2 : Module</p> <p>मापांक</p> <p>A3 : The Preamble</p> <p>प्रस्तावना</p> <p>A4 : Unit</p> <p>इकाई</p>	2.0	0.00
Employability Skills				
58	58	<p>Identify the improper term _____ अनुचित पद को पहचानिए .....।</p> <p>A1 : green pollution</p> <p>हरित प्रदूषण</p> <p>A2 : water pollution</p> <p>जल प्रदूषण</p> <p>A3 : air pollution</p> <p>वायु प्रदूषण</p> <p>A4 : sound pollution</p> <p>ध्वनि प्रदूषण</p>	2.0	0.00
Employability Skills				
59	59	<p>NAPS Stands for _____ NAPS का मतलब _____</p> <p>A1 : National Apprenticeship Promotion Scheme</p> <p>National Apprenticeship Promotion Scheme</p> <p>A2 : National Appointment Promoting Scheme</p> <p>National Appointment Promoting Scheme</p> <p>A3 : Non Apprenticeship Promotion Scheme</p> <p>Non Apprenticeship Promotion Scheme</p> <p>A4 : National Advertising Promotion Scheme</p> <p>National Advertising Promotion Scheme</p>	2.0	0.00
Employability Skills				
60	60	<p>_____ is major changes takes place in manufacturing. ..... मैन्युफैक्चरिंग में प्रमुख परिवर्तन होते हैं।</p> <p>A1 : Green revolution</p> <p>हरित क्रांति</p>	2.0	0.00

		A2 Industry revolution : उद्योग क्रांति A3 Water revolution : जल क्रांति A4 Food revolution : खाद्य क्रांति		
Employability Skills				
61	61	1st industrial revolution started in _____ पहली औद्योगिक क्रांति की शुरुआत .....।  A1 18th century : 18 वीं सदी A2 19th century : 19 वीं सदी A3 20th century : 20 वीं सदी A4 21st century : 21 वीं सदी	2.0	0.00
Employability Skills				
62	62	Hard Skill _____ कठिन कौशल.....।  A1 quick learner : त्वरित शिक्षार्थी A2 time management : समय प्रबंधन A3 60 WPM typing speed : 60 WPM टाइपिंग स्पीड A4 spoken English : मौखिक अंग्रेजी	2.0	0.00
Employability Skills				
63	63	To grow yourself you must _____ अपने आप को विकसित करने के लिए आपको चाहिए .....।  A1 know your office : अपने कार्यालय को जानें A2 know yourself : खुद को जानें A3 know your institute : अपने संस्थान को जानें A4 know your country : अपने देश को जानो	2.0	0.00
Employability Skills				
64	64	Time management _____ समय प्रबंधन.....।  A1 complete your task on time : अपना कार्य समय पर पूरा करें	2.0	0.00

		<p>A2 managing time : प्रबंधन समय</p> <p>A3 hard skill : कठिन कौशल</p> <p>A4 problem solving : समस्या को सुलझाना</p>		
Employability Skills				
65	65	<p>A resume should be _____. एक रिज्यूम _____ होना चाहिए</p> <p>A1 short and precise : छोटा और सटीक</p> <p>A2 fancy and colourful : फैसी और रंगीन</p> <p>A3 having long and detailed information : लंबी और विस्तृत जानकारी होना</p> <p>A4 having acronyms and abbreviation : समरूप और संक्षिप्त नाम होना</p>	2.0	0.00
Employability Skills				
66	66	<p>A written description of duties and responsibilities to be carried out in a job is called _____. किसी कार्य में किए जाने वाले कर्तव्यों और जिम्मेदारियों का लिखित विवरण _____ कहा जाता है</p> <p>A1 CV : CV</p> <p>A2 job description : job description</p> <p>A3 resume : resume</p> <p>A4 job application : job application</p>	2.0	0.00
Employability Skills				
67	67	<p>After receiving interview call, what is the next step? साक्षात्कार कॉल प्राप्त करने के बाद, अगला कदम क्या है?</p> <p>A1 Send application letter : आवेदन पत्र भेजें</p> <p>A2 Prepare the resume : रिज्यूम तैयार करें</p> <p>A3 Appear at interview : साक्षात्कार में जायें</p> <p>A4 Send resume : रिज्यूम भेजें</p>	2.0	0.00
Employability Skills				
68	68	<p>Choose suitable "wh" word for the given sentence. "_____ animal do you like?" दिए गए वाक्य के लिए उपयुक्त "wh" शब्द चुनें। "_____ animal do you like?"</p> <p>A1 Which : Which</p>	2.0	0.00

		<p>A2 Why :</p> <p>Why</p> <p>A3 Where :</p> <p>Where</p> <p>A4 When :</p> <p>When</p>		
Employability Skills				
69	69	<p>Choose the correct punctuation mark after the word "Rohan" in the given sentence. "Rohan David and Ram are playing hide and seek"</p> <p>दिए गए वाक्य में शब्द "रोहन" के बाद सही विराम चिह्न चुनें। "Rohan David and Ram are playing hide and seek"</p> <p>A1 Comma (,) :</p> <p>अल्पविराम (,)</p> <p>A2 Period (.) :</p> <p>अवधि (.)</p> <p>A3 Slash (/) :</p> <p>स्लैश (/)</p> <p>A4 Hyphen (-) :</p> <p>हाइफ़न (-)</p>	2.0	0.00
Employability Skills				
70	70	<p>Choose the correct response for the given question. "How have you been?"</p> <p>दिए गए प्रश्न के लिए सही उत्तर चुनिए। "How have you been?"</p> <p>A1 Very well, And you? :</p> <p>Very well, And you?</p> <p>A2 Thank you_ And you? :</p> <p>Thank you_ And you?</p> <p>A3 Same to you :</p> <p>Same to you</p> <p>A4 On vacation_ And you? :</p> <p>On vacation_ And you?</p>	2.0	0.00
Employability Skills				
71	71	<p>Choose the correct response of the given question. "When did the accident happen?"</p> <p>दिए गए प्रश्न की सही प्रतिक्रिया चुनें। "When did the accident happen?"</p> <p>A1 in the hotel :</p> <p>in the hotel</p> <p>A2 during travelling :</p> <p>during travelling</p> <p>A3 At 10:30 last night :</p> <p>At 10:30 last night</p> <p>A4 On the table :</p> <p>On the table</p>	2.0	0.00
Employability Skills				
72	72	<p>Choose the correct tense of the verb. "I _____ music when I was child"</p> <p>क्रिया का सही काल चुनें। "I _____ music when I was child"</p> <p>A1 learn :</p> <p>learn</p>	2.0	0.00

		<p>A2 am learning :</p> <p>A3 will learn :</p> <p>A4 had learnt :</p>		
Employability Skills				
73	73	<p>Curriculum vitae is also known as _____ . Curriculum vitae को _____ के रूप में भी जाना जाता है।</p> <p>A1 circular :</p> <p>A2 resume :</p> <p>A3 job application form :</p> <p>A4 leave application :</p>	2.0	0.00
Employability Skills				
74	74	<p>Fill in the blank with comparative adjective. "Your pencil is _____ than mine" तुलनात्मक विशेषण के साथ रिक्त स्थान भरें। "Your pencil is _____ than mine"</p> <p>A1 sharp :</p> <p>A2 sharper :</p> <p>A3 blunt :</p> <p>A4 thick :</p>	2.0	0.00
Employability Skills				
75	75	<p>Fill in the blank with correct future tense of verb. "We _____ to the zoo after Breakfast " क्रिया के सही भविष्य काल के साथ रिक्त स्थान भरें। "We _____ to the zoo after Breakfast "</p> <p>A1 went :</p> <p>A2 are going :</p> <p>A3 had gone :</p> <p>A4 will go :</p>	2.0	0.00

### Electrician - 1st Year - Set 1

S.No	Correct Answer Key
1	A4
2	A4
3	A4
4	A3
5	A3
6	A3
7	A3
8	A2
9	A4
10	A1
11	A2
12	A3
13	A2
14	A1
15	A4
16	A2
17	A1
18	A3
19	A1
20	A4
21	A3
22	A2
23	A2
24	A2
25	A4
26	A1
27	A4
28	A2
29	A3
30	A1
31	A4
32	A4
33	A2
34	A4
35	A1
36	A4
37	A3
38	A4

S.No	Correct Answer Key
39	A3
40	A2
41	A2
42	A2
43	A4
44	A2
45	A1
46	A3
47	A2
48	A4
49	A3
50	A1
51	A1
52	A2
53	A2
54	A1
55	A1
56	A2
57	A3
58	A1
59	A1
60	A2
61	A1
62	A3
63	A2
64	A1
65	A1
66	A2
67	A3
68	A1
69	A1
70	A1
71	A3
72	A4
73	A2
74	A2
75	A4

**Note:**

"In case answers found to be inaccurate due to typographical error or any other reason please sent mail to [qbnimigrievance@gmail.com](mailto:qbnimigrievance@gmail.com)"