



All India Trade Test - 2024 for Craftsmen Training Scheme (CTS)
Trade Name: Electrician_Year 1
Year: 1st Year

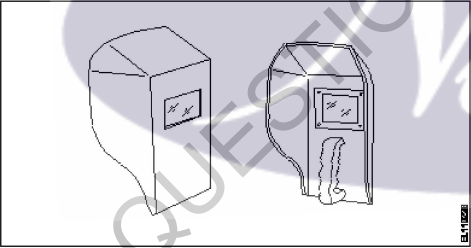
Exam Date :
Exam Time :

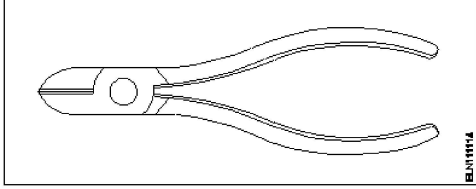

Note:

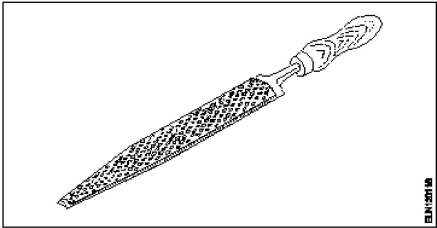
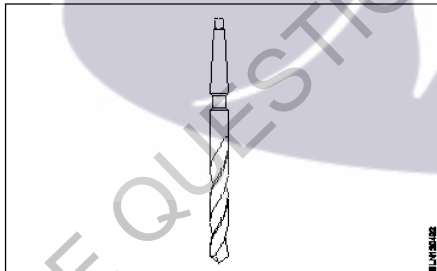
1. Tick the correct option out of four alternatives provided
2. All questions carry equal marks (2 Marks each)
3. There is no negative marking

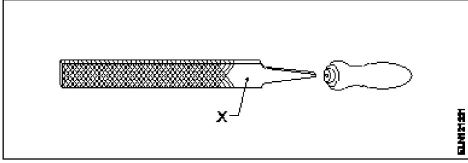
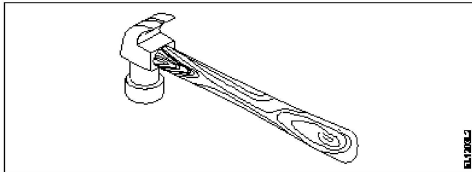
Sr. No.	Client Question ID	Question Body and Alternatives	Marks	Negative Marks
Trade Theory				
1	1	<p>What is the name of the safety sign? इस सुरक्षा चिन्ह का नाम क्या है?</p> <div style="text-align: center;">  </div> <p>A1 Warning sign : चेतावनी चिन्ह</p> <p>A2 Mandatory sign : आवश्यक चिन्ह</p> <p>A3 Prohibition sign : निषेधक चिन्ह</p> <p>A4 Information sign : सूचनात्मक चिन्ह</p>	2.0	0.00
Trade Theory				
2	2	<p>What is smothering in extinguishing of fire? अग्नि का शमन क्या है?</p> <p>A1 Adding the fuel element to the fire : अग्नि में ईंधन मिलाना</p> <p>A2 Removing the fuel element from the fire : अग्नि से ईंधन अलग करना</p> <p>A3 Using of water to lower the temperature : जल का उपयोग करके तापमान कम करना</p> <p>A4 Isolating the fire from the supply of oxygen : अग्नि को ऑक्सीजन की आपूर्ति से अलग करना</p>	2.0	0.00
Trade Theory				
3	3	<p>Which step of the 5s-concept refers "Standardization"? 5s-संकल्पना में निम्न में से कौन सा चरण "Standardization" को इंगित करता है?</p> <p>A1 Step - 1 : Step - 1</p> <p>A2 Step - 2 : Step - 2</p> <p>A3 Step - 3 : Step - 3</p>	2.0	0.00


		Step - 3 A4 Step - 4 : Step - 4		
Trade Theory				
4	4	Which plier is used for making wire hooks and loops? कौन से प्लायर का उपयोग तार के हुक और लूप बनाने में होता है? A1 Flat nose plier : फ्लैट नोज़ प्लायर A2 Long nose plier : लॉन्ग नोज़ प्लायर A3 Round nose plier : राउंड नोज़ प्लायर A4 Diagonal cutting plier : डायगोनल कटिंग प्लायर	2.0	0.00
Trade Theory				
5	5	What is the use of pincer? पिसर का क्या उपयोग है? A1 Twisting the flexible wires : फ्लेक्सिबल तार को ट्विस्ट करना A2 Cutting small diameter of wires : छोटे व्यास के तार काटना A3 Extracting the pin nails from the wood : लकड़ी में से पिन तथा कीलें निकालना A4 Holding small objects, where finger cannot reach : छोटी वस्तु पकड़ना, जहाँ ऊँगली न पहुँच सके	2.0	0.00
Trade Theory				
6	6	What is the name of road safety sign? इस सड़क सुरक्षा चिन्ह का क्या नाम है?  A1 Mandatory sign : आवश्यक चिन्ह A2 Cautionary sign : सचेतक चिन्ह A3 Informatory sign : सूचनात्मक चिन्ह A4 Prohibition sign : निषेधक चिन्ह	2.0	0.00
Trade Theory				
7	7	What is the back ground colour of warning signs in the basic category? मूल श्रेणी में सचेतक चिन्ह के पृष्ठ भाग का रंग क्या होता है?	2.0	0.00

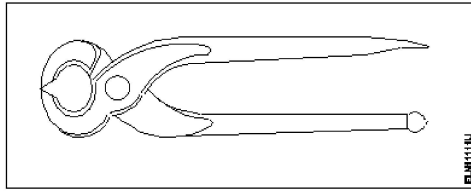
		<p>A1 Blue : नीला</p> <p>A2 White : श्वेत</p> <p>A3 Yellow : पीला</p> <p>A4 Green : हरा</p>		
Trade Theory				
8	8	<p>Which is the waste disposal method that produces heat? अपशिष्ट निपटान विधि कौन सी है, जो गर्मी पैदा करती है?</p> <p>A1 Recycling : पुनर्चक्रण</p> <p>A2 Composting : खाद डालना</p> <p>A3 Incineration : भस्मीकरण</p> <p>A4 Waste compaction : अपशिष्ट संघनन</p>	2.0	0.00
Trade Theory				
9	9	<p>What is the name of PPE? पीपीई का नाम क्या है?</p>  <p>A1 Nose mask : नाक कवच</p> <p>A2 Head shield : सर का कवच</p> <p>A3 Face shield : चेहरे का कवच</p> <p>A4 Hand screen : हाथ स्क्रीन</p>	2.0	0.00
Trade Theory				
10	10	<p>Which disposal method of waste save lot of energy? अपशिष्ट निपटान विधि कौन सी है, जो बहुत सारी ऊर्जा बचाती है?</p> <p>A1 Land fill : जमीन में भरना</p> <p>A2 Recycling : पुनर्चक्रण</p>	2.0	0.00

		<p>A3 Incineration : भस्मीकरण</p> <p>A4 Composting : खाद डालना</p>		
Trade Theory				
11	11	<p>What is the name of the tool? इस औजार का क्या नाम है?</p>  <p>A1 Wire stripper : वायर स्ट्रिपर</p> <p>A2 Crimping tool : क्रिम्पिंग टूल</p> <p>A3 Combination pliers : कॉम्बिनेशन प्लायर</p> <p>A4 Diagonal cutting pliers : डायगोनल कटिंग प्लायर</p>	2.0	0.00
Trade Theory				
12	12	<p>What will be first-aid to be given to stop the bleeding of the victim? पीड़ित के रक्त के बहाव को रोकने के लिए क्या प्राथमिक चिकित्सा उपलब्ध कराई जाती है?</p> <p>A1 Applying ointment : मलहम लगाना</p> <p>A2 Keep the injured portion upward : चोट लगे हुए भाग को ऊपर रखना</p> <p>A3 Covering the wound portion by dressing : चोट लगे हुए भाग को ड्रेसिंग करना</p> <p>A4 Applying pressure over the injured portion : चोट लगे हुए भाग पर दबाव डालना</p>	2.0	0.00
Trade Theory				
13	13	<p>What is the name of the cautionary sign? इस सचेतक चिन्ह का नाम क्या है?</p>  <p>A1 School : विद्यालय</p> <p>A2 Guarded : संरक्षित</p> <p>A3 Unguarded :</p>	2.0	0.00

		<p>असंरक्षित</p> <p>A4 Pedestrian crossing</p> <p>: पैदल क्रासिंग</p>		
Trade Theory				
14	14	<p>What is the name of the file?</p> <p>इस रेती का क्या नाम है?</p>  <p>A1 Rasp cut file</p> <p>: रास्प कट रेती</p> <p>A2 Single cut file</p> <p>: एकल कट रेती</p> <p>A3 Double cut file</p> <p>: दोहरी कट रेती</p> <p>A4 Curved cut file</p> <p>: वक्राकार कट रेती</p>	2.0	0.00
Trade Theory				
15	15	<p>What is the name of the drill bit?</p> <p>इस ड्रिल बिट का क्या नाम है?</p>  <p>A1 Flat drill bit</p> <p>: फ्लैट ड्रिल बिट</p> <p>A2 Taper shank bit</p> <p>: टेपर शैंक बिट</p> <p>A3 Countersink bit</p> <p>: काउंटरसिंक बिट</p> <p>A4 Straight shank bit</p> <p>: स्ट्रेट शैंक बिट</p>	2.0	0.00
Trade Theory				
16	16	<p>Which file is used for sharpening the blunt teeth of a tenon saw?</p> <p>एक टेनन आरी के कुंद दांतों को तेज करने के लिए किस रेती का उपयोग किया जाता है?</p> <p>A1 Square file</p> <p>: वर्गाकार रेती</p> <p>A2 Round file</p> <p>: राउंड रेती</p>	2.0	0.00

		<p>वृत्ताकार रेती</p> <p>A3 : Triangular file</p> <p>त्रिभुजाकार रेती</p> <p>A4 : Half round file</p> <p>अर्ध वृत्ताकार रेती</p>		
Trade Theory				
17	17	<p>Name the part marked 'X' of the file.</p> <p>"X" से इंगित रेती के भाग का नाम बताइए-</p> <div style="text-align: center;">  </div> <p>A1 : Edge</p> <p>एज</p> <p>A2 : Heel</p> <p>हील</p> <p>A3 : Tang</p> <p>टैंग</p> <p>A4 : Shoulder</p> <p>शोल्डर</p>	2.0	0.00
Trade Theory				
18	18	<p>What is the use of firmer chisel?</p> <p>फर्मर छेनी का क्या उपयोग है?</p> <p>A1 : Paring and finishing joints</p> <p>छीलने और जोड़ों की फिनिशिंग में</p> <p>A2 : General chiselling work</p> <p>सामान्य छेनीकरण कार्य</p> <p>A3 : Making rectangular holes in wood</p> <p>लकड़ी में आयताकार छेद बनाना</p> <p>A4 : Light chiselling and to clean sharp corner</p> <p>लकड़ी में हल्का छेनीकरण तथा तेज़ किनारों की सफाई</p>	2.0	0.00
Trade Theory				
19	19	<p>What is the name of the hammer?</p> <p>इस हथौड़े का क्या नाम है?</p> <div style="text-align: center;">  </div> <p>A1 : Claw hammer</p> <p>क्लॉ हथौड़ा</p> <p>A2 : Ball pein hammer</p> <p>बाल पीन हथौड़ा</p> <p>A3 : Cross pein hammer</p>	2.0	0.00

		<p>क्रॉस पीन हथौड़ा</p> <p>A4 Straight peim hammer</p> <p>: स्ट्रेट पीन हथौड़ा</p>		
Trade Theory				
20	20	<p>What is the name of tool?</p> <p>औजार का क्या नाम है?</p>  <p>A1 Claw hammer</p> <p>: क्लॉ हथौड़ा</p> <p>A2 Tack hammer</p> <p>: टैक्स हथौड़ा</p> <p>A3 Cross peim hammer</p> <p>: क्रॉस पीन हथौड़ा</p> <p>A4 Straight peim hammer</p> <p>: स्ट्रेट पीन हथौड़ा</p>	2.0	0.00
Trade Theory				
21	21	<p>Which is the physical hazard?</p> <p>निम्न में से भौतिक हानि क्या है?</p> <p>A1 Smoking</p> <p>: धूम्रपान</p> <p>A2 Vibration</p> <p>: कम्पन</p> <p>A3 Corrosive</p> <p>: क्षरण</p> <p>A4 Radio active</p> <p>: रेडियो सक्रियता</p>	2.0	0.00
Trade Theory				
22	22	<p>Which type of fire extinguisher is used for fire on electrical equipment?</p> <p>विद्युत उपकरण में लगी अग्नि हेतु कौन सा अग्निशामक प्रयोग किया जाता है?</p> <p>A1 Halon type</p> <p>: हेलॉन प्रकार</p> <p>A2 Foam type</p> <p>: झाग प्रकार</p> <p>A3 Gas cartridge type</p> <p>: गैस कारतूस प्रकार</p> <p>A4 Stored pressure type</p> <p>: संग्रहित दबाव प्रकार</p>	2.0	0.00
Trade Theory				
23	23	<p>What is the name of the tool?</p> <p>इस टूल का क्या नाम है?</p>	2.0	0.00



A1 Wire stripper
:

वायर स्ट्रिपर

A2 Side cutter
:

साइड कटर

A3 Pincer
:

पिंसर (चिमटा)

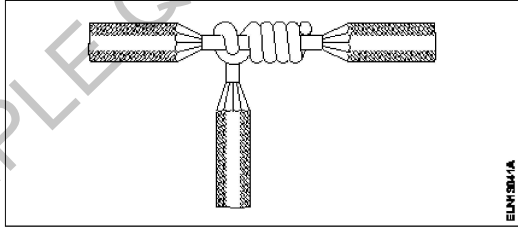
A4 Gimlet
:

गिम्लेट

Trade Theory

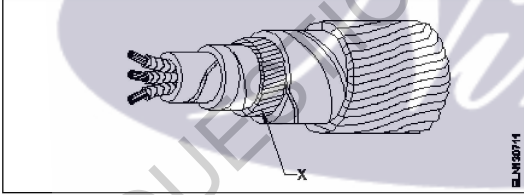
24	24	<p>What is the possible range to measure the size of the wire in a Standard Wire Gauge (SWG)? SWG से तार का आकार मापने की परस क्या है?</p> <p>A1 0-44 : 0-44</p> <p>A2 0-42 : 0-42</p> <p>A3 0-38 : 0-38</p> <p>A4 0-36 : 0-36</p>	2.0	0.00
----	----	--	-----	------

Trade Theory

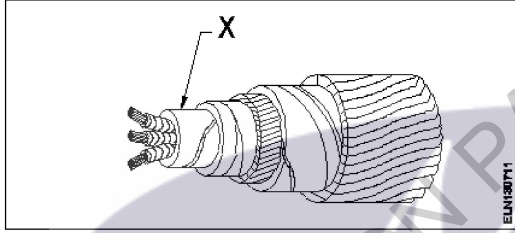

25	25	<p>What is the name of the wire joint? इस तार जोड़ का क्या नाम है?</p>  <p>A1 Aerial tap joint : एरिएल टैप जोड़</p> <p>A2 Knotted tap joint : नॉटिड टैप जोड़</p> <p>A3 Duplex cross tap joint : डुप्लेक्स क्रॉस टैप जोड़</p> <p>A4 Double cross tap joint : डबल क्रॉस टैप जोड़</p>	2.0	0.00
----	----	---	-----	------


Trade Theory

26	26	<p>Which type of soldering flux is used for soldering galvanised iron? गैल्वेनीकृत लोहे के लिए किस प्रकार के सोल्डरिंग फ्लक्स का उपयोग किया जाता है?</p>	2.0	0.00
----	----	--	-----	------

		<p>A1 Rosin : रोजिन</p> <p>A2 Zinc chloride : जस्ता क्लोराइड</p> <p>A3 Sal ammonia : साल अमोनिया</p> <p>A4 Hydrochloric acid : हाइड्रोक्लोरिक अम्ल</p>		
Trade Theory				
27	27	<p>Which method of soldering is used for quantity production and for tinning work? मात्रा उत्पादन और टिनिंग कार्य हेतु कौन सी सोल्डरिंग विधि का प्रयोग किया जाता है?</p> <p>A1 Dip soldering : डिप सोल्डरिंग</p> <p>A2 Soldering with a flame : ज्वाला के साथ सोल्डरिंग</p> <p>A3 Soldering with soldering iron : सोल्डरिंग आयरन के साथ सोल्डरिंग</p> <p>A4 Soldering with soldering gun : सोल्डरिंग गन से सोल्डरिंग</p>	2.0	0.00
Trade Theory				
28	28	<p>What is the name of the part marked as 'X' in the under ground (UG) cable? इस भूमिगत केबल में 'X' से इंगित भाग का नाम बताइए।</p>  <p>A1 Bedding : बेडिंग</p> <p>A2 Armouring : आर्मरिंग</p> <p>A3 Lead sheath : लेड शीथ</p> <p>A4 Paper insulation : कागज़ कुचालक</p>	2.0	0.00
Trade Theory				
29	29	<p>What is the full form of "XLPE" Cable? XLPE' का पूर्ण रूप है</p> <p>A1 Cross Line Poly Ethylene : Cross Line Poly Ethylene</p> <p>A2 X'ess Line Phase Earthing : X'ess Line Phase Earthing</p> <p>A3 Cross Linked Poly Ethylene : Cross Linked Poly Ethylene</p>	2.0	0.00

		A4 Excess Length Paper and Ebonite : Excess Length Paper and Ebonite		
Trade Theory				
30	30	How many electrons are there in the valence shell of a copper atom? तांबे के परमाणु के आबंध चक्र में कितने इलेक्ट्रान होते हैं? A1 1 : 1 A2 2 : 2 A3 8 : 8 A4 18 : 18	2.0	0.00
Trade Theory				
31	31	What is the effect of electric current on neon lamp? नीयन लैंप में विद्युत धारा का प्रभाव क्या कहलाता है? A1 Heating effect : ऊष्मीय प्रभाव A2 Magnetic effect : चुम्बकीय प्रभाव A3 Chemical effect : रासायनिक प्रभाव A4 Gas ionization effect : गैस आयनीकरण प्रभाव	2.0	0.00
Trade Theory				
32	32	What is the unit of insulation resistance? कुचालक प्रतिरोध की इकाई है- A1 Ohm : Ohm A2 Kilo ohm : Kilo ohm A3 Milli ohm : Milli ohm A4 Mega ohm : Mega ohm	2.0	0.00
Trade Theory				
33	33	Which type of soldering flux is used for soldering aluminium conductors? एल्युमीनियम चालकों को सोल्डर करने हेतु किस प्रकार के सोल्डरिंग फ्लक्स का प्रयोग किया जाता है? A1 Tallow : टैलो A2 Ker-al-lite : केर-अल-लाइट A3 Zinc chloride : जस्ता क्लोराइड	2.0	0.00

		A4 Sal ammonia rosin : साल अमोनिया रोजिन		
Trade Theory				
34	34	Which method of cable laying is suitable for congested areas? केबल बिछाने की कौन सी विधि संकीर्ण क्षेत्रों हेतु उपयुक्त है? A1 Racks in air : हवा में रैक A2 Duct pipes : डक्ट पाइप A3 Along buildings : भवनों के साथ A4 Direct in ground : सीधे ज़मीन में	2.0	0.00
Trade Theory				
35	35	What is the name of the part marked 'X' in UG cables? इस भूमिगत केबल में 'X' से इंगित भाग का नाम बताइए।  A1 Serving : सर्विंग A2 Bedding : बेडिंग A3 Armouring : आर्मरिंग A4 Lead sheath : लेड शीथ	2.0	0.00
Trade Theory				
36	36	What is the name of the joint? इस जोड़ का क्या नाम है?  A1 Married joint : मैरिड जोड़ A2 Scarfed joint : स्कार्फ़ेड जोड़ A3 Western union joint : वेस्टर्न यूनियन जोड़	2.0	0.00

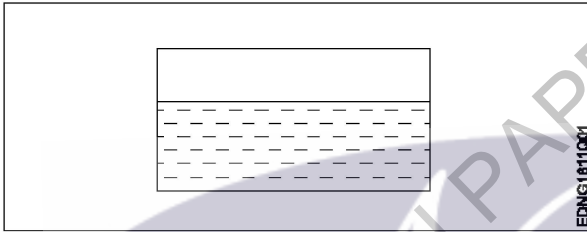
		A4 : Britannia straight joint : ब्रिटानिया सीधा जोड़		
Trade Theory				
37	37	What is the use of Britannia 'T' joint? ब्रिटानिया 'T' जोड़ का क्या उपयोग है? A1 : Extending the length of the lines : लाइन की लम्बाई को बढ़ाना A2 : Inside and outside wiring installation : आंतरिक और बाह्य वायरिंग स्थापित करना A3 : Mechanical stress not required on conductor : चालक पर यांत्रिक तनाव आवश्यक नहीं A4 : Tapping the service connection from overhead lines : सिरोंपरी लाइन से सेवा जुड़ाव हेतु जोड़ना	2.0	0.00
Trade Theory				
38	38	Name the part marked 'X' of belted U.G cable. बेल्टेड भूमिगत केबल में 'X' से इंगित भाग का नाम बताइए।  A1 : Jute filling : पटसन फाइलिंग A2 : Armouring : आर्मरिंग A3 : Lead sheath : लेड शीथ A4 : Paper insulation : कागज़ कुचालक	2.0	0.00
Workshop Calculation Science				
39	39	What are the two classifications of system of units? इकाइयों की प्रणाली के दो प्रकार कौनसे हैं? A1 : British and Metric : ब्रिटिश और मीट्रिक A2 : Gravitational and non-gravitational : गुरुत्वाकर्षण और गैर-गुरुत्वाकर्षण A3 : Fundamental and derived : मौलिक और व्युत्पन्न A4 : Metric and International : मेट्रिक और इंटरनेशनल	2.0	0.00
Workshop Calculation Science				
40	40	What are fundamental units?	2.0	0.00

		<p>इनमे से मूलभूत इकाइयाँ कौन-कौनसी हैं?</p> <p>A1 : Length, Mass, Volume लंबाई, द्रव्यमान, आयतन</p> <p>A2 : Length, Mass, Time लंबाई, द्रव्यमान, समय</p> <p>A3 : Length, Mass, Area लंबाई, द्रव्यमान, क्षेत्रफल</p> <p>A4 : Length, Pressure, Volume लंबाई, दाब, आयतन</p>		
Workshop Calculation Science				
41	41	<p>What denotes letter 'M' in MKS system? MKS प्रणाली में 'M' अक्षर क्या दर्शाता है?</p> <p>A1 : Mile Mile</p> <p>A2 : Meter Meter</p> <p>A3 : Millimeter Millimeter</p> <p>A4 : Micron Micron</p>	2.0	0.00
Workshop Calculation Science				
42	42	<p>How many millimetres are there in 1 inch? 1 इंच में कितने मिलीमीटर होते हैं?</p> <p>A1 : 2.54 mm 2.54 mm</p> <p>A2 : 25.4 mm 25.4 mm</p> <p>A3 : 24.5 mm 24.5 mm</p> <p>A4 : 2.45 mm 2.45 mm</p>	2.0	0.00
Workshop Calculation Science				
43	43	<p>Convert decimal 0.000659 to fraction? 0.000659 दशमलव भिन्न को साधारण भिन्न में बदलें?</p> <p>A1 : $\frac{659}{1000}$</p> <p>A2 : $\frac{659}{10000}$</p> <p>A3 : $\frac{659}{100000}$</p> <p>A4 :</p>	2.0	0.00

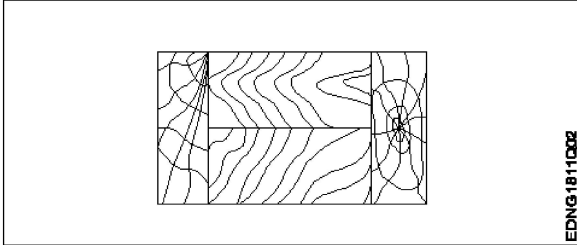
Workshop Calculation Science

44	44	What is the square root of 529? 529 का वर्गमूल क्या है?	2.0	0.00
		A1 13 : 13 A2 23 : 23 A3 33 : 33 A4 43 : 43		

Engineering Drawing

45	45	Identify the conventional symbol of material? चित्र में दिखाए गए सामग्री के पारंपरिक प्रतीक का पता लगाएं?	2.0	0.00
		 <p>A1 Water : पानी A2 Concrete : ठोस A3 Asbestos : ऐस्बेस्टस A4 Glass : कांच</p>		

Engineering Drawing

46	46	Identify the conventional symbol of material? चित्र में दिखाए गए सामग्री के पारंपरिक प्रतीक का पता लगाएं?	2.0	0.00
		 <p>A1 Lead : लेड A2 Glass : कांच</p>		

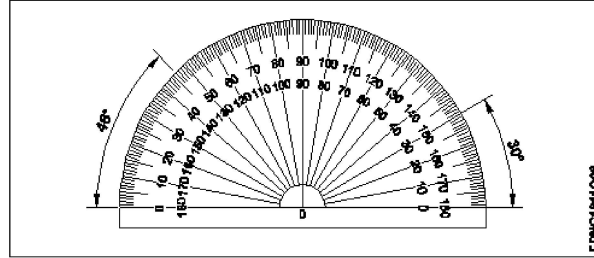
A3 Wood
:
लकड़ी
A4 Paper
:
कागज़

Engineering Drawing

47 47

Identify the name of instrument?
चित्र में दिखाए गए उपकरणों के नाम की पहचान करें?

2.0 0.00



A1 Set square
:

गुनिया

A2 Protractor
:

चांदा

A3 French curve
:

फ्रान्सीसी वक्र

A4 T' square
:

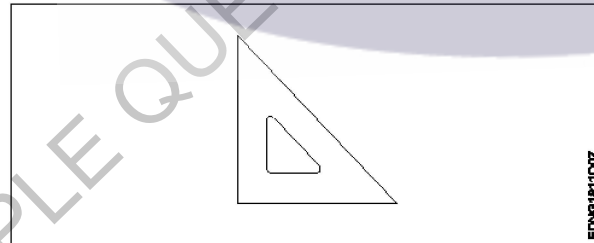
टी स्कायर

Engineering Drawing

48 48

Identify the name of set square?
सेट स्कायर का नाम खोजें?

2.0 0.00



A1 15° set square
:

15° सेट स्कायर

A2 60° set square
:

60° सेट स्कायर

A3 30° set square
:

30° सेट स्कायर

A4 45° set square
:

45° सेट स्कायर

Engineering Drawing

49 49

Compass used to draw for ____.
कम्पास का उपयोग ____ को ड़ा करने के लिए किया जाता है.

2.0 0.00

A1 rectangle
:

आयत
 A2 square
 : वर्ग
 A3 circle
 : वृत्त
 A4 triangle
 : त्रिकोण

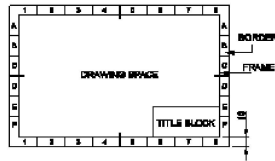
Engineering Drawing

50 50

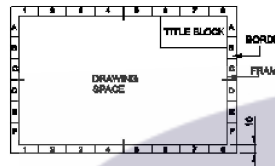
Which title block position is correct as standard practice?
 एक मानक अभ्यास के रूप में कौन सी शीर्षक ब्लॉक स्थिति सही है?

2.0 0.00

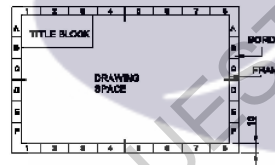
A1
 :



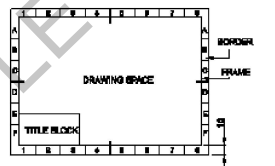
A2
 :



A3
 :



A4
 :



Employability Skills

51 51

To be in a job or work is.....
 नौकरी या काम में होना है

2.0 0.00

A1 Employ
 :

रोजगार

A2 Skill
 :

कौशल

A3 Knowledge
 :

ज्ञान

A4 Aptitude
 :

योग्यता

Employability Skills

52	52	<p>The ability to do is..... करने की क्षमता है।</p> <p>A1 Knowledge : ज्ञान</p> <p>A2 Experience : अनुभव</p> <p>A3 Skill : कौशल</p> <p>A4 Job : काम</p>	2.0	0.00
Employability Skills				
53	53	<p>A person with a growth mindset is always willing to..... एक विकास मानसिकता वाला व्यक्ति हमेशा तैयार रहता है।</p> <p>A1 relax : आराम करने में</p> <p>A2 grow, change, learn : बढ़ो, बदलो, सीखो</p> <p>A3 keep quiet : चुप रहने में</p> <p>A4 become rich : अमीर बनने</p>	2.0	0.00
Employability Skills				
54	54	<p>Jobs that have become outdated in the past 5 years.... नौकरियां जो पिछले 5 वर्षों में पुरानी हो गई हैं।</p> <p>A1 STD booth : STD बूथ</p> <p>A2 ola : ओला</p> <p>A3 uber : उबर</p> <p>A4 swiggy : Swiggy</p>	2.0	0.00
Employability Skills				
55	55	<p>21st century workplace skills help you to get employed..... 21वीं सदी के कार्यस्थल कौशल आपको रोजगार पाने में मदद करते हैं.....।</p> <p>A1 very difficult : बहुत कठिन</p> <p>A2 even job market keep changing : यहां तक कि जॉब मार्केट भी बदलता रहता है</p> <p>A3 only when market is growing : केवल जब बाजार बढ़ रहा है</p> <p>A4 only with higher qualification : केवल उच्च योग्यता के साथ</p>	2.0	0.00
Employability Skills				

56	56	<p>Ethics means नैतिकता का अर्थ है....।</p> <p>A1 : decide what is right and wrong for a human conduct तय करें कि मानव आचरण के लिए क्या सही है और क्या गलत</p> <p>A2 : name of a city एक शहर का नाम</p> <p>A3 : employability skills रोज़गार कौशल</p> <p>A4 : not relevant to society समाज से संबंधित नहीं है</p>	2.0	0.00
Employability Skills				
57	57	<p>Values are..... मान हैं।</p> <p>A1 : not punctual समयनिष्ठ नहीं</p> <p>A2 : Motivates our attitude and action हमारे दृष्टिकोण और कार्रवाई को प्रेरित करता है</p> <p>A3 : very costly बहुत कीमती</p> <p>A4 : all have same value सभी का मूल्य समान है</p>	2.0	0.00
Employability Skills				
58	58	<p>..... is a brief statement about purpose and principles of the Constitution.संविधान के उद्देश्य और सिद्धांतों के बारे में संक्षिप्त विवरण है।</p> <p>A1 : Syllabus पाठ्यक्रम</p> <p>A2 : Module मापांक</p> <p>A3 : The Preamble प्रस्तावना</p> <p>A4 : Unit इकाई</p>	2.0	0.00
Employability Skills				
59	59	<p>Identify the improper term..... अनुचित पद को पहचानिए।</p> <p>A1 : green pollution हरित प्रदूषण</p> <p>A2 : water pollution जल प्रदूषण</p> <p>A3 : air pollution वायु प्रदूषण</p> <p>A4 : sound pollution ध्वनि प्रदूषण</p>	2.0	0.00
Employability Skills				

60	60	<p>People from all religions or no religions are treated equally means..... सभी धर्मों या किसी भी धर्म के लोगों के साथ समान व्यवहार नहीं किया जाता हैसेक्युलर देश</p> <p>A1 democratic : जनतांत्रिक</p> <p>A2 religious : धार्मिक</p> <p>A3 non secular : गैर धर्मनिरपेक्ष</p> <p>A4 secular Country : धर्मनिरपेक्ष देश</p>	2.0	0.00
Employability Skills				
61	61	<p>..... is major changes takes place in manufacturing. मैन्युफैक्चरिंग में प्रमुख परिवर्तन होते हैं।</p> <p>A1 Green revolution : हरित क्रांति</p> <p>A2 Industry revolution : उद्योग क्रांति</p> <p>A3 Water revolution : जल क्रांति</p> <p>A4 Food revolution : खाद्य क्रांति</p>	2.0	0.00
Employability Skills				
62	62	<p>1st industrial revolution started in..... पहली औद्योगिक क्रांति की शुरुआत।</p> <p>A1 18th century : 18 वीं सदी</p> <p>A2 19th century : 19 वीं सदी</p> <p>A3 20th century : 20 वीं सदी</p> <p>A4 21st century : 21 वीं सदी</p>	2.0	0.00
Employability Skills				
63	63	<p>Hard Skill..... कठिन कौशल.....।</p> <p>A1 quick learner : त्वरित शिक्षार्थी</p> <p>A2 time management : समय प्रबंधन</p> <p>A3 60 WPM typing speed : 60 WPM टाइपिंग स्पीड</p> <p>A4 spoken English : मौखिक अंग्रेजी</p>	2.0	0.00
Employability Skills				

64	64	<p>To grow yourself you must..... अपने आप को विकसित करने के लिए आपको चाहिए।</p> <p>A1 know your office : अपने कार्यालय को जानें</p> <p>A2 know yourself : खुद को जानें</p> <p>A3 know your institute : अपने संस्थान को जानें</p> <p>A4 know your country : अपने देश को जानो</p>	2.0	0.00
Employability Skills				
65	65	<p>Time management..... समय प्रबंधन.....।</p> <p>A1 complete your task on time : अपना कार्य समय पर पूरा करें</p> <p>A2 managing time : प्रबंधन समय</p> <p>A3 hard skill : कठिन कौशल</p> <p>A4 problem solving : समस्या को सुलझाना</p>	2.0	0.00
Employability Skills				
66	66	<p>A resume should be _____. एक रिज्यूम _____ होना चाहिए</p> <p>A1 short and precise : छोटा और सटीक</p> <p>A2 fancy and colourful : फैसी और रंगीन</p> <p>A3 having long and detailed information : लंबी और विस्तृत जानकारी होना</p> <p>A4 having acronyms and abbreviation : समरूप और संक्षिप्त नाम होना</p>	2.0	0.00
Employability Skills				
67	67	<p>A written description of duties and responsibilities to be carried out in a job is called _____. किसी कार्य में किए जाने वाले कर्तव्यों और जिम्मेदारियों का लिखित विवरण _____ कहा जाता है</p> <p>A1 CV : CV</p> <p>A2 job description : नौकरी का विवरण</p> <p>A3 resume : रिज्यूम</p> <p>A4 job application : नौकरी के लिए आवेदन</p>	2.0	0.00
Employability Skills				

68	68	<p>After receiving interview call, what is the next step? साक्षात्कार कॉल प्राप्त करने के बाद, अगला कदम क्या है?</p> <p>A1 : Send application letter आवेदन पत्र भेजें</p> <p>A2 : Prepare the resume रिज्यूम तैयार करें</p> <p>A3 : Appear at interview साक्षात्कार में में जाये</p> <p>A4 : Send resume रिज्यूम भेजे</p>	2.0	0.00
Employability Skills				
69	69	<p>Choose suitable "wh" word for the given sentence. " _____ animal do you like?" दिए गए वाक्य के लिए उपयुक्त "wh" शब्द चुनें। " _____ animal do you like?"</p> <p>A1 : Which Which</p> <p>A2 : Why Why</p> <p>A3 : Where Where</p> <p>A4 : When When</p>	2.0	0.00
Employability Skills				
70	70	<p>Choose the correct punctuation mark after the word "Rohan" in the given sentence. "Rohan David and Ram are playing hide and seek" दिए गए वाक्य में शब्द "रोहन" के बाद सही विराम चिह्न चुनें। "Rohan David and Ram are playing hide and seek"</p> <p>A1 : Comma (,) अल्पविराम (,)</p> <p>A2 : Period (.) अवधि (.)</p> <p>A3 : Slash (/) स्लैश (/)</p> <p>A4 : Hyphen (-) हाइफ़न (-)</p>	2.0	0.00
Employability Skills				
71	71	<p>Choose the correct response for the given question. "How have you been?" दिए गए प्रश्न के लिए सही उत्तर चुनिए। "How have you been?"</p> <p>A1 : Very well, And you? Very well, And you?</p> <p>A2 : Thank you_ And you? Thank you_ And you?</p> <p>A3 : Same to you Same to you</p> <p>A4 : On vacation_ And you? On vacation_ And you?</p>	2.0	0.00
Employability Skills				

72	72	<p>Choose the correct response of the given question. "When did the accident happen"?</p> <p>दिए गए प्रश्न की सही प्रतिक्रिया चुनें। "When did the accident happen"?</p> <p>A1 : in the hotel in the hotel</p> <p>A2 : during travelling during travelling</p> <p>A3 : At 10:30 last night At 10:30 last night</p> <p>A4 : On the table On the table</p>	2.0	0.00
Employability Skills				
73	73	<p>Choose the correct tense of the verb. "I _____ music when I was child"</p> <p>क्रिया का सही काल चुनें। "I _____ music when I was child"</p> <p>A1 : learn learn</p> <p>A2 : am learning am learning</p> <p>A3 : will learn will learn</p> <p>A4 : learnt learnt</p>	2.0	0.00
Employability Skills				
74	74	<p>Curriculum vitae is also known as _____.</p> <p>Curriculum vitae को _____ के रूप में भी जाना जाता है।</p> <p>A1 : circular परिपत्र</p> <p>A2 : resume रिज्यूम</p> <p>A3 : job application form नौकरी के लिए आवेदन पत्र</p> <p>A4 : leave application छुट्टी की अर्जी</p>	2.0	0.00
Employability Skills				
75	75	<p>Fill in the blank with comparative adjective. "Your pencil is _____ than mine"</p> <p>तुलनात्मक विशेषण के साथ रिक्त स्थान भरें। "Your pencil is _____ than mine"</p> <p>A1 : sharp sharp</p> <p>A2 : sharper sharper</p> <p>A3 : blunt blunt</p> <p>A4 : thick thick</p>	2.0	0.00

Electrician - 1st year (Eng) SET 1

Question Number	Correct Alternative position
1	A4
2	A4
3	A4
4	A3
5	A3
6	A1
7	A3
8	A3
9	A4
10	A2
11	A4
12	A4
13	A4
14	A1
15	A2
16	A3
17	A2
18	A2
19	A1
20	A2
21	A2
22	A1
23	A3
24	A4
25	A2
26	A4
27	A1
28	A1
29	A3
30	A1
31	A4
32	A4
33	A2
34	A2
35	A4
36	A1
37	A4
38	A3
39	A3
40	A2
41	A2
42	A2
43	A4
44	A2
45	A1

46	A3
47	A2
48	A4
49	A3
50	A1
51	A1
52	A3
53	A2
54	A1
55	A2
56	A1
57	A2
58	A3
59	A1
60	A4
61	A2
62	A1
63	A3
64	A2
65	A1
66	A1
67	A2
68	A3
69	A1
70	A1
71	A1
72	A3
73	A4
74	A2
75	A2

KEY ANSWER SET 1