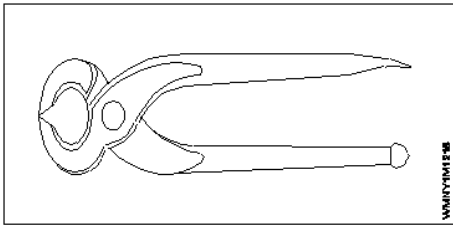


**ALL INDIA TRADE TEST - 2024 FOR CRAFTSMEN**  
**TRAINING SCHEME (CTS)**  
**Trade Name: Wireman**  
**Year: 1st Year**

**Exam Date :**  
**Exam Time :**

**Note:**

1. Tick the correct option out of four alternatives provided
2. All questions carry equal marks (2 Marks each)
3. There is no negative marking

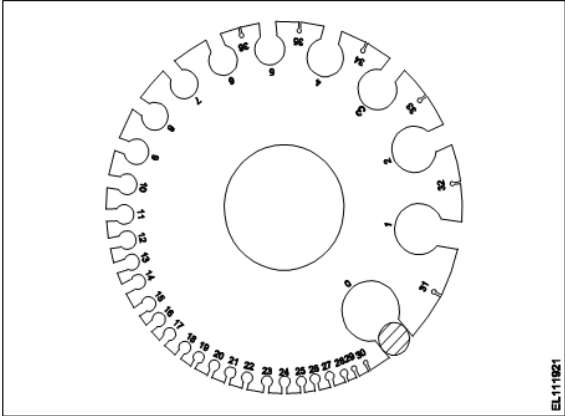
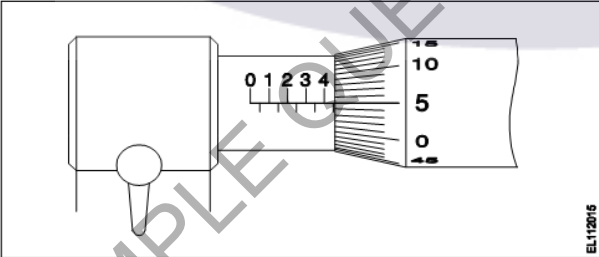
Sr. No.	Q ID	Question Body and Alternatives	Marks	Negative Marks
Trade Theory				
1	1	<p>Which tool is used for skinning the insulation of cables and cleaning the wire surfaces?  केबलों के इन्सुलेशन को हटाने और वायर की सतहों को साफ करने के लिए किस उपकरण का उपयोग किया जाता है?</p> <p>A1 : Electrician's knife  इलेक्ट्रीशियन का चाकू</p> <p>A2 : Round nose plier  राउन्ड नोस प्लायर</p> <p>A3 : Snip nose plier  स्निप नोज प्लायर</p> <p>A4 : Combination plier  कॉम्बिनेशन प्लायर</p>	2.0	0.00
Trade Theory				
2	2	<p>Which tool is used for boring small hole on wooden articles?  लकड़ी की वस्तुओं पर छोटे छेद करने के लिए किस उपकरण का उपयोग किया जाता है?</p> <p>A1 : Firmer chisel  फॉर्म छिजेल</p> <p>A2 : Wood rasp file  वुड रास्प फ़ाइल</p> <p>A3 : Gimlet  गिमलेट</p> <p>A4 : Centre punch  केंद्र पंच</p>	2.0	0.00
Trade Theory				
3	3	<p>What is the use of this tool?  इस टूल का उपयोग क्या है?</p>  <p>A1 : Cutting and twisting the wire  वायर को काटना और मोड़ना</p>	2.0	0.00

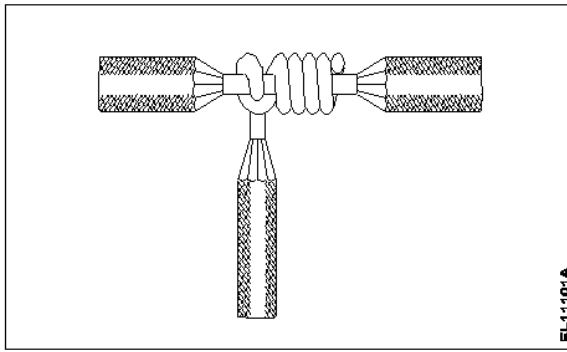
		<p>A2 : Extracting nails from the wood लकड़ी से कीलें निकालना</p> <p>A3 : Loosening and tightening the bolts and nuts बोल्ट और नट को ढीला करना और कसना</p> <p>A4 : Holding the hot substances गरम पदार्थ को धारण करना</p>		
Trade Theory				
4	4	<p>Which type of caliper is used to draw parallel lines along the outer edges of the materials? सामग्रियों के बाहरी किनारों पर समानांतर रेखाएँ खींचने के लिए किस प्रकार के कैलीपर का उपयोग किया जाता है?</p> <p>A1 : Jenny caliper जेनी कैलिपर</p> <p>A2 : Outside caliper आउटसाइड कैलीपर</p> <p>A3 : Spring Joint caliper स्प्रिंग जॉइंट कैलिपर</p> <p>A4 : Inside caliper भीतरी कैलीपर</p>	2.0	0.00
Trade Theory				
5	5	<p>Which file is used for sharpening the blunt teeth of a tenon saw? टेनन सॉ के ब्लन्ट दांतों को तेज़ करने के लिए किस फ़ाइल का उपयोग किया जाता है?</p> <p>A1 : Square file चौकोर फ़ाइल</p> <p>A2 : Triangular file त्रिकोणीय फ़ाइल</p> <p>A3 : Half round file आधी गोल फाइल</p> <p>A4 : Round file राउन्ड फ़ाइल</p>	2.0	0.00
Trade Theory				
6	6	<p>Which type of stake is used for sharp bends in sheet metal? शीट मेटल में तीव्र मोड़ के लिए किस प्रकार की हिस्सेदारी का उपयोग किया जाता है?</p> <p>A1 : Hatchet stake हैचेट स्टेक</p> <p>A2 : Square stake स्क्वायर स्टेक</p> <p>A3 : Bevel edge square stake बेवल एडज स्क्वायर स्टेक</p> <p>A4 : Blow horn stake ब्लो हॉर्न स्टेक</p>	2.0	0.00
Trade Theory				
7	7	<p>Which condition of the victim is referred as coma stage? पीड़ित की किस स्थिति को कोमा अवस्था कहा जाता है?</p> <p>A1 : Lie totally senseless and do not respond to calls पूरी तरह से मूर्खतापूर्ण झूठ बोलते हैं और कॉल का जवाब नहीं देते हैं</p> <p>A2 : Unconscious but can respond to calls</p>	2.0	0.00

		<p>बेहोश लेकिन कॉल का जवाब दे सकता है</p> <p>A3 : Conscious but cannot respond to calls</p> <p>होश में है लेकिन कॉल का जवाब नहीं दे सकता</p> <p>A4 : Breathing but cannot respond to calls</p> <p>सांस चल रही है लेकिन कॉल का जवाब नहीं दे पा रहा हूँ</p>		
Trade Theory				
8	8	<p>Which personal protective equipment is used for the protection from fumes? धुँ से सुरक्षा के लिए कौन से व्यक्तिगत सुरक्षा उपकरण का उपयोग किया जाता है?</p> <p>A1 : Ear mask कान का मुखौटा</p> <p>A2 : Nose mask नाक का मुखौटा</p> <p>A3 : Apron एप्रन</p> <p>A4 : Goggles चश्मे</p>	2.0	0.00
Trade Theory				
9	9	<p>Which is the golden hour for the victim, injured on head with risk of dying? सिर पर चोट लगने और मरने के जोखिम वाले पीड़ित के लिए सुनहरा समय कौन सा है?</p> <p>A1 : First 15 minutes First 15 minutes</p> <p>A2 : First 45 minutes First 45 minutes</p> <p>A3 : First 60 minutes First 60 minutes</p> <p>A4 : First 30 minutes First 30 minutes</p>	2.0	0.00
Trade Theory				
10	10	<p>Which tool is used for loosening and tightening of nuts and bolts? नट और बोल्ट को ढीला और कसने के लिए किस उपकरण का उपयोग किया जाता है?</p> <p>A1 : Side cutting plier साइड कटिंग प्लायर</p> <p>A2 : Round nose plier राउन्ड नोस प्लायर</p> <p>A3 : Double ended spanner डबल एंडेड स्पैनर</p> <p>A4 : Screw driver पेंचकस</p>	2.0	0.00
Trade Theory				
11	11	<p>Which tool is used for marking and punching the center of pilot holes on metals? धातुओं पर पायलट छेद के केंद्र को चिह्नित करने और छिद्र करने के लिए किस उपकरण का उपयोग किया जाता है?</p> <p>A1 : Rawl plug tool and bit रॉल प्लग टूल और बिट</p> <p>A2 : Firmer chisel फिर्मर छिजेल</p>	2.0	0.00

		A3 : Try square ट्राई स्केयर A4 : Centre punch केंद्र पंच		
Trade Theory				
12	12	Which type of notch is used for making a metal tray with 90° bend and an inside flange? 90° मोड़ और आंतरिक फ्लेंज वाली धातु ट्रे बनाने के लिए किस प्रकार के नॉच का उपयोग किया जाता है?  A1 : Square notch स्क्वायर नॉच A2 : Slant notch तिरछा नॉच A3 : V notch V नॉच A4 : Straight notch सीधा नॉच	2.0	0.00
Trade Theory				
13	13	Which type of occupational health hazard is cause for infection? किस प्रकार का व्यावसायिक स्वास्थ्य खतरा संक्रमण का कारण है?  A1 : Physiological hazard शारीरिक खतरा A2 : Psychological hazard मनोवैज्ञानिक खतरा A3 : Biological hazard जैविक खतरा A4 : Electrical hazard विद्युत खतरा	2.0	0.00
Trade Theory				
14	14	Which is called valence electron in an atom? एक परमाणु में, वैलेंस इलेक्ट्रॉन किसे कहा जाता है?  A1 : Half the total No. of electron कुल इलेक्ट्रॉन का आधा A2 : No. of electron in middle orbit मध्य कक्षा में इलेक्ट्रॉन की संख्या A3 : No. of electron in inner most orbit सबसे भीतरी कक्षा में इलेक्ट्रॉन की संख्या A4 : No. of electron in the outer most orbit सबसे बाहरी कक्षा में इलेक्ट्रॉन की संख्या	2.0	0.00
Trade Theory				
15	15	How many electrons are in a copper atom? कितने इलेक्ट्रॉन तांबे के परमाणु में होते हैं?  A1 : 27 27 A2 : 28 28 A3 : 29	2.0	0.00

		29 A4 : 30 30		
Trade Theory				
16	16	How many number of electrons will move in one second for one ampere current through the conductor? कंडक्टर के माध्यम से एक एम्पियर करंट के लिए एक सेकंड में कितने इलेक्ट्रॉनों की संख्या होगी?  A1 : 6.24 X 10 <sup>15</sup>  6.24 X 10 <sup>15</sup>  A2 : 6.24 X 10 <sup>16</sup>  6.24 X 10 <sup>16</sup>  A3 : 6.24 X 10 <sup>17</sup>  6.24 X 10 <sup>17</sup>  A4 : 6.24 X 10 <sup>18</sup>  6.24 X 10 <sup>18</sup>	2.0	0.00
Trade Theory				
17	17	What is the property of direct current? डायरेक्ट करंट की विशेषता क्या है?  A1 : Magnitude and direction of current changes with time परिमाण और करंट की दिशा समय के साथ परिवर्तित होती है  A2 : Magnitude and direction of current remains constant परिमाण और करंट की दिशा स्थिर रहती है  A3 : Direction of current changes with time धारा की दिशा समय के साथ परिवर्तन होती है  A4 : Magnitude of current changes with time कोरेंट का परिमाण समय के साथ परिवर्तित होता है	2.0	0.00
Trade Theory				
18	18	Which effect of electric current is used for the treatment of mental patient? मानसिक रोगी के उपचार के लिए विद्युत धारा के किस प्रभाव का उपयोग किया जाता है?  A1 : Shock effect झटका प्रभाव  A2 : Chemical effect रासायनिक प्रभाव  A3 : Magnetic effect चुंबकीय प्रभाव  A4 : Ionization effect आयनीकरण प्रभाव	2.0	0.00
Trade Theory				
19	19	What is the name of the effect, if the current is passed through the electrolyte? यदि इलेक्ट्रोलाइट के माध्यम से विद्युत प्रवाह पारित किया जाता है, तो प्रभाव का क्या नाम है?  A1 : Heating ऊष्मीय  A2 : Chemical रासायनिक  A3 : Magnetic चुंबकीय	2.0	0.00

		<p>A4 Thermal : गतिक</p>		
		Trade Theory		
20	20	<p>What is the name of the measuring tool? मापने उपकरण के नाम क्या है?</p>  <p>A1 Outside micrometer : आउटसाईड माइक्रोमीटर</p> <p>A2 Inside micrometer : इनसाइड माइक्रोमीटर</p> <p>A3 Vernier Caliper : वर्नियर कैलीपर्स</p> <p>A4 Standard wire gauge : स्टैंडर्ड बायर गेज</p>	2.0	0.00
		Trade Theory		
21	21	<p>What is the reading of the micrometer? माइक्रोमीटर का पाठययाक क्या है?</p>  <p>A1 4.05 mm : 4.05 mm</p> <p>A2 4.15 mm : 4.15 mm</p> <p>A3 4.50 mm : 4.50 mm</p> <p>A4 4.55 mm : 4.55 mm</p>	2.0	0.00
		Trade Theory		
22	22	<p>What is the name of the wire joint? तार के जोड़ का नाम क्या है?</p>	2.0	0.00



A1  
: Aerial tap joint

एरियल टेप जॉइंट

A2  
: 'T' joint

T' जॉइंट

A3  
: Knotted tap joint

नोटेड टेप जॉइंट

A4  
: Plain tap joint

सादा टेप जॉइंट

Trade Theory

23

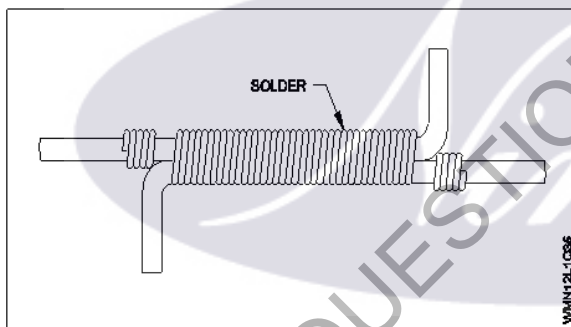
23

What is the name of the wire joint?

तार जॉइंट का नाम क्या है?

2.0

0.00



A1  
: Britannia 'T' joint

ब्रिटैनिया 'T' जॉइंट

A2  
: Western union joint

वेस्टर्न यूनियन जॉइंट

A3  
: Britannia straight joint

ब्रिटैनिया स्ट्रेट जॉइंट

A4  
: Married joint

मैरिड जॉइंट

Trade Theory

24

24

Which type of joint is used in over head lines for extending the length of wire?

किस प्रकार के जॉइंट का ओवर हेड लाइनों में तार की लंबाई बढ़ाने के लिए प्रयोग किया जाता है?

2.0

0.00

A1  
: Scarfed joint

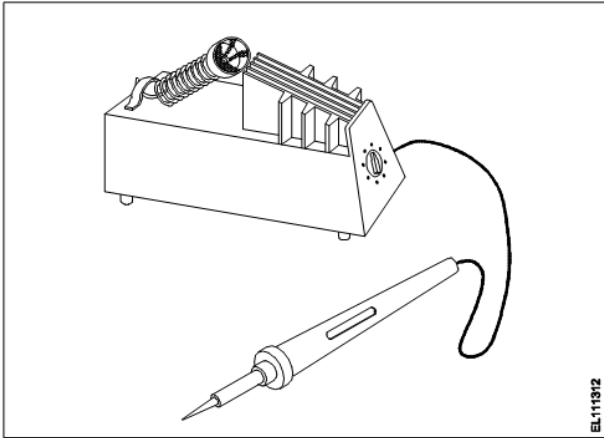
स्क्रैड जॉइंट

A2  
: Britannia 'T' joint

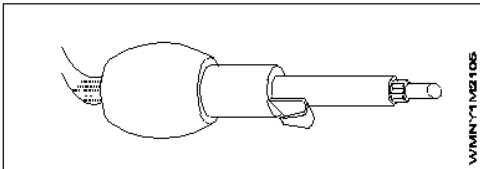
ब्रिटैनिया 'T' जॉइंट

A3  
: Western union joint

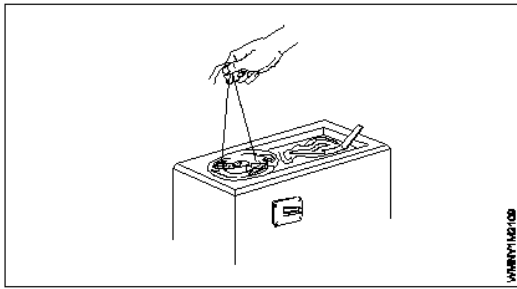
वेस्टर्न यूनियन जॉइंट

		<p>A4 : Married joint मेरिड जॉइंट</p>		
Trade Theory				
25	25	<p>What is the name of the soldering? सोल्डरिंग का नाम क्या है?</p>  <p>EL111312</p> <p>A1 : DIP soldering DIP सोल्डरिंग</p> <p>A2 : Temperature controlled soldering तापमान नियंत्रित सोल्डरिंग</p> <p>A3 : Soldering with soldering gun सोल्डरिंग गन के साथ सोल्डरिंग</p> <p>A4 : Soldering with blow lamp ब्लो लैंप से सोल्डरिंग</p>	2.0	0.00
Trade Theory				
26	26	<p>Which solder is used for soldering aluminium conductor? कौन सा सोल्डर एल्यूमीनियम कंडक्टर में टांका लगाने के लिए प्रयोग किया जाता है?</p> <p>A1 : Fine solder फाइन सोल्डर</p> <p>A2 : Resin core solder रेसिन कोर सोल्डर</p> <p>A3 : Alcap solder एल्का पी सोल्डर</p> <p>A4 : Tinman solder टिनमेन सोल्डर</p>	2.0	0.00
Trade Theory				
27	27	<p>Which is conductor? कौन सा कंडक्टर है?</p> <p>A1 : Wood लकड़ी</p> <p>A2 : Zinc जिंक</p> <p>A3 : Rubber रबर</p> <p>A4 : Mica अभ्रक</p>	2.0	0.00



Trade Theory			
28	28	<p>Which metal is used to make soldering iron bit? सोल्डरिंग आयरन बिट बनाने के लिए प्रयोग किया जाता है?</p> <p>A1 : Iron लोहा</p> <p>A2 : Steel स्टील</p> <p>A3 : Brass पीतल</p> <p>A4 : Copper तांबा</p>	2.0 0.00
Trade Theory			
29	29	<p>What is the property of good conductor? अच्छा कंडक्टर की क्या विशेषता है?</p> <p>A1 : Must have low specific resistance कम विशिष्ट प्रतिरोध होना चाहिए</p> <p>A2 : Must have high dielectric strength उच्च डाई इलेक्ट्रिक स्ट्रेंथ होनी चाहिए</p> <p>A3 : Must have low tensile strength कम तन्य शक्ति होनी चाहिए</p> <p>A4 : Must have low melting point कम पिघलने बिंदु होना चाहिए</p>	2.0 0.00
Trade Theory			
30	30	<p>What is the equation for Quantity of electricity? बिजली की मात्रा के लिए समीकरण क्या है?</p> <p>A1 : <math>Q = I/t</math> <math>Q = I/t</math></p> <p>A2 : <math>Q = I + t</math> <math>Q = I + t</math></p> <p>A3 : <math>Q = I \times t</math> <math>Q = I \times t</math></p> <p>A4 : <math>Q = I - t</math> <math>Q = I - t</math></p>	2.0 0.00
Trade Theory			
31	31	<p>What is the name of soldering method? सोल्डरिंग विधि का नाम क्या है?</p>  <p>A1 : Dip soldering डिप सोल्डरिंग</p> <p>A2 : Soldering with a flame लौ से सोल्डरिंग</p>	2.0 0.00

		A3 : Soldering gun सोल्डरिंग गन A4 : Soldering Iron आयरन		
Trade Theory				
32	32	What is the name of soldering method? सोल्डरिंग विधि का नाम क्या है? <div data-bbox="258 383 742 707" data-label="Image"> </div> A1 : Soldering Iron सोल्डरिंग आयरन A2 : Soldering with gun गन से सोल्डरिंग A3 : Soldering with a flame लौ से सोल्डरिंग A4 : Dip soldering डिप सोल्डरिंग	2.0	0.00
Trade Theory				
33	33	What is the name of the soldering method? सोल्डरिंग विधि का नाम क्या है? <div data-bbox="248 1245 732 1547" data-label="Image"> </div> A1 : Soldering Iron सोल्डरिंग आयरन A2 : Soldering gun सोल्डरिंग गन A3 : Soldering with flame लौ से सोल्डरिंग A4 : Dip soldering डिप सोल्डरिंग	2.0	0.00
Trade Theory				
34	34	What is the name of soldering method? सोल्डरिंग विधि का नाम क्या है?	2.0	0.00



A1 : Dip soldering

डिप सोल्डरिंग

A2 : Soldering iron

सोल्डरिंग आयरन

A3 : Soldering with flame

लौ से सोल्डरिंग

A4 : Soldering gun

सोल्डरिंग गन

Trade Theory

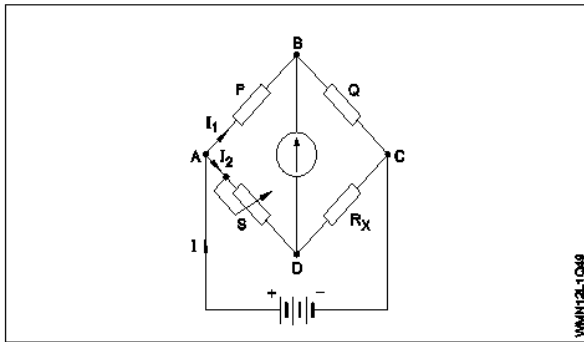
35	35	Which conductors are used for distribution lines? वितरण लाइनों के लिए कौन से कंडक्टर का उपयोग किया जाता है?	2.0	0.00
		A1 : Bare conductors नंगे कंडक्टर		
		A2 : Insulated conductors इंसुलेटेड कंडक्टर		
		A3 : Insulated solid conductors इंसुलेटेड ठोस कंडक्टर		
		A4 : Insulated multi stranded conductor इंसुलेटेड मल्टी स्ट्रैंडेड कंडक्टर		

Trade Theory

36	36	Which type of wire joint is found in the junction box? जंक्शन बॉक्स में किस प्रकार का वायर जोड़ पाया जाता है?	2.0	0.00
		A1 : Rat tail joint रैट टेल जोड़		
		A2 : Plain tap joint प्लेन टैप जोड़		
		A3 : Aerial tap joint एरियल टैप जोड़		
		A4 : Married joint मेरिड जोड़		

Trade Theory

37	37	Which formula is used to calculate the value of unknown resistance ( $R_x$ ) in Wheatstone bridge? कौन सा सूत्र व्हीटस्टोन ब्रिज में अज्ञात प्रतिरोध ( $R_x$ ) के मूल्य की गणना करने के लिए इस्तेमाल किया जाता है?	2.0	0.00
----	----	---	-----	------



A1  
:

$$R_X = \frac{P}{Q} \times S$$

A2  
:

$$R_X = \frac{S}{P} \times Q$$

A3  
:

$$R_X = \frac{P}{S} \times Q$$

A4  
:

$$R_X = \frac{P}{2} \times \frac{Q}{S}$$

#### Trade Theory

38	38	Which law states the relation between the voltage current and resistance in a closed circuit at constant temperature? स्थिर तापमान पर कौनसा नियम एक बंद सर्किट में करंट वोल्टेज और प्रतिरोध के बीच संबंध बताता है?	2.0	0.00
	A1 :	Ohm's law ओम का नियम		
	A2 :	Kirchhoff's current law किरचाफ का करंट का नियम		
	A3 :	Kirchhoff's voltage law किरचाफ का वोल्टेज नियम		
	A4 :	Law of resistance प्रतिरोध का नियम		

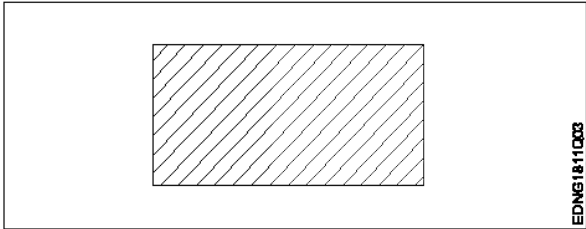
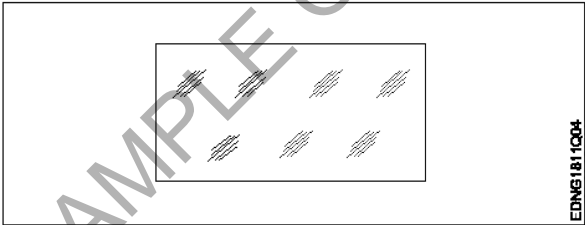
#### Workshop Calculation Science

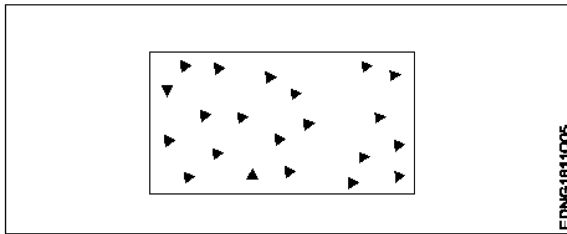
39	39	Which metal contains iron as a major content? इनमे से किस धातु में प्रमुख सामग्री के रूप में लोहा होता है?	2.0	0.00
	A1 :	Brass metal पीतल धातु		
	A2 :	Bronze metal ब्रॉज धातु		
	A3 :	Zinc ज़िंक		
	A4 :	Ferrous metal लोह धातु		

#### Workshop Calculation Science

40	40	Which alloy used in electric lamp as filament? इनमे से किस मिश्र धातु का उपयोग विद्युत बल्ब के फिलमेंट में किया जाता है?	2.0	0.00
----	----	---	-----	------

		A1 : Cobalt कोबाल्ट A2 : Vanadium वैनेडियम A3 : Tungsten टंगस्टन A4 : Silicon सिलिकॉन		
Workshop Calculation Science				
41	41	What is called mass per unit volume of a substances? किसी पदार्थ के द्रव्यमान प्रति इकाई आयतन को क्या कहते हैं?  A1 : Mass द्रव्यमान A2 : Weight भार A3 : Density घनत्व A4 : Volume आयतन	2.0	0.00
Workshop Calculation Science				
42	42	What is the work done in unit time? एक इकाई समय में किया गया कार्य क्या होता है?  A1 : Energy ऊर्जा A2 : Power शक्ति A3 : Force बल A4 : Acceleration त्वरण	2.0	0.00
Workshop Calculation Science				
43	43	What is the ratio of power output to power input? शक्ति आउटपुट और शक्ति इनपुट का अनुपात क्या होता है?  A1 : Work कार्य A2 : Energy ऊर्जा A3 : Efficiency दक्षता A4 : Acceleration त्वरण	2.0	0.00
Workshop Calculation Science				
44	44	How many watts for 1 horse power in British system? ब्रिटिश सिस्टम में, 1 हॉर्स पावर में कितने वाट्स होते हैं?	2.0	0.00

		A1 : 726 watts 726 watts A2 : 736 watts 736 watts A3 : 746 watts 746 watts A4 : 756 watts 756 watts		
Engineering Drawing				
45	45	Identify the conventional symbol of material? सामग्री के पारंपरिक प्रतीक को पहचानें?  A1 : Lead लेड A2 : Steel इस्पात A3 : Glass कांच A4 : Porcelain चीनी मिट्टी	2.0	0.00
Engineering Drawing				
46	46	Identify the conventional symbol of material? सामग्री के पारंपरिक प्रतीक को पहचानें?  A1 : Concrete संगीत कार्यक्रम A2 : Steel इस्पात A3 : Wood लकड़ी A4 : Glass कांच	2.0	0.00
Engineering Drawing				
47	47	Identify the conventional symbol of material? सामग्री के पारंपरिक प्रतीक को पहचानें?	2.0	0.00



A1 Steel  
:

इस्पात

A2 Wood  
:

लकड़ी

A3 Glass  
:

कांच

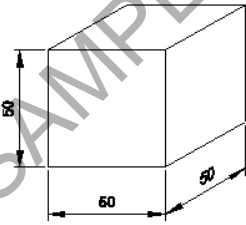
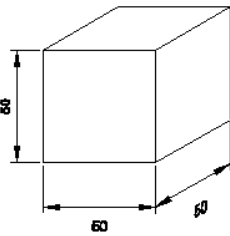
A4 Concrete  
:

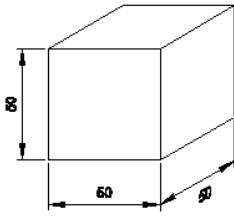
ठोस

Engineering Drawing

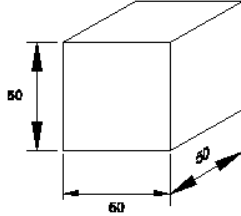
48	48	<p>What is the trimmed size of A4 sheet? A4 शीट का ट्रिम किया हुआ आकार क्या है?</p> <p>A1 841 x 1189 : 841 x 1189</p> <p>A2 594 x 841 : 594 x 841</p> <p>A3 210 x 297 : 210 x 297</p> <p>A4 148 x 210 : 148 x 210</p>	2.0	0.00
----	----	---	-----	------

Engineering Drawing

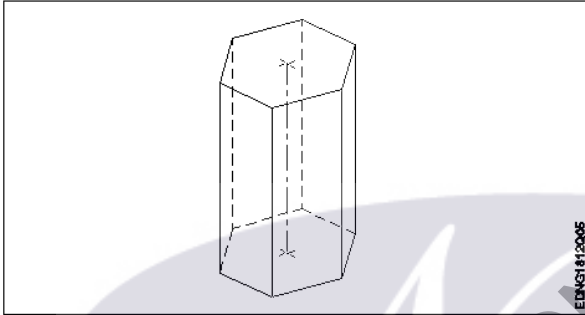
49	49	<p>Which drawing dimension is correct as per IS standard? IS मानक के अनुसार कौन सा ड्राइंग आयाम सही है?</p> <p>A1 :</p>  <p>A2 :</p>  <p>A3 :</p>	2.0	0.00
----	----	---	-----	------



A4  
:



#### Engineering Drawing

50	50	<p>Identify the name of prism? चित्र में दिखाए गए प्रिज्म का नाम क्या है?</p>  <p>A1 : Square prism स्क्वायर प्रिज्म</p> <p>A2 : Pentagonal prism पंचकोणीय प्रिज्म</p> <p>A3 : Triangular prism त्रिकोणीय प्रिज्म</p> <p>A4 : Hexagonal prism हेक्सागोनल प्रिज्म</p>	2.0	0.00
----	----	--	-----	------

#### Employability Skills

51	51	<p>Fill in the blank with correct word. "They _____ good friends" रिक्त में सही शब्द भरें। "They _____ good friends"</p> <p>A1 : is is</p> <p>A2 : am am</p> <p>A3 : are are</p> <p>A4 : was was</p>	2.0	0.00
----	----	--	-----	------

#### Employability Skills

52	52	<p>Fill in the blank with present progressive tense of the verb. "The train _____ through the tunnel" क्रिया के वर्तमान प्रगतिशील काल के साथ रिक्त स्थान भरें। "The train _____ through the tunnel"</p>	2.0	0.00
----	----	---	-----	------



		A1 : passed passed A2 : is passing is passing A3 : had passed had passed A4 : was passing was passing		
Employability Skills				
53	53	Fill in the blank with proper interrogative adjective. _____ are you going? उचित ईटोरोगेटिव विशेषण के साथ रिक्त स्थान भरें। _____ are you going?  A1 : Who Who A2 : Where Where A3 : Which Which A4 : What What	2.0	0.00
Employability Skills				
54	54	Fill in the blank with proper pronoun. "I made this cake _____" रिक्त स्थान में उचित सर्वनाम के साथ भरें। "I made this cake _____"  A1 : myself myself A2 : yourself yourself A3 : himself himself A4 : itself itself	2.0	0.00
Employability Skills				
55	55	Fill in the blank with proper pronoun. "She made this cake _____" रिक्त स्थान में उचित सर्वनाम के साथ भरें। "She made this cake _____"  A1 : itself itself A2 : myself myself A3 : herself herself A4 : himself himself	2.0	0.00
Employability Skills				
56	56	Fill in the blank with proper reflexive pronoun. "She has hurt _____" रिक्त स्थान में उचित प्रतिवर्ती सर्वनाम के साथ भरें। "She has hurt _____"  A1 : myself myself	2.0	0.00

		A2 herself : herself A3 himself : himself A4 itself : itself		
Employability Skills				
57	57	Fill in the blank with suitable adjective for the given sentence "The little girl's..... eyes revealed her mischief" दिए गए वाक्य के लिए उपयुक्त विशेषण के साथ रिक्त स्थान भरें "The little girl's..... eyes revealed her mischief"  A1 chubby : chubby A2 weak : weak A3 short sighted : short sighted A4 twinkling : twinkling	2.0	0.00
Employability Skills				
58	58	Fill in the blank with suitable place preposition. "My house is _____ the third floor" उपयुक्त स्थान पूर्वसर्ग के साथ रिक्त स्थान भरें। "My house is _____ the third floor"  A1 at : at A2 in : in A3 on : on A4 under : under	2.0	0.00
Employability Skills				
59	59	Fill in the correct question word. "_____ is the speaker at the function?" सही प्रश्न शब्द भरें। "_____ is the speaker at the function?"  A1 What : What A2 When : When A3 Why : Why A4 Who : Who	2.0	0.00
Employability Skills				
60	60	Low level language is also called _____. निम्न स्तर की भाषा को _____ भी कहा जाता है  A1 source code : सोर्स कोड A2 middle ware : मध्यस्थ	2.0	0.00

		A3 : machine language मशीन भाषा A4 : assembly language असेंबली भाषा		
Employability Skills				
61	61	Pronunciation refers to _____. उच्चारण _____ को संदर्भित करता है  A1 : diphthong संयुक्त स्वर A2 : consonant व्यंजन A3 : punctuation विराम चिह्न A4 : production of sound ध्वनि का उत्पादन	2.0	0.00
Employability Skills				
62	62	Re-arrange the following set of words into meaningful sentence. "teacher / school / worked / she / a / as". शब्दों के निम्नलिखित सेट को सार्थक वाक्य में फिर से व्यवस्थित करें। "teacher / school / worked / she / a / as"  A1 : School worked as a she teacher School worked as a she teacher A2 : She worked as a school teacher She worked as a school teacher A3 : She teacher worked as a school She teacher worked as a school A4 : Worked she as a school teacher Worked she as a school teacher	2.0	0.00
Employability Skills				
63	63	Rise and fall of pitch of voice is called _____. आवाज की पिच का उठना और गिरना _____ कहलाता है  A1 : vowel स्वर A2 : intonation आवाज़ का उतार-चढ़ाव A3 : consonant व्यंजन A4 : pronunciation उच्चारण	2.0	0.00
Employability Skills				
64	64	The word that expresses a sudden and strong feeling is called _____. वह शब्द जो अचानक और मजबूत भावना व्यक्त करता है उसे _____ कहा जाता है  A1 : punctuation विराम चिह्न A2 : interjection विस्मयादिबोधक A3 : conjunction	2.0	0.00

		संयोजन के रूप A4 : apostrophe एपोस्ट्रॉफी		
Employability Skills				
65	65	When you greet higher official's such as Teacher, Instructor or Supervisor, you should use _____. जब आप शिक्षक, प्रशिक्षक या पर्यवेक्षक जैसे उच्च अधिकारियों का अभिवादन करते हैं, तो आपको _____ का उपयोग करना चाहिए  A1 : Good morning Good morning A2 : Hello Hello A3 : Hey Hey A4 : Hi Hi	2.0	0.00
Employability Skills				
66	66	Which is a silent letter in the word "ANSWER"? "ANSWER" शब्द में कौन सा मूक अक्षर है?  A1 : R R A2 : E E A3 : S S A4 : W W	2.0	0.00
Employability Skills				
67	67	Which one is a "Do's" of discussion etiquettes? चर्चा के शिष्टाचारों में से कौन सा "Do's" है?  A1 : Loose your temper अपना आपा खोएं A2 : Listen to others दूसरों की सुनें A3 : Talk about irrelevant details अप्रासंगिक विवरण के बारे में बात करें A4 : Use impolite or rude language अभद्र या अशिष्ट भाषा का उपयोग करें	2.0	0.00
Employability Skills				
68	68	Which one is a "Don't" of discussion etiquette? चर्चा शिष्टाचार का "Don't" है?  A1 : Be open minded दिमाग खुला रखना A2 : Use moderate tone मध्यम स्वर का प्रयोग करें A3 : Listen to others दूसरों की सुनें A4 : Argue unnecessary	2.0	0.00

		अनावश्यक बहस करें		
		Employability Skills		
69	69	Which one is a brain of computer? कंप्यूटर का मस्तिष्क कौन सा है?  A1 : Keyboard कीबोर्ड A2 : CPU सी पी यू A3 : Monitor मॉनिटर A4 : Hard disk हार्ड डिस्क	2.0	0.00
		Employability Skills		
70	70	Which one is an exclamatory sentence? कौन सा विस्मयादिबोधक वाक्य है?  A1 : What a beautiful house it is! What a beautiful house it is! A2 : It is a beautiful house. It is a beautiful house. A3 : Is it a beautiful house? Is it a beautiful house? A4 : Your house is beautiful. Your house is beautiful.	2.0	0.00
		Employability Skills		
71	71	Which one is in active voice? सक्रिय आवाज में कौन सा है?  A1 : Ram has passed the exam. Ram has passed the exam. A2 : The ball was caught by him. The ball was caught by him. A3 : The book was being read by her. The book was being read by her. A4 : We were driven home by dad. We were driven home by dad.	2.0	0.00
		Employability Skills		
72	72	Which one is in passive voice? निष्क्रिय आवाज में कौन सा है?  A1 : Mohan is painting a house. Mohan is painting a house. A2 : She was reading a book. She was reading a book. A3 : Her birthday was celebrated by us. Her birthday was celebrated by us. A4 : I have seen that movie. I have seen that movie.	2.0	0.00
		Employability Skills		
73	73	Which one is NOT a conjunction?	2.0	0.00

		<p>कौन सा एक संयोजन नहीं है?</p> <p>A1 : And And</p> <p>A2 : Or Or</p> <p>A3 : But But</p> <p>A4 : On On</p>		
Employability Skills				
74	74	<p>Which one is NOT a benefit of the role playing? भूमिका निभाने का कौन सा लाभ नहीं है?</p> <p>A1 : Builds confidence आत्मविश्वास पैदा करता है</p> <p>A2 : Develops listening skill सुनने का कौशल विकसित करता है</p> <p>A3 : Develops creative problem-solving skill रचनात्मक समस्या-समाधान कौशल विकसित करता है</p> <p>A4 : Develops boredom बोरियत पैदा करता है</p>	2.0	0.00
Employability Skills				
75	75	<p>Which one is NOT a vowel? कौन सा स्वर नहीं है?</p> <p>A1 : a a</p> <p>A2 : e e</p> <p>A3 : f f</p> <p>A4 : i i</p>	2.0	0.00

**Wireman - 1st Year - Set 2**

S.No.	Correct Answer Key
1	A1
2	A3
3	A2
4	A1
5	A2
6	A1
7	A1
8	A2
9	A4
10	A3
11	A4
12	A3
13	A3
14	A4
15	A3
16	A4
17	A2
18	A1
19	A2
20	A4
21	A4
22	A3
23	A3
24	A3
25	A2
26	A3
27	A2
28	A4
29	A1
30	A3
31	A4
32	A3
33	A2
34	A1
35	A1
36	A1
37	A2
38	A1

S.No.	Correct Answer Key
39	A4
40	A3
41	A3
42	A2
43	A3
44	A3
45	A2
46	A4
47	A4
48	A3
49	A1
50	A4
51	A3
52	A2
53	A2
54	A1
55	A3
56	A2
57	A4
58	A3
59	A4
60	A3
61	A4
62	A2
63	A2
64	A2
65	A1
66	A4
67	A2
68	A4
69	A2
70	A1
71	A1
72	A3
73	A4
74	A4
75	A3

**Note:**

"In case answers found to be inaccurate due to typographical error or any other reason please sent mail to [qbnimigrievance@gmail.com](mailto:qbnimigrievance@gmail.com)"