


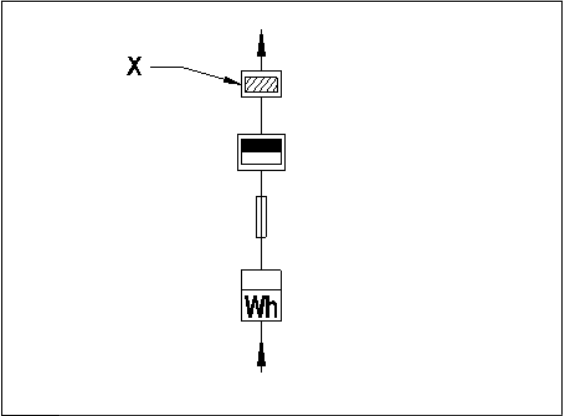
ALL INDIA TRADE TEST - 2024 FOR CRAFTSMEN
TRAINING SCHEME (CTS)
Trade Name: Wireman
Year: 2nd Year

Exam Date :
Exam Time :

Note:

1. Tick the correct option out of four alternatives provided
2. All questions carry equal marks (2 Marks each)
3. There is no negative marking

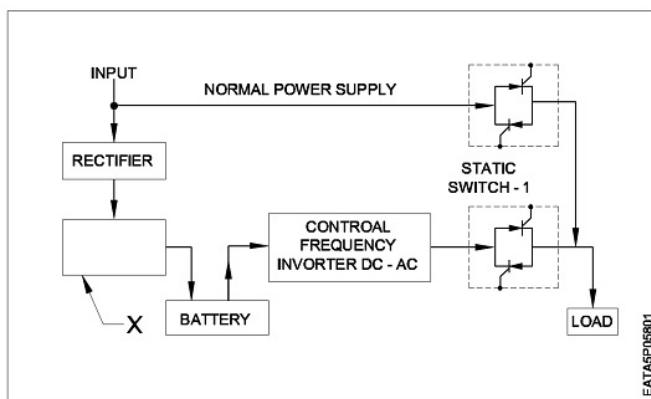
Sr. No.	Q ID	Question Body and Alternatives	Marks	Negative Marks
Trade Theory				
1	1	<p>Which supply voltage the fire alarm circuit works? कौन से सप्लाय वोल्टेज पर आग अलार्म सर्किट काम करता है?</p> <p>A1 : 240V AC 240V AC</p> <p>A2 : 220V DC 220V DC</p> <p>A3 : 110V DC 110V DC</p> <p>A4 : 24V DC 24V DC</p>	2.0	0.00
Trade Theory				
2	2	<p>Which is used to sense the heat in fire alarm circuit? फायर अलार्म सर्किट में गर्मी को महसूस (सेंस) करने के लिए इस्तेमाल किया जाता है?</p> <p>A1 : Varistor वरिस्टर</p> <p>A2 : Light dependent resistor प्रकाश पर निर्भर प्रतिरोधक</p> <p>A3 : Sensistor सेंसिस्टर</p> <p>A4 : Thermistor थर्मिस्टर</p>	2.0	0.00
Trade Theory				
3	3	<p>Which is represented by the BIS symbol? BIS प्रतीक द्वारा किसका प्रतिनिधित्व किया जाता है?</p> <div style="border: 1px solid black; padding: 10px; text-align: center; margin: 10px 0;">  </div> <p>A1 : Wattmeter</p>	2.0	0.00

		वाटमीटर A2 : Single phase energy meter सिंगल फेज ऊर्जा मीटर A3 : 3 phase energy meter 3 फेज ऊर्जा मीटर A4 : Power factor meter पावर फैक्टर मीटर		
Trade Theory				
4	4	What is the name of part marked as 'X'? "X" के रूप में चिह्नित हिस्सा का नाम क्या है? 	2.0	0.00
A1 : Energy meter ऊर्जा मीटर A2 : I C cut out IC कट आउट A3 : Main Switch मेन स्विच A4 : Distribution board वितरण बोर्ड				
Trade Theory				
5	5	Which is the unit of insulation resistance? इन्सुलेशन प्रतिरोध की इकाई कौन सी है? A1 : Milli ohm Milli ohm A2 : Ohm Ohm A3 : Kilo ohm Kilo ohm A4 : Mega ohm Mega ohm	2.0	0.00
Trade Theory				
6	6	Which rated voltage megger is used to measure the insulation resistance value of 3phase 415V induction motor? 3फेज 415V प्रेरण मोटर के इन्सुलेशन प्रतिरोध मूल्य को मापने के लिए किस रेटेड वोल्टेज मेगर का उपयोग किया जाता है? A1 : 250V 250V A2 : 500V 500V	2.0	0.00

		A3 1000V : 1000V A4 2500V : 2500V		
Trade Theory				
7	7	Which instrument is used to measure the insulation resistance? कौन सा उपकरण इन्सुलेशन प्रतिरोध को मापने के लिए प्रयोग किया जाता है? A1 Shunt type ohmmeter : शंट टाइप ओम मीटर A2 Series type ohmmeter : सीरीज टाइप ओम मीटर A3 Megger : मेगर A4 Multimeter : मल्टीमीटर	2.0	0.00
Trade Theory				
8	8	What is the main reason for leakage current flowing in wiring installation? वायरिंग इंस्टॉलेशन में लीकेज करंट प्रवाहित होने का मुख्य कारण क्या है? A1 Insulation failure : इन्सुलेशन विफलता A2 Low earth resistance : लो अर्थ रेसिस्टेंस A3 Incorrect size of earth wire : अर्थ वायर की गलत साइज़ A4 High earth reactance : हाई अर्थ रिअक्टेंस	2.0	0.00
Trade Theory				
9	9	What is the minimum bus bar clearance between phases in medium voltage application? मध्यम वोल्टेज में फेजों के बीच बस बार में न्यूनतम क्लियरेंस क्या है? A1 25 mm : 25 mm A2 32 mm : 32 mm A3 36 mm : 36 mm A4 40 mm : 40 mm	2.0	0.00
Trade Theory				
10	10	What is the maximum permissible voltage drop at the point of the commencement of supply at the consumers end for high and extra high voltage as per IE rule? IE नियम के रूप में उच्च और अतिरिक्त उच्च वोल्टेज के लिए उपभोक्ताओं के लिए आपूर्ति की शुरुआत के बिंदु पर अधिकतम अनुमेय वोल्टेज ड्रॉप क्या है? A1 12.50% : 12.50% A2 8% : 8%	2.0	0.00

		A3 : 5% 5% A4 : 3% 3%		
Trade Theory				
11	11	<p>How the cable is to be connected with the distribution boards as per IE rule? आईई नियम के अनुसार में वितरण के साथ केबल कैसे जोड़ा जाता है?</p> <p>A1 : By crimping lugs without cutting any cable strands किसी भी केबल स्टैंड को काटे बिना लम्स को क्रिम्पिंग कर</p> <p>A2 : By crimping lugs with some strands cut off कुछ स्टैंड को काटकर लम्स क्रिम्पिंग कर</p> <p>A3 : By directly inserting the strands into terminals सीधे स्टैंड को टर्मिनलों में अंकित करके</p> <p>A4 : By twisting the strands and inserting into terminals स्टैंड को ट्विस्टिंग कर और टर्मिनलों में डालने से</p>	2.0	0.00
Trade Theory				
12	12	<p>Which is used to protect the conductors that passing through walls in commercial wiring as per IE rules? आईई नियमों के अनुसार वाणिज्यिक तारों में दीवारों से गुजरने वाले कंडक्टरों की सुरक्षा के लिए किसका उपयोग किया जाता है?</p> <p>A1 : Wood batten लकड़ी बैटन</p> <p>A2 : Rigid metal conduit कठोर धातु कन्ड्यूट</p> <p>A3 : Flexible metal conduit लचीला धातु कन्ड्यूट</p> <p>A4 : Flexible non metal conduit लचीले गैर धातु कन्ड्यूट</p>	2.0	0.00
Trade Theory				
13	13	<p>What is the full form of 'LAN'? LAN का पूर्ण रूप क्या है?</p> <p>A1 : Load Area Network Load Area Network</p> <p>A2 : Local Area Network Local Area Network</p> <p>A3 : Local Aviation Network Local Aviation Network</p> <p>A4 : Local Active Network Local Active Network</p>	2.0	0.00
Trade Theory				
14	14	<p>Which is the inter processor distance of LAN? LAN की अंतर प्रोसेसर दूरी कौन सी है?</p> <p>A1 : Above 1000 Km Above 1000 Km</p> <p>A2 : 10 Km to 1000 Km 10 Km to 1000 Km</p> <p>A3 : 1 Km to 10 Km 1 Km to 10 Km</p>	2.0	0.00

		A4 : 0 to 1 Km 0 to 1 Km		
Trade Theory				
15	15	Which is the data transmission medium in LAN? LAN में डेटा संचरण माध्यम क्या है? A1 : PVC cable PVC केबल A2 : Armoured cable आर्मरड केबल A3 : Belted cable बेल्टेड केबल A4 : Coaxial cable कोएक्सल केबल	2.0	0.00
Trade Theory				
16	16	Which is the characteristics of 'LAN'? LAN की क्या विशेषता है? A1 : Consist one computer only एक कंप्यूटर ही मिलकर बनता है A2 : Group of 2 or more computers in the same building एक ही इमारत में 2 या अधिक कंप्यूटरों के समूह A3 : Group of computers in different building अलग इमारत में कंप्यूटर के समूह A4 : Group of computers in different area विभिन्न क्षेत्र में कंप्यूटर का समूह	2.0	0.00
Trade Theory				
17	17	What is the expansion of UPS? UPS के विस्तार क्या है? A1 : Uninterrupted Power System Uninterrupted Power System A2 : Uninterrupted Power Supply Uninterrupted Power Supply A3 : Uninterrupted Power Solution Uninterrupted Power Solution A4 : Uninterrupted Power Section Uninterrupted Power Section	2.0	0.00
Trade Theory				
18	18	Which part is marked as 'X' in the block diagram of 'OFF' line UPS? किस भाग को 'ऑफ' लाइन UPS के ब्लॉक आरेख में 'X' के रूप में चिह्नित किया गया है?	2.0	0.00



A1
: Reset switch

रिसेट स्विच

A2
: Change over switch

चेंज ओवर स्विच

A3
: Control panel

कंट्रोल पैनल

A4
: Battery charger

बैटरी चार्जर

Trade Theory

19	19	What is the relation between back up time and capacity of the battery of an UPS? UPS की बैटरी के बैक अप समय और क्षमता के बीच क्या संबंध है?	2.0	0.00
A1 :	Capacity of battery increases back up time increases बैटरी की क्षमता बढ़ने से समय बढ़ता है			
A2 :	Capacity of battery increases back up time decreases बैटरी की क्षमता वापस बढ़ जाती है समय कम हो जाता है			
A3 :	Capacity of battery decreases back up time increases समय बढ़ने के साथ बैटरी की क्षमता घट जाती है			
A4 :	Capacity of battery has no relations with back up time बैटरी की क्षमता का बैक अप टाइम के साथ कोई संबंध नहीं है			

Trade Theory

20	20	Which component is connected across the transformer winding of an UPS for protection from lightning? लाइटनिंग से सुरक्षा के लिए UPS के ट्रांसफॉर्मर वाइंडिंग में कौन सा घटक जुड़ा होता है?	2.0	0.00
A1 :	Diode डायोड			
A2 :	Transistor ट्रांजिस्टर			
A3 :	Triode ट्रायोड			
A4 :	Polyester capacitor पोलीस्टर केपेसिटर			

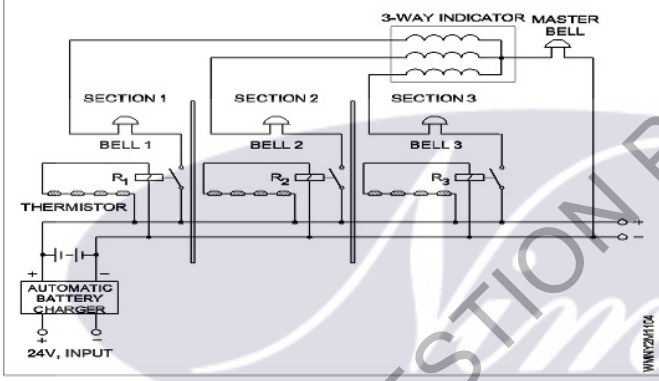
Trade Theory

21	21	Which electrical / electronic device requires UPS? कौन से इलेक्ट्रिक/इलेक्ट्रॉनिक उपकरणों में UPS की आवश्यकता होती है?	2.0	0.00
A1 :	Air conditioner एयर कंडीशनर			

		A2 : Microwave oven माइक्रोवेव ओवन A3 : Computer कंप्यूटर A4 : Television टेलीविजन		
Trade Theory				
22	22	Why the battery is to be placed nearer to ups in ups wiring? यू पी एस वायरिंग में यू पी एस बैटरी के पास क्यों रखा जाता है? A1 : To minimise the length of cable केबल की लंबाई कम करने के लिए A2 : For safety reasons सुरक्षा कारणों की वजह से A3 : To increase the life of battery बैटरी के जीवन को बढ़ाने के लिए A4 : To reduce voltage drop वोल्टेज ड्रॉप कम करने के लिए	2.0	0.00
Trade Theory				
23	23	What adjustment is to be done in commercial installation for interconnection of two or more UPS? दो या अधिक UPS के इंटरकनेक्शन के लिए वाणिज्यिक स्थापना में क्या समायोजन किया जाता है? A1 : By connecting manually मैन्युअल रूप से कनेक्ट करके A2 : By using a change over relay चेंज ओवर रिले का उपयोग करके A3 : By using rotary switch रोटरी स्विच का उपयोग करके A4 : By using ICDP switch ICDP स्विच का उपयोग करके	2.0	0.00
Trade Theory				
24	24	How the capacity of an inverter is expressed? एक इन्वर्टर की क्षमता कैसे व्यक्त किया जाता है? A1 : Watt hour वाट घंटे A2 : Ampere एम्पीयर A3 : Volt ampere वोल्ट एम्पीयर A4 : Ampere hour एम्पीयर घंटे	2.0	0.00
Trade Theory				
25	25	Which wire is used to connect inverter and battery? इन्वर्टर और बैटरी को जोड़ने के लिए किस तार का उपयोग किया जाता है? A1 : PVC 1.5 sq mm copper wire PVC 1.5 sq mm तांबे के तार A2 : Special auto wire	2.0	0.00

		<p>स्पेशल ऑटो वायर</p> <p>A3 : PVC 1.5 sq mm aluminium wire</p> <p>PVC 1.5 sq mm एल्यूमीनियम तार</p> <p>A4 : PVC 2.5 sq mm copper wire</p> <p>PVC 2.5 sq mm तांबे के तार</p>		
Trade Theory				
26	26	<p>How the neutral is provided in an inverter? इन्वर्टर में न्यूट्रल कैसे दिया जाता है?</p> <p>A1 : It is common for inverter output and AC mains यह इन्वर्टर आउटपुट और एसी मेन के लिए कामन है</p> <p>A2 : Separate neutral wire is provided अलग न्यूट्रल तार प्रदान किया जाता है</p> <p>A3 : Neutral is provided for output only न्यूट्रल केवल आउट पुट के लिए प्रदान किया जाता है</p> <p>A4 : Neutral is provided for AC mains only न्यूट्रल केवल ए सी मैन्स के लिए प्रदान किया जाता है</p>	2.0	0.00
Trade Theory				
27	27	<p>How many colour coded wires the RJ-45 cable contains? कितने कलर कोडित तार RJ-45 केबल में शामिल?</p> <p>A1 : 4 4</p> <p>A2 : 6 6</p> <p>A3 : 8 8</p> <p>A4 : 10 10</p>	2.0	0.00
Trade Theory				
28	28	<p>What are the two colours used in 2 pairs of Ethernet RJ 45 cable? ऐलीवेंट-RJ 45 केबल के 2 पेयर्स में उपयोग किए जाने वाले दो रंग क्या हैं?</p> <p>A1 : Blue and orange नीले और नारंगी</p> <p>A2 : Blue and brown नीले और भूरे रंग</p> <p>A3 : Orange and green नारंगी और हरे रंग</p> <p>A4 : Brown and orange ब्राउन और नारंगी</p>	2.0	0.00
Trade Theory				
29	29	<p>What is the use of co-axial cable? कॉअक्सल केबल का उपयोग क्या है?</p> <p>A1 : For transmitting electricity बिजली के ट्रांसमिशन के लिए</p> <p>A2 : For power wiring पॉवर वायरिंग के लिए</p>	2.0	0.00

		<p>A3 : For transmitting video signals वीडियो संकेतों के संचारण के लिए</p> <p>A4 : For house wiring घर की वायरिंग के लिए</p>		
Trade Theory				
30	30	<p>What is the first step taken during preparation of estimating the material required for any type of wiring installation? किसी भी प्रकार के वायरिंग की स्थापना के लिए आवश्यक सामग्री का आकलन करने की तैयारी के दौरान पहला कदम क्या है?</p> <p>A1 : Take the layout टेक दा लेआउट</p> <p>A2 : Purchase accessories for testing परीक्षण के लिए उपकरण खरीदे</p> <p>A3 : Prepare instruments for testing परीक्षण के लिए उपकरण तैयार करें</p> <p>A4 : Purchase cables testing खरीदे केबिल को जाचे</p>	2.0	0.00
Trade Theory				
31	31	<p>Which is the recommended height of energy meter to be installed from floor level in commercial wiring as per IE rule? IE नियम के अनुसार कमर्शियल वायरिंग में फ्लोर लेवल से स्थापित होने के लिए एनर्जी मीटर की अनुशंसित ऊंचाई क्या है?</p> <p>A1 : Not less than 1m Not less than 1m</p> <p>A2 : Not less than 1.5m Not less than 1.5m</p> <p>A3 : Not less than 2m Not less than 2m</p> <p>A4 : Not less than 2.5m Not less than 2.5m</p>	2.0	0.00
Trade Theory				
32	32	<p>Which is to be considered before the selection of conductor, protective devices and switch gear in commercial wiring? कामर्सिअल वायरिंग में कंडक्टर, सुरक्षात्मक उपकरणों और स्विच गियर के चयन से पहले किस पर विचार किया जाना है?</p> <p>A1 : Diversity factor डाइवर्सिटी फेक्टर</p> <p>A2 : Type of wiring वायरिंग का प्रकार</p> <p>A3 : Place of wiring वायरिंग का स्थान</p> <p>A4 : Climatic conditions वातावरण की परिस्थितियाँ</p>	2.0	0.00
Trade Theory				
33	33	<p>Which colour is painted on fire alarm call points? फायर अलार्म कॉल प्वाइंट पर कौन सा रंग पेंट किया जाता है?</p> <p>A1 : Green हरा</p> <p>A2 : Yellow पीला</p> <p>A3 : Blue</p>	2.0	0.00

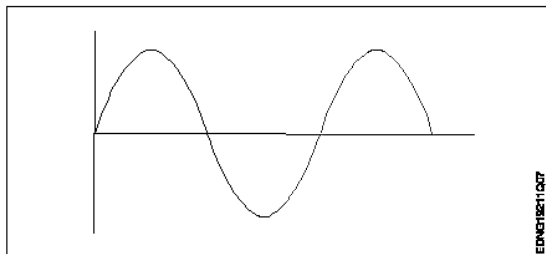
		नीला A4 : Red लाल		
		Trade Theory		
34	34	Which type of wiring system is used for fire alarm system? फायर अलार्म सिस्टम के लिए किस प्रकार की वायरिंग प्रणाली का उपयोग किया जाता है? A1 : Metallic conduit धात्विक नाली A2 : PVC conduit PVC नाली A3 : PVC casing & Capping PVC केसिंग और कैपिंग A4 : Batten wiring बैटन वायरिंग	2.0	0.00
		Trade Theory		
35	35	What is the name of circuit? सर्किट का नाम क्या है? 	2.0	0.00
		Trade Theory		
36	36	Where square wave inverters are used? स्क्वायर वेव इनवर्टर का उपयोग कहाँ किया जाता है? A1 : TV receiver TV रिसीवर A2 : Computer कंप्यूटर A3 : General lighting सामान्य प्रकाश व्यवस्था A4 : DVD players DVD प्लेयर	2.0	0.00

Trade Theory			
37	37	<p>Which is the type of smoke detector? स्मोक डिटेक्टर का प्रकार कौन सा है?</p> <p>A1 : Fusion detector फ्यूजन डिटेक्टर</p> <p>A2 : Thermal expansion detector थर्मल विस्तार डिटेक्टर</p> <p>A3 : Ionisation detector आयनीकरण डिटेक्टर</p> <p>A4 : Electrical sensing विद्युत संवेदन</p>	2.0 0.00
Trade Theory			
38	38	<p>What is the expansion of CCTV? CCTV का विस्तार क्या है?</p> <p>A1 : Closed Circuit Television Closed Circuit Television</p> <p>A2 : Common Circuit Television Common Circuit Television</p> <p>A3 : Common Computer Television Common Computer Television</p> <p>A4 : Closed Computer Television Closed Computer Television</p>	2.0 0.00
Workshop Calculation Science			
39	39	<p>What is the purpose of a lubricant? स्नेहक का उद्देश्य क्या है?</p> <p>A1 : To increase the pressure दबाव बढ़ाने के लिए</p> <p>A2 : To increase friction घर्षण को बढ़ाने के लिए</p> <p>A3 : To reduce friction घर्षण को कम करने के लिए</p> <p>A4 : To reduce pressure दबाव को कम करने के लिए</p>	2.0 0.00
Workshop Calculation Science			
40	40	<p>Which is used to reduce the friction in machine parts? मशीन भागों में घर्षण को कम करने के लिए किसका उपयोग किया जाता है?</p> <p>A1 : Kerosene मिट्टी का तेल</p> <p>A2 : Petrol पेट्रोल</p> <p>A3 : Water पानी</p> <p>A4 : Lubricants स्नेहक</p>	2.0 0.00
Workshop Calculation Science			
41	41	<p>What is the value of $14x+3y+25x+2y$?</p>	2.0 0.00

		$14x + 3y + 25x + 2y$ का मान क्या है? A1 : $17x + 27y$ $17x + 27y$ A2 : $16x + 28y$ $16x + 28y$ A3 : $39x + 5y$ $39x + 5y$ A4 : $44xy$ $44xy$		
Workshop Calculation Science				
42	42	What is the formula for $a^m \times a^n$? $a^m \times a^n$ के लिए फार्मूला क्या है? A1 : a^{m+n} a^{m+n} A2 : a^{m-n} a^{m-n} A3 : a^{mn} a^{mn} A4 : $n.a^m$ $n.a^m$	2.0	0.00
Workshop Calculation Science				
43	43	Which is the formula for कौन सा सूत्र है $\frac{a^m}{a^n}$? A1 : a^{m+n} a^{m+n} A2 : a^{m-n} a^{m-n} A3 : $a^m \times n$ $a^m \times n$ A4 : $(a^m)^n$ $(a^m)^n$	2.0	0.00
Workshop Calculation Science				
44	44	What is the expanded form of $(a+b)^2$? $(a+b)^2$ का विस्तारित रूप क्या है? A1 : $a^2 + 2ab + b^2$ $a^2 + 2ab + b^2$ A2 : $a^2 - 2ab + b^2$ $a^2 - 2ab + b^2$ A3 : $a^2 + 2ab - b^2$ $a^2 + 2ab - b^2$ A4 : $-a^2 - 2ab + b^2$ $-a^2 - 2ab + b^2$	2.0	0.00

Engineering Drawing			
45	45	<p>Which device is used to start and stop a motor? मोटर को चालू और बंद करने के लिए किस उपकरण का उपयोग किया जाता है?</p> <p>A1 Rotor : रोटार</p> <p>A2 Starter : स्टार्टर</p> <p>A3 Stator : स्टैटर</p> <p>A4 Slip ring : स्लिप रिंग</p>	2.0 0.00
Engineering Drawing			
46	46	<p>Which part regulates the heat in automatic iron? कौन सा भाग स्वचालित लोहे में गर्मी को नियंत्रित करता है?</p> <p>A1 Heating element : हीटिंग एलिमेंट</p> <p>A2 Pressure plate : प्रेशर प्लेट</p> <p>A3 Thermostatic switch : थर्मोस्टैटिक स्विच</p> <p>A4 Asbestos sheet : एस्बेस्टस शीट</p>	2.0 0.00
Engineering Drawing			
47	47	<p>Which is the static machine that increase or decrease the AC voltage? एसी वोल्टेज को बढ़ाने या घटाने वाली स्टेटिक मशीन कौन सी है?</p> <p>A1 Transformer : ट्रांसफार्मर</p> <p>A2 Generator : जनरेटर</p> <p>A3 Alternator : आल्टरनेटर</p> <p>A4 Induction motor : इंडक्शन मोटर</p>	2.0 0.00
Engineering Drawing			
48	48	<p>What is the material of line insulator? लाइन इन्सुलेटर की सामग्री क्या है?</p> <p>A1 Copper : ताँबा</p> <p>A2 Aluminium : अल्युमीनियम</p> <p>A3 Porcelain clay : प्रोसीलिन क्ले</p> <p>A4 Rubber : रबर</p>	2.0 0.00
Engineering Drawing			
49	49	Identify the wave form.	2.0 0.00

वेव फार्म को पहचानें



A1 Square wave

:

स्क्वेर वेव

A2 Sine wave

:

साइन वेव

A3 Triangle wave

:

त्रिकोण वेव

A4 Saw-tooth wave

:

सॉ-टूथ वेव

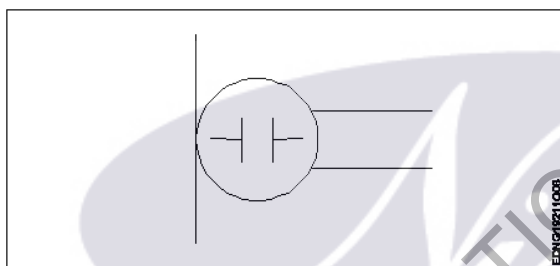
Engineering Drawing

50

50

What is the name of the symbol?

प्रतीक का नाम क्या है?



A1 Microphone

:

माइक्रोफोन

A2 Dynamic microphone

:

डायनामिक माइक्रोफोन

A3 Condenser microphone

:

कंडेंसर माइक्रोफोन

A4 Loud speaker

:

लाउड स्पीकर

Employability Skills

51

51

Which is the most essential skill to get a job?

नौकरी पाने के लिए सबसे जरूरी स्किल कौन सी है?

A1 Interview Skill

:

इंटरव्यू स्किल

A2 Translation Skill

:

ट्रांसलेशन स्किल

A3 Entrepreneurship Skill

:

एंटरप्रेन्योरशिप स्किल

A4 Learning more language skill

:

और अधिक भाषा कौशल सीखना

Employability Skills

52

52

For applying a job your first preparation is _____

2.0

0.00

		नौकरी के लिए आवेदन करने के लिए आपकी पहली तैयारी _____ है ।		
		A1 : book a ticket to interview place साक्षात्कार स्थल के लिए एक टिकट बुक करें A2 : save money for expenses खर्चों के लिए पैसे बचाएं A3 : preparing resume बायोडेटा तैयार करें A4 : prepare for interview इंटरव्यू के लिए तैयारी करें		
Employability Skills				
53	53	Campus recruitment is conducted at _____ कैम्पस भर्ती _____ में आयोजित की जाती है । A1 : capital city of the state राज्य की राजधानी में A2 : ITI ITI A3 : in a company कंपनी में A4 : on line ऑनलाइन	2.0	0.00
Employability Skills				
54	54	In your resume, which information has less importance? आपके बायोडेटा में कौन सी जानकारी कम महत्व रखती है? A1 : Qualification योग्यता A2 : Experience अनुभव A3 : Skill training completed पुरे हुए कौशल प्रशिक्षण A4 : Expected salary अपेक्षित वेतन	2.0	0.00
Employability Skills				
55	55	The ability to connect well with people _____ लोगों के साथ अच्छी तरह जुड़ने की क्षमता _____ है । A1 : interpersonal skill इंटरपर्सनल स्किल A2 : leadership लीडरशिप A3 : time management टाइम मैनेजमेंट A4 : creativity क्रिएटिविटी	2.0	0.00
Employability Skills				
56	56	The ability to wait and stay calm _____ प्रतीक्षा करने और शांत रहने की क्षमता _____ है ।	2.0	0.00

		<p>A1 : creativity क्रिएटिविटी</p> <p>A2 : problem solving प्रॉब्लम सॉल्विंग</p> <p>A3 : patience पेशेंस</p> <p>A4 : interpersonal skill इंटरपर्सनल स्किल</p>		
Employability Skills				
57	57	<p>Punctuality means _____ समय की पाबंदी का अर्थ _____ है।</p> <p>A1 : done by punching machine पंचिंग मशीन द्वारा किया गया है</p> <p>A2 : informal इनफॉर्मल</p> <p>A3 : politeness पलाइटनेस</p> <p>A4 : being on time समय पर होना</p>	2.0	0.00
Employability Skills				
58	58	<p>When you borrow a pen from your classmate, you should say? जब आप अपने सहपाठी से कलम उधार लेते हैं, तो आपको क्या कहना चाहिए?</p> <p>A1 : Give me your pen मुझे अपना पेन दो</p> <p>A2 : Can you please give me a pen क्या आप कृपया मुझे एक पेन दे सकते हैं</p> <p>A3 : I want a pen मुझे एक पेन चाहिए</p> <p>A4 : I take your pen मैं आपका पेन लेता हूँ</p>	2.0	0.00
Employability Skills				
59	59	<p>Magnificent, sharp, lengthy, bright, - are examples of _____ मैग्निफिकेंट, शार्प, लैन्थी, ब्राइट, - _____ के उदाहरण हैं</p> <p>A1 : describing words डिस्क्राइबिंग वर्ड्स</p> <p>A2 : action words एक्शन वर्ड्स</p> <p>A3 : nouns नाउन्स</p> <p>A4 : pronouns प्रोनाउन्स</p>	2.0	0.00
Employability Skills				
60	60	<p>Table, wire, socket, cable, hammer, nail - are _____ टेबल, तार, सॉकेट, केबल, हथौड़ा, कील _____ हैं।</p> <p>A1 : describing words</p>	2.0	0.00

		डिस्क्राइबिंग वर्ड्स A2 : pronouns प्रोनाउन A3 : naming words नेमिंग वर्ड्स A4 : action words एक्शन वर्ड्स		
Employability Skills				
61	61	Comma, full stop, question mark are examples of _____. कॉमा, फुल स्टॉप, क्वेश्चन मार्क _____ के उदाहरण हैं। A1 : design डिज़ाइन A2 : next paragraph नेक्स्ट पैराग्राफ A3 : formal communication फॉर्मल कम्युनिकेशन A4 : punctuation mark पंकचूएशन मार्क	2.0	0.00
Employability Skills				
62	62	When you start a discussion on a topic, what do you say? जब आप किसी विषय पर चर्चा आरंभ करते हैं तो आप क्या कहते हैं? A1 : Let you start आइए शुरू करें A2 : Let me say मुझे कहने दीजिये A3 : Let us discuss आइए चर्चा करें A4 : Let us finish आइए खत्म करें	2.0	0.00
Employability Skills				
63	63	While addressing your boss, you should be _____. अपने बॉस को सम्बोधित करते समय आपको _____ होना चाहिए। A1 : Impolite इम्पलीट A2 : Informal इनफॉर्मल A3 : Formal फॉर्मल A4 : Expressive एक्सप्रेसिव	2.0	0.00
Employability Skills				
64	64	You are requested to complete the given assignment by Monday This is an example of _____. आपसे अनुरोध है कि दिए गए कार्य को सोमवार तक पूरा करें। यह _____ का एक उदाहरण है। A1 : informal communication इनफॉर्मल कम्युनिकेशन	2.0	0.00

		<p>A2 : a request एक रिक्वेस्ट</p> <p>A3 : an order एक आर्डर</p> <p>A4 : formal communication फॉर्मल कम्युनिकेशन</p>		
Employability Skills				
65	65	<p>Gestures, facial expressions, eye contact are examples of _____ जेस्चर, फेसिअल एक्सप्रेसन, आइ कॉन्टैक्ट _____ के उदाहरण हैं।</p> <p>A1 : verbal communication वर्बल कम्युनिकेशन</p> <p>A2 : non-verbal communication नॉन-वर्बल कम्युनिकेशन</p> <p>A3 : oral communication ओरल कम्युनिकेशन</p> <p>A4 : written communication रिटेन कम्युनिकेशन</p>	2.0	0.00
Employability Skills				
66	66	<p>Hi, how are you, whats up, these are examples of _____ नमस्ते, आप कैसे हैं, क्या चल रहा है, ये _____ के उदाहरण हैं।</p> <p>A1 : formal communication फॉर्मल कम्युनिकेशन</p> <p>A2 : informal communication इनफॉर्मल कम्युनिकेशन</p> <p>A3 : polite communication पोलाइट कम्युनिकेशन</p> <p>A4 : impolite communication इम्पलाइट कम्युनिकेशन</p>	2.0	0.00
Employability Skills				
67	67	<p>Complete these sentence with suitable describing words The roads in my town are in _____ condition. इन वाक्यों को उपयुक्त वर्णनात्मक शब्दों से पूरा करें। The roads in my town are in _____ condition.</p> <p>A1 : good good</p> <p>A2 : expensive expensive</p> <p>A3 : beautiful beautiful</p> <p>A4 : safe safe</p>	2.0	0.00
Employability Skills				
68	68	<p>Complete the sentence with suitable describing words There is a _____ garden with lovely flowers. उचित वर्णनात्मक शब्दों से वाक्य पूरा करें। There is a _____ garden with lovely flowers.</p> <p>A1 : good good</p>	2.0	0.00

		<p>A2 : spacious</p> <p>spacious</p> <p>A3 : big</p> <p>big</p> <p>A4 : beautiful</p> <p>beautiful</p>		
Employability Skills				
69	69	<p>Complete the sentence with suitable describing words</p> <p>There is a _____ playground near our house.</p> <p>उपयुक्त वर्णनात्मक शब्दों से वाक्य पूरा करें।</p> <p>There is a _____ playground near our house.</p> <p>A1 : spacious</p> <p>spacious</p> <p>A2 : big</p> <p>big</p> <p>A3 : beautiful</p> <p>beautiful</p> <p>A4 : good</p> <p>good</p>	2.0	0.00
Employability Skills				
70	70	<p>Complete the sentence with suitable describing words.</p> <p>There are _____ apartments in my neighbourhood.</p> <p>उपयुक्त वर्णनात्मक शब्दों से वाक्य पूरा करें।</p> <p>There are _____ apartments in my neighbourhood.</p> <p>A1 : expensive</p> <p>expensive</p> <p>A2 : beautiful</p> <p>beautiful</p> <p>A3 : good</p> <p>good</p> <p>A4 : spacious</p> <p>spacious</p>	2.0	0.00
Employability Skills				
71	71	<p>Fill up the blanks with suitable words so as to become a meaningful sentence.</p> <p>The Principal called Manoj. The Principal asked _____ to show _____ hall ticket for the CTS Examination.</p> <p>रिक्त स्थानों को उचित शब्दों से भरें ताकि एक सार्थक वाक्य बन सके।</p> <p>The Principal called Manoj. The Principal asked _____ to show _____ hall ticket for the CTS Examination.</p> <p>A1 : him, his</p> <p>him, his</p> <p>A2 : him, her</p> <p>him, her</p> <p>A3 : her, his</p> <p>her, his</p> <p>A4 : her, him</p> <p>her, him</p>	2.0	0.00
Employability Skills				
72	72	<p>Fill up the blanks with suitable words so as to become a meaningful sentence</p> <p>"Tell us about a difficult situation you have _____ and how you _____ to come out of it."</p> <p>रिक्त स्थानों को उचित शब्दों से भरें ताकि एक सार्थक वाक्य बन सके।</p> <p>"Tell us about a difficult situation you have _____ and how you _____ to come out of it."</p>	2.0	0.00

		<p>A1 face, manage : face, manage</p> <p>A2 managed, face : managed, face</p> <p>A3 faced, manage : faced, manage</p> <p>A4 faced, managed : faced, managed</p>		
Employability Skills				
73	73	<p>Complete the sentence with suitable describing words There is a factory in the area. The air is _____. उचित वर्णनात्मक शब्दों से वाक्य पूरा करें। There is a factory in the area. The air is _____.</p> <p>A1 polluted : polluted</p> <p>A2 boring : boring</p> <p>A3 uneven : uneven</p> <p>A4 noisy : noisy</p>	2.0	0.00
Employability Skills				
74	74	<p>Complete the sentence with suitable describing words There is water scarcity in the locality. The area is _____. उचित वर्णनात्मक शब्दों से वाक्य पूरा करें। There is water scarcity in the locality. The area is _____.</p> <p>A1 uneven : uneven</p> <p>A2 noisy : noisy</p> <p>A3 dry : dry</p> <p>A4 boring : boring</p>	2.0	0.00
Employability Skills				
75	75	<p>Complete the sentence with suitable describing words The transportation to some rural areas is difficult as the roads are _____ उचित वर्णनात्मक शब्दों से वाक्य पूरा करें। The transportation to some rural areas is difficult as the roads are _____</p> <p>A1 dry : dry</p> <p>A2 polluted : polluted</p> <p>A3 boring : boring</p> <p>A4 uneven : uneven</p>	2.0	0.00

Wireman - 2nd Year - Set 1

S.No.	Correct Answer Key
1	A4
2	A4
3	A3
4	A4
5	A4
6	A3
7	A3
8	A1
9	A2
10	A1
11	A1
12	A2
13	A2
14	A4
15	A4
16	A2
17	A2
18	A4
19	A1
20	A4
21	A3
22	A4
23	A2
24	A3
25	A2
26	A1
27	A3
28	A3
29	A3
30	A1
31	A1
32	A1
33	A4
34	A1
35	A4
36	A4
37	A3
38	A1

S.No.	Correct Answer Key
39	A3
40	A4
41	A3
42	A1
43	A2
44	A1
45	A2
46	A3
47	A1
48	A3
49	A2
50	A3
51	A1
52	A3
53	A2
54	A4
55	A1
56	A3
57	A4
58	A2
59	A1
60	A3
61	A4
62	A3
63	A3
64	A4
65	A2
66	A2
67	A1
68	A4
69	A2
70	A4
71	A1
72	A4
73	A1
74	A3
75	A4

Note:

"In case answers found to be inaccurate due to typographical error or any other reason please sent mail to qbnimigrievance@gmail.com"