

All India Trade Test - 2024 for Craftsmen Training Scheme (CTS)

Trade Name: Wireman _ Year 1

Year: 1st Year

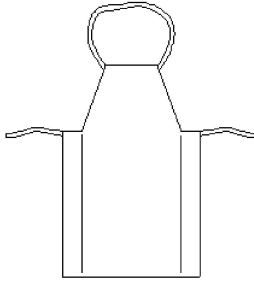
Exam Date :

Exam Time :

Note:

1. Tick the correct option out of four alternatives provided
2. All questions carry equal marks (2 Marks each)
3. There is no negative marking

Sr. No.	Client Question ID	Question Body and Alternatives	Marks	Negative Marks
Trade Theory				
1	1	<p>Which is the colour code of warning signs? कौन सा रंग कोड चेतावनी संकेत का है?</p> <p>A1 : White symbol on blue background नीले रंग की पृष्ठभूमि पर सफेद प्रतीक</p> <p>A2 : White symbol on green background हरे रंग की पृष्ठभूमि पर सफेद प्रतीक</p> <p>A3 : Red border and cross bar, black symbol on white लाल बॉर्डर और क्रॉस बार, सफेद पृष्ठभूमि पर काला प्रतीक</p> <p>A4 : Yellow background with black border and symbol काली बॉर्डर और प्रतीक के साथ पीले रंग की पृष्ठभूमि</p>	2.0	0.00
Trade Theory				
2	2	<p>Which category, the fire due to gas and Liquefied gas comes under? कौन-सी श्रेणी, गैस और द्रवीय ज्वलनशील गैस की वजह से आग के तहत आता है?</p> <p>A1 : Class 'C' fire Class 'C' fire</p> <p>A2 : Class 'A' fire Class 'A' fire</p> <p>A3 : Class 'D' fire Class 'D' fire</p> <p>A4 : Class 'B' fire Class 'B' fire</p>	2.0	0.00
Trade Theory				
3	3	<p>What are the factors that must be present in combination of fire? आग लगने में मौजूद होने वाले कारक क्या हैं?</p> <p>A1 : Fuel, heat and hydrogen ईंधन, गर्मी और हाइड्रोजन</p> <p>A2 : Fuel, temperature, hydrogen ईंधन, तापमान, हाइड्रोजन</p> <p>A3 : Fuel, hydrogen, oxygen ईंधन, हाइड्रोजन, ऑक्सीजन</p> <p>A4 : Fuel, heat and oxygen ईंधन, गर्मी और ऑक्सीजन</p>	2.0	0.00
Trade Theory				

4	4	<p>What is the name of PPE? सचित्र PPE का नाम क्या है?</p> <div data-bbox="451 157 1006 487" style="text-align: center;">  </div> <p>A1 : Apron एप्रॉन</p> <p>A2 : Leg guards लेग गार्ड</p> <p>A3 : Face shield मुखड़ा कवच</p> <p>A4 : Hand screen हाथ स्क्रीन</p>	2.0	0.00
Trade Theory				
5	5	<p>What is the meaning of safety? सुरक्षा का अर्थ क्या है?</p> <p>A1 : The occupational hazards व्यावसायिक खतरों</p> <p>A2 : Provide safe work environment सुरक्षित कार्य वातावरण प्रदान करें</p> <p>A3 : Giving first aid treatment to the victim पीड़ित को प्राथमिक चिकित्सा उपचार देते हुए</p> <p>A4 : The freedom (or) protection from harm, danger etc.. नुकसान, खतरे आदि से मुक्ति (या) सुरक्षा ..</p>	2.0	0.00
Trade Theory				
6	6	<p>Which Personal Protective Equipment (PPE) is used for eye protection? कौन सा व्यक्तिगत सुरक्षा उपकरण (PPE) नेत्र सुरक्षा के लिए इस्तेमाल किया है?</p> <p>A1 : Helmet हेलमेट</p> <p>A2 : Goggles चश्मे</p> <p>A3 : Nose mask नाक मुखौटा</p> <p>A4 : Leather aprons चमड़ा एप्रन</p>	2.0	0.00
Trade Theory				
7	7	<p>Which concept of 5s indicates standardization? 5s में से कौन सा अवधारणा मानकीकरण को इंगित करता है?</p>	2.0	0.00

A1 Step - 1

:

Step - 1

A2 Step - 2

:

Step - 2

A3 Step - 3

:

Step - 3

A4 Step - 4

:

Step - 4

Trade Theory

8

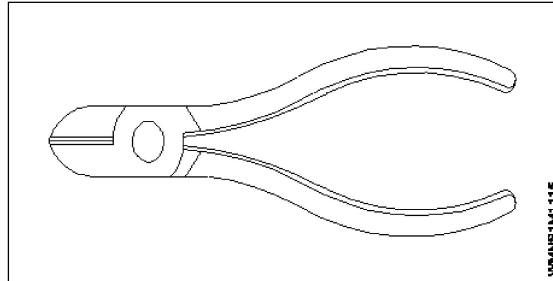
8

What is the name of the tool?

उपकरण का नाम क्या है?

2.0

0.00



A1 Combination plier

:

कम्बिनेसन प्लायर

A2 Wire stripper

:

बायर स्ट्रिपर

A3 Crimping tool

:

क्रिम्पिंग टूल

A4 Side cutter

:

साइड कटर

Trade Theory

9

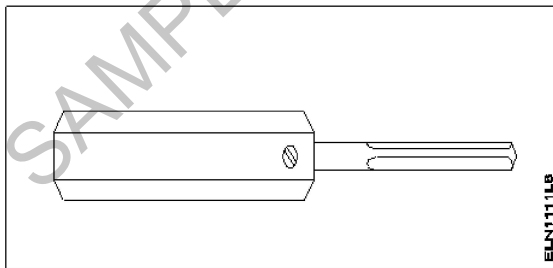
9

What is the name of the tool?

उपकरण का नाम क्या है?

2.0

0.00



A1 Poker

:

पोकर

A2 Gimlet

:

बरमाना

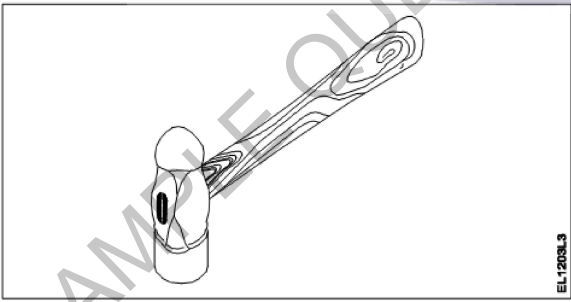
A3 Bradawl

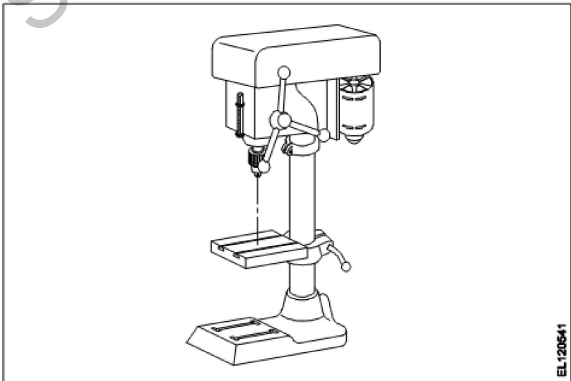
:

सूजा

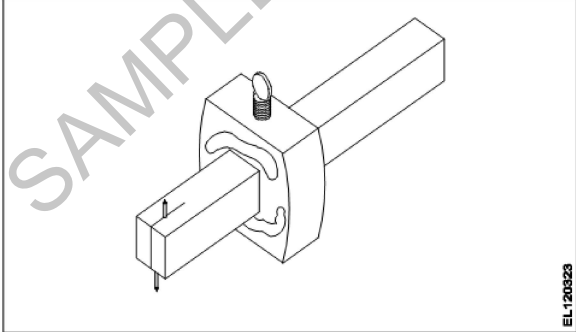
A4 Rawl plug tool



:

		रावलप्लग टूल		
		Trade Theory		
10	10	<p>In which type of hazard 'virus' will belong? किस प्रकार का खतरा 'वायरस' से संबंधित होगा?</p> <p>A1 Ergonomic : एग्रोनोमिक</p> <p>A2 Biological hazard : जैविक खतरा</p> <p>A3 Physiological hazard : शारीरिक खतरा</p> <p>A4 Chemical hazard : रासायनिक खतरा</p>	2.0	0.00
		Trade Theory		
11	11	<p>Which one is the example for chemical hazard? रासायनिक खतरे के लिए कौन सा उदाहरण है?</p> <p>A1 Fatigue : थकान</p> <p>A2 Bacteria : जीवाणु</p> <p>A3 Corrosive : कोरोशिव</p> <p>A4 Sickness : रोग</p>	2.0	0.00
		Trade Theory		
12	12	<p>What is the name of the hammer? हथौड़े का नाम क्या है?</p>  <p>A1 Claw hammer : क्लॉ हथौड़ा</p> <p>A2 Straight pein hammer : स्ट्रेट पेन हथौड़ा</p> <p>A3 Ball pein hammer : बाल पेन हथौड़ा</p> <p>A4 Cross pein hammer : क्रॉस पेन हथौड़ा</p>	2.0	0.00
		Trade Theory		
13	13	<p>How files are specified? फाइलों को निर्दिष्ट कर रहे हैं?</p>	2.0	0.00

		<p>A1 By length : लम्बाई द्वारा</p> <p>A2 By thickness : मोटाई द्वारा</p> <p>A3 By width : चौड़ाई द्वारा</p> <p>A4 By total length with handle : हैंडल के साथ कुल लंबाई तक</p>		
Trade Theory				
14	14	<p>What is the use of cross cut chisel? क्रॉस कट छेनी का उपयोग क्या है?</p> <p>A1 Cutting keyways : कीवेज़ को काटना</p> <p>A2 Cutting curved grooves : घुमावदार खांचे काटना</p> <p>A3 Squaring materials at corners : कोनों पर सामग्री चौकोर करना</p> <p>A4 Removing metal after chain drilling : लगातार ड्रिलिंग के बाद धातु निकालना</p>	2.0	0.00
Trade Theory				
15	15	<p>What purpose rough file is used? किस उद्देश्य के लिए रफ फाइल का उपयोग किया जाता है</p> <p>A1 High degree finishing : उच्च डिग्री फिनिशिंग</p> <p>A2 Good finishing purpose : अच्छा फिनिशिंग उद्देश्य के लिए</p> <p>A3 Removing less metal and good finish : अच्छी फिनिश के लिए कम धातु हटाना</p> <p>A4 Removing more quantity of metal quickly : धातु की अधिक मात्रा को जल्दी निकालना</p>	2.0	0.00
Trade Theory				
16	16	<p>What is the name of the drilling machine? ड्रिलिंग मशीन का नाम क्या है?</p> <div style="text-align: center;">  </div> <p>A1 Pillar drilling machine</p>	2.0	0.00

		<p>पिल्लर ड्रिलिंग मशीन A2 : Radial drilling machine</p> <p>रेडियल ड्रिलिंग मशीन A3 : Electric hand drilling machine</p> <p>इलेक्ट्रिक हैंड ड्रिलिंग मशीन A4 : Sensitive bench drilling machine</p> <p>सेंसेटिव बेंच ड्रिलिंग मशीन</p>		
Trade Theory				
17	17	<p>What is the use of bent snips? स्निप बेंच का उपयोग क्या है?</p> <p>A1 : To cut straight slot सीधे स्लॉट काटने के लिए</p> <p>A2 : To cut internal holes आंतरिक छिद्र काटने के लिए</p> <p>A3 : To cut external curves बाहरी कर्व काटने के लिए</p> <p>A4 : To cut internal curves आंतरिक कर्व काटने के लिए</p>	2.0	0.00
Trade Theory				
18	18	<p>What is the name of the tool? उपकरण का नाम क्या है?</p> <div style="text-align: center;">  </div> <p>A1 : Bent snip बेंच स्निप</p> <p>A2 : Straight snip स्ट्रेट स्निप</p> <p>A3 : Side cutting plier साइड कटिंग पिलायर</p> <p>A4 : Diagonal cutting plier डायगोनल कटिंग पिलायर</p>	2.0	0.00
Trade Theory				
19	19	<p>Which category of basic sign refers to avoid naked flame? बुनियादी संकेत में से कौन सा वर्ग नग्न लौ से बचने के लिए संदर्भित करता है?</p> <p>A1 : Warning signs चेतावनी के संकेत</p> <p>A2 : Mandatory signs अनिवार्य संकेत</p>	2.0	0.00

		<p>A3 Information signs : सूचना के संकेत</p> <p>A4 Prohibition signs : निषेध संकेत</p>		
Trade Theory				
20	20	<p>Which waste is used as a fuel for the Bio-gas power plant? बेकार जों बायो गैस बिजली संयंत्र के लिए ईंधन के रूप में प्रयोग किया जाता है?</p> <p>A1 Chemical waste : अपशिष्ट कचरे</p> <p>A2 Agricultural waste : कृषि अपशिष्ट</p> <p>A3 Waste produced from the water source : पानी के स्रोत से उत्पादित अपशिष्ट</p> <p>A4 Waste produced by the men and animal : पुरुषों और पशुओं के द्वारा उत्पादित अपशिष्ट</p>	2.0	0.00
Trade Theory				
21	21	<p>How hacksaw blades are specified? हेक्सा ब्लेड को कैसे निर्दिष्ट करते हैं?</p> <p>A1 Teeth per 10mm : दांत प्रति 10 mm</p> <p>A2 Teeth per 15mm : दांत प्रति 15 mm</p> <p>A3 Teeth per 20mm : दांत प्रति 20 mm</p> <p>A4 Teeth per 25mm : दांत प्रति 25 mm</p>	2.0	0.00
Trade Theory				
22	22	<p>What is the use of the carpenter tool? इस बढ़ई उपकरण का उपयोग क्या है?</p> <div style="text-align: center;">  <p style="text-align: right; font-size: small;">EL120323</p> </div> <p>A1 Marking lines parallel to face : फेस के समानांतर मार्किंग लाइने</p> <p>A2 Marking holes on wood : लकड़ी के होलो पर मार्किंग</p> <p>A3 Check the thickness of wood : लकड़ी की मोटाई की जाँच</p>	2.0	0.00

		A4 : Check the squareness of wood लकड़ी के वर्गाकारिता की जाँच		
Trade Theory				
23	23	<p>What is the name of safety sign? सुरक्षा चिन्ह का नाम क्या है?</p> <div style="text-align: center;">  </div> <p>A1 : Information sign सूचना चिह्न</p> <p>A2 : Warning sign चेतावनी चिह्न</p> <p>A3 : Prohibition sign निषेध चिह्न</p> <p>A4 : Mandatory sign अनिवार्य चिह्न</p>	2.0	0.00
Trade Theory				
24	24	<p>What is the name of the safety signs? सुरक्षा चिन्ह का नाम क्या है?</p> <div style="text-align: center;">  </div> <p>A1 : Warning sign चेतावनी चिह्न</p> <p>A2 : Information sign सूचना चिह्न</p> <p>A3 : Prohibition sign निषेध चिह्न</p> <p>A4 : Mandatory sign अनिवार्य चिह्न</p>	2.0	0.00
Trade Theory				
25	25	<p>What is the shape of prohibition signs? निषेध चिह्नों का आकार कैसा होता है?</p> <p>A1 : Triangular त्रिकोणीय</p> <p>A2 : Square वर्ग</p> <p>A3 : Circular वृत्ताकार</p> <p>A4 : Hexagon षट्भुज</p>	2.0	0.00

		Trade Theory			
26	26	<p>What is the name of the safety sign? सुरक्षा चिन्ह का नाम क्या है?</p>  <p>A1 Prohibition sign : निषेध चिह्न</p> <p>A2 Information sign : सूचना चिह्न</p> <p>A3 Warning sign : चेतावनी चिह्न</p> <p>A4 Mandatory sign : अनिवार्य चिह्न</p>	2.0	0.00	
		Trade Theory			
27	27	<p>Which disposal method of waste save a lot of energy? कचरे के निपटान की कौन सी विधि बहुत अधिक ऊर्जा बचाती है?</p> <p>A1 Incineration : भस्मीकरण</p> <p>A2 Landfill : लैंडफिल</p> <p>A3 Composting : खाद</p> <p>A4 Recycling : पुनर्चक्रण</p>	2.0	0.00	
		Trade Theory			
28	28	<p>Which is called valence electron in an atom? एक परमाणु में, वैलेंस इलेक्ट्रॉन किसे कहा जाता है?</p> <p>A1 Half the total No. of electron : कुल इलेक्ट्रॉन का आधा</p> <p>A2 No. of electron in middle orbit : मध्य कक्षा में इलेक्ट्रॉन की संख्या</p> <p>A3 No. of electron in inner most orbit : सबसे भीतरी कक्षा में इलेक्ट्रॉन की संख्या</p> <p>A4 No. of electron in the outer most orbit : सबसे बाहरी कक्षा में इलेक्ट्रॉन की संख्या</p>	2.0	0.00	
		Trade Theory			
29	29	<p>How many electrons are in a copper atom? कितने इलेक्ट्रॉन तांबे के परमाणु में होते हैं?</p> <p>A1 27 : 27</p> <p>A2 28 : 28</p>	2.0	0.00	

		A3 : 29 A4 : 30		
Trade Theory				
30	30	<p>How many number of electrons will move in one second for one ampere current through the conductor? कंडक्टर के माध्यम से एक एम्पियर करंट के लिए एक सेकंड में कितने इलेक्ट्रॉनों की संख्या होगी?</p> <p>A1 : 6.24 X 10¹⁵ 6.24 X 10¹⁵</p> <p>A2 : 6.24 X 10¹⁶ 6.24 X 10¹⁶</p> <p>A3 : 6.24 X 10¹⁷ 6.24 X 10¹⁷</p> <p>A4 : 6.24 X 10¹⁸ 6.24 X 10¹⁸</p>	2.0	0.00
Trade Theory				
31	31	<p>What is the property of direct current? डायरेक्ट करंट की विशेषता क्या है?</p> <p>A1 : Magnitude and direction of current changes with time परिमाण और करंट की दिशा समय के साथ परिवर्तित होती है</p> <p>A2 : Magnitude and direction of current remains constant परिमाण और करंट की दिशा स्थिर रहती है</p> <p>A3 : Direction of current changes with time धारा की दिशा समय के साथ परिवर्तन होती है</p> <p>A4 : Magnitude of current changes with time करंट का परिमाण समय के साथ परिवर्तित होता है</p>	2.0	0.00
Trade Theory				
32	32	<p>Which effect of electric current is used for the treatment of mental patient? मानसिक रोगी के उपचार के लिए विद्युत धारा के किस प्रभाव का उपयोग किया जाता है?</p> <p>A1 : Shock effect झटका प्रभाव</p> <p>A2 : Chemical effect रासायनिक प्रभाव</p> <p>A3 : Magnetic effect चुंबकीय प्रभाव</p> <p>A4 : Ionization effect आयनीकरण प्रभाव</p>	2.0	0.00
Trade Theory				
33	33	<p>What is the name of the effect, if the current is passed through the electrolyte? यदि इलेक्ट्रोलाइट के माध्यम से विद्युत प्रवाह पारित किया जाता है, तो प्रभाव का क्या नाम है?</p> <p>A1 : Heating ऊष्मीय</p> <p>A2 : Chemical रासायनिक</p>	2.0	0.00

A3
: Magnetic

चुंबकीय

A4
: Thermal

गतिक

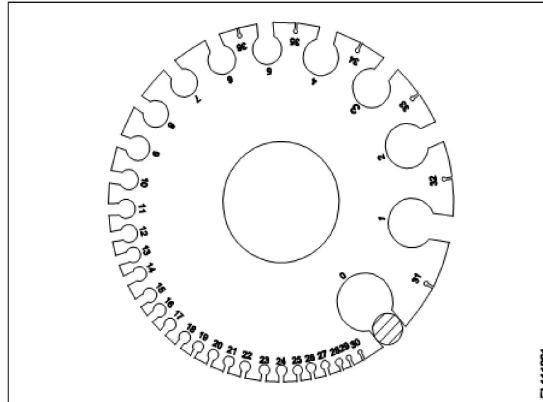
Trade Theory

34

34

What is the name of the measuring tool?

मापने उपकरण के नाम क्या है?



A1
: Outside micrometer

आउटसाईड माइक्रोमीटर

A2
: Inside micrometer

इनसाइड माइक्रोमीटर

A3
: Vernier Caliper

वर्नियर कैलीपर्स

A4
: Standard wire gauge

स्टैंडर्ड बायर गेज

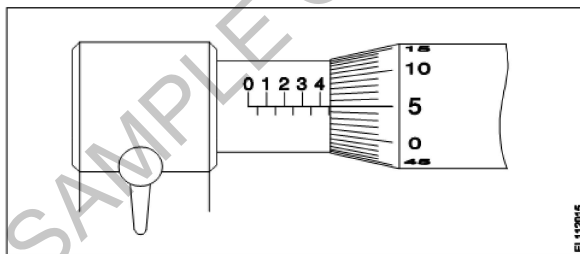
Trade Theory

35

35

What is the reading of the micrometer?

माइक्रोमीटर का पाठययाक क्या है?



A1
: 4.05 mm

4.05 mm

A2
: 4.15 mm

4.15 mm

A3
: 4.50 mm

4.50 mm

A4
: 4.55 mm

4.55 mm

Trade Theory

36

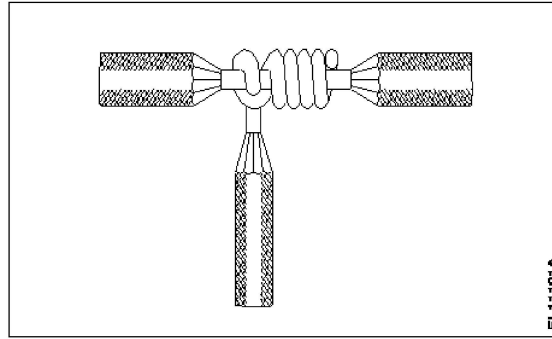
36

What is the name of the wire joint?

2.0

0.00

तार के जोड़ का नाम क्या है?



- A1
: Aerial tap joint
एरियल टेप जॉइंट
- A2
: 'T' joint
T' जॉइंट
- A3
: Knotted tap joint
नोटेड टेप जॉइंट
- A4
: Plain tap joint
सादा टेप जॉइंट

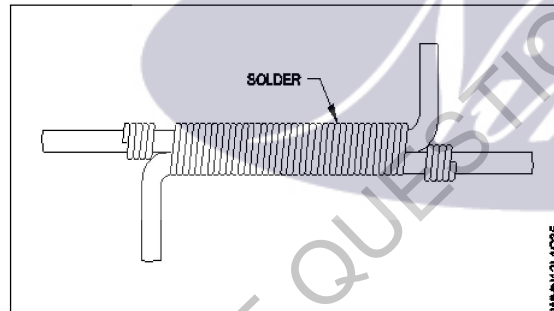
Trade Theory

37

37

What is the name of the wire joint?

तार जॉइंट का नाम क्या है?



- A1
: Britannia 'T' joint
ब्रिटैनिया 'T' जॉइंट
- A2
: Western union joint
वेस्टर्न यूनियन जॉइंट
- A3
: Britannia straight joint
ब्रिटैनिया स्ट्रेट जॉइंट
- A4
: Married joint
मैरिड जॉइंट

Trade Theory

38

38

Which type of joint is used in over head lines for extending the length of wire?

किस प्रकार के जॉइंट का ओवर हेड लाइनों में तार की लंबाई बढ़ाने के लिए प्रयोग किया जाता है?

- A1
: Scarfed joint
स्केड जॉइंट
- A2
: Britannia 'T' joint
ब्रिटैनिया 'T' जॉइंट

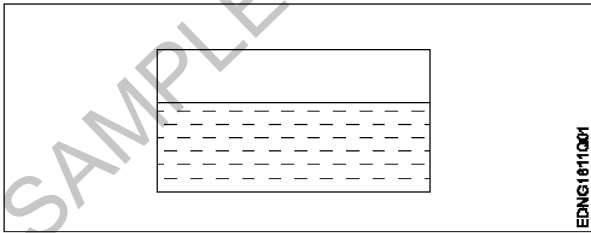
2.0

0.00

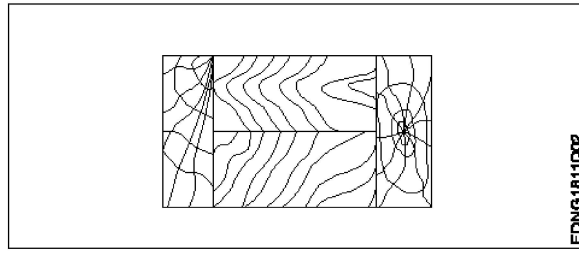
2.0

0.00

		<p>A3 Western union joint : वेस्टर्न यूनियन जॉइंट</p> <p>A4 Married joint : मेरिड जॉइंट</p>		
Workshop Calculation Science				
39	39	<p>What are the two classifications of system of units? इकाइयों की प्रणाली के दो प्रकार कौनसे हैं?</p> <p>A1 British and Metric : ब्रिटिश और मीट्रिक</p> <p>A2 Gravitational and non-gravitational : गुरुत्वाकर्षण और गैर-गुरुत्वाकर्षण</p> <p>A3 Fundamental and derived : मौलिक और व्युत्पन्न</p> <p>A4 Metric and International : मैट्रिक और इंटरनेशनल</p>	2.0	0.00
Workshop Calculation Science				
40	40	<p>What are fundamental units? इनमें से मूलभूत इकाइयाँ कौन-कौनसी हैं?</p> <p>A1 Length, Mass, Volume : लंबाई, द्रव्यमान, आयतन</p> <p>A2 Length, Mass, Time : लंबाई, द्रव्यमान, समय</p> <p>A3 Length, Mass, Area : लंबाई, द्रव्यमान, क्षेत्रफल</p> <p>A4 Length, Pressure, Volume : लंबाई, दाब, आयतन</p>	2.0	0.00
Workshop Calculation Science				
41	41	<p>What denotes letter 'M' in MKS system? MKS प्रणाली में 'M' अक्षर क्या दर्शाता है?</p> <p>A1 Mile : Mile</p> <p>A2 Meter : Meter</p> <p>A3 Millimeter : Millimeter</p> <p>A4 Micron : Micron</p>	2.0	0.00
Workshop Calculation Science				
42	42	<p>How many millimetres are there in 1 inch? 1 इंच में कितने मिलीमीटर होते हैं?</p> <p>A1 2.54 mm : 2.54 mm</p> <p>A2 25.4 mm : 25.4 mm</p>	2.0	0.00

		A3 24.5 mm : 24.5 mm A4 2.45 mm : 2.45 mm		
Workshop Calculation Science				
43	43	What is the square of 0.01? 0.01 का वर्ग क्या है? A1 0.001 : 0.001 A2 0.0001 : 0.0001 A3 0.00001 : 0.00001 A4 0.000001 : 0.000001	2.0	0.00
Workshop Calculation Science				
44	44	Convert 0.456 decimal fraction into percentage? 0.456 दशमलव भिन्न को प्रतिशत में बदलिये? A1 45.6% : 45.6% A2 4.56% : 4.56% A3 0.456% : 0.456% A4 0.0456% : 0.0456%	2.0	0.00
Engineering Drawing				
45	45	Identify the conventional symbol of material? चित्र में दिखाए गए सामग्री के पारंपरिक प्रतीक का पता लगाएं? 	2.0	0.00
Engineering Drawing				
46	46	Identify the conventional symbol of material?	2.0	0.00

चित्र में दिखाए गए सामग्री के पारंपरिक प्रतीक का पता लगाएं?



A1 Lead

:

लेड

A2 Glass

:

कांच

A3 Wood

:

लकड़ी

A4 Paper

:

कागज़

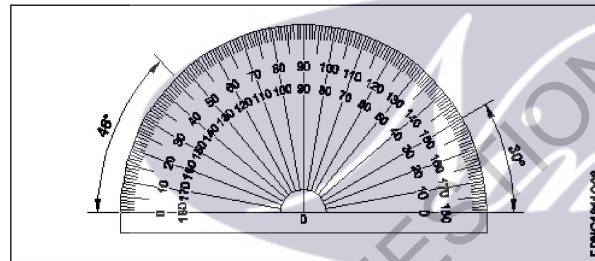
Engineering Drawing

47

47

Identify the name of instrument?

चित्र में दिखाए गए उपकरणों के नाम की पहचान करें?



A1 Set square

:

गुनिया

A2 Protractor

:

चांदा

A3 French curve

:

फ्रांसीसी वक्र

A4 T' square

:

टी स्क्वायर

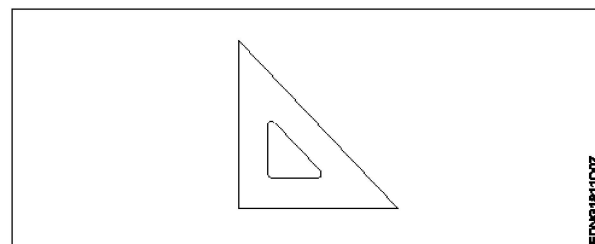
Engineering Drawing

48

48

Identify the name of set square?

सेट स्क्वायर का नाम खोजें?



2.0

0.00

2.0

0.00

- A1
: 15° set square
15° सेट स्कायर
- A2
: 60° set square
60° सेट स्कायर
- A3
: 30° set square
30° सेट स्कायर
- A4
: 45° set square
45° सेट स्कायर

Engineering Drawing

49 49

Compass used to draw for ____.
कम्पास का उपयोग ____ को ड़ा करने के लिए किया जाता है.

2.0

0.00

- A1 rectangle
: आयत
- A2 square
: वर्ग
- A3 circle
: वृत्त
- A4 triangle
: त्रिकोण

Engineering Drawing

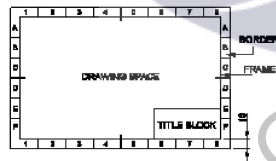
50 50

Which title block position is correct as standard practice?
एक मानक अभ्यास के रूप में कौन सी शीर्षक ब्लॉक स्थिति सही है?

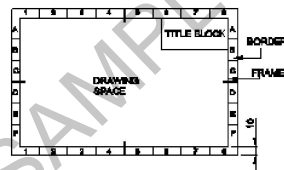
2.0

0.00

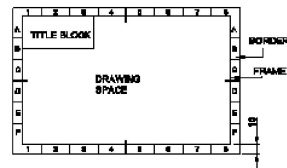
A1
:



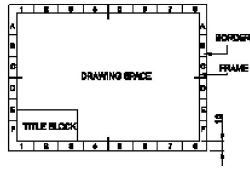
A2
:



A3
:



A4
:



		Employability Skills			
51	51	<p>To be in a job or work is..... नौकरी या काम में होना है</p> <p>A1 Employ : रोजगार</p> <p>A2 Skill : कौशल</p> <p>A3 Knowledge : ज्ञान</p> <p>A4 Aptitude : योग्यता</p>	2.0	0.00	
		Employability Skills			
52	52	<p>The ability to do is..... करने की क्षमता है।</p> <p>A1 Knowledge : ज्ञान</p> <p>A2 Experience : अनुभव</p> <p>A3 Skill : कौशल</p> <p>A4 Job : काम</p>	2.0	0.00	
		Employability Skills			
53	53	<p>A person with a growth mindset is always willing to..... एक विकास मानसिकता वाला व्यक्ति हमेशा तैयार रहता है।</p> <p>A1 relax : आराम करने में</p> <p>A2 grow, change, learn : बढ़ो, बदलो, सीखो</p> <p>A3 keep quiet : चुप रहने में</p> <p>A4 become rich : अमीर बनने</p>	2.0	0.00	
		Employability Skills			
54	54	<p>Jobs that have become outdated in the past 5 years.... नौकरियां जो पिछले 5 वर्षों में पुरानी हो गई हैं।</p> <p>A1 STD booth : STD बूथ</p> <p>A2 ola :</p>	2.0	0.00	

		<p>ओला A3 : uber उबेर A4 : swiggy Swiggy</p>		
Employability Skills				
55	55	<p>21st century workplace skills help you to get employed..... 21वीं सदी के कार्यस्थल कौशल आपको रोजगार पाने में मदद करते हैं.....।</p> <p>A1 : very difficult बहुत कठिन</p> <p>A2 : even job market keep changing यहां तक कि जॉब मार्केट भी बदलता रहता है</p> <p>A3 : only when market is growing केवल जब बाजार बढ़ रहा है</p> <p>A4 : only with higher qualification केवल उच्च योग्यता के साथ</p>	2.0	0.00
Employability Skills				
56	56	<p>Ethics means नैतिकता का अर्थ है....।</p> <p>A1 : decide what is right and wrong for a human conduct तय करें कि मानव आचरण के लिए क्या सही है और क्या गलत</p> <p>A2 : name of a city एक शहर का नाम</p> <p>A3 : employability skills रोजगार कौशल</p> <p>A4 : not relevant to society समाज से संबंधित नहीं है</p>	2.0	0.00
Employability Skills				
57	57	<p>Values are..... मान हैं।</p> <p>A1 : not punctual समयनिष्ठ नहीं</p> <p>A2 : Motivates our attitude and action हमारे दृष्टिकोण और कार्रवाई को प्रेरित करता है</p> <p>A3 : very costly बहुत कीमती</p> <p>A4 : all have same value सभी का मूल्य समान है</p>	2.0	0.00
Employability Skills				
58	58	<p>..... is a brief statement about purpose and principles of the Constitution.संविधान के उद्देश्य और सिद्धांतों के बारे में संक्षिप्त विवरण है।</p> <p>A1 : Syllabus पाठ्यक्रम</p> <p>A2 : Module</p>	2.0	0.00

		मापांक A3 The Preamble : प्रस्तावना A4 Unit : इकाई		
Employability Skills				
59	59	Identify the improper term..... अनुचित पद को पहचानिए। A1 green pollution : हरित प्रदूषण A2 water pollution : जल प्रदूषण A3 air pollution : वायु प्रदूषण A4 sound pollution : ध्वनि प्रदूषण	2.0	0.00
Employability Skills				
60	60	People from all religions or no religions are treated equally means..... सभी धर्मों या किसी भी धर्म के लोगों के साथ समान व्यवहार नहीं किया जाता हैसेक्युलर देश A1 democratic : जनतांत्रिक A2 religious : धार्मिक A3 non secular : गैर धर्मनिरपेक्ष A4 secular Country : धर्मनिरपेक्ष देश	2.0	0.00
Employability Skills				
61	61 is major changes takes place in manufacturing. मैनुफैक्चरिंग में प्रमुख परिवर्तन होते हैं। A1 Green revolution : हरित क्रांति A2 Industry revolution : उद्योग क्रांति A3 Water revolution : जल क्रांति A4 Food revolution : खाद्य क्रांति	2.0	0.00
Employability Skills				
62	62	1st industrial revolution started in..... पहली औद्योगिक क्रांति की शुरुआत। A1 18th century : 18 वीं सदी A2 19th century :	2.0	0.00

		<p>19 वीं सदी A3 20th century :</p> <p>20 वीं सदी A4 21st century :</p> <p>21 वीं सदी</p>		
Employability Skills				
63	63	<p>Hard Skill..... कठिन कौशल.....।</p> <p>A1 quick learner : त्वरित शिक्षार्थी</p> <p>A2 time management : समय प्रबंधन</p> <p>A3 60 WPM typing speed : 60 WPM टाइपिंग स्पीड</p> <p>A4 spoken English : मौखिक अंग्रेजी</p>	2.0	0.00
Employability Skills				
64	64	<p>To grow yourself you must..... अपने आप को विकसित करने के लिए आपको चाहिए।</p> <p>A1 know your office : अपने कार्यालय को जानें</p> <p>A2 know yourself : खुद को जानें</p> <p>A3 know your institute : अपने संस्थान को जानें</p> <p>A4 know your country : अपने देश को जानो</p>	2.0	0.00
Employability Skills				
65	65	<p>Time management..... समय प्रबंधन.....।</p> <p>A1 complete your task on time : अपना कार्य समय पर पूरा करें</p> <p>A2 managing time : प्रबंधन समय</p> <p>A3 hard skill : कठिन कौशल</p> <p>A4 problem solving : समस्या को सुलझाना</p>	2.0	0.00
Employability Skills				
66	66	<p>A resume should be _____; एक रिज्यूम _____ होना चाहिए</p> <p>A1 short and precise : छोटा और सटीक</p> <p>A2 fancy and colourful : सजावटी और रंगीन</p>	2.0	0.00

		<p>फैसी और रंगीन</p> <p>A3 : having long and detailed information</p> <p>लंबी और विस्तृत जानकारी होना</p> <p>A4 : having acronyms and abbreviation</p> <p>समरूप और संक्षिप्त नाम होना</p>		
Employability Skills				
67	67	<p>A written description of duties and responsibilities to be carried out in a job is called _____.</p> <p>किसी कार्य में किए जाने वाले कर्तव्यों और जिम्मेदारियों का लिखित विवरण _____ कहा जाता है</p> <p>A1 : CV</p> <p>CV</p> <p>A2 : job description</p> <p>नौकरी का विवरण</p> <p>A3 : resume</p> <p>रिज्यूम</p> <p>A4 : job application</p> <p>नौकरी के लिए आवेदन</p>	2.0	0.00
Employability Skills				
68	68	<p>After receiving interview call, what is the next step?</p> <p>साक्षात्कार कॉल प्राप्त करने के बाद, अगला कदम क्या है?</p> <p>A1 : Send application letter</p> <p>आवेदन पत्र भेजें</p> <p>A2 : Prepare the resume</p> <p>रिज्यूम तैयार करें</p> <p>A3 : Appear at interview</p> <p>साक्षात्कार में में जाये</p> <p>A4 : Send resume</p> <p>रिज्यूम भेजे</p>	2.0	0.00
Employability Skills				
69	69	<p>Choose suitable "wh" word for the given sentence. " _____ animal do you like?"</p> <p>दिए गए वाक्य के लिए उपयुक्त "wh" शब्द चुनें। " _____ animal do you like?"</p> <p>A1 : Which</p> <p>Which</p> <p>A2 : Why</p> <p>Why</p> <p>A3 : Where</p> <p>Where</p> <p>A4 : When</p> <p>When</p>	2.0	0.00
Employability Skills				
70	70	<p>Choose the correct punctuation mark after the word "Rohan" in the given sentence. "Rohan David and Ram are playing hide and seek"</p> <p>दिए गए वाक्य में शब्द "रोहन" के बाद सही विराम चिह्न चुनें। "Rohan David and Ram are playing hide and seek"</p> <p>A1 : Comma (,)</p> <p>अल्पविराम (,)</p> <p>A2 : Period (.)</p>	2.0	0.00

		अवधि () A3 Slash (/) : स्लैश (/) A4 Hyphen (-) : हाइफ़न (-)		
Employability Skills				
71	71	Choose the correct response for the given question. "How have you been"? दिए गए प्रश्न के लिए सही उत्तर चुनिए। "How have you been"? A1 : Very well, And you? : Very well, And you? A2 : Thank you_ And you? : Thank you_ And you? A3 : Same to you : Same to you A4 : On vacation_ And you? : On vacation_ And you?	2.0	0.00
Employability Skills				
72	72	Choose the correct response of the given question. "When did the accident happen"? दिए गए प्रश्न की सही प्रतिक्रिया चुनिए। "When did the accident happen"? A1 : in the hotel : in the hotel A2 : during travelling : during travelling A3 : At 10:30 last night : At 10:30 last night A4 : On the table : On the table	2.0	0.00
Employability Skills				
73	73	Choose the correct tense of the verb. "I _____ music when I was child" क्रिया का सही काल चुनिए। "I _____ music when I was child" A1 : learn : learn A2 : am learning : am learning A3 : will learn : will learn A4 : learnt : learnt	2.0	0.00
Employability Skills				
74	74	Curriculum vitae is also known as _____ . Curriculum vitae को _____ के रूप में भी जाना जाता है। A1 : circular : परिपत्र A2 : resume : रिज्यूम	2.0	0.00

		<p>A3 job application form : नौकरी के लिए आवेदन पत्र</p> <p>A4 leave application : छुट्टी की अर्जी</p>		
Employability Skills				
75	75	<p>Fill in the blank with comparative adjective. "Your pencil is _____ than mine" तुलनात्मक विशेषण के साथ रिक्त स्थान भरें। "Your pencil is _____ than mine"</p> <p>A1 sharp : sharp</p> <p>A2 sharper : sharper</p> <p>A3 blunt : blunt</p> <p>A4 thick : thick</p>	2.0	0.00



 SAMPLE QUESTION PAPER SET 1

Wireman - 1st year (Eng) SET 1

Question Number	Correct Alternative position
1	A4
2	A1
3	A4
4	A1
5	A4
6	A2
7	A4
8	A4
9	A4
10	A2
11	A3
12	A3
13	A1
14	A1
15	A4
16	A4
17	A4
18	A2
19	A4
20	A4
21	A4
22	A1
23	A4
24	A2
25	A3
26	A1
27	A4
28	A4
29	A3
30	A4
31	A2
32	A1
33	A2
34	A4
35	A4
36	A3
37	A3
38	A3
39	A3
40	A2
41	A2
42	A2
43	A2
44	A1
45	A1

46	A3
47	A2
48	A4
49	A3
50	A1
51	A1
52	A3
53	A2
54	A1
55	A2
56	A1
57	A2
58	A3
59	A1
60	A4
61	A2
62	A1
63	A3
64	A2
65	A1
66	A1
67	A2
68	A3
69	A1
70	A1
71	A1
72	A3
73	A4
74	A2
75	A2

KEY ANSWER SET ↑