

ALL INDIA TRADE TEST - 2024 FOR CRAFTSMEN
TRAINING SCHEME (CTS)
Trade Name: Mechanic Diesel
Year: 1st Year

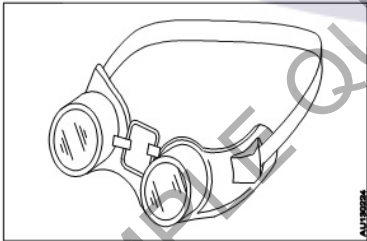
Exam Date :

Exam Time :

Note:

1. Tick the correct option out of four alternatives provided
2. All questions carry equal marks (2 Marks each)
3. There is no negative marking

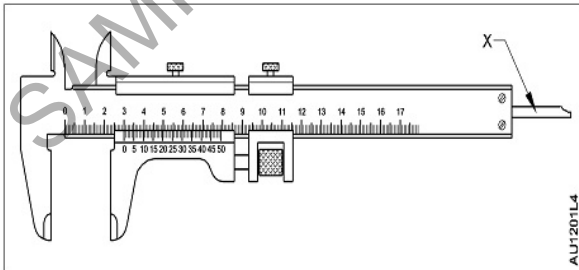
Sr. No.	Q ID	Question Body and Alternatives	Marks	Negative Marks
Trade Theory				
1	1	<p>Which is a chemical hazard? रासायनिक खतरा कौन सा है?</p> <p>A1 : Noise शोर</p> <p>A2 : Explosive विस्फोटक</p> <p>A3 : Vibration कंपन</p> <p>A4 : Radiation विकिरण</p>	2.0	0.00
Trade Theory				
2	2	<p>What is the need for occupational health and safety? व्यावसायिक स्वास्थ्य और सुरक्षा की क्या आवश्यकता है?</p> <p>A1 : Decreases employee morale कर्मचारी का मनोबल घटता है</p> <p>A2 : Decreases the quality गुणवत्ता घटती है</p> <p>A3 : Reduces absenteeism अनुपस्थिति घटती है</p> <p>A4 : Reduces productivity उत्पादकता घटती है</p>	2.0	0.00
Trade Theory				
3	3	<p>Which is a Biological hazard? बायोलॉजिकल खतरा कौन सा है?</p> <p>A1 : Smoking धूम्रपान</p> <p>A2 : Sickness रोग</p> <p>A3 : Infection संक्रमण</p> <p>A4 : Poor discipline</p>	2.0	0.00

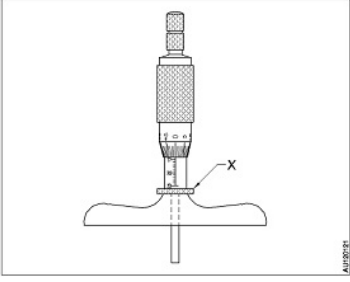
		गरीब अनुशासन		
		Trade Theory		
4	4	<p>Which waste oil is harmful to the environment? किस प्रकार का अपशिष्ट ऑयल पर्यावरण के लिए हानिकारक है?</p> <p>A1 : Neem oil नीम ऑयल</p> <p>A2 : Gingelly oil गिंगली ऑयल</p> <p>A3 : Used engine oil यूज्ड इंजन ऑयल</p> <p>A4 : Coconut oil कोकोनट ऑयल</p>	2.0	0.00
		Trade Theory		
5	5	<p>What is the effect of air borne dust on human health? हवा में उड़ने वाली धूल का मानव स्वास्थ्य पर क्या प्रभाव पड़ता है?</p> <p>A1 : Calora कैलोरा</p> <p>A2 : Death मौत</p> <p>A3 : Throat infection गले में तकलीफ</p> <p>A4 : Rise in blood pressure रक्तचाप में वृद्धि</p>	2.0	0.00
		Trade Theory		
6	6	<p>What is the name of the safety device shown in the figure? चित्र में दिखाए गए सुरक्षा उपकरण का नाम क्या है?</p>  <p>A1 : Goggles गॉगल्स</p> <p>A2 : Hand gloves हाथ के दस्ताने</p> <p>A3 : Hand screen हाथ की स्क्रीन</p> <p>A4 : Helmet screen हेलमेट स्क्रीन</p>	2.0	0.00
		Trade Theory		
7	7	<p>When this part of the body bleeds profusely, it is considered serious and needs professional attention? जब शरीर के इस हिस्से से खून बहता है, तो इसे गंभीर माना जाता है और पेशेवर ध्यान देने की आवश्यकता होती है?</p> <p>A1 : Leg पैर</p>	2.0	0.00

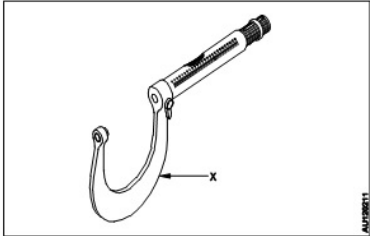
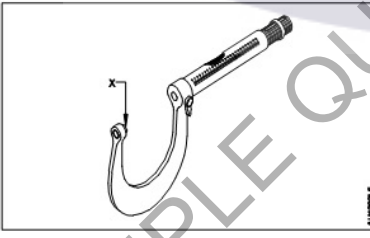
		A2 Knee : घुटना A3 Wrist : कलाई A4 Thigh : जाँघ		
Trade Theory				
8	8	What is the treatment for burnt and scalded hands? जले और झुलसे हुए हाथों का इलाज क्या है? A1 Blow hot air on the burnt hand : जले हुए हाथ को गर्म हवा दें A2 Blow cool air on the burnt hand : जले हुए हाथ को ठंडी हवा दें A3 Wash burnt hand with cold water : जले हुए हाथ को ठंडे पानी से ढकें A4 Wash burnt hand with hot water : जले हुए हाथ को गर्म पानी से ढकना	2.0	0.00
Trade Theory				
9	9	What should be done if an electric shock victim is unable to release his grip from the conductor? यदि बिजली का झटका पीड़ित चालक से अपनी पकड़ को मुक्त करने में असमर्थ है तो क्या किया जाना चाहिए? A1 Turn off the power : बिजली बंद करें A2 Cover all burns with a dry loose dressing : एक सूखी ढीली ड्रेसिंग के साथ सभी जले को कवर करें A3 Place the victim on one side with head down : पीड़ित को सिर के नीचे एक तरफ रखें A4 Ask a bystander to help you to move the victim : पीड़ित को स्थानांतरित करने में आपकी मदद करने के लिए एक दर्शक से पूछें	2.0	0.00
Trade Theory				
10	10	How are waste oils disposed? अपशिष्ट तेलों का निस्तारण कैसे किया जाता है? A1 Hand over back to the customer : ग्राहक को वापस सौंप दें A2 Throw the removed oil in the drain : हटाए गए तेल को नाली में फेंक दें A3 Keep in small containers in remote corners : दूरदराज के कोनों में छोटे कंटेनरों में रखें A4 Dispose it to licensed vendors : इसे लाइसेंस प्राप्त विक्रेताओं को बेच दें	2.0	0.00
Trade Theory				
11	11	Which occupational health hazards involves "Toxic"? किन व्यावसायिक स्वास्थ्य खतरों में "विषाक्त" शामिल है? A1 Physical hazard : शारीरिक जोखिम	2.0	0.00

		A2 Chemical hazard : रासायनिक खतरा A3 Electrical hazard : विद्युत खतरा A4 Mechanical hazard : यांत्रिक खतरा		
Trade Theory				
12	12	Which safety involves wearing shoes in workshop? वर्कशॉप में जूते पहनने से कौन सी सुरक्षा होती है? A1 General safety : सामान्य सुरक्षा A2 Personal safety : व्यक्तिगत सुरक्षा A3 Machine safety : मशीन की सुरक्षा A4 Material safety : सामग्री सुरक्षा	2.0	0.00
Trade Theory				
13	13	What is the aim of first aid? प्राथमिक चिकित्सा का उद्देश्य क्या है? A1 Vaccination : टीकाकरण A2 Preserve life : जीवन की रक्षा A3 Prolong treatment : उपचार को लम्बा करना A4 Prevent accident : दुर्घटना को रोकना	2.0	0.00
Trade Theory				
14	14	Which is the occupational mechanical hazard? व्यावसायिक यांत्रिक खतरा कौन सा है? A1 Sickness : रोग A2 Current leakage : वर्तमान रिसाव A3 Unguarded machinery : गैर-पंजीकृत मशीनरी A4 Wrong layout of machinery : मशीनरी का गलत लेआउट	2.0	0.00
Trade Theory				
15	15	Which type of personal protection is recommended to handle the loads with rough surfaces and pointed projections? खुरदुरी सतहों और नुकीले प्रक्षेपणों वाले भार को संभालने के लिए किस प्रकार की व्यक्तिगत सुरक्षा की सिफारिश की जाती है? A1 Paper gloves : कागज के दस्ताने	2.0	0.00

		A2 Rubber gloves : रबड़ के दस्ताने A3 Leather gloves : चमड़ा के दस्ताने A4 Polythene gloves : पॉलिथीन के दस्ताने		
Trade Theory				
16	16	Which PPE is used for nose protection? नाक की सुरक्षा के लिए किस PPE का उपयोग किया जाता है? A1 Gloves : दस्ताने A2 Goggles : चश्मे A3 Apron : एप्रन A4 Mask : मुखौटा	2.0	0.00
Trade Theory				
17	17	Which PPE is used for body protection? शरीर की सुरक्षा के लिए किस PPE का उपयोग किया जाता है? A1 Leather apron : लेदर एप्रन A2 Weld screen : वेल्ड स्क्रीन A3 Boot : बूट A4 Helmet : हेलमेट	2.0	0.00
Trade Theory				
18	18	Which PPE is used to protect from hot particles hazard? गर्म कणों के खतरे से बचाने के लिए किस PPE का उपयोग किया जाता है? A1 Ear plug : कान के प्लग A2 Nose mask : नाक का मुखौटा A3 Leather apron : लेदर एप्रन A4 Gum boots : गम बूट	2.0	0.00
Trade Theory				
19	19	Which PPE is used to prevent toxic fumes? विषाक्त धुएँ को रोकने के लिए किस PPE का उपयोग किया जाता है? A1 Hand screen : हाथ की स्क्रीन	2.0	0.00

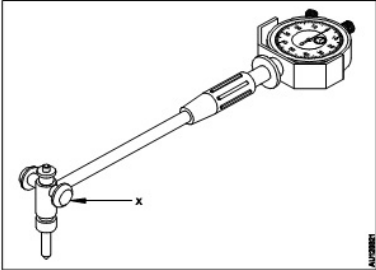
		<p>A2 Respiration pad : श्वसन पैड</p> <p>A3 Goggles : चश्मे</p> <p>A4 Apron : एप्रन</p>		
Trade Theory				
20	20	<p>What is the benefits of 5s concept? 5S अवधारणा के लाभ क्या हैं?</p> <p>A1 Increase the cost : लागत बढ़ाओ</p> <p>A2 Reduce absenteeism : अनुपस्थिति कम करें</p> <p>A3 Prevent accident : दुर्घटना रोकें</p> <p>A4 Increase productivity : उत्पादकता में वृद्धि</p>	2.0	0.00
Trade Theory				
21	21	<p>What is the first aid for severe bleeding? गंभीर रक्तस्राव के लिए प्राथमिक चिकित्सा क्या है?</p> <p>A1 Lower the injured body : घायल शरीर को नीचे करें</p> <p>A2 Apply pressure to the wound : घाव पर दबाव डालें</p> <p>A3 Apply hot water : गर्म पानी लगाएं</p> <p>A4 Rubbing with alcohol : शराब से मलना</p>	2.0	0.00
Trade Theory				
22	22	<p>What is the name of the part marked as "X" shown in the figure? चित्र में दिखाए गए "X" से चिह्नित भाग का नाम क्या है?</p>  <p>A1 Beam : किरण</p> <p>A2 Fixed jaw : निश्चित जबड़ा</p> <p>A3 Vernier scale : वर्नियर पैमाना</p> <p>A4 Depth measuring blade :</p>	2.0	0.00

		गहराई मापने वाला ब्लेड		
		Trade Theory		
23	23	<p>What is the name of the part marked as "X" shown in the figure?</p> <p>चित्र में दिखाए गए "X" से चिह्नित भाग का नाम क्या है?</p>  <p>A1 Cap : टोपी</p> <p>A2 Lock : ताला</p> <p>A3 Stock : भण्डार</p> <p>A4 Graduated sleeve : स्नातक की उपाधि प्राप्त की</p>	2.0	0.00
		Trade Theory		
24	24	<p>Which is the least count of the metric outside micrometer?</p> <p>माइक्रोमीटर के बाहरी मीट्रिक की न्यूनतम गणना कौन सी है?</p> <p>A1 0.01 mm : 0.01 mm</p> <p>A2 0.10 mm : 0.10 mm</p> <p>A3 0.0001 mm : 0.0001 mm</p> <p>A4 0.00001 mm : 0.00001 mm</p>	2.0	0.00
		Trade Theory		
25	25	<p>Which part ensures uniform pressure on the measuring faces in the outside micrometer?</p> <p>कौन सा हिस्सा बाहरी माइक्रोमीटर में मापने वाले चेहरों पर समान दबाव सुनिश्चित करता है?</p> <p>A1 Barrel : बैरल</p> <p>A2 Spindle : धुरा</p> <p>A3 Thimble : नोक</p> <p>A4 Ratchet stop : शाफ्ट स्लोप</p>	2.0	0.00
		Trade Theory		
26	26	<p>Which is the fixed measuring face of a micrometer?</p> <p>माइक्रोमीटर का निश्चित मापने वाला चेहरा कौन सा है?</p> <p>A1 Anvil : निहाई</p>	2.0	0.00

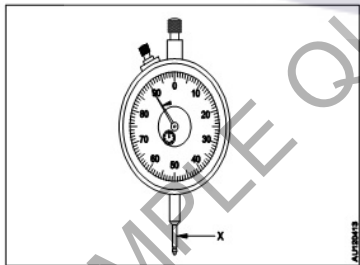
		A2 Barrel : बैरल A3 Spindle : धुरा A4 Thimble : नोक		
Trade Theory				
27	27	What is the name of the part marked as "X" shown in the figure? चित्र में दिखाए गए "X" से चिह्नित भाग का नाम क्या है? 	2.0	0.00
		A1 Anvil : निहाई A2 Frame : ढांचा A3 Spindle : धुरा A4 Thimble : नोक		
Trade Theory				
28	28	What is the name of the part marked as "X" shown in the figure? चित्र में दिखाए गए "X" से चिह्नित भाग का नाम क्या है? 	2.0	0.00
		A1 Anvil : निहाई A2 Frame : ढांचा A3 Spindle : धुरा A4 Thimble : नोक		
Trade Theory				
29	29	What is the value of one thimble division reading in an outside micrometer? बाहरी माइक्रोमीटर में एक थिम्बल डिवीजन रीडिंग का मान क्या है? A1 0.05 mm : 0.05 mm	2.0	0.00

- A2 0.01 mm
:
0.01 mm
- A3 0.02 mm
:
0.02 mm
- A4 0.03 mm
:
0.03 mm

Trade Theory

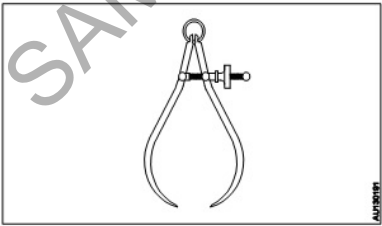
30	30	<p>What is the name of the part marked as "X" shown in the figure?</p> <p>चित्र में दिखाए गए "X" से चिह्नित भाग का नाम क्या है?</p>  <p>A1 Spindle : धुरा</p> <p>A2 Plunger : सवार</p> <p>A3 Center shoes : सेंटर शूज</p> <p>A4 Fixed anvil insert : फिक्स्ड एनविल इन्सर्ट</p>	2.0	0.00
----	----	---	-----	------

Trade Theory

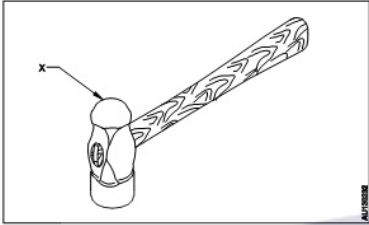
31	31	<p>What is the name of the part marked as "X" shown in the figure?</p> <p>चित्र में दिखाए गए "X" से चिह्नित भाग का नाम क्या है?</p>  <p>A1 Anvil : निहाई</p> <p>A2 Stem : तना</p> <p>A3 Plunger : सवार</p> <p>A4 Pointer : सूचक</p>	2.0	0.00
----	----	--	-----	------


Trade Theory

32	32	<p>Which is measured by feeler gauge?</p> <p>फीलर गेज से किसे मापा जाता है?</p> <p>A1 Radius : रेडियस</p>	2.0	0.00
----	----	---	-----	------

		त्रिज्या A2 Screw pitch : पेंच की पिच A3 Surface roughness : सतह खुरदरापन A4 Gap between the mating parts : मैटिंग पार्ट्स के बीच का अंतर		
Trade Theory				
33	33	Which marking media is used for a machine finished surface? मशीन से तैयार सतह के लिए किस मार्किंग मीडिया का उपयोग किया जाता है? A1 Carbon powder : कार्बन पाउडर A2 Prussian blue : हल्का नीला A3 Graphite : ग्रेफाइट A4 Grease : ग्रीज़	2.0	0.00
Trade Theory				
34	34	Which marking device is used to scribe circle? किस अंकन उपकरण का उपयोग सर्कल के लिए किया जाता है? A1 Jenny caliper : जेनी कैलिपर A2 Inside caliper : कैलिपर के अंदर A3 Spring divider : स्प्रिंग डिवाइडर A4 Outside caliper : साइड कैलिपर	2.0	0.00
Trade Theory				
35	35	What is the name of the calliper shown in the figure? चित्र में दिखाए गए कैलिपर का नाम क्या है?  A1 Inside caliper : कैलिपर के अंदर A2 Outside caliper : बाहर का खलीफा A3 Firm joint caliper : फर्म संयुक्त कैलिपर A4 Spring joint outside caliper :	2.0	0.00

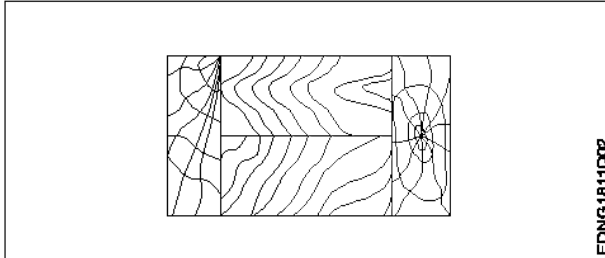
36	36	<p>What is the angle of a prick punch?</p> <p>प्रिक पंच का कोण क्या है?</p> <p>A1 : 60°</p> <p>A2 : 90°</p> <p>A3 : 120°</p> <p>A4 : 180°</p>	2.0	0.00
----	----	---	-----	------

37	37	<p>What is the name of the part marked as 'X' shown in the figure?</p> <p>चित्र में दिखाए गए 'X' से चिह्नित भाग का नाम क्या है?</p>  <p>A1 : Face</p> <p>A2 : Pein</p> <p>A3 : Check</p> <p>A4 : Eye hole</p> <p>फेस</p> <p>पिन</p> <p>चीक</p> <p>आई होल</p>	2.0	0.00
----	----	---	-----	------

38	38	<p>What is the name of the plier shown in the figure?</p> <p>चित्र में दिखाए गए प्लायर का नाम क्या है?</p>  <p>A1 : Slip-joint plier</p> <p>A2 : End cutting plier</p> <p>A3 : Flat nose plier</p> <p>A4 : Side cutting plier</p> <p>स्लिप-जॉइंट प्लायर</p> <p>एन्ड कटिंग प्लायर</p> <p>फ्लैट नोज प्लायर</p> <p>साइड कटिंग प्लायर</p>	2.0	0.00
----	----	--	-----	------

Workshop Calculation and Science				
39	39	<p>What are the two classifications of system of units? इकाइयों की प्रणाली के दो प्रकार कौनसे हैं?</p> <p>A1 : British and Metric ब्रिटिश और मीट्रिक</p> <p>A2 : Gravitational and non-gravitational गुरुत्वाकर्षण और गैर-गुरुत्वाकर्षण</p> <p>A3 : Fundamental and derived मौलिक और व्युत्पन्न</p> <p>A4 : Metric and International मैट्रिक और इंटरनेशनल</p>	2.0	0.00
Workshop Calculation and Science				
40	40	<p>What are fundamental units? इनमें से मूलभूत इकाइयों कौन-कौनसी हैं?</p> <p>A1 : Length, Mass, Volume लंबाई, द्रव्यमान, आयतन</p> <p>A2 : Length, Mass, Time लंबाई, द्रव्यमान, समय</p> <p>A3 : Length, Mass, Area लंबाई, द्रव्यमान, क्षेत्रफल</p> <p>A4 : Length, Pressure, Volume लंबाई, दाब, आयतन</p>	2.0	0.00
Workshop Calculation and Science				
41	41	<p>What denotes letter 'M' in MKS system? MKS प्रणाली में 'M' अक्षर क्या दर्शाता है?</p> <p>A1 : Mile Mile</p> <p>A2 : Meter Meter</p> <p>A3 : Millimeter Millimeter</p> <p>A4 : Micron Micron</p>	2.0	0.00
Workshop Calculation and Science				
42	42	<p>What is the square root of 529? 529 का वर्गमूल क्या है?</p> <p>A1 : 13 13</p> <p>A2 : 23 23</p> <p>A3 : 33 33</p> <p>A4 : 43 43</p>	2.0	0.00
Workshop Calculation and Science				

43	43	<p>Convert 0.456 decimal fraction into percentage? 0.456 दशमलव भिन्न को प्रतिशत में बदलिये?</p> <p>A1 : 45.6% 45.6%</p> <p>A2 : 4.56% 4.56%</p> <p>A3 : 0.456% 0.456%</p> <p>A4 : 0.0456% 0.0456%</p>	2.0	0.00
Workshop Calculation and Science				
44	44	<p>Which metal contains iron as a major content? इनमें से किस धातु में प्रमुख सामग्री के रूप में लोहा होता है?</p> <p>A1 : Brass metal पीतल धातु</p> <p>A2 : Bronze metal ब्रॉज धातु</p> <p>A3 : Zinc ज़िंक</p> <p>A4 : Ferrous metal लोह धातु</p>	2.0	0.00
Engineering Drawing				
45	45	<p>Identify the conventional symbol of material? चित्र में दिखाए गए सामग्री के पारंपरिक प्रतीक का पता लगाएं?</p> <div data-bbox="264 1182 887 1426" data-label="Image"> </div> <p>A1 : Water पानी</p> <p>A2 : Concrete ठोस</p> <p>A3 : Asbestos ऐस्बेटस</p> <p>A4 : Glass कांच</p>	2.0	0.00
Engineering Drawing				
46	46	<p>Identify the conventional symbol of material? चित्र में दिखाए गए सामग्री के पारंपरिक प्रतीक का पता लगाएं?</p>	2.0	0.00



A1
: Lead

लेड

A2
: Glass

कांच

A3
: Wood

लकड़ी

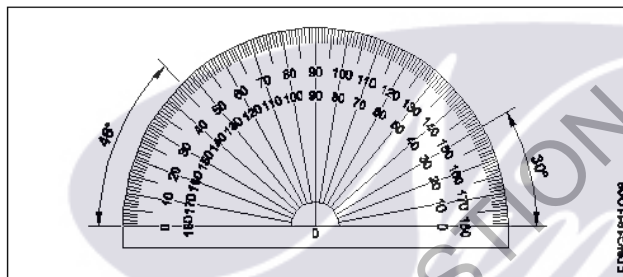
A4
: Paper

कागज़

Engineering Drawing

47 47 Identify the name of instrument? 2.0 0.00

चित्र में दिखाए गए उपकरणों के नाम की पहचान करें?



A1
: Set square

गुनिया

A2
: Protractor

चांदा

A3
: French curve

फ्रेंच सी वक्र

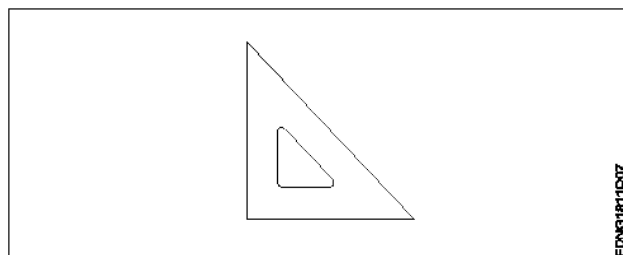
A4
: 'T' square

टी स्क्वायर

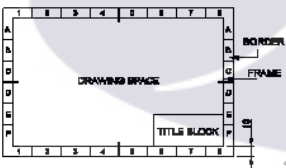
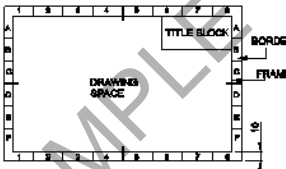
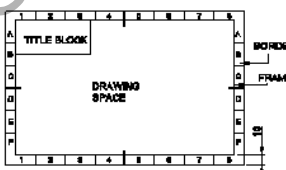
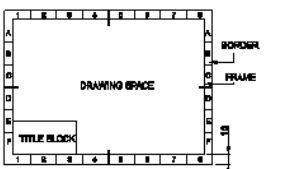
Engineering Drawing

48 48 Identify the name of set square? 2.0 0.00

सेट स्क्वायर का नाम खोजें?



A1
: 15° set square

		<p>15° सेट स्कायर</p> <p>A2 : 60° set square</p> <p>60° सेट स्कायर</p> <p>A3 : 30° set square</p> <p>30° सेट स्कायर</p> <p>A4 : 45° set square</p> <p>45° सेट स्कायर</p>		
Engineering Drawing				
49	49	<p>Compass used to draw for ____.</p> <p>कम्पास का उपयोग ____ को ड्रा करने के लिए किया जाता है.</p> <p>A1 : rectangle आयत</p> <p>A2 : square वर्ग</p> <p>A3 : circle वृत्त</p> <p>A4 : triangle त्रिकोण</p>	2.0	0.00
Engineering Drawing				
50	50	<p>Which title block position is correct as standard practice?</p> <p>एक मानक अभ्यास के रूप में कौन सी शीर्षक ब्लॉक स्थिति सही है?</p> <p>A1 :</p>  <p>A2 :</p>  <p>A3 :</p>  <p>A4 :</p> 	2.0	0.00
Employability Skills				
51	51	To be in a job or work is _____	2.0	0.00

		नौकरी या काम में होना है		
		A1 : Employ रोजगार A2 : Skill कौशल A3 : Knowledge ज्ञान A4 : Aptitude योग्यता		
Employability Skills				
52	52	Information like date of birth, permanent address form a part of one's _____ in the resume. जन्म तिथि, स्थायी पता जैसी जानकारी रिज्यूमे में किसी के _____ का हिस्सा होती है। A1 : Career objectives कैरियर के उद्देश्यों A2 : Personal details व्यक्तिगत विवरण A3 : Achievements उपलब्धियों A4 : Qualifications योग्यता	2.0	0.00
Employability Skills				
53	53	A person with a growth mindset is always willing to _____ एक विकास मानसिकता वाला व्यक्ति हमेशा तैयार रहता है। A1 : relax आराम करने में A2 : grow, change, learn बढ़ो, बदलो, सीखो A3 : keep quiet चुप रहने में A4 : become rich अमीर बनने	2.0	0.00
Employability Skills				
54	54	Jobs that have become outdated in the past 5 years _____ नौकरियां जो पिछले 5 वर्षों में पुरानी हो गई हैं। A1 : STD booth STD बूथ A2 : ola ओला A3 : uber उबेर A4 : swiggy Swiggy	2.0	0.00
Employability Skills				
55	55	Ethics means _____ नैतिकता का अर्थ है....।	2.0	0.00

		<p>A1 : decide what is right and wrong for a human conduct तय करें कि मानव आचरण के लिए क्या सही है और क्या गलत</p> <p>A2 : name of a city एक शहर का नाम</p> <p>A3 : employability skills रोज़गार कौशल</p> <p>A4 : not relevant to society समाज से संबंधित नहीं है</p>		
Employability Skills				
56	56	<p>Values are _____ मान हैं।</p> <p>A1 : not punctual समयनिष्ठ नहीं</p> <p>A2 : Motivates our attitude and action हमारे दृष्टिकोण और कार्रवाई को प्रेरित करता है</p> <p>A3 : very costly बहुत कीमती</p> <p>A4 : all have same value सभी का मूल्य समान है</p>	2.0	0.00
Employability Skills				
57	57	<p>_____ is a brief statement about purpose and principles of the Constitution.संविधान के उद्देश्य और सिद्धांतों के बारे में संक्षिप्त विवरण है।</p> <p>A1 : Syllabus पाठ्यक्रम</p> <p>A2 : Module मापांक</p> <p>A3 : The Preamble प्रस्तावना</p> <p>A4 : Unit इकाई</p>	2.0	0.00
Employability Skills				
58	58	<p>Identify the improper term _____ अनुचित पद को पहचानिए।</p> <p>A1 : green pollution हरित प्रदूषण</p> <p>A2 : water pollution जल प्रदूषण</p> <p>A3 : air pollution वायु प्रदूषण</p> <p>A4 : sound pollution ध्वनि प्रदूषण</p>	2.0	0.00
Employability Skills				
59	59	<p>NAPS Stands for _____ NAPS का मतलब _____</p>	2.0	0.00

		<p>A1 National Apprenticeship Promotion Scheme : National Apprenticeship Promotion Scheme</p> <p>A2 National Appointment Promoting Scheme : National Appointment Promoting Scheme</p> <p>A3 Non Apprenticeship Promotion Scheme : Non Apprenticeship Promotion Scheme</p> <p>A4 National Advertising Promotion Scheme : National Advertising Promotion Scheme</p>		
Employability Skills				
60	60	<p>_____ is major changes takes place in manufacturing. मैनुफैक्चरिंग में प्रमुख परिवर्तन होते हैं।</p> <p>A1 Green revolution : हरित क्रांति</p> <p>A2 Industry revolution : उद्योग क्रांति</p> <p>A3 Water revolution : जल क्रांति</p> <p>A4 Food revolution : खाद्य क्रांति</p>	2.0	0.00
Employability Skills				
61	61	<p>1st industrial revolution started in _____ पहली औद्योगिक क्रांति की शुरुआत।</p> <p>A1 18th century : 18 वीं सदी</p> <p>A2 19th century : 19 वीं सदी</p> <p>A3 20th century : 20 वीं सदी</p> <p>A4 21st century : 21 वीं सदी</p>	2.0	0.00
Employability Skills				
62	62	<p>Hard Skill _____ कठिन कौशल.....।</p> <p>A1 quick learner : त्वरित शिक्षार्थी</p> <p>A2 time management : समय प्रबंधन</p> <p>A3 60 WPM typing speed : 60 WPM टाइपिंग स्पीड</p> <p>A4 spoken English : मौखिक अंग्रेजी</p>	2.0	0.00
Employability Skills				
63	63	<p>To grow yourself you must _____ अपने आप को विकसित करने के लिए आपको चाहिए।</p>	2.0	0.00

		<p>A1 know your office : अपने कार्यालय को जानें</p> <p>A2 know yourself : खुद को जानें</p> <p>A3 know your institute : अपने संस्थान को जानें</p> <p>A4 know your country : अपने देश को जानो</p>		
Employability Skills				
64	64	<p>Time management _____ समय प्रबंधन.....।</p> <p>A1 complete your task on time : अपना कार्य समय पर पूरा करें</p> <p>A2 managing time : प्रबंधन समय</p> <p>A3 hard skill : कठिन कौशल</p> <p>A4 problem solving : समस्या को सुलझाना</p>	2.0	0.00
Employability Skills				
65	65	<p>A resume should be _____. एक रिज्यूम _____ होना चाहिए</p> <p>A1 short and precise : छोटा और सटीक</p> <p>A2 fancy and colourful : फैसी और रंगीन</p> <p>A3 having long and detailed information : लंबी और विस्तृत जानकारी होना</p> <p>A4 having acronyms and abbreviation : समरूप और संक्षिप्त नाम होना</p>	2.0	0.00
Employability Skills				
66	66	<p>A written description of duties and responsibilities to be carried out in a job is called _____. किसी कार्य में किए जाने वाले कर्तव्यों और जिम्मेदारियों का लिखित विवरण _____ कहा जाता है</p> <p>A1 CV : CV</p> <p>A2 job description : job description</p> <p>A3 resume : resume</p> <p>A4 job application : job application</p>	2.0	0.00
Employability Skills				
67	67	<p>After receiving interview call, what is the next step? साक्षात्कार कॉल प्राप्त करने के बाद, अगला कदम क्या है?</p>	2.0	0.00

		<p>A1 Send application letter : आवेदन पत्र भेजें</p> <p>A2 Prepare the resume : रिज्यू तैयार करें</p> <p>A3 Appear at interview : साक्षात्कार में में जाये</p> <p>A4 Send resume : रिज्यू भेजे</p>		
Employability Skills				
68	68	<p>Choose suitable "wh" word for the given sentence. "_____ animal do you like?" दिए गए वाक्य के लिए उपयुक्त "wh" शब्द चुनें। "_____ animal do you like?"</p> <p>A1 Which : Which</p> <p>A2 Why : Why</p> <p>A3 Where : Where</p> <p>A4 When : When</p>	2.0	0.00
Employability Skills				
69	69	<p>Choose the correct punctuation mark after the word "Rohan" in the given sentence. "Rohan David and Ram are playing hide and seek" दिए गए वाक्य में शब्द "रोहन" के बाद सही विराम चिह्न चुनें। "Rohan David and Ram are playing hide and seek"</p> <p>A1 Comma (,) : अल्पविराम (,)</p> <p>A2 Period (.) : अवधि (.)</p> <p>A3 Slash (/) : स्लैश (/)</p> <p>A4 Hyphen (-) : हाइफ़न (-)</p>	2.0	0.00
Employability Skills				
70	70	<p>Choose the correct response for the given question. "How have you been?" दिए गए प्रश्न के लिए सही उत्तर चुनिए। "How have you been?"</p> <p>A1 Very well, And you? : Very well, And you?</p> <p>A2 Thank you _ And you? : Thank you _ And you?</p> <p>A3 Same to you : Same to you</p> <p>A4 On vacation _ And you? : On vacation _ And you?</p>	2.0	0.00
Employability Skills				
71	71	<p>Choose the correct response of the given question. "When did the accident happen?" दिए गए प्रश्न की सही प्रतिक्रिया चुनें। "When did the accident happen?"</p>	2.0	0.00

		<p>A1 in the hotel : in the hotel</p> <p>A2 during travelling : during travelling</p> <p>A3 At 10:30 last night : At 10:30 last night</p> <p>A4 On the table : On the table</p>		
Employability Skills				
72	72	<p>Choose the correct tense of the verb. "I _____ music when I was child" क्रिया का सही काल चुनें। "I _____ music when I was child"</p> <p>A1 learn : learn</p> <p>A2 am learning : am learning</p> <p>A3 will learn : will learn</p> <p>A4 had learnt : had learnt</p>	2.0	0.00
Employability Skills				
73	73	<p>Curriculum vitae is also known as _____. Curriculum vitae को _____ के रूप में भी जाना जाता है।</p> <p>A1 circular : परिपत्र</p> <p>A2 resume : रिज्यूम</p> <p>A3 job application form : नौकरी के लिए आवेदन पत्र</p> <p>A4 leave application : छुट्टी की अर्जी</p>	2.0	0.00
Employability Skills				
74	74	<p>Fill in the blank with comparative adjective. "Your pencil is _____ than mine" तुलनात्मक विशेषण के साथ रिक्त स्थान भरें। "Your pencil is _____ than mine"</p> <p>A1 sharp : sharp</p> <p>A2 sharper : sharper</p> <p>A3 blunt : blunt</p> <p>A4 thick : thick</p>	2.0	0.00
Employability Skills				
75	75	<p>Fill in the blank with correct future tense of verb. "We _____ to the zoo after Breakfast " क्रिया के सही भविष्य काल के साथ रिक्त स्थान भरें। "We _____ to the zoo after Breakfast "</p> <p>A1 went : went</p>	2.0	0.00

		went		
A2	:	are going		
		are going		
A3	:	had gone		
		had gone		
A4	:	will go		
		will go		

SAMPLE QUESTION PAPER SET 1

The logo for 'Ammi' is centered on the page. It features the word 'Ammi' in a white, cursive script font, set against a light purple oval background. A stylized white swoosh or leaf-like shape is positioned to the left of the text.

Mechanic Diesel - 1 Year - Set 1

S.No.	Correct Answer Key
1	A2
2	A3
3	A3
4	A3
5	A3
6	A1
7	A3
8	A3
9	A1
10	A4
11	A2
12	A2
13	A2
14	A3
15	A3
16	A4
17	A1
18	A3
19	A2
20	A4
21	A2
22	A4
23	A2
24	A1
25	A4
26	A1
27	A2
28	A1
29	A2
30	A3
31	A3
32	A4
33	A2
34	A3
35	A4
36	A1
37	A2
38	A2

S.No.	Correct Answer Key
39	A3
40	A2
41	A2
42	A2
43	A1
44	A4
45	A1
46	A3
47	A2
48	A4
49	A3
50	A1
51	A1
52	A2
53	A2
54	A1
55	A1
56	A2
57	A3
58	A1
59	A1
60	A2
61	A1
62	A3
63	A2
64	A1
65	A1
66	A2
67	A3
68	A1
69	A1
70	A1
71	A3
72	A4
73	A2
74	A2
75	A4

Note:

"In case answers found to be inaccurate due to typographical error or any other reason please sent mail to qbnimigrievance@gmail.com"