

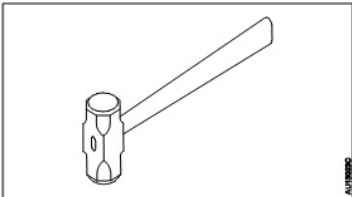
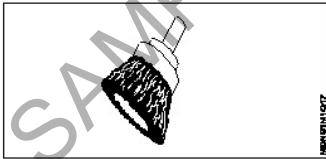
ALL INDIA TRADE TEST - 2024 FOR CRAFTSMEN
TRAINING SCHEME (CTS)
Trade Name: Mechanic Diesel
Year: 1st Year

Exam Date :

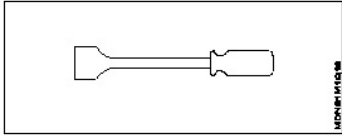
Exam Time :

Note:

1. Tick the correct option out of four alternatives provided
2. All questions carry equal marks (2 Marks each)
3. There is no negative marking

Sr. No.	Q ID	Question Body and Alternatives	Marks	Negative Marks
Trade Theory				
1	1	<p>What is the use of lump hammer shown in figure?</p> <p>गाँठ हथौड़ा का उपयोग क्या है?</p>  <p>A1 : Strike the metal धातु पर प्रहार करो</p> <p>A2 : Punch the metal पंच धातु</p> <p>A3 : Spread the metal धातु फैलाओ</p> <p>A4 : Light demolition work हल्का विध्वंस कार्य</p>	2.0	0.00
Trade Theory				
2	2	<p>What is the name of the cleaning tool shown in figure?</p> <p>चित्र में दिखाए गए क्लीनिंग टूल का नाम क्या है?</p>  <p>A1 : Wire brush वायर ब्रश</p> <p>A2 : Wire wheel वायर व्हील</p> <p>A3 : Hollow carbon brush खोखला कार्बन ब्रश</p> <p>A4 : Bristle head ब्रिस्टल हेड</p>	2.0	0.00
Trade Theory				
3	3	<p>What is the name of the cleaning tool shown in figure?</p>	2.0	0.00

चित्र में दिखाए गए क्लीनिंग टूल का नाम क्या है?



A1 Rigid scrapper

:

कठोर स्क्रेपर

A2 Flexible scrapper

:

लचीला स्क्रेपर

A3 Carbon brush

:

कार्बन ब्रश

A4 Wire brush

:

वायर ब्रश

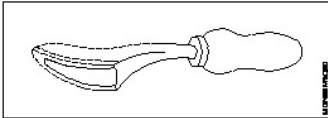
Trade Theory

4

4

What is the name of scraper shown in figure?

चित्र में दिखाए गए स्क्रेप का नाम क्या है?



A1 Half round scrapper

:

आधा गोल स्क्रेपर

A2 Three square scraper

:

तीन वर्ग स्क्रेपर

A3 Ball nose scraper

:

गेंद नाक स्क्रेपर

A4 Flat scraper

:

फ्लैट स्क्रेपर

Trade Theory

2.0

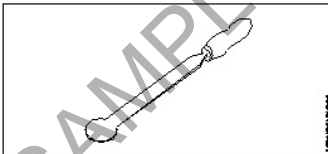
0.00

5

5

What is the name of scrape shown in figure ?

चित्र में दिखाए गए स्क्रेप का नाम क्या है?



A1 Three square scraper

:

तीन वर्ग स्क्रेपर

A2 Bull nose scraper

:

बुल नोज स्क्रेपर

A3 Flat scraper

:

फ्लैट खुरचनी

A4 Half round scraper

:

आधा गोल स्क्रेपर

Trade Theory

2.0

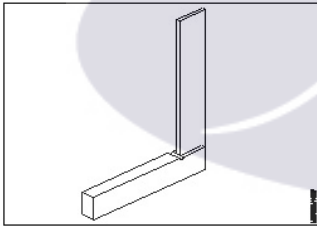
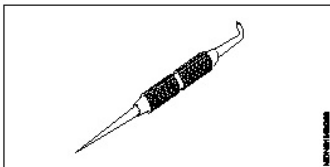
0.00

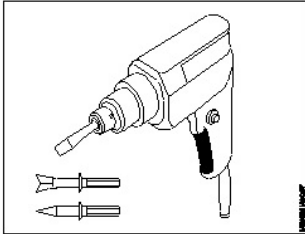
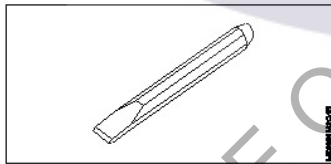
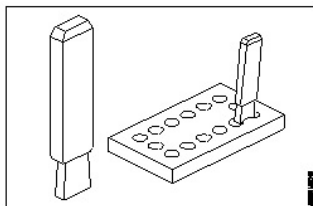
6

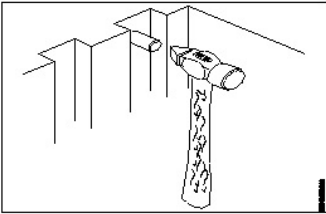

6

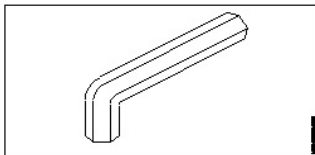
Which scraper is useful to the larger bearings?

कौन सा स्क्रेपर बड़े बियरिंग के लिए उपयोगी है?

		<p>A1 Bull nose scraper : बुल नोज स्क्रेपर</p> <p>A2 Three square scraper : तीन वर्ग स्क्रेपर</p> <p>A3 Half round scrapper : आधा गोल स्क्रेपर</p> <p>A4 Flat scraper : फ्लैट खुरचनी</p>		
Trade Theory				
7	7	<p>Which marking media dries very quickly? कौन सा मार्किंग मीडिया बहुत जल्दी सूख जाता है?</p> <p>A1 White wash : सफ़ेद धुलाई</p> <p>A2 Cellulose lacquer : सेलूलोज़ लाह</p> <p>A3 Prussian blue : प्रशियाई नीला</p> <p>A4 Copper sulphate : कॉपर सल्फेट</p>	2.0	0.00
Trade Theory				
8	8	<p>What is the name of marking tool shown in figure? चित्र में दिखाए गए मार्किंग टूल का नाम क्या है?</p>  <p>A1 Steel rule : स्टील रूल</p> <p>A2 Surface plate : सरफेस प्लेट</p> <p>A3 Try square : ट्राई स्क्वायर</p> <p>A4 Surface gauge : सरफेस गेज</p>	2.0	0.00
Trade Theory				
9	9	<p>What is the name of marking tool shown in figure? चित्र में दिखाए गए मार्किंग टूल का नाम क्या है?</p>  <p>A1 Divider : डिवाइडर</p>	2.0	0.00

		<p>A2 : Scriber स्क्राइबर</p> <p>A3 : Outside caliper बाहरी कैलीपर</p> <p>A4 : Inside caliper इनसाइड कैलीपर</p>		
Trade Theory				
10	10	<p>What is the name of pneumatic tool shown in figure? चित्र में दिखाए गए न्यूमेटिक टूल का नाम क्या है?</p>  <p>A1 : Air chisel एयर चिजल</p> <p>A2 : Air ratchet एयर राचेट</p> <p>A3 : Air hammer एयर हैमर</p> <p>A4 : Air impact wrench एयर इम्पैक्ट रिच</p>	2.0	0.00
Trade Theory				
11	11	<p>What is the name of hand tools shown in figure? चित्र में दिखाए गए हैंड टूल्स का नाम क्या है?</p>  <p>A1 : Flat chisel फ्लैट चिजल</p> <p>A2 : Cross cut chisel क्रॉस कट चिजल</p> <p>A3 : Half round chisel आधी गोल चिजल</p> <p>A4 : Web chisel वेब चिजल</p>	2.0	0.00
Trade Theory				
12	12	<p>What is the name of hand tools shown in figure? चित्र में दिखाए गए हैंड टूल्स का नाम क्या है?</p> 	2.0	0.00

		<p>A1 : Cross cut chisel क्रॉस कट छेनी</p> <p>A2 : Flat chisel फ्लैट चिजेल</p> <p>A3 : Web chisel वेब चिजेल</p> <p>A4 : Half round chisel आधी गोल चिजेल</p>		
Trade Theory				
13	13	<p>What is the name of hammer shown in figure? चित्र में दिखाए गए हैमर का नाम क्या है?</p>  <p>A1 : Ball peen hammer बॉल पेन हथौड़ा</p> <p>A2 : Sludge hammer स्लज्ड हथौड़ा</p> <p>A3 : Straight peen hammer सीधा पीन हथौड़ा</p> <p>A4 : Cross peen hammer क्रॉस पीन हथौड़ा</p>	2.0	0.00
Trade Theory				
14	14	<p>What is the name of the screw driver shown in figure? चित्र में दिखाए गए स्कू ड्राइवर का नाम क्या है?</p>  <p>A1 : Heavy duty screw driver हेवी ड्यूटी स्कू ड्राइवर</p> <p>A2 : Light duty screw driver लाइट ड्यूटी स्कू ड्राइवर</p> <p>A3 : Stumpy screw driver स्टम्पी स्कू ड्राइवर</p> <p>A4 : Electrician screw driver इलेक्ट्रीशियन स्कू ड्राइवर</p>	2.0	0.00
Trade Theory				
15	15	<p>What is the name of hand tool shown in figure? "चित्र में दिखाए गए हैंड टूल का नाम क्या है?"</p>	2.0	0.00



A1 : "L" type allen key

"L" प्रकार एलन की

A2 : "T" type allen key

"T" प्रकार की एलन की

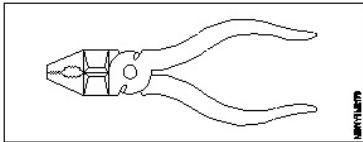
A3 : "P" type allen key

"P" प्रकार की एलन की

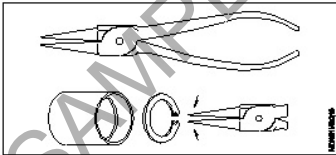
A4 : Folding hex key

फ़ोल्ड हेक्स की

Trade Theory

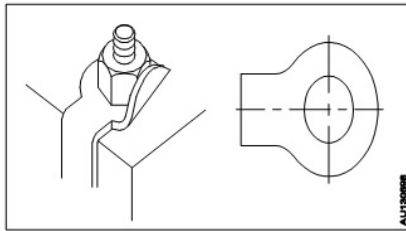
16	16	What is the name of Plier shown in figure? चित्र में दिखाए गए प्लायर का नाम क्या है?	2.0	0.00
				
		A1 : Slip joint plier		
		स्लिप ज्वाइंट प्लायर		
		A2 : Combination plier		
		कॉम्बिनेशन प्लायर		
		A3 : Internal circlip plier		
		आंतरिक सर्किलिप प्लायर		
		A4 : External circlip plier		
		बाहरी सर्किलिप प्लायर		

Trade Theory

17	17	What is the name of Plier shown in figure? चित्र में दिखाए गए प्लायर का नाम क्या है?	2.0	0.00
				
		A1 : External circlip plier		
		बाहरी सर्किलिप प्लायर		
		A2 : Internal circlip plier		
		आंतरिक सर्किलिप प्लायर		
		A3 : Flat nose plier		
		फ्लैट नोज प्लायर		
		A4 : Round nose plier		
		गोल नाक प्लायर		

Trade Theory

18	18	What is the name of the washer shown in the figure? चित्र में दिखाए गए वॉशर का नाम क्या है?	2.0	0.00
----	----	--	-----	------



A1 Plain washer

: प्लेन वॉशर

A2 Tab washer

: टैब वाशर

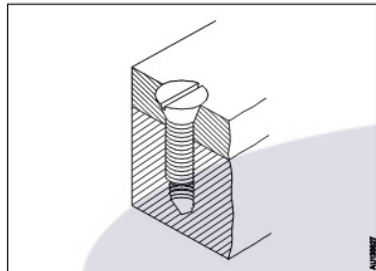
A3 Spring washer

: स्प्रिंग वाला वाशर

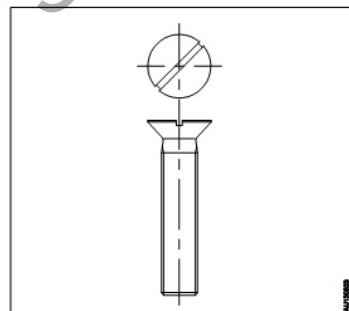
A4 Toothed lock washer

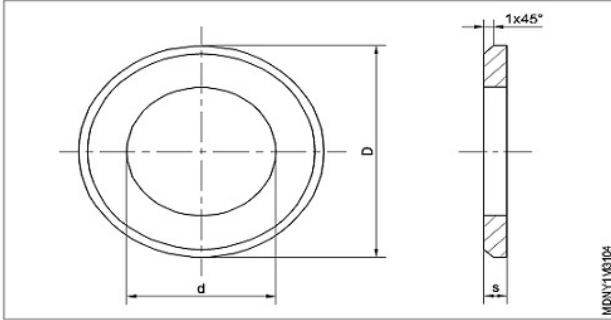
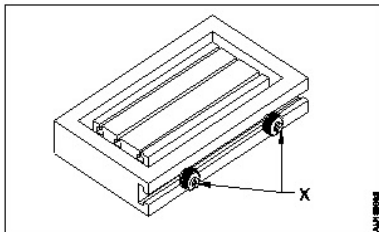
: थ्रेड लॉक वॉशर

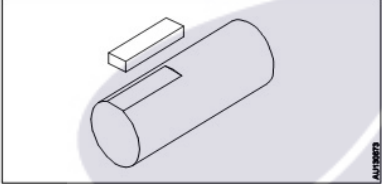
Trade Theory

19	19	What is the name of the screw shown in the figure? चित्र में दिखाए गए स्कू का नाम क्या है?	2.0	0.00
		 <p>A1 Grub screw</p> <p>: ग्रब स्कू</p> <p>A2 Thumb screw</p> <p>: थम्ब स्कू</p> <p>A3 Hexagonal screw</p> <p>: हेक्सागोनल स्कू</p> <p>A4 Counter sink head screw</p> <p>: काउंटर सिंक हेड स्कू</p>		

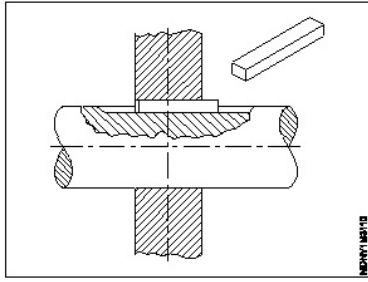
Trade Theory

20	20	What is the name of the part shown in the figure? चित्र में दिखाए गए भाग का नाम क्या है?	2.0	0.00
		 <p>A1 Slotted counter sink head screw</p> <p>: स्लॉटेड काउंटर सिंक सिर पेंच</p> <p>A2 Slotted raised counter sink head screw</p>		

		<p>स्लॉटेड उठाया काउंटर सिंक सिर पेंच</p> <p>A3 : Cross-recessed counter sink head screw</p> <p>क्रॉस-रिकेस्ड काउंटर सिंक सिर पेंच</p> <p>A4 : Cross recessed raised counter sink head screw</p> <p>क्रॉस रिकेस्ड उठाया काउंटर सिंक सिर पेंच</p>		
Trade Theory				
21	21	<p>What is the name of the nut shown in the figure?</p> <p>चित्र में दिखाए गए नट का नाम क्या है?</p>  <p>A1 : Lock nut बंद करने वाला नट</p> <p>A2 : Castle nut कैसल अखरोट</p> <p>A3 : Square nut चौकोर अखरोट</p> <p>A4 : Slotted round nut खिसका हुआ गोल अखरोट</p>	2.0	0.00
Trade Theory				
22	22	<p>Which nut is used for structural and machine tool construction?</p> <p>संरचनात्मक और मशीन उपकरण निर्माण के लिए किस अखरोट का उपयोग किया जाता है?</p> <p>A1 : Square nut चौकोर अखरोट</p> <p>A2 : Hexagonal nut षट्कोणीय ढिबरी</p> <p>A3 : Wing nut ढिबरी नट</p> <p>A4 : Castle nut कैसल अखरोट</p>	2.0	0.00
Trade Theory				
23	23	<p>What is the name of the nut marked as 'X' shown in the figure ?</p> <p>चित्र में दिखाए गए 'X' से चिह्नित नट का नाम क्या है?</p>  <p>A1 : Chuck nut चक नट</p>	2.0	0.00

		<p>A2 : Thumb Nut थम्ब नट</p> <p>A3 : Domed cap nut दोमेद कप नट</p> <p>A4 : Hexagonal nut with collar हेक्सागोनल नट विथ कॉलर</p>		
Trade Theory				
24	24	<p>Which nut is required to align the axle shaft hole and slot of the nut for locking? लॉकिंग के लिए एक्सल शाफ्ट होल और नट के स्लॉट को संरेखित करने के लिए किस नट की आवश्यकता होती है?</p> <p>A1 : Castle nut कास्टिल नट</p> <p>A2 : Check nut चेक नट</p> <p>A3 : Thumb nut थम्ब नट</p> <p>A4 : Self lock nut सेल्फ लॉक नट</p>	2.0	0.00
Trade Theory				
25	25	<p>What is the name of the key shown in the figure? चित्र में दिखाई गई "की" का नाम क्या है?</p>  <p>A1 : Hollow saddle key हल्लो सैडल की</p> <p>A2 : Flat saddle key फ्लैट सैडल की</p> <p>A3 : Circular taper key सर्किल टेपर की</p> <p>A4 : Parallel sunk key पेरलल शूनक की</p>	2.0	0.00
Trade Theory				
26	26	<p>Which locking device is used to retain the component on a shaft? शाफ्ट पर कॉम्पोनेन्ट को बनाए रखने के लिए किस लॉकिंग डिवाइस का उपयोग किया जाता है?</p> <p>A1 : Split pin स्प्लिट पिन</p> <p>A2 : Wire lock वायर लॉक</p> <p>A3 : Check nut चेक नट</p> <p>A4 : External circlip एक्सटर्नल सर्क्लिप</p>	2.0	0.00
Trade Theory				
27	27	<p>What is the name of the key shown in the figure that is used on the shaft and hub?</p>	2.0	0.00

चित्र में दिखाई गई "की" का नाम क्या है जिसका उपयोग शाफ्ट और हब पर किया जाता है?



A1 : Hollow saddle key

हल्लो सैडल की

A2 : Flat saddle key

फ्लैट सैडल की

A3 : Circular taper key

सर्किल टेपर की

A4 : Parallel sunk key

पेरलल शौनक की

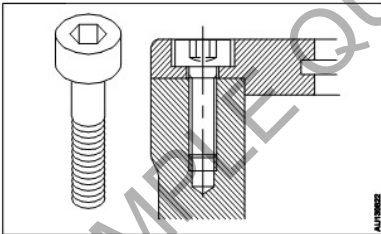
Trade Theory

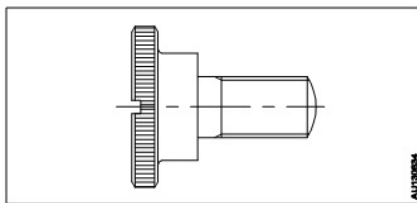
28	28	What is the name of the file shown in the figure? चित्र में दिखाई गई फ़ाइल का नाम क्या है?	2.0	0.00
		A1 : Single cut		
		सिंगल कट		
		A2 : Double cut		
		डबल कट		
		A3 : Rasp cut		
		रास्प कट		
		A4 : Curved cut		
		कर्वेड कट		

Trade Theory

29	29	What is the name of the file shown in the figure? चित्र में दिखाई गई फ़ाइल का नाम क्या है?	2.0	0.00
		A1 : Single cut		
		सिंगल कट		
		A2 : Double cut		
		डबल कट		
		A3 : Rasp cut		
		रास्प कट		

		A4 : Curved cut कर्वेड कट		
Trade Theory				
30	30	Which portable drilling machine has variable speed? किस पोर्टेबल ड्रिलिंग मशीन की गति परिवर्तनशील होती है? A1 : Breast hand drill ब्रेस्ट हैंड ड्रिल A2 : Heavy duty electric hand drill हैवी ड्यूटी इलेक्ट्रिक हैंड ड्रिल A3 : Ratchet hand drill रेचट हैंड ड्रिल A4 : Bevel gear hand drill बेवल गियर हैंड ड्रिल	2.0	0.00
Trade Theory				
31	31	Which part of a drill bit fits into the slot of the drilling machine spindle? ड्रिल बिट का कौन सा पार्ट ड्रिलिंग मशीन स्पिंडल के स्लॉट में फिट होता है? A1 : Body बॉडी तंग A2 : Tang खटास A3 : Flute फिउले A4 : Web वेब	2.0	0.00
Trade Theory				
32	32	Which material is used to make hand tap? हैंड टैप बनाने के लिए किस मटेरियल का उपयोग किया जाता है? A1 : Cast Iron कच्चा लोहा A2 : Low carbon steel कार्बन की कम मात्रा वाला इस्पात A3 : High speed steel हाई स्पीड स्टील A4 : Stainless steel स्टेनलेस स्टील	2.0	0.00
Trade Theory				
33	33	Which key is used while shaft slides axially in a hub? जब शाफ्ट हब में अक्षीय रूप से स्लाइड करता है तो कौन सी "की" का उपयोग किया जाता है? A1 : Woodruff key वूडरफ की A2 : Gib-Head key जिब-हेड की A3 : Feather key फ़ाथेर की	2.0	0.00

		<p>A4 : Hollow saddle key हल्लो सैडल की</p>		
Trade Theory				
34	34	<p>Which drilling machine is used to make multiple holes in one setting of the work? कार्य की एक सेटिंग में कई होल्स बनाने के लिए किस ड्रिलिंग मशीन का उपयोग किया जाता है?</p> <p>A1 : Radial drill machine रेडियल ड्रिल मशीन</p> <p>A2 : Ratchet hand drill रेचट हैण्ड ड्रिल</p> <p>A3 : Pneumatic hand drill प्रयूमटिक हैण्ड ड्रिल</p> <p>A4 : Electric hand drill light duty इलेक्ट्रिक हैंड ड्रिल लाइट ड्यूटी</p>	2.0	0.00
Trade Theory				
35	35	<p>Which angle helps in the penetration of the cutting edges in the material? सामग्री में काटने के किनारों के प्रवेश में कौन सा कोण मदद करता है?</p> <p>A1 : Helix angle हेलिक्स कोण</p> <p>A2 : Point angle बिंदु कोण</p> <p>A3 : Clearance angle क्लीयरेंस कोण</p> <p>A4 : Web रेक कोण</p>	2.0	0.00
Trade Theory				
36	36	<p>What is the name of the screw shown in the figure? चित्र में दिखाए गए स्कू का नाम क्या है?</p>  <p>A1 : Hexagon head screw हेक्सागोनल स्कू</p> <p>A2 : Hexagon socket head cap screw हेक्सागोनल सॉकेट हेड कैप स्कू</p> <p>A3 : Square head counter sunk head screws स्क्वायर हेड काउंटर हेड स्कू</p> <p>A4 : Thump screws थम्प स्कू</p>	2.0	0.00
Trade Theory				
37	37	<p>What is the name of the screw shown in the figure? चित्र में दिखाए गए स्कू का नाम क्या है?</p>	2.0	0.00



A1
: Set screw

सेट स्कू

A2
: Thumb screw

थम्ब स्कू

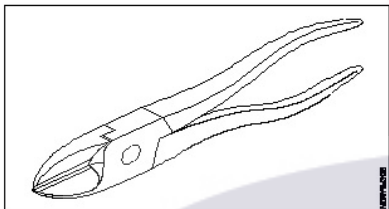
A3
: Hexagonal screw

हेक्सागोनल स्कू

A4
: Grub screws

ग्रब शिकंजा

Trade Theory

38	38	<p>What is the name of the plier shown in the figure?</p> <p>चित्र में दिखाए गए प्लायर का नाम क्या है?</p>  <p>A1 : Side cutting plier</p> <p>साइड कटिंग प्लेयर</p> <p>A2 : Nose plier</p> <p>नोज प्लेयर</p> <p>A3 : Circlip plier</p> <p>सिरक्लिप प्लायर</p> <p>A4 : End cutting plier</p> <p>एंड कटिंग प्लेयर</p>	2.0	0.00
----	----	---	-----	------

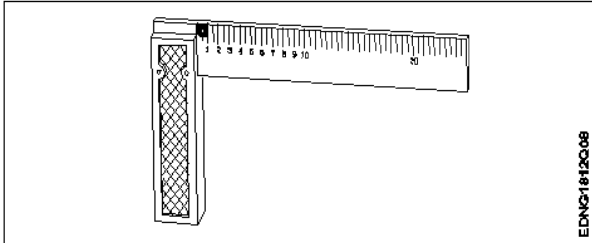
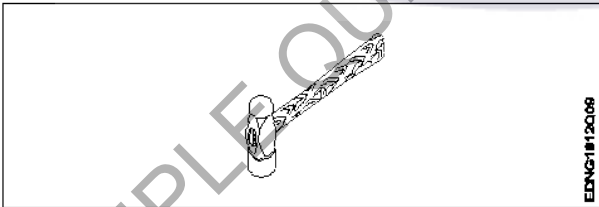
Workshop Calculation and Science

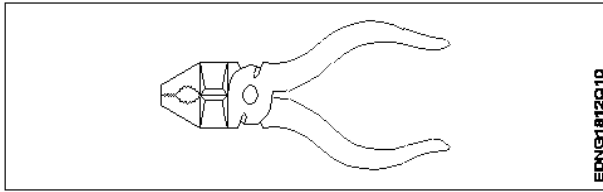
39	39	<p>What is the S.I unit of heat?</p> <p>ऊष्मा की एस.आई. इकाई क्या है?</p> <p>A1 : Calorie</p> <p>Calorie</p> <p>A2 : Joule</p> <p>Joule</p> <p>A3 : Centigrade heat unit</p> <p>Centigrade heat unit</p> <p>A4 : British thermal unit</p> <p>British thermal unit</p>	2.0	0.00
----	----	---	-----	------

Workshop Calculation and Science

40	40	<p>What is the value for specific heat of water?</p> <p>पानी की विशिष्ट ऊष्मा का मान क्या है?</p> <p>A1 : 4</p> <p>4</p>	2.0	0.00
----	----	--	-----	------

		A2 3 : 3 A3 2 : 2 A4 1 : 1		
Workshop Calculation and Science				
41	41	What is the boiling point of water? पानी का क्वथनांक क्या होता है? A1 0°C : 0°C A2 32°C : 32°C A3 100°C : 100°C A4 212°C : 212°C	2.0	0.00
Workshop Calculation and Science				
42	42	Which is the unit of current? धारा की इकाई क्या है? A1 Ampere : एम्पियर A2 Volt : वोल्ट A3 Ohm : ओम A4 Watt : वाट	2.0	0.00
Workshop Calculation and Science				
43	43	Which is very good conductor? कौन-सा बहुत अच्छा कंडक्टर है? A1 Copper : तांबा A2 Cast iron : कास्ट आयरन A3 Wrought iron : रॉट आयरन A4 Steel : स्टील	2.0	0.00
Workshop Calculation and Science				
44	44	What is the side of a square whose area is 625 mm ² ? एक वर्ग की भुजा क्या होगी, जिसका क्षेत्रफल 625 मिमी ² है? A1 15 mm : 15 mm	2.0	0.00

		A2 : 20 mm 20 mm A3 : 25 mm 25 mm A4 : 30 mm 30 mm		
Engineering Drawing				
45	45	Identify the name of tool? उपकरण का नाम पहचानें?  A1 : Try square बढ़ई की गुनिया A2 : Surface gauge सतह नापने का यंत्र A3 : Steel rule स्टील रूल A4 : Feeler gauge फ्रीलर गोज़	2.0	0.00
Engineering Drawing				
46	46	Identify the name of tool? उपकरण का नाम पहचानें?  A1 : Ball pein hammer बॉल पीन हैमर A2 : Cross pein hammer क्रॉस पीन हैमर A3 : Straight pein hammer सीधे पीन हथौड़ा A4 : Sledge hammer स्लेज हैमर	2.0	0.00
Engineering Drawing				
47	47	Identify the name of tool? उपकरण का नाम पहचानें?	2.0	0.00



A1
: Hawk-billed shear

हॉक-बिल शीयर

A2
: Aviation shear

उड्डयन कतरनी

A3
: Cutting plier

काटने वाला सरोता

A4
: Double cutting shear

डबल काटने कतरनी

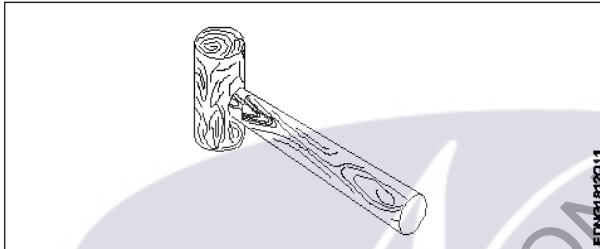
Engineering Drawing

48

48

Identify the name of tool?

उपकरण का नाम पहचानें?



A1
: Ball peen hammer

बॉल पीन हैमर

A2
: Mallet

लकड़ी का हथौड़ा

A3
: Cross peen hammer

क्रॉस पीन हैमर

A4
: Staright peen hammer

स्ट्रेट पीन हैमर

Engineering Drawing

2.0

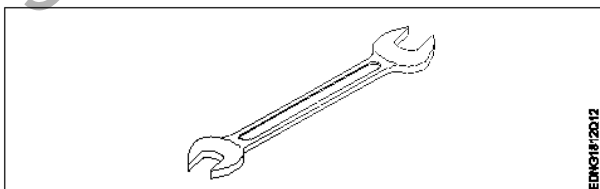
0.00

49

49

Identify the name of tool?

उपकरण का नाम पहचानें?



A1
: Open end spanner

ओपन एंड स्पैनर

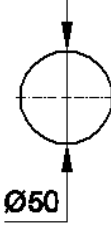
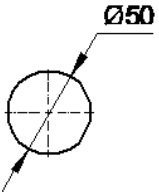

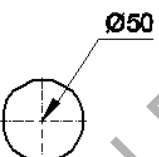
A2
: Ring spanner

गोल पाना

A3
: Combination spanner

2.0

0.00

		संयोजन स्पैनर A4 : Adjustable spanner समायोज्य औजार		
Engineering Drawing				
50	50	<p>Which dimension correctly marked in the circle as per standard? मानक के अनुसार सर्कल में कौन सा आयाम सही ढंग से चिह्नित है?</p> <p>A1 :</p>  <p>A2 :</p>  <p>A3 :</p>  <p>A4 :</p> 	2.0	0.00
Employability Skills				
51	51	<p>Which one of the following is a good office etiquette? निम्नलिखित में से कौन सा एक अच्छा कार्यालय शिष्टाचार है?</p> <p>A1 : One should dress formally एक को औपचारिक रूप से पोशाक पहननी चाहिए</p> <p>A2 : One should not be punctual to work काम के लिए समय का पाबंद नहीं होना चाहिए</p> <p>A3 : One should have fancy mobile ring tone एक के पास फैसी मोबाइल रिंग टोन होना चाहिए</p> <p>A4 : One should litter one's work place व्यक्ति को अपने काम के स्थान पर कूड़ा डालना चाहिए</p>	2.0	0.00
Employability Skills				
52	52	<p>Word that is pronounced the same as another word but differs in meaning is called _____ वह शब्द जो किसी दूसरे शब्द के समान होता है, लेकिन अर्थ में भिन्न होता है, जिसे _____ कहा जाता है</p>	2.0	0.00

		<p>A1 : homophone होमोफोन</p> <p>A2 : homograph होमोग्रफ़</p> <p>A3 : diphthong संयुक्त स्वर</p> <p>A4 : syllable शब्दांश</p>		
Employability Skills				
53	53	<p>_____ can help me learn English. मुझे अंग्रेजी सीखने में मदद कर सकता है।</p> <p>A1 : dedication निष्ठा</p> <p>A2 : fear डर</p> <p>A3 : anger क्रोध</p> <p>A4 : shyness शर्म</p>	2.0	0.00
Employability Skills				
54	54	<p>Which punctuation mark should be used in the following sentence? Is there any site engineer here निम्नलिखित वाक्य में किस विराम चिह्न का प्रयोग किया जाना चाहिए? Is there any site engineer here</p> <p>A1 : ? (question mark) ? (question mark)</p> <p>A2 : , (comma) , (comma)</p> <p>A3 : . (full stop) . (full stop)</p> <p>A4 : ! (exclamation) ! (exclamation)</p>	2.0	0.00
Employability Skills				
55	55	<p>When is capital letter used? बड़े अक्षर का प्रयोग कब किया जाता है?</p> <p>A1 : Beginning of a sentence एक वाक्य की शुरुआत</p> <p>A2 : Names of persons व्यक्तियों के नाम</p> <p>A3 : Names of places स्थानों के नाम</p> <p>A4 : All the above सब से ऊपर</p>	2.0	0.00
Employability Skills				
56	56	<p>Which one of the following is a describing word? निम्नलिखित में से कौन-सा एक वर्णनात्मक शब्द है?</p>	2.0	0.00

		<p>A1 : eat खाना खा लो</p> <p>A2 : repair मरम्मत</p> <p>A3 : hot गरम</p> <p>A4 : soup शोरबा</p>		
Employability Skills				
57	57	<p>When someone says 'Thank you' we should reply and say _____. जब कोई 'Thank you (धन्यवाद)' कहता है तो हमें जवाब देना चाहिए और _____ कहना चाहिए।</p> <p>A1 : Thank you. शुक्रिया</p> <p>A2 : You're welcome. आपका स्वागत है</p> <p>A3 : Bye-bye बाई-बाई</p> <p>A4 : How are you? आप कैसे हैं?</p>	2.0	0.00
Employability Skills				
58	58	<p>Choose the odd word. odd (विषम) शब्द चुनें।</p> <p>A1 : please please</p> <p>A2 : sorry sorry</p> <p>A3 : paper paper</p> <p>A4 : thanks thanks</p>	2.0	0.00
Employability Skills				
59	59	<p>I am a welder. I work with _____. मैं एक वेल्डर हूँ। मैं _____ साथ कार्य करता हूँ।</p> <p>A1 : nail polish नेल पॉलिश</p> <p>A2 : robots रोबोटों</p> <p>A3 : welding tools वेल्डिंग उपकरण</p> <p>A4 : laptops लैपटॉप</p>	2.0	0.00
Employability Skills				
60	60	<p>Today's weather is going to be _____. आज का मौसम _____ होने जा रहा है।</p> <p>A1 : Hopeful</p>	2.0	0.00

		आशापूर्ण A2 Warm : गरम A3 Blue : नीला A4 Urgent : बहुत ज़रूरी		
Employability Skills				
61	61	The word 'when' denotes _____ शब्द 'when (जब)' _____ को दर्शाता है A1 place : स्थान A2 thing : चीज़ A3 person : व्यक्ति A4 time : समय	2.0	0.00
Employability Skills				
62	62	Rahul enjoys _____ with his pet dog. राहुल को अपने पालतू कुत्ते के साथ _____ में मजा आता है। A1 playing : खेलने A2 writing : लिखने A3 doing : करने A4 washing : धुलाने	2.0	0.00
Employability Skills				
63	63	Having a clear idea of our personality including strengths, weaknesses, thoughts, beliefs, motivation, values etc is called _____. हमारे व्यक्तित्व का स्पष्ट विचार रखने को ताकत, कमजोरियों, विचारों, विश्वासों, प्रेरणा, मूल्यों आदि सहित को _____ कहा जाता है। A1 Belief : विश्वास A2 Self Awareness : आत्म जागरूकता A3 Myth : मिथ A4 Threat : धमकी	2.0	0.00
Employability Skills				
64	64	_____ are the abilities and qualities you have as a person that helps you grow well in life and career. _____ एक व्यक्ति के रूप में आपके पास मौजूद क्षमताएं और गुण हैं जो आपको जीवन और करियर में अच्छी तरह से बढ़ने में मदद करते हैं। A1 Personal Strengths	2.0	0.00

		<p>व्यक्तिगत ताक़त</p> <p>A2 : Personal weaknesses</p> <p>व्यक्तिगत कमजोरियाँ</p> <p>A3 : Opportunities</p> <p>मौके</p> <p>A4 : Threats</p> <p>धमकी</p>		
Employability Skills				
65	65	<p>_____ are the qualities that are considered negative, and need to be worked on.</p> <p>_____ ऐसे गुण हैं जिन्हें नकारात्मक माना जाता है और जिन पर काम करने की आवश्यकता है।</p> <p>A1 : Personal Strengths</p> <p>व्यक्तिगत ताक़त</p> <p>A2 : Personal weaknesses</p> <p>व्यक्तिगत कमजोरियाँ</p> <p>A3 : Opportunities</p> <p>मौके</p> <p>A4 : Threats</p> <p>धमकी</p>	2.0	0.00
Employability Skills				
66	66	<p>Which of the following is an example of personal weakness?</p> <p>व्यक्तिगत कमजोरी का उदाहरण निम्नलिखित में से कौन सी है?</p> <p>A1 : Confidence</p> <p>आत्मविश्वास</p> <p>A2 : Being lazy</p> <p>आलसी होना</p> <p>A3 : Hard working</p> <p>मेहनती</p> <p>A4 : Active</p> <p>सक्रिय</p>	2.0	0.00
Employability Skills				
67	67	<p>Goals are of 2 types _____</p> <p>लक्ष्य 2 प्रकार के होते हैं: _____</p> <p>A1 : Good and bad goals</p> <p>अच्छे और बुरे लक्ष्य</p> <p>A2 : Long-term and short-term goals</p> <p>दीर्घकालिक और अल्पकालिक लक्ष्य</p> <p>A3 : Rich and poor goals</p> <p>अमीर और गरीब लक्ष्य</p> <p>A4 : Fixed-term and non-fixed term goals</p> <p>निश्चित अवधि और गैर-निश्चित अवधि के लक्ष्य</p>	2.0	0.00
Employability Skills				
68	68	<p>What is stress?</p> <p>तनाव क्या है?</p> <p>A1 : Feeling of joy</p> <p>आनंद की अनुभूति</p>	2.0	0.00

		<p>A2 : Feeling of surprise आश्चर्य की अनुभूति</p> <p>A3 : Feeling of delight आनंद की अनुभूति</p> <p>A4 : Feeling of frustration / disappointment निराशा / निराशा की भावना</p>		
Employability Skills				
69	69	<p>Which of these is a sign of good stress? अच्छे तनाव का संकेत इनमें से कौन सा है?</p> <p>A1 : It prevents you from pursuing your goals. यह आपको अपने लक्ष्यों का पीछा करने से रोकता है।</p> <p>A2 : It makes you doubt yourself. यह आपको खुद पर शक करता है।</p> <p>A3 : Does not lead to long-term tension, loss of sleep. लंबे समय तक तनाव, नींद की कमी नहीं होती है।</p> <p>A4 : Makes you physically ill or causes pain. आपको शारीरिक रूप से बीमार बनाता है या दर्द का कारण बनता है।</p>	2.0	0.00
Employability Skills				
70	70	<p>An activity that stops or reduces stress is called a stress buster. Which of the following according to you is not a stress buster? एक गतिविधि जो तनाव को रोकती है या कम करती है उसे स्ट्रेस बस्टर कहा जाता है। आपके अनुसार निम्नलिखित में से कौन एक स्ट्रेस बस्टर नहीं है?</p> <p>A1 : Spending long hours thinking about the problem. लंबे समय तक समस्या के बारे में सोचते रहना।</p> <p>A2 : Going to bed on time. समय पर बिस्तर जाना</p> <p>A3 : Listening to music. संगीत सुनना</p> <p>A4 : Gardening बागवानी</p>	2.0	0.00
Employability Skills				
71	71	<p>What is mindfulness? माइंडफुलनेस क्या है?</p> <p>A1 : It is the technique of not minding anything. यह किसी भी चीज पर ध्यान न देने की तकनीक है।</p> <p>A2 : It is about sharpening your brain. यह आपके दिमाग को तेज करने के बारे में है।</p> <p>A3 : It is the ability to be fully present in a moment. यह एक पल में पूरी तरह से उपस्थित होने की क्षमता है।</p> <p>A4 : It is the word used to describe people who are full of thoughts. यह उन लोगों का वर्णन करने के लिए इस्तेमाल किया जाने वाला शब्द है जो विचारों से भरे हुए हैं।</p>	2.0	0.00
Employability Skills				
72	72	<p>Which of the following is true about stress? तनाव के बारे में सही निम्नलिखित में से कौन सी है?</p> <p>A1 : Stress can be managed तनाव को प्रबंधित किया जा सकता है</p>	2.0	0.00

		<p>A2 : Stress cannot be controlled तनाव को नियंत्रित नहीं किया जा सकता</p> <p>A3 : Stress can not be decreased तनाव कम नहीं हो सकता</p> <p>A4 : All of the above ऊपर के सभी</p>		
Employability Skills				
73	73	<p>Which of the following statements is true? निम्नलिखित में से कौन से वक्तव्य विवरण सत्य हैं?</p> <p>A1 : Only experts can solve any problem किसी भी समस्या का समाधान केवल विशेषज्ञ ही कर सकते हैं</p> <p>A2 : The more problems you solve, the better you will get at problem solving! आप जितनी अधिक समस्याओं का समाधान करेंगे, समस्या को सुलझाने में आप उतने ही बेहतर होंगे!</p> <p>A3 : We need to pursue a course to even solve a simple problem हमें एक साधारण समस्या को हल करने के लिए भी एक कोर्स करने की आवश्यकता है</p> <p>A4 : It is not important to solve any problem किसी भी समस्या का समाधान जरूरी नहीं है</p>	2.0	0.00
Employability Skills				
74	74	<p>Which of these should be considered while making decisions? निर्णय लेते समय इनमें से किस पर विचार किया जाना चाहिए?</p> <p>A1 : Your mood तुम्हारा मिज़ाज</p> <p>A2 : The choices of your friends आपके दोस्तों की पसंद</p> <p>A3 : The rules of your community आपके समुदाय के नियम</p> <p>A4 : Your personal priorities. आपकी व्यक्तिगत प्राथमिकताएं।</p>	2.0	0.00
Employability Skills				
75	75	<p>Which of these is the full form of SWOT? इनमें से कौन SWOT का पूर्ण रूप है?</p> <p>A1 : Special Wellness Organization Theme Special Wellness Organization Theme</p> <p>A2 : Speak Work Openly Together Speak Work Openly Together</p> <p>A3 : Strong World Olympic Team Strong World Olympic Team</p> <p>A4 : Strength Weakness Opportunity Threat Strength Weakness Opportunity Threat</p>	2.0	0.00

Mechanic Diesel - 1 Year - Set 3

S.No.	Correct Answer Key
1	A4
2	A3
3	A1
4	A1
5	A2
6	A1
7	A2
8	A3
9	A2
10	A1
11	A1
12	A3
13	A3
14	A1
15	A1
16	A2
17	A2
18	A2
19	A4
20	A1
21	A1
22	A2
23	A2
24	A1
25	A2
26	A2
27	A4
28	A1
29	A3
30	A2
31	A2
32	A3
33	A3
34	A1
35	A3
36	A2
37	A2
38	A1

S.No.	Correct Answer Key
39	A2
40	A4
41	A3
42	A1
43	A1
44	A3
45	A1
46	A1
47	A3
48	A2
49	A1
50	A2
51	A1
52	A1
53	A1
54	A1
55	A4
56	A3
57	A2
58	A3
59	A3
60	A2
61	A4
62	A1
63	A2
64	A1
65	A2
66	A2
67	A2
68	A4
69	A3
70	A1
71	A3
72	A1
73	A2
74	A4
75	A4

Note:

"In case answers found to be inaccurate due to typographical error or any other reason please sent mail to qbnimigrievance@gmail.com"