

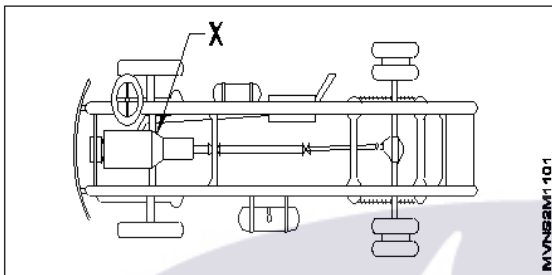
**ALL INDIA TRADE TEST - 2024 FOR CRAFTSMEN**  
**TRAINING SCHEME (CTS)**  
**Trade Name: Mechanic Motor Vehicle**  
**Year: 2nd Year**

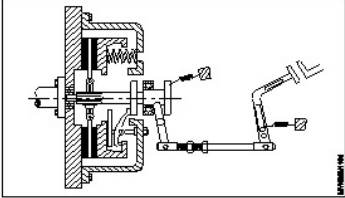
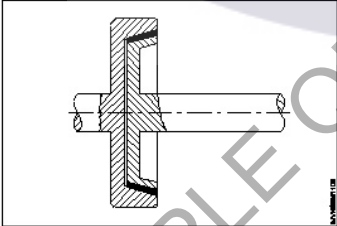
Exam Date :

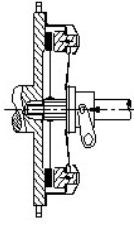
Exam Time :

**Note:**

1. Tick the correct option out of four alternatives provided
2. All questions carry equal marks (2 Marks each)
3. There is no negative marking

Sr. No.	Q ID	Question Body and Alternatives	Marks	Negative Marks
Trade Theory				
1	1	<p>What is the name of the part marked as 'X' shown in the figure?</p> <p>चित्र में दिखाए गए 'X' से चिह्नित भाग का नाम क्या है?</p>  <p>A1 : Steering wheel स्टीयरिंग व्हील</p> <p>A2 : Clutch housing क्लच हाउसिंग</p> <p>A3 : Gear box गियर बॉक्स</p> <p>A4 : Fuel tank फ्यूल टैंक</p>	2.0	0.00
Trade Theory				
2	2	<p>What is the battery voltage used for heavy vehicles?</p> <p>भारी वाहनों के लिए उपयोग की जाने वाली बैटरी वोल्टेज क्या है?</p> <p>A1 : 6 volts 6 volts</p> <p>A2 : 36 volts 36 volts</p> <p>A3 : 24 volts 24 volts</p> <p>A4 : 28 volts 28 volts</p>	2.0	0.00
Trade Theory				
3	3	<p>What is the working principle of clutch?</p> <p>क्लच का कार्यकारी सिद्धांत क्या है?</p> <p>A1 : Sliding</p>	2.0	0.00

		स्लाईडिंग A2 Centripetal : सेन्ट्रीफ्यूगल A3 Friction : घर्षण A4 Screw and Nut : स्कू (नट) एंव नट		
Trade Theory				
4	4	What is the name of the clutch shown in the figure? चित्र में दिखाए गए क्लच का नाम क्या है?  A1 Cone clutch : कोन क्लच A2 Single plate clutch with coil spring : क्वायल स्प्रिंग के साथ सिंगल प्लेट क्लच A3 Diaphragm clutch : डायफ्राम क्लच A4 Multi plate dry wet clutches : मल्टी प्लेट सुखे एंव क्लच	2.0	0.00
Trade Theory				
5	5	What is the name of the clutch shown in the figure? चित्र में दिखाए गए क्लच का नाम क्या है?  A1 Single plate clutch : सिंगल प्लेट क्लच A2 Dog clutch : डोग क्लच A3 Multi plate clutch : मल्टी प्लेट क्लच A4 Cone clutch : कोन क्लच	2.0	0.00
Trade Theory				
6	6	What is the name of the clutch shown in the figure? चित्र में दिखाए गए क्लच का नाम क्या है?	2.0	0.00



A1  
:

Cone clutch

कोन क्लच

A2  
:

Diaphragm spring type clutch

डायफ्राम स्प्रिंग टाईप क्लच

A3  
:

Dog clutch

डोग क्लच

A4  
:

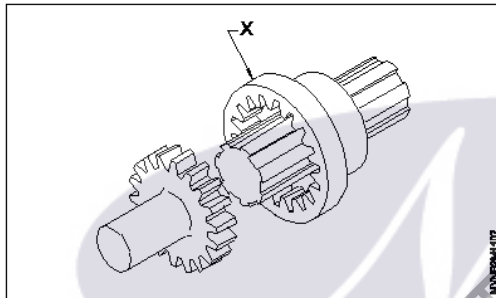
Multi plate clutch

मल्टी प्लेट क्लच

Trade Theory

7 7 What is the name of part marked as 'X' shown in the figure? 2.0 0.00

चित्र में दिखाए गए 'X' से चिह्नित भाग का नाम क्या है?



A1  
:

Splined shaft

स्पलाईड शाफ्ट

A2  
:

Driving shaft

ड्राइविंग शाफ्ट

A3  
:

Sleeve

स्लीव

A4  
:

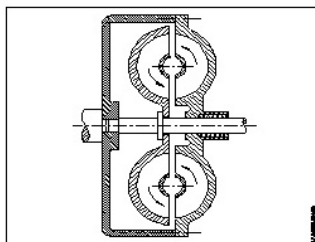
Internal teeth

अन्दरूनी दातें

Trade Theory

8 8 What is the name of the clutch shown in the figure? 2.0 0.00

चित्र में दिखाए गए क्लच का नाम क्या है?



A1  
:

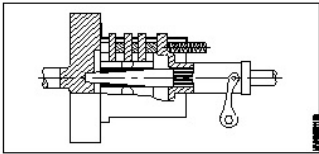
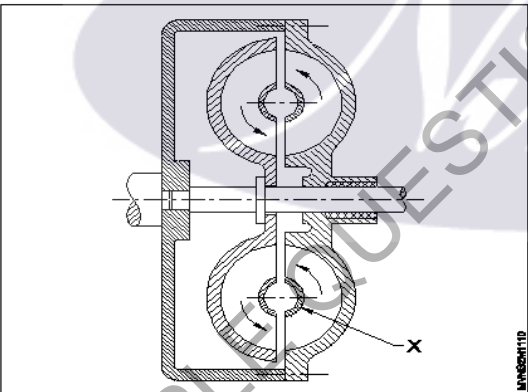
Single plate clutch

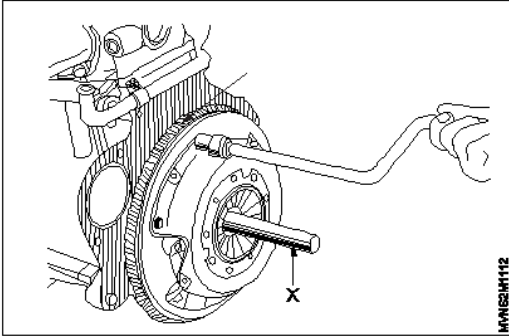
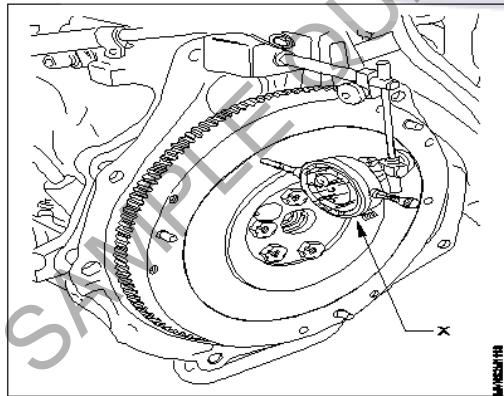
सिंगल प्लेट क्लच

A2  
:

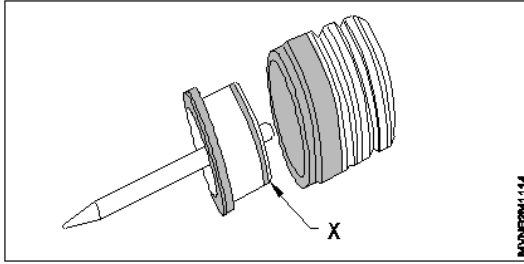
Multi plate clutch

मल्टी प्लेट क्लच

		<p>A3 Fluid coupling clutch : फ्लूइड कपलिंग क्लच</p> <p>A4 Dog clutch : डोग क्लच</p>		
Trade Theory				
9	9	<p>What is the name of the clutch shown in the figure? चित्र में दिखाए गए क्लच का नाम क्या है?</p>  <p>A1 Cone clutch : कोन क्लच</p> <p>A2 Dog clutch : डोग क्लच</p> <p>A3 Multi plate clutch : मल्टी प्लेट क्लच</p> <p>A4 Single plate clutch : सिंगल प्लेट क्लच</p>	2.0	0.00
Trade Theory				
10	10	<p>What is the name of part marked as 'X' shown in the figure? चित्र में दिखाए गए 'X' से चिह्नित भाग का नाम क्या है?</p>  <p>A1 Driving unit impeller : ड्राइविंग यूनिट इम्पेलर</p> <p>A2 Crank shaft : क्रैन्कशाफ्ट</p> <p>A3 Driven shaft : ड्रिविन शाफ्ट</p> <p>A4 Interior fins : अन्दरूनी फिन्स</p>	2.0	0.00
Trade Theory				
11	11	<p>Which instruments are used while inspecting pressure plate warpage? प्रेशर प्लेट वॉरपेज का निरीक्षण करते समय कौन से उपकरणों का उपयोग किया जाता है?</p> <p>A1 Straight edge and feeler gauge : स्ट्रेट एज और फिलर गेज</p> <p>A2 Steel rule and angle gauge : स्टील रूल और एंगल गेज</p>	2.0	0.00

		<p>स्टील रूल और एंगल गेज</p> <p>A3 : Straight edge and slip gauge</p> <p>स्ट्रेट एज और स्लीप गेज</p> <p>A4 : Parallel block and radius gauge</p> <p>परेलल ब्लॉक और रेडियस गेज</p>		
		Trade Theory		
12	12	<p>What is the name of the tool marked as 'X' shown in the figure?</p> <p>चित्र में दिखाए गए 'X' से चिह्नित उपकरण का नाम क्या है?</p>  <p>A1 : Straight edge</p> <p>स्ट्रेट एज</p> <p>A2 : Parallel block</p> <p>परेलल ब्लॉक</p> <p>A3 : Clutch aligner</p> <p>क्लच एलाइनर</p> <p>A4 : Cylindrical drift</p> <p>सिलेण्डरीकल ड्रिफ्ट</p>	2.0	0.00
		Trade Theory		
13	13	<p>What is the name of the instrument marked as 'X' shown in the figure?</p> <p>चित्र में दिखाए गए 'X' से चिह्नित उपकरण का नाम क्या है?</p>  <p>A1 : Outside micrometer</p> <p>आउट साइड माइक्रोमीटर</p> <p>A2 : Dial test indicator</p> <p>डायल टेस्ट इंडिकेटर</p> <p>A3 : Inside micrometer</p> <p>इन साइड माइक्रोमीटर</p> <p>A4 : Bore dial gauge</p> <p>डायल बोर गेज</p>	2.0	0.00
		Trade Theory		
14	14	<p>What is the name of the part marked as 'X' shown in the figure?</p>	2.0	0.00

चित्र में दिखाए गए 'X' से चिह्नित भाग का नाम क्या है?



A1 Thrust washer

:

थ्रस्ट वॉशर

A2 Bush

:

बुश

A3 Lip seal

:

लिप सील

A4 Piston

:

पिस्टन

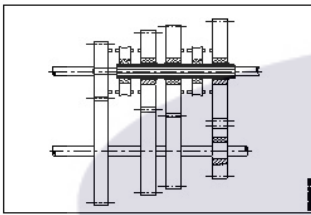
Trade Theory

15

15

What is the type of the gearbox shown in the figure?

चित्र में दिखाए गए गियरबॉक्स का प्रकार क्या है?



A1 Constant mesh gear box

:

कौन्स्टेन्ट मैश गियर बॉक्स

A2 Sliding mesh gear box

:

स्लाइडिंग मैश गियर बॉक्स

A3 Synchromesh gear box

:

सिन्क्रोमैश गियर बॉक्स

A4 Automatic synchromesh gear box

:

ऑटोमेटिक स्लाइडिंग गियर बॉक्स

Trade Theory

2.0

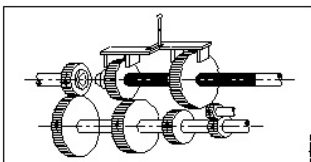
0.00

16

16

What is the type of the gearbox shown in the figure?

चित्र में दिखाए गए गियरबॉक्स का प्रकार क्या है?



A1 Constant mesh gear box

:

कौन्स्टेन्ट मैश गियर बॉक्स

A2 Sliding mesh gear box

:

स्लाइडिंग मैश गियर बॉक्स

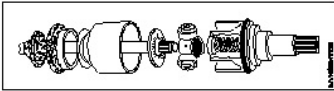
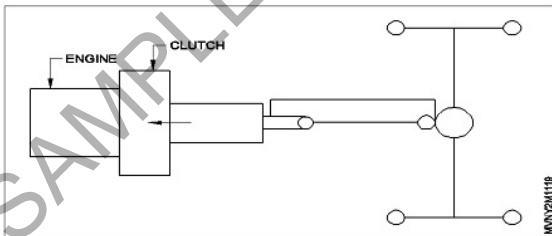
A3 Synchromesh gear box

:

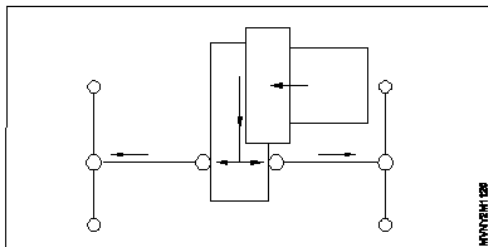
सिन्क्रोमैश गियर बॉक्स

2.0

0.00

		<p>A4 : Automatic sliding gear box ऑटोमेटिक रूलाइडिंग गियर बॉक्स</p>		
Trade Theory				
17	17	<p>Which instrument is used to check the face out of the fly wheel? फ्लाई व्हील का फेस आउट चेक करने के लिए किस उपकरण का प्रयोग किया जाता है?</p> <p>A1 : Dial test indicator डायल परीक्षण सूचक</p> <p>A2 : Bore dial gauge बोर डायल गेज</p> <p>A3 : Outside micrometer आऊट साइड माइक्रोमीटर</p> <p>A4 : Inside micrometer इन साइड माइक्रोमीटर</p>	2.0	0.00
Trade Theory				
18	18	<p>What is the type of constant velocity joint shown in the figure? चित्र में दर्शाए गए स्थिर वेग जोड़ का प्रकार क्या है?</p>  <p>A1 : Pot joint पोट ज्वाइंट</p> <p>A2 : Tripod joint ट्रॉइपोड ज्वाइंट</p> <p>A3 : Ball joint बाल ज्वाइंट</p> <p>A4 : Double joint डबल ज्वाइंट</p>	2.0	0.00
Trade Theory				
19	19	<p>What is the type of drive line shown in the figure? चित्र में दर्शाई गई ड्राइव लाइन का प्रकार क्या है?</p>  <p>A1 : Front wheel drive line फ्रन्ट व्हील ड्राइव लाइन</p> <p>A2 : Four wheel drive line फोर व्हील ड्राइव लाइन</p> <p>A3 : Rear wheel drive line रियर व्हील ड्राइव लाइन</p> <p>A4 : Center wheel drive line सेन्टर व्हील ड्राइव लाइन</p>	2.0	0.00
Trade Theory				
20	20	<p>What is the type of drive line shown in the figure?</p>	2.0	0.00

चित्र में दर्शाई गई ड्राइव लाइन का प्रकार क्या है?



A1  
: Front wheel drive line

फ्रन्ट व्हील ड्राइव लाइन

A2  
: Rear wheel drive line

रियर व्हील ड्राइव लाइन

A3  
: Center wheel drive line

सेन्टर व्हील ड्राइव लाइन

A4  
: Four wheel drive line

फोर व्हील ड्राइव लाइन

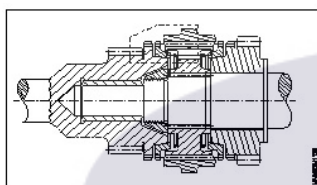
Trade Theory

21

21

What is the type of synchromesh gear box shown in the figure?

चित्र में दर्शाया गया सिंक्रोमेश गियर बॉक्स किस प्रकार का है?



A1  
: Bulk ring type

बल्क रिंग टाइप

A2  
: Bulk type

बल्क टाइप

A3  
: Multi and double cone type

मल्टी और डबल कोन टाइप

A4  
: Porsche type

पोर्च टाइप

2.0

0.00

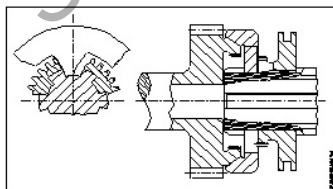
Trade Theory

22

22

What is the type of synchromesh gear box shown in the figure?

चित्र में दर्शाया गया सिंक्रोमेश गियर बॉक्स किस प्रकार का है?



A1  
: Bulk ring type

बल्क रिंग टाइप

A2  
: Multi and double cone type

मल्टी और डबल कोन टाइप

A3  
: Bulk type

बल्क टाइप

2.0

0.00



A4  
: Porsche type  
पोर्च टाइप

Trade Theory

23

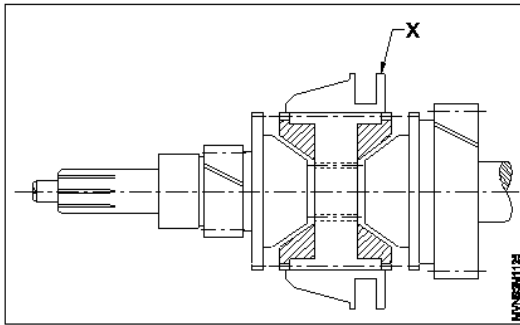
23

What is the name of the part marked as 'X' shown in the figure?

2.0

0.00

चित्र में दिखाए गए 'X' से चिह्नित भाग का नाम क्या है?



A1  
: Gear

गियर

A2  
: Conical cup

कोनीकल कप

A3  
: Hub

हप

A4  
: Synchronizer sleeve

सिन्क्रोनाइजर स्लीव

Trade Theory

24

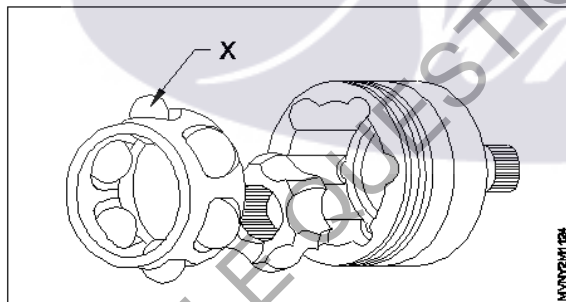
24

What is the name of the part marked as 'X' shown in the figure?

2.0

0.00

चित्र में दिखाए गए 'X' से चिह्नित भाग का नाम क्या है?



A1  
: Wheel end

व्हील एंड

A2  
: Balls

बाल

A3  
: Ball shell

बाल शेल

A4  
: Ball star

बाल स्टार

Trade Theory

25

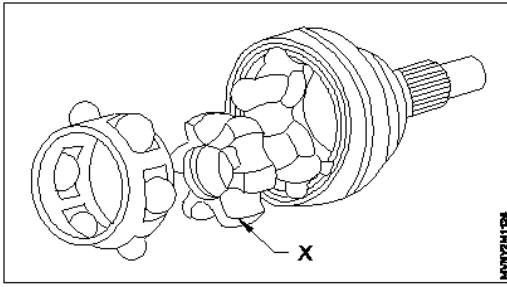
25

What is the name of the part marked as 'X' shown in the figure?

2.0

0.00

चित्र में दिखाए गए 'X' से चिह्नित भाग का नाम क्या है?



A1 : Wheel end

व्हील एंड

A2 : Balls

बाल

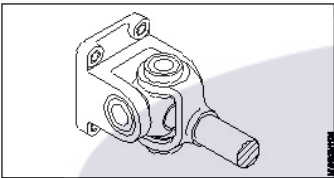
A3 : Ball star

बाल शेल

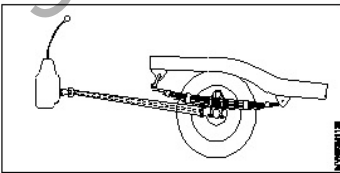
A4 : Ball shell

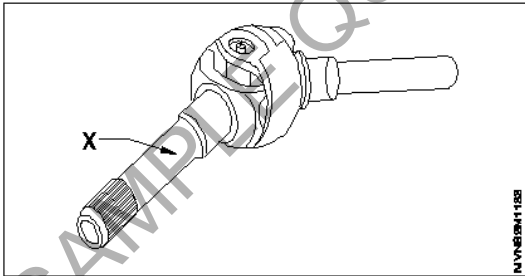
बाल स्टार

Trade Theory

26	26	<p>What is the type of joint shown in the figure?</p> <p>चित्र में दर्शाए गए जोड़ का प्रकार क्या है?</p>  <p>A1 : Tripod joint ट्रिपॉड जॉइंट</p> <p>A2 : Cross type universal joint बाल ज्वाइंट</p> <p>A3 : Pot joint पॉट जॉइंट</p> <p>A4 : Double joint डबल ज्वाइंट</p>	2.0	0.00
----	----	--	-----	------

Trade Theory

27	27	<p>What is the type of drive shown in the figure?</p> <p>चित्र में दर्शाए गए ड्राइव का प्रकार क्या है?</p>  <p>A1 : Torque tube drive टॉर्क ट्यूब ड्राइव</p> <p>A2 : Hotchkiss drive होचकिंस ड्राइव</p> <p>A3 : Four wheel drive फोर व्हील ड्राइव</p>	2.0	0.00
----	----	--	-----	------



		<p>A4 : Front wheel drive फ्रन्ट व्हील ड्राइव</p>		
Trade Theory				
28	28	<p>Which type of joint permit diffraction angles upto to <math>26^{\circ}</math> and axial displacement upto 55mm? किस प्रकार का जोड़ <math>26^{\circ}</math> तक विवर्तन कोण और 55 मिमी तक अक्षीय विस्थापन की अनुमति देता है?</p> <p>A1 : Flexible discs फ्लैक्सिबल डिस्कस</p> <p>A2 : Double joint डबल ज्वाइंट</p> <p>A3 : Pot joint पोट ज्वाइंट</p> <p>A4 : Tripod joint ट्रॉइपोट ज्वाइंट</p>	2.0	0.00
Trade Theory				
29	29	<p>What is the maximum permitted diffraction angle of double joint? दोहरे जोड़ का अधिकतम अनुमत विवर्तन कोण क्या है?</p> <p>A1 : <math>50^{\circ}</math> <math>50^{\circ}</math></p> <p>A2 : <math>62^{\circ}</math> <math>62^{\circ}</math></p> <p>A3 : <math>58^{\circ}</math> <math>58^{\circ}</math></p> <p>A4 : <math>72^{\circ}</math> <math>72^{\circ}</math></p>	2.0	0.00
Trade Theory				
30	30	<p>What is the name of part marked as 'X' shown in the figure? चित्र में दिखाए गए 'X' से चिह्नित भाग का नाम क्या है?</p>  <p>A1 : Spider स्पाइडर</p> <p>A2 : Shaft wheel end शाफ्ट व्हील एण्ड</p> <p>A3 : Double joint fork डबल ज्वाइंट फोर्क</p> <p>A4 : Sealing cap सिलिंग कप</p>	2.0	0.00
Trade Theory				
31	31	<p>What is the maximum permitted diffraction angle of pot joint? पॉट जोड़ का अधिकतम स्वीकार्य विवर्तन कोण क्या है?</p>	2.0	0.00

		A1 : 18° 18° A2 : 20° 20° A3 : 22° 22° A4 : 26° 26°		
Trade Theory				
32	32	Which type of gear converts rotary motion in to linear motion and vice versa? किसी प्रकार का गियर रोटरी मोशन को रेखीय गति में बदला जाता है और इसके विपरीत?  A1 : Helical gears हैलीकल गियर A2 : Rack and Pinion रैक और पिनियन A3 : Spur gear स्पर गियर A4 : Bevel gear बैवल गियर	2.0	0.00
Trade Theory				
33	33	Which type of gear avoids axial thrust while transmitting torque? टॉर्क संचारित करते समय किस प्रकार का गियर अक्षीय थ्रस्ट से बचता है?  A1 : Helical gears हैलीकल गियर A2 : Worm gears वर्म गियर A3 : Spiral bevel gear स्पाइरल बैवल गियर A4 : Spur gear स्पर गियर	2.0	0.00
Trade Theory				
34	34	Which type of gear will have more than one teeth in contact at the same time? किस प्रकार के गियर में एक ही समय में एक से अधिक दांते आपस में मिले होते हैं?  A1 : Spur gear स्पर गियर A2 : Rack and Pinion रैक एण्ड पिनियन A3 : Helical gear हैलीकल गियर A4 : Spur bevel gear स्पाइरल बैवल गियर	2.0	0.00
Trade Theory				
35	35	Which type of gear teeth are straight and parallel to the gear axis? किस प्रकार के गियर दांते गियर एक्सिस से सीधे एंव समांतर होते हैं?	2.0	0.00

		A1 : Spur gear स्पर गियर A2 : Helical gear हैलीकल गियर A3 : Worm gear वर्म गियर A4 : Bevel gear बैवल गियर		
Trade Theory				
36	36	Which type of seal allows a controlled amount of fluid leakage to lubricate moving parts? किस प्रकार की सील मूविंग पार्ट्स को लुब्रिकेट देने के लिए नियंत्रित मात्रा में द्रव रिसाव की अनुमति देती है?  A1 : Static seal स्थिर सील A2 : Positive seal पोजिटिव सील A3 : Non - positive seal नॉन पोजिटिव सील A4 : Dynamic seal डायनेमिक सील	2.0	0.00
Trade Theory				
37	37	What is the name of seal used between two parts that do not move in relation to each other? दो भाग जो एक दुसरे के साथ नहीं घूमते हैं उनके बीच किस प्रकार की सील का प्रयोग किया जाता है?  A1 : Dynamic seal डायनेमिक सील A2 : Static seal स्टेरिक सील A3 : Square cut seal चकौर कट सील A4 : Teflon seal टेफ्लोन	2.0	0.00
Trade Theory				
38	38	What is the advantage of using constant mesh gear box? कान्स्टेन्ट मेश गियर बॉक्स के प्रयोग का क्या लाभ है?  A1 : Quick change of gear गियर का त्वरित परिवर्तन A2 : Wrong adjustment of gear will not affect the function गियर की गलत होने पर कार्य न होना प्रभावित A3 : Smooth power transmission सदृज शक्ति स्थानांतरण A4 : Efficient lubrication possible प्रभावकारी लुब्रीकेशन की सम्भावना	2.0	0.00
Workshop Calculation and Science				
39	39	Which is wasteful friction? कौन सा बेकार घर्षण है?	2.0	0.00

		A1 : Rear axle gear रियर एक्सल गियर A2 : Tyres on the floor फर्श पर टायर A3 : Brake shoe lining ब्रेक शू अस्तर A4 : Clutch lining क्लच अस्तर		
Workshop Calculation and Science				
40	40	Which force is directly proportional to the normal reaction between contacting surfaces? कौन सा बल सीधे सतहों से संपर्क के बीच सामान्य प्रतिक्रिया के लिए आनुपातिक है?  A1 : Pulling force कर्षण बल A2 : Pushing force बल धक्का A3 : Frictional force घर्षण बल A4 : Allied force मित्र देशों की शक्ति	2.0	0.00
Workshop Calculation and Science				
41	41	Which one of the following acts in between the wheels and roads, if vehicles are able to run on roads? यदि वाहन सड़कों पर चलने में सक्षम हैं, तो पहियों और सड़कों के बीच में निम्न में से कौन सा कार्य करता है?  A1 : Friction टकराव A2 : Corrosion जंग A3 : Erosion कटाव A4 : Motion प्रस्ताव	2.0	0.00
Workshop Calculation and Science				
42	42	Which symbol is used to denote co-efficient of friction? घर्षण के गुणांक को निरूपित करने के लिए किस प्रतीक का प्रयोग किया जाता है?  A1 : $\alpha$ (Alpha) $\alpha$ (Alpha) A2 : $\mu$ (Meu) $\mu$ (Meu) A3 : $\beta$ (Beta) $\beta$ (Beta) A4 : $\gamma$ (Gamma) $\gamma$ (Gamma)	2.0	0.00
Workshop Calculation and Science				
43	43	What is the name of the point at which all the weight of the body concentrated? उस बिंदु का नाम क्या है जिस पर शरीर के सभी भार केंद्रित थे?  A1 : Initial point	2.0	0.00

		<p>प्रारंभिक बिंदु</p> <p>A2 : Centre of gravity</p> <p>गुरुत्वाकर्षण का केंद्र</p> <p>A3 : Centroid</p> <p>केन्द्रक</p> <p>A4 : Central point</p> <p>केन्द्र बिन्दु</p>		
Workshop Calculation and Science				
44	44	<p>Where the centre of gravity of a circle lies?</p> <p>एक वृत्त के गुरुत्वाकर्षण का केंद्र कहाँ स्थित है?</p> <p>A1 : At its centre</p> <p>इसके केंद्र में</p> <p>A2 : Any where on its radius</p> <p>इसकी त्रिज्या पर कोई जहाँ</p> <p>A3 : Any where on its circumference</p> <p>इसकी परिधि पर कोई जहाँ</p> <p>A4 : Any where on its diameter</p> <p>इसके व्यास पर कोई जहाँ</p>	2.0	0.00
Engineering Drawing				
45	45	<p>Two general type of tyres are _____.</p> <p>दो सामान्य प्रकार के टायर _____ हैं।</p> <p>A1 : tube type and tubeless</p> <p>ट्यूब प्रकार और ट्यूबलेस</p> <p>A2 : air and pneumatic</p> <p>वायु और वायवीय</p> <p>A3 : solid and tubeless</p> <p>सॉलिड और ट्यूबलेस</p> <p>A4 : split rim and drop centre</p> <p>स्प्लिट रिम और ड्रॉप सेंटर</p>	2.0	0.00
Engineering Drawing				
46	46	<p>How many cells are used in a 12 volt car battery?</p> <p>12 वोल्ट कार की बैटरी में कितने सेल का उपयोग किया जाता है?</p> <p>A1 : 2</p> <p>2</p> <p>A2 : 4</p> <p>4</p> <p>A3 : 6</p> <p>6</p> <p>A4 : 8</p> <p>8</p>	2.0	0.00
Engineering Drawing				
47	47	<p>The power actually developed inside the engine cylinder is called as _____</p> <p>इंजन सिलेंडर के अंदर वास्तव में विकसित शक्ति को _____ कहा जाता है.</p> <p>A1 : indicated power</p> <p>संकेतित शक्ति</p>	2.0	0.00

		<p>A2 : frictional power घर्षण शक्ति</p> <p>A3 : brake power ब्रेक पावर</p> <p>A4 : none of these इनमें से नहीं</p>		
Engineering Drawing				
48	48	<p>Choose the right option for given symbol. दिए गए चिन्ह के लिए सही विकल्प चुनें.</p>  <p>A1 : Battery warning बैटरी चेतावनी</p> <p>A2 : Oil pressure warning तेल के दबाव की चेतावनी</p> <p>A3 : Rear window defrost रियर विंडो डीफ्रॉस्ट</p> <p>A4 : All of these ये सभी</p>	2.0	0.00
Engineering Drawing				
49	49	<p>Choose the right option for given symbol. दिए गए चिन्ह के लिए सही विकल्प चुनें.</p>  <p>A1 : Low fuel कम ईंधन</p> <p>A2 : Oil pressure warning तेल के दबाव की चेतावनी</p> <p>A3 : Emergency indicator आपातकालीन संकेतक</p> <p>A4 : Battery warning बैटरी चेतावनी</p>	2.0	0.00
Engineering Drawing				
50	50	<p>Choose the right option for given symbol. दिए गए प्रतीक चिन्ह के लिए सही विकल्प चुनें.</p>	2.0	0.00





A1  
: Battery warning

बैटरी चेतावनी

A2  
: Low fuel notification

कम ईंधन अधिसूचना

A3  
: Hazard lights

खतरा लाइटों

A4  
: Front air bag

फ्रंट एयरबैग

#### Employability Skills

51	51	Which is the most essential skill to get a job? नौकरी पाने के लिए सबसे जरूरी स्किल कौन सी है?	2.0	0.00
		<p>A1 : Interview Skill</p> <p>इंटरव्यू स्किल</p> <p>A2 : Translation Skill</p> <p>ट्रांसलेशन स्किल</p> <p>A3 : Entrepreneurship Skill</p> <p>एंटरप्रेन्योरशिप स्किल</p> <p>A4 : Learning more language skill</p> <p>और अधिक भाषा कौशल सीखना</p>		

#### Employability Skills

52	52	For applying a job your first preparation is _____ नौकरी के लिए आवेदन करने के लिए आपकी पहली तैयारी _____ है।	2.0	0.00
		<p>A1 : book a ticket to interview place</p> <p>साक्षात्कार स्थल के लिए एक टिकट बुक करें</p> <p>A2 : save money for expenses</p> <p>खर्चों के लिए पैसे बचाएं</p> <p>A3 : preparing resume</p> <p>बायोडेटा तैयार करें</p> <p>A4 : prepare for interview</p> <p>इंटरव्यू के लिए तैयारी करें</p>		

#### Employability Skills

53	53	Campus recruitment is conducted at _____ कैम्पस भर्ती _____ में आयोजित की जाती है।	2.0	0.00
		<p>A1 : capital city of the state</p> <p>राज्य की राजधानी में</p> <p>A2 : ITI</p> <p>ITI</p> <p>A3 : in a company</p> <p>कंपनी में</p>		

		A4 : on line ऑनलाइन		
Employability Skills				
54	54	In your resume, which information has less importance? आपके बायोडेटा में कौन सी जानकारी कम महत्व रखती है?  A1 : Qualification योग्यता A2 : Experience अनुभव A3 : Skill training completed पूरे हुए कौशल प्रशिक्षण A4 : Expected salary अपेक्षित वेतन	2.0	0.00
Employability Skills				
55	55	The ability to connect well with people _____ है। लोगों के साथ अच्छी तरह जुड़ने की क्षमता _____ है।  A1 : interpersonal skill इंटरपर्सनल स्किल A2 : leadership लीडरशिप A3 : time management टाइम मैनेजमेंट A4 : creativity क्रिएटिविटी	2.0	0.00
Employability Skills				
56	56	The ability to wait and stay calm _____ है। प्रतीक्षा करने और शांत रहने की क्षमता _____ है।  A1 : creativity क्रिएटिविटी A2 : problem solving प्रॉब्लम सॉल्विंग A3 : patience पेशेंस A4 : interpersonal skill इंटरपर्सनल स्किल	2.0	0.00
Employability Skills				
57	57	Punctuality means _____ है। समय की पाबंदी का अर्थ _____ है।  A1 : done by punching machine पंचिंग मशीन द्वारा किया गया है A2 : informal इनफॉर्मल A3 : politeness पलाइटनेस	2.0	0.00

		<p>A4 : being on time</p> <p>समय पर होना</p>		
Employability Skills				
58	58	<p>When you borrow a pen from your classmate, you should say?</p> <p>जब आप अपने सहपाठी से कलम उधार लेते हैं, तो आपको क्या कहना चाहिए?</p> <p>A1 : Give me your pen</p> <p>मुझे अपना पेन दो</p> <p>A2 : Can you please give me a pen</p> <p>क्या आप कृपया मुझे एक पेन दे सकते हैं</p> <p>A3 : I want a pen</p> <p>मुझे एक पेन चाहिए</p> <p>A4 : I take your pen</p> <p>मैं आपका पेन लेता हूँ</p>	2.0	0.00
Employability Skills				
59	59	<p>Magnificent, sharp, lengthy, bright, - are examples of _____</p> <p>मैग्निफिकेंट, शार्प, लैंग्थी, ब्राइट, - _____ के उदाहरण हैं</p> <p>A1 : describing words</p> <p>डिस्क्राइबिंग वर्ड्स</p> <p>A2 : action words</p> <p>एक्शन वर्ड्स</p> <p>A3 : nouns</p> <p>नाउन</p> <p>A4 : pronouns</p> <p>प्रोनाउन</p>	2.0	0.00
Employability Skills				
60	60	<p>Table, wire, socket, cable, hammer, nail - are _____</p> <p>टेबल, तार, सॉकेट, केबल, हथौड़ा, कील _____ हैं।</p> <p>A1 : describing words</p> <p>डिस्क्राइबिंग वर्ड्स</p> <p>A2 : pronouns</p> <p>प्रोनाउन</p> <p>A3 : naming words</p> <p>नेमिंग वर्ड्स</p> <p>A4 : action words</p> <p>एक्शन वर्ड्स</p>	2.0	0.00
Employability Skills				
61	61	<p>Comma, full stop, question mark are examples of _____</p> <p>कॉमा, फुल स्टॉप, क्वेश्चन मार्क _____ के उदाहरण हैं।</p> <p>A1 : design</p> <p>डिज़ाइन</p> <p>A2 : next paragraph</p> <p>नेक्स्ट पैराग्राफ</p> <p>A3 : formal communication</p> <p>फॉर्मल कम्युनिकेशन</p>	2.0	0.00

		A4 : punctuation mark पंक्चुएशन मार्क		
Employability Skills				
62	62	When you start a discussion on a topic, what do you say? जब आप किसी विषय पर चर्चा आरंभ करते हैं तो आप क्या कहते हैं?  A1 : Let you start आइए शुरू करें  A2 : Let me say मुझे कहने दीजिये  A3 : Let us discuss आइए चर्चा करें  A4 : Let us finish आइये खत्म करें	2.0	0.00
Employability Skills				
63	63	While addressing your boss, you should be _____ अपने बॉस को सम्बोधित करते समय आपको _____ होना चाहिए।  A1 : Impolite इम्पलाइट  A2 : Informal इनफॉर्मल  A3 : Formal फॉर्मल  A4 : Expressive एक्सप्रेसिव	2.0	0.00
Employability Skills				
64	64	You are requested to complete the given assignment by Monday This is an example of _____ आपसे अनुरोध है कि दिए गए कार्य को सोमवार तक पूरा करें। यह _____ का एक उदाहरण है।  A1 : informal communication इनफॉर्मल कम्युनिकेशन  A2 : a request एक रिक्वेस्ट  A3 : an order एक आर्डर  A4 : formal communication फॉर्मल कम्युनिकेशन	2.0	0.00
Employability Skills				
65	65	Gestures, facial expressions, eye contact are examples of _____ जेस्चर, फेसिअल एक्सप्रेसन, आइ कांटेक्ट _____ के उदाहरण हैं।  A1 : verbal communication वर्बल कम्युनिकेशन  A2 : non-verbal communication नॉन-वर्बल कम्युनिकेशन  A3 : oral communication ओरल कम्युनिकेशन	2.0	0.00

		A4 : written communication रिटेन कम्युनिकेशन		
Employability Skills				
66	66	Hi, how are you, whats up, these are examples of _____ नमस्ते, आप कैसे हैं, क्या चल रहा है, ये _____ के उदाहरण हैं।  A1 : formal communication फॉर्मल कम्युनिकेशन  A2 : informal communication इनफॉर्मल कम्युनिकेशन  A3 : polite communication पोलाइट कम्युनिकेशन  A4 : impolite communication इम्पलाइट कम्युनिकेशन	2.0	0.00
Employability Skills				
67	67	Complete these sentence with suitable describing words The roads in my town are in _____ condition. इन वाक्यों को उपयुक्त वर्णनात्मक शब्दों से पूरा करें। The roads in my town are in _____ condition.  A1 : good good  A2 : expensive expensive  A3 : beautiful beautiful  A4 : safe safe	2.0	0.00
Employability Skills				
68	68	Complete the sentence with suitable describing words There is a _____ garden with lovely flowers. उचित वर्णनात्मक शब्दों से वाक्य पूरा करें। There is a _____ garden with lovely flowers.  A1 : good good  A2 : spacious spacious  A3 : big big  A4 : beautiful beautiful	2.0	0.00
Employability Skills				
69	69	Complete the sentence with suitable describing words There is a _____ playground near our house. उपयुक्त वर्णनात्मक शब्दों से वाक्य पूरा करें। There is a _____ playground near our house.  A1 : spacious spacious  A2 : big big	2.0	0.00

		<p>A3 : beautiful</p> <p>beautiful</p> <p>A4 : good</p> <p>good</p>		
Employability Skills				
70	70	<p>Complete the sentence with suitable describing words. There are _____ apartments in my neighbourhood. उपयुक्त वर्णनात्मक शब्दों से वाक्य पूरा करें। There are _____ apartments in my neighbourhood.</p> <p>A1 : expensive</p> <p>expensive</p> <p>A2 : beautiful</p> <p>beautiful</p> <p>A3 : good</p> <p>good</p> <p>A4 : spacious</p> <p>spacious</p>	2.0	0.00
Employability Skills				
71	71	<p>Fill up the blanks with suitable words so as to become a meaningful sentence. The Principal called Manoj. The Principal asked _____ to show _____ hall ticket for the CTS Examination. रिक्त स्थानों को उचित शब्दों से भरें ताकि एक सार्थक वाक्य बन सके। The Principal called Manoj. The Principal asked _____ to show _____ hall ticket for the CTS Examination.</p> <p>A1 : him, his</p> <p>him, his</p> <p>A2 : him, her</p> <p>him, her</p> <p>A3 : her, his</p> <p>her, his</p> <p>A4 : her, him</p> <p>her, him</p>	2.0	0.00
Employability Skills				
72	72	<p>Fill up the blanks with suitable words so as to become a meaningful sentence "Tell us about a difficult situation you have _____ and how you _____ to come out of it." रिक्त स्थानों को उचित शब्दों से भरें ताकि एक सार्थक वाक्य बन सके। "Tell us about a difficult situation you have _____ and how you _____ to come out of it."</p> <p>A1 : face, manage</p> <p>face, manage</p> <p>A2 : managed, face</p> <p>managed, face</p> <p>A3 : faced, manage</p> <p>faced, manage</p> <p>A4 : faced, managed</p> <p>faced, managed</p>	2.0	0.00
Employability Skills				
73	73	<p>Complete the sentence with suitable describing words There is a factory in the area. The air is _____. उचित वर्णनात्मक शब्दों से वाक्य पूरा करें। There is a factory in the area. The air is _____.</p> <p>A1 : polluted</p> <p>polluted</p>	2.0	0.00

		A2 boring : boring A3 uneven : uneven A4 noisy : noisy		
Employability Skills				
74	74	Complete the sentence with suitable describing words There is water scarcity in the locality. The area is _____. उचित वर्णनात्मक शब्दों से वाक्य पूरा करें। There is water scarcity in the locality. The area is _____.  A1 uneven : uneven A2 noisy : noisy A3 dry : dry A4 boring : boring	2.0	0.00
Employability Skills				
75	75	Complete the sentence with suitable describing words The transportation to some rural areas is difficult as the roads are _____. उचित वर्णनात्मक शब्दों से वाक्य पूरा करें। The transportation to some rural areas is difficult as the roads are _____.  A1 dry : dry A2 polluted : polluted A3 boring : boring A4 uneven : uneven	2.0	0.00

### Mechanic Motor Vehicle - 2nd Year - Set 1

S.No.	Correct Answer Key
1	A2
2	A3
3	A3
4	A2
5	A4
6	A2
7	A3
8	A3
9	A3
10	A4
11	A1
12	A3
13	A2
14	A3
15	A1
16	A2
17	A1
18	A2
19	A3
20	A1
21	A1
22	A3
23	A4
24	A2
25	A3
26	A2
27	A1
28	A4
29	A1
30	A2
31	A3
32	A2
33	A4
34	A3
35	A1
36	A3
37	A2
38	A3

S.No.	Correct Answer Key
39	A1
40	A3
41	A1
42	A2
43	A2
44	A1
45	A1
46	A3
47	A1
48	A1
49	A1
50	A3
51	A1
52	A3
53	A2
54	A4
55	A1
56	A3
57	A4
58	A2
59	A1
60	A3
61	A4
62	A3
63	A3
64	A4
65	A2
66	A2
67	A1
68	A4
69	A2
70	A4
71	A1
72	A4
73	A1
74	A3
75	A4

**Note:**

"In case answers found to be inaccurate due to typographical error or any other reason please sent mail to [qbnimigrievance@gmail.com](mailto:qbnimigrievance@gmail.com)"