



All India Trade Test - 2024 for Craftsmen Training Scheme (CTS)
Trade Name: Mechanic Motor Vehicle Year 1
Year: 1st Year

Exam Date :
Exam Time :

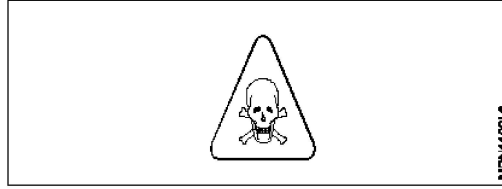
Note:

1. Tick the correct option out of four alternatives provided
2. All questions carry equal marks (2 Marks each)
3. There is no negative marking

Sr. No.	Client Question ID	Question Body and Alternatives	Marks	Negative Marks
Trade Theory				
1	1	<p>What is the type of mechanical hazards in workshop? कार्यशाला में यांत्रिक खतरों का प्रकार क्या है?</p> <p>A1 : Sickness रोग (बीमारी)</p> <p>A2 : Current leakage विद्युत् धारा रिसाव</p> <p>A3 : Unguarded machinery गैर-संरक्षित मशीनरी</p> <p>A4 : Wrong layout of machinery मशीनरी का गलत लेआउट</p>	2.0	0.00
Trade Theory				
2	2	<p>What is the name of risk symbol? दिए गए जोखिम प्रतीक का नाम क्या है?</p> <div style="text-align: center;">  </div> <p>A1 : Risk of fire आग का जोखिम</p> <p>A2 : Risk of wind हवा का जोखिम</p> <p>A3 : Risk of slippage फिसलन का जोखिम</p> <p>A4 : Risk of hazard खतरे का जोखिम</p>	2.0	0.00
Trade Theory				
3	3	<p>Which type of personal protective equipment used to protect eye? आँख की सुरक्षा के लिए किस प्रकार के व्यक्तिगत सुरक्षा उपकरण (PPE) का उपयोग किया जाता है?</p> <p>A1 : Cap टोपी (केप)</p> <p>A2 : Mask मुखौटा (मास्क)</p>	2.0	0.00

		<p>A3 Gloves : दस्ताने (ग्लव्स)</p> <p>A4 Goggles : काले चश्मे (गॉगल्स)</p>		
Trade Theory				
4	4	<p>Which type of protective equipment used to protect head? सिर की सुरक्षा के लिए किस प्रकार के सुरक्षात्मक उपकरण का उपयोग किया जाता है?</p> <p>A1 Boot : बूट</p> <p>A2 Mask : मुखौटा (मास्क)</p> <p>A3 Apron : एप्रन</p> <p>A4 Helmet : हेलमेट</p>	2.0	0.00
Trade Theory				
5	5	<p>Which type of oil used in the lifts and cranes? लिफ्टों और क्रेन में किस प्रकार का तेल प्रयोग किया जाता है?</p> <p>A1 Gingelly oil : गिंगेली तेल (तिल का तेल)</p> <p>A2 Coconut oil : नारियल का तेल</p> <p>A3 Hydraulic oil : हाइड्रॉलिक तेल</p> <p>A4 Ground nut oil : मूँगफली का तेल</p>	2.0	0.00
Trade Theory				
6	6	<p>What is the name of the warning sign? निम्न चेतावनी संकेत का नाम क्या है?</p> <div style="text-align: center;">  </div> <p>A1 Risk of fire : आग का जोखिम (खतरा)</p> <p>A2 Laser beam : लेज़र बीम</p> <p>A3 Toxic hazard : विषाक्त खतरा</p> <p>A4 Risk of electric shock : बिजली के झटके का खतरा</p>	2.0	0.00
Trade Theory				
7	7	<p>What is the name of the warning sign?</p>	2.0	0.00

निम्न चेतावनी संकेत का नाम क्या है?



A1 Fork lift

: फोर्क लिफ्ट

A2 Risk of fire

: आग का खतरा

A3 Fragile roof

: नाजुक छत

A4 Toxic hazard

: विषाक्त खतरा

Trade Theory

8

8

What is the name of the mandatory sign?

निम्न अनिवार्य चिन्ह का नाम क्या है?



A1 Save water

: जल बचाओ

A2 Wash hand

: हाथ धोएं

A3 Canteen zone

: कैटीन ज़ोन

A4 Drinking water

: पीने का पानी

Trade Theory

2.0

0.00

9

9

Which is the cause for fire while refuelling the hot engine?

गर्म इंजन को ईंधन भरने के दौरान आग लगने का क्या कारण होता है?

A1 Vapour

: वाष्प

A2 Paper

: कागज़

A3 Cloth

: कपड़ा

A4 Leather

: चमड़ा

Trade Theory

2.0

0.00

10

10

Which type of material toxic may cause for lung cancer?

फेफड़े के कैंसर के लिए किस प्रकार की सामग्री विषाक्त हो सकती है?



2.0



0.00

		<p>A1 Fiber : रेशा (फाइबर)</p> <p>A2 Wood : लकड़ी</p> <p>A3 Graphite : ग्रेफाईट</p> <p>A4 Asbestos : एस्बेस्टस</p>		
Trade Theory				
11	11	<p>What is ABC in first aid? प्राथमिक चिकित्सा में ABC क्या है?</p> <p>A1 Army, Branch, Calculate : Army, Branch, Calculate</p> <p>A2 Aviation, Breathing, Cumin : Aviation, Breathing, Cumin</p> <p>A3 Away, Breathing, Calculation : Away, Breathing, Calculation</p> <p>A4 Airway, Breathing, Circulation : Airway, Breathing, Circulation</p>	2.0	0.00
Trade Theory				
12	12	<p>Which is the three elements must be present for burning of any fire? किसी भी आग को जलाने के लिए कौन से तीन तत्व मौजूद होने चाहिए?</p> <p>A1 Fuel + Heat + Oxygen : ईंधन + ऊष्मा + ऑक्सीजन</p> <p>A2 Oxygen + Fuel + Paper : ऑक्सीजन + ईंधन + कागज</p> <p>A3 Heat + Water + Oxygen : ऊष्मा + पानी + ऑक्सीजन</p> <p>A4 Smoke + Fuel + Oxygen : धुआँ + ईंधन ऑक्सीजन</p>	2.0	0.00
Trade Theory				
13	13	<p>What is the cause for electric fire? बिजली की आग का कारण क्या है?</p> <p>A1 Rated fuses : रेटिड फ्यूज़</p> <p>A2 Under loaded circuit : लोडेड सर्किट के तहत</p> <p>A3 Over loaded circuits : ओवर लोडेड सर्किट</p> <p>A4 Tight wire connection : तंग तार कनेक्शन</p>	2.0	0.00
Trade Theory				
14	14	<p>Which is highly flammable liquid? अत्यधिक ज्वलनशील तरल कौन सा है?</p>	2.0	0.00

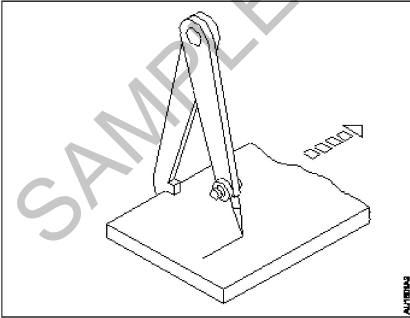
		<p>A1 LPG : रसोई गैस</p> <p>A2 Water : पानी</p> <p>A3 Diesel : डीज़ल</p> <p>A4 Crude oil : कच्चा तेल</p>		
Trade Theory				
15	15	<p>Which should not be used on burning liquids? जलते हुए तरल पदार्थ पर किसका उपयोग नहीं किया जाना चाहिए?</p> <p>A1 CO₂ : CO₂</p> <p>A2 Foam : झाग (फोम)</p> <p>A3 Sand : रेत</p> <p>A4 Water : पानी</p>	2.0	0.00
Trade Theory				
16	16	<p>What is the class of gas burning fire? गैस जलाने वाली आग किस वर्ग की होती है?</p> <p>A1 Class - A : Class - A</p> <p>A2 Class - B : Class - B</p> <p>A3 Class - C : Class - C</p> <p>A4 Class - D : Class - D</p>	2.0	0.00
Trade Theory				
17	17	<p>Which object is to be prevent class 'B' fire? कक्षा 'B' की आग को रोकने के लिए कौन सी वस्तु है?</p> <p>A1 CO₂ : CO₂</p> <p>A2 Argon : आर्गन</p> <p>A3 Oxygen : ऑक्सीजन</p> <p>A4 Nitrogen : नाइट्रोजन</p>	2.0	0.00
Trade Theory				
18	18	<p>Which type of fire extinguisher suitable for class 'A' fire? कक्षा 'A' की आग के लिए किस प्रकार का अग्निशामक उपयुक्त होता है?</p>	2.0	0.00

		<p>A1 Halon : हेलॉन</p> <p>A2 Dry powder : सूखा पाउडर</p> <p>A3 Foam or water : फोम या पानी</p> <p>A4 Carbon-di-oxide : कार्बन डाइऑक्साइड</p>		
Trade Theory				
19	19	<p>Which fire extinguisher suitable for class "C" fire? क्लास "C" आग के लिए कौन सा अग्निशामक उपयुक्त है?</p> <p>A1 Foam filled extinguisher : फोम भरा अग्निशामक</p> <p>A2 Water filled extinguisher : पानी भरा हुआ अग्निशामक</p> <p>A3 Dry powder fire extinguisher : सूखा पाउडर अग्निशामक</p> <p>A4 Carbon-di-oxide fire extinguisher : कार्बन डाइऑक्साइड अग्निशामक</p>	2.0	0.00
Trade Theory				
20	20	<p>Which safety involves wearing of gloves and helmet in a workshop? एक कार्यशाला में दस्ताने और हेलमेट पहनना किस सुरक्षा में शामिल है?</p> <p>A1 General safety : सामान्य सुरक्षा</p> <p>A2 Personal safety : व्यक्तिगत सुरक्षा</p> <p>A3 Machine safety : मशीन की सुरक्षा</p> <p>A4 General and machine safety : सामान्य और मशीन सुरक्षा</p>	2.0	0.00
Trade Theory				
21	21	<p>Which is the safety precaution to be adopted in handling diesel machine? डीजल मशीन को संभालने में अपनाई जाने वाली सुरक्षा सावधानी कौन सी है?</p> <p>A1 Use correct viscosity oil : सही श्यानता वाले तेल का उपयोग करें</p> <p>A2 Remove safeguard of rotating part : घूमने वाले हिस्सों का सेफगार्ड निकालें</p> <p>A3 Use oil/greasy hand to repair work : मरम्मत वाले कार्य के लिए तेल/ग्रीस वाले हाथ का उपयोग करें</p> <p>A4 Use diesel engine with loose mounting : ढीली माउंटिंग के साथ डीजल इंजन का उपयोग करें</p>	2.0	0.00
Trade Theory				
22	22	<p>Which part of the human body need to protect in high noise level at work place? मानव शरीर के किस हिस्से को कार्यस्थल पर उच्च शोर स्तर में संरक्षित करने की आवश्यकता होती है?</p>	2.0	0.00

		<p>A1 Ear : कान</p> <p>A2 Eye : आंख</p> <p>A3 Nose : नाक</p> <p>A4 Head : सिर</p>		
Trade Theory				
23	23	<p>Which personal protective equipment protect from the dust particles? कौन से व्यक्तिगत सुरक्षा उपकरण धूल के कणों से बचाते हैं?</p> <p>A1 Mask : मुखौटा (मास्क)</p> <p>A2 Apron : एप्रन</p> <p>A3 Gloves : दस्ताने (ग्लव्स)</p> <p>A4 Face shield : फेस शील्ड</p>	2.0	0.00
Trade Theory				
24	24	<p>What is the name of the prohibition sign? निम्न निषेध संकेत का नाम क्या है?</p> <div style="text-align: center;">  </div> <p>A1 One way prohibited : एक तरफ से निषिद्ध</p> <p>A2 Pedestrians prohibited : पैदल चलने वालों को निषिद्ध</p> <p>A3 Do not extinguish with water : पानी से न बुझाएं</p> <p>A4 Smoking and naked flames prohibited : धूम्रपान और नग्न लपटें निषिद्ध</p>	2.0	0.00
Trade Theory				
25	25	<p>What is the name of the protection sign? निम्न सुरक्षा चिह्न का नाम क्या है?</p> <div style="text-align: center;">  </div> <p>A1 Eye protection : नेत्र सुरक्षा</p>	2.0	0.00

		<p>A2 Head protection : सिर की सुरक्षा</p> <p>A3 Hearing protection : कानों की सुरक्षा</p> <p>A4 Respiratory protection : श्वास प्रश्वास सम्बन्धी सुरक्षा (रेस्पिरेटरी)</p>		
Trade Theory				
26	26	<p>What is the name of the safety sign? निम्न सुरक्षा चिह्न का नाम क्या है?</p>  <p>A1 No trespassing : प्रवेश निषेध</p> <p>A2 Pedestrians prohibited : पैदल चलने वालों को निषिद्ध</p> <p>A3 No walking in the workplace : कार्यक्षेत्र में नहीं चलना</p> <p>A4 No strolling at this workplace : इस कार्यस्थल पर नहीं टहलना</p>	2.0	0.00
Trade Theory				
27	27	<p>What is the name of the safety sign? निम्न सुरक्षा चिह्न का नाम क्या है?</p>  <p>A1 Wear head protection : सिर की सुरक्षा पहनें</p> <p>A2 Protect head from rain : सिर को बारिश से बचाएं</p> <p>A3 Sun cap must be worn : सन कैप जरूर पहनना चाहिए</p> <p>A4 Only construction workers allowed : केवल निर्माण श्रमिकों को अनुमति</p>	2.0	0.00
Trade Theory				
28	28	<p>Which types of safety involves wearing of safety shoes and goggle in a workshop? किस प्रकार की सुरक्षा में एक कार्यशाला में सुरक्षा जूते पहनना और पहनना शामिल है?</p> <p>A1 General safety : सामान्य सुरक्षा</p> <p>A2 Personal safety : व्यक्तिगत सुरक्षा</p>	2.0	0.00

		<p>A3 Machine safety : मशीन की सुरक्षा</p> <p>A4 General and machine safety : सामान्य और मशीन सुरक्षा</p>		
Trade Theory				
29	29	<p>Which automobile component produces dust? कौन सा ऑटोमोबाइल घटक धूल पैदा करता है?</p> <p>A1 Axle : धुरी (एक्सेल)</p> <p>A2 Piston : पिस्टन</p> <p>A3 Gear box : गियर बॉक्स</p> <p>A4 Brake shoe : ब्रेक शू</p>	2.0	0.00
Trade Theory				
30	30	<p>Which device is best for control toxic waste? विषाक्त अपशिष्ट को नियंत्रित करने के लिए कौन सा उपकरण सबसे अच्छा है?</p> <p>A1 Wire brush : तार का ब्रश (वायर ब्रश)</p> <p>A2 Cotton waste : कॉटन वेस्ट</p> <p>A3 Air compressor : एयर कंप्रेसर</p> <p>A4 Vacuum cleaner : वैक्यूम क्लीनर</p>	2.0	0.00
Trade Theory				
31	31	<p>What is called the isolating the fire from the supply of oxygen by blanketing with foam and sand? फोम और रेत के साथ कंबल द्वारा ऑक्सीजन की आपूर्ति से आग को अलग करने को क्या कहा जाता है?</p> <p>A1 Cooling : शीतलक (कूलिंग)</p> <p>A2 Starting : स्टार्टिंग</p> <p>A3 Misfiring : मिसफायरिंग</p> <p>A4 Smothering : स्मोदरिंग</p>	2.0	0.00
Trade Theory				
32	32	<p>What is the type of fire with wood, cloth, and paper? लकड़ी, कपड़ा और कागज के साथ आग का प्रकार क्या है?</p> <p>A1 Class - A : Class - A</p> <p>A2 Class - B : Class - B</p>	2.0	0.00

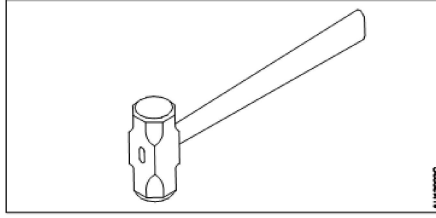
		A3 Class - C : Class - C A4 Class - D : Class - D		
Trade Theory				
33	33	Which type of fire extinguisher unsuitable for electric fire? बिजली के आग के लिए किस प्रकार का अग्निशामक यंत्र अनुपयुक्त है? A1 CO ₂ : CO ₂ A2 CTC : CTC A3 Foam : झाग (फोम) A4 Dry powder : सूखा पाउडर	2.0	0.00
Trade Theory				
34	34	Which spanner used for zero setting in outside micrometer? बाहरी माइक्रोमीटर में शून्य सेटिंग के लिए किस स्पैनर का उपयोग किया जाता है? A1 Hook spanner : हुक स्पैनर A2 Ring spanner : रिंग स्पैनर A3 Double end spanner : डबल एंड स्पैनर A4 Adjustable spanner : एडजस्टेबल स्पैनर	2.0	0.00
Trade Theory				
35	35	What is the name of caliper? निम्न कैलीपर का नाम क्या है? 	2.0	0.00
		A1 Outside caliper : आउटसाइड कैलिपर A2 Firm joint caliper : फर्म ज्वाइंट कैलिपर A3 Spring joint caliper : स्प्रिंग ज्वाइंट कैलीपर A4 Heal type jenny calliper :		

36

36

What is the name of hammer?

निम्न हथौड़े (हैमर) का नाम क्या है?



A1 Club hammer

:

क्लब हैमर

A2 Ball peen hammer

:

बॉल पीन हैमर

A3 Cross peen hammer

:

क्रॉस पीन हैमर

A4 Straight peen hammer

:

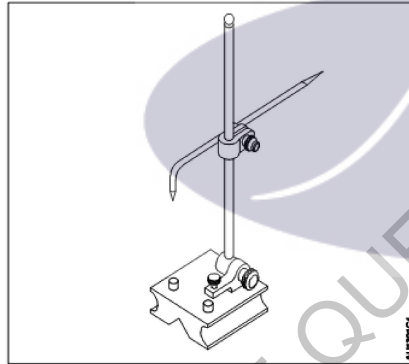
स्ट्रेट पीन हैमर

37

37

What is the name of marking instrument?

निम्न मार्किंग उपकरण का नाम क्या है?



A1 Bevel gauge

:

बेवल गेज

A2 Bevel protractor

:

बेवल प्रोट्रेक्टर

A3 Universal bevel gauge

:

यूनिवर्सल बेवल गेज

A4 Universal surface gauge

:

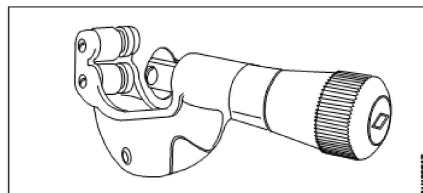
यूनिवर्सल सरफेस गेज

38

38

What is the name of tool?

निम्न औजार (टूल) का नाम क्या है?



2.0

0.00

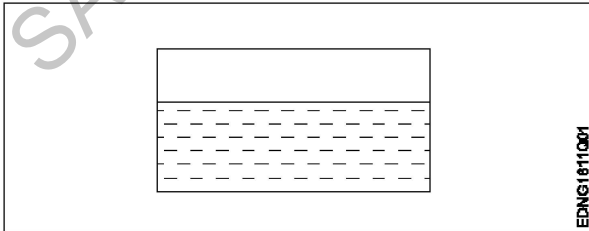
2.0

0.00

2.0

0.00

		<p>A1 Curve cutter : कर्व (वक्र) कटर</p> <p>A2 Circle cutter : सर्किल (वृत्त) कटर</p> <p>A3 Pipe cutter : पाइप कटर</p> <p>A4 Thread cutter : थ्रेड कटर</p>		
Workshop Calculation Science				
39	39	<p>What are the two classifications of system of units? इकाइयों की प्रणाली के दो प्रकार कौनसे हैं?</p> <p>A1 British and Metric : ब्रिटिश और मीट्रिक</p> <p>A2 Gravitational and non-gravitational : गुरुत्वाकर्षण और गैर-गुरुत्वाकर्षण</p> <p>A3 Fundamental and derived : मौलिक और व्युत्पन्न</p> <p>A4 Metric and International : मेट्रिक और इंटरनेशनल</p>	2.0	0.00
Workshop Calculation Science				
40	40	<p>What are fundamental units? इनमें से मूलभूत इकाइयों कौन-कौनसी हैं?</p> <p>A1 Length, Mass, Volume : लंबाई, द्रव्यमान, आयतन</p> <p>A2 Length, Mass, Time : लंबाई, द्रव्यमान, समय</p> <p>A3 Length, Mass, Area : लंबाई, द्रव्यमान, क्षेत्रफल</p> <p>A4 Length, Pressure, Volume : लंबाई, दाब, आयतन</p>	2.0	0.00
Workshop Calculation Science				
41	41	<p>What denotes letter 'M' in MKS system? MKS प्रणाली में 'M' अक्षर क्या दर्शाता है?</p> <p>A1 Mfile : Mile</p> <p>A2 Meter : Meter</p> <p>A3 Millimeter : Millimeter</p> <p>A4 Micron : Micron</p>	2.0	0.00
Workshop Calculation Science				
42	42	<p>How many millimetres are there in 1 inch? 1 इंच में कितने मिलीमीटर होते हैं?</p>	2.0	0.00

		A1 2.54 mm : 2.54 mm A2 25.4 mm : 25.4 mm A3 24.5 mm : 24.5 mm A4 2.45 mm : 2.45 mm		
Workshop Calculation Science				
43	43	What is the square root of 529? 529 का वर्गमूल क्या है? A1 13 : 13 A2 23 : 23 A3 33 : 33 A4 43 : 43	2.0	0.00
Workshop Calculation Science				
44	44	Convert 0.456 decimal fraction into percentage. 0.456 दशमलव भिन्न को प्रतिशत में बदलिये? A1 45.6% : 45.6% A2 4.56% : 4.56% A3 0.456% : 0.456% A4 0.0456% : 0.0456%	2.0	0.00
Engineering Drawing				
45	45	Identify the conventional symbol of material? चित्र में दिखाए गए सामग्री के पारंपरिक प्रतीक का पता लगाएं? 	2.0	0.00
		A1 Water : पानी A2 Concrete : ठोस A3 Asbestos : Asbestos		

ऐस्बेटस
A4 Glass
कांच

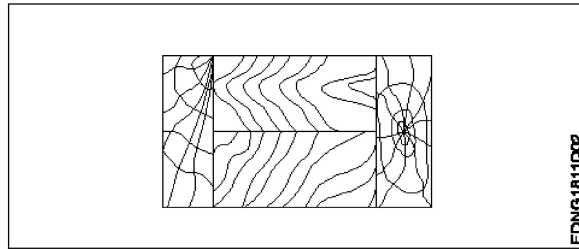
Engineering Drawing

46 46

Identify the conventional symbol of material?
चित्र में दिखाए गए सामग्री के पारंपरिक प्रतीक का पता लगाएं?

2.0

0.00



A1 Lead
लेड
A2 Glass
कांच
A3 Wood
लकड़ी
A4 Paper
कागज़

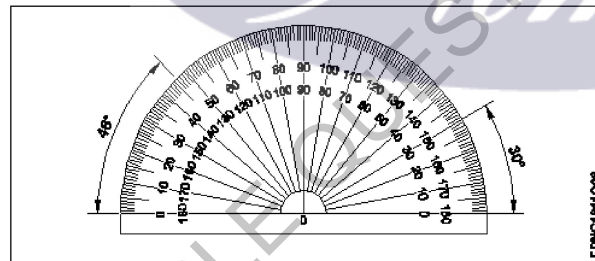
Engineering Drawing

47 47

Identify the name of instrument?
चित्र में दिखाए गए उपकरणों के नाम की पहचान करें?

2.0

0.00



A1 Set square
गुनिया
A2 Protractor
चांदा
A3 French curve
फ्रेंच वक्र
A4 'T' square
टी स्क्वायर

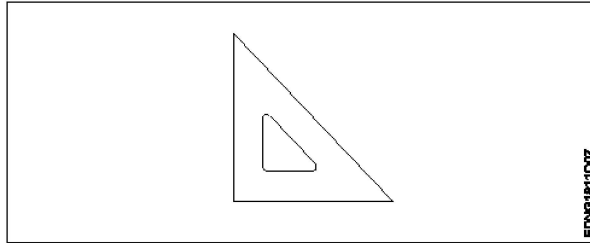
Engineering Drawing

48 48

Identify the name of set square?
सेट स्क्वायर का नाम खोजें?

2.0

0.00



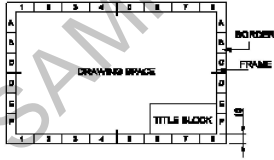
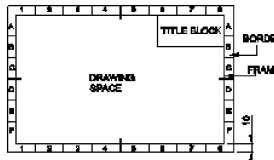
EDMS1811607

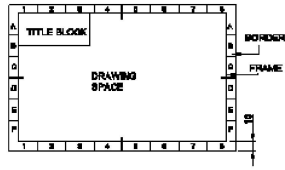
- A1
: 15° set square
15° सेट स्कायर
- A2
: 60° set square
60° सेट स्कायर
- A3
: 30° set square
30° सेट स्कायर
- A4
: 45° set square
45° सेट स्कायर

Engineering Drawing

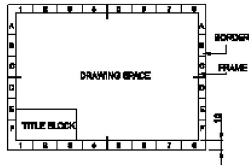
49	49	<p>Compass used to draw for ____.</p> <p>कम्पास का उपयोग ____ को ड्रा करने के लिए किया जाता है.</p> <p>A1 : rectangle आयत</p> <p>A2 : square वर्ग</p> <p>A3 : circle वृत्त</p> <p>A4 : triangle त्रिकोण</p>	2.0	0.00
----	----	---	-----	------

Engineering Drawing

50	50	<p>Which title block position is correct as standard practice?</p> <p>एक मानक अभ्यास के रूप में कौन सी शीर्षक ब्लॉक स्थिति सही है?</p> <p>A1 :</p>  <p>A2 :</p>  <p>A3 :</p>	2.0	0.00
----	----	--	-----	------



A4
:



Employability Skills

51	51	<p>To be in a job or work is..... नौकरी या काम में होना है</p> <p>A1 Employ : रोजगार</p> <p>A2 Skill : कौशल</p> <p>A3 Knowledge : ज्ञान</p> <p>A4 Aptitude : योग्यता</p>	2.0	10.00
----	----	--	-----	-------

Employability Skills

52	52	<p>The ability to do is..... करने की क्षमता है।</p> <p>A1 Knowledge : ज्ञान</p> <p>A2 Experience : अनुभव</p> <p>A3 Skill : कौशल</p> <p>A4 Job : काम</p>	2.0	0.00
----	----	---	-----	------

Employability Skills

53	53	<p>A person with a growth mindset is always willing to..... एक विकास मानसिकता वाला व्यक्ति हमेशा तैयार रहता है।</p> <p>A1 relax : आराम करने में</p> <p>A2 grow, change, learn : बढ़ो, बदलो, सीखो</p> <p>A3 keep quiet : चुप रहने में</p> <p>A4 become rich : अमीर बनने</p>	2.0	0.00
----	----	--	-----	------

Employability Skills

54	54	<p>Jobs that have become outdated in the past 5 years.... नौकरियां जो पिछले 5 वर्षों में पुरानी हो गई हैं।</p> <p>A1 : STD booth STD बूथ</p> <p>A2 : ola ओला</p> <p>A3 : uber उबेर</p> <p>A4 : swiggy Swiggy</p>	2.0	0.00
Employability Skills				
55	55	<p>21st century workplace skills help you to get employed..... 21वीं सदी के कार्यस्थल कौशल आपको रोजगार पाने में मदद करते हैं.....।</p> <p>A1 : very difficult बहुत कठिन</p> <p>A2 : even job market keep changing यहां तक कि जॉब मार्केट भी बदलता रहता है</p> <p>A3 : only when market is growing केवल जब बाजार बढ़ रहा है</p> <p>A4 : only with higher qualification केवल उच्च योग्यता के साथ</p>	2.0	0.00
Employability Skills				
56	56	<p>Ethics means नैतिकता का अर्थ है.....।</p> <p>A1 : decide what is right and wrong for a human conduct तय करें कि मानव आचरण के लिए क्या सही है और क्या गलत</p> <p>A2 : name of a city एक शहर का नाम</p> <p>A3 : employability skills रोजगार कौशल</p> <p>A4 : not relevant to society समाज से संबंधित नहीं है</p>	2.0	0.00
Employability Skills				
57	57	<p>Values are..... मान हैं।</p> <p>A1 : not punctual समयनिष्ठ नहीं</p> <p>A2 : Motivates our attitude and action हमारे दृष्टिकोण और कार्रवाई को प्रेरित करता है</p> <p>A3 : very costly बहुत क्रीमती</p> <p>A4 : all have same value सभी का मूल्य समान है</p>	2.0	0.00
Employability Skills				


58	58	<p>..... is a brief statement about purpose and principles of the Constitution.संविधान के उद्देश्य और सिद्धांतों के बारे में संक्षिप्त विवरण है।</p> <p>A1 Syllabus : पाठ्यक्रम</p> <p>A2 Module : मापांक</p> <p>A3 The Preamble : प्रस्तावना</p> <p>A4 Unit : इकाई</p>	2.0	0.00
Employability Skills				
59	59	<p>Identify the improper term..... अनुचित पद को पहचानिए।</p> <p>A1 green pollution : हरित प्रदूषण</p> <p>A2 water pollution : जल प्रदूषण</p> <p>A3 air pollution : वायु प्रदूषण</p> <p>A4 sound pollution : ध्वनि प्रदूषण</p>	2.0	0.00
Employability Skills				
60	60	<p>People from all religions or no religions are treated equally means..... सभी धर्मों या किसी भी धर्म के लोगों के साथ समान व्यवहार नहीं किया जाता हैसेक्युलर देश</p> <p>A1 democratic : जनतांत्रिक</p> <p>A2 religious : धार्मिक</p> <p>A3 non secular : गैर धर्मनिरपेक्ष</p> <p>A4 secular Country : धर्मनिरपेक्ष देश</p>	2.0	0.00
Employability Skills				
61	61	<p>..... is major changes takes place in manufacturing. मैनुफैक्चरिंग में प्रमुख परिवर्तन होते हैं।</p> <p>A1 Green revolution : हरित क्रांति</p> <p>A2 Industry revolution : उद्योग क्रांति</p> <p>A3 Water revolution : जल क्रांति</p> <p>A4 Food revolution : खाद्य क्रांति</p>	2.0	0.00
Employability Skills				

62	62	1st industrial revolution started in..... पहली औद्योगिक क्रांति की शुरुआत। A1 18th century : 18 वीं सदी A2 19th century : 19 वीं सदी A3 20th century : 20 वीं सदी A4 21st century : 21 वीं सदी	2.0	0.00
Employability Skills				
63	63	Hard Skill..... कठिन कौशल.....। A1 quick learner : त्वरित शिक्षार्थी A2 time management : समय प्रबंधन A3 60 WPM typing speed : 60 WPM टाइपिंग स्पीड A4 spoken English : मौखिक अंग्रेजी	2.0	0.00
Employability Skills				
64	64	To grow yourself you must..... अपने आप को विकसित करने के लिए आपको चाहिए। A1 know your office : अपने कार्यालय को जानें A2 know yourself : खुद को जानें A3 know your institute : अपने संस्थान को जानें A4 know your country : अपने देश को जानो	2.0	0.00
Employability Skills				
65	65	Time management..... समय प्रबंधन.....। A1 complete your task on time : अपना कार्य समय पर पूरा करें A2 managing time : प्रबंधन समय A3 hard skill : कठिन कौशल A4 problem solving : समस्या को सुलझाना	2.0	0.00
Employability Skills				

66	66	<p>A resume should be _____.</p> <p>एक रिज्यूम _____ होना चाहिए</p> <p>A1 : short and precise छोटा और सटीक</p> <p>A2 : fancy and colourful फैंसी और रंगीन</p> <p>A3 : having long and detailed information लंबी और विस्तृत जानकारी होना</p> <p>A4 : having acronyms and abbreviation समरूप और संक्षिप्त नाम होना</p>	2.0	0.00
Employability Skills				
67	67	<p>A written description of duties and responsibilities to be carried out in a job is called _____.</p> <p>किसी कार्य में किए जाने वाले कर्तव्यों और जिम्मेदारियों का लिखित विवरण _____ कहा जाता है</p> <p>A1 : CV CV</p> <p>A2 : job description नौकरी का विवरण</p> <p>A3 : resume रिज्यूम</p> <p>A4 : job application नौकरी के लिए आवेदन</p>	2.0	0.00
Employability Skills				
68	68	<p>After receiving interview call, what is the next step?</p> <p>साक्षात्कार कॉल प्राप्त करने के बाद, अगला कदम क्या है?</p> <p>A1 : Send application letter आवेदन पत्र भेजें</p> <p>A2 : Prepare the resume रिज्यूम तैयार करें</p> <p>A3 : Appear at interview साक्षात्कार में में जाये</p> <p>A4 : Send resume रिज्यूम भेजे</p>	2.0	0.00
Employability Skills				
69	69	<p>Choose suitable "wh" word for the given sentence. " _____ animal do you like?"</p> <p>दिए गए वाक्य के लिए उपयुक्त "wh" शब्द चुनें। " _____ animal do you like?"</p> <p>A1 : Which Which</p> <p>A2 : Why Why</p> <p>A3 : Where Where</p> <p>A4 : When When</p>	2.0	0.00
Employability Skills				

70	70	<p>Choose the correct punctuation mark after the word "Rohan" in the given sentence. "Rohan David and Ram are playing hide and seek"</p> <p>दिए गए वाक्य में शब्द "रोहन" के बाद सही विराम चिह्न चुनें। "Rohan David and Ram are playing hide and seek"</p> <p>A1 : Comma (,) अल्पविराम (,)</p> <p>A2 : Period (.) अवधि (.)</p> <p>A3 : Slash (/) स्लैश (/)</p> <p>A4 : Hyphen (-) हाइफ़न (-)</p>	2.0	0.00
Employability Skills				
71	71	<p>Choose the correct response for the given question. "How have you been"?</p> <p>दिए गए प्रश्न के लिए सही उत्तर चुनिए। "How have you been"?</p> <p>A1 : Very well, And you? Very well, And you?</p> <p>A2 : Thank you_ And you? Thank you_ And you?</p> <p>A3 : Same to you Same to you</p> <p>A4 : On vacation_ And you? On vacation_ And you?</p>	2.0	0.00
Employability Skills				
72	72	<p>Choose the correct response of the given question. "When did the accident happen"?</p> <p>दिए गए प्रश्न की सही प्रतिक्रिया चुनें। "When did the accident happen"?</p> <p>A1 : in the hotel in the hotel</p> <p>A2 : during travelling during travelling</p> <p>A3 : At 10:30 last night At 10:30 last night</p> <p>A4 : On the table On the table</p>	2.0	0.00
Employability Skills				
73	73	<p>Choose the correct tense of the verb. "I _____ music when I was child"</p> <p>क्रिया का सही काल चुनें। "I _____ music when I was child"</p> <p>A1 : learn learn</p> <p>A2 : am learning am learning</p> <p>A3 : will learn will learn</p> <p>A4 : learnt learnt</p>	2.0	0.00
Employability Skills				

74	74	<p>Curriculum vitae is also known as _____ . Curriculum vitae को _____ के रूप में भी जाना जाता है।</p> <p>A1 circular : परिपत्र</p> <p>A2 resume : रिज्यूम</p> <p>A3 job application form : नौकरी के लिए आवेदन पत्र</p> <p>A4 leave application : छुट्टी की अर्जी</p>	2.0	0.00
Employability Skills				
75	75	<p>Fill in the blank with comparative adjective. "Your pencil is _____ than mine" तुलनात्मक विशेषण के साथ रिक्त स्थान भरें। "Your pencil is _____ than mine"</p> <p>A1 sharp : sharp</p> <p>A2 sharper : sharper</p> <p>A3 blunt : blunt</p> <p>A4 thick : thick</p>	2.0	0.00



SAMPLE QUESTION PAPER SET

Mechanic Motor Vehicle - 1st year (Eng) SET 1

Question Number	Correct Alternative position
1	A3
2	A1
3	A4
4	A4
5	A3
6	A4
7	A4
8	A2
9	A1
10	A4
11	A4
12	A1
13	A3
14	A1
15	A4
16	A3
17	A1
18	A3
19	A3
20	A2
21	A2
22	A1
23	A1
24	A4
25	A1
26	A2
27	A1
28	A2
29	A4
30	A4
31	A4
32	A1
33	A3
34	A1
35	A4
36	A1
37	A4
38	A3
39	A3
40	A2
41	A2
42	A2
43	A2
44	A1
45	A1

46	A3
47	A2
48	A4
49	A3
50	A1
51	A1
52	A3
53	A2
54	A1
55	A2
56	A1
57	A2
58	A3
59	A1
60	A4
61	A2
62	A1
63	A3
64	A2
65	A1
66	A1
67	A2
68	A3
69	A1
70	A1
71	A1
72	A3
73	A4
74	A2
75	A2

KEY ANSWER SET ↑