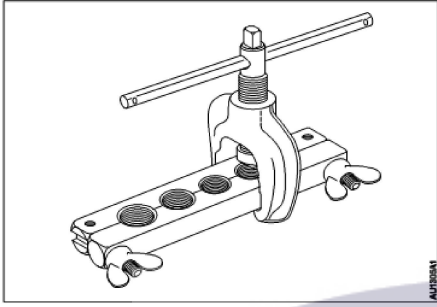
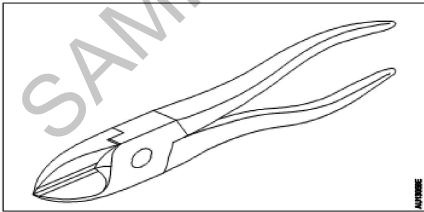


All India Trade Test - 2024 for Craftmen Training Scheme (CTS)
Trade Name: Mechanic Motor Vehicle Year 1
Year: 1st Year

Exam Date :
 Exam Time :

Note:

1. Tick the correct option out of four alternatives provided
2. All questions carry equal marks (2 Marks each)
3. There is no negative marking

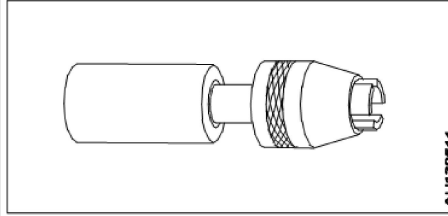
Sr. No.	Client Question ID	Question Body and Alternatives	Marks	Negative Marks
Trade Theory				
1	1	<p>What is the name of tool? निम्न औजार (टूल) का नाम क्या है?</p>  <p>A1 Crimping tool : क्रिम्पिंग टूल</p> <p>A2 Flaring tool : फ्लेयारिंग टूल</p> <p>A3 Wrench : रिच (पाना)</p> <p>A4 Ratchet : रैचिट</p>	2.0	0.00
Trade Theory				
2	2	<p>What is the name of plier? निम्न प्लायर का नाम क्या है?</p>  <p>A1 Round nose plier : राउंड नोज प्लायर</p> <p>A2 End cutting plier : एंड कटिंग प्लायर</p> <p>A3 Side cutting plier : साइड कटिंग प्लायर</p> <p>A4 Combination plier : </p>	2.0	0.00

3

3

What is the name of the vice?

निम्न वाइस का नाम क्या है?



A1 Pipe vice

:

पाइप वाइस

A2 Hand vice

:

हैण्ड वाइस

A3 Pin vice

:

पिन वाइस

A4 Tool maker's vice

:

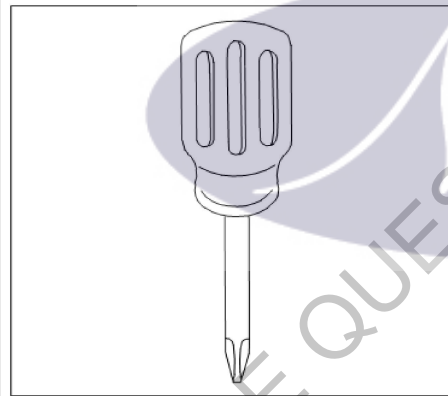
टूल मेकर की वाइस

4

4

What is the name of the screw driver?

निम्न स्कू ड्राइवर का नाम क्या है?



A1 Ratchet screw driver

:

रैचिट स्कू ड्राइवर

A2 Offset screw driver

:

ऑफसेट स्कू ड्राइवर

A3 Stumpy screw driver

:

स्टम्पी स्कू ड्राइवर

A4 Cross-Recess(Phillips)screw driver

:

क्रॉस-रिसेस (फिलिप्स) स्कू ड्राइवर

5

5

Which gauge is used to check the inflation of tyre?

टायर के स्फीति (इन्फ्लेशन) की जांच के लिए किस गेज का उपयोग किया जाता है?

A1 Wire gauge

:

वायर गेज

A2 Feeler gauge

:

2.0

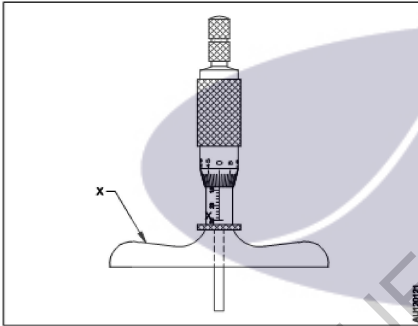
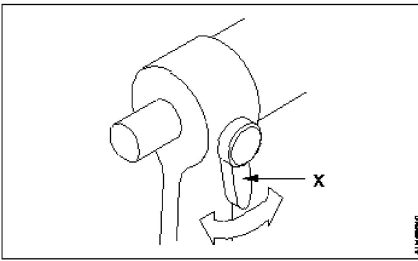
0.00

2.0

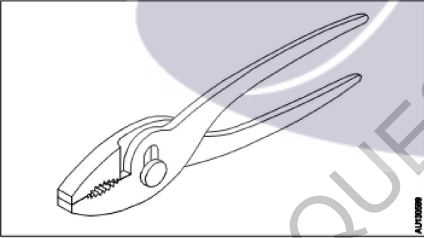
0.00

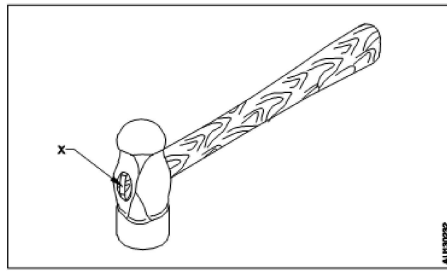
2.0

0.00

		फीलर गेज A3 Vacuum gauge : वैक्यूम गेज A4 Pressure gauge : प्रेशर गेज		
Trade Theory				
6	6	Which one is the indirect measuring instrument? अप्रत्यक्ष मापन यंत्र कौन सा है? A1 Steel rule : स्टील रूल A2 Inside caliper : आंतरिक कैलीपर A3 Inside micrometer : आंतरिक माइक्रोमीटर A4 Outside micrometer : बाह्य माइक्रोमीटर	2.0	0.00
Trade Theory				
7	7	What is the name of the part marked as 'X'? 'X' के रूप में चिह्नित भाग का नाम क्या है?  A1 Cap : कैप A2 Lock : लॉक A3 Stock : स्टॉक A4 Thimble : थिम्बल	2.0	0.00
Trade Theory				
8	8	What is the name of the part marked as 'x'? 'x' के रूप में चिह्नित भाग का नाम क्या है? 	2.0	0.00

		<p>A1 Anvil : एन्विल</p> <p>A2 Spindle : स्पिंडल</p> <p>A3 Thimble : थिम्बल</p> <p>A4 Spindle lock : स्पिंडल स्टॉक</p>		
Trade Theory				
9	9	<p>What is the name of bevelled graduated sleeve of outside micro meter? बाहरी माइक्रो मीटर के बेवल ग्रेजुएटिड स्लीव का नाम क्या है?</p> <p>A1 Anvil : एन्विल</p> <p>A2 Barrel : बैरल</p> <p>A3 Spindle : स्पिंडल</p> <p>A4 Thimble : थिम्बल</p>	2.0	0.00
Trade Theory				
10	10	<p>What is the use of ball pein hammer head? बॉल पीन हैमर हेड का उपयोग क्या है?</p> <p>A1 Strike soft metal : नरम धातु पर प्रहार करना</p> <p>A2 Strike the metal : धातु पर प्रहार करना</p> <p>A3 Stamp the specifications : विनिर्देशों पर मुहर (स्टाम्प) लगाना</p> <p>A4 Spread the metal In all direction : धातु को सभी दिशाओं में फैलाना</p>	2.0	0.00
Trade Theory				
11	11	<p>What is the purpose of half round chisel? हाफ राउंड चीज़ल (अर्धगोलाकार छेनी) का क्या उद्देश्य है?</p> <p>A1 Cut excess metal : अतिरिक्त धातु को काटना</p> <p>A2 Cut curved grooves : घुमावदार खांचे काटना</p> <p>A3 Squaring metal at corners : कोनों पर धातु को चौकोर बनाना</p> <p>A4 Cut keyways : चाबीघाट (की-वेज़) काटना</p>	2.0	0.00
Trade Theory				
12	12	<p>What is the working principle of dial test indicator? डायल टेस्ट इंडिकेटर का कार्य सिद्धांत क्या है?</p>	2.0	0.00

		<p>A1 Linear motion into leverage motion : उत्तोलन गति में रैखिक गति</p> <p>A2 Linear motion into vertical motion : रैखिक गति को ऊर्ध्वाधर गति में बदलना</p> <p>A3 Linear motion into reciprocating motion : रेखीय गति से प्रत्यावर्ती (रेसीप्रोकेटिंग) गति</p> <p>A4 Linear motion into rotary motion : रेखीय गति से रोटरी गति</p>		
Trade Theory				
13	13	<p>Which hand tool used for circular cut in sheet metal work? शीट मेटल वर्क में सर्कुलर कट के लिए किस हैंड टूल का प्रयोग किया जाता है?</p> <p>A1 Straight snip : स्ट्रेट स्निप</p> <p>A2 Bend snip : बैड स्निप</p> <p>A3 Combination plier : कॉम्बिनेशन प्लायर</p> <p>A4 Side cutting plier : साइड कटिंग प्लायर</p>	2.0	0.00
Trade Theory				
14	14	<p>What is the name of plier? निम्न प्लायर का नाम क्या है?</p> <div style="text-align: center;">  </div> <p>A1 Flat nose plier : फ्लैट नोज़ प्लायर</p> <p>A2 Round nose plier : राउंड नोज़ प्लायर</p> <p>A3 Slip joint plier : स्लिप ज्वाइंट प्लायर</p> <p>A4 Internal circle plier : इंटरनल सर्कल प्लायर</p>	2.0	0.00
Trade Theory				
15	15	<p>What is the name of part marked as 'x'? 'x' के रूप में चिह्नित भाग का नाम क्या है?</p>	2.0	0.00



A1 Face

: फेस

A2 Check

: चीक

A3 Wedge

: वेज

A4 Pein

: पेन/पीन

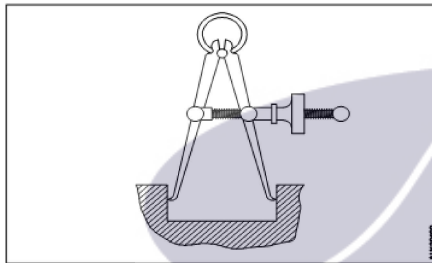
Trade Theory

16

16

What is the name of caliper?

निम्न कैलीपर का नाम क्या है?



A1 Firm joint caliper

: फर्म ज्वाइंट कैलिपर

A2 Spring joint caliper

: स्प्रिंग ज्वाइंट कैलीपर

A3 Outside caliper

: आउटसाइड कैलीपर

A4 Inside caliper

: इनसाइड कैलीपर

Trade Theory

2.0

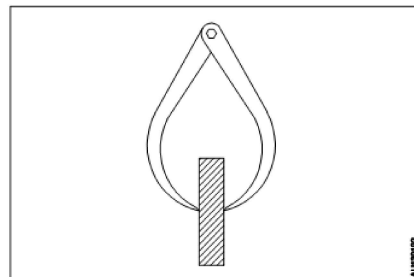
0.00

17

17

What is the name of caliper?

निम्न कैलीपर का नाम क्या है?



A1 Jenny caliper

: जेनी कैलिपर

2.0

0.00

A2 Spring joint caliper

: स्प्रिंग ज्वाइंट कैलीपर

A3 Outside caliper

: आउटसाइड कैलीपर

A4 Inside caliper

: इनसाइड कैलीपर

Trade Theory

18

18

What is the name of hammer used in the operation?

ऑपरेशन में प्रयोग होने वाले हथौड़े का क्या नाम है?



A1 Mallet hammer

: मैलेट हथौड़ा

A2 Ball peen Hammer

: बॉल पीन हथौड़ा

A3 Cross peen hammer

: क्रॉस पीन हथौड़ा

A4 Straight peen hammer

: स्ट्रेट पीन हथौड़ा

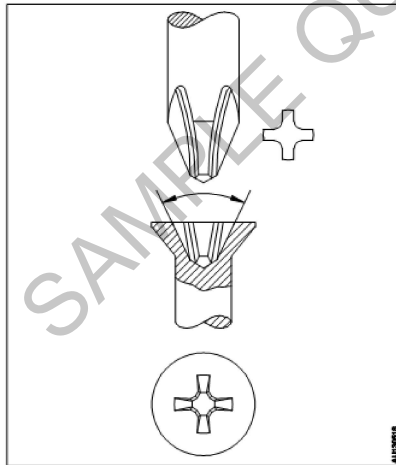
Trade Theory

19

19

What is the name of screw driver?

निम्न स्कू ड्राइवर का नाम क्या है?



A1 Cross - recess screw driver

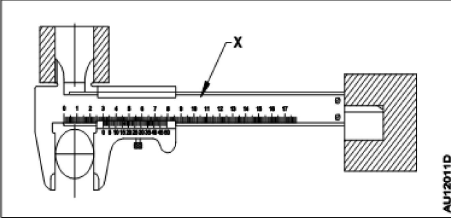
: क्रॉस-रिसेस स्कू ड्राइवर

A2 Ratchet screw driver

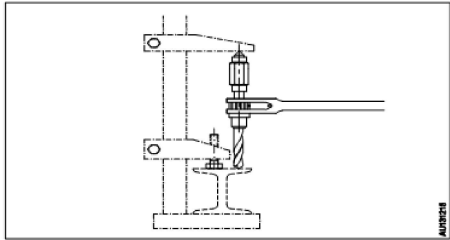
: रैचिट स्कू ड्राइवर

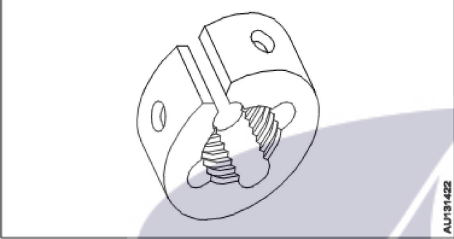
A3 Stumpy screw driver

: स्टम्पी स्कू ड्राइवर

		A4 Offset screw driver : ऑफसेट स्कू ड्राइवर		
Trade Theory				
20	20	<p>What is the name of part marked as 'X'?</p> <p>'X' के रूप में चिह्नित भाग का नाम क्या है?</p>  <p>A1 Beam : बीम</p> <p>A2 Fixed jaw : अचल जबड़ा</p> <p>A3 Vernier scale : वर्नियर पैमाना</p> <p>A4 Depth measuring blade : डेपथ मेज़रिंग ब्लेड</p>	2.0	0.00
Trade Theory				
21	21	<p>Which instrument is used to check the right angle?</p> <p>समकोण की जांच के लिए किस उपकरण का उपयोग किया जाता है?</p> <p>A1 Steel rule : स्टील रूल</p> <p>A2 Try square : ट्राई स्क्वायर</p> <p>A3 Firm joint caliper : फर्म ज्वाइंट कैलिपर</p> <p>A4 Spring Joint caliper : स्प्रिंग ज्वाइंट कैलीपर</p>	2.0	0.00
Trade Theory				
22	22	<p>Which screw driver is used in blind space?</p> <p>ब्लाइंड स्पेस में किस स्कू ड्राइवर का उपयोग किया जाता है?</p> <p>A1 Ratchet screw driver : रैचिट स्कू ड्राइवर</p> <p>A2 Offset screw driver : ऑफसेट स्कू ड्राइवर</p> <p>A3 Philips screw driver : फिलिप्स स्कू ड्राइवर</p> <p>A4 Stumpy screw driver : स्टम्पी स्कू ड्राइवर</p>	2.0	0.00
Trade Theory				
23	23	<p>What is the purpose of the cross pein hammer?</p> <p>हथौड़े में क्रॉस पीन का क्या उद्देश्य है?</p>	2.0	0.00

		<p>A1 Fix the handle : हैंडल फिक्स करना</p> <p>A2 Strike the metal : धातु पर प्रहार करना</p> <p>A3 Strike the metal in all direction : धातु को सभी दिशा में प्रहार करना</p> <p>A4 Spread the metal in one direction : धातु को एक दिशा में फैलाना</p>		
Trade Theory				
24	24	<p>How the screw driver is specified? स्कू ड्राइवर कैसे निर्दिष्ट किया जाता है?</p> <p>A1 Length of blade and width of tip : ब्लेड की लंबाई और टिप की चौड़ाई द्वारा</p> <p>A2 Width and diameter of the edge : किनारे की चौड़ाई और व्यास द्वारा</p> <p>A3 Thickness and length : मोटाई और लंबाई द्वारा</p> <p>A4 Shape and length : आकार और लंबाई द्वारा</p>	2.0	0.00
Trade Theory				
25	25	<p>Which gauge used to check the spark plug gap? स्पार्क प्लग गैप की जाँच करने के लिए किस गेज का उपयोग किया जाता है?</p> <p>A1 Telescopic gauge : टेलीस्कोपिक गेज</p> <p>A2 Vernier gauge : वर्नियर गेज</p> <p>A3 Screw pitch gauge : स्कू पिच गेज</p> <p>A4 Feeler gauge : फीलर गेज</p>	2.0	0.00
Trade Theory				
26	26	<p>Which instrument used to check the piston ring end gap? पिस्टन रिंग एंड गैप को चेक करने के लिए किस उपकरण का उपयोग किया जाता है?</p> <p>A1 Feeler gauge : फीलर गेज</p> <p>A2 Vernier gauge : वर्नियर गेज</p> <p>A3 Pitch gauge : पिच गेज</p> <p>A4 Telescopic gauge : टेलीस्कोपिक गेज</p>	2.0	0.00
Trade Theory				
27	27	<p>What is the use of ratchet stop in outside micro meter? आउटसाइड माइक्रोमीटर में रैचिट स्टॉप का क्या उपयोग है?</p>	2.0	0.00

		<p>A1 Prevent load : भर को रोकना</p> <p>A2 Prevent speed : गति को रोकना</p> <p>A3 Prevent excessive pressure : अत्यधिक दबाव को रोकना</p> <p>A4 Prevent sliding : स्लाइडिंग (फिसलन) को रोकना</p>		
Trade Theory				
28	28	<p>What is the name of the drilling machine? निम्न ड्रिलिंग मशीन का नाम क्या है?</p>  <p>A1 Breast drilling machine : ब्रेस्ट ड्रिलिंग मशीन</p> <p>A2 Ratchet drilling machine : रैचेट ड्रिलिंग मशीन</p> <p>A3 Pneumatic drilling machine : न्यूमैटिक ड्रिलिंग मशीन</p> <p>A4 Bevel gear drilling machine : बेवल गियर ड्रिलिंग मशीन</p>	2.0	0.00
Trade Theory				
29	29	<p>Which drill machine is used to drill Multiple holes in one setting of work? एक ही बार में कई छेदों को ड्रिल करने के लिए किस ड्रिलिंग मशीन का उपयोग किया जाता है?</p> <p>A1 Hand drilling machine : हेण्ड ड्रिलिंग मशीन</p> <p>A2 Pillar drilling machine : पिलर ड्रिलिंग मशीन</p> <p>A3 Column drilling machine : कॉलम ड्रिलिंग मशीन</p> <p>A4 Radial drilling machine : रेडियल ड्रिलिंग मशीन</p>	2.0	0.00
Trade Theory				
30	30	<p>Which part of a drill is fitted on the machine? ड्रिल का कौन सा भाग मशीन पर फिट किया जाता है?</p> <p>A1 Point : पॉइंट</p> <p>A2 Flute : फ्लूट</p> <p>A3 Shank : शैंक</p>	2.0	0.00

		<p>शैंक A4 Body : बॉडी</p>		
Trade Theory				
31	31	<p>What is the name of the angle between the cutting edges in a drill? एक ड्रिल में काटने वाले किनारों के बीच के कोण का नाम क्या है?</p> <p>A1 Helix angle : हेलिक्स कोण</p> <p>A2 Rake angle : रेक कोण</p> <p>A3 Clearance angle : निकासी (क्लीयरेंस) कोण</p> <p>A4 Point angle : बिंदु कोण</p>	2.0	0.00
Trade Theory				
32	32	<p>What is the name of the die? निम्न ड्राई का नाम क्या है?</p>  <p>A1 Solid die : सॉलिड ड्राई</p> <p>A2 Half die : हाफ ड्राई</p> <p>A3 Circular split die : सर्कुलर स्प्लिट ड्राई</p> <p>A4 Rectangle split die : रेक्टेंगुलर स्प्लिट ड्राई</p>	2.0	0.00
Trade Theory				
33	33	<p>Which type of abrasive removes heavy stock of material? किस प्रकार का अपघर्षक (अब्रेसिव) अधिक सामग्री को हटा देता है?</p> <p>A1 Emery sheet : एमरी शीट</p> <p>A2 Boron carbide : बोरोम कार्बाइड</p> <p>A3 Aluminium oxide : अल्युमिनियम ऑक्साइड</p> <p>A4 Silicon carbide : सिलिकॉन कार्बाइड</p>	2.0	0.00
Trade Theory				
34	34	<p>What is the formula for calculating the drill size for reaming? रीमिंग के लिए ड्रिल आकार की गणना करने का सूत्र (फार्मूला) क्या है?</p>	2.0	0.00

A1 : Drill size=Reamed size-(Under size-over size)

Drill size=Reamed size-(Under size-over size)

A2 : Drill size=Reamed size+ (Under size + over size)

Drill size=Reamed size+ (Under size + over size)

A3 : Drill size=Reamed size-(Under size +over size)

Drill size=Reamed size-(Under size +over size)

A4 : Drill size=Reamed size-(Under size x over size)

Drill size=Reamed size-(Under size x over size)

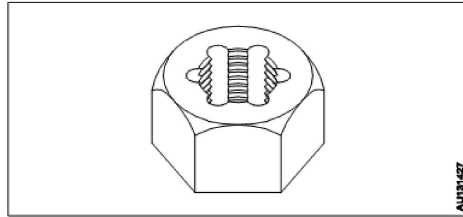
Trade Theory

35

35

What is the type of the die?

मरने का प्रकार क्या है?



A1 : Die nut

डाई नट

A2 : Half die

हाफ डाई

A3 : Circular split die

सर्कुलर स्प्लिट डाई

A4 : Rectangle split die

रेक्टैंगुलर स्प्लिट डाई

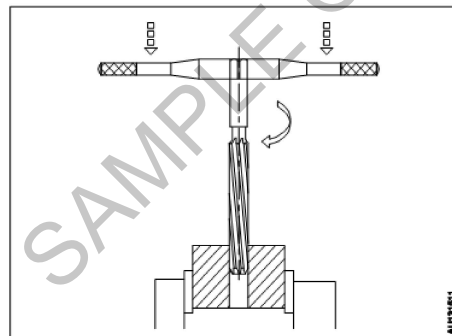
Trade Theory

36

36

What is the name of the operation?

निम्न ऑपरेशन का नाम क्या है?



A1 : Drilling

ड्रिलिंग

A2 : Taping

टैपिंग

A3 : Dicing

डाइंग

A4 : Reaming

रीमिंग

2.0

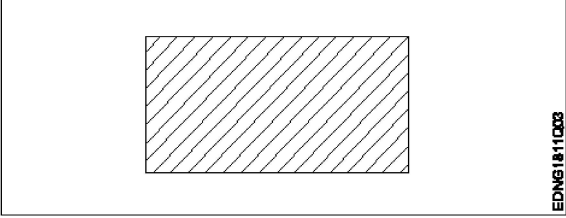
0.00

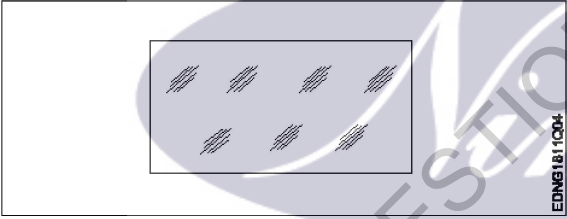
2.0

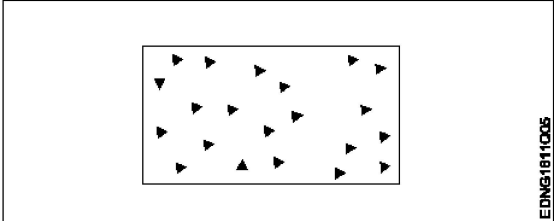
0.00

Trade Theory				
37	37	<p>Which type of vice is used to hold a job for drilling? ड्रिलिंग के लिए जॉब को पकड़ने के लिए किस प्रकार के वाइस का उपयोग किया जाता है?</p> <p>A1 Bench vice : बेंच वाइस</p> <p>A2 Leg vice : लेग वाइस</p> <p>A3 Machine vice : मशीन वाइस</p> <p>A4 Hand vice : हैंड वाइस</p>	2.0	0.00
Trade Theory				
38	38	<p>Which is the multipoint cutting tool? मल्टीपॉइंट कटिंग टूल कौन सा है?</p> <p>A1 Chisel : छेनी (चीज़ल)</p> <p>A2 Scraper : खुरचनी (स्केपर)</p> <p>A3 Reamer : रीमर</p> <p>A4 Snips : सिप</p>	2.0	0.00
Workshop Calculation Science				
39	39	<p>Which metal contains iron as a major content? इनमें से किस धातु में प्रमुख सामग्री के रूप में लोहा होता है?</p> <p>A1 Brass metal : पीतल धातु</p> <p>A2 Bronze metal : ब्रॉज धातु</p> <p>A3 Zinc : जिंक</p> <p>A4 Ferrous metal : लोह धातु</p>	2.0	0.00
Workshop Calculation Science				
40	40	<p>Which property of metal has its power of returning to its original shape after the applied force is released? धातु की कौन सा गुण बल लगाने पर विरूपित तथा बल हटाने पर वापस अपने पूर्ववस्था में आने की क्षमता रखता है?</p> <p>A1 Malleability : आघातवर्धनीयता</p> <p>A2 Tenacity : दृढ़ता</p> <p>A3 Elasticity : प्रत्यास्तथा</p> <p>A4 Plasticity : सुघट्यता</p>	2.0	0.00

Workshop Calculation Science				
41	41	<p>What is termed as the quantity of matter contained in a body? वस्तु में निहित पदार्थ की मात्रा को क्या कहा जाता है?</p> <p>A1 Density : घनत्व</p> <p>A2 Volume : आयतन</p> <p>A3 Mass : द्रव्यमान</p> <p>A4 Specific gravity : विशिष्ट गुरुत्व</p>	2.0	0.00
Workshop Calculation Science				
42	42	<p>What is called mass per unit volume of a substances? किसी पदार्थ के द्रव्यमान प्रति इकाई आयतन को क्या कहते हैं?</p> <p>A1 Mass : द्रव्यमान</p> <p>A2 Weight : भार</p> <p>A3 Density : घनत्व</p> <p>A4 Volume : आयतन</p>	2.0	0.00
Workshop Calculation Science				
43	43	<p>What is the unit of speed? गति की इकाई क्या है?</p> <p>A1 Metre/second : Metre/second</p> <p>A2 Metre/second² : Metre/second²</p> <p>A3 Metre/minute : Metre/minute</p> <p>A4 Metre/hour : Metre/hour</p>	2.0	0.00
Workshop Calculation Science				
44	44	<p>What is called if a body does not change its position with respect to its surroundings? यदि कोई वस्तु अपने परिवेश के संबंध में अपनी स्थिति को नहीं बदलता है, तो उसे क्या कहा जाता है?</p> <p>A1 Body at motion : वस्तु का गति में होना</p> <p>A2 Body at rest : वस्तु का विश्राम में होना</p> <p>A3 Speed : गति</p> <p>A4 Velocity : वेग</p>	2.0	0.00

45	45	<p>Identify the conventional symbol of material? सामग्री के पारंपरिक प्रतीक को पहचानें?</p>  <p style="text-align: right;">EDNG1811003</p> <p>A1 Lead : लेड</p> <p>A2 Steel : इस्पात</p> <p>A3 Glass : कांच</p> <p>A4 Porcelain : चीनी मिट्टी</p>	2.0	0.00
----	----	---	-----	------

46	46	<p>Identify the conventional symbol of material? सामग्री के पारंपरिक प्रतीक को पहचानें?</p>  <p style="text-align: right;">EDNG1811004</p> <p>A1 Concrete : संगीत कार्यक्रम</p> <p>A2 Steel : इस्पात</p> <p>A3 Wood : लकड़ी</p> <p>A4 Glass : कांच</p>	2.0	0.00
----	----	---	-----	------

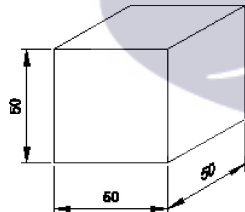
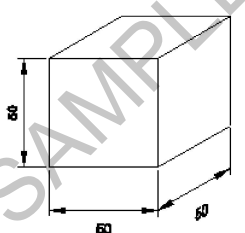
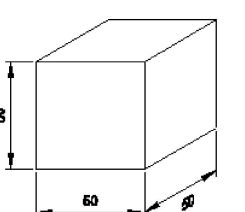
47	47	<p>Identify the conventional symbol of material? सामग्री के पारंपरिक प्रतीक को पहचानें?</p>  <p style="text-align: right;">EDNG1811005</p> <p>A1 Steel :</p>	2.0	0.00
----	----	--	-----	------

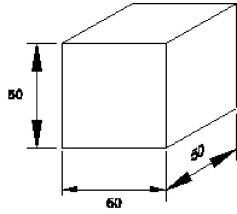
इस्पात
 A2 Wood
 : लकड़ी
 A3 Glass
 : कांच
 A4 Concrete
 : ठोस

Engineering Drawing

48	48	<p>What is the trimmed size of A4 sheet? A4 शीट का ट्रिम किया हुआ आकार क्या है?</p> <p>A1 841 x 1189 : 841 x 1189</p> <p>A2 594 x 841 : 594 x 841</p> <p>A3 210 x 297 : 210 x 297</p> <p>A4 148 x 210 : 148 x 210</p>	2.0	0.00
----	----	--	-----	------

Engineering Drawing

49	49	<p>Which drawing dimension is correct as per IS standard? IS मानक के अनुसार कौन सा ड्राइंग आयाम सही है?</p> <p>A1 :</p>  <p>A2 :</p>  <p>A3 :</p>  <p>A4 :</p>	2.0	0.00
----	----	--	-----	------



Engineering Drawing

50	50	<p>Identify the name of prism? चित्र में दिखाए गए प्रिज्म का नाम क्या है?</p> <div data-bbox="451 436 1031 709" style="border: 1px solid black; padding: 5px; text-align: center;"> </div> <p>A1 Rectangle prism : आयत प्रिज्म</p> <p>A2 Square prism : स्क्वायर प्रिज्म</p> <p>A3 Triangular prism : त्रिकोणीय प्रिज्म</p> <p>A4 Hexagonal prism : हेक्सागोनल प्रिज्म</p>	2.0	0.00
----	----	--	-----	------

Employability Skills

51	51	<p>Fill in the blank with correct future tense of verb. "We _____ to the zoo after Breakfast " क्रिया के सही भविष्य काल के साथ रिक्त स्थान भरें। "We _____ to the zoo after Breakfast "</p> <p>A1 went : went</p> <p>A2 are going : are going</p> <p>A3 had gone : had gone</p> <p>A4 will go : will go</p>	2.0	0.00
----	----	---	-----	------

Employability Skills

52	52	<p>Fill in the blank with correct word. "They _____ good friends" रिक्त में सही शब्द भरें। "They _____ good friends"</p> <p>A1 is : is</p> <p>A2 am : am</p> <p>A3 are : are</p>	2.0	0.00
----	----	--	-----	------

		A4 was : was		
Employability Skills				
53	53	Fill in the blank with present progressive tense of the verb. "The train _____ through the tunnel" क्रिया के वर्तमान प्रगतिशील काल के साथ रिक्त स्थान भरें। "The train _____ through the tunnel" A1 passed : passed A2 is passing : is passing A3 had passed : had passed A4 was passing : was passing	2.0	0.00
Employability Skills				
54	54	Fill in the blank with proper interrogative adjective. _____ are you going? उचित ईटोरोगेटिव विशेषण के साथ रिक्त स्थान भरें। _____ are you going? A1 Who : Who A2 Where : Where A3 Which : Which A4 What : What	2.0	0.00
Employability Skills				
55	55	Fill in the blank with proper pronoun. "I made this cake _____" रिक्त स्थान में उचित सर्वनाम के साथ भरें। "I made this cake _____" A1 myself : myself A2 yourself : yourself A3 himself : himself A4 itself : itself	2.0	0.00
Employability Skills				
56	56	Fill in the blank with proper pronoun. "She made this cake _____" रिक्त स्थान में उचित सर्वनाम के साथ भरें। "She made this cake _____" A1 itself : itself A2 myself : myself A3 herself : herself A4 himself : himself	2.0	0.00

		himself		
Employability Skills				
57	57	<p>Fill in the blank with proper reflexive pronoun. "She has hurt _____"</p> <p>रिक्त स्थान में उचित प्रतिवर्ती सर्वनाम के साथ भरें। "She has hurt _____"</p> <p>A1 myself : myself</p> <p>A2 herself : herself</p> <p>A3 himself : himself</p> <p>A4 itself : itself</p>	2.0	0.00
Employability Skills				
58	58	<p>Fill in the blank with suitable adjective for the given sentence "The little girl's..... eyes revealed her mischief"</p> <p>दिए गए वाक्य के लिए उपयुक्त विशेषण के साथ रिक्त स्थान भरें। "The little girl's..... eyes revealed her mischief"</p> <p>A1 chubby : chubby</p> <p>A2 weak : weak</p> <p>A3 short sighted : short sighted</p> <p>A4 twinkling : twinkling</p>	2.0	0.00
Employability Skills				
59	59	<p>Fill in the blank with suitable place preposition. "My house is _____ the third floor"</p> <p>उपयुक्त स्थान पूर्वसर्ग के साथ रिक्त स्थान भरें। "My house is _____ the third floor"</p> <p>A1 at : at</p> <p>A2 in : in</p> <p>A3 on : on</p> <p>A4 under : under</p>	2.0	0.00
Employability Skills				
60	60	<p>Fill in the correct question word. "_____ is the speaker at the function?"</p> <p>सही प्रश्न शब्द भरें। "_____ is the speaker at the function?"</p> <p>A1 What : What</p> <p>A2 When : When</p> <p>A3 Why : Why</p> <p>A4 Who : Who</p>	2.0	0.00

Employability Skills				
61	61	<p>Low level language is also called _____.</p> <p>निम्न स्तर की भाषा को _____ भी कहा जाता है</p> <p>A1 source code : सोर्स कोड</p> <p>A2 middle ware : मध्यस्थ</p> <p>A3 machine language : मशीन भाषा</p> <p>A4 assembly language : असेंबली भाषा</p>	2.0	0.00
Employability Skills				
62	62	<p>Pronunciation refers to _____.</p> <p>उच्चारण _____ को संदर्भित करता है</p> <p>A1 diphthong : संयुक्त स्वर</p> <p>A2 consonant : व्यंजन</p> <p>A3 punctuation : विराम चिह्न</p> <p>A4 production of sound : ध्वनि का उत्पादन</p>	2.0	0.00
Employability Skills				
63	63	<p>Re-arrange the following set of words into meaningful sentence. "teacher / school / worked / she / a / as"</p> <p>शब्दों के निम्नलिखित सेट को सार्थक वाक्य में फिर से व्यवस्थित करें। "teacher / school / worked / she / a / as"</p> <p>A1 School worked as a she teacher : School worked as a she teacher</p> <p>A2 She worked as a school teacher : She worked as a school teacher</p> <p>A3 She teacher worked as a school : She teacher worked as a school</p> <p>A4 Worked she as a school teacher : Worked she as a school teacher</p>	2.0	0.00
Employability Skills				
64	64	<p>Rise and fall of pitch of voice is called _____.</p> <p>आवाज की पिच का उठना और गिरना _____ कहलाता है</p> <p>A1 vowel : स्वर</p> <p>A2 intonation : आवाज़ का उतार-चढ़ाव</p> <p>A3 consonant : व्यंजन</p> <p>A4 pronunciation : उच्चारण</p>	2.0	0.00

Employability Skills				
65	65	<p>The word that expresses a sudden and strong feeling is called _____.</p> <p>वह शब्द जो अचानक और मजबूत भावना व्यक्त करता है उसे _____ कहा जाता है</p> <p>A1 punctuation : विराम चिह्न</p> <p>A2 interjection : विस्मयादिबोधक</p> <p>A3 conjunction : संयोजन के रूप</p> <p>A4 apostrophe : एपोस्ट्रॉफी</p>	2.0	0.00
Employability Skills				
66	66	<p>When you greet higher official's such as Teacher, Instructor or Supervisor, you should use _____.</p> <p>जब आप शिक्षक, प्रशिक्षक या पर्यवेक्षक जैसे उच्च अधिकारियों का अभिवादन करते हैं, तो आपको _____ का उपयोग करना चाहिए</p> <p>A1 Good morning : गुड मॉर्निंग</p> <p>A2 Hello : हैलो</p> <p>A3 Hey : हेय</p> <p>A4 Hi : हाई</p>	2.0	0.00
Employability Skills				
67	67	<p>Which is a silent letter in the word "ANSWER"?</p> <p>"ANSWER" शब्द में कौन सा मूक अक्षर है?</p> <p>A1 R : R</p> <p>A2 E : E</p> <p>A3 S : S</p> <p>A4 W : W</p>	2.0	0.00
Employability Skills				

68	68	<p>Which one is a "Do's" of discussion etiquettes? चर्चा के शिष्टाचारों में से कौन सा "Do's" है?</p> <p>A1 : Loose your temper अपना आपा खोएं</p> <p>A2 : Listen to others दूसरों की सुनें</p> <p>A3 : Talk about irrelevant details अप्रासंगिक विवरण के बारे में बात करें</p> <p>A4 : Use impolite or rude language अभद्र या अशिष्ट भाषा का उपयोग करें</p>	2.0	0.00
Employability Skills				
69	69	<p>Which one is a "Don't" of discussion etiquette? चर्चा शिष्टाचार का "Don't" है?</p> <p>A1 : Be open minded दिमाग खुला रखना</p> <p>A2 : Use moderate tone मध्यम स्वर का प्रयोग करें</p> <p>A3 : Listen to others दूसरों की सुनें</p> <p>A4 : Argue unnecessary अनावश्यक बहस करें</p>	2.0	0.00
Employability Skills				
70	70	<p>Which one is a brain of computer? कंप्यूटर का मस्तिष्क कौन सा है?</p> <p>A1 : Keyboard कीबोर्ड</p> <p>A2 : CPU सी पी यू</p> <p>A3 : Monitor मॉनिटर</p> <p>A4 : Hard disk हार्ड डिस्क</p>	2.0	0.00
Employability Skills				
71	71	<p>Which one is a cardinal number? कार्डिनल नंबर कौन सा है?</p> <p>A1 : 10 10</p> <p>A2 : V V</p> <p>A3 : VII VII</p> <p>A4 : XI XI</p>	2.0	0.00
Employability Skills				

72	72	<p>Which one is a cardinal number? कार्डिनल नंबर कौन सा है?</p> <p>A1 : One एक</p> <p>A2 : Fifth पांचवाँ</p> <p>A3 : Eighth आठवाँ</p> <p>A4 : Second दूसरा</p>	2.0	0.00
Employability Skills				
73	73	<p>Which one is an exclamatory sentence? कौन सा विस्मयादिबोधक वाक्य है?</p> <p>A1 : What a beautiful house it is! What a beautiful house it is!</p> <p>A2 : It is a beautiful house. It is a beautiful house.</p> <p>A3 : Is it a beautiful house? Is it a beautiful house?</p> <p>A4 : Your house is beautiful. Your house is beautiful.</p>	2.0	0.00
Employability Skills				
74	74	<p>Which one is in active voice? सक्रिय आवाज में कौन सा है?</p> <p>A1 : Ram has passed the exam. Ram has passed the exam.</p> <p>A2 : The ball was caught by him. The ball was caught by him.</p> <p>A3 : The book was being read by her. The book was being read by her.</p> <p>A4 : We were driven home by dad. We were driven home by dad.</p>	2.0	0.00
Employability Skills				
75	75	<p>Which one is in passive voice? निष्क्रिय आवाज में कौन सा है?</p> <p>A1 : Mohan is painting a house. Mohan is painting a house.</p> <p>A2 : She was reading a book. She was reading a book.</p> <p>A3 : Her birthday was celebrated by us. Her birthday was celebrated by us.</p> <p>A4 : I have seen that movie. I have seen that movie.</p>	2.0	0.00

Mechanic Motor Vehicle - 1st year (Eng) SET 2

Question Number	Correct Alternative position
1	A2
2	A3
3	A3
4	A3
5	A4
6	A2
7	A3
8	A4
9	A4
10	A4
11	A2
12	A4
13	A2
14	A3
15	A3
16	A4
17	A3
18	A1
19	A1
20	A1
21	A2
22	A2
23	A4
24	A1
25	A4
26	A1
27	A3
28	A2
29	A4
30	A3
31	A4
32	A3
33	A4
34	A3
35	A1
36	A4
37	A3
38	A3
39	A4
40	A3
41	A3
42	A3
43	A1
44	A2
45	A2

46	A4
47	A4
48	A3
49	A1
50	A2
51	A4
52	A3
53	A2
54	A2
55	A1
56	A3
57	A2
58	A4
59	A3
60	A4
61	A3
62	A4
63	A2
64	A2
65	A2
66	A1
67	A4
68	A2
69	A4
70	A2
71	A1
72	A1
73	A1
74	A1
75	A3

KEY ANSWER SET 2