

ALL INDIA TRADE TEST - 2024 FOR CRAFTSMEN
TRAINING SCHEME (CTS)
Trade Name: Draughtsman Mechanical
Year: 1st Year

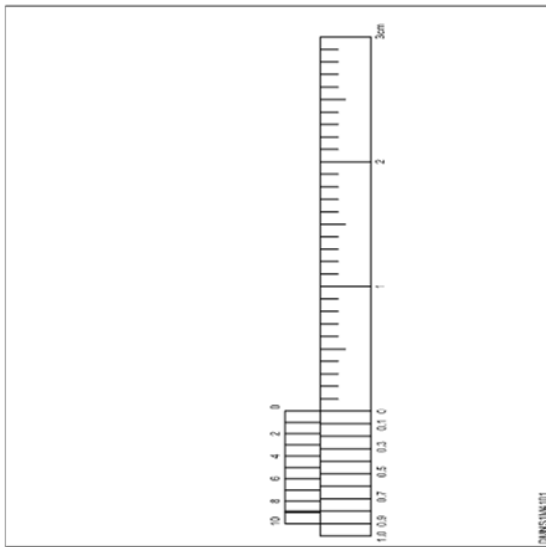
Exam Date :

Exam Time :

Note:

1. Tick the correct option out of four alternatives provided
2. All questions carry equal marks (2 Marks each)
3. There is no negative marking

Sr. No.	Q ID	Question Body and Alternatives	Marks	Negative Marks
Trade Theory				
1	1	<p>Which conic section has one vertex?</p> <p>जब एक शंकुधारी खंड में एक शीर्ष होता है, तो इसे ज्ञात किया जाता है।</p> <p>A1 Circle : वृत्त</p> <p>A2 Ellipse : इलिप्स</p> <p>A3 Parabola : पेराबोला</p> <p>A4 Hyperbola : हयपेरबोला</p>	2.0	0.00
Trade Theory				
2	2	<p>What is the practical application of rectangular hyperbola?</p> <p>आयताकार हाइपरबोला का व्यावहारिक अनुप्रयोग क्या है?</p> <p>A1 Water channels : वॉटर चैनल</p> <p>A2 Gear profile : गियर प्रोफाइल</p> <p>A3 Screw thread : स्क्रोव थ्रेड</p> <p>A4 Lathe chucks : लेथ चकस</p>	2.0	0.00
Trade Theory				
3	3	<p>Identify the following scale in the figure.</p> <p>आकृति में निम्नलिखित पैमाने की पहचान करें?</p>	2.0	0.00



A1 Vernier scale

वर्णियर पैमाना

A2 Plain scale

सादा पैमाना

A3 : Comparative scale

तुलनात्मक पैमाना

A4 Scale of chord

चोर्ड का पैमाना

Page 10 of 10

Trade Theory

4

4

Chord scale is used for?
कॉर्ड स्केल का प्रयोग किसके लिए किया जाता है?

A1 Construct the angle of different measures

विभिन्न उपायों के कोण का निर्माण करना

A2 Measure the diameter of the circle

सर्कल के व्यास को मापें

A3 Measure the length of chord

जीवा की लंबाई को मापें

A4 Measure area of a sector

किसी क्षेत्र का मापक क्षेत्र

Trade Theory

5

5

Which of the following scales can be used to measure meter and decimetre only?
निम्नलिखित में से कौन सा तराजू केवल मीटर और डेसीमीटर मापने के लिए इस्तेमाल किया जा सकता है

A1 Plain scale

सादा पैमाना

A2 Vernier scale

वर्नियर पैमाना

A3 Diagonal scale

डायोगोनल पैमाना

A4 : Scale of chord

चोर्ड का पैमाना

Trade Theory

6

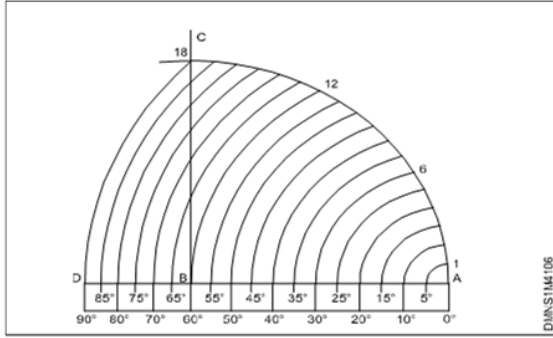
6

Identify the scale given in figure.

2.0

0.00

फिगर में दिए गए पैमाने की पहचान करें।



A1 : Diagonal scale

विकर्ण पैमाना

A2 : Vernier scale

वर्नियर पैमाना

A3 : Scale of chords

जीवा का पैमाना

A4 : Plain scale

सादा पैमाना

Trade Theory

7

7

What is the ratio of length and width of an arrow head?
एक तीर के शीर्ष की लंबाई और चौड़ाई का अनुपात क्या है?

2.0

0.00

A1 : 2:1

2:1

A2 : 3:1

3:1

A3 : 1:3

1:3

A4 : 1:2

1:2

Trade Theory

8

8

Which symbol is used to indicate diameter in the drawing?
ड्राइंग में व्यास दर्शाने के लिए किस चिह्न का प्रयोग किया जाता है?

2.0

0.00

A1 : α

α

A2 : β

β

A3 : ϕ

ϕ

A4 : η

η

Trade Theory

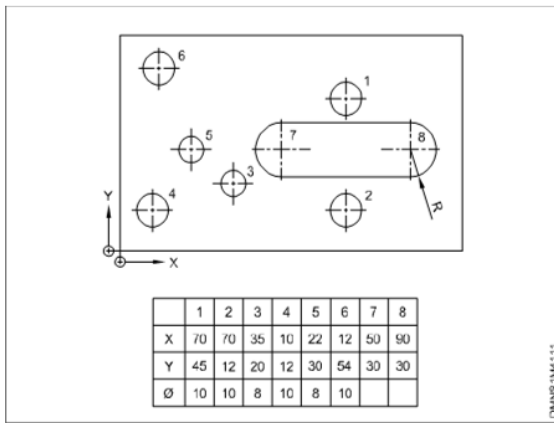
9

9

Which system of dimensioning technique is shown in figure?
आयाम तकनीक की किस प्रणाली को अंजीर में दिखाया गया है।

2.0

0.00



A1
: Aligned system

संरिखित प्रणाली

A2
: Chain dimensioning

श्रृंखला आयाम

A3
: Co-ordinate dimensioning

समन्वित आयाम

A4
: Parallel dimensioning

समानांतर आयाम

Trade Theory

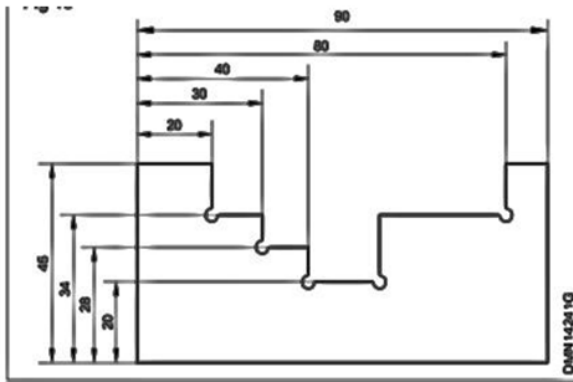
10	10	<p>Which scale can be used to convert to kilometre into mile? किलोमीटर को मील में परिवर्तित करने के लिए किस पैमाने का उपयोग किया जा सकता है</p> <p>A1 : Vernier scale वर्नियर पैमाना</p> <p>A2 : Comparative scale तुलनात्मक पैमाना</p> <p>A3 : Diagonal scale डायगोनल पैमाना</p> <p>A4 : Plain scale सादा पैमाना</p>	2.0	0.00
----	----	-----------------------------------------------------------------------------------------------------------------------------------------------------------------------------------------------------------------------------------------------------------------------------------------------------------------------------------------------------------	-----	------

Trade Theory

11	11	<p>Which of the following ratio gives the drawing exact half size of the object? निम्नलिखित में से कौन सा अनुपात ऑब्जेक्ट को वस्तु का बिल्कुल आधा आकार देता है?</p> <p>A1 : 2:1 2:1</p> <p>A2 : 1:2 1:2</p> <p>A3 : 1:50 1:50</p> <p>A4 : 1:100 1:100</p>	2.0	0.00
----	----	-----------------------------------------------------------------------------------------------------------------------------------------------------------------------------------------------------------------------------------------------------------------------------------------------	-----	------

Trade Theory

12	12	<p>Which is the dimensioning method used in the given figure? दिए गए चित्र में प्रयुक्त आयाम निर्धारण विधि कौन सी है।</p>	2.0	0.00
----	----	-------------------------------------------------------------------------------------------------------------------------------	-----	------



A1
: Lead dimensioning

लीड आयाम

A2
: Continued dimensioning

निरंतर आयाम

A3
: Parallel dimensioning

समानांतर आयाम

A4
: Chain dimensioning

श्रृंखला आयाम

Trade Theory

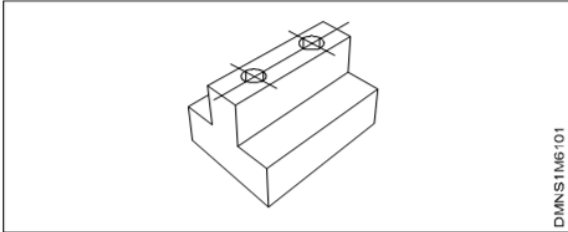
13	13	A circle should be dimensioned by its _____ एक वृत्त का डाइमेंशन उसके _____ द्वारा होना चाहिए	2.0	0.00
A1 :	Length	लंबाई		
A2 :	Diameter	व्यास		
A3 :	Width	चौड़ाई		
A4 :	Depth	गहराई		

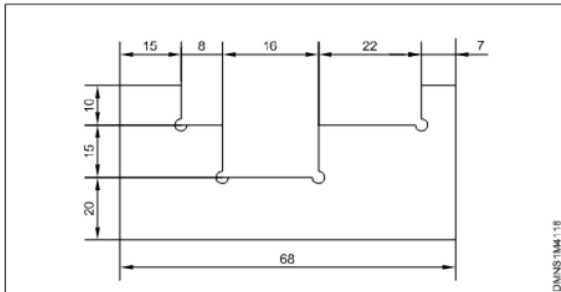
Trade Theory

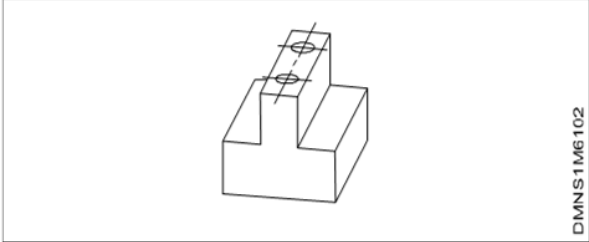
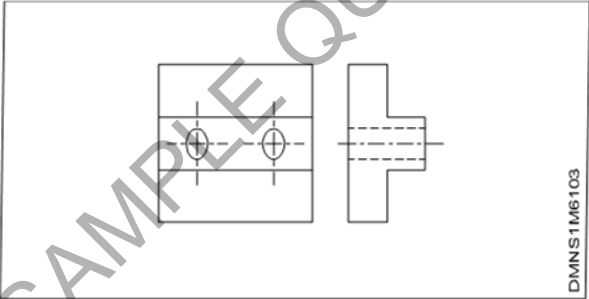
14	14	Which type of dimension includes overall height, width and depth? किस प्रकार के आयाम में समग्र ऊँचाई, चौड़ाई और गहराई शामिल है?	2.0	0.00
A1 :	Size	आकार		
A2 :	Location	स्थान		
A3 :	Chain	जंजीर		
A4 :	Parallel	समानांतर		

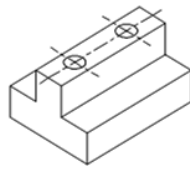
Trade Theory

15	15	When a thin continuous line, its contents note (or) dimension with the features to which it applies? जब एक पतली सतत रेखा, इसकी सामग्री उन विशेषताओं के साथ आयाम नोट (या) करती है जिन पर यह लागू होती है?	2.0	0.00
A1 :	Extension line	विस्तारित लाइन		

		<p>A2 Dimension line : आयाम रेखा</p> <p>A3 Leader line : लीडर लाइन</p> <p>A4 Object line : वस्तु रेखा</p>		
Trade Theory				
16	16	<p>Which method of free hand sketching is shown in figure? फ्री हैंड स्केचिंग की कौन सी विधि चित्र में दिखाई गई है।</p>  <p>A1 Isometric : सममितीय</p> <p>A2 Perspective : परिप्रेक्ष्य</p> <p>A3 Oblique : परोक्ष</p> <p>A4 Multiview : मल्टीव्यू</p>	2.0	0.00
Trade Theory				
17	17	<p>Which instruments used for free hand sketching? फ्री हैंड स्केचिंग के लिए कौन से उपकरण का उपयोग किया जाता है?</p> <p>A1 Ruler and compasses : शासक और अनुकंपा</p> <p>A2 Pencil and eraser : पेंसिल और इरेज़र</p> <p>A3 Bow compasses and ruler : बो कम्पास और शासक</p> <p>A4 Lengthening bar and compasses : लंबी पट्टी और कंपास</p>	2.0	0.00
Trade Theory				
18	18	<p>How the vertical lines drawn in free hand sketching? फ्री हैंड स्केचिंग में ऊर्ध्वाधर रेखाएँ कैसे खींची जाती हैं?</p> <p>A1 From top to bottom : ऊपर से नीचे तक</p> <p>A2 From bottom to top : नीचे से ऊपर तक</p> <p>A3 From center to ends : केंद्र से अंत तक</p> <p>A4 From ends to center : केंद्र से अंत तक</p>	2.0	0.00

Trade Theory				
19	19	<p>When free hand sketching is commonly used?</p> <p>आमतौर पर फ्री हैंड स्केचिंग का उपयोग कब किया जाता है?</p> <p>A1 : Required accurate drawing</p> <p>आवश्यक एक्ज्यूरेट ड्राइंग</p> <p>A2 : Require production drawing</p> <p>उत्पादन ड्राइंग की आवश्यकता है</p> <p>A3 : Required large drawings</p> <p>आवश्यक बड़े चित्र</p> <p>A4 : Required rough drawing</p> <p>आवश्यक रफ ड्राइंग</p>	2.0	0.00
Trade Theory				
20	20	<p>What is representative fraction of a scale?</p> <p>स्केल का प्रतिनिधि अंश क्या है?</p> <p>A1 : Ratio to object size to drawing size</p> <p>आरेख आकार में ऑब्जेक्ट आकार के अनुपात</p> <p>A2 : Ratio to drawing size to object size</p> <p>ऑब्जेक्ट आकार के आरेखण आकार के अनुपात</p> <p>A3 : Maximum length of scale</p> <p>पैमाने की अधिकतम लंबाई</p> <p>A4 : Minimum length of scale</p> <p>पैमाने की न्यूनतम लंबाई</p>	2.0	0.00
Trade Theory				
21	21	<p>What is the term name that the method of dimensioning that enable the reader to read the dimensions from bottom side of the drawing sheet?</p> <p>उस शब्द का नाम क्या है जो आयाम निर्धारण की वह विधि है जो पाठक को ड्राइंग शीट के नीचे से आयाम पढ़ने में सक्षम बनाती है?</p> <p>A1 : Unidirectional system</p> <p>अप्रत्यक्ष प्रणाली</p> <p>A2 : Aligned system</p> <p>संरेखित प्रणाली</p> <p>A3 : Chain dimensioning</p> <p>श्रृंखला आयाम</p> <p>A4 : Parallel dimensioning</p> <p>समानांतर आयाम</p>	2.0	0.00
Trade Theory				
22	22	<p>Identify which system of dimensioning in the figure given?</p> <p>दिए गए चित्र में पहचानें आयाम की कौन सी प्रणाली है ?</p> <div></div> <p>A1 : Parallel dimensioning</p> <p>समानांतर आयाम</p>	2.0	0.00

		A2 : Datum dimensioning दातम आयाम A3 : Co-ordinate dimensioning समन्वित आयाम A4 : Chain dimensioning श्रृंखला आयाम		
Trade Theory				
23	23	<p>Which method of free hand sketching is shown in figure? फ्री हैंड स्केचिंग की कौन सी विधि चित्र में दिखाई गई है।</p>  <p>DMNS1M6102</p> <p>A1 : Isometric सममितीय A2 : Perspective परिप्रेक्ष्य A3 : Oblique परोक्ष A4 : Multiview मल्टीव्यू</p>	2.0	0.00
Trade Theory				
24	24	<p>Which method of free hand sketching is shown in figure? फ्री हैंड स्केचिंग की कौन सी विधि चित्र में दिखाई गई है।</p>  <p>DMNS1M6103</p> <p>A1 : Isometric सममितीय A2 : Perspective परिप्रेक्ष्य A3 : Oblique परोक्ष A4 : Multiview मल्टीव्यू</p>	2.0	0.00
Trade Theory				
25	25	<p>Which method of free hand sketching is shown in figure? फ्री हैंड स्केचिंग की कौन सी विधि चित्र में दिखाई गई है।</p>	2.0	0.00



DMNS1M6104

- A1
: Isometric
सममितीय
- A2
: Perspective
परिप्रेक्ष्य
- A3
: Oblique
परोक्ष
- A4
: Multiview
मल्टीव्यू

Trade Theory

26	26	What will be the isometric view of a rectangle by free hand sketching? फ्री हैंड स्केचिंग द्वारा एक आयत का इसोमेट्रिक व्यू क्या होगा?	2.0	0.00
		<p>A1 : Circle वृत्त</p> <p>A2 : Parrellogram परेलोग्राम</p> <p>A3 : Triangle त्रिभुज</p> <p>A4 : Pentagon पंचकोण</p>		

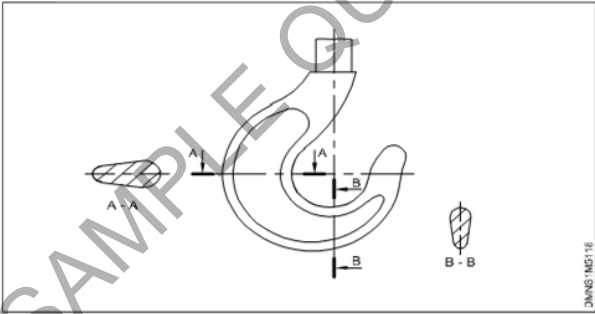
Trade Theory

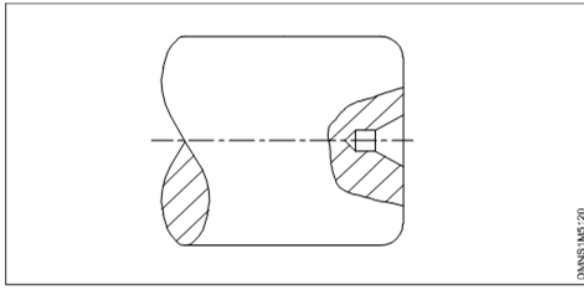
27	27	What is an orthographic projection? ऑर्थोग्राफिक प्रोजेक्शन क्या है?	2.0	0.00
		<p>A1 : Multi view projection मल्टी व्यू प्रोजेक्शन</p> <p>A2 : Axonometric projection एक्सोमेट्रिक प्रक्षेपण</p> <p>A3 : Pictorial projection चित्रात्मक प्रक्षेपण</p> <p>A4 : Three dimensional projection तीन आयामी प्रक्षेपण</p>		

Trade Theory

28	28	What is the name of projection when the projectors are parallel to each other and also perpendicular to the plane of projection? प्रोजेक्शन का क्या नाम है जब प्रोजेक्टर एक दूसरे के समानांतर होते हैं और प्रोजेक्शन प्लेन के लंबवत भी होते हैं?	2.0	0.00
		<p>A1 : Perspective projection परिप्रेक्ष्य प्रक्षेपण</p> <p>A2 : Oblique projection ओबलिक प्रक्षेपण</p> <p>A3 : Isometric projection</p>		

		सममितीय प्रक्षेपण A4 : Orthographic projection वर्तनी विषयक प्रक्षेपण		
Trade Theory				
29	29	What is the term name of line when straight lines are drawn from various points on the contour of an object to meet a plane? जब किसी प्लेन पर मिलने के लिए किसी ऑब्जेक्ट के काउंटर पर विभिन्न बिंदुओं से सीधी रेखाएँ खींची जाती हैं तो रेखा का नाम क्या है? A1 : Connecting lines कनेक्टिंग लाइन A2 : Projectors प्रोजेक्टर A3 : Perpendicular lines लम्बवत रेखा A4 : Hidden lines छिपी हुई रेखाएँ	2.0	0.00
Trade Theory				
30	30	What will be the resulting projection that a square surface is parallel to the plane of projection? रिजल्टिंग प्रोजेक्शन क्या होगा जब एक स्क्वियर सरफेस प्रोजेक्शन प्लेन के समानांतर है? A1 : Straight line सीधी रेखा A2 : True length of edge किनारे की सही लंबाई A3 : True shape of the surface सतह का सही आकार A4 : Reduced shape of the surface सतह का आकार कम होना	2.0	0.00
Trade Theory				
31	31	Which type of line is particularly used to sectional drawings? अनुभागीय रेखाचित्रों के लिए किस प्रकार की रेखा का विशेष रूप से उपयोग किया जाता है? A1 : Extension line विस्तारित लाइन A2 : Center line केंद्र की रेखा A3 : Cutting plane lines प्लेन लाइनों को काटना A4 : Hidden line छिपी हुई रेखा	2.0	0.00
Trade Theory				
32	32	What type of section, one quarter of the object is removed? किस प्रकार का अनुभाग, वस्तु का एक चौथाई हिस्सा हटा दिया जाता है A1 : Full section पूर्ण खंड A2 : Half section आधा भाग A3 : Revolved section संशोधित खंड	2.0	0.00

		A4 : Partial section आंशिक भाग		
Trade Theory				
33	33	<p>What type of section represent a small portion of an object? किसी वस्तु का एक छोटा सा भाग किस प्रकार के खंड का प्रतिनिधित्व करता है?</p> <p>A1 : Half section आधा भाग</p> <p>A2 : Revolved section संशोधित खंड</p> <p>A3 : Removed section निकाला हुआ खंड</p> <p>A4 : Broken section टूटा हुआ खंड</p>	2.0	0.00
Trade Theory				
34	34	<p>What type of sectional view is effectively used for symmetrical object? सममित वस्तु के लिए किस प्रकार का अनुभागीय दृश्य प्रभावी रूप से उपयोग किया जाता है?</p> <p>A1 : Quarter section चौथाई भाग</p> <p>A2 : Half section आधा भाग</p> <p>A3 : Full section पूर्ण खंड</p> <p>A4 : Symmetric section सममित खंड</p>	2.0	0.00
Trade Theory				
35	35	<p>What type of sectional view is shown in the figure? चित्र में किस प्रकार का सेक्शनल व्यू दिखाया गया है?</p>  <p>A1 : Removed section निकाला हुआ खंड</p> <p>A2 : Revolved section संशोधित खंड</p> <p>A3 : section अनुभाग</p> <p>A4 : Offset section ऑफसेट अनुभाग</p>	2.0	0.00
Trade Theory				
36	36	<p>What type of sectional view is shown in given figure? दिए गए चित्र में किस प्रकार का सेक्शनल व्यू दिखाया गया है?</p>	2.0	0.00



A1
: Removed section

निकाला हुआ खंड

A2
: Broken section

ब्रोकन सेक्शन

A3
: Full section

पूर्ण खंड

A4
: Revolved section

संशोधित खंड

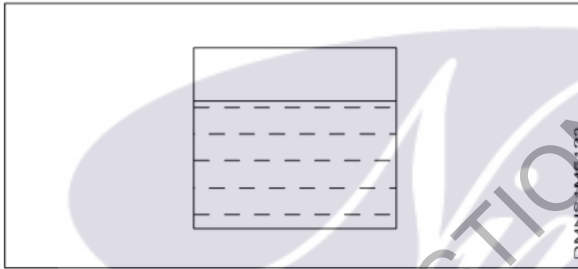
Trade Theory

37

37

What is the conventional representation in given below figure?

नीचे दिए गए आंकड़े में पारंपरिक प्रतिनिधित्व क्या है?



A1
: Liquids

तरल पदार्थ

A2
: Solids

ठोस

A3
: Concrete

कॉन्क्रेट

A4
: Metals

धातु

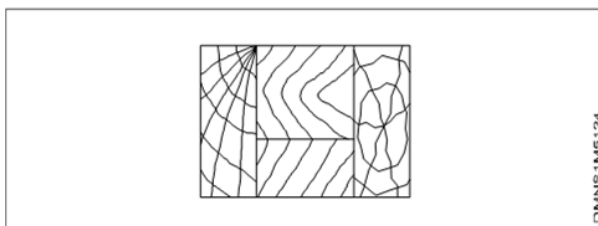
Trade Theory

38

38

What is the representation of material shown in figure?

चित्र में दिखाई गई सामग्री का प्रतिनिधित्व क्या है?



A1
: Wood

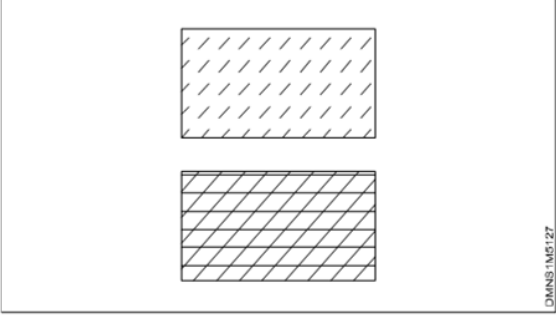
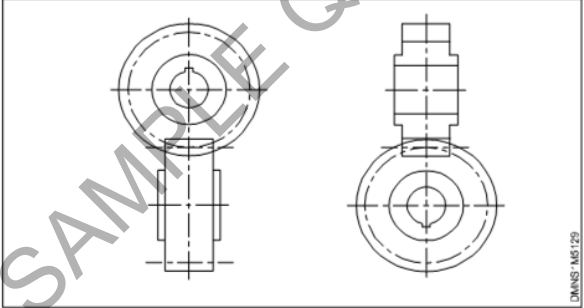
लकड़ी

2.0

0.00

2.0

0.00

		A2 : Glass कांच A3 : Metal धातु A4 : Concrete कोंक्रेट		
Trade Theory				
39	39	<p>What is the representation of material shown in figure?</p> <p>नीचे दी गई आकृति में दर्शाई गई सामग्री का प्रतिनिधित्व क्या है?</p>  <p>A1 : Glass कांच A2 : Packing and insulating पैकिंग और इन्सुलेट A3 : Plywood प्लाइवुड A4 : Stacked lamination स्टैकड लेमिनेशन</p>	2.0	0.00
Trade Theory				
40	40	<p>What is the conventional representation of parts shown in figure?</p> <p>नीचे दी गई आकृति में दर्शाई गई सामग्री का प्रतिनिधित्व क्या है?</p>  <p>A1 : Spur gear स्पर गियर A2 : Helical gear पेचदार गियर A3 : Crown wheel क्राउन व्हील A4 : Pinion and gear पैशन और गियर</p>	2.0	0.00
Trade Theory				
41	41	<p>Which section makes use of a short break line?</p> <p>शॉर्ट ब्रेक लाइन का उपयोग कौन सा अनुभाग करता है?</p>	2.0	0.00

		A1 : Full section पूर्ण खंड A2 : Offset section ऑफसेट अनुभाग A3 : Revolved section संशोधित खंड A4 : Broken out section खंड खंड कर दिया		
Trade Theory				
42	42	What line type is the cutting plane line? कटिंग प्लान किस लाइन का प्रकार है? A1 : Continuous wide line खंड रेखा A2 : Thin chain line प्रेत रेखा A3 : Narrow dotted line केंद्र की रेखा A4 : Hidden line छिपी हुई रेखा	2.0	0.00
Trade Theory				
43	43	What is the name of the view called when one quarter of an object is removed? जब किसी वस्तु का एक चौथाई भाग हटा दिया जाता है तो उस व्यू को क्या कहते हैं? A1 : Full section पूर्ण खंड A2 : Half section आधा भाग A3 : Offset section ऑफसेट अनुभाग A4 : Partial section आंशिक भाग	2.0	0.00
Trade Theory				
44	44	Which type of section is to show the shape rotated towards plane of projection of objects such as spokes and ribs? जहां एक घुमाए गए खंड के रूप में भी जाना जाता है, एक दृश्य जैसे कि प्रवक्ता और पसलियों के आकार को दिखाने के लिए इस्तेमाल किया जाता है? A1 : Removed section निकाला हुआ खंड A2 : Revolved section संशोधित खंड A3 : Offset section ऑफसेट अनुभाग A4 : Full section पूर्ण खंड	2.0	0.00
Workshop Calculation and Science				
45	45	What is the square root of 529? 529 का वर्गमूल क्या है?	2.0	0.00

		A1 13 : 13 A2 23 : 23 A3 33 : 33 A4 43 : 43		
Workshop Calculation and Science				
46	46	Convert 0.456 decimal fraction into percentage? 0.456 दशमलव भिन्न को प्रतिशत में बदलिये? A1 45.6% : 45.6% A2 4.56% : 4.56% A3 0.456% : 0.456% A4 0.0456% : 0.0456%	2.0	0.00
Workshop Calculation and Science				
47	47	What is the square of 0.01? 0.01 का वर्ग क्या है? A1 0.001 : 0.001 A2 0.0001 : 0.0001 A3 0.00001 : 0.00001 A4 0.000001 : 0.000001	2.0	0.00
Workshop Calculation and Science				
48	48	Which metal contains iron as a major content? इनमें से किस धातु में प्रमुख सामग्री के रूप में लोहा होता है? A1 Brass metal : पीतल धातु A2 Bronze metal : ब्रॉज धातु A3 Zinc : ज़िंक A4 Ferrous metal : लोह धातु	2.0	0.00
Workshop Calculation and Science				
49	49	Which property of metal has its power of returning to its original shape after the applied force is released? धातु की कौन सा गुण बल लगाने पर विरूपित तथा बल हटाने पर वापस अपने पूर्ववस्था में आने की क्षमता रखता है? A1 Malleability : आघातवर्धनीयता	2.0	0.00

		A2 Tenacity : दृढ़ता A3 Elasticity : प्रत्यास्तथा A4 Plasticity : सुघट्यता		
Workshop Calculation and Science				
50	50	Which among the following is an insulator? निम्नलिखित में से कौन एक कुचालक है? A1 Copper : ताँबा A2 Aluminium : एल्यूमिनियम A3 Silver : चाँदी A4 Mica : मिका	2.0	0.00
Employability Skills				
51	51	Fill in the blank with correct word. "They _____ good friends" रिक्त में सही शब्द भरें। "They _____ good friends" A1 is : is A2 am : am A3 are : are A4 was : was	2.0	0.00
Employability Skills				
52	52	Fill in the blank with present progressive tense of the verb. "The train _____ through the tunnel" क्रिया के वर्तमान प्रगतिशील काल के साथ रिक्त स्थान भरें। "The train _____ through the tunnel" A1 passed : passed A2 is passing : is passing A3 had passed : had passed A4 was passing : was passing	2.0	0.00
Employability Skills				
53	53	Fill in the blank with proper interrogative adjective. _____ are you going? उचित ईटोरोगेटिव विशेषण के साथ रिक्त स्थान भरें। _____ are you going? A1 Who : Who A2 Where : Where	2.0	0.00

		<p>A3 Which :</p> <p>Which</p> <p>A4 What :</p> <p>What</p>		
Employability Skills				
54	54	<p>Fill in the blank with proper pronoun. "I made this cake _____"</p> <p>रिक्त स्थान में उचित सर्वनाम के साथ भरें। "I made this cake _____"</p> <p>A1 myself :</p> <p>myself</p> <p>A2 yourself :</p> <p>yourself</p> <p>A3 himself :</p> <p>himself</p> <p>A4 itself :</p> <p>itself</p>	2.0	0.00
Employability Skills				
55	55	<p>Fill in the blank with proper pronoun. "She made this cake _____"</p> <p>रिक्त स्थान में उचित सर्वनाम के साथ भरें। "She made this cake _____"</p> <p>A1 itself :</p> <p>itself</p> <p>A2 myself :</p> <p>myself</p> <p>A3 herself :</p> <p>herself</p> <p>A4 himself :</p> <p>himself</p>	2.0	0.00
Employability Skills				
56	56	<p>Fill in the blank with proper reflexive pronoun. "She has hurt _____"</p> <p>रिक्त स्थान में उचित प्रतिवर्ती सर्वनाम के साथ भरें। "She has hurt _____"</p> <p>A1 myself :</p> <p>myself</p> <p>A2 herself :</p> <p>herself</p> <p>A3 himself :</p> <p>himself</p> <p>A4 itself :</p> <p>itself</p>	2.0	0.00
Employability Skills				
57	57	<p>Fill in the blank with suitable adjective for the given sentence "The little girl's..... eyes revealed her mischief"</p> <p>दिए गए वाक्य के लिए उपयुक्त विशेषण के साथ रिक्त स्थान भरें "The little girl's..... eyes revealed her mischief"</p> <p>A1 chubby :</p> <p>chubby</p> <p>A2 weak :</p> <p>weak</p> <p>A3 short sighted :</p> <p>short sighted</p>	2.0	0.00

		A4 : twinkling twinkling		
Employability Skills				
58	58	Fill in the blank with suitable place preposition. "My house is _____ the third floor" उपयुक्त स्थान पूर्वसर्ग के साथ रिक्त स्थान भरें। "My house is _____ the third floor" A1 : at at A2 : in in A3 : on on A4 : under under	2.0	0.00
Employability Skills				
59	59	Fill in the correct question word. "_____ is the speaker at the function?" सही प्रश्न शब्द भरें। "_____ is the speaker at the function?" A1 : What What A2 : When When A3 : Why Why A4 : Who Who	2.0	0.00
Employability Skills				
60	60	Low level language is also called _____. निम्न स्तर की भाषा को _____ भी कहा जाता है A1 : source code सोर्स कोड A2 : middle ware मध्यस्थ A3 : machine language मशीन भाषा A4 : assembly language असेंबली भाषा	2.0	0.00
Employability Skills				
61	61	Pronunciation refers to _____. उच्चारण _____ को संदर्भित करता है A1 : diphthong संयुक्त स्वर A2 : consonant व्यंजन A3 : punctuation विराम चिह्न A4 : production of sound ध्वनि का उत्पादन	2.0	0.00

Employability Skills				
62	62	<p>Re-arrange the following set of words into meaningful sentence. “teacher / school / worked / she / a / as”.</p> <p>शब्दों के निम्नलिखित सेट को सार्थक वाक्य में फिर से व्यवस्थित करें। “teacher / school / worked / she / a / as”</p> <p>A1 : School worked as a she teacher</p> <p>School worked as a she teacher</p> <p>A2 : She worked as a school teacher</p> <p>She worked as a school teacher</p> <p>A3 : She teacher worked as a school</p> <p>She teacher worked as a school</p> <p>A4 : Worked she as a school teacher</p> <p>Worked she as a school teacher</p>	2.0	0.00
Employability Skills				
63	63	<p>Rise and fall of pitch of voice is called _____.</p> <p>आवाज़ की पिच का उठना और गिरना _____ कहलाता है</p> <p>A1 : vowel</p> <p>स्वर</p> <p>A2 : intonation</p> <p>आवाज़ का उतार-चढ़ाव</p> <p>A3 : consonant</p> <p>व्यंजन</p> <p>A4 : pronunciation</p> <p>उच्चारण</p>	2.0	0.00
Employability Skills				
64	64	<p>The word that expresses a sudden and strong feeling is called _____.</p> <p>वह शब्द जो अचानक और मजबूत भावना व्यक्त करता है उसे _____ कहा जाता है</p> <p>A1 : punctuation</p> <p>विराम चिह्न</p> <p>A2 : interjection</p> <p>विस्मयादिबोधक</p> <p>A3 : conjunction</p> <p>संयोजन के रूप</p> <p>A4 : apostrophe</p> <p>एपोस्ट्रॉफी</p>	2.0	0.00
Employability Skills				
65	65	<p>When you greet higher official’s such as Teacher, Instructor or Supervisor, you should use _____.</p> <p>जब आप शिक्षक, प्रशिक्षक या पर्यवेक्षक जैसे उच्च अधिकारियों का अभिवादन करते हैं, तो आपको _____ का उपयोग करना चाहिए</p> <p>A1 : Good morning</p> <p>Good morning</p> <p>A2 : Hello</p> <p>Hello</p> <p>A3 : Hey</p> <p>Hey</p> <p>A4 : Hi</p> <p>Hi</p>	2.0	0.00
Employability Skills				
66	66	<p>Which is a silent letter in the word “ANSWER”?</p> <p>“ANSWER” शब्द में कौन सा मूक अक्षर है?</p>	2.0	0.00

		A1 R : R A2 E : E A3 S : S A4 W : W		
Employability Skills				
67	67	Which one is a “Do’s” of discussion etiquettes? चर्चा के शिष्टाचारों में से कौन सा “Do’s” है? A1 Loose your temper : अपना आपा खोएं A2 Listen to others : दूसरों की सुनें A3 Talk about irrelevant details : अप्रासंगिक विवरण के बारे में बात करें A4 Use impolite or rude language : अभद्र या अशिष्ट भाषा का उपयोग करें	2.0	0.00
Employability Skills				
68	68	Which one is a “Don’t” of discussion etiquette? चर्चा शिष्टाचार का “Don’t” है? A1 Be open minded : दिमाग खुला रखना A2 Use moderate tone : मध्यम स्वर का प्रयोग करें A3 Listen to others : दूसरों की सुनें A4 Argue unnecessary : अनावश्यक बहस करें	2.0	0.00
Employability Skills				
69	69	Which one is a brain of computer? कंप्यूटर का मस्तिष्क कौन सा है? A1 Keyboard : कीबोर्ड A2 CPU : सी पी यू A3 Monitor : मॉनिटर A4 Hard disk : हार्ड डिस्क	2.0	0.00
Employability Skills				
70	70	Which one is an exclamatory sentence? कौन सा विस्मयादिबोधक वाक्य है? A1 What a beautiful house it is!	2.0	0.00

		<p>What a beautiful house it is!</p> <p>A2 : It is a beautiful house.</p> <p>It is a beautiful house.</p> <p>A3 : Is it a beautiful house?</p> <p>Is it a beautiful house?</p> <p>A4 : Your house is beautiful.</p> <p>Your house is beautiful.</p>		
Employability Skills				
71	71	<p>Which one is in active voice? सक्रिय आवाज में कौन सा है?</p> <p>A1 : Ram has passed the exam.</p> <p>Ram has passed the exam.</p> <p>A2 : The ball was caught by him.</p> <p>The ball was caught by him.</p> <p>A3 : The book was being read by her.</p> <p>The book was being read by her.</p> <p>A4 : We were driven home by dad.</p> <p>We were driven home by dad.</p>	2.0	0.00
Employability Skills				
72	72	<p>Which one is in passive voice? निष्क्रिय आवाज में कौन सा है?</p> <p>A1 : Mohan is painting a house.</p> <p>Mohan is painting a house.</p> <p>A2 : She was reading a book.</p> <p>She was reading a book.</p> <p>A3 : Her birthday was celebrated by us.</p> <p>Her birthday was celebrated by us.</p> <p>A4 : I have seen that movie.</p> <p>I have seen that movie.</p>	2.0	0.00
Employability Skills				
73	73	<p>Which one is NOT a conjunction? कौन सा एक संयोजन नहीं है?</p> <p>A1 : And</p> <p>And</p> <p>A2 : Or</p> <p>Or</p> <p>A3 : But</p> <p>But</p> <p>A4 : On</p> <p>On</p>	2.0	0.00
Employability Skills				
74	74	<p>Which one is NOT a benefit of the role playing? भूमिका निभाने का कौन सा लाभ नहीं है?</p> <p>A1 : Builds confidence</p> <p>आत्मविश्वास पैदा करता है</p> <p>A2 : Develops listening skill</p> <p>सुनने का कौशल विकसित करता है</p>	2.0	0.00

		A3 : Develops creative problem-solving skill रचनात्मक समस्या-समाधान कौशल विकसित करता है A4 : Develops boredom बोरियत पैदा करता है		
Employability Skills				
75	75	Which one is NOT a vowel? कौन सा स्वर नहीं है? A1 : a a A2 : e e A3 : f f A4 : i i	2.0	0.00


SAMPLE QUESTION PAPER SET 2

Draughtsman Mechanical - 1st Year - Set 2

S.No.	Correct Answer Key
1	A3
2	A1
3	A1
4	A1
5	A1
6	A3
7	A2
8	A3
9	A3
10	A2
11	A2
12	A3
13	A2
14	A1
15	A3
16	A2
17	A2
18	A1
19	A4
20	A2
21	A1
22	A4
23	A3
24	A4
25	A1
26	A2
27	A1
28	A4
29	A2
30	A3
31	A3
32	A2
33	A4
34	A2
35	A1
36	A2
37	A1
38	A1

S.No.	Correct Answer Key
39	A2
40	A1
41	A4
42	A2
43	A2
44	A2
45	A2
46	A1
47	A2
48	A4
49	A3
50	A4
51	A3
52	A2
53	A2
54	A1
55	A3
56	A2
57	A4
58	A3
59	A4
60	A3
61	A4
62	A2
63	A2
64	A2
65	A1
66	A4
67	A2
68	A4
69	A2
70	A1
71	A1
72	A3
73	A4
74	A4
75	A3

Note:

"In case answers found to be inaccurate due to typographical error or any other reason please sent mail to qbnimigrievance@gmail.com"