

**ALL INDIA TRADE TEST - 2024 FOR CRAFTSMEN
TRAINING SCHEME (CTS)
Trade Name: Fitter
Year: 1st Year**

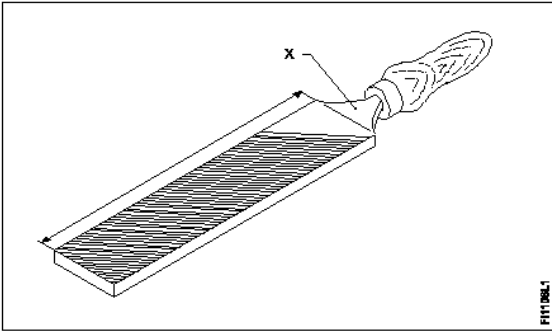
Exam Date :

Exam Time :

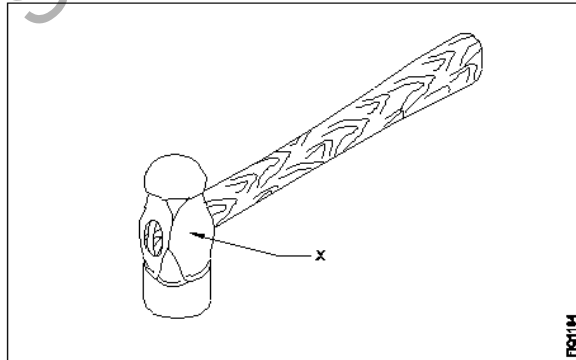
Note:

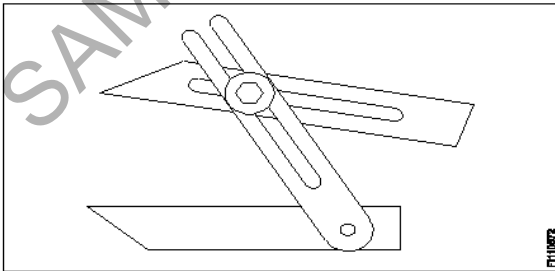
1. Tick the correct option out of four alternatives provided
2. All questions carry equal marks (2 Marks each)
3. There is no negative marking

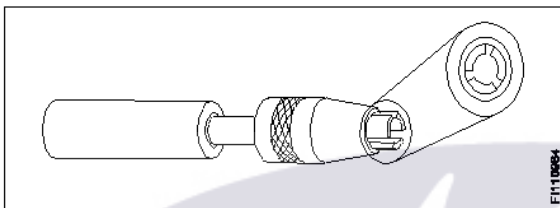
Sr. No.	Q ID	Question Body and Alternatives	Marks	Negative Marks
Trade Theory				
1	1	<p>Which class of fire is caused by fire wood, paper or cloth? किस क्लास की आग लकड़ी, कागज या कपड़े से लगती है?</p> <p>A1 : Class 'A' fire क्लास 'A' की आग</p> <p>A2 : Class 'B' fire क्लास 'B' की आग</p> <p>A3 : Class 'C' fire क्लास 'C' की आग</p> <p>A4 : Class 'D' fire क्लास 'D' की आग</p>	2.0	0.00
Trade Theory				
2	2	<p>What is the bin colour code for waste paper segregation? अपशिष्ट कागज पृथक्करण के लिए बिन (डिब्बे) का रंग कोड क्या है?</p> <p>A1 : Red लाल</p> <p>A2 : Blue नीला</p> <p>A3 : Black काला</p> <p>A4 : Green हरा</p>	2.0	0.00
Trade Theory				
3	3	<p>What does "A" denote in the ABC of the first aid? प्राथमिक चिकित्सा के ABC में "A" क्या दर्शाता है?</p> <p>A1 : Air way Air way</p> <p>A2 : Attention Attention</p> <p>A3 : Arresting Arresting</p> <p>A4 : Atmosphere</p>	2.0	0.00

4	4	<p>What is the name of the part marked as "X" shown in the figure?</p> <p>चित्र में दिखाए गए "X" से चिह्नित भाग का नाम क्या है?</p>  <p>A1 Heel : हील</p> <p>A2 Tang : टैंग</p> <p>A3 Ferrule : फेरुल</p> <p>A4 File length : फाइल की लंबाई</p>	2.0	0.00
---	---	--	-----	------

5	5	<p>Which chisel is used for squaring materials at the corners and joints?</p> <p>कोनों और जोड़ों पर सामग्री को वर्गाकार करने के लिए किस छेनी का उपयोग किया जाता है?</p> <p>A1 Flat chisel : फ्लैट छेनी</p> <p>A2 Cross cut chisel : क्रॉस कट छेनी</p> <p>A3 Diamond point chisel : डायमंड पॉइंट छेनी</p> <p>A4 Half round nose chisels : हाफ राउंड नोज छेनी</p>	2.0	0.00
---	---	---	-----	------

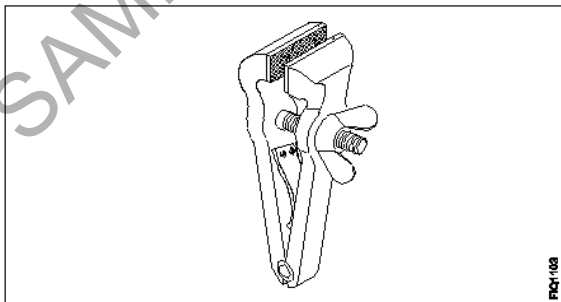
6	6	<p>What is the name of the part of a hammer marked as 'X' shown in the figure?</p> <p>"X" के रूप में चिह्नित हैमर के भाग का नाम बताएं।</p>  <p>A1 Face : फेस</p>	2.0	0.00
---	---	---	-----	------

		<p>A2 Pein : पीन</p> <p>A3 Check : चीक</p> <p>A4 Eye hole : आई होल</p>		
Trade Theory				
7	7	<p>Which file has parallel edges throughout the length? किस फाइल की पूरी लम्बाई में समान्तर किनारे होते हैं?</p> <p>A1 Hand file : हैंड लाइफ</p> <p>A2 Bastard file : बास्टर्ड फाइल</p> <p>A3 Rasp cut file : रास्प कट फाइल</p> <p>A4 Single cut file : सिंगल कट फाइल</p>	2.0	0.00
Trade Theory				
8	8	<p>Which caliper is used for finding the centre of the round bar? राउंड बार का केंद्र ज्ञात करने के लिए किस कैलिपर का उपयोग किया जाता है?</p> <p>A1 Jenny caliper : जेनी कैलिपर</p> <p>A2 Inside caliper : इनसाइड कैलिपर</p> <p>A3 Outside caliper : आउटसाइड कैलिपर</p> <p>A4 Firm joint caliper : फर्म जॉइंट कैलिपर</p>	2.0	0.00
Trade Theory				
9	9	<p>What is the name of the angular measuring instrument shown in the figure? चित्र में दिखाए गए कोणीय मापक यंत्र का नाम क्या है?</p>  <p>A1 Bevel gauge : बेवल गेज</p> <p>A2 Bevel protractor : बेवल प्रोट्रेक्टर</p> <p>A3 Universal bevel gauge : यूनिवर्सल बेवल गेज</p>	2.0	0.00

		<p>A4 : Universal surface gauge यूनिवर्सल सरफेस गेज</p>		
Trade Theory				
10	10	<p>Which chisel is used for cutting oil grooves? आयल ग्रुव्स को काटने के लिए किस छेनी का उपयोग किया जाता है?</p> <p>A1 : Flat chisel फ्लैट छेनी</p> <p>A2 : Web chisel वेब छेनी</p> <p>A3 : Half round nose chisel हाफ राउंड नोज छेनी</p> <p>A4 : Diamond point chisel डायमंड पॉइंट छेनी</p>	2.0	0.00
Trade Theory				
11	11	<p>What is the name of the vice shown in the figure? चित्र में दिखाए गए वाइस का नाम क्या है?</p>  <p>A1 : Pin vice पिन वाइस</p> <p>A2 : Pipe vice पाइप वाइस</p> <p>A3 : Hand vice हैण्ड वाइस</p> <p>A4 : Machine vice मशीन वाइस</p>	2.0	0.00
Trade Theory				
12	12	<p>What is the accuracy of protractor head in combination set? संयोजन सेट (कॉम्बिनेशन सेट) में प्रोट्रेक्टर हेड की परिशुद्धता (एक्यूरेसी) क्या है?</p> <p>A1 : 1° 1°</p> <p>A2 : 5° 5°</p> <p>A3 : 5' 5'</p> <p>A4 : 5'' 5''</p>	2.0	0.00
Trade Theory				
13	13	<p>Which punch is used for witness marks? निशान दिखने के लिए किस पंच का उपयोग किया जाता है?</p> <p>A1 : Dot punch डॉट पंच</p>	2.0	0.00

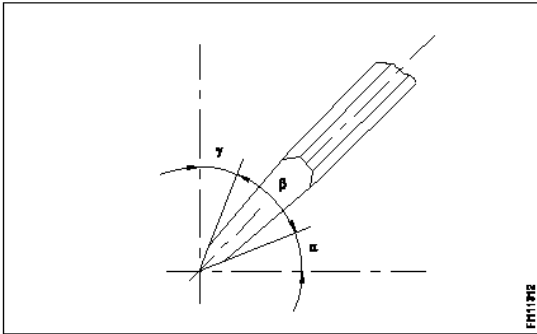
		डॉट पंच A2 : Pin punch पिन पंच A3 : Bell punch बेल पंच A4 : Centre punch सेंटर पंच		
Trade Theory				
14	14	What is the name of the part marked as 'X' shown in the figure? सरफेस गेज में 'X' के रूप में चिह्नित भाग का नाम क्या है? <div data-bbox="255 517 812 978" data-label="Image"> </div>	2.0	0.00
		A1 : Nut नट A2 : Snug सग A3 : Spindle स्पिंडल A4 : Scriber स्क्राइबर		
Trade Theory				
15	15	Which hand tool is used to finish the resharpened divider point? किस हाथ के औजार का उपयोग पुनः तीक्ष्ण किए गए डिवाइडर पॉइंट को समाप्त करने के लिए किया जाता है?	2.0	0.00
		A1 : File फाइल A2 : Grinder ग्राइंडर A3 : Scraper स्क्रेपर A4 : Oil stone ऑयल स्टोन		
Trade Theory				
16	16	Which vice is used to hold hollow cylindrical jobs? खोखले बेलनाकार जॉब को पकड़ने के लिए किस वाइस का उपयोग किया जाता है?	2.0	0.00
		A1 : Pin vice पिन वाइस		

		A2 Pipe vice : पाइप वाइस A3 Hand vice : हैंड वाइस A4 Bench vice : बेंच वाइस		
Trade Theory				
17	17	What is the name of the angle between the axis of chisel and the job surface while chipping? चिपिंग करते समय चीजल की ऐक्सिस और जॉब की सतह के बीच के एंगल का नाम क्या है? A1 Rake angle : रेक एंगल A2 Point angle : पॉइंट एंगल A3 Clearance angle : क्लीयरेंस एंगल A4 Angle of inclination : एंगल ऑफ़ इन्क्लनेशन	2.0	0.00
Trade Theory				
18	18	Which part of the bevel protractor comes in contact with the inclined surface while measuring? मापते समय बेवल प्रोट्रेक्टर का कौन सा भाग झुकी हुई सतह के संपर्क में आता है? A1 Dial : डायल A2 Disc : डिस्क A3 Blade : ब्लेड A4 Stock : स्टॉक	2.0	0.00
Trade Theory				
19	19	Which is an immediate life-saving procedure? कौन सी प्रक्रिया तत्काल जीवन रक्षक है? A1 First Aid : प्राथमिक चिकित्सा A2 Call a doctor : डॉक्टर को बुलाना A3 Call an ambulance : ऐम्बुलेंस को बुलाना A4 Medical treatment : चिकित्सा उपचार	2.0	0.00
Trade Theory				
20	20	What is the first step to avoid accident at work place? कार्यस्थल पर दुर्घटना से बचने के लिए पहला कदम क्या है? A1 Wearing safety equipment : सुरक्षा उपकरण पहनना	2.0	0.00

		<p>A2 Doing things in one's own way : चीजों को अपने तरीके से करना</p> <p>A3 Observing safety precautions : सुरक्षा सावधानियों का पालन करना</p> <p>A4 Doing things with a highly skilled working practice : अत्यधिक कुशल काम करने के अभ्यास के साथ चीजें करना</p>		
Trade Theory				
21	21	<p>Which process breaks down the materials into organic compounds that are used as manure? कौन सी प्रक्रिया सामग्री को कार्बनिक यौगिकों में तोड़ देती है जिनका उपयोग खाद के रूप में किया जाता है?</p> <p>A1 Land fills : लैंड फिल्ल्स</p> <p>A2 Recycling : रीसाइक्लिंग</p> <p>A3 Composting : कम्पोस्टिंग</p> <p>A4 Burning waste material : अपशिष्ट पदार्थ जलाना</p>	2.0	0.00
Trade Theory				
22	22	<p>Which marking media is poisonous? कौन सा मार्किंग मीडिया जहरीला है?</p> <p>A1 White wash : वाइट वाश</p> <p>A2 Prussian blue : प्रशियन ब्लू</p> <p>A3 Copper sulphate : कॉपर सल्फेट</p> <p>A4 Cellulose lacquer : सेल्यूलोज लैकर</p>	2.0	0.00
Trade Theory				
23	23	<p>What is the name of the vice shown in the figure? चित्र में दिखाए गए वाइस का नाम क्या है?</p> <div data-bbox="271 1514 834 1814">  </div> <p>A1 Pin vice : पिन वाइस</p> <p>A2 Pipe vice : पाइप वाइस</p> <p>A3 Hand vice : हैंड वाइस</p>	2.0	0.00

A4 Quick releasing vice
:
क्विक रिलीजिंग वाइस

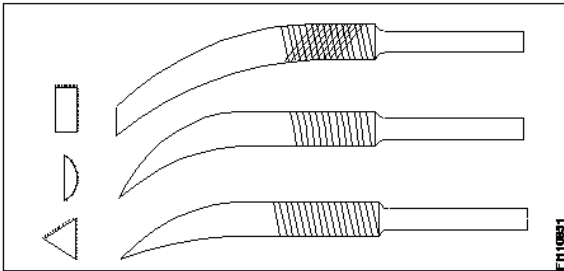
Trade Theory

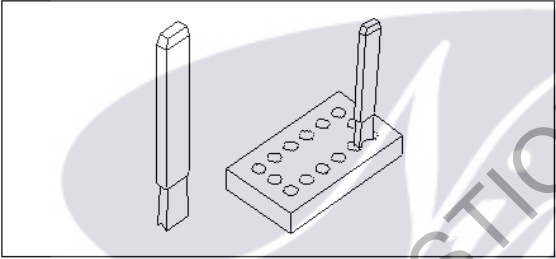
24	24	<p>Which angle is represented by the symbol "γ" on the cutting chisel shown in the figure? चित्र में दिखाए गए कटिंग चीजल पर प्रतीक "γ" द्वारा कौन सा कोण दर्शाया गया है?</p>  <p>A1 Rake angle : रेक कोण</p> <p>A2 Wedge angle : वैज कोण</p> <p>A3 Cutting angle : कटिंग कोण</p> <p>A4 Clearance angle : क्लीयरेंस कोण</p>	2.0	0.00
----	----	---	-----	------

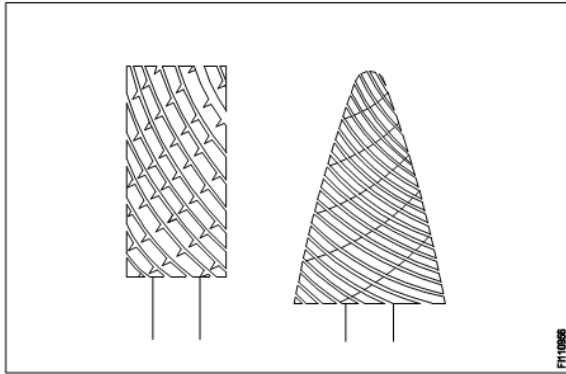
Trade Theory

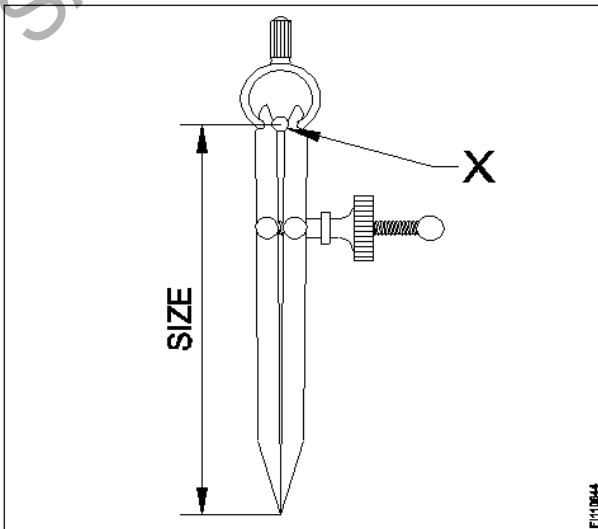
25	25	<p>Which type of file is used to make the job closer to the finishing size? जॉब को फिनिशिंग साइज़ के करीब लाने के लिए किस प्रकार की फ़ाइल का उपयोग किया जाता है?</p> <p>A1 Single cut file : सिंगल कट फाइल</p> <p>A2 Curved cut file : कर्व्ड कट फाइल</p> <p>A3 Second cut file : सेकंड कट फाइल</p> <p>A4 Double cut file : डबल कट फाइल</p>	2.0	0.00
----	----	---	-----	------

Trade Theory

26	26	<p>What is the name of the file shown in the figure? चित्र में दिखाए गए फ़ाइल का नाम क्या है?</p>  <p>A1 Barrot file : बर्रोर्ट फाइल</p> <p>A2 Riffler file : रिफ्लर फाइल</p>	2.0	0.00
----	----	--	-----	------

		<p>रिफ्लेर फाइल</p> <p>A3 : Crossing file</p> <p>क्रासिंग फाइल</p> <p>A4 : Mill saw file</p> <p>मिल साँ फाइल</p>		
Trade Theory				
27	27	<p>Where will the weight of the hammer be stamped? हैमर का वजन कहाँ अंकित किया जाएगा?</p> <p>A1 : Face</p> <p>फेस</p> <p>A2 : Pein</p> <p>पिन</p> <p>A3 : Check</p> <p>चीक</p> <p>A4 : Eye hole</p> <p>आई होल</p>	2.0	0.00
Trade Theory				
28	28	<p>What is the name of the chisel shown in the figure? चित्र में दिखाए गए छेनी का नाम क्या है?</p>  <p>A1 : Flat chisel</p> <p>सपाट छेनी (फ्लैट छेनी)</p> <p>A2 : Web chisel</p> <p>वेब छेनी</p> <p>A3 : Cross cut chisel</p> <p>क्रॉस कट छेनी</p> <p>A4 : Diamond point chisel</p> <p>डायमंड पॉइंट छेनी</p>	2.0	0.00
Trade Theory				
29	29	<p>What is the accuracy of Vernier bevel protractor? वर्नियर बेवेल प्रोट्रेक्टर की सटीकता क्या है?</p> <p>A1 : 1°</p> <p>1°</p> <p>A2 : 5°</p> <p>5°</p> <p>A3 : 5'</p> <p>5'</p> <p>A4 : 5"</p> <p>5"</p>	2.0	0.00

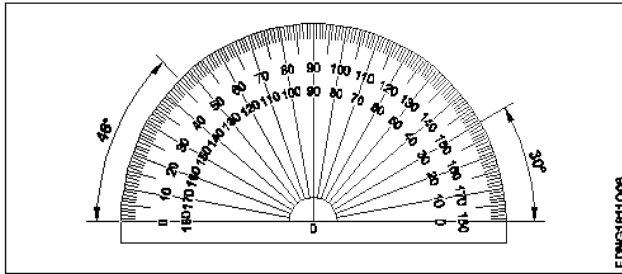
Trade Theory				
30	30	<p>What is the name of the file shown in the figure?</p> <p>चित्र में दर्शाई गई फ़ाइल का नाम क्या है?</p> <div></div> <p>A1 : Rotary file रोटरी फ़ाइल</p> <p>A2 : Tinkers file टिकर फाइल</p> <p>A3 : Barrette file बैरेट फ़ाइल</p> <p>A4 : Crossing file क्रॉसिंग फाइल</p>	2.0	0.00
Trade Theory				
31	31	<p>What is the advantage of waste disposal?</p> <p>अपशिष्ट निपटान का लाभ क्या है?</p> <p>A1 : Uses lot of energy and resources बहुत अधिक ऊर्जा और संसाधनों का उपयोग करता है</p> <p>A2 : Increases adverse impact on environment पर्यावरण पर प्रतिकूल प्रभाव बढ़ाता है</p> <p>A3 : Ensures workshop is neat and tidy यह सुनिश्चित करता है कि कार्यशाला साफ-सुथरी हो</p> <p>A4 : Reduces economic efficiency आर्थिक दक्षता कम हो जाती है</p>	2.0	0.00
Trade Theory				
32	32	<p>Which ensures personal safety?</p> <p>कौन-सा व्यक्तिगत सुरक्षा सुनिश्चित करता है?</p> <p>A1 : Keeping the machine clean मशीन को साफ रखना</p> <p>A2 : Concentrating on your work अपने काम पर ध्यान केंद्रित करना</p> <p>A3 : Keeping the gang way and floor clean गैंगवे और फर्श को साफ रखना</p> <p>A4 : Keeping the tools at their proper place टूल्स को उनके उचित स्थान पर रखना</p>	2.0	0.00
Trade Theory				
33	33	<p>How do you stop bleeding in an injured person?</p> <p>आप घायल व्यक्ति में रक्तस्राव कैसे रोकते हैं?</p>	2.0	0.00

		<p>A1 Tie bandage over the wound : घाव पर पट्टी बांधकर</p> <p>A2 Apply ointment over the wound : घाव पर मरहम लगाकर</p> <p>A3 Apply tincture over the wound : घाव पर टिचर लगाकर</p> <p>A4 Apply pressure over the wound : घाव पर दबाव डालकर</p>		
Trade Theory				
34	34	<p>Which period is referred to as the 'golden hours' for an injured person? किस अवधि को घायल व्यक्ति के लिए 'गोल्डन ऑवर्स' कहा जाता है?</p> <p>A1 First 30 minutes after incident : घटना के बाद के पहले 30 मिनट</p> <p>A2 First 30 minutes : पहले 30 मिनट</p> <p>A3 First 45 minutes of admission : भर्ती के पहले 45 मिनट</p> <p>A4 First 60 minutes after treatment : उपचार के बाद के पहले 60 मिनट</p>	2.0	0.00
Trade Theory				
35	35	<p>Which material is used to make bench vice? बेंच वाइस बनाने के लिए किस सामग्री का उपयोग किया जाता है?</p> <p>A1 Tool steel : टूल स्टील</p> <p>A2 High carbon steel : उच्च कार्बन इस्पात</p> <p>A3 Medium carbon steel : मध्यम कार्बन स्टील</p> <p>A4 Cast iron : कास्ट आयरन</p>	2.0	0.00
Trade Theory				
36	36	<p>What is the name of the part marked as 'X' shown in the figure? आकृति में दिखाए गए 'X' से चिह्नित भाग का नाम क्या है?</p> 	2.0	0.00

		<p>A1 Leg : लेग</p> <p>A2 Peg : पेग</p> <p>A3 Washer : वॉशर</p> <p>A4 Fulcrum : फलक्रम</p>		
Trade Theory				
37	37	<p>Which caliper has one leg with an adjustable divider point and the other leg bent? किस कैलीपर में एक लेग में एडजस्टेबल डिवाइडर पॉइंट होता है और दूसरा लेग मुड़ा हुआ होता है?</p> <p>A1 Jenny caliper : जेनी कैलिपर</p> <p>A2 Inside caliper : इनसाइड कैलीपर</p> <p>A3 Outside caliper : आउटसाइड कैलीपर</p> <p>A4 Spring joint caliper : स्प्रिंग ज्वाइंट कैलीपर</p>	2.0	0.00
Trade Theory				
38	38	<p>Which is a soft skill? कौन-सा सॉफ्ट स्किल है?</p> <p>A1 Copywriting : कॉपीराइटिंग</p> <p>A2 Marketing : मार्केटिंग</p> <p>A3 Teamwork : टीम वर्क</p> <p>A4 Planning : प्लानिंग</p>	2.0	0.00
Workshop Calculation and Science				
39	39	<p>What are the two classifications of system of units? इकाइयों की प्रणाली के दो प्रकार कौनसे हैं?</p> <p>A1 British and Metric : ब्रिटिश और मीट्रिक</p> <p>A2 Gravitational and non-gravitational : गुरुत्वाकर्षण और गैर-गुरुत्वाकर्षण</p> <p>A3 Fundamental and derived : मौलिक और व्युत्पन्न</p> <p>A4 Metric and International : मैट्रिक और इंटरनेशनल</p>	2.0	0.00
Workshop Calculation and Science				
40	40	<p>What are fundamental units? इनमें से मूलभूत इकाइयाँ कौन-कौनसी हैं?</p>	2.0	0.00

		<p>A1 Length, Mass, Volume : लंबाई, द्रव्यमान, आयतन</p> <p>A2 Length, Mass, Time : लंबाई, द्रव्यमान, समय</p> <p>A3 Length, Mass, Area : लंबाई, द्रव्यमान, क्षेत्रफल</p> <p>A4 Length, Pressure, Volume : लंबाई, दाब, आयतन</p>		
Workshop Calculation and Science				
41	41	<p>What denotes letter 'M' in MKS system? MKS प्रणाली में 'M' अक्षर क्या दर्शाता है?</p> <p>A1 Mile : Mile</p> <p>A2 Meter : Meter</p> <p>A3 Millimeter : Millimeter</p> <p>A4 Micron : Micron</p>	2.0	0.00
Workshop Calculation and Science				
42	42	<p>How many millimetres are there in 1 inch? 1 इंच में कितने मिलीमीटर होते हैं?</p> <p>A1 2.54 mm : 2.54 mm</p> <p>A2 25.4 mm : 25.4 mm</p> <p>A3 24.5 mm : 24.5 mm</p> <p>A4 2.45 mm : 2.45 mm</p>	2.0	0.00
Workshop Calculation and Science				
43	43	<p>What is the square root of 529? 529 का वर्गमूल क्या है?</p> <p>A1 13 : 13</p> <p>A2 23 : 23</p> <p>A3 33 : 33</p> <p>A4 43 : 43</p>	2.0	0.00
Workshop Calculation and Science				
44	44	<p>Convert 0.456 decimal fraction into percentage? 0.456 दशमलव भिन्न को प्रतिशत में बदलिये?</p> <p>A1 45.6% : 45.6%</p>	2.0	0.00

		<p>45.6%</p> <p>A2 : 4.56%</p> <p>4.56%</p> <p>A3 : 0.456%</p> <p>0.456%</p> <p>A4 : 0.0456%</p> <p>0.0456%</p>		
Engineering Drawing				
45	45	<p>Identify the conventional symbol of material?</p> <p>चित्र में दिखाए गए सामग्री के पारंपरिक प्रतीक का पता लगाएं?</p> <div data-bbox="266 521 888 763" data-label="Image"> </div> <p>A1 Water : पानी</p> <p>A2 Concrete : ठोस</p> <p>A3 Asbestos : ऐस्बेटस</p> <p>A4 Glass : कांच</p>	2.0	0.00
Engineering Drawing				
46	46	<p>Identify the conventional symbol of material?</p> <p>चित्र में दिखाए गए सामग्री के पारंपरिक प्रतीक का पता लगाएं?</p> <div data-bbox="261 1335 873 1594" data-label="Image"> </div> <p>A1 Lead : लेड</p> <p>A2 Glass : कांच</p> <p>A3 Wood : लकड़ी</p> <p>A4 Paper : कागज़</p>	2.0	0.00
Engineering Drawing				
47	47	<p>Identify the name of instrument?</p> <p>चित्र में दिखाए गए उपकरणों के नाम की पहचान करें?</p>	2.0	0.00



EDNG181Q06

A1 Set square

:

गुनिया

A2 Protractor

:

चाँदा

A3 French curve

:

फ्रान्सीसी वक्र

A4 'T' square

:

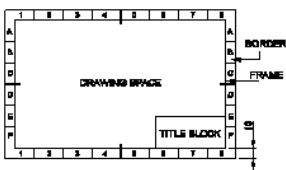
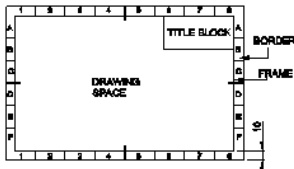
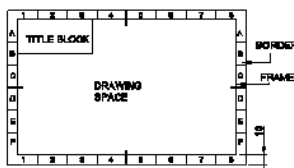
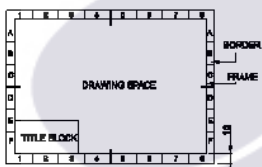
टी स्कायर

Engineering Drawing

48	48	Identify the name of set square? सेट स्कायर का नाम खोजें?	2.0	0.00
<p>A1 15° set square</p> <p>:</p> <p>15° सेट स्कायर</p> <p>A2 60° set square</p> <p>:</p> <p>60° सेट स्कायर</p> <p>A3 30° set square</p> <p>:</p> <p>30° सेट स्कायर</p> <p>A4 45° set square</p> <p>:</p> <p>45° सेट स्कायर</p>				

Engineering Drawing

49	49	Compass used to draw for ____. कम्पास का उपयोग ____ को ड्रा करने के लिए किया जाता है.	2.0	0.00
<p>A1 rectangle</p> <p>:</p> <p>आयत</p> <p>A2 square</p> <p>:</p> <p>वर्ग</p> <p>A3 circle</p> <p>:</p> <p>वृत्त</p> <p>A4 triangle</p> <p>:</p> <p>त्रिकोण</p>				

Engineering Drawing				
50	50	<p>Which title block position is correct as standard practice? एक मानक अभ्यास के रूप में कौन सी शीर्षक ब्लॉक स्थिति सही है?</p> <p>A1 :</p>  <p>A2 :</p>  <p>A3 :</p>  <p>A4 :</p> 	2.0	0.00
Employability Skills				
51	51	<p>To be in a job or work is _____ नौकरी या काम में होना है</p> <p>A1 : Employ रोजगार</p> <p>A2 : Skill कौशल</p> <p>A3 : Knowledge ज्ञान</p> <p>A4 : Aptitude योग्यता</p>	2.0	0.00
Employability Skills				
52	52	<p>Information like date of birth, permanent address form a part of one's _____ in the resume. जन्म तिथि, स्थायी पता जैसी जानकारी रिज्यूमे में किसी के _____ का हिस्सा होती है।</p> <p>A1 : Career objectives करियर के उद्देश्यों</p> <p>A2 : Personal details व्यक्तिगत विवरण</p> <p>A3 : Achievements उपलब्धियों</p>	2.0	0.00

		A4 Qualifications : योग्यता		
Employability Skills				
53	53	<p>A person with a growth mindset is always willing to _____ एक विकास मानसिकता वाला व्यक्ति हमेशा तैयार रहता है।</p> <p>A1 relax : आराम करने में</p> <p>A2 grow, change, learn : बढ़ो, बदलो, सीखो</p> <p>A3 keep quiet : चुप रहने में</p> <p>A4 become rich : अमीर बनने</p>	2.0	0.00
Employability Skills				
54	54	<p>Jobs that have become outdated in the past 5 years _____ नौकरियां जो पिछले 5 वर्षों में पुरानी हो गई हैं।</p> <p>A1 STD booth : STD बूथ</p> <p>A2 ola : ओला</p> <p>A3 uber : उबेर</p> <p>A4 swiggy : Swiggy</p>	2.0	0.00
Employability Skills				
55	55	<p>Ethics means _____ नैतिकता का अर्थ है....।</p> <p>A1 decide what is right and wrong for a human conduct : तय करें कि मानव आचरण के लिए क्या सही है और क्या गलत</p> <p>A2 name of a city : एक शहर का नाम</p> <p>A3 employability skills : रोज़गार कौशल</p> <p>A4 not relevant to society : समाज से संबंधित नहीं है</p>	2.0	0.00
Employability Skills				
56	56	<p>Values are _____ मान हैं।</p> <p>A1 not punctual : समयनिष्ठ नहीं</p> <p>A2 Motivates our attitude and action : हमारे दृष्टिकोण और कार्रवाई को प्रेरित करता है</p> <p>A3 very costly : बहुत कीमती</p>	2.0	0.00

		<p>A4 all have same value : सभी का मूल्य समान है</p>		
Employability Skills				
57	57	<p>_____ is a brief statement about purpose and principles of the Constitution.संविधान के उद्देश्य और सिद्धांतों के बारे में संक्षिप्त विवरण है।</p> <p>A1 Syllabus : पाठ्यक्रम</p> <p>A2 Module : मापांक</p> <p>A3 The Preamble : प्रस्तावना</p> <p>A4 Unit : इकाई</p>	2.0	0.00
Employability Skills				
58	58	<p>Identify the improper term _____ अनुचित पद को पहचानिए।</p> <p>A1 green pollution : हरित प्रदूषण</p> <p>A2 water pollution : जल प्रदूषण</p> <p>A3 air pollution : वायु प्रदूषण</p> <p>A4 sound pollution : ध्वनि प्रदूषण</p>	2.0	0.00
Employability Skills				
59	59	<p>NAPS Stands for _____ NAPS का मतलब _____</p> <p>A1 National Apprenticeship Promotion Scheme : National Apprenticeship Promotion Scheme</p> <p>A2 National Appointment Promoting Scheme : National Appointment Promoting Scheme</p> <p>A3 Non Apprenticeship Promotion Scheme : Non Apprenticeship Promotion Scheme</p> <p>A4 National Advertising Promotion Scheme : National Advertising Promotion Scheme</p>	2.0	0.00
Employability Skills				
60	60	<p>_____ is major changes takes place in manufacturing.मैन्युफैक्चरिंग में प्रमुख परिवर्तन होते हैं।</p> <p>A1 Green revolution : हरित क्रांति</p> <p>A2 Industry revolution : उद्योग क्रांति</p> <p>A3 Water revolution : जल क्रांति</p>	2.0	0.00

		A4 Food revolution : खाद्य क्रांति		
Employability Skills				
61	61	1st industrial revolution started in _____ पहली औद्योगिक क्रांति की शुरुआत। A1 18th century : 18 वीं सदी A2 19th century : 19 वीं सदी A3 20th century : 20 वीं सदी A4 21st century : 21 वीं सदी	2.0	0.00
Employability Skills				
62	62	Hard Skill _____ कठिन कौशल.....। A1 quick learner : त्वरित शिक्षार्थी A2 time management : समय प्रबंधन A3 60 WPM typing speed : 60 WPM टाइपिंग स्पीड A4 spoken English : मौखिक अंग्रेजी	2.0	0.00
Employability Skills				
63	63	To grow yourself you must _____ अपने आप को विकसित करने के लिए आपको चाहिए। A1 know your office : अपने कार्यालय को जानें A2 know yourself : खुद को जानें A3 know your institute : अपने संस्थान को जानें A4 know your country : अपने देश को जानो	2.0	0.00
Employability Skills				
64	64	Time management _____ समय प्रबंधन.....। A1 complete your task on time : अपना कार्य समय पर पूरा करें A2 managing time : प्रबंधन समय A3 hard skill : कठिन कौशल	2.0	0.00

		<p>A4 problem solving : समस्या को सुलझाना</p>		
Employability Skills				
65	65	<p>A resume should be _____. एक रिज्यूम _____ होना चाहिए</p> <p>A1 short and precise : छोटा और सटीक</p> <p>A2 fancy and colourful : फैसी और रंगीन</p> <p>A3 having long and detailed information : लंबी और विस्तृत जानकारी होना</p> <p>A4 having acronyms and abbreviation : समरूप और संक्षिप्त नाम होना</p>	2.0	0.00
Employability Skills				
66	66	<p>A written description of duties and responsibilities to be carried out in a job is called _____. किसी कार्य में किए जाने वाले कर्तव्यों और जिम्मेदारियों का लिखित विवरण _____ कहा जाता है</p> <p>A1 CV : CV</p> <p>A2 job description : job description</p> <p>A3 resume : resume</p> <p>A4 job application : job application</p>	2.0	0.00
Employability Skills				
67	67	<p>After receiving interview call, what is the next step? साक्षात्कार कॉल प्राप्त करने के बाद, अगला कदम क्या है?</p> <p>A1 Send application letter : आवेदन पत्र भेजें</p> <p>A2 Prepare the resume : रिज्यूम तैयार करें</p> <p>A3 Appear at interview : साक्षात्कार में में जाये</p> <p>A4 Send resume : रिज्यूम भेजे</p>	2.0	0.00
Employability Skills				
68	68	<p>Choose suitable "wh" word for the given sentence. "_____ animal do you like?" दिए गए वाक्य के लिए उपयुक्त "wh" शब्द चुनें। "_____ animal do you like?"</p> <p>A1 Which : Which</p> <p>A2 Why : Why</p> <p>A3 Where : Where</p>	2.0	0.00

		A4 When : When		
Employability Skills				
69	69	Choose the correct punctuation mark after the word "Rohan" in the given sentence. "Rohan David and Ram are playing hide and seek" दिए गए वाक्य में शब्द "रोहन" के बाद सही विराम चिह्न चुनें। "Rohan David and Ram are playing hide and seek" A1 Comma (,) : अल्पविराम (,) A2 Period (.) : अवधि (.) A3 Slash (/) : स्लैश (/) A4 Hyphen (-) : हाइफ़न (-)	2.0	0.00
Employability Skills				
70	70	Choose the correct response for the given question. "How have you been?" दिए गए प्रश्न के लिए सही उत्तर चुनिए। "How have you been?" A1 Very well, And you? : Very well, And you? A2 Thank you_ And you? : Thank you_ And you? A3 Same to you : Same to you A4 On vacation_ And you? : On vacation_ And you?	2.0	0.00
Employability Skills				
71	71	Choose the correct response of the given question. "When did the accident happen?" दिए गए प्रश्न की सही प्रतिक्रिया चुनें। "When did the accident happen?" A1 in the hotel : in the hotel A2 during travelling : during travelling A3 At 10:30 last night : At 10:30 last night A4 On the table : On the table	2.0	0.00
Employability Skills				
72	72	Choose the correct tense of the verb. "I _____ music when I was child" क्रिया का सही काल चुनें। "I _____music when I was child" A1 learn : learn A2 am learning : am learning A3 will learn : will learn	2.0	0.00

		<p>A4 had learnt : had learnt</p>		
Employability Skills				
73	73	<p>Curriculum vitae is also known as _____ . Curriculum vitae को _____ के रूप में भी जाना जाता है।</p> <p>A1 circular : परिपत्र</p> <p>A2 resume : रिज्यूम</p> <p>A3 job application form : नौकरी के लिए आवेदन पत्र</p> <p>A4 leave application : छुट्टी की अर्जी</p>	2.0	0.00
Employability Skills				
74	74	<p>Fill in the blank with comparative adjective. "Your pencil is _____ than mine" तुलनात्मक विशेषण के साथ रिक्त स्थान भरें। "Your pencil is _____ than mine"</p> <p>A1 sharp : sharp</p> <p>A2 sharper : sharper</p> <p>A3 blunt : blunt</p> <p>A4 thick : thick</p>	2.0	0.00
Employability Skills				
75	75	<p>Fill in the blank with correct future tense of verb. "We _____ to the zoo after Breakfast " क्रिया के सही भविष्य काल के साथ रिक्त स्थान भरें। "We _____ to the zoo after Breakfast "</p> <p>A1 went : went</p> <p>A2 are going : are going</p> <p>A3 had gone : had gone</p> <p>A4 will go : will go</p>	2.0	0.00

Fitter - 1st Year - Set 1

S.No	Correct Answer Key
1	A1
2	A2
3	A1
4	A2
5	A3
6	A3
7	A1
8	A1
9	A3
10	A3
11	A1
12	A1
13	A1
14	A2
15	A4
16	A2
17	A4
18	A3
19	A1
20	A3
21	A3
22	A3
23	A3
24	A1
25	A3
26	A2
27	A3
28	A2
29	A3
30	A1
31	A3
32	A2
33	A4
34	A1
35	A4
36	A4
37	A1
38	A3

S.No	Correct Answer Key
39	A3
40	A2
41	A2
42	A2
43	A2
44	A1
45	A1
46	A3
47	A2
48	A4
49	A3
50	A1
51	A1
52	A2
53	A2
54	A1
55	A1
56	A2
57	A3
58	A1
59	A1
60	A2
61	A1
62	A3
63	A2
64	A1
65	A1
66	A2
67	A3
68	A1
69	A1
70	A1
71	A3
72	A4
73	A2
74	A2
75	A4

Note:

"In case answers found to be inaccurate due to typographical error or any other reason please sent mail to qbnimigrievance@gmail.com"