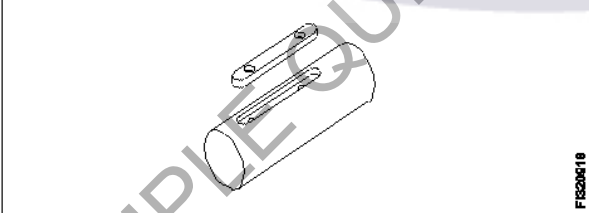


**ALL INDIA TRADE TEST - 2024 FOR CRAFTSMEN**  
**TRAINING SCHEME (CTS)**  
**Trade Name: Fitter**  
**Year: 2nd Year**

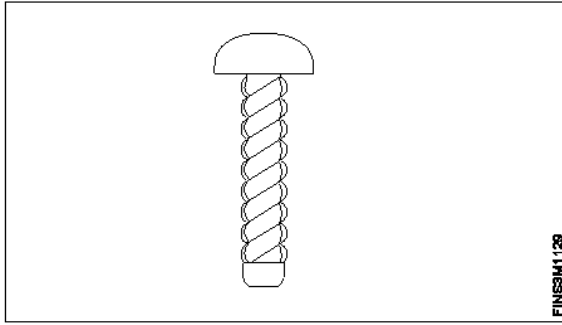
**Exam Date :**  
**Exam Time :**

**Note:**

1. Tick the correct option out of four alternatives provided
2. All questions carry equal marks (2 Marks each)
3. There is no negative marking

Sr. No.	Q ID	Question Body and Alternatives	Marks	Negative Marks
Trade Theory				
1	1	<p>Which special file is used in narrow workpieces?  संकीर्ण वर्कपीस में कौन सी विशेष फाइल का उपयोग किया जाता है?</p> <p>A1 : Pillar file  पिलर फाइल</p> <p>A2 : Square file  स्क्वायर फाइल</p> <p>A3 : Dread naught file  ड्रेड नॉट फाइल</p> <p>A4 : Swiss pattern file  स्विस पैटर्न फाइल</p>	2.0	0.00
Trade Theory				
2	2	<p>What is the name of the key shown in the figure?  चित्र में दर्शाई गई की का नाम क्या है?</p>  <p>A1 : Sunk key  संक की</p> <p>A2 : Feather key  फेदर की</p> <p>A3 : Flat saddle key  फ्लैट सैडल की</p> <p>A4 : Hollow saddle key  होलो सैडल की</p>	2.0	0.00
Trade Theory				
3	3	<p>What is the purpose of key?  कुंजी का उद्देश्य क्या है?</p> <p>A1 : To transmit torque  टॉर्क को संचारित करने के लिए</p>	2.0	0.00

		<p>A2 : For assembly purpose असेंबली उद्देश्य के लिए</p> <p>A3 : To lock the assembly part असेंबली भाग को लॉक करने के लिए</p> <p>A4 : To permit clearance between mating parts संभोग भागों के बीच निकासी की अनुमति देने के लिए</p>		
Trade Theory				
4	4	<p>What is the taper ratio of Gib head key way? जिब हेड की वे का टेपर अनुपात क्या होता है?</p> <p>A1 : 1:19 1:19</p> <p>A2 : 1:20 1:20</p> <p>A3 : 1:50 1:50</p> <p>A4 : 1:100 1:100</p>	2.0	0.00
Trade Theory				
5	5	<p>Which key is useful for fitting on tapered shafts? टैपर्ड शाफ्ट पर फिटिंग के लिए कौन सी की उपयोगी है?</p> <p>A1 : Feather key फेदर की</p> <p>A2 : Gib head key जिब हेड की</p> <p>A3 : Woodruff key वूडरफ की</p> <p>A4 : Flat saddle key फ्लैट सैडल की</p>	2.0	0.00
Trade Theory				
6	6	<p>Which file is used for lock repair and filing hard notches in keys? लॉक की मरम्मत और चाबियों में हार्ड नॉच दाखिल करने के लिए किस फ़ाइल का उपयोग किया जाता है?</p> <p>A1 : Pillar file पिलर फ़ाइल</p> <p>A2 : Flexible file फ्लेक्सिबल फ़ाइल</p> <p>A3 : Warding file वार्डिंग फ़ाइल</p> <p>A4 : Swiss pattern file स्विस पैटर्न फ़ाइल</p>	2.0	0.00
Trade Theory				
7	7	<p>What is the name of the screw shown in the figure? चित्र में दिखाए गए स्कू का नाम क्या है?</p>	2.0	0.00



A1 : Grub screw

ग्रब की

A2 : Drive screw

ड्राइव स्कू

A3 : Self tapping screw

सेल्फ टैपिंग स्कू

A4 : Thread cutting screw

थ्रेड कटिंग स्कू

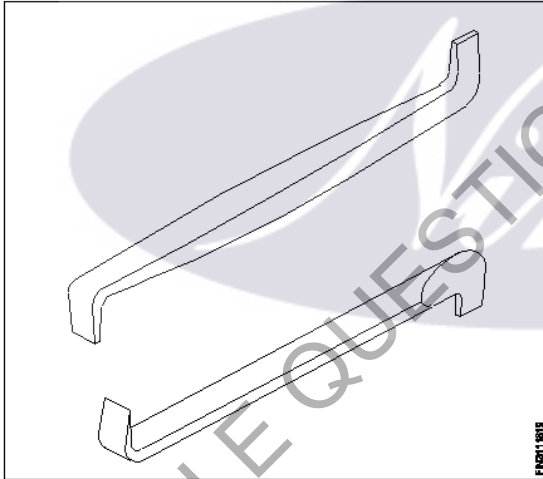
Trade Theory

8

8

What is the name of the screw driver shown in the figure?

चित्र में दिखाए गए स्कू ड्राइवर का नाम क्या है?



A1 : Offset screw driver

ऑफसेट स्कू ड्राइवर

A2 : Philips screw driver

फिलिप्स स्कू ड्राइवर

A3 : Standard screw driver

स्टैंडर्ड स्कू ड्राइवर

A4 : Heavy duty screw driver

हेवी ड्यूटी स्कू ड्राइवर

Trade Theory

2.0

0.00

9

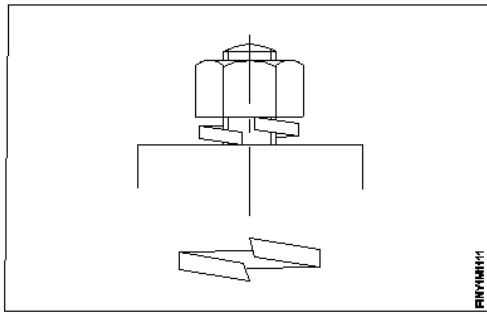
9

What is the name of the locking device shown in the figure?

चित्र में दिखाए गए लॉकिंग डिवाइस का नाम क्या है?

2.0

0.00



A1  
: Tab washer

टैब वाशर

A2  
: Locking plate

लॉकिंग प्लेट

A3  
: Lock washer

लॉक वॉशर

A4  
: Spring washer

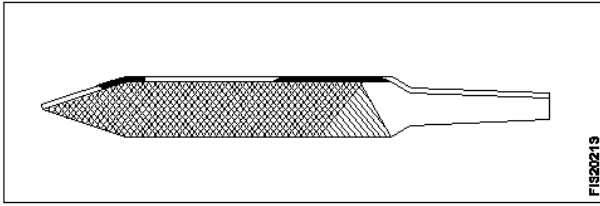
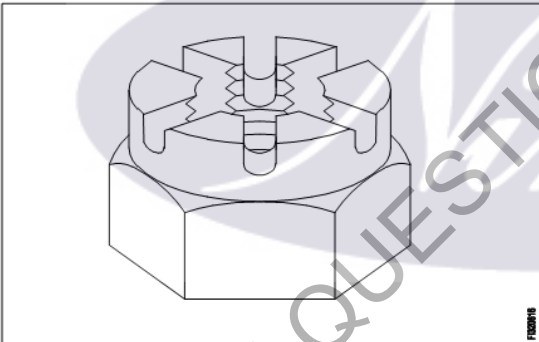
स्प्रिंग वॉशर

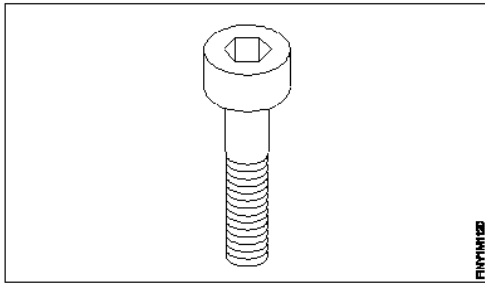
Trade Theory

10	10	Which file is used for finishing sharp corners? नुकीले कोनों को फिनिश करने के लिए किस फाइल का उपयोग किया जाता है?	2.0	0.00
		<p>A1 : Pillar file</p> <p>पिलर फाइल</p> <p>A2 : Riffler file</p> <p>रिफ्लर फाइल</p> <p>A3 : Barrette file</p> <p>बैरट फाइल</p> <p>A4 : Warding file</p> <p>वार्डिंग फाइल</p>		

Trade Theory

11	11	What is the name of the file shown in the figure? इस फाइल का नाम क्या है?	2.0	0.00
		<p>A1 : Tinker's file</p> <p>टिंकर फाइल</p> <p>A2 : Crossing file</p> <p>क्रॉसिंग फाइल</p> <p>A3 : Swiss pattern file</p> <p>स्विस पैटर्न फाइल</p>		

		<p>A4 : Dread naught file ड्रेड नॉट फ़ाइल</p>		
Trade Theory				
12	12	<p>What is the name of the file shown in the figure? चित्र में दर्शाई गई फ़ाइल का नाम क्या है?</p>  <p>A1 : Pillar file पिलर फ़ाइल</p> <p>A2 : Warding file वार्डिंग फ़ाइल</p> <p>A3 : Dread naught file ड्रेड नॉट फ़ाइल</p> <p>A4 : Swiss pattern file स्विस पैटर्न फ़ाइल</p>	2.0	0.00
Trade Theory				
13	13	<p>What is the name of the nut shown in the figure? चित्र में दिखाए गए नट का नाम क्या है?</p>  <p>A1 : Castle nut कैसल नट</p> <p>A2 : Slotted nut स्लॉटेड नट</p> <p>A3 : T - Nut T - नट</p> <p>A4 : Cap nut कैप नट</p>	2.0	0.00
Trade Theory				
14	14	<p>Which type of screw is shown in the figure? चित्र में किस प्रकार का स्कू दिखाया गया है?</p>	2.0	0.00



A1 : Hexagon socket head cap screw

हेक्सागन सॉकेट हेड कैप स्कू

A2 : Hexagon head screw

हेक्सागन हेड स्कू

A3 : Counter sink head screw

काउंटर सिंक हेड स्कू

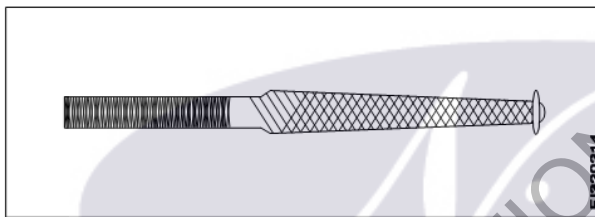
A4 : Raised cheese head screw

उभरा हुआ चीज़ हेंड स्कू

Trade Theory

15 15 What is the name of the file shown in the figure?

चित्र में दर्शाई गई फ़ाइल का नाम क्या है?



A1 : Pillar file

पिलर फाइल

A2 : Warding file

वार्डिंग फ़ाइल

A3 : Swiss pattern file

स्विस पैटर्न फ़ाइल

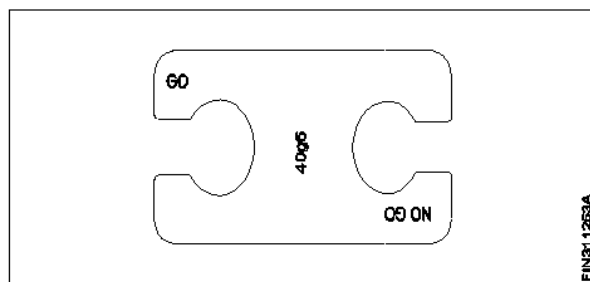
A4 : Dread naught file

ड्रेड नॉट फ़ाइल

Trade Theory

16 16 What is the name of the gauge shown in the figure?

चित्र में दिखाए गए गेज का नाम क्या है?

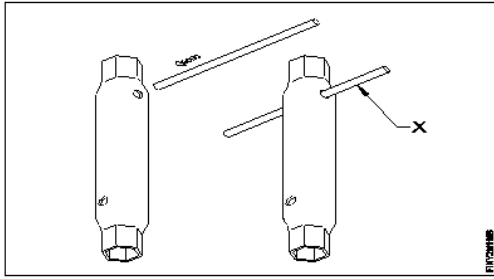


A1 : Taper gauge

टेपर गेज

A2 : Snap gauge

		<p>स्लैप गेज</p> <p>A3 : Progressive plug gauge</p> <p>प्रोग्रेसिव प्लग गेज</p> <p>A4 : Double end plug gauge</p> <p>डबल एंड प्लग गेज</p>		
Trade Theory				
17	17	<p>Which file that has sharp and parallel teeth is used on soft and non-metallic materials?</p> <p>नरम और गैर धातु मटेरियल पर इस्तेमाल किए जाने वाले तेज और समानांतर दांतों किस फाइल में होते हैं?</p> <p>A1 : Pillar file</p> <p>पिलर फाइल</p> <p>A2 : Tinker file</p> <p>टिकर फाइल</p> <p>A3 : Dread naught file</p> <p>ड्रेड नॉट फाइल</p> <p>A4 : Warding file</p> <p>वार्डिंग फाइल</p>	2.0	0.00
Trade Theory				
18	18	<p>Which file used for delicate and intricate work?</p> <p>नाजुक और जटिल काम के लिए कौन सी फाइल का उपयोग किया जाता है?</p> <p>A1 : Swiss pattern file</p> <p>स्विस पैटर्न फाइल</p> <p>A2 : Pillar file</p> <p>पिलर फाइल</p> <p>A3 : Dread naught file</p> <p>ड्रेड नॉट फाइल</p> <p>A4 : Warding file</p> <p>वार्डिंग फाइल</p>	2.0	0.00
Trade Theory				
19	19	<p>What is the purpose of dowel pins in assembly?</p> <p>असेंबली में डॉवल पिन का उद्देश्य क्या है?</p> <p>A1 : Perfect alignment &amp; quicker disassembly</p> <p>सही संरेखण और तेजी से जुदा करना</p> <p>A2 : Imperfect alignment</p> <p>अपूर्ण संरेखण</p> <p>A3 : Slow disassembly</p> <p>धीमी गति से जुदा करना</p> <p>A4 : Easy maintenance</p> <p>आसान रखरखाव</p>	2.0	0.00
Trade Theory				
20	20	<p>What is the name of the part of tubular box spanner marked as 'x' shown in the figure?</p> <p>चित्र में दिखाए गए 'x' से चिह्नित ट्यूबलर बॉक्स स्पेनर के भाग का नाम क्या है?</p>	2.0	0.00



A1 : Handle

हैंडल

A2 : Body

बॉडी

A3 : Head

हेड

A4 : Tommy bar

टॉमी बार

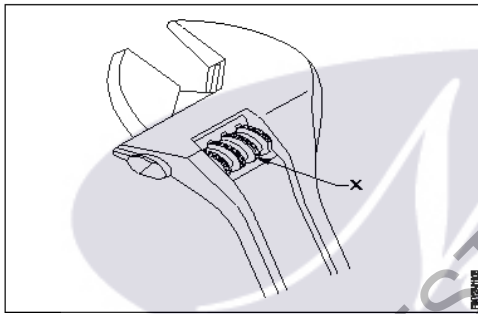
Trade Theory

21

21

What is the name of the part of adjustable spanner marked as 'x' shown in the figure?

चित्र में दिखाए गए 'x' के रूप में चिह्नित एडजस्टेबल स्पैनर के भाग का नाम क्या है?



A1 : Movable jaw

मूवेबल जॉ

A2 : Stationary jaw

स्टेशनरी जॉ

A3 : Handle

हैंडल

A4 : Knurl

कनुरल

Trade Theory

22

22

What is the use of air ratchet wrench?

एयर रैचेट रिच का उपयोग क्या है?

A1 : High speed and less torque

उच्च गति और कम टॉर्क

A2 : Low speed

धीमी गति

A3 : More torque

अधिक टॉर्क

A4 : High speed and more torque

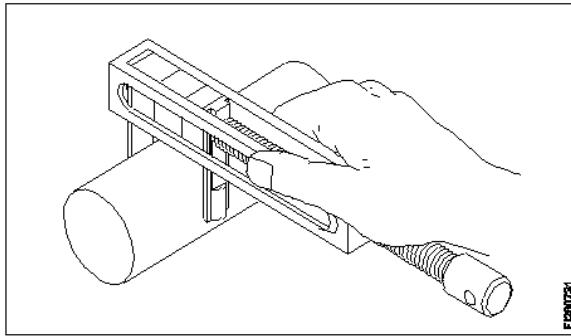
उच्च गति और अधिक टॉर्क



Trade Theory					
23	23	<p>What is the use of tab washers? टैब वॉशर का उपयोग क्या है?</p> <p>A1 : Locking the nut at the corner कोने पर नट को लॉक करना</p> <p>A2 : Locking the nut at the center केंद्र पर नट को लॉक करना</p> <p>A3 : Locking the nut from the bottom नीचे से नट को लॉक करना</p> <p>A4 : Locking the nut from the top ऊपर से नट को लॉक करना</p>	2.0	0.00	
Trade Theory					
24	24	<p>What is the use of round key in assembly? असेंबली में राउंड की का उपयोग क्या है?</p> <p>A1 : Secure the component with light torque घटक को हल्के टॉर्क से सुरक्षित करें</p> <p>A2 : High torque उच्च टॉर्क</p> <p>A3 : Unidirectional torque यूनिडायरेक्शनल टॉर्क</p> <p>A4 : Slide along the shaft शाफ्ट के साथ स्लाइड करें</p>	2.0	0.00	
Trade Theory					
25	25	<p>What is the use of rotary files? रोटरी फाइलों का उपयोग क्या है?</p> <p>A1 : To finish sharp corners तेज कोनों को खत्म करने के लिए</p> <p>A2 : To sharpening wood-working saws लकड़ी पर काम करने वाली आरी को तेज़ करने के लिए</p> <p>A3 : Die sinking and mould-making work डाई सिंकिंग एवं साँचे बनाने का कार्य</p> <p>A4 : Finish the automobile bodies, after tinkering छेड़छाड़ के बाद, ऑटोमोबाइल बॉडी को समाप्त करें</p>	2.0	0.00	
Trade Theory					
26	26	<p>What is the use of riffler's file? रिफ़्लर फ़ाइल का उपयोग क्या है?</p> <p>A1 : Finishing sharp corners नुकीले कोनों को खत्म करना</p> <p>A2 : Lock repair ताला मरम्मत</p> <p>A3 : Silversmith work सिल्वरस्मिथ कार्य</p> <p>A4 : Mould - making work मोल्ड - मेकिंग कार्य</p>	2.0	0.00	
Trade Theory					

27	27	<p>Which file is used for silversmith's work? सिल्वरस्मिथ के काम के लिए उपयोग की जाने वाली फ़ाइल का नाम बताइए।</p> <p>A1 : Min saw file मिन सॉ फ़ाइल</p> <p>A2 : Riffler file रिफ़लर फ़ाइल</p> <p>A3 : Pillar file पिल्लर फ़ाइल</p> <p>A4 : Warding file वार्डिंग फ़ाइल</p>	2.0	0.00
Trade Theory				
28	28	<p>What is checked using a template? टेम्पलेट का उपयोग करके क्या जांचा जाता है?</p> <p>A1 : Diameter of shaft शाफ्ट का व्यास</p> <p>A2 : Pitch of holes होल की पिच</p> <p>A3 : Hole size होल का आकार</p> <p>A4 : Contour profile of a workpiece वर्कपीस की कंटूर प्रोफ़ाइल</p>	2.0	0.00
Trade Theory				
29	29	<p>What is checked using a fillet gauge? फिलेट गेज का उपयोग करके क्या जांचा जाता है?</p> <p>A1 : Pitch of the thread धागे की पिच</p> <p>A2 : Internal radius आंतरिक त्रिज्या</p> <p>A3 : External corner radius बाहरी कोने की त्रिज्या</p> <p>A4 : Gap between mating components संयोजी घटकों के बीच का अंतर</p>	2.0	0.00
Trade Theory				
30	30	<p>What is used for placing the instruments during working? कार्य के दौरान उपकरणों को रखने के लिए किसका उपयोग किया जाता है?</p> <p>A1 : Wooden blank वुडन ब्लैंक</p> <p>A2 : Felt pad फ़ेल्ड पैड</p> <p>A3 : Steel sheet स्टील शीट</p> <p>A4 : Cloth कपड़ा</p>	2.0	0.00
Trade Theory				
31	31	<p>Which is used to clean the slip gauge?</p>	2.0	0.00

		<p>स्लिप गेज को साफ करने के लिए किसका उपयोग किया जाता है?</p> <p>A1 Wax : मोम</p> <p>A2 Kerosene : मिटटी तेल</p> <p>A3 Soluble oil : घुलनशील तेल</p> <p>A4 Carbon tetrachloride : कार्बन टेट्राक्लोराइड</p>		
Trade Theory				
32	32	<p>Which is used to clean the lapping plate after charging? चार्जिंग के बाद लैपिंग प्लेट को साफ करने के लिए किसका उपयोग किया जाता है?</p> <p>A1 Oil : तेल</p> <p>A2 Kerosene : मिटटी तेल</p> <p>A3 Coolant oil : कूलेंट तेल</p> <p>A4 Petroleum jelly : पेट्रोलियम जेली</p>	2.0	0.00
Trade Theory				
33	33	<p>Which material protects slip gauge from rusting? कौन सी सामग्री स्लिप गेज को जंग लगने से बचाती है?</p> <p>A1 Oil : तेल</p> <p>A2 Wax : मोम</p> <p>A3 Kerosene : मिटटी तेल</p> <p>A4 Petroleum jelly : पेट्रोलियम जेली</p>	2.0	0.00
Trade Theory				
34	34	<p>Which abrasive is used for lapping soft steel and non-ferrous metals? नरम स्टील और अलौह धातुओं को लैप करने के लिए किस अपघर्षक का उपयोग किया जाता है?</p> <p>A1 Silicon carbide : सिलिकॉन कार्बाइड</p> <p>A2 Diamond : हीरा</p> <p>A3 Boron carbide : बोरान कार्बाइड</p> <p>A4 Fused alumina : फ्यूज्ड एल्यूमीना</p>	2.0	0.00
Trade Theory				
35	35	<p>Which instrument is used in measuring the external diameter shown in the figure? चित्र में दिखाए गए बाहरी व्यास को मापने में किस उपकरण का उपयोग किया जाता है?</p>	2.0	0.00



A1  
: Vernier caliper

वर्नियर कैलीपर्स

A2  
: Outside caliper

आउटसाइड कैलिपर

A3  
: Parallel leg caliper

पैरेलल लेग कैलिपर

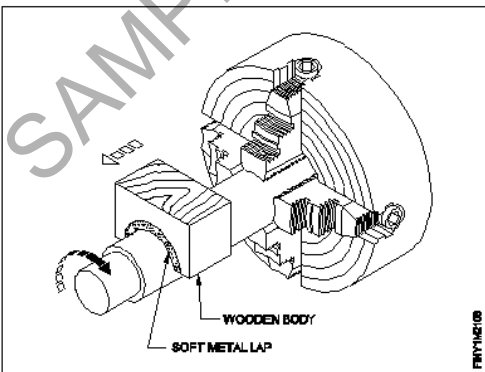
A4  
: Pair of special jaws by using slip gauge

स्लिप गेज का उपयोग करके विशेष जबड़े की जोड़ी

Trade Theory

36	36	<p>What is the purpose of slit provided in the lapping tool? लैपिंग टूल में प्रदान किया गया स्लिट का उद्देश्य क्या है?</p> <p>A1 : For clearance क्लीयरेंस के लिए</p> <p>A2 : For expansion विस्तार के लिए</p> <p>A3 : To retain abrasive घर्षण बनाए रखने के लिए</p> <p>A4 : To adjust the sleeve स्लीव को एडजस्ट करने के लिए</p>	2.0	0.00
----	----	---	-----	------

Trade Theory

37	37	<p>What is the name of the operation shown in the figure? चित्र में दिखाए गए ऑपरेशन का नाम क्या है?</p>  <p>A1 : Internal ring lapping आंतरिक रिंग लैपिंग</p> <p>A2 : External ring lapping बाहरी रिंग लैपिंग</p> <p>A3 : Lapping internal cylinder</p>	2.0	0.00
----	----	--	-----	------

		<p>आंतरिक सिलेंडर की लैपिंग</p> <p>A4 : Lapping large diameter</p> <p>लैपिंग लार्ज डायमीटर</p>		
Trade Theory				
38	38	<p>Which type of abrasive is used in honing cast iron and non-ferrous materials?</p> <p>कच्चा लोहा और अलौह सामग्री को चमकाने में किस प्रकार के अपघर्षक का उपयोग किया जाता है?</p> <p>A1 : Diamond</p> <p>हीरा</p> <p>A2 : Boron carbide</p> <p>बोरान कार्बाइड</p> <p>A3 : Silicon carbide</p> <p>सिलिकॉन कार्बाइड</p> <p>A4 : Aluminium oxide</p> <p>एल्युमीनियम ऑक्साइड</p>	2.0	0.00
Workshop Calculation and Science				
39	39	<p>What is the direction of frictional force against a motional object?</p> <p>किसी गतिपरक वस्तु के विरुद्ध घर्षण बल की दिशा क्या है?</p> <p>A1 : Inclined to the object</p> <p>वस्तु के लिए इच्छुक</p> <p>A2 : Opposite to the object</p> <p>वस्तु के सामने</p> <p>A3 : Parallel to the object</p> <p>वस्तु के समांतर</p> <p>A4 : Perpendicular to the object</p> <p>वस्तु के लम्बवत</p>	2.0	0.00
Workshop Calculation and Science				
40	40	<p>Which symbol is used to denote co-efficient of friction?</p> <p>घर्षण के गुणांक को निरूपित करने के लिए किस प्रतीक का प्रयोग किया जाता है?</p> <p>A1 : <math>\alpha</math> (Alpha)</p> <p><math>\alpha</math> (Alpha)</p> <p>A2 : <math>\mu</math> (Meu)</p> <p><math>\mu</math> (Meu)</p> <p>A3 : <math>\beta</math> (Beta)</p> <p><math>\beta</math> (Beta)</p> <p>A4 : <math>\gamma</math> (Gamma)</p> <p><math>\gamma</math> (Gamma)</p>	2.0	0.00
Workshop Calculation and Science				
41	41	<p>What is the purpose of a lubricant?</p> <p>स्नेहक का उद्देश्य क्या है?</p> <p>A1 : To increase the pressure</p> <p>दबाव बढ़ाने के लिए</p> <p>A2 : To increase friction</p> <p>घर्षण को बढ़ाने के लिए</p> <p>A3 : To reduce friction</p> <p>घर्षण को कम करने के लिए</p>	2.0	0.00

		<p>A4 : To reduce pressure दबाव को कम करने के लिए</p>		
Workshop Calculation and Science				
42	42	<p>Which is used to reduce the friction in machine parts? मशीन भागों में घर्षण को कम करने के लिए किसका उपयोग किया जाता है?</p> <p>A1 : Kerosene मिट्टी का तेल</p> <p>A2 : Petrol पेट्रोल</p> <p>A3 : Water पानी</p> <p>A4 : Lubricants स्नेहक</p>	2.0	0.00
Workshop Calculation and Science				
43	43	<p>Where the centre of gravity of a circle lies? एक वृत्त के गुरुत्वाकर्षण का केंद्र कहाँ स्थित है?</p> <p>A1 : At its centre इसके केंद्र में</p> <p>A2 : Any where on its radius इसकी त्रिज्या पर कोई जहाँ</p> <p>A3 : Any where on its circumference इसकी परिधि पर कोई जहाँ</p> <p>A4 : Any where on its diameter इसके व्यास पर कोई जहाँ</p>	2.0	0.00
Workshop Calculation and Science				
44	44	<p>Which one of the following geometrical shapes centre of gravity lies from its base is 1/3 of its height? निम्न में से कौन सा ज्यामितीय आकृति का गुरुत्वाकर्षण केंद्र इसके आधार से स्थित है, इसकी ऊँचाई 1/3 है?</p> <p>A1 : Square वर्ग</p> <p>A2 : Rhombus विषमकोण</p> <p>A3 : Triangle त्रिभुज</p> <p>A4 : Cone शंकु</p>	2.0	0.00
Engineering Drawing				
45	45	<p>Lock nut or check-nut is chamfered on _____. लॉक नट या चेक-नट को _____ पर चम्फर्ड किया जाता है।</p> <p>A1 : upper side उपरी तरफ</p> <p>A2 : lower side निची तरफ</p> <p>A3 : both side दोनों तरफ</p>	2.0	0.00

		A4 : none sides कोई तरफ नहीं।		
Engineering Drawing				
46	46	Rivets are generally, specified by ____. रिवेट्स आमतौर पर ____ द्वारा निर्दिष्ट किए जाते हैं।  A1 : length of rivet रिवेट की लंबाई  A2 : diameter of head हेड का व्यास  A3 : nominal diameter नॉमिनल डायामीटर  A4 : all of these ये सभी	2.0	0.00
Engineering Drawing				
47	47	Which of the following is not a main part of rivet? निम्नलिखित में से कौन सा रिवेट का मुख्य भाग नहीं है?  A1 : Head हेड  A2 : Shank शांक  A3 : Point बिंदु  A4 : Tail टेइल	2.0	0.00
Engineering Drawing				
48	48	The thread angle of metric thread is ____. मीट्रिक थ्रेडों का थ्रेड ____ कोण है।  A1 : 90° 90°  A2 : 60° 60°  A3 : 30° 30°  A4 : 120° 120°	2.0	0.00
Engineering Drawing				
49	49	The rivet head for a general purpose shown in the figure below is ____ नीचे दिए गए चित्र में दिखाए गए सामान्य प्रयोजन के लिए रिवेट हेड है .....	2.0	0.00



A1  
: snap

स्रेप

A2  
: pan

पैन

A3  
: counter sunk

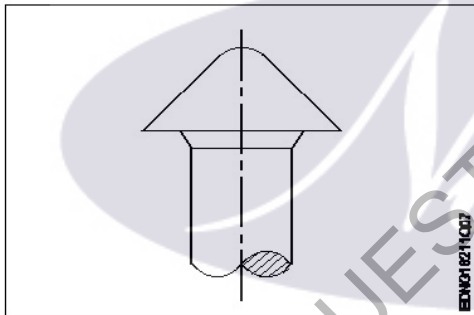
काउंटर सन्क

A4  
: flat

फ्लैट

#### Engineering Drawing

50 50 The head for boiler application's shown in the figure given below is \_\_\_\_  
नीचे दिए गए चित्र में दिखाए गए बॉयलर एप्लिकेशन के लिए हेड है.....



A1  
: snap

स्रेप

A2  
: pan

पैन

A3  
: conical

शंक्राकार

A4  
: steeple

स्टीपल

#### Employability Skills

51 51 Which is the most essential skill to get a job?  
नौकरी पाने के लिए सबसे जरूरी स्किल कौन सी है?

A1  
: Interview Skill

इंटरव्यू स्किल

A2  
: Translation Skill

ट्रांसलेशन स्किल

A3  
: Entrepreneurship Skill

एंटरप्रेन्योरशिप स्किल



		A4 : Learning more language skill और अधिक भाषा कौशल सीखना		
Employability Skills				
52	52	For applying a job your first preparation is _____ नौकरी के लिए आवेदन करने के लिए आपकी पहली तैयारी _____ है।  A1 : book a ticket to interview place साक्षात्कार स्थल के लिए एक टिकट बुक करें  A2 : save money for expenses खर्चों के लिए पैसे बचाएं  A3 : preparing resume बायोडाटा तैयार करें  A4 : prepare for interview इंटरव्यू के लिए तैयारी करें	2.0	0.00
Employability Skills				
53	53	Campus recruitment is conducted at _____ कैम्पस भर्ती _____ में आयोजित की जाती है।  A1 : capital city of the state राज्य की राजधानी में  A2 : ITI ITI  A3 : in a company कंपनी में  A4 : on line ऑनलाइन	2.0	0.00
Employability Skills				
54	54	In your resume, which information has less importance? आपके बायोडाटा में कौन सी जानकारी कम महत्व रखती है?  A1 : Qualification योग्यता  A2 : Experience अनुभव  A3 : Skill training completed पुरे हुए कौशल प्रशिक्षण  A4 : Expected salary अपेक्षित वेतन	2.0	0.00
Employability Skills				
55	55	The ability to connect well with people _____ लोगों के साथ अच्छी तरह जुड़ने की क्षमता _____ है।  A1 : interpersonal skill इंटरपर्सनल स्किल  A2 : leadership लीडरशिप  A3 : time management टाइम मैनेजमेंट	2.0	0.00

		A4 : creativity क्रिएटिविटी		
Employability Skills				
56	56	The ability to wait and stay calm _____ प्रतीक्षा करने और शांत रहने की क्षमता _____ है।  A1 : creativity क्रिएटिविटी  A2 : problem solving प्रॉब्लम सॉल्विंग  A3 : patience पेशेंस  A4 : interpersonal skill इंटरपर्सनल स्किल	2.0	0.00
Employability Skills				
57	57	Punctuality means _____ समय की पाबंदी का अर्थ _____ है।  A1 : done by punching machine पंचिंग मशीन द्वारा किया गया है  A2 : informal इनफॉर्मल  A3 : politeness पलाइटनेस  A4 : being on time समय पर होना	2.0	0.00
Employability Skills				
58	58	When you borrow a pen from your classmate, you should say? जब आप अपने सहपाठी से कलम उधार लेते हैं, तो आपको क्या कहना चाहिए?  A1 : Give me your pen मुझे अपना पेन दो  A2 : Can you please give me a pen क्या आप कृपया मुझे एक पेन दे सकते हैं  A3 : I want a pen मुझे एक पेन चाहिए  A4 : I take your pen मैं आपका पेन लेता हूँ	2.0	0.00
Employability Skills				
59	59	Magnificent, sharp, lengthy, bright, - are examples of _____ मैग्निफिकेंट, शार्प, लेंथी, ब्राइट, - _____ के उदाहरण हैं  A1 : describing words डिस्क्राइबिंग वर्ड्स  A2 : action words एक्शन वर्ड्स  A3 : nouns नाउन	2.0	0.00

		A4 : pronouns प्रोनाउन		
Employability Skills				
60	60	Table, wire, socket, cable, hammer, nail - are _____ टेबल, तार, सॉकेट, केबल, हथौड़ा, कील _____ हैं।  A1 : describing words डिस्क्राइबिंग वर्ड्स  A2 : pronouns प्रोनाउन  A3 : naming words नेमिंग वर्ड्स  A4 : action words एक्शन वर्ड्स	2.0	0.00
Employability Skills				
61	61	Comma, full stop, question mark are examples of _____ कॉमा, फुल स्टॉप, क्वेश्चन मार्क _____ के उदाहरण हैं।  A1 : design डिज़ाइन  A2 : next paragraph नेक्स्ट पैराग्राफ  A3 : formal communication फॉर्मल कम्युनिकेशन  A4 : punctuation mark पंकचुएशन मार्क	2.0	0.00
Employability Skills				
62	62	When you start a discussion on a topic, what do you say? जब आप किसी विषय पर चर्चा आरंभ करते हैं तो आप क्या कहते हैं?  A1 : Let you start आइए शुरू करें  A2 : Let me say मुझे कहने दीजिये  A3 : Let us discuss आइए चर्चा करें  A4 : Let us finish आइये खत्म करें	2.0	0.00
Employability Skills				
63	63	While addressing your boss, you should be _____ अपने बॉस को सम्बोधित करते समय आपको _____ होना चाहिए।  A1 : Impolite इम्पलाइट  A2 : Informal इनफॉर्मल  A3 : Formal फॉर्मल	2.0	0.00

		A4 : Expressive एक्सप्रेसिव		
Employability Skills				
64	64	<p>You are requested to complete the given assignment by Monday This is an example of _____ आपसे अनुरोध है कि दिए गए कार्य को सोमवार तक पूरा करें। यह _____ का एक उदाहरण है।</p> <p>A1 : informal communication इनफॉर्मल कम्युनिकेशन</p> <p>A2 : a request एक रिक्वेस्ट</p> <p>A3 : an order एक आर्डर</p> <p>A4 : formal communication फॉर्मल कम्युनिकेशन</p>	2.0	0.00
Employability Skills				
65	65	<p>Gestures, facial expressions, eye contact are examples of _____ जेस्चर, फेसिअल एक्सप्रेसन, आइ कांटेक्ट _____ के उदाहरण हैं।</p> <p>A1 : verbal communication वर्बल कम्युनिकेशन</p> <p>A2 : non-verbal communication नॉन-वर्बल कम्युनिकेशन</p> <p>A3 : oral communication ओरल कम्युनिकेशन</p> <p>A4 : written communication रिटेन कम्युनिकेशन</p>	2.0	0.00
Employability Skills				
66	66	<p>Hi, how are you, whats up, these are examples of _____ नमस्ते, आप कैसे हैं, क्या चल रहा है, ये _____ के उदाहरण हैं।</p> <p>A1 : formal communication फॉर्मल कम्युनिकेशन</p> <p>A2 : informal communication इनफॉर्मल कम्युनिकेशन</p> <p>A3 : polite communication पोलाइट कम्युनिकेशन</p> <p>A4 : impolite communication इम्पलाइट कम्युनिकेशन</p>	2.0	0.00
Employability Skills				
67	67	<p>Complete these sentence with suitable describing words The roads in my town are in _____ condition. इन वाक्यों को उपयुक्त वर्णनात्मक शब्दों से पूरा करें। The roads in my town are in _____ condition.</p> <p>A1 : good good</p> <p>A2 : expensive expensive</p> <p>A3 : beautiful beautiful</p>	2.0	0.00

		A4 : safe safe		
Employability Skills				
68	68	<p>Complete the sentence with suitable describing words There is a _____ garden with lovely flowers. उचित वर्णनात्मक शब्दों से वाक्य पूरा करें। There is a _____ garden with lovely flowers.</p> <p>A1 : good good</p> <p>A2 : spacious spacious</p> <p>A3 : big big</p> <p>A4 : beautiful beautiful</p>	2.0	0.00
Employability Skills				
69	69	<p>Complete the sentence with suitable describing words There is a _____ playground near our house. उपयुक्त वर्णनात्मक शब्दों से वाक्य पूरा करें। There is a _____ playground near our house.</p> <p>A1 : spacious spacious</p> <p>A2 : big big</p> <p>A3 : beautiful beautiful</p> <p>A4 : good good</p>	2.0	0.00
Employability Skills				
70	70	<p>Complete the sentence with suitable describing words. There are _____ apartments in my neighbourhood. उपयुक्त वर्णनात्मक शब्दों से वाक्य पूरा करें। There are _____ apartments in my neighbourhood.</p> <p>A1 : expensive expensive</p> <p>A2 : beautiful beautiful</p> <p>A3 : good good</p> <p>A4 : spacious spacious</p>	2.0	0.00
Employability Skills				
71	71	<p>Fill up the blanks with suitable words so as to become a meaningful sentence. The Principal called Manoj. The Principal asked _____ to show _____ hall ticket for the CTS Examination. रिक्त स्थानों को उचित शब्दों से भरें ताकि एक सार्थक वाक्य बन सके। The Principal called Manoj. The Principal asked _____ to show _____ hall ticket for the CTS Examination.</p> <p>A1 : him, his him, his</p> <p>A2 : him, her him, her</p>	2.0	0.00

		<p>A3 : her, his</p> <p>her, his</p> <p>A4 : her, him</p> <p>her, him</p>		
Employability Skills				
72	72	<p>Fill up the blanks with suitable words so as to become a meaningful sentence            "Tell us about a difficult situation you have _____ and how you _____ to come out of it."            रिक्त स्थानों को उचित शब्दों से भरें ताकि एक सार्थक वाक्य बन सके।            "Tell us about a difficult situation you have _____ and how you _____ to come out of it."</p> <p>A1 : face, manage</p> <p>face, manage</p> <p>A2 : managed, face</p> <p>managed, face</p> <p>A3 : faced, manage</p> <p>faced, manage</p> <p>A4 : faced, managed</p> <p>faced, managed</p>	2.0	0.00
Employability Skills				
73	73	<p>Complete the sentence with suitable describing words            There is a factory in the area. The air is _____.            उचित वर्णनात्मक शब्दों से वाक्य पूरा करें।            There is a factory in the area. The air is _____.</p> <p>A1 : polluted</p> <p>polluted</p> <p>A2 : boring</p> <p>boring</p> <p>A3 : uneven</p> <p>uneven</p> <p>A4 : noisy</p> <p>noisy</p>	2.0	0.00
Employability Skills				
74	74	<p>Complete the sentence with suitable describing words            There is water scarcity in the locality. The area is _____.            उचित वर्णनात्मक शब्दों से वाक्य पूरा करें।            There is water scarcity in the locality. The area is _____.</p> <p>A1 : uneven</p> <p>uneven</p> <p>A2 : noisy</p> <p>noisy</p> <p>A3 : dry</p> <p>dry</p> <p>A4 : boring</p> <p>boring</p>	2.0	0.00
Employability Skills				
75	75	<p>Complete the sentence with suitable describing words            The transportation to some rural areas is difficult as the roads are _____.            उचित वर्णनात्मक शब्दों से वाक्य पूरा करें।            The transportation to some rural areas is difficult as the roads are _____.</p> <p>A1 : dry</p> <p>dry</p>	2.0	0.00

	A2 : polluted polluted	
	A3 : boring boring	
	A4 : uneven uneven	

SAMPLE QUESTION PAPER SET 1

The logo for 'Ammi' is centered on the page. It features the word 'Ammi' in a white, cursive script font, set against a light purple oval background. A stylized white leaf or petal shape is positioned to the left of the text.

### Fitter - 2nd Year - Set 1

S.No.	Correct Answer Key
1	A1
2	A2
3	A1
4	A4
5	A3
6	A3
7	A2
8	A1
9	A4
10	A3
11	A1
12	A2
13	A1
14	A1
15	A3
16	A2
17	A3
18	A1
19	A1
20	A4
21	A4
22	A1
23	A1
24	A1
25	A3
26	A3
27	A2
28	A4
29	A3
30	A2
31	A4
32	A2
33	A4
34	A4
35	A4
36	A2
37	A4
38	A3

S.No.	Correct Answer Key
39	A2
40	A2
41	A3
42	A4
43	A1
44	A3
45	A3
46	A3
47	A3
48	A2
49	A3
50	A4
51	A1
52	A3
53	A2
54	A4
55	A1
56	A3
57	A4
58	A2
59	A1
60	A3
61	A4
62	A3
63	A3
64	A4
65	A2
66	A2
67	A1
68	A4
69	A2
70	A4
71	A1
72	A4
73	A1
74	A3
75	A4

**Note:**

"In case answers found to be inaccurate due to typographical error or any other reason please sent mail to [qbnimigrievance@gmail.com](mailto:qbnimigrievance@gmail.com)"