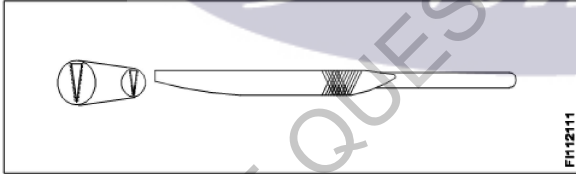


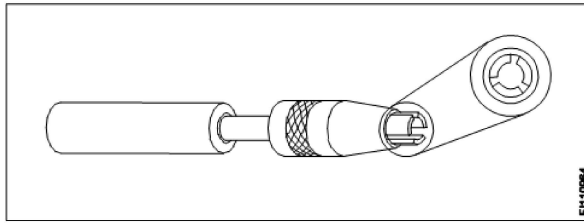
All India Trade Test - 2024 for Craftsmen Training Scheme (CTS)
Trade Name: Machinist Year 1
Year: 1st Year

Exam Date :
Exam Time :

- Note:
1. Tick the correct option out of four alternatives provided
2. All questions carry equal marks (2 Marks each)
3. There is no negative marking

Sr. No.	Client Question ID	Question Body and Alternatives	Marks	Negative Marks
Trade Theory				
1	1	<p>Which comes under the machine safety? मशीन सुरक्षा के तहत क्या है?</p> <p>A1 : Don't wear a ring, watch or chain अंगूठी, घड़ी या चेन न पहनें</p> <p>A2 : Don't walk under suspended load लटके हुए भार के नीचे नहीं चलना चाहिए</p> <p>A3 : Stop the machine before changing the speed गति बदलने से पहले मशीन को बंद कर दें</p> <p>A4 : Don't try to stop a running machine with hands चलती हुई मशीन को हाथों से रोकने का प्रयास न करें</p>	2.0	0.00
Trade Theory				
2	2	<p>What is the colour code of bin for paper waste? पेपर कचरे के लिए बिन का रंग कोड क्या है?</p> <p>A1 : Red लाल</p> <p>A2 : Blue नीला</p> <p>A3 : Green हरा</p> <p>A4 : Yellow पीला</p>	2.0	0.00
Trade Theory				
3	3	<p>Which term indicates the neatness and cleanliness of workplace in 5s concept? 5s अवधारणा में कार्यस्थल की साफ-सफाई और स्वच्छता किस शब्द को इंगित करती है?</p> <p>A1 : Set सेट</p> <p>A2 : Sort वर्गीकरण</p> <p>A3 : Shine चमकना</p> <p>A4 : Sustain बनाए रखना</p>	2.0	0.00
Trade Theory				

4	4	<p>Which is used to protect eyes while grinding? ग्राइंडिंग करते समय आंखों की रक्षा के लिए किसका उपयोग किया जाता है?</p> <p>A1 Apron : तहबंद</p> <p>A2 Shoes : जूते</p> <p>A3 Helmet : हेलमेट</p> <p>A4 Goggles : काले चश्मे</p>	2.0	0.00
Trade Theory				
5	5	<p>How to make use of metal chips? धातु के चिप्स का उपयोग कैसे करें?</p> <p>A1 Burning : जलता हुआ</p> <p>A2 Land fills : जमीन पर भरा हुआ</p> <p>A3 Recycling : पुनर्चक्रण</p> <p>A4 Composting : खाद</p>	2.0	0.00
Trade Theory				
6	6	<p>What is the shape of the needle file? सुई फाइल का आकार क्या है?</p>  <p>A1 Crossing : क्रॉसिंग</p> <p>A2 Half round : हाफ राउंड</p> <p>A3 Knife - edge : चाकू की धार</p> <p>A4 Feather edge : फेदर एडज</p>	2.0	0.00
Trade Theory				
7	7	<p>What is the name of the vice? वाइस का नाम क्या है?</p>	2.0	0.00



A1 Pin vice

: पिन वाइस

A2 Hand vice

: हाथ वाइस

A3 Pipe vice

: पाइप वाइस

A4 Quick release vice

: क्लिक रिलीज वाइस

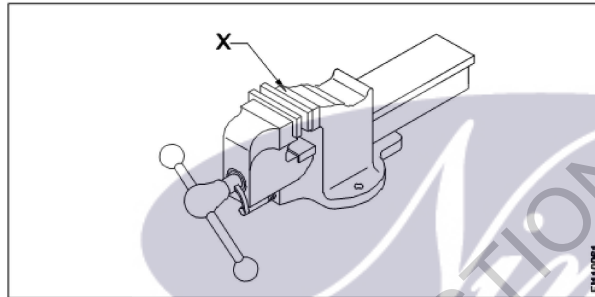
Trade Theory

8

8

What is the name of the part marked X?

X चिह्नित भाग का नाम क्या है?



A1 Handle

: हैंडल

A2 Spindle

: स्पिंडल

A3 Fixed jaw

: स्थिर जबड़ा

A4 Movable jaw

: चल जबड़ा

Trade Theory

2.0

0.00

9

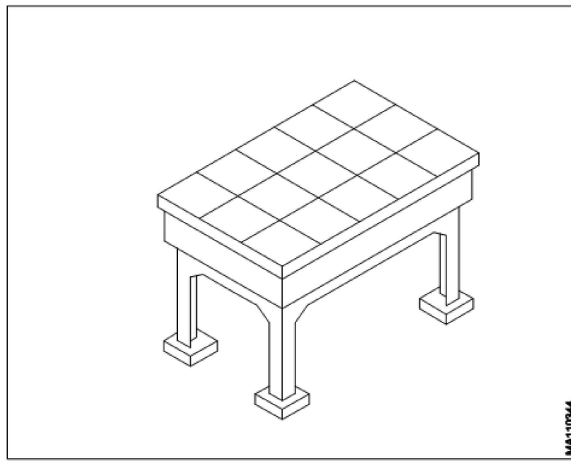
9

What is the name of the equipment?

उपकरण का नाम क्या है?

2.0

0.00



- A1 Angle plate
: ऐंगल प्लेट
- A2 Machine table
: मशीन टेबल
- A3 Surface plate
: सरफेस प्लेट
- A4 Marking off table
: मार्किंग ऑफ़ टेबल

Trade Theory

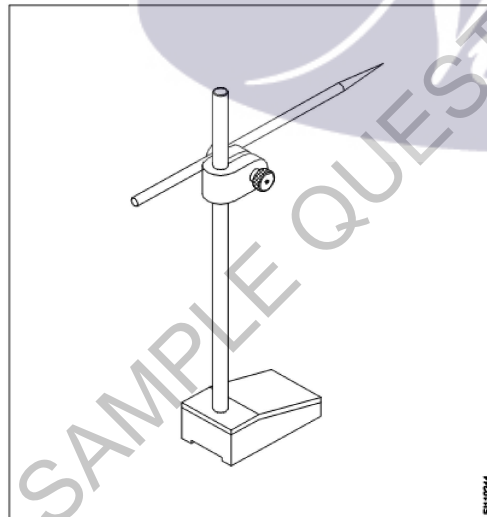
10

10

What is the name of the marking tool?
अंकन उपकरण का नाम क्या है?

2.0

0.00



- A1 Scriber
: खुरचने का औजर
- A2 Surface Plate
: सरफेस प्लेट
- A3 Universal surface gauge
: यूनिवर्सल सरफेस गेज
- A4 Fixed type surface gauge
: स्थिर प्रकार की सतह गेज

Trade Theory

11

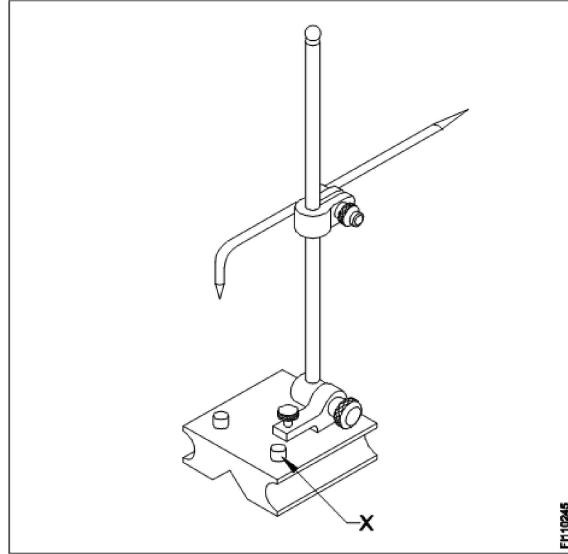
11

What is the name of the part marked X ?

2.0

0.00

X चिह्नित भाग का नाम क्या है?



A1 Snug

:

सन्नग

A2 Scriber

:

स्क्राइबर

A3 Guide pin

:

गाइड पिन

A4 Rocker arm

:

रॉकर आर्म

Trade Theory

12

12

Which one of the marking media will take more time to dry?
चिह्नित करने वाले मीडिया में से किसको सूखने में अधिक समय लगेगा?

A1 White wash

:

वाइट वाश

A2 Prussian blue

:

प्रुसियन नीला

A3 Copper sulphate

:

कॉपर सल्फेट

A4 Cellulose lacquer

:

सेल्यूलोज लैकर

2.0

0.00

Trade Theory

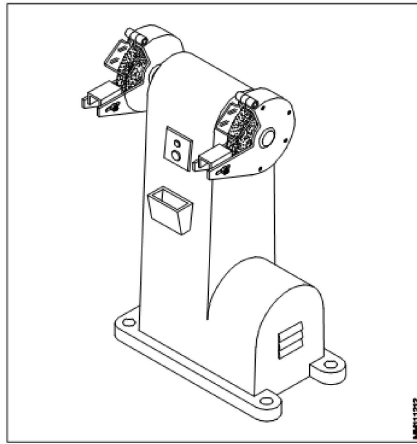
13

13

What is the name of grinder?
ग्राइंडर का नाम क्या है?

2.0

0.00



A1 Bench grinder

: बेंच ग्राइंडर

A2 Surface grinder

: सरफेस ग्राइंडर

A3 Pedestal grinder

: पेडस्टल ग्राइंडर

A4 Portable grinder

: पोर्टेबल ग्राइंडर

Trade Theory

14

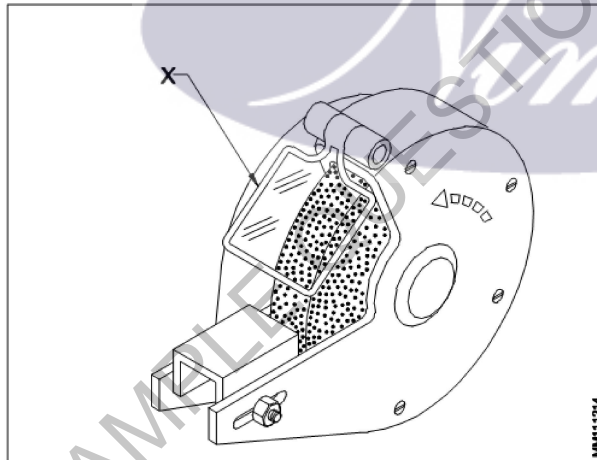
14

What is the name of part marked as X?

चिह्नित X के भाग का नाम क्या है?

2.0

0.00



A1 Tool rest

: टूल रेस्ट

A2 Eye shield

: ऑय शील्ड

A3 Wheel guard

: व्हील गार्ड

A4 Grinding wheel

: ग्राइंडिंग व्हील

Trade Theory

15

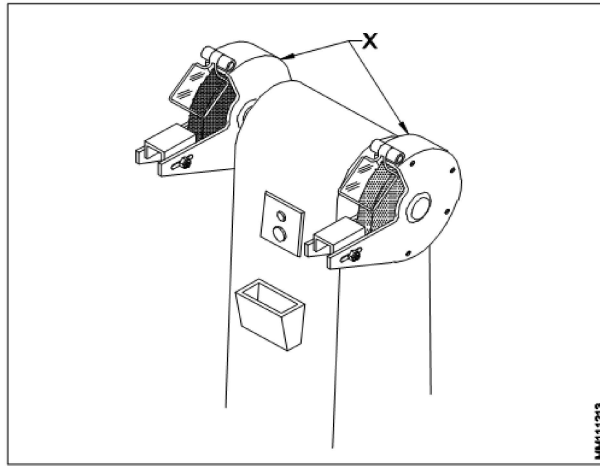
15

What is the name of part marked as X?

X के रूप में चिह्नित भाग का नाम क्या है?

2.0

0.00



- A1
: Tool rest
: टूल रेस्ट
- A2
: Wheel guard
: व्हील गार्ड
- A3
: Grinding wheel
: ग्राइंडिंग व्हील
- A4
: Coolant container
: कूलेंट कंटेनर

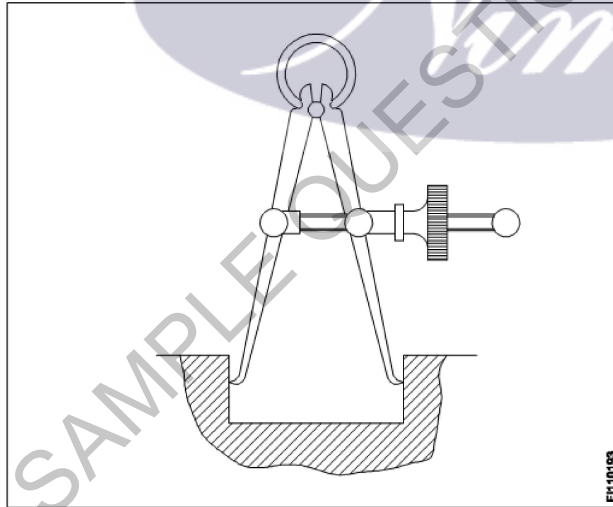
Trade Theory

16

16

What is the name of the Instrument?

उपकरण का नाम क्या है?

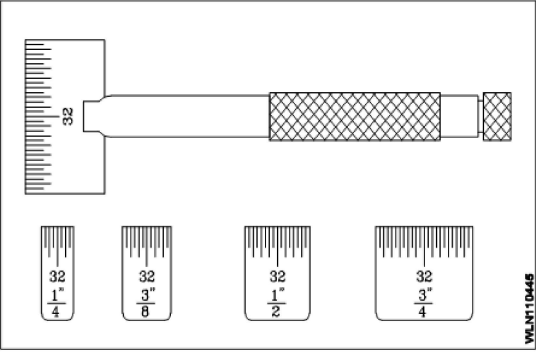


- A1
: Firm joint inside caliper
: कैलिपर के अंदर फर्म जॉइंट
- A2
: Firm joint outside caliper
: कैलिपर के बाहर फर्म जॉइंट
- A3
: Spring joint inside caliper
: कैलिपर के अंदर स्प्रिंग जॉइंट
- A4
: Spring joint outside caliper
: कैलिपर के बाहर स्प्रिंग जॉइंट

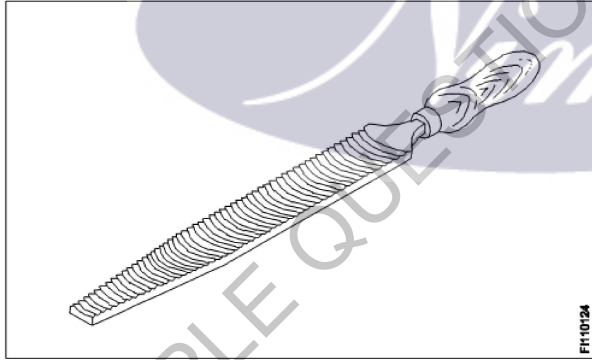
Trade Theory

2.0

0.00

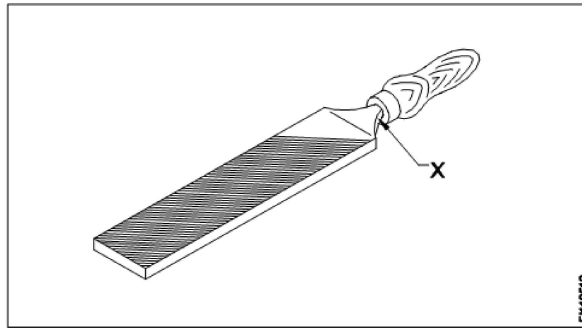
17	17	<p>What is the type of the steel rule? स्टील रूल का प्रकार क्या है?</p>  <p>A1 Folding rule : फोल्डिंग रूल</p> <p>A2 Short steel rule : लघु इस्पात रूल</p> <p>A3 Narrow steel rule : संकीर्ण इस्पात रूल</p> <p>A4 Steel rule with tapered end : टेपरिकृत अंत के साथ स्टील रूल</p>	2.0	0.00
----	----	---	-----	------

Trade Theory

18	18	<p>Name the cut of file shown in figure. चित्र में दिखाए गए फ़ाइल के कट को नाम दें।</p>  <p>A1 Rasp cut : रस्प काट</p> <p>A2 Curved cut : कर्व्ड काट</p> <p>A3 Double cut : डबल कट</p> <p>A4 Single cut : सिंगल कट</p>	2.0	0.00
----	----	---	-----	------

Trade Theory

19	19	<p>What is the name of the part of the file marked X? X चिह्नित फ़ाइल के भाग का नाम क्या है?</p>	2.0	0.00
----	----	---	-----	------



A1 Tip

:

टिप

A2 Heel

:

हील

A3 Tang

:

टैंग

A4 Shoulder

:

शोल्डर

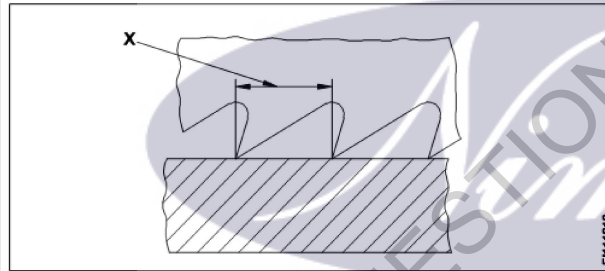
Trade Theory

20

20

What is the name of the hacksaw blade element marked X?

हैकसाँ ब्लेड तत्व X का नाम क्या है?



A1 Depth of teeth

:

दांतों की गहराई

A2 Pitch of teeth

:

दांतों की पिच

A3 Width of teeth

:

दांतों की चौड़ाई

A4 Length of blade

:

ब्लेड की लंबाई

Trade Theory

21

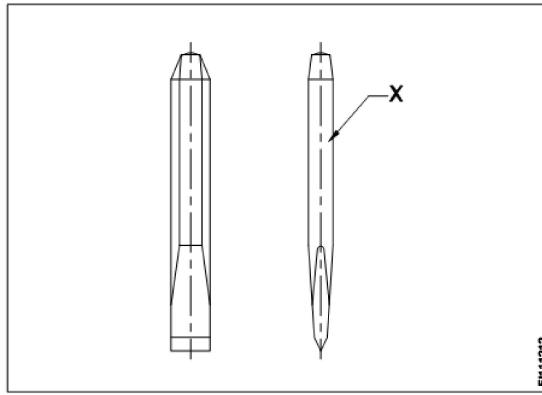
21

What is the name of the part marked X?

X चिह्नित भाग का नाम क्या है?

2.0

0.00



- A1 Body
 : बॉडी
- A2 Face
 : फेस
- A3 Head
 : हेड
- A4 Point
 : पॉइंट

Trade Theory

22 22

What is the angle of centre punch?
 केंद्र पंच का कोण क्या है?

2.0 0.00

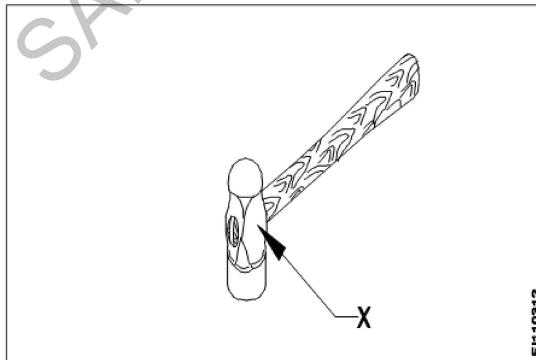
- A1 30°
 : 30°
- A2 60°
 : 60°
- A3 75°
 : 75°
- A4 90°
 : 90°

Trade Theory

23 23

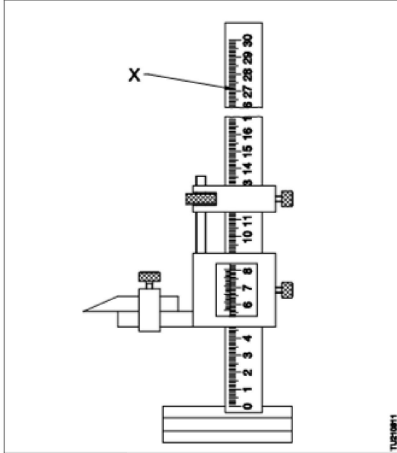
What is the name of the part marked X?
 X चिह्नित भाग का नाम क्या है?

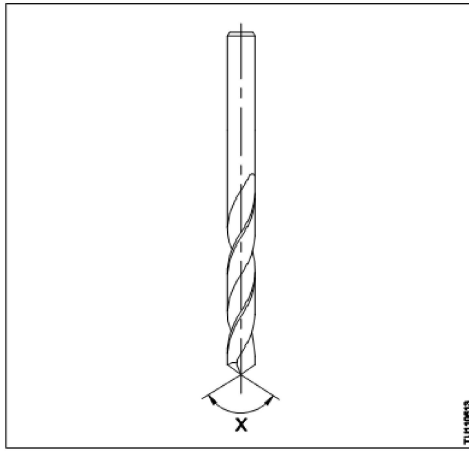
2.0 0.00



- A1 Face
 : फेस

		<p>A2 Pein : पीन</p> <p>A3 Check : चीक</p> <p>A4 Eye hole : आई होल</p>		
Trade Theory				
24	24	<p>What is the purpose of 'V' groove provided on the base of universal surface gauge? यूनिवर्सल सरफेस गेज के आधार पर 'V' ग्रूव का उद्देश्य क्या है?</p> <p>A1 Used on irregular surface : अनियमित सतह पर उपयोग किया जाता है</p> <p>A2 Used on flat datum surface : फ्लैट डाटम सतह पर उपयोग किया जाता है</p> <p>A3 Used on angular datum surface : कोणीय डाटम सतह पर उपयोग किया जाता है</p> <p>A4 Used on cylindrical datum surface : बेलनाकर डाटम सतह पर इस्तेमाल किया</p>	2.0	0.00
Trade Theory				
25	25	<p>What is the name of the chisel used to chip - off excess metal of welded joints and castings? वेल्डेड जोड़ों और कास्टिंग के अतिरिक्त धातु को चिप करने के लिए इस्तेमाल की जाने वाली छेनी का क्या नाम है?</p> <p>A1 Flat chisel : फ्लैट छेनी</p> <p>A2 Cross cut chisel : क्रॉस कट छेनी</p> <p>A3 Diamond point chisel : डायमंड पॉइंट छेनी</p> <p>A4 Half round nose chisel : हाफ राउंड नोज छेनी</p>	2.0	0.00
Trade Theory				
26	26	<p>Which type of vice is used for gripping screws, rivets, keys and other similar objects? स्कू, रिबेट्स, चाबियाँ और अन्य समान वस्तुओं को जकड़ने के लिए किस प्रकार के वाइस का उपयोग किया जाता है?</p> <p>A1 Pin vice : पिन वाइस</p> <p>A2 Hand vice : हाथ वाइस</p> <p>A3 Pipe vice : पाइप वाइस</p> <p>A4 Quick release vice : क्विक रिलीज वाइस</p>	2.0	0.00
Trade Theory				
27	27	<p>What is the least count of vernier height gauge? वर्नियर हाइट गेज की अल्पत्मांक क्या है?</p> <p>A1 0.001 mm : 0.001 mm</p>	2.0	0.00

		<p>A2 : 0.002 mm 0.002 mm</p> <p>A3 : 0.005 mm 0.005 mm</p> <p>A4 : 0.02 mm 0.02 mm</p>		
Trade Theory				
28	28	<p>What is the part shown as X in the figure? आकृति में दिखाए गए हाइट गेज में X के रूप में चिह्नित भाग का नाम क्या है?</p>  <p>A1 : Main scale मुख्य पैमाना</p> <p>A2 : Vernier scale वर्नियर पैमाना</p> <p>A3 : Beam बीम</p> <p>A4 : Main slide मुख्य स्लाइड</p>	2.0	0.00
Trade Theory				
29	29	<p>How we specify a vernier height gauge? हम एक वर्नियर हाइट गेज कैसे निर्दिष्ट करते हैं?</p> <p>A1 : Width of beam बीम की चौड़ाई</p> <p>A2 : Height of beam बीम की ऊँचाई</p> <p>A3 : Thickness of beam बीम की मोटाई</p> <p>A4 : Size of base आधार का आकार</p>	2.0	0.00
Trade Theory				
30	30	<p>What is the name of the angle marked X? चिह्नित X कोण का नाम क्या है?</p>	2.0	0.00



A1 Helix angle

: हेलिक्स कोण

A2 Point angle

: पॉइंट कोण

A3 Chisel angle

: छेनी का कोण

A4 Lip clearance angle

: लिप क्लीयरेंस कोण

Trade Theory

31

31

What is the formula to find out RPM of drill?
ड्रिल का RPM पता लगाने का क्या फॉर्मूला है?

A1

$$\frac{d \times 1000}{V \times \pi}$$

A2

$$\frac{\pi \times 1000}{V \times d}$$

A3

$$\frac{V \times 1000}{\pi d}$$

A4

$$\frac{\pi d}{V \times 1000}$$

2.0

0.00

Trade Theory

32

32

How many numbers are in metric tap set?
मेट्रिक टैप सेट में कितने नंबर होते हैं?

A1 1

: 1

A2 2

: 2

A3 3

: 3

A4 4

: 4

2.0

0.00

Trade Theory

33	33	<p>Which device is used as datum while marking by vernier height gauge? वर्नियर हाइट गेज द्वारा अंकन करते समय किस उपकरण का उपयोग डेटाम के रूप में किया जाता है?</p> <p>A1 Face plate : फेस प्लेट</p> <p>A2 Surface plate : सरफेस प्लेट</p> <p>A3 Angle plate : ऐंगिल प्लेट</p> <p>A4 Driving plate : ड्राइविंग प्लेट</p>	2.0	0.00
----	----	--	-----	------

Trade Theory

34	34	<p>Why the tap drill size to be calculated? टैप ड्रिल आकार की गणना क्यों की जाए?</p> <p>A1 To avoid drill breaking : ड्रिल ब्रेकिंग से बचने के लिए</p> <p>A2 To avoid material wastage : भौतिक अपव्यय से बचने के लिए</p> <p>A3 To calculate sufficient cutting speed : काटने की पर्याप्त गति की गणना करने के लिए</p> <p>A4 To maintain sufficient material to tap : टैप के लिए पर्याप्त सामग्री बनाए रखने के लिए</p>	2.0	0.00
----	----	--	-----	------

Trade Theory

35	35	<p>What is denoted by 'V' in the formula सूत्र में 'V' द्वारा दर्शाया गया है</p> $V = \frac{\pi dn}{1000}$ <p>A1 Feed in m / rev : मी / रेव में फ़ीड करें</p> <p>A2 Feed in mm / rev : मिमी / रेव में फ़ीड करें</p> <p>A3 Cutting speed in m / min : मी / मिनट में कर्तन गति</p> <p>A4 Cutting speed in mm / min : मिमी / मिनट में कर्तन गति</p>	2.0	0.00
----	----	--	-----	------

Trade Theory

36	36	<p>What is the distance a drill advances in one rotation while drilling? ड्रिलिंग करते समय एक घुमाव में एक ड्रिल अग्रिम क्या दूरी है?</p> <p>A1 Feed : फ़ीड</p> <p>A2 Depth of cut : कट की गहराई</p> <p>A3 Cutting speed : Cutting speed</p>	2.0	0.00
----	----	--	-----	------

कर्तन गति

A4 Cutting length

: कर्तन लंबाई

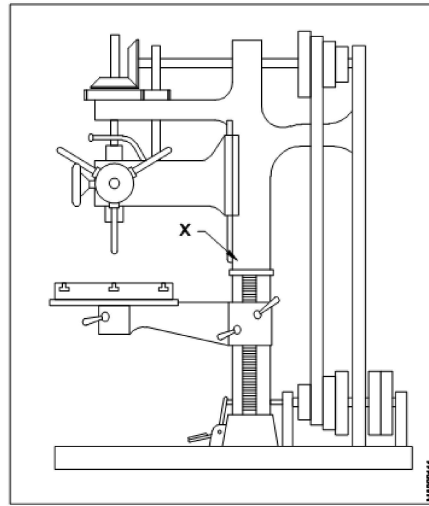
Trade Theory

37

37

What is the name of part marked X?

भाग X का नाम क्या है?



A1 Column

: कॉलम

A2 Spindle

: स्पिंडल

A3 Over head shaft

: ओवर हेड शाफ्ट

A4 Table elevating clamp

: टेबल एलिवेटिंग क्लैप

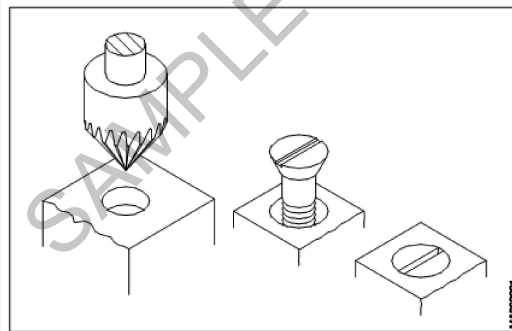
Trade Theory

38

38

What is the name of the operation?

ऑपरेशन का नाम क्या है?



A1 Reaming

: रीमिंग

A2 Spot facing

: स्पॉट फेसिंग


A3 Counter boring

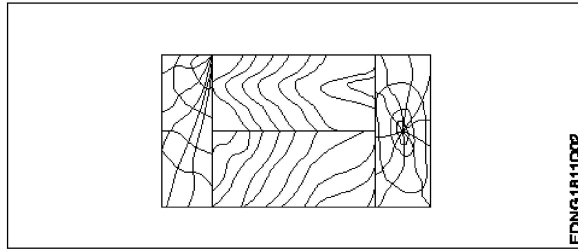
: काउंटर बोरिंग

A4 Counter sinking

: काउंटर सिंकिंग

		काउंटर सिंकिंग		
Workshop Calculation Science				
39	39	<p>What are the two classifications of system of units? इकाइयों की प्रणाली के दो प्रकार कौनसे हैं?</p> <p>A1 : British and Metric ब्रिटिश और मीट्रिक</p> <p>A2 : Gravitational and non-gravitational गुरुत्वाकर्षण और गैर-गुरुत्वाकर्षण</p> <p>A3 : Fundamental and derived मौलिक और व्युत्पन्न</p> <p>A4 : Metric and International मैट्रिक और इंटरनेशनल</p>	2.0	0.00
Workshop Calculation Science				
40	40	<p>What are fundamental units? इनमें से मूलभूत इकाइयाँ कौन-कौनसी हैं?</p> <p>A1 : Length, Mass, Volume लंबाई, द्रव्यमान, आयतन</p> <p>A2 : Length, Mass, Time लंबाई, द्रव्यमान, समय</p> <p>A3 : Length, Mass, Area लंबाई, द्रव्यमान, क्षेत्रफल</p> <p>A4 : Length, Pressure, Volume लंबाई, दाब, आयतन</p>	2.0	0.00
Workshop Calculation Science				
41	41	<p>What denotes letter 'M' in MKS system? MKS प्रणाली में 'M' अक्षर क्या दर्शाता है?</p> <p>A1 : Mile Mile</p> <p>A2 : Meter Meter</p> <p>A3 : Millimeter Millimeter</p> <p>A4 : Micron Micron</p>	2.0	0.00
Workshop Calculation Science				
42	42	<p>How many millimetres are there in 1 inch? 1 इंच में कितने मिलीमीटर होते हैं?</p> <p>A1 : 2.54 mm 2.54 mm</p> <p>A2 : 25.4 mm 25.4 mm</p> <p>A3 : 24.5 mm 24.5 mm</p> <p>A4 : 2.45 mm 2.45 mm</p>	2.0	0.00

		2.45 mm		
Workshop Calculation Science				
43	43	What is the square root of 529? 529 का वर्गमूल क्या है? A1 13 : 13 A2 23 : 23 A3 33 : 33 A4 43 : 43	2.0	0.00
Workshop Calculation Science				
44	44	Convert 0.456 decimal fraction into percentage. 0.456 दशमलव भिन्न को प्रतिशत में बदलिये? A1 45.6% : 45.6% A2 4.56% : 4.56% A3 0.456% : 0.456% A4 0.0456% : 0.0456%	2.0	0.00
Engineering Drawing				
45	45	Identify the conventional symbol of material? चित्र में दिखाए गए सामग्री के पारंपरिक प्रतीक का पता लगाएं?  A1 Water : पानी A2 Concrete : ठोस A3 Asbestos : ऐस्बेटस A4 Glass : कांच	2.0	0.00
Engineering Drawing				
46	46	Identify the conventional symbol of material? चित्र में दिखाए गए सामग्री के पारंपरिक प्रतीक का पता लगाएं?	2.0	0.00



A1
: Lead

लेड

A2
: Glass

कांच

A3
: Wood

लकड़ी

A4
: Paper

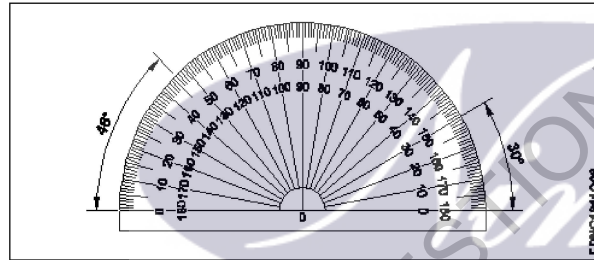
कागज़

Engineering Drawing

47 47

Identify the name of instrument?

चित्र में दिखाए गए उपकरणों के नाम की पहचान करें?



A1
: Set square

गुनिया

A2
: Protractor

चांदा

A3
: French curve

फ्रान्सीसी वक्र

A4
: T square

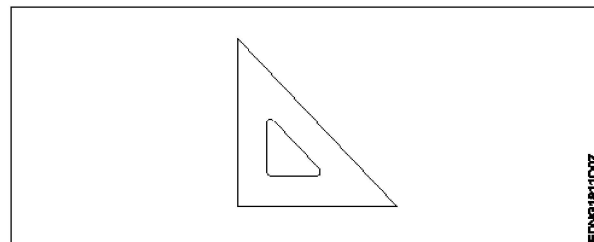
टी स्क्वायर

Engineering Drawing

48 48

Identify the name of set square?

सेट स्क्वायर का नाम खोजें?



A1
: 15° set square

2.0 0.00

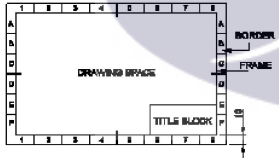
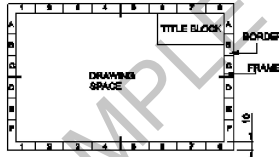
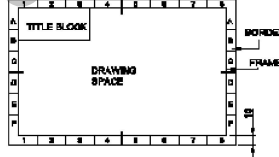
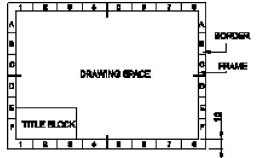
2.0 0.00

- 15° सेट स्क्वायर
- A2 : 60° set square
- 60° सेट स्क्वायर
- A3 : 30° set square
- 30° सेट स्क्वायर
- A4 : 45° set square
- 45° सेट स्क्वायर

Engineering Drawing

49	49	<p>Compass used to draw for ____.</p> <p>कम्पास का उपयोग ____ को ड्रा करने के लिए किया जाता है.</p> <p>A1 : rectangle आयत</p> <p>A2 : square वर्ग</p> <p>A3 : circle वृत्त</p> <p>A4 : triangle त्रिकोण</p>	2.0	0.00
----	----	---	-----	------

Engineering Drawing

50	50	<p>Which title block position is correct as standard practice?</p> <p>एक मानक अभ्यास के रूप में कौन सी शीर्षक ब्लॉक स्थिति सही है?</p> <p>A1 : </p> <p>A2 : </p> <p>A3 : </p> <p>A4 : </p>	2.0	0.00
----	----	--	-----	------

51	51	<p>To be in a job or work is..... नौकरी या काम में होना है</p> <p>A1 Employ : रोजगार</p> <p>A2 Skill : कौशल</p> <p>A3 Knowledge : ज्ञान</p> <p>A4 Aptitude : योग्यता</p>	2.0	0.00
Employability Skills				
52	52	<p>The ability to do is..... करने की क्षमता है।</p> <p>A1 Knowledge : ज्ञान</p> <p>A2 Experience : अनुभव</p> <p>A3 Skill : कौशल</p> <p>A4 Job : काम</p>	2.0	0.00
Employability Skills				
53	53	<p>A person with a growth mindset is always willing to..... एक विकास मानसिकता वाला व्यक्ति हमेशा तैयार रहता है।</p> <p>A1 relax : आराम करने में</p> <p>A2 grow, change, learn : बढ़ो, बदलो, सीखो</p> <p>A3 keep quiet : चुप रहने में</p> <p>A4 become rich : अमीर बनने</p>	2.0	0.00
Employability Skills				
54	54	<p>Jobs that have become outdated in the past 5 years.... नौकरियां जो पिछले 5 वर्षों में पुरानी हो गई हैं।</p> <p>A1 STD booth : STD बूथ</p> <p>A2 ola : ओला</p> <p>A3 uber : उबेर</p> <p>A4 swiggy : Swiggy</p>	2.0	0.00
Employability Skills				

55	55	<p>21st century workplace skills help you to get employed..... 21वीं सदी के कार्यस्थल कौशल आपको रोजगार पाने में मदद करते हैं.....।</p> <p>A1 : very difficult बहुत कठिन</p> <p>A2 : even job market keep changing यहां तक कि जॉब मार्केट भी बदलता रहता है</p> <p>A3 : only when market is growing केवल जब बाजार बढ़ रहा है</p> <p>A4 : only with higher qualification केवल उच्च योग्यता के साथ</p>	2.0	0.00
Employability Skills				
56	56	<p>Ethics means नैतिकता का अर्थ है....।</p> <p>A1 : decide what is right and wrong for a human conduct तय करें कि मानव आचरण के लिए क्या सही है और क्या गलत</p> <p>A2 : name of a city एक शहर का नाम</p> <p>A3 : employability skills रोजगार कौशल</p> <p>A4 : not relevant to society समाज से संबंधित नहीं है</p>	2.0	0.00
Employability Skills				
57	57	<p>Values are..... मान हैं।</p> <p>A1 : not punctual समयनिष्ठ नहीं</p> <p>A2 : Motivates our attitude and action हमारे दृष्टिकोण और कार्रवाई को प्रेरित करता है</p> <p>A3 : very costly बहुत कीमती</p> <p>A4 : all have same value सभी का मूल्य समान है</p>	2.0	0.00
Employability Skills				
58	58	<p>..... is a brief statement about purpose and principles of the Constitution.संविधान के उद्देश्य और सिद्धांतों के बारे में संक्षिप्त विवरण है।</p> <p>A1 : Syllabus पाठ्यक्रम</p> <p>A2 : Module मापांक</p> <p>A3 : The Preamble प्रस्तावना</p> <p>A4 : Unit इकाई</p>	2.0	0.00
Employability Skills				

59	59	Identify the improper term..... अनुचित पद को पहचानिए। A1 : green pollution हरित प्रदूषण A2 : water pollution जल प्रदूषण A3 : air pollution वायु प्रदूषण A4 : sound pollution ध्वनि प्रदूषण	2.0	0.00
Employability Skills				
60	60	People from all religions or no religions are treated equally means..... सभी धर्मों या किसी भी धर्म के लोगों के साथ समान व्यवहार नहीं किया जाता है सेक्युलर देश A1 : democratic जनतांत्रिक A2 : religious धार्मिक A3 : non secular गैर धर्मनिरपेक्ष A4 : secular Country धर्मनिरपेक्ष देश	2.0	0.00
Employability Skills				
61	61 is major changes takes place in manufacturing. मैनुफैक्चरिंग में प्रमुख परिवर्तन होते हैं। A1 : Green revolution हरित क्रांति A2 : Industry revolution उद्योग क्रांति A3 : Water revolution जल क्रांति A4 : Food revolution खाद्य क्रांति	2.0	0.00
Employability Skills				
62	62	1st industrial revolution started in..... पहली औद्योगिक क्रांति की शुरुआत। A1 : 18th century 18 वीं सदी A2 : 19th century 19 वीं सदी A3 : 20th century 20 वीं सदी A4 : 21st century 21 वीं सदी	2.0	0.00
Employability Skills				

63	63	<p>Hard Skill..... कठिन कौशल.....।</p> <p>A1 : quick learner त्वरित शिक्षार्थी</p> <p>A2 : time management समय प्रबंधन</p> <p>A3 : 60 WPM typing speed 60 WPM टाइपिंग स्पीड</p> <p>A4 : spoken English मौखिक अंग्रेजी</p>	2.0	0.00
Employability Skills				
64	64	<p>To grow yourself you must..... अपने आप को विकसित करने के लिए आपको चाहिए।</p> <p>A1 : know your office अपने कार्यालय को जानें</p> <p>A2 : know yourself खुद को जानें</p> <p>A3 : know your institute अपने संस्थान को जानें</p> <p>A4 : know your country अपने देश को जानो</p>	2.0	0.00
Employability Skills				
65	65	<p>Time management..... समय प्रबंधन.....।</p> <p>A1 : complete your task on time अपना कार्य समय पर पूरा करें</p> <p>A2 : managing time प्रबंधन समय</p> <p>A3 : hard skill कठिन कौशल</p> <p>A4 : problem solving समस्या को सुलझाना</p>	2.0	0.00
Employability Skills				
66	66	<p>A resume should be _____. एक रिज्यूम _____ होना चाहिए</p> <p>A1 : short and precise छोटा और सटीक</p> <p>A2 : fancy and colourful फैंसी और रंगीन</p> <p>A3 : having long and detailed information लंबी और विस्तृत जानकारी होना</p> <p>A4 : having acronyms and abbreviation समरूप और संक्षिप्त नाम होना</p>	2.0	0.00
Employability Skills				

67	67	<p>A written description of duties and responsibilities to be carried out in a job is called _____.</p> <p>किसी कार्य में किए जाने वाले कर्तव्यों और जिम्मेदारियों का लिखित विवरण _____ कहा जाता है</p> <p>A1 CV : CV</p> <p>A2 job description : नौकरी का विवरण</p> <p>A3 resume : रिज्यूम</p> <p>A4 job application : नौकरी के लिए आवेदन</p>	2.0	0.00
Employability Skills				
68	68	<p>After receiving interview call, what is the next step?</p> <p>साक्षात्कार कॉल प्राप्त करने के बाद, अगला कदम क्या है?</p> <p>A1 Send application letter : आवेदन पत्र भेजें</p> <p>A2 Prepare the resume : रिज्यूम तैयार करें</p> <p>A3 Appear at interview : साक्षात्कार में जायें</p> <p>A4 Send resume : रिज्यूम भेजे</p>	2.0	0.00
Employability Skills				
69	69	<p>Choose suitable "wh" word for the given sentence. "_____ animal do you like?"</p> <p>दिए गए वाक्य के लिए उपयुक्त "wh" शब्द चुनें। "_____ animal do you like?"</p> <p>A1 Which : Which</p> <p>A2 Why : Why</p> <p>A3 Where : Where</p> <p>A4 When : When</p>	2.0	0.00
Employability Skills				
70	70	<p>Choose the correct punctuation mark after the word "Rohan" in the given sentence. "Rohan David and Ram are playing hide and seek"</p> <p>दिए गए वाक्य में शब्द "रोहन" के बाद सही विराम चिह्न चुनें। "Rohan David and Ram are playing hide and seek"</p> <p>A1 Comma (,) : अल्पविराम (,)</p> <p>A2 Period (.) : अवधि (.)</p> <p>A3 Slash (/) : स्लैश (/)</p> <p>A4 Hyphen (-) : हाइफ़न (-)</p>	2.0	0.00
Employability Skills				

71	71	<p>Choose the correct response for the given question. "How have you been"?</p> <p>दिए गए प्रश्न के लिए सही उत्तर चुनिए। "How have you been"?</p> <p>A1 : Very well, And you? Very well, And you?</p> <p>A2 : Thank you_ And you? Thank you_ And you?</p> <p>A3 : Same to you Same to you</p> <p>A4 : On vacation_ And you? On vacation_ And you?</p>	2.0	0.00
Employability Skills				
72	72	<p>Choose the correct response of the given question. "When did the accident happen"?</p> <p>दिए गए प्रश्न की सही प्रतिक्रिया चुनें। "When did the accident happen"?</p> <p>A1 : in the hotel in the hotel</p> <p>A2 : during travelling during travelling</p> <p>A3 : At 10:30 last night At 10:30 last night</p> <p>A4 : On the table On the table</p>	2.0	0.00
Employability Skills				
73	73	<p>Choose the correct tense of the verb. "I _____ music when I was child"</p> <p>क्रिया का सही काल चुनें। "I _____ music when I was child"</p> <p>A1 : learn learn</p> <p>A2 : am learning am learning</p> <p>A3 : will learn will learn</p> <p>A4 : learnt learnt</p>	2.0	0.00
Employability Skills				
74	74	<p>Curriculum vitae is also known as _____.</p> <p>Curriculum vitae को _____ के रूप में भी जाना जाता है।</p> <p>A1 : circular परिघत्र</p> <p>A2 : resume रिज्यूम</p> <p>A3 : job application form नौकरी के लिए आवेदन पत्र</p> <p>A4 : leave application छुट्टी की अर्जी</p>	2.0	0.00
Employability Skills				
75	75	<p>Fill in the blank with comparative adjective. "Your pencil is _____ than mine"</p>	2.0	0.00

तुलनात्मक विशेषण के साथ रिक्त स्थान भरें। "Your pencil is _____ than mine"

A1 sharp
:

sharp

A2 sharper
:

sharper

A3 blunt
:

blunt

A4 thick
:

thick



SAMPLE QUESTION PAPER SET 1

Machinist - 1st year (Eng) SET 1

Question Number	Correct Alternative position
1	A3
2	A2
3	A3
4	A4
5	A3
6	A3
7	A1
8	A3
9	A4
10	A4
11	A3
12	A2
13	A3
14	A2
15	A2
16	A3
17	A2
18	A2
19	A4
20	A2
21	A1
22	A4
23	A3
24	A4
25	A1
26	52
27	A4
28	A1
29	A2
30	A2
31	A3
32	A3
33	A2
34	A4
35	A3
36	A1
37	A1
38	A4
39	A3
40	A2
41	A2
42	A2
43	A2
44	A1
45	A1

46	A3
47	A2
48	A4
49	A3
50	A1
51	A1
52	A3
53	A2
54	A1
55	A2
56	A1
57	A2
58	A3
59	A1
60	A4
61	A2
62	A1
63	A3
64	A2
65	A1
66	A1
67	A2
68	A3
69	A1
70	A1
71	A1
72	A3
73	A4
74	A2
75	A2

KEY ANSWER SET ↑