

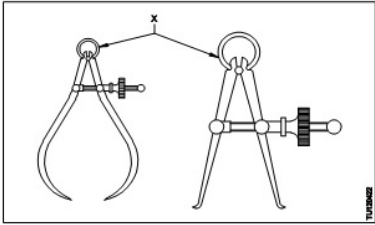
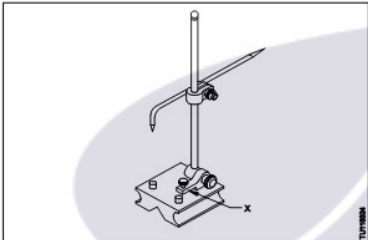
ALL INDIA TRADE TEST - 2024 FOR CRAFTSMEN
TRAINING SCHEME (CTS)
Trade Name: Turner
Year: 1st Year

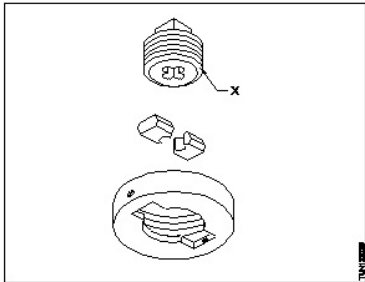
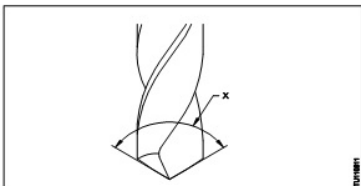
Exam Date :
Exam Time :

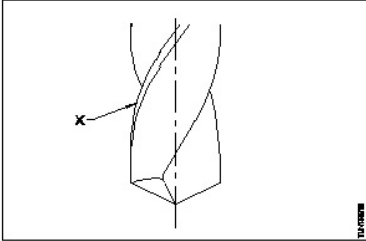
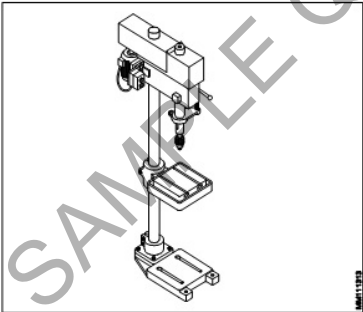
Note:

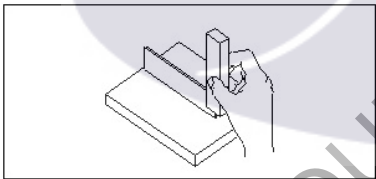
1. Tick the correct option out of four alternatives provided
2. All questions carry equal marks (2 Marks each)
3. There is no negative marking

Sr. No.	Q ID	Question Body and Alternatives	Marks	Negative Marks
Trade Theory				
1	1	<p>Which material is used to make the bench vice? बेंच राइस बनाने के लिए किस सामग्री का उपयोग किया जाता है?</p> <p>A1 : High carbon steel हाई कार्बन स्टील</p> <p>A2 : Cast iron कास्ट आयरन</p> <p>A3 : Mild steel माइल्ड स्टील</p> <p>A4 : High speed steel हाई स्पीड स्टील</p>	2.0	0.00
Trade Theory				
2	2	<p>What is the included angle of center punch? सेंटर पंच का समाविष्ट कोण कितना होता है?</p> <p>A1 : 30° 30°</p> <p>A2 : 45° 45°</p> <p>A3 : 60° 60°</p> <p>A4 : 90° 90°</p>	2.0	0.00
Trade Theory				
3	3	<p>What is the accuracy of measurement by a try square? ट्राई स्क्वायर द्वारा मापन की शुद्धता क्या होगी?</p> <p>A1 : 0.002 mm / 10mm length 0.002 mm / 10mm length</p> <p>A2 : 0.02 mm / 100mm length 0.02 mm / 100mm length</p> <p>A3 : 0.2 mm / 1000 mm length 0.2 mm / 1000 mm length</p> <p>A4 : 2 mm / 1 mm length 2 mm / 1 mm length</p>	2.0	0.00

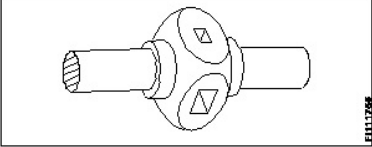
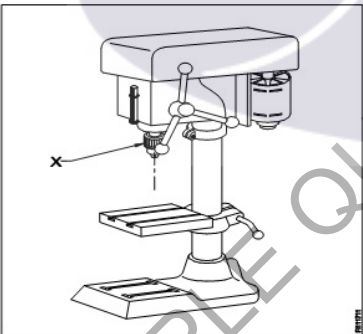
Trade Theory				
4	4	<p>What is the name of part marked as 'X'?</p> <p>‘X’ द्वारा चिह्नित किए भाग का नाम क्या है?</p> <div></div> <p>A1 Rivet : रिबेट</p> <p>A2 Screw : स्कू</p> <p>A3 Loop spring : लूप स्प्रिंग</p> <p>A4 Adjusting nut : समायोजन नट</p>	2.0	0.00
Trade Theory				
5	5	<p>What is the name of part marked as 'X'?</p> <p>‘X’ द्वारा चिह्नित किए भाग का नाम क्या है?</p> <div></div> <p>A1 Base : आधार</p> <p>A2 Snug : सनग</p> <p>A3 Spindle : स्पिंडल</p> <p>A4 Rocker arm : रॉकर आर्म</p>	2.0	0.00
Trade Theory				
6	6	<p>What is the material of files?</p> <p>फाइल्स बनाने के लिए किस सामग्री का उपयोग किया जाता है?</p> <p>A1 Cast iron : ढलवा लोहा</p> <p>A2 Mild steel : मृदु इस्पात</p> <p>A3 Low alloy steel : निम्न मिश्र धातु इस्पात</p> <p>A4 High carbon steel : उच्च कार्बन इस्पात</p>	2.0	0.00
Trade Theory				
7	7	<p>What is the specification for shape of file?</p>	2.0	0.00

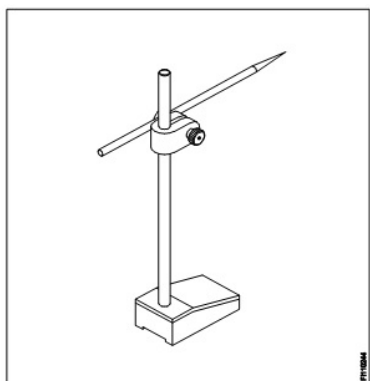
		<p>किसी फाइल का आकार का विनिर्देश किसके द्वारा करते है?</p> <p>A1 : Cut कट</p> <p>A2 : Grades ग्रेड</p> <p>A3 : Length लंबाई</p> <p>A4 : Cross section अनुप्रस्थ काट</p>		
Trade Theory				
8	8	<p>What is the name of the part 'X'?</p> <p>भाग 'X' का नाम क्या है?</p>  <p>A1 : Side screw साइड पेंच</p> <p>A2 : Guide plate गाइड प्लेट</p> <p>A3 : Centre screw केंद्र का पेंच</p> <p>A4 : Adjusting screw समायोजन पेंच</p>	2.0	0.00
Trade Theory				
9	9	<p>Which type of tap wrench is used to minimize the damage of taps?</p> <p>टूट फूट से बचने के लिए किस प्रकार का टेप प्रयोग किया जाता है?</p> <p>A1 : Bar type tap wrench बार टाइप टेप रिच</p> <p>A2 : Solid type tap wrench ठोस प्रकार का टेप रिच</p> <p>A3 : Double ended tap wrench डबल एंडेड टेप रिच</p> <p>A4 : T handle type tap wrench T हैंडल टाइप टेप रिच</p>	2.0	0.00
Trade Theory				
10	10	<p>What is the name of angle marked 'X'?</p> <p>'X' द्वारा चिह्नित कोण का नाम क्या है?</p> 	2.0	0.00

		A1 Web angle : वेब कोण A2 Rake angle : रेक कोण A3 Helix angle : हेलिक्स कोण A4 Point angle : बिंदु कोण		
Trade Theory				
11	11	What is the part marked 'X'? 'X' द्वारा कौन सा भाग चिह्नित किया गया है?  A1 Lip : लिप A2 Land : लैंड A3 Flank : फ्लैंक A4 Drill axis : ड्रिल की धुरी	2.0	0.00
Trade Theory				
12	12	What is the name of the machine? मशीन का नाम क्या है?  A1 The sensitive drilling machine : सेंसिटिव बेंच ड्रिलिंग मशीन A2 The pillar drilling machine : पिलर ड्रिलिंग मशीन A3 The radial drilling machine : रेडियल ड्रिलिंग मशीन A4 The gang drilling machine : गिरोह ड्रिलिंग मशीन	2.0	0.00
Trade Theory				
13	13	Which angle is preventing the cutting edge from rubbing action?	2.0	0.00

		<p>कौन सा कोण कोण कर्तन धार को रगड़ने से बचाता है?</p> <p>A1 : Web angle वेब कोण</p> <p>A2 : Rake angle रेक कोण</p> <p>A3 : Clearance angle निकासी कोण</p> <p>A4 : Point angle बिंदु कोण</p>		
Trade Theory				
14	14	<p>What is the drill point angle for drilling brass? माइल्ड स्टील की ड्रिलिंग के लिए ड्रिल पॉइंट एंगल क्या है?</p> <p>A1 : 140° 140°</p> <p>A2 : 130° 130°</p> <p>A3 : 120° 120°</p> <p>A4 : 118° 118°</p>	2.0	0.00
Trade Theory				
15	15	<p>What is the name of operation? ट्राई स्क्वायर का क्या उपयोग है?</p>  <p>A1 : Marking line at 90° 90 डिग्री पर अंकन रेखा</p> <p>A2 : Checking flatness समतलता की जाँच करना</p> <p>A3 : Checking squareness स्क्वायरनेस की जाँच करना</p> <p>A4 : Setting work piece at right angle सही कोण पर कार्य खण्ड को सेट करना</p>	2.0	0.00
Trade Theory				
16	16	<p>What is the name of 'V' block? इस 'V' ब्लॉक का नाम क्या है?</p>  <p>A1 : 'V' grooved 'V' block</p>	2.0	0.00

		<p>‘V ग्रीव्ड’ V ‘ब्लॉक’</p> <p>A2 : Single level single groove ‘V’ block</p> <p>सिंगल लेवल सिंगल ग्रीव ‘V’ ब्लॉक</p> <p>A3 : Double level single groove ‘V’ block</p> <p>डबल लेवल सिंगल ग्रीव ‘V’ ब्लॉक</p> <p>A4 : Single level double groove ‘V’ block</p> <p>सिंगल लेवल डबल ग्रीव ‘V’ ब्लॉक</p>		
Trade Theory				
17	17	<p>Which chisel used for squaring materials at the corners, joints? कोनों, जोड़ों पर सामग्री को चौकोर करने के लिए किस छेनी का उपयोग किया जाता है?</p> <p>A1 : Flat chisel</p> <p>फ्लैट छेनी</p> <p>A2 : Cross cut chisel</p> <p>क्रॉस कट छेनी</p> <p>A3 : Diamond point chisel</p> <p>डायमंड पॉइंट छेनी</p> <p>A4 : Half round nose chisels</p> <p>हाफ राउंड नोज छेनी</p>	2.0	0.00
Trade Theory				
18	18	<p>Which chisel is used for separating materials after chain drilling? चेन ड्रिलिंग के बाद मटेरियल को अलग करने के लिए किस छेनी का उपयोग किया जाता है?</p> <p>A1 : Web chisel</p> <p>वेब छेनी</p> <p>A2 : Flat chisel</p> <p>फ्लैट छेनी</p> <p>A3 : Cross cut chisel</p> <p>क्रॉस कट छेनी</p> <p>A4 : Diamond point chisel</p> <p>डायमंड पॉइंट छेनी</p>	2.0	0.00
Trade Theory				
19	19	<p>What is the use of fine pitch hacksaw blades? फाइन पिच हैकसा ब्लेड का उपयोग क्या है?</p> <p>A1 : To cut soft metal</p> <p>नरम धातु को काटने के लिए</p> <p>A2 : To cut high speed steel</p> <p>हाई स्पीड स्टील को काटने के लिए</p> <p>A3 : To cut high carbon steel</p> <p>हाई कार्बन स्टील को काटने के लिए</p> <p>A4 : To cut conduit and other thin tubes</p> <p>कंडिट और अन्य पतली ट्यूबों को काटने के लिए</p>	2.0	0.00
Trade Theory				
20	20	<p>What is the minor diameter of thread? थ्रेड का लघु व्यास ज्ञात करने का सूत्र क्या है?</p> <p>A1 : Minor dia = Major dia – (2 x pitch)</p> <p>Minor dia = Major dia – (2 x pitch)</p>	2.0	0.00

		<p>A2 : Minor dia = Major dia + (2 x pitch) Minor dia = Major dia + (2 x pitch)</p> <p>A3 : Minor dia = Major dia + (2 x depth) Minor dia = Major dia + (2 x depth)</p> <p>A4 : Minor dia = Major dia – (2 x depth) Minor dia = Major dia – (2 x depth)</p>		
Trade Theory				
21	21	<p>What is the name of tap wrench? इस टैप रिच का क्या नाम है?</p>  <p>A1 : Box type tap wrench बॉक्स टाइप टैप रिच</p> <p>A2 : Solid type tap wrench सॉलिड टाइप टैप रिच</p> <p>A3 : 'T' Handle tap wrench T' हैंडल टैप रिच</p> <p>A4 : Adjustable tap wrench एडजस्टेबल टैप रिच</p>	2.0	0.00
Trade Theory				
22	22	<p>What is the name of part marked as 'X' in drilling machine? ड्रिलिंग मशीन में 'X' के रूप में चिह्नित भाग का नाम क्या है?</p>  <p>A1 : Drill chuck ड्रिल चक</p> <p>A2 : Feed handle फीड हैंडल</p> <p>A3 : Driving motor ड्राइविंग मोटर</p> <p>A4 : Depth gauge and stop डेप्थ गेज और स्टॉप</p>	2.0	0.00
Trade Theory				
23	23	<p>What is the name of the marking tool? मार्किंग उपकरण का नाम क्या है?</p>	2.0	0.00



A1 : Scriber

खुरचने का औजर

A2 : Surface Plate

सरफेस प्लेट

A3 : Universal surface gauge

यूनिवर्सल सरफेस गेज

A4 : Fixed type surface gauge

स्थिर प्रकार की सतह गेज

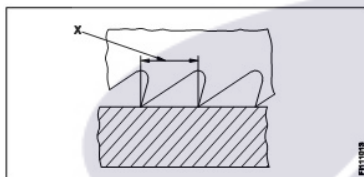
Trade Theory

24

24

What is the name of the hacksaw blade element marked X?

हैकसॉ ब्लेड तत्व X का नाम क्या है?



A1 : Depth of teeth

दांतों की गहराई

A2 : Pitch of teeth

दांतों की पिच

A3 : Width of teeth

दांतों की चौड़ाई

A4 : Length of blade

ब्लेड की लंबाई

2.0

0.00

Trade Theory

25

25

Which is the most suitable pitch for hack saw blade for cutting high carbon steel?

उच्च कार्बन स्टील को काटने के लिए हैक साँ ब्लेड के लिए सबसे उपयुक्त पिच कौन सी है?

A1 : 0.8 mm

0.8 mm

A2 : 1.0 mm

1.0 mm

A3 : 1.4 mm

1.4 mm

A4 : 1.8 mm

1.8 mm

2.0

0.00

Trade Theory

26

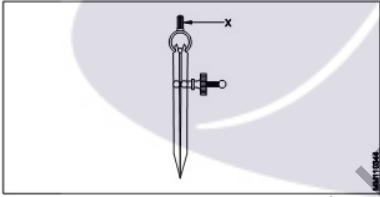
26

How many numbers are in metric tap set?

मेट्रिक टैप सेट में कितने नंबर होते हैं?

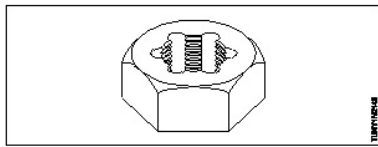
2.0

0.00

		A1 1 : 1 A2 2 : 2 A3 3 : 3 A4 4 : 4		
Trade Theory				
27	27	<p>Why the tap drill size to be calculated? टैप ड्रिल आकार की गणना क्यों की जाए?</p> <p>A1 To avoid drill breaking : ड्रिल ब्रेकिंग से बचने के लिए</p> <p>A2 To avoid material wastage : भौतिक अपव्यय से बचने के लिए</p> <p>A3 To calculate sufficient cutting speed : काटने की पर्याप्त गति की गणना करने के लिए</p> <p>A4 To maintain sufficient material to tap : टैप के लिए पर्याप्त सामग्री बनाए रखने के लिए</p>	2.0	0.00
Trade Theory				
28	28	<p>What is the part marked as 'X'?</p> <p>'X' द्वारा चिह्नित किया भाग है?</p>  <p>A1 Peg : पेग</p> <p>A2 Leg : लेग</p> <p>A3 Fulcrum : फलक़्रम</p> <p>A4 Knurled nut : नर्लेड नट</p>	2.0	0.00
Trade Theory				
29	29	<p>Which punch is used for locating center of the hole? किस पंच का प्रयोग छिद्र के केंद्र के अंकन में किया जाता है?</p> <p>A1 Dot punch : डॉट पंच</p> <p>A2 Prick punch : प्रिक पंच</p> <p>A3 Center punch : सेंटर पंच</p> <p>A4 Hollow Punch : होलो पंच</p>	2.0	0.00

		खोखला पंच		
		Trade Theory		
30	30	Which tool is used for cutting internal thread? आंतरिक थ्रेड को हाथ से काटने के लिए किस उपकरण का उपयोग किया जाता है? A1 Die : डाई A2 Tap : टेप A3 Drill : ड्रिल A4 Reamer : रीमर	2.0	0.00
		Trade Theory		
31	31	What type of tap wrench is used in restricted places? किस प्रकार का टेप रिच तंग जगह में प्रयोग किया जाता है? A1 Bar type tap wrench : बार टाइप टेप रिच A2 'T' handle tap wrench : टी हैंडल टेप रिच A3 Solid type tap wrench : ठोस प्रकार का टेप रिच A4 Double under tap wrench : डबल एंडेड टेप रिच	2.0	0.00
		Trade Theory		
32	32	How the calipers are classified? कैलिपर्स को कैसे वर्गीकृत किया जाता है? A1 Size : आकार A2 Accuracy : शुद्धता A3 Material : सामग्री A4 Joint & legs : जॉइंट और पैर	2.0	0.00
		Trade Theory		
33	33	Why the narrow slots are provided in the 'V'-groove of Vee-block? Vee-ब्लॉक के 'V'-गूव में संकरे स्लॉट क्यों दिया जाता है? A1 For Appearance : दिखावे के लिए A2 For Grip : पकड़ के लिए A3 For hold mild steel plate : माइल्ड स्टील प्लेट को पकड़ने के लिए A4 Clearance for drilling operation : ड्रिलिंग ऑपरेशन के लिए निकासी	2.0	0.00
		Trade Theory		

34	34	<p>What is the use of rasp cut file? रास्प कट फ़ाइल का उपयोग क्या है?</p> <p>A1 : Filing Aluminium एल्युमिनियम फाइलिंग करने में</p> <p>A2 : Filing mild steel माइल्ड स्टील फाइलिंग करने में</p> <p>A3 : Filing cast iron कास्ट आयरन फाइलिंग करने में</p> <p>A4 : Filing Wood and Leather लकड़ी और चमड़ा फाइलिंग करने में</p>	2.0	0.00
Trade Theory				
35	35	<p>What is the use of flat chisel? फ्लैट छेनी का उपयोग क्या है?</p> <p>A1 : Chipping large flat surface बड़ी सपाट सतह को छिलना</p> <p>A2 : Cutting keyways की वे काटना</p> <p>A3 : Cutting oil grooves आयल ग्रूव काटना</p> <p>A4 : Cutting chain drilling चेन ड्रिलिंग काटना</p>	2.0	0.00
Trade Theory				
36	36	<p>Where the diamond point chisel is used? हीरे की नोक वाली छेनी का उपयोग कहाँ किया जाता है?</p> <p>A1 : Enlarging holes छिद्र बड़ा करने के लिए</p> <p>A2 : Cutting keyways की वे काटने के लिए</p> <p>A3 : Squaring materials at the corners कोनों पर चौकोर सामग्री</p> <p>A4 : Cutting thin material पतली सामग्री काटना</p>	2.0	0.00
Trade Theory				
37	37	<p>Which file used for deburring the job on lathe? लेथ पर जॉब को डिबर करने के लिए किस फाइल का प्रयोग किया जाता है?</p> <p>A1 : Curved cut file कर्व कट फ़ाइल</p> <p>A2 : Single cut file सिंगल कट फाइल</p> <p>A3 : Rasp cut file रास्प कट फ़ाइल</p> <p>A4 : Knife edge file नाइफ एज फाइल</p>	2.0	0.00
Trade Theory				
38	38	<p>What is the name of given figure? दी गई आकृति का नाम क्या है?</p>	2.0	0.00



A1
: Half die

हाफ डाई

A2
: Die nut

डाई नट

A3
: Split die

स्प्लिट डाई

A4
: Screw plate die

स्कू प्लेट डाई

Workshop Calculation Science

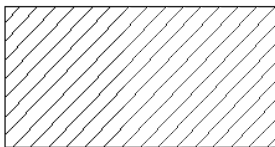
39	39	Which metal contains iron as a major content? इनमे से किस धातु में प्रमुख सामग्री के रूप में लोहा होता है?	2.0	0.00
		A1 : Brass metal पीतल धातु		
		A2 : Bronze metal ब्रॉज धातु		
		A3 : Zinc ज़िंक		
		A4 : Ferrous metal लोह धातु		

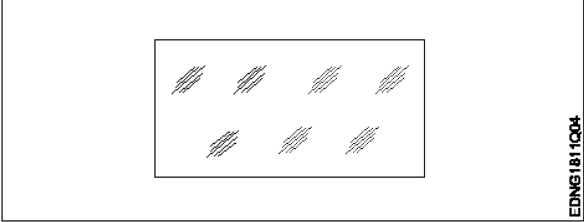
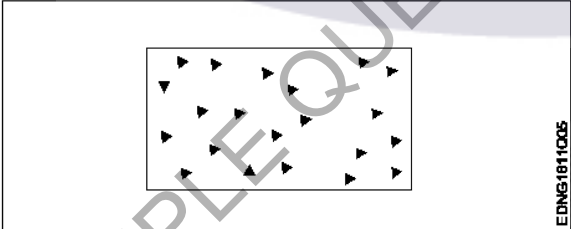
Workshop Calculation Science

40	40	What is the other name of low carbon steel? निम्न कार्बन स्टील का दूसरा नाम क्या है?	2.0	0.00
		A1 : Low alloy steel कम मिश्र धातु इस्पात,		
		A2 : High alloy steel उच्च मिश्र धातु इस्पात		
		A3 : High speed steel उच्च गति स्टील		
		A4 : Mild steel हल्के स्टील		

Workshop Calculation Science

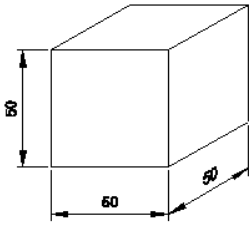
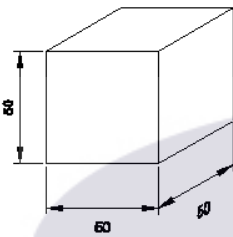
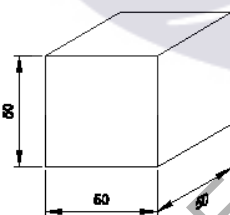
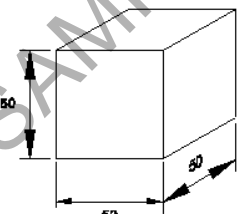
41	41	What is called mass per unit volume of a substances? किसी पदार्थ के द्रव्यमान प्रति इकाई आयतन को क्या कहते हैं?	2.0	0.00
		A1 : Mass द्रव्यमान		
		A2 : Weight भार		
		A3 : Density घनत्व		
		A4 : Volume		

		आयतन		
		Workshop Calculation Science		
42	42	<p>What is the work done in unit time? एक इकाई समय में किया गया कार्य क्या होता है?</p> <p>A1 : Energy ऊर्जा</p> <p>A2 : Power शक्ति</p> <p>A3 : Force बल</p> <p>A4 : Acceleration त्वरण</p>	2.0	0.00
		Workshop Calculation Science		
43	43	<p>What is the SI unit of pressure? दाब की एस.आई. इकाई क्या है?</p> <p>A1 : Joule जूल</p> <p>A2 : Pascal पास्कल</p> <p>A3 : Bar बार</p> <p>A4 : Newton न्यूटन</p>	2.0	0.00
		Workshop Calculation Science		
44	44	<p>Which is the unit of current? धारा की इकाई क्या है?</p> <p>A1 : Ampere एम्पियर</p> <p>A2 : Volt वोल्ट</p> <p>A3 : Ohm ओम</p> <p>A4 : Watt वाट</p>	2.0	0.00
		Engineering Drawing		
45	45	<p>Identify the conventional symbol of material? सामग्री के पारंपरिक प्रतीक को पहचानें?</p> <div style="border: 1px solid black; padding: 10px; margin: 10px 0;">  </div> <p>A1 : Lead लेड</p>	2.0	0.00

		A2 Steel : इस्पात A3 Glass : कांच A4 Porcelain : चीनी मिट्टी		
Engineering Drawing				
46	46	Identify the conventional symbol of material? सामग्री के पारंपरिक प्रतीक को पहचानें? 	2.0	0.00
		A1 Concrete : संगीत कार्यक्रम A2 Steel : इस्पात A3 Wood : लकड़ी A4 Glass : कांच		
Engineering Drawing				
47	47	Identify the conventional symbol of material? सामग्री के पारंपरिक प्रतीक को पहचानें? 	2.0	0.00
		A1 Steel : इस्पात A2 Wood : लकड़ी A3 Glass : कांच A4 Concrete : ठोस		
Engineering Drawing				
48	48	What is the trimmed size of A4 sheet? A4 शीट का ट्रिम किया हुआ आकार क्या है? A1 841 x 1189 : 841 x 1189	2.0	0.00

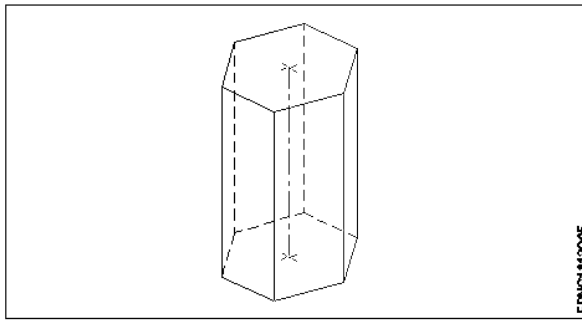
A2
: 594 x 841
594 x 841
A3
: 210 x 297
210 x 297
A4
: 148 x 210
148 x 210

Engineering Drawing

49	49	<p>Which drawing dimension is correct as per IS standard? IS मानक के अनुसार कौन सा ड्राइंग आयाम सही है?</p> <p>A1 :</p>  <p>A2 :</p>  <p>A3 :</p>  <p>A4 :</p> 	2.0	0.00
----	----	--	-----	------

Engineering Drawing

50	50	<p>Identify the name of prism? चित्र में दिखाए गए प्रिज्म का नाम क्या है?</p>	2.0	0.00
----	----	---	-----	------



- A1
: Square prism
स्क्वायर प्रिज्म
- A2
: Pentagonal prism
पंचकोणीय प्रिज्म
- A3
: Triangular prism
त्रिकोणीय प्रिज्म
- A4
: Hexagonal prism
हेक्सगोनल प्रिज्म

Employability Skills

51	51	Fill in the blank with correct word. "They _____ good friends" रिक्त में सही शब्द भरें। "They _____ good friends"	2.0	0.00
A1 :	is			
	is			
A2 :	am			
	am			
A3 :	are			
	are			
A4 :	was			
	was			

Employability Skills

52	52	Fill in the blank with present progressive tense of the verb. "The train _____ through the tunnel" क्रिया के वर्तमान प्रगतिशील काल के साथ रिक्त स्थान भरें। "The train _____ through the tunnel"	2.0	0.00
A1 :	passed			
	passed			
A2 :	is passing			
	is passing			
A3 :	had passed			
	had passed			
A4 :	was passing			
	was passing			

Employability Skills

53	53	Fill in the blank with proper interrogative adjective. _____ are you going? उचित ईंटोरोगेटिव विशेषण के साथ रिक्त स्थान भरें। _____ are you going?	2.0	0.00
A1 :	Who			
	Who			
A2 :	Where			
	Where			

		<p>A3 Which :</p> <p>Which</p> <p>A4 What :</p> <p>What</p>		
Employability Skills				
54	54	<p>Fill in the blank with proper pronoun. "I made this cake _____"</p> <p>रिक्त स्थान में उचित सर्वनाम के साथ भरें। "I made this cake _____"</p> <p>A1 myself :</p> <p>myself</p> <p>A2 yourself :</p> <p>yourself</p> <p>A3 himself :</p> <p>himself</p> <p>A4 itself :</p> <p>itself</p>	2.0	0.00
Employability Skills				
55	55	<p>Fill in the blank with proper pronoun. "She made this cake _____"</p> <p>रिक्त स्थान में उचित सर्वनाम के साथ भरें। "She made this cake _____"</p> <p>A1 itself :</p> <p>itself</p> <p>A2 myself :</p> <p>myself</p> <p>A3 herself :</p> <p>herself</p> <p>A4 himself :</p> <p>himself</p>	2.0	0.00
Employability Skills				
56	56	<p>Fill in the blank with proper reflexive pronoun. "She has hurt _____"</p> <p>रिक्त स्थान में उचित प्रतिवर्ती सर्वनाम के साथ भरें। "She has hurt _____"</p> <p>A1 myself :</p> <p>myself</p> <p>A2 herself :</p> <p>herself</p> <p>A3 himself :</p> <p>himself</p> <p>A4 itself :</p> <p>itself</p>	2.0	0.00
Employability Skills				
57	57	<p>Fill in the blank with suitable adjective for the given sentence "The little girl's..... eyes revealed her mischief"</p> <p>दिए गए वाक्य के लिए उपयुक्त विशेषण के साथ रिक्त स्थान भरें "The little girl's..... eyes revealed her mischief"</p> <p>A1 chubby :</p> <p>chubby</p> <p>A2 weak :</p> <p>weak</p> <p>A3 short sighted :</p> <p>short sighted</p>	2.0	0.00


		A4 : twinkling twinkling		
Employability Skills				
58	58	Fill in the blank with suitable place preposition. "My house is _____ the third floor" उपयुक्त स्थान पूर्वसर्ग के साथ रिक्त स्थान भरें। "My house is _____ the third floor" A1 : at at A2 : in in A3 : on on A4 : under under	2.0	0.00
Employability Skills				
59	59	Fill in the correct question word. "_____ is the speaker at the function?" सही प्रश्न शब्द भरें। "_____ is the speaker at the function?" A1 : What What A2 : When When A3 : Why Why A4 : Who Who	2.0	0.00
Employability Skills				
60	60	Low level language is also called _____. निम्न स्तर की भाषा को _____ भी कहा जाता है A1 : source code सोर्स कोड A2 : middle ware मध्यस्थ A3 : machine language मशीन भाषा A4 : assembly language असेंबली भाषा	2.0	0.00
Employability Skills				
61	61	Pronunciation refers to _____. उच्चारण _____ को संदर्भित करता है A1 : diphthong संयुक्त स्वर A2 : consonant व्यंजन A3 : punctuation विराम चिह्न A4 : production of sound ध्वनि का उत्पादन	2.0	0.00

Employability Skills				
62	62	<p>Re-arrange the following set of words into meaningful sentence. “teacher / school / worked / she / a / as”.</p> <p>शब्दों के निम्नलिखित सेट को सार्थक वाक्य में फिर से व्यवस्थित करें। “teacher / school / worked / she / a / as”</p> <p>A1 : School worked as a she teacher</p> <p>School worked as a she teacher</p> <p>A2 : She worked as a school teacher</p> <p>She worked as a school teacher</p> <p>A3 : She teacher worked as a school</p> <p>She teacher worked as a school</p> <p>A4 : Worked she as a school teacher</p> <p>Worked she as a school teacher</p>	2.0	0.00
Employability Skills				
63	63	<p>Rise and fall of pitch of voice is called _____.</p> <p>आवाज़ की पिच का उठना और गिरना _____ कहलाता है</p> <p>A1 : vowel</p> <p>स्वर</p> <p>A2 : intonation</p> <p>आवाज़ का उतार-चढ़ाव</p> <p>A3 : consonant</p> <p>व्यंजन</p> <p>A4 : pronunciation</p> <p>उच्चारण</p>	2.0	0.00
Employability Skills				
64	64	<p>The word that expresses a sudden and strong feeling is called _____.</p> <p>वह शब्द जो अचानक और मजबूत भावना व्यक्त करता है उसे _____ कहा जाता है</p> <p>A1 : punctuation</p> <p>विराम चिह्न</p> <p>A2 : interjection</p> <p>विस्मयादिबोधक</p> <p>A3 : conjunction</p> <p>संयोजन के रूप</p> <p>A4 : apostrophe</p> <p>एपसट्रफ़ी</p>	2.0	0.00
Employability Skills				
65	65	<p>When you greet higher official’s such as Teacher, Instructor or Supervisor, you should use _____.</p> <p>जब आप शिक्षक, प्रशिक्षक या पर्यवेक्षक जैसे उच्च अधिकारियों का अभिवादन करते हैं, तो आपको _____ का उपयोग करना चाहिए</p> <p>A1 : Good morning</p> <p>Good morning</p> <p>A2 : Hello</p> <p>Hello</p> <p>A3 : Hey</p> <p>Hey</p> <p>A4 : Hi</p> <p>Hi</p>	2.0	0.00
Employability Skills				
66	66	<p>Which is a silent letter in the word “ANSWER”?</p> <p>“ANSWER” शब्द में कौन सा मूक अक्षर है?</p>	2.0	0.00

		A1 R : R A2 E : E A3 S : S A4 W : W		
Employability Skills				
67	67	Which one is a “Do’s” of discussion etiquettes? चर्चा के शिष्टाचारों में से कौन सा “Do’s” है? A1 Loose your temper : अपना आपा खोएं A2 Listen to others : दूसरों की सुनें A3 Talk about irrelevant details : अप्रासंगिक विवरण के बारे में बात करें A4 Use impolite or rude language : अभद्र या अशिष्ट भाषा का उपयोग करें	2.0	0.00
Employability Skills				
68	68	Which one is a “Don’t” of discussion etiquette? चर्चा शिष्टाचार का “Don’t” है? A1 Be open minded : दिमाग खुला रखना A2 Use moderate tone : मध्यम स्वर का प्रयोग करें A3 Listen to others : दूसरों की सुनें A4 Argue unnecessary : अनावश्यक बहस करें	2.0	0.00
Employability Skills				
69	69	Which one is a brain of computer? कंप्यूटर का मस्तिष्क कौन सा है? A1 Keyboard : कीबोर्ड A2 CPU : सी पी यू A3 Monitor : मॉनिटर A4 Hard disk : हार्ड डिस्क	2.0	0.00
Employability Skills				
70	70	Which one is an exclamatory sentence? कौन सा विस्मयादिबोधक वाक्य है? A1 What a beautiful house it is!	2.0	0.00

		<p>What a beautiful house it is!</p> <p>A2 : It is a beautiful house.</p> <p>It is a beautiful house.</p> <p>A3 : Is it a beautiful house?</p> <p>Is it a beautiful house?</p> <p>A4 : Your house is beautiful.</p> <p>Your house is beautiful.</p>		
Employability Skills				
71	71	<p>Which one is in active voice? सक्रिय आवाज में कौन सा है?</p> <p>A1 : Ram has passed the exam.</p> <p>Ram has passed the exam.</p> <p>A2 : The ball was caught by him.</p> <p>The ball was caught by him.</p> <p>A3 : The book was being read by her.</p> <p>The book was being read by her.</p> <p>A4 : We were driven home by dad.</p> <p>We were driven home by dad.</p>	2.0	0.00
Employability Skills				
72	72	<p>Which one is in passive voice? निष्क्रिय आवाज में कौन सा है?</p> <p>A1 : Mohan is painting a house.</p> <p>Mohan is painting a house.</p> <p>A2 : She was reading a book.</p> <p>She was reading a book.</p> <p>A3 : Her birthday was celebrated by us.</p> <p>Her birthday was celebrated by us.</p> <p>A4 : I have seen that movie.</p> <p>I have seen that movie.</p>	2.0	0.00
Employability Skills				
73	73	<p>Which one is NOT a conjunction? कौन सा एक संयोजन नहीं है?</p> <p>A1 : And</p> <p>And</p> <p>A2 : Or</p> <p>Or</p> <p>A3 : But</p> <p>But</p> <p>A4 : On</p> <p>On</p>	2.0	0.00
Employability Skills				
74	74	<p>Which one is NOT a benefit of the role playing? भूमिका निभाने का कौन सा लाभ नहीं है?</p> <p>A1 : Builds confidence</p> <p>आत्मविश्वास पैदा करता है</p> <p>A2 : Develops listening skill</p>	2.0	0.00

		<p>सुनने का कौशल विकसित करता है</p> <p>A3 : Develops creative problem-solving skill</p> <p>रचनात्मक समस्या-समाधान कौशल विकसित करता है</p> <p>A4 : Develops boredom</p> <p>बोरियत पैदा करता है</p>		
Employability Skills				
75	75	<p>Which one is NOT a vowel?</p> <p>कौन सा स्वर नहीं है?</p> <p>A1 : a</p> <p>a</p> <p>A2 : e</p> <p>e</p> <p>A3 : f</p> <p>f</p> <p>A4 : i</p> <p>i</p>	2.0	0.00



 SAMPLE QUESTION PAPER SET 2

Turner - 1st Year - Set 2

S.No.	Correct Answer Key
1	A2
2	A4
3	A1
4	A3
5	A4
6	A4
7	A4
8	A2
9	A2
10	A4
11	A2
12	A2
13	A3
14	A4
15	A2
16	A2
17	A3
18	A1
19	A4
20	A4
21	A2
22	A1
23	A4
24	A2
25	A3
26	A3
27	A4
28	A1
29	A3
30	A2
31	A2
32	A4
33	A4
34	A4
35	A1
36	A3
37	A2
38	A2

S.No.	Correct Answer Key
39	A4
40	A4
41	A3
42	A2
43	A2
44	A1
45	A2
46	A4
47	A4
48	A3
49	A1
50	A4
51	A3
52	A2
53	A2
54	A1
55	A3
56	A2
57	A4
58	A3
59	A4
60	A3
61	A4
62	A2
63	A2
64	A2
65	A1
66	A4
67	A2
68	A4
69	A2
70	A1
71	A1
72	A3
73	A4
74	A4
75	A3

Note:

"In case answers found to be inaccurate due to typographical error or any other reason please sent mail to qbnimigrievance@gmail.com"