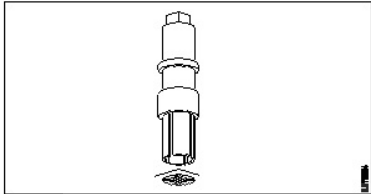


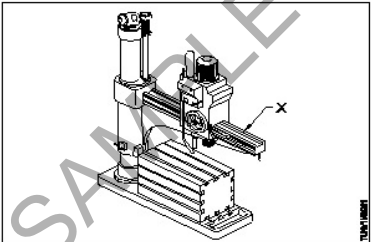
ALL INDIA TRADE TEST - 2024 FOR CRAFTSMEN
TRAINING SCHEME (CTS)
Trade Name: Turner
Year: 1st Year

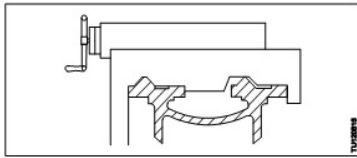
Exam Date :
Exam Time :

Note:

1. Tick the correct option out of four alternatives provided
2. All questions carry equal marks (2 Marks each)
3. There is no negative marking

Sr. No.	Q ID	Question Body and Alternatives	Marks	Negative Marks
Trade Theory				
1	1	<p>What is name of given figure? दी गई आकृति का नाम क्या है?</p>  <p>A1 : Screw extractor स्कू एक्सट्रेक्टर</p> <p>A2 : Tapered square drift टेपर्ड स्क्वायर ड्रिफ्ट</p> <p>A3 : Tap extractor टैप एक्सट्रेक्टर</p> <p>A4 : Screw driver स्कू ड्राइवर</p>	2.0	0.00
Trade Theory				
2	2	<p>Which part of drill chuck fixed in the spindle? स्पिंडल में ड्रिल चक का कौन सा भाग लगा होता है?</p> <p>A1 : Sleeve स्लीव</p> <p>A2 : Taper shank टेपर शैंक</p> <p>A3 : Body बॉडी</p> <p>A4 : Jaws जॉ</p>	2.0	0.00
Trade Theory				
3	3	<p>How the centre drills are classified? सेंटर ड्रिल्स को कैसे वर्गीकृत किया जाता है?</p> <p>A1 : Type A, B, and C A, B और C प्रकार</p> <p>A2 : Type A, B, and R</p>	2.0	0.00

		<p>A, B और R प्रकार</p> <p>A3 : Type A, B, and D</p> <p>A, B और D प्रकार</p> <p>A4 : Type A, B, and E</p> <p>A, B और E प्रकार</p>		
Trade Theory				
4	4	<p>How much maximum diameter of drill hold on drill chuck?</p> <p>ड्रिल चक पर ड्रिल का अधिकतम व्यास कितना होता है?</p> <p>A1 : 6mm</p> <p>6mm</p> <p>A2 : 19mm</p> <p>19mm</p> <p>A3 : 10mm</p> <p>10mm</p> <p>A4 : 13mm</p> <p>13mm</p>	2.0	0.00
Trade Theory				
5	5	<p>How many grades are available in surface plate?</p> <p>सरफेस प्लेट में कितने ग्रेड उपलब्ध हैं?</p> <p>A1 : 1</p> <p>1</p> <p>A2 : 2</p> <p>2</p> <p>A3 : 3</p> <p>3</p> <p>A4 : 4</p> <p>4</p>	2.0	0.00
Trade Theory				
6	6	<p>What is 'X' marked shown in figure?</p> <p>चित्र में दिखाया गया 'X' चिह्न क्या है?</p>  <p>A1 : Pillar</p> <p>पिलर</p> <p>A2 : Spindle</p> <p>स्पिंडल</p> <p>A3 : Radial Arm</p> <p>रेडियल आर्म</p> <p>A4 : Spindle Head</p> <p>स्पिंडल हेड</p>	2.0	0.00
Trade Theory				
7	7	<p>What is type of the lathe bed?</p> <p>लेथ बेड का कौन सा प्रकार है?</p>	2.0	0.00



A1
: 'V' bed

'V' बेड

A2
: Gap bed

गैप बेड

A3
: Flat bed way

सपाट बेड वे

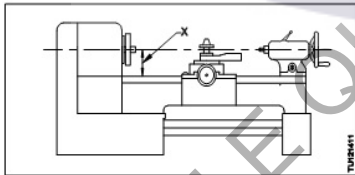
A4
: Combination bed

संयोजन बेड

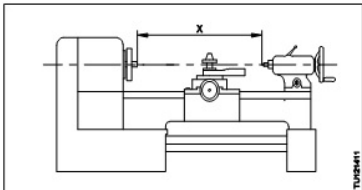
Trade Theory

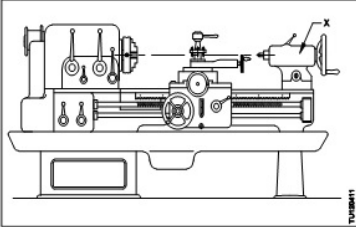
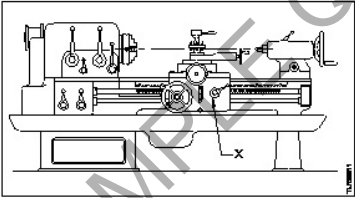
8	8	<p>Which type taper is provided at the hollow end of the tailstock barrel/spindle? टेलस्टॉक के स्लीव/बैरेल के खोखले सिरे पर कौन सा टेपर दिया जाता है</p> <p>A1 : Jarno taper जर्नो टेपर</p> <p>A2 : Morse taper मोर्स टेंपर</p> <p>A3 : Metric taper मीट्रिक टेपर</p> <p>A4 : Brown & Sharpe taper ब्राउन और शार्प टेपर</p>	2.0	0.00
---	---	---	-----	------

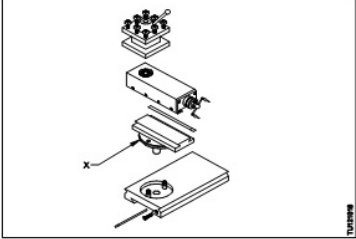
Trade Theory

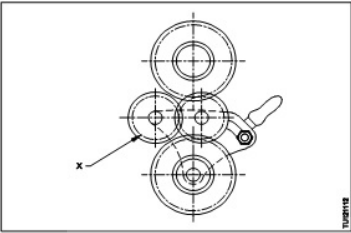
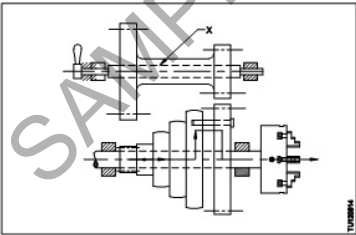
9	9	<p>What is the specification of centre lathe marked 'X'?</p> <p>'X' चिह्नित सेंटर लेथ की विशिष्टता क्या है?</p>  <p>A1 : Swing over bed स्विंग ओवर बेड</p> <p>A2 : Diameter of work कार्य का व्यास</p> <p>A3 : Swing over carriage स्विंग ओवर कैरिज</p> <p>A4 : Size of spindle bore स्पिंडल बोर का आकार</p>	2.0	0.00
---	---	---	-----	------

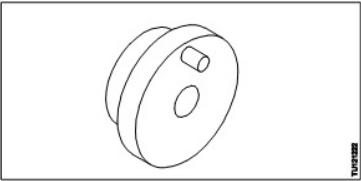
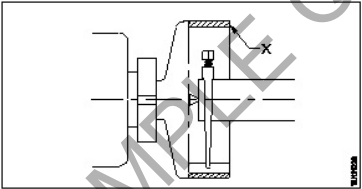
Trade Theory

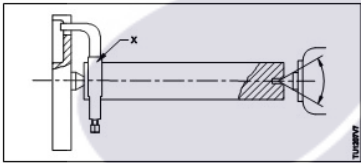
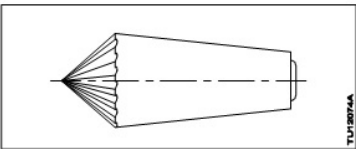
10	10	<p>What is the specification of center lathe wheel as 'X'?</p> <p>सेंटर लेथ व्हील का 'X' के रूप में विनिर्देश क्या है?</p> 	2.0	0.00
----	----	--	-----	------

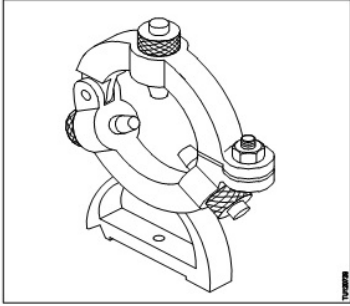
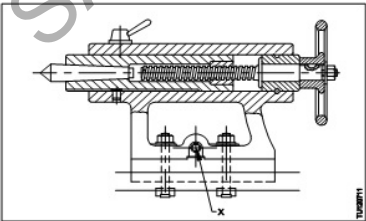
		<p>A1 : Sine of spindle bore स्पिंडल बोर का साइन</p> <p>A2 : The swing over bed स्विंग ओवर बेड</p> <p>A3 : Length of the bed बेड की लंबाई</p> <p>A4 : Length between centers केंद्रों के बीच की लंबाई</p>		
Trade Theory				
11	11	<p>What is the name of part marked as 'X'?</p> <p>'X' द्वारा कौन सा भाग चिह्नित है?</p>  <p>A1 : Tail stock टेल स्टॉक</p> <p>A2 : Tool stock टूल स्टॉक</p> <p>A3 : Head stock हेड स्टॉक</p> <p>A4 : Compound rest कंपाउंड रेस्ट</p>	2.0	0.00
Trade Theory				
12	12	<p>What is the name of part marked as 'x' in center lathe?</p> <p>'X' द्वारा केंद्र खराद का कौन सा भाग चिह्नित है?</p>  <p>A1 : Bed बेड</p> <p>A2 : Carriage कैरिज</p> <p>A3 : Compound rest कंपाउंड रेस्ट</p> <p>A4 : Quick change gear box त्वरित परिवर्तन गियर बॉक्स</p>	2.0	0.00
Trade Theory				
13	13	<p>What is the use of gap bed lathe?</p> <p>गैप बेड लेथ की क्या उपयोगिता है?</p> <p>A1 : To turn larger diameter work</p>	2.0	0.00

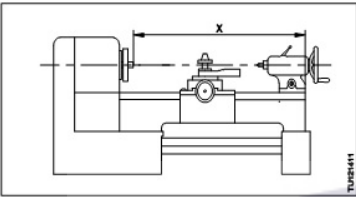
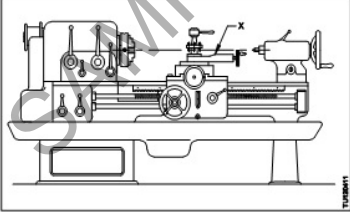
		<p>बड़े व्यास के कार्य को घुमाने के लिए</p> <p>A2 : To turn small diameter work</p> <p>छोटे व्यास के कार्य को घुमाने के लिए</p> <p>A3 : To turn irregular shaped work</p> <p>अनियमित आकृति के कार्य को घुमाने के लिए</p> <p>A4 : To turn lengthy work</p> <p>लंबे कार्यों को घुमाने के लिए</p>		
Trade Theory				
14	14	<p>What is the name of the part of compound rest marked 'X'?</p> <p>‘X’ द्वारा कंपाउंड रेस्ट के चिह्नित भाग का नाम क्या है?</p>  <p>A1 : Jib जिब</p> <p>A2 : Tap slide शीर्ष स्लाइड</p> <p>A3 : Cross slide क्रॉस स्लाइड</p> <p>A4 : Swivel base स्विवेल आधार</p>	2.0	0.00
Trade Theory				
15	15	<p>Which part of the lathe is 'H' shaped cast iron on the bed ways?</p> <p>लैथ के बेड के ऊपर रखे कौन से ढलवा लौहे के बने भाग का आकार H के समान होता है?</p> <p>A1 : Saddle सैडल</p> <p>A2 : Top slide शीर्ष स्लाइड</p> <p>A3 : Tail stock टेल स्टॉक</p> <p>A4 : Cross slide क्रॉस स्लाइड</p>	2.0	0.00
Trade Theory				
16	16	<p>Which part of carriage is only for possible manual operation?</p> <p>कैरिज के कौन से भाग का केवल हस्त परिचालन संभव है?</p> <p>A1 : Apron एप्रन</p> <p>A2 : Saddle सैडल</p> <p>A3 : Top slide शीर्ष स्लाइड</p> <p>A4 : Cross slide क्रॉस स्लाइड</p>	2.0	0.00

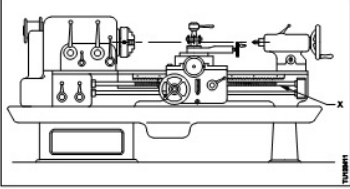
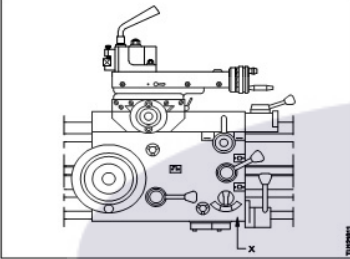
		क्रॉस स्लाइड		
		Trade Theory		
17	17	<p>Which mechanism is also called as reversing gear unit? किस तंत्र को प्रतिवर्ती गियर इकाई भी कहा जाता है?</p> <p>A1 : Tumbler gear टंबलर गियर</p> <p>A2 : Change gear unit गियर परिवर्तन यूनिट</p> <p>A3 : Quick change box त्वरित परिवर्तन बॉक्स</p> <p>A4 : Apron mechanism एप्रन तंत्र</p>	2.0	0.00
		Trade Theory		
18	18	<p>What is the name of the part 'X'?</p> <p>भाग 'X' का नाम क्या है?</p>  <p>A1 : Driver gear ड्राइवर गियर</p> <p>A2 : Main spindle मुख्य धुरी</p> <p>A3 : Spindle gear स्पिंडल गियर</p> <p>A4 : Tumbler gear टंबलर गियर</p>	2.0	0.00
		Trade Theory		
19	19	<p>What is the name of part marked 'X' in cone pulley head stock of lathe? 'X' द्वारा खराद के हेड स्टॉक की कोन पुली में कौन सा भाग चिह्नित है?</p>  <p>A1 : Chuck चक</p> <p>A2 : Pinion पिनियन</p> <p>A3 : Back gear shaft बैक गियर शाफ्ट</p> <p>A4 : Stepped cone pulley चरणबद्ध शंकु चरखी</p>	2.0	0.00
		Trade Theory		

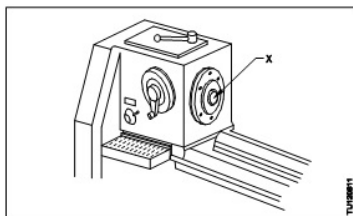
20	20	<p>What is the purpose of back gear unit in cone pulley headstock of a lathe? लेथ के कोन पुली हेड स्टॉक की बैक गियर यूनिट का उद्देश्य क्या है?</p> <p>A1 : For helping step turning स्टेप टर्निंग में सहायता के लिए</p> <p>A2 : To double the spindle speed स्पिंदल की गति को दोगुना करने के लिए</p> <p>A3 : To get increased spindle speed स्पिंदल की बढ़ी हुई गति प्राप्त करने के लिए</p> <p>A4 : To get reduced spindle speed कम स्पिंदल गति प्राप्त करने के लिए</p>	2.0	0.00
Trade Theory				
21	21	<p>What is the name of the accessory? सहायक उपकरण का नाम क्या है?</p>  <p>A1 : Face plate फेस प्लेट</p> <p>A2 : Angle plate कोण प्लेट</p> <p>A3 : Catch plate कैच प्लेट</p> <p>A4 : Driving plate ड्राइविंग प्लेट</p>	2.0	0.00
Trade Theory				
22	22	<p>What is the name of the part 'X'? भाग 'X' का नाम क्या है?</p>  <p>A1 : Face plate फेस प्लेट</p> <p>A2 : Catch plate कैच प्लेट</p> <p>A3 : Driving plate ड्राइविंग प्लेट</p> <p>A4 : Safety driving plate सुरक्षा ड्राइविंग प्लेट</p>	2.0	0.00
Trade Theory				
23	23	<p>What is the name of the center accommodates in the main spindle sleeve? मुख्य स्पिंदल की स्लीव में धारित किए जाने वाले केंद्र का नाम क्या है?</p> <p>A1 : Dead center</p>	2.0	0.00

		डेड सेंटर A2 : Half center आधा सेंटर A3 : Pipe center पाइप सेंटर A4 : Live center लाइव सेंटर		
Trade Theory				
24	24	What is the inclined angle of dead center conical point? डेड केंद्र के शंकु आकार भाग का झुकाव कोण कितना होता है? A1 : 90° 90° A2 : 60° 60° A3 : 50° 50° A4 : 30° 30°	2.0	0.00
Trade Theory				
25	25	What is the name of the part marked 'X'? 'X' द्वारा चिह्नित भाग का नाम क्या है?  A1 : Live center लाइव सेंटर A2 : Catch plate कैच प्लेट A3 : Lathe carrier खराद वाहक A4 : Driving plate ड्राइविंग प्लेट	2.0	0.00
Trade Theory				
26	26	What is the name of the center? केंद्र का नाम क्या है?  A1 : Female center महिला केंद्र A2 : Ordinary center साधारण केंद्र A3 : Revolving center घूमने वाला केंद्र	2.0	0.00

		A4 : Self-driving live center सेल्फ ड्राइविंग लाइव सेंटर		
Trade Theory				
27	27	<p>Name the lathe accessory shown. दिखाए गए लेथ एक्सेसरी का नाम बताइए।</p>  <p>A1 : Fixed steady फिक्स्ड स्टेडी</p> <p>A2 : Travelling steady ट्रैवेलिंग स्टेडी</p> <p>A3 : Roller steady रोलर स्टेडी</p> <p>A4 : Cat stead कैट हेड</p>	2.0	0.00
Trade Theory				
28	28	<p>Which part of the lathe contains the mechanism for moving and controlling the carriage? खराद के किस भाग में कैरिज को घुमाने और नियंत्रित करने का तंत्र होता है?</p> <p>A1 : The apron एप्रन</p> <p>A2 : Top slide शीर्ष स्लाइड</p> <p>A3 : Cross slide क्रॉस स्लाइड</p> <p>A4 : Compound rest कंपाउंड रेस्ट</p>	2.0	0.00
Trade Theory				
29	29	<p>What is the name of the part of tail stock marked 'X'? 'X' द्वारा टेल स्टॉक के चिह्नित भाग का नाम क्या है?</p>  <p>A1 : Base आधार</p> <p>A2 : Clamping unit क्लेम्पिंग इकाई</p> <p>A3 : Set over screw सेट ओवर पेंच</p>	2.0	0.00

		A4 : Spindle locking lever स्पिंडल लॉकिंग लीवर		
Trade Theory				
30	30	<p>Which part of center lathe make angular movement? केंद्र लेथ का कौन सा भाग कोणीय गति करता है?</p> <p>A1 : Saddle सैडल</p> <p>A2 : Top slide शीर्ष स्लाइड</p> <p>A3 : Cross slide क्रॉस स्लाइड</p> <p>A4 : Compound slide कंपाउंड स्लाइड</p>	2.0	0.00
Trade Theory				
31	31	<p>What is the specification of center lathe marked as 'X'?</p> <p>'X' से चिह्नित सेंटर लेथ की विशेषता क्या है?</p>  <p>A1 : Length of the bed बेड की लंबाई</p> <p>A2 : The swing over bed बेड पर स्विंग</p> <p>A3 : Size of spindle bore स्पिंडल बोर का आकार</p> <p>A4 : Length between centers सेंटर्स के बीच की लंबाई</p>	2.0	0.00
Trade Theory				
32	32	<p>What is the name of part marked as 'x' in center lathe?</p> <p>'X' द्वारा केंद्र खराद का कौन सा भाग चिह्नित है?</p>  <p>A1 : Compound rest कंपाउंड रेस्ट</p> <p>A2 : Cross-Slide क्रॉस स्लाइड</p> <p>A3 : Tool post टूल पोस्ट</p> <p>A4 : Carriage कैरिज</p>	2.0	0.00
Trade Theory				

33	33	<p>What is the name of part marked as 'x' in center lathe?</p> <p>‘X’ द्वारा केंद्र खराद का कौन सा भाग चिह्नित है?</p>  <p>A1 : Bed बेड</p> <p>A2 : Carriage कैरिज</p> <p>A3 : Feed shaft फीड शाफ्ट</p> <p>A4 : Lead screw लीड स्कू</p>	2.0	0.00
Trade Theory				
34	34	<p>What is the name of the part of carriage marked as 'X'?</p> <p>‘X’ द्वारा कैरिज के चिह्नित भाग का नाम क्या है?</p>  <p>A1 : Apron एप्रन</p> <p>A2 : Saddle सैडल</p> <p>A3 : Top slide शीर्ष स्लाइड</p> <p>A4 : Cross slide क्रॉस स्लाइड</p>	2.0	0.00
Trade Theory				
35	35	<p>Which part of lathe slides over the bed ways between headstock and the tailstock?</p> <p>लेथ का कौन सा भाग हेड स्टॉक और टेल स्टॉक के बीच लेथ बेड पर स्लाइड करता है?</p> <p>A1 : Lead screw प्रमुख स्कू</p> <p>A2 : Feed rod फीड रॉड</p> <p>A3 : Carriage कैरिज</p> <p>A4 : Spindle धुरा</p>	2.0	0.00
Trade Theory				
36	36	<p>What is the name the part marked 'X' on headstock of lathe?</p> <p>‘X’ द्वारा खराद के हेड स्टॉक का कौन सा भाग चिह्नित है?</p>	2.0	0.00



A1
: Tail stock

टेल स्टॉक

A2
: Lathe chuck

खराद चक

A3
: Lathe spindle

लेथ स्पिंडल

A4
: Speed change lever

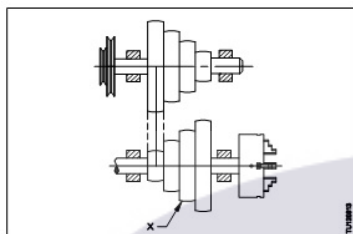
स्पीड परिवर्तन लीवर

Trade Theory

37 37 What is the name of part marked as 'X' in the cone pulley head stock of a lathe?

2.0 0.00

'X' द्वारा खराद के हेड स्टॉक की कोन पुली में कौन सा भाग चिह्नित है?



A1
: Back gear

पीछे का गियर

A2
: Head stock cone pulley

हेड स्टॉक कोन पुली

A3
: Head stock bull gear

हेड स्टॉक बुल गियर

A4
: Counter shaft cone pulley

काउंटर शाफ्ट शंकु चरखी

Trade Theory

38 38 Where is the dead center fixed on lathe?
लेथ में डेड केंद्र कहाँ स्थापित किया जाता है?

2.0 0.00

A1
: Carriage

गाड़ी

A2
: Tail stock

टेल स्टॉक

A3
: Head stock

प्रमुख स्टॉक

A4
: Cross-Stock

क्रॉस-स्लाइड

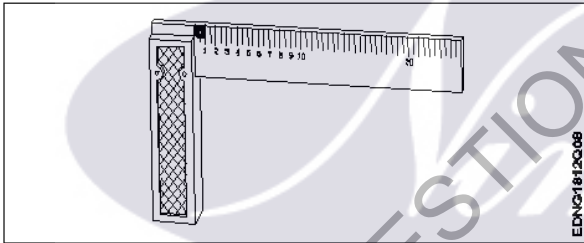
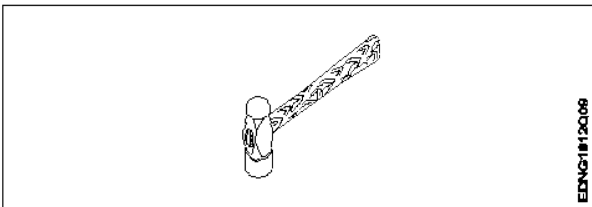
Workshop Calculation Science

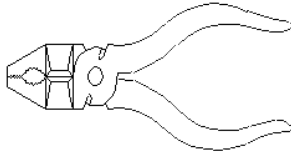
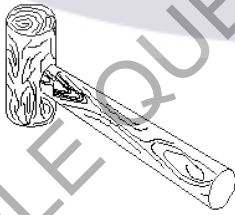
39 39 What is the flow of electrons in any conductor?
किसी कंडक्टर में इलेक्ट्रॉन का प्रवाह क्या होता है?

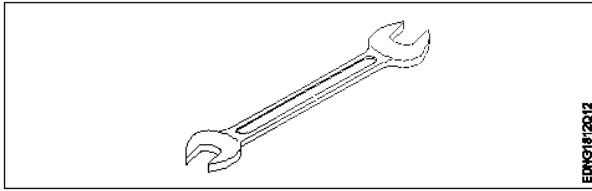
2.0 0.00

A1
: Voltage

		वोल्टेज A2 : Current धारा A3 : Resistance प्रतिरोध A4 : Power शक्ति		
Workshop Calculation Science				
40	40	What is the side of a square whose area is 625mm^2 ? एक वर्ग की भुजा क्या होगी, जिसका क्षेत्रफल 625 मिमी^2 है? A1 : 15 mm 15 mm A2 : 20 mm 20 mm A3 : 25 mm 25 mm A4 : 30 mm 30 mm	2.0	0.00
Workshop Calculation Science				
41	41	What is the area of a rectangle, whose length and breadth are 10cm and 8cm respectively? एक आयत का क्षेत्रफल क्या होगा, जिसकी लम्बाई एवं चौड़ाई क्रमशः 10 से.मी. एवं 8 से.मी. हैं? A1 : 75 cm^2 75 cm^2 A2 : 80 cm^2 80 cm^2 A3 : 85 cm^2 85 cm^2 A4 : 90 cm^2 90 cm^2	2.0	0.00
Workshop Calculation Science				
42	42	What is the perimeter of scalene. Triangle having sides of 40mm, 20mm and 28mm? उस विषमभुज त्रिकोण का परिमाप क्या होगा, जिसकी भुजाओं की माप 40 मिमी, 20 मिमी व 28 मिमी है? A1 : 68 mm 68 mm A2 : 78 mm 78 mm A3 : 88 mm 88 mm A4 : 98 mm 98 mm	2.0	0.00
Workshop Calculation Science				
43	43	What is the volume of a rectangular tank of 30 m length, 20m width and 10m height? एक आयताकार टैंक, जिसकी लम्बाई 30 मी, चौड़ाई 20 मी एवं ऊँचाई 10 मी है, का आयतन क्या है? A1 : 5900 m^3 5900 m^3	2.0	0.00

		<p>A2 : 6000 m³ 6000 m³</p> <p>A3 : 6100 m³ 6100 m³</p> <p>A4 : 6200 m³ 6200 m³</p>		
Workshop Calculation Science				
44	44	<p>Which is example for first order lever? फर्स्ट ऑर्डर लीवर के लिए कौन-सा उदाहरण है?</p> <p>A1 : A wheel barrow एक व्हील बैरो</p> <p>A2 : A pair of scissors सीजर्स का एक पेयर</p> <p>A3 : Fire tongs फायर टॉन्स</p> <p>A4 : Lime squeezer लाइम स्क्वीज़र</p>	2.0	0.00
Engineering Drawing				
45	45	<p>Identify the name of tool? उपकरण का नाम पहचानें?</p> <div data-bbox="264 996 850 1238">  </div> <p>A1 : Try square बढ़ई की गुनिया</p> <p>A2 : Surface gauge सतह नापने का यंत्र</p> <p>A3 : Steel rule स्टील रूल</p> <p>A4 : Feeler gauge फ़ीलर गौज़</p>	2.0	0.00
Engineering Drawing				
46	46	<p>Identify the name of tool? उपकरण का नाम पहचानें?</p> <div data-bbox="264 1789 858 1995">  </div> <p>A1 : Ball peen hammer बॉल पीन हैमर</p>	2.0	0.00

		<p>A2 : Cross pein hammer क्रॉस पीन हैमर</p> <p>A3 : Straight pein hammer सीधे पीन हथौड़ा</p> <p>A4 : Sledge hammer स्लेज हैमर</p>		
Engineering Drawing				
47	47	<p>Identify the name of tool? उपकरण का नाम पहचानें?</p> <div data-bbox="260 481 863 667">  <p>EDNG1812Q10</p> </div> <p>A1 : Hawk-billed shear हॉक-बिल शीयर</p> <p>A2 : Aviation shear उड्डयन कतरनी</p> <p>A3 : Cutting plier काटने वाला सरौता</p> <p>A4 : Double cutting shear डबल काटने कतरनी</p>	2.0	0.00
Engineering Drawing				
48	48	<p>Identify the name of tool? उपकरण का नाम पहचानें?</p> <div data-bbox="260 1223 863 1469">  <p>EDNG1812Q11</p> </div> <p>A1 : Ball pein hammer बॉल पीन हैमर</p> <p>A2 : Mallet लकड़ी का हथौड़ा</p> <p>A3 : Cross pein hammer क्रॉस पीन हैमर</p> <p>A4 : Staright pein hammer स्ट्रेट पीन हैमर</p>	2.0	0.00
Engineering Drawing				
49	49	<p>Identify the name of tool? उपकरण का नाम पहचानें?</p>	2.0	0.00



A1
: Open end spanner

ओपन एंड स्पैनर

A2
: Ring spanner

गोल पाना

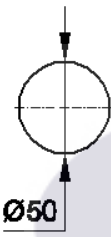
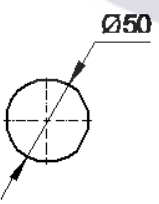
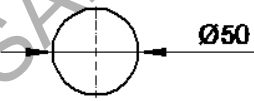
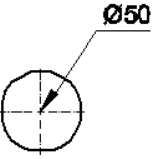
A3
: Combination spanner

संयोजन स्पैनर

A4
: Adjustable spanner

समायोज्य औजार

Engineering Drawing

50	50	<p>Which dimension correctly marked in the circle as per standard? मानक के अनुसार सर्कल में कौन सा आयाम सही ढंग से चिह्नित है?</p> <p>A1 :</p>  <p>A2 :</p>  <p>A3 :</p>  <p>A4 :</p> 	2.0	0.00
----	----	---	-----	------

Employability Skills

51	51	<p>Which one of the following is a good office etiquette? निम्नलिखित में से कौन सा एक अच्छा कार्यालय शिष्टाचार है?</p>	2.0	0.00
----	----	--	-----	------

		<p>A1 : One should dress formally एक को औपचारिक रूप से पोशाक पहननी चाहिए</p> <p>A2 : One should not be punctual to work काम के लिए समय का पाबंद नहीं होना चाहिए</p> <p>A3 : One should have fancy mobile ring tone एक के पास फैसी मोबाइल रिंग टोन होना चाहिए</p> <p>A4 : One should litter one's work place व्यक्ति को अपने काम के स्थान पर कूड़ा डालना चाहिए</p>		
Employability Skills				
52	52	<p>Word that is pronounced the same as another word but differs in meaning is called _____ वह शब्द जो किसी दूसरे शब्द के समान होता है, लेकिन अर्थ में भिन्न होता है, जिसे _____ कहा जाता है</p> <p>A1 : homophone होमोफोन</p> <p>A2 : homograph होमोग्रफ़</p> <p>A3 : diphthong संयुक्त स्वर</p> <p>A4 : syllable शब्दांश</p>	2.0	0.00
Employability Skills				
53	53	<p>_____ can help me learn English. मुझे अंग्रेजी सीखने में मदद कर सकता है।</p> <p>A1 : dedication निष्ठा</p> <p>A2 : fear डर</p> <p>A3 : anger क्रोध</p> <p>A4 : shyness शर्म</p>	2.0	0.00
Employability Skills				
54	54	<p>Which punctuation mark should be used in the following sentence? Is there any site engineer here निम्नलिखित वाक्य में किस विराम चिह्न का प्रयोग किया जाना चाहिए? Is there any site engineer here</p> <p>A1 : ? (question mark) ? (question mark)</p> <p>A2 : , (comma) , (comma)</p> <p>A3 : . (full stop) . (full stop)</p> <p>A4 : ! (exclamation) ! (exclamation)</p>	2.0	0.00
Employability Skills				
55	55	<p>When is capital letter used? बड़े अक्षर का प्रयोग कब किया जाता है?</p> <p>A1 : Beginning of a sentence</p>	2.0	0.00

		<p>एक वाक्य की शुरुआत</p> <p>A2 : Names of persons</p> <p>व्यक्तियों के नाम</p> <p>A3 : Names of places</p> <p>स्थानों के नाम</p> <p>A4 : All the above</p> <p>सब से ऊपर</p>		
Employability Skills				
56	56	<p>Which one of the following is a describing word? निम्नलिखित में से कौन-सा एक वर्णनात्मक शब्द है?</p> <p>A1 : eat</p> <p>खाना खा लो</p> <p>A2 : repair</p> <p>मरम्मत</p> <p>A3 : hot</p> <p>गरम</p> <p>A4 : soup</p> <p>शोरबा</p>	2.0	0.00
Employability Skills				
57	57	<p>When someone says 'Thank you' we should reply and say _____. जब कोई 'Thank you' (धन्यवाद) कहता है तो हमें जवाब देना चाहिए और _____ कहना चाहिए।</p> <p>A1 : Thank you.</p> <p>शुक्रिया</p> <p>A2 : You're welcome.</p> <p>आपका स्वागत है</p> <p>A3 : Bye-bye</p> <p>बाई-बाई</p> <p>A4 : How are you?</p> <p>आप कैसे हैं?</p>	2.0	0.00
Employability Skills				
58	58	<p>Choose the odd word. odd (विषम) शब्द चुनें।</p> <p>A1 : please</p> <p>please</p> <p>A2 : sorry</p> <p>sorry</p> <p>A3 : paper</p> <p>paper</p> <p>A4 : thanks</p> <p>thanks</p>	2.0	0.00
Employability Skills				
59	59	<p>I am a welder. I work with _____. मैं एक वेल्डर हूँ। मैं _____ साथ कार्य करता हूँ।</p> <p>A1 : nail polish</p> <p>नेल पॉलिश</p>	2.0	0.00

		A2 robots : रोबोटों A3 welding tools : वेल्डिंग उपकरण A4 laptops : लैपटॉप		
Employability Skills				
60	60	Today's weather is going to be _____. आज का मौसम _____ होने जा रहा है। A1 Hopeful : आशापूर्ण A2 Warm : गरम A3 Blue : नीला A4 Urgent : बहुत ज़रूरी	2.0	0.00
Employability Skills				
61	61	The word 'when' denotes _____. शब्द 'when (जब)' _____ को दर्शाता है A1 place : स्थान A2 thing : चीज़ A3 person : व्यक्ति A4 time : समय	2.0	0.00
Employability Skills				
62	62	Rahul enjoys _____ with his pet dog. राहुल को अपने पालतू कुत्ते के साथ _____ में मजा आता है। A1 playing : खेलने A2 writing : लिखने A3 doing : करने A4 washing : धुलाने	2.0	0.00
Employability Skills				
63	63	Having a clear idea of our personality including strengths, weaknesses, thoughts, beliefs, motivation, values etc is called _____. हमारे व्यक्तित्व का स्पष्ट विचार रखने को ताकत, कमजोरियों, विचारों, विश्वासों, प्रेरणा, मूल्यों आदि सहित को _____ कहा जाता है। A1 Belief : विश्वास	2.0	0.00

		A2 Self Awareness : आत्म जागरूकता A3 Myth : मिथ A4 Threat : धमकी		
Employability Skills				
64	64	_____ are the abilities and qualities you have as a person that helps you grow well in life and career. _____ एक व्यक्ति के रूप में आपके पास मौजूद क्षमताएं और गुण हैं जो आपको जीवन और करियर में अच्छी तरह से बढ़ने में मदद करते हैं। A1 Personal Strengths : व्यक्तिगत ताकत A2 Personal weaknesses : व्यक्तिगत कमजोरियां A3 Opportunities : मौके A4 Threats : धमकी	2.0	0.00
Employability Skills				
65	65	_____ are the qualities that are considered negative, and need to be worked on. _____ ऐसे गुण हैं जिन्हें नकारात्मक माना जाता है और जिन पर काम करने की आवश्यकता है। A1 Personal Strengths : व्यक्तिगत ताकत A2 Personal weaknesses : व्यक्तिगत कमजोरियां A3 Opportunities : मौके A4 Threats : धमकी	2.0	0.00
Employability Skills				
66	66	Which of the following is an example of personal weakness? व्यक्तिगत कमजोरी का उदाहरण निम्नलिखित में से कौन सी है? A1 Confidence : आत्मविश्वास A2 Being lazy : आलसी होना A3 Hard working : मेहनती A4 Active : सक्रिय	2.0	0.00
Employability Skills				
67	67	Goals are of 2 types _____ लक्ष्य 2 प्रकार के होते हैं: A1 Good and bad goals : अच्छे और बुरे लक्ष्य	2.0	0.00

		<p>A2 : Long-term and short-term goals दीर्घकालिक और अल्पकालिक लक्ष्य</p> <p>A3 : Rich and poor goals अमीर और गरीब लक्ष्य</p> <p>A4 : Fixed-term and non-fixed term goals निश्चित अवधि और गैर-निश्चित अवधि के लक्ष्य</p>		
Employability Skills				
68	68	<p>What is stress? तनाव क्या है?</p> <p>A1 : Feeling of joy आनंद की अनुभूति</p> <p>A2 : Feeling of surprise आश्चर्य की अनुभूति</p> <p>A3 : Feeling of delight आनंद की अनुभूति</p> <p>A4 : Feeling of frustration / disappointment निराशा / निराशा की भावना</p>	2.0	0.00
Employability Skills				
69	69	<p>Which of these is a sign of good stress? अच्छे तनाव का संकेत इनमें से कौन सा है?</p> <p>A1 : It prevents you from pursuing your goals. यह आपको अपने लक्ष्यों का पीछा करने से रोकता है।</p> <p>A2 : It makes you doubt yourself. यह आपको खुद पर शक करता है।</p> <p>A3 : Does not lead to long-term tension, loss of sleep. लंबे समय तक तनाव, नींद की कमी नहीं होती है।</p> <p>A4 : Makes you physically ill or causes pain. आपको शारीरिक रूप से बीमार बनाता है या दर्द का कारण बनता है।</p>	2.0	0.00
Employability Skills				
70	70	<p>An activity that stops or reduces stress is called a stress buster. Which of the following according to you is not a stress buster? एक गतिविधि जो तनाव को रोकती है या कम करती है उसे स्ट्रेस बस्टर कहा जाता है। आपके अनुसार निम्नलिखित में से कौन एक स्ट्रेस बस्टर नहीं है?</p> <p>A1 : Spending long hours thinking about the problem. लंबे समय तक समस्या के बारे में सोचते रहना।</p> <p>A2 : Going to bed on time. समय पर बिस्तर जाना</p> <p>A3 : Listening to music. संगीत सुनना</p> <p>A4 : Gardening बागवानी</p>	2.0	0.00
Employability Skills				
71	71	<p>What is mindfulness? माइंडफुलनेस क्या है?</p> <p>A1 : It is the technique of not minding anything. यह किसी भी चीज पर ध्यान न देने की तकनीक है।</p>	2.0	0.00

		<p>A2 : It is about sharpening your brain.</p> <p>यह आपके दिमाग को तेज करने के बारे में है।</p> <p>A3 : It is the ability to be fully present in a moment.</p> <p>यह एक पल में पूरी तरह से उपस्थित होने की क्षमता है।</p> <p>A4 : It is the word used to describe people who are full of thoughts.</p> <p>यह उन लोगों का वर्णन करने के लिए इस्तेमाल किया जाने वाला शब्द है जो विचारों से भरे हुए हैं।</p>		
Employability Skills				
72	72	<p>Which of the following is true about stress? तनाव के बारे में सही निम्नलिखित में से कौन सी है?</p> <p>A1 : Stress can be managed</p> <p>तनाव को प्रबंधित किया जा सकता है</p> <p>A2 : Stress cannot be controlled</p> <p>तनाव को नियंत्रित नहीं किया जा सकता</p> <p>A3 : Stress can not be decreased</p> <p>तनाव कम नहीं हो सकता</p> <p>A4 : All of the above</p> <p>ऊपर के सभी</p>	2.0	0.00
Employability Skills				
73	73	<p>Which of the following statements is true? निम्नलिखित में से कौन से वक्तव्य विवरण सत्य हैं?</p> <p>A1 : Only experts can solve any problem</p> <p>किसी भी समस्या का समाधान केवल विशेषज्ञ ही कर सकते हैं</p> <p>A2 : The more problems you solve, the better you will get at problem solving!</p> <p>आप जितनी अधिक समस्याओं का समाधान करेंगे, समस्या को सुलझाने में आप उतने ही बेहतर होंगे!</p> <p>A3 : We need to pursue a course to even solve a simple problem</p> <p>हमें एक साधारण समस्या को हल करने के लिए भी एक कोर्स करने की आवश्यकता है</p> <p>A4 : It is not important to solve any problem</p> <p>किसी भी समस्या का समाधान जरूरी नहीं है</p>	2.0	0.00
Employability Skills				
74	74	<p>Which of these should be considered while making decisions? निर्णय लेते समय इनमें से किस पर विचार किया जाना चाहिए?</p> <p>A1 : Your mood</p> <p>तुम्हारा मिज़ाज</p> <p>A2 : The choices of your friends</p> <p>आपके दोस्तों की पसंद</p> <p>A3 : The rules of your community</p> <p>आपके समुदाय के नियम</p> <p>A4 : Your personal priorities.</p> <p>आपकी व्यक्तिगत प्राथमिकताएं।</p>	2.0	0.00
Employability Skills				
75	75	<p>Which of these is the full form of SWOT? इनमें से कौन SWOT का पूर्ण रूप है?</p> <p>A1 : Special Wellness Organization Theme</p> <p>Special Wellness Organization Theme</p> <p>A2 : Speak Work Openly Together</p>	2.0	0.00

Speak Work Openly Together

A3
: Strong World Olympic Team

Strong World Olympic Team

A4
: Strength Weakness Opportunity Threat

Strength Weakness Opportunity Threat

SAMPLE QUESTION PAPER SET 3



Turner - 1st Year - Set 3

S.No.	Correct Answer Key
1	A3
2	A2
3	A2
4	A4
5	A3
6	A3
7	A4
8	A2
9	A1
10	A4
11	A1
12	A2
13	A1
14	A4
15	A1
16	A3
17	A1
18	A4
19	A3
20	A4
21	A4
22	A4
23	A4
24	A2
25	A3
26	A4
27	A1
28	A1
29	A3
30	A4
31	A1
32	A1
33	A4
34	A1
35	A3
36	A3
37	A2
38	A2

S.No.	Correct Answer Key
39	A2
40	A3
41	A2
42	A3
43	A2
44	A2
45	A1
46	A1
47	A3
48	A2
49	A1
50	A2
51	A1
52	A1
53	A1
54	A1
55	A4
56	A3
57	A2
58	A3
59	A3
60	A2
61	A4
62	A1
63	A2
64	A1
65	A2
66	A2
67	A2
68	A4
69	A3
70	A1
71	A3
72	A1
73	A2
74	A4
75	A4

Note:

"In case answers found to be inaccurate due to typographical error or any other reason please sent mail to qbnimigrievance@gmail.com"