

All India Trade Test - 2024 for Craftsmen Training Scheme (CTS)

Trade Name: Turner Year 1

Year: 1st Year

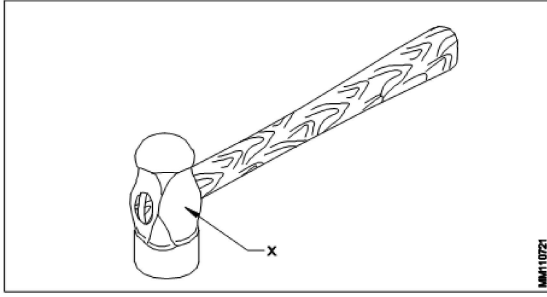
Exam Date :

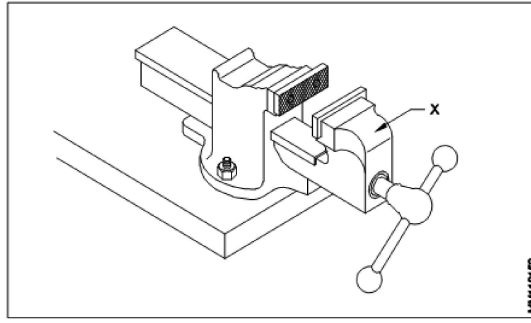
Exam Time :

Note:

1. Tick the correct option out of four alternatives provided
2. All questions carry equal marks (2 Marks each)
3. There is no negative marking

Sr. No.	Client Question ID	Question Body and Alternatives	Marks	Negative Marks
Trade Theory				
1	1	<p>What is the expanded form of ABC in first aid? प्राथमिक चिलिस्सा में ABC का विस्तृत रूप क्या है?</p> <p>A1 : Airway, Blood and Circulation Airway, Blood and Circulation</p> <p>A2 : Aspiration, Blood and Circulation Aspiration, Blood and Circulation</p> <p>A3 : Airway, Breathing and Circulation Airway, Breathing and Circulation</p> <p>A4 : Aspiration, Breathing and Circulation Aspiration, Breathing and Circulation</p>	2.0	0.00
Trade Theory				
2	2	<p>What is the standard colour code used for identifying the bin for the metal waste material? धातु अपशिष्ट सामग्री के लिए बिन की पहचान के लिए मानक रंग कोड कौन सा है?</p> <p>A1 : Red लाल</p> <p>A2 : Blue नीला</p> <p>A3 : Green हरा</p> <p>A4 : Violet बैंगनी</p>	2.0	0.00
Trade Theory				
3	3	<p>Which safety practice refers, Do not wear the ring? कौन सा सुरक्षा अभ्यास संदर्भित करता है, अंगूठी न पहनें?</p> <p>A1 : Road safety सड़क सुरक्षा</p> <p>A2 : General safety सामान्य सुरक्षा</p> <p>A3 : Machine safety मशीन की सुरक्षा</p> <p>A4 : Personal safety व्यक्तिगत सुरक्षा</p>	2.0	0.00
Trade Theory				

4	4	<p>What is the name of part marked as 'X'?</p> <p>'X' द्वारा चिह्नित किए भाग का नाम क्या है?</p>  <p>A1 Face : फलक</p> <p>A2 Pein : पीन</p> <p>A3 Cheek : गाल</p> <p>A4 Eyehole : आई होल</p>	2.0	0.00
Trade Theory				
5	5	<p>Which portion of a hammer head is not hardened or left soft?</p> <p>हथोड़े के कौन से भाग को कठोरिकृत नहीं किया जाता अथवा नर्म छोड़ दिया जाता है?</p> <p>A1 Face : फलक</p> <p>A2 Pein : पीन</p> <p>A3 Cheek : गाल</p> <p>A4 Cross pein : क्रॉस पीन</p>	2.0	0.00
Trade Theory				
6	6	<p>Which type of chisel is used to cut key ways?</p> <p>चाबी घाट काटने के लिए कौन सी चिसल प्रयोग की जाती है?</p> <p>A1 Flat chisel : सपाट छेनी</p> <p>A2 Cross cut chisel : क्रॉस कट छेनी</p> <p>A3 Diamond point chisel : डायमंड पॉइंट छेनी</p> <p>A4 Half round nose chisel : हाफ राउंड नोज छेनी</p>	2.0	0.00
Trade Theory				
7	7	<p>What is the name of the part marked as 'X'?</p> <p>'X' द्वारा चिह्नित भाग का नाम क्या है?</p>	2.0	0.00



- A1 Hard jaw
: कठोर जबड़ा
- A2 Soft jaw
: नरम जबड़ा
- A3 Fixed jaw
: स्थिर जबड़ा
- A4 Movable jaw
: चल जबड़ा

Trade Theory

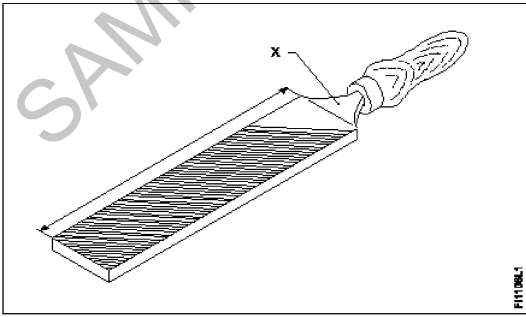
8	8	<p>What is the body material of bench vice? बेंच वाईस की बाँडी किस सामग्री की बनी होती है?</p> <p>A1 Cast iron : ढलवा लोहा</p> <p>A2 Mild steel : मृदु इस्पात</p> <p>A3 Wrought iron : रॉट आयरन</p> <p>A4 Hardened steel : कठोरिकृत इस्पात</p>	2.0	0.00
---	---	--	-----	------

Trade Theory

9	9	<p>Which is the internal part of a bench vice? बेंच वाईस का आंतरिक भाग कौन सा होता है?</p> <p>A1 Handle : संभालना</p> <p>A2 Box nut : बॉक्स नट</p> <p>A3 Fixed jaw : स्थिर जबड़ा</p> <p>A4 Movable jaw : चल जबड़ा</p>	2.0	0.00
---	---	---	-----	------

Trade Theory

10	10	<p>Which type of vice has a trigger for opening the movable jaw? किस वाईस में चाल जबड़े को खोलने के लिए ट्रिगर दिया जाता है?</p> <p>A1 Pin vice : पिन वाईस</p>	2.0	0.00
----	----	--	-----	------

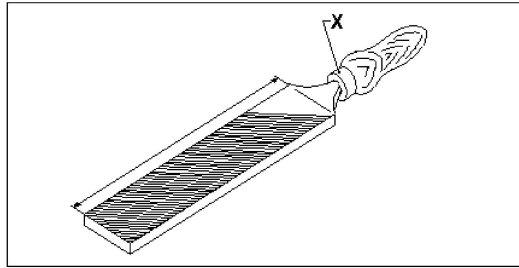
		<p>A2 Pipe vice : पाइप वाइस</p> <p>A3 Bench vice : बेंच वाइस</p> <p>A4 Quick releasing vice : क्विक रिलीजिंग वाइस</p>		
Trade Theory				
11	11	<p>What is the cut of file used for deburring the job on lathe? लेथ में जॉब पर से बर हटाने के लिए किस कट की फाइल का प्रयोग किया जाता है?</p> <p>A1 Rasp cut file : रास्प कट फाइल</p> <p>A2 Double cut file : डबल कट फाइल</p> <p>A3 Curved cut file : घुमावदार कट फाइल</p> <p>A4 Single cut file : सिंगल कट फाइल</p>	2.0	0.00
Trade Theory				
12	12	<p>Convert one metre into millimetre. एक मीटर को मिलीमीटर में बदलें।</p> <p>A1 10 mm : 10 mm</p> <p>A2 100 mm : 100 mm</p> <p>A3 1000 mm : 1000 mm</p> <p>A4 10000 mm : 10000 mm</p>	2.0	0.00
Trade Theory				
13	13	<p>Name the part of file marked as "X". फाइल के 'X' के रूप में चिह्नित भाग को नाम दें।</p> <div style="text-align: center;">  </div> <p>A1 Heel : हील</p> <p>A2 Tang : टैंग</p> <p>A3 Ferrule : फेरुल</p>	2.0	0.00

फेरुले
A4 File length
:
फ़ाइल की लंबाई

Trade Theory

14 14

Name the part marked as 'X' of the file.
फ़ाइल के 'X' के रूप में चिह्नित भाग को नाम दें।



A1 Heel
:
हील
A2 Edge
:
एज
A3 Ferrule
:
फेरुले
A4 Shoulder
:
शोल्डर

2.0

0.00

Trade Theory

15 15

Which file is used to make the job close to the finishing size?
जॉब को फिनिशड साइज़ के करीब लाने के लिए किस फ़ाइल का उपयोग किया जाता है?

A1 Single cut file
:
सिंगल कट फाइल
A2 Curved cut file
:
कर्वेड कट फाइल
A3 Second cut file
:
सेकंड कट फाइल
A4 Double cut file
:
डबल कट फाइल

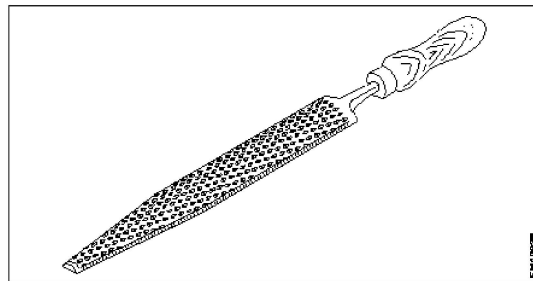
2.0

0.00

Trade Theory

16 16

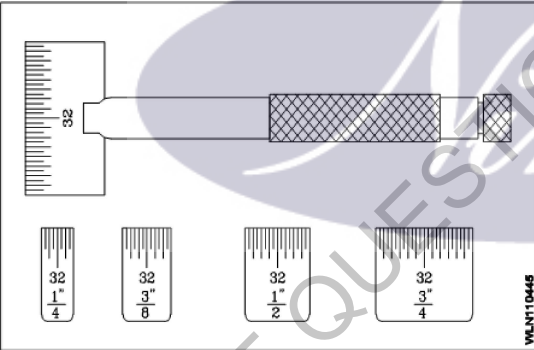
What is the name of file?
इस फ़ाइल का नाम क्या है?

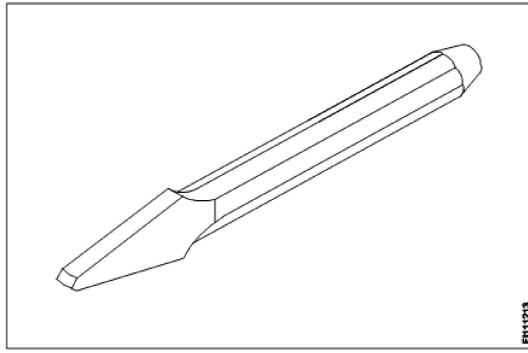


A1 Hand file
:
हैण्ड फाइल

2.0

0.00

		<p>A2 Rasp cut file : रास्प कट फाइल</p> <p>A3 Single cut file : सिंगल कट फाइल</p> <p>A4 Curved cut file : कर्वेड कट फाइल</p>		
Trade Theory				
17	17	<p>Which is used for filling narrow grooves and angles above 10°? 10° से ऊपर के संकीर्ण खांचे और कोण को भरने के लिए किसका उपयोग किया जाता है?</p> <p>A1 Square file : स्क्वायर फाइल</p> <p>A2 Half round file : आधी गोल फाइल (हाफ राउंड फाइल)</p> <p>A3 Triangular file : त्रिकोणीय फाइल</p> <p>A4 Knife edge file : नाइफ एज फाइल</p>	2.0	0.00
Trade Theory				
18	18	<p>What is the type of the steel rule? स्टील रूल का प्रकार क्या है?</p>  <p>A1 Folding rule : फोल्डिंग रूल</p> <p>A2 Short steel rule : लघु इस्पात रूल</p> <p>A3 Narrow steel rule : संकीर्ण इस्पात रूल</p> <p>A4 Steel rule with tapered end : टेपरिकृत अंत के साथ स्टील रूल</p>	2.0	0.00
Trade Theory				
19	19	<p>What is the name of the chisel? छेनी का नाम क्या है?</p>	2.0	0.00



A1 Web

:

वेब

A2 Flat

:

फ्लैट

A3 Cross cut

:

क्रॉस कट

A4 Diamond point

:

डॉयमेंड पॉइंट

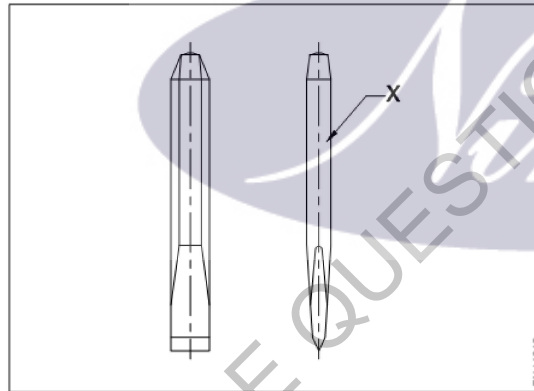
Trade Theory

20

20

What is the name of the part marked X?

X चिह्नित भाग का नाम क्या है?



A1 Body

:

बॉडी

A2 Face

:

फेस

A3 Head

:

हेड

A4 Point

:

पॉइंट

Trade Theory

2.0

0.00

21

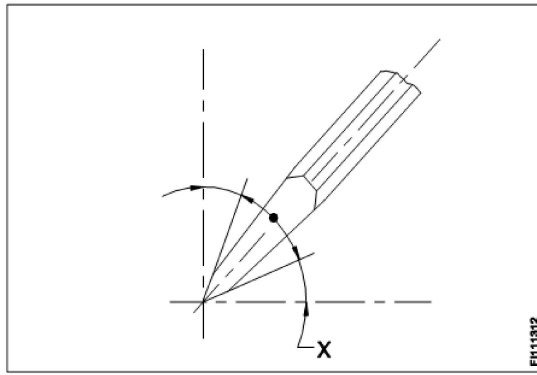
21

What is the name of the angle marked X?

X चिह्नित कोण का नाम क्या है?

2.0

0.00



- A1 Rake angle
: रेक कोण
- A2 Point angle
: पॉइंट कोण
- A3 Clearance angle
: क्लीयरेंस कोण
- A4 Angle of inclination
: झुकाव का कोण

Trade Theory

22 22

What is the use of a Half round nose chisel?
हाफ राउंड नोज छेनी का उपयोग क्या है?

2.0

0.00

- A1 For cutting key ways
: प्रमुख तरीकों से काटने के लिए
- A2 For cutting curved grooves
: घुमावदार खांचे काटने के लिए
- A3 For squaring material at the corners
: कोनों पर मेटिरियल को चौकोर करने के लिए
- A4 For removing metal from flat surfaces
: समतल सतहों से धातु निकालने के लिए

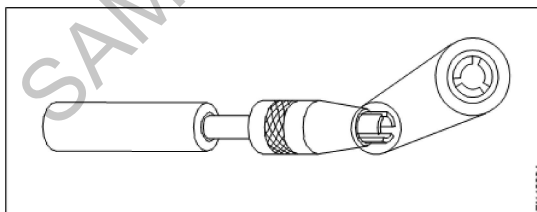
Trade Theory

23 23

What is the name of the vice?
वाइस का नाम क्या है?

2.0

0.00

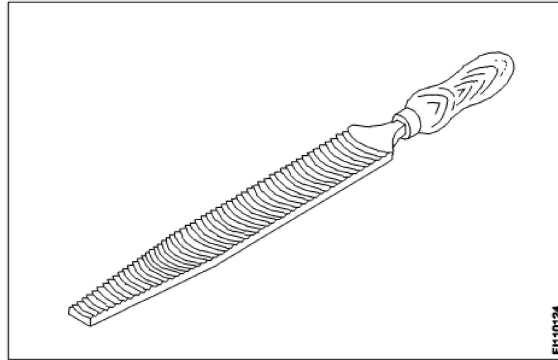


- A1 Pin vice
: पिन वाइस
- A2 Hand vice
: हाथ वाइस
- A3 Pipe vice
: पाइप वाइस
- A4 Quick release vice
: Quick release vice

24 24

What is the cut of file?

फ़ाइल का कट क्या है?



A1 Rasp cut

:

रस्प काट

A2 Curved cut

:

कर्व्ड काट

A3 Double cut

:

डबल कट

A4 Single cut

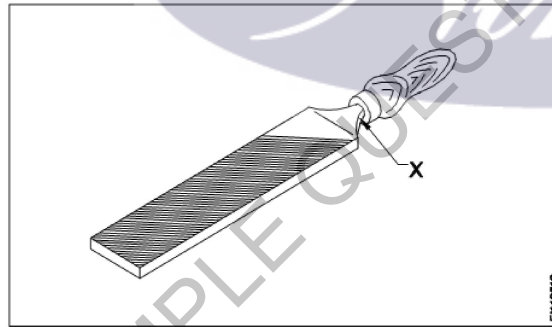
:

सिंगल कट

25 25

What is the name of the part of the file marked X?

X चिह्नित फ़ाइल के भाग का नाम क्या है?



A1 Tip

:

टिप

A2 Heel

:

हील

A3 Tang

:

टैंग

A4 Shoulder

:

शोल्डर

26 26

What is the point angle of cold chisel to cut aluminium?

एल्युमीनियम काटने के लिए कोल्ड चीजल का बिंदु कोण क्या होगा?

A1 30°

:

30°

2.0

0.00

2.0

0.00

2.0

0.00

		<p>A2 : 45° 45°</p> <p>A3 : 55° 55°</p> <p>A4 : 60° 60°</p>		
Trade Theory				
27	27	<p>Which file is used for filing surfaces at right angle on already finished surface? पहले से तैयार सतह की समकोण पर सतह बनाने के लिए प्रयोग की जाने वाली फाइल है?</p> <p>A1 Flat file : सपाट फ़ाइल</p> <p>A2 Needle file : सुई फ़ाइल</p> <p>A3 Safe edge file : सुरक्षित किनारा फ़ाइल</p> <p>A4 Curved cut file : घुमावदार कट फ़ाइल</p>	2.0	0.00
Trade Theory				
28	28	<p>Which grade of file is used to bring the material to accurate size with a high degree of finish? उच्च श्रेणी की सामग्री को सटीक आकार में लाने के लिए किस ग्रेड की फाइल का उपयोग किया जाता है?</p> <p>A1 Rough file : रफ़ फ़ाइल</p> <p>A2 Bastard file : बास्टर्ड फ़ाइल</p> <p>A3 Second cut file : सेकंड कट फ़ाइल</p> <p>A4 Dead smooth file : डेड स्मूथ फ़ाइल</p>	2.0	0.00
Trade Theory				
29	29	<p>What is the included angle of center punch? केंद्र पंच का समाविष्ट कोण कितना होता है?</p> <p>A1 : 30° 30°</p> <p>A2 : 45° 45°</p> <p>A3 : 60° 60°</p> <p>A4 : 90° 90°</p>	2.0	0.00
Trade Theory				
30	30	<p>What is the accuracy of measurement by a try square? गुनिया द्वारा मापन की शुद्धता क्या होगी?</p> <p>A1 : 0.002 mm / 10mm length</p>	2.0	0.00

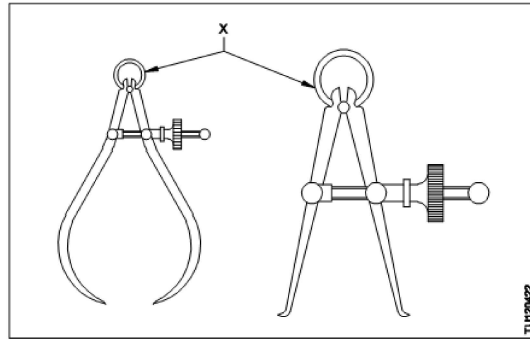
0.002 mm / 10mm length
 A2 : 0.02 mm / 100mm length
 0.02 mm / 100mm length
 A3 : 0.2 mm / 1000 mm length
 0.2 mm / 1000 mm length
 A4 : 2 mm / 1 mm length
 2 mm / 1 mm length

Trade Theory

31 31

What is the name of part marked as 'X'?
 'X' द्वारा चिह्नित किए भाग का नाम क्या है?

2.0 0.00



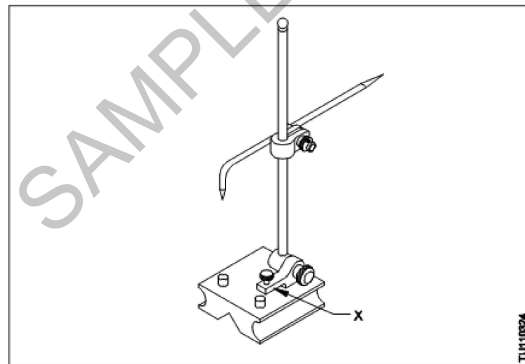
A1 Rivet
 : रिवेट
 A2 Screw
 : स्कू
 A3 Loop spring
 : लूप स्प्रिंग
 A4 Adjusting nut
 : समायोजन नट

Trade Theory

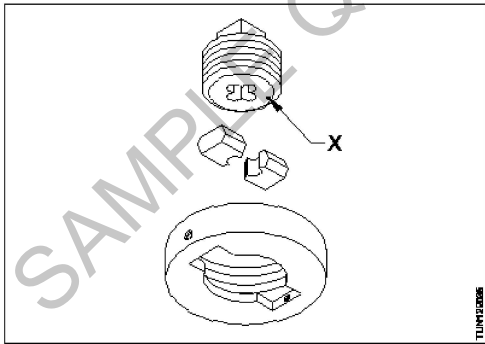
32 32

What is the name of part marked as 'X'?
 'X' द्वारा चिह्नित किए भाग का नाम क्या है?

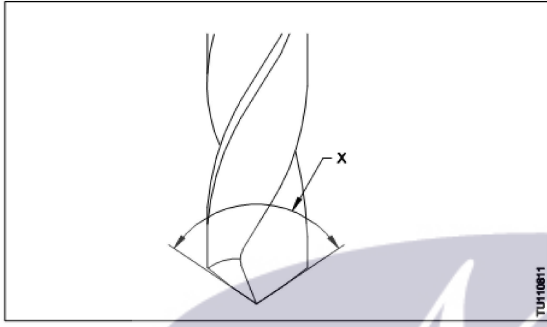
2.0 0.00

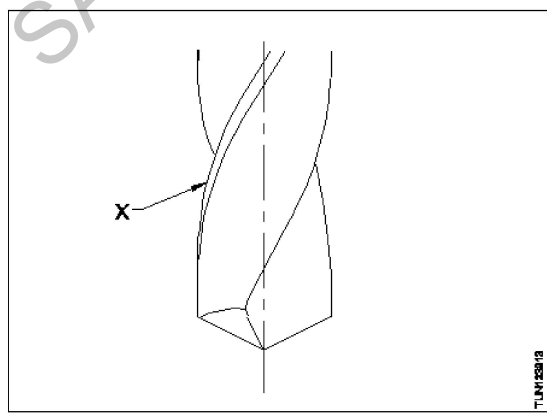


A1 Base
 : आधार
 A2 Snug
 : स्नग
 A3 Spindle
 : स्पिंडल

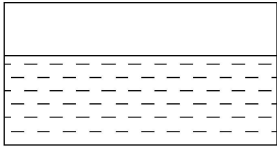
		A4 : Rocker arm रॉकर आर्म		
Trade Theory				
33	33	Which material is used to make files? फाइल्स बनाने के लिए किस सामग्री का उपयोग किया जाता है? A1 Cast iron : ढलवा लोहा A2 Mild steel : मृदु इस्पात A3 Low alloy steel : निम्न मिश्र धातु इस्पात A4 High carbon steel : उच्च कार्बन इस्पात	2.0	0.00
Trade Theory				
34	34	What is the specification for shape of file? किसी फाइल का आकार का विनिर्देश किसके द्वारा करते हैं? A1 Cut : कट A2 Grades : ग्रेड A3 Length : लंबाई A4 Cross section : अनुप्रस्थ काट	2.0	0.00
Trade Theory				
35	35	What is the name of the part 'X'? भाग 'X' का नाम क्या है? 	2.0	0.00
		A1 Side screw : साइड पेंच A2 Guide plate : गाइड प्लेट A3 Centre screw : केंद्र का पेंच A4 Adjusting screw : समायोजन पेंच		

36	36	<p>Which type of tap wrench is used to minimize the damage of taps? टूट फूट से बचने के लिए किस प्रकार का टेप प्रयोग किया जाता है?</p> <p>A1 Bar type tap wrench : बार टाइप टैप रिच</p> <p>A2 Solid type tap wrench : ठोस प्रकार का टेप रिच</p> <p>A3 Double ended tap wrench : डबल एंडेड टैप रिच</p> <p>A4 T handle type tap wrench : T हैंडल टाइप टैप रिच</p>	2.0	0.00
----	----	--	-----	------

37	37	<p>What is the name of angle marked 'X'? 'X' द्वारा चिह्नित कोण का नाम क्या है?</p>  <p>A1 Web angle : वेब कोण</p> <p>A2 Rake angle : रेक कोण</p> <p>A3 Helix angle : हेलिक्स कोण</p> <p>A4 Point angle : बिंदु कोण</p>	2.0	0.00
----	----	--	-----	------

38	38	<p>What is the part marked 'X'? 'X' द्वारा कौन सा भाग चिह्नित किया गया है?</p>  <p>A1 Lip :</p>	2.0	0.00
----	----	--	-----	------

		लिप A2 Land : लैंड A3 Flank : फ्लैंक A4 Drill axis : ड्रिल की धुरी		
Workshop Calculation Science				
39	39	What are the two classifications of system of units? इकाइयों की प्रणाली के दो प्रकार कौनसे हैं? A1 British and Metric : ब्रिटिश और मीट्रिक A2 Gravitational and non-gravitational : गुरुत्वाकर्षण और गैर-गुरुत्वाकर्षण A3 Fundamental and derived : मौलिक और व्युत्पन्न A4 Metric and International : मेट्रिक और इंटरनेशनल	2.0	0.00
Workshop Calculation Science				
40	40	What are fundamental units? इनमें से मूलभूत इकाइयाँ कौन-कौनसी हैं? A1 Length, Mass, Volume : लंबाई, द्रव्यमान, आयतन A2 Length, Mass, Time : लंबाई, द्रव्यमान, समय A3 Length, Mass, Area : लंबाई, द्रव्यमान, क्षेत्रफल A4 Length, Pressure, Volume : लंबाई, दाब, आयतन	2.0	0.00
Workshop Calculation Science				
41	41	What denotes letter 'M' in MKS system? MKS प्रणाली में 'M' अक्षर क्या दर्शाता है? A1 Mile : Mile A2 Meter : Meter A3 Millimeter : Millimeter A4 Micron : Micron	2.0	0.00
Workshop Calculation Science				
42	42	How many millimetres are there in 1 inch? 1 इंच में कितने मिलीमीटर होते हैं? A1 2.54 mm :	2.0	0.00

		<p>2.54 mm</p> <p>A2 25.4 mm :</p> <p>25.4 mm</p> <p>A3 24.5 mm :</p> <p>24.5 mm</p> <p>A4 2.45 mm :</p> <p>2.45 mm</p>		
Workshop Calculation Science				
43	43	<p>What is the square root of 529? 529 का वर्गमूल क्या है?</p> <p>A1 13 :</p> <p>13</p> <p>A2 23 :</p> <p>23</p> <p>A3 33 :</p> <p>33</p> <p>A4 43 :</p> <p>43</p>	2.0	0.00
Workshop Calculation Science				
44	44	<p>Convert 0.456 decimal fraction into percentage. 0.456 दशमलव भिन्न को प्रतिशत में बदलिये?</p> <p>A1 45.6% :</p> <p>45.6%</p> <p>A2 4.56% :</p> <p>4.56%</p> <p>A3 0.456% :</p> <p>0.456%</p> <p>A4 0.0456% :</p> <p>0.0456%</p>	2.0	0.00
Engineering Drawing				
45	45	<p>Identify the conventional symbol of material? चित्र में दिखाए गए सामग्री के पारंपरिक प्रतीक का पता लगाएं?</p> <div style="border: 1px solid black; padding: 10px; margin: 10px 0;">  </div> <p>A1 Water :</p> <p>पानी</p> <p>A2 Concrete :</p> <p>ठोस</p> <p>A3 Asbestos :</p> <p>ऐस्बेटस</p>	2.0	0.00

A4 Glass
:
कांच

Engineering Drawing

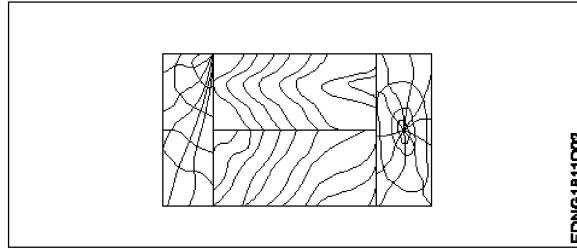
46

46

Identify the conventional symbol of material?
चित्र में दिखाए गए सामग्री के पारंपरिक प्रतीक का पता लगाएं?

2.0

0.00



A1 Lead
:
लेड

A2 Glass
:
कांच

A3 Wood
:
लकड़ी

A4 Paper
:
कागज़

Engineering Drawing

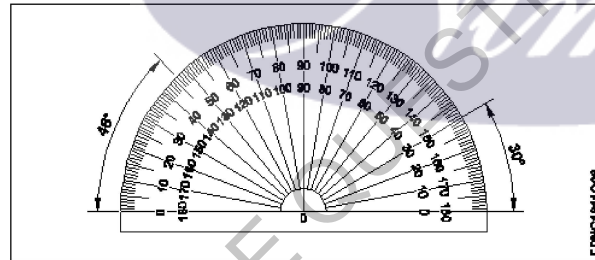
47

47

Identify the name of instrument?
चित्र में दिखाए गए उपकरणों के नाम की पहचान करें?

2.0

0.00



A1 Set square
:
गुनिया

A2 Protractor
:
चांदा

A3 French curve
:
फ्रेंच वक्र

A4 'T' square
:
टी स्क्वायर

Engineering Drawing

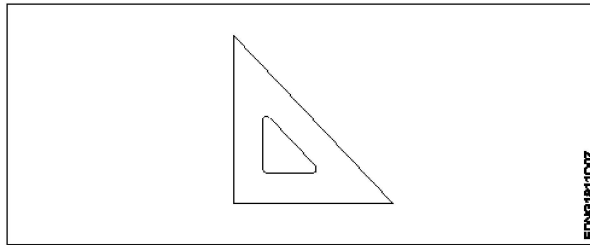
48

48

Identify the name of set square?
सेट स्क्वायर का नाम खोजें?

2.0

0.00



A1
: 15° set square

15° सेट स्कायर

A2
: 60° set square

60° सेट स्कायर

A3
: 30° set square

30° सेट स्कायर

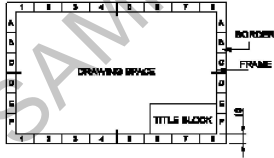
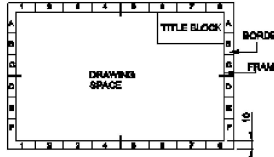
A4
: 45° set square

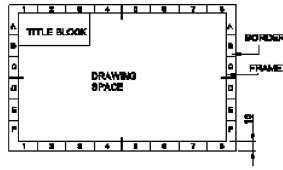
45° सेट स्कायर

Engineering Drawing

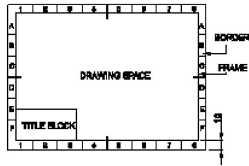
49	49	<p>Compass used to draw for ____.</p> <p>कम्पास का उपयोग ____ को ड़ा करने के लिए किया जाता है.</p> <p>A1 : rectangle आयत</p> <p>A2 : square वर्ग</p> <p>A3 : circle वृत्त</p> <p>A4 : triangle त्रिकोण</p>	2.0	0.00
----	----	--	-----	------

Engineering Drawing

50	50	<p>Which title block position is correct as standard practice?</p> <p>एक मानक अभ्यास के रूप में कौन सी शीर्षक ब्लॉक स्थिति सही है?</p> <p>A1 :</p>  <p>A2 :</p>  <p>A3 :</p>	2.0	0.00
----	----	--	-----	------



A4
:



Employability Skills

51	51	<p>To be in a job or work is..... नौकरी या काम में होना है</p> <p>A1 Employ : रोजगार</p> <p>A2 Skill : कौशल</p> <p>A3 Knowledge : ज्ञान</p> <p>A4 Aptitude : योग्यता</p>	2.0	0.00
----	----	--	-----	------

Employability Skills

52	52	<p>The ability to do is..... करने की क्षमता है।</p> <p>A1 Knowledge : ज्ञान</p> <p>A2 Experience : अनुभव</p> <p>A3 Skill : कौशल</p> <p>A4 Job : काम</p>	2.0	0.00
----	----	---	-----	------

Employability Skills

53	53	<p>A person with a growth mindset is always willing to..... एक विकास मानसिकता वाला व्यक्ति हमेशा तैयार रहता है।</p> <p>A1 relax : आराम करने में</p> <p>A2 grow, change, learn : बढ़ो, बदलो, सीखो</p> <p>A3 keep quiet : चुप रहने में</p> <p>A4 become rich : अमीर बनने</p>	2.0	0.00
----	----	--	-----	------

Employability Skills

54	54	<p>Jobs that have become outdated in the past 5 years.... नौकरियां जो पिछले 5 वर्षों में पुरानी हो गई हैं।</p> <p>A1 : STD booth STD बूथ</p> <p>A2 : ola ओला</p> <p>A3 : uber उबेर</p> <p>A4 : swiggy Swiggy</p>	2.0	0.00
Employability Skills				
55	55	<p>21st century workplace skills help you to get employed..... 21वीं सदी के कार्यस्थल कौशल आपको रोजगार पाने में मदद करते हैं.....।</p> <p>A1 : very difficult बहुत कठिन</p> <p>A2 : even job market keep changing यहां तक कि जॉब मार्केट भी बदलता रहता है</p> <p>A3 : only when market is growing केवल जब बाजार बढ़ रहा है</p> <p>A4 : only with higher qualification केवल उच्च योग्यता के साथ</p>	2.0	0.00
Employability Skills				
56	56	<p>Ethics means नैतिकता का अर्थ है.....।</p> <p>A1 : decide what is right and wrong for a human conduct तय करें कि मानव आचरण के लिए क्या सही है और क्या गलत</p> <p>A2 : name of a city एक शहर का नाम</p> <p>A3 : employability skills रोजगार कौशल</p> <p>A4 : not relevant to society समाज से संबंधित नहीं है</p>	2.0	0.00
Employability Skills				
57	57	<p>Values are..... मान हैं।</p> <p>A1 : not punctual समयनिष्ठ नहीं</p> <p>A2 : Motivates our attitude and action हमारे दृष्टिकोण और कार्रवाई को प्रेरित करता है</p> <p>A3 : very costly बहुत क्रीमती</p> <p>A4 : all have same value सभी का मूल्य समान है</p>	2.0	0.00
Employability Skills				

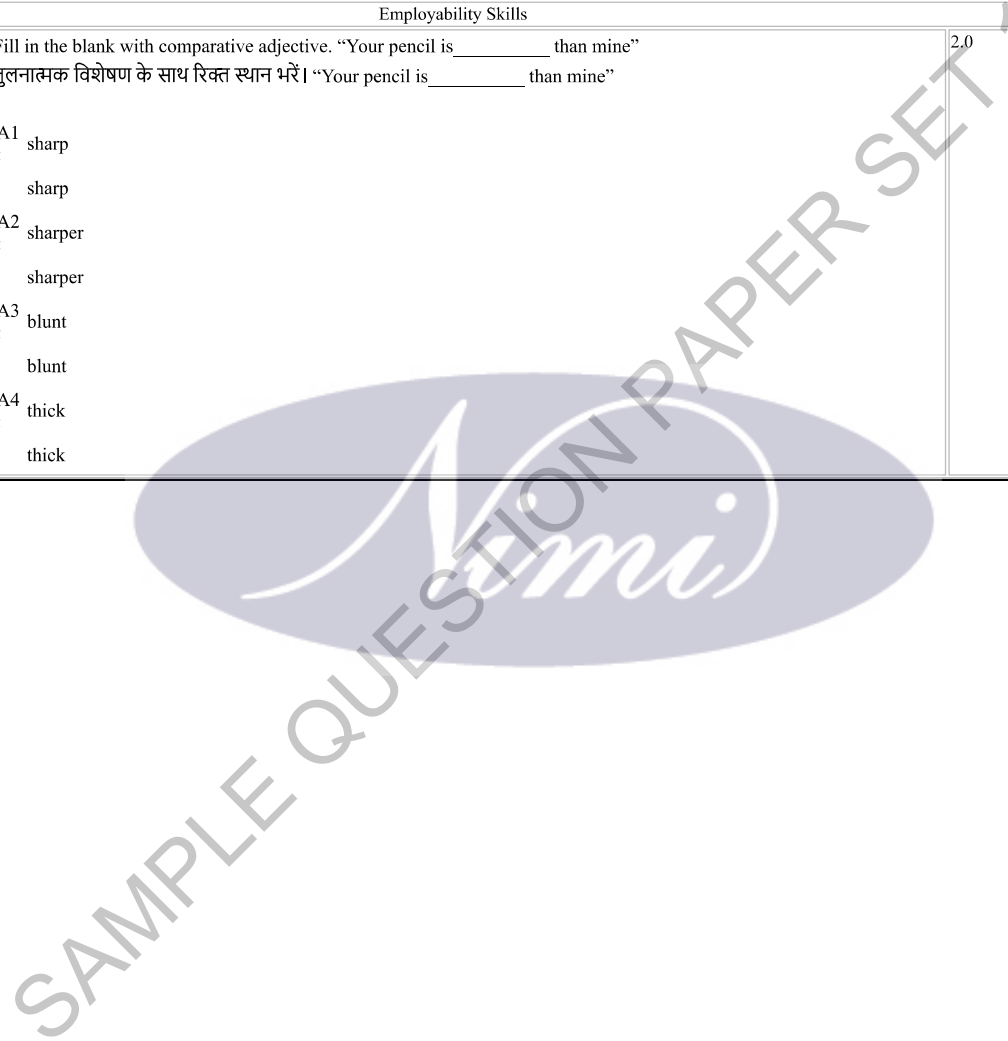
58	58	<p>..... is a brief statement about purpose and principles of the Constitution.संविधान के उद्देश्य और सिद्धांतों के बारे में संक्षिप्त विवरण है।</p> <p>A1 Syllabus : पाठ्यक्रम</p> <p>A2 Module : मापांक</p> <p>A3 The Preamble : प्रस्तावना</p> <p>A4 Unit : इकाई</p>	2.0	0.00
Employability Skills				
59	59	<p>Identify the improper term..... अनुचित पद को पहचानिए।</p> <p>A1 green pollution : हरित प्रदूषण</p> <p>A2 water pollution : जल प्रदूषण</p> <p>A3 air pollution : वायु प्रदूषण</p> <p>A4 sound pollution : ध्वनि प्रदूषण</p>	2.0	0.00
Employability Skills				
60	60	<p>People from all religions or no religions are treated equally means..... सभी धर्मों या किसी भी धर्म के लोगों के साथ समान व्यवहार नहीं किया जाता हैसेक्युलर देश</p> <p>A1 democratic : जनतांत्रिक</p> <p>A2 religious : धार्मिक</p> <p>A3 non secular : गैर धर्मनिरपेक्ष</p> <p>A4 secular Country : धर्मनिरपेक्ष देश</p>	2.0	0.00
Employability Skills				
61	61	<p>..... is major changes takes place in manufacturing. मैनुफैक्चरिंग में प्रमुख परिवर्तन होते हैं।</p> <p>A1 Green revolution : हरित क्रांति</p> <p>A2 Industry revolution : उद्योग क्रांति</p> <p>A3 Water revolution : जल क्रांति</p> <p>A4 Food revolution : खाद्य क्रांति</p>	2.0	0.00
Employability Skills				

62	62	<p>1st industrial revolution started in..... पहली औद्योगिक क्रांति की शुरुआत।</p> <p>A1 : 18th century 18 वीं सदी</p> <p>A2 : 19th century 19 वीं सदी</p> <p>A3 : 20th century 20 वीं सदी</p> <p>A4 : 21st century 21 वीं सदी</p>	2.0	0.00
Employability Skills				
63	63	<p>Hard Skill..... कठिन कौशल.....।</p> <p>A1 : quick learner त्वरित शिक्षार्थी</p> <p>A2 : time management समय प्रबंधन</p> <p>A3 : 60 WPM typing speed 60 WPM टाइपिंग स्पीड</p> <p>A4 : spoken English मौखिक अंग्रेजी</p>	2.0	0.00
Employability Skills				
64	64	<p>To grow yourself you must..... अपने आप को विकसित करने के लिए आपको चाहिए।</p> <p>A1 : know your office अपने कार्यालय को जानें</p> <p>A2 : know yourself खुद को जानें</p> <p>A3 : know your institute अपने संस्थान को जानें</p> <p>A4 : know your country अपने देश को जानो</p>	2.0	0.00
Employability Skills				
65	65	<p>Time management..... समय प्रबंधन.....।</p> <p>A1 : complete your task on time अपना कार्य समय पर पूरा करें</p> <p>A2 : managing time प्रबंधन समय</p> <p>A3 : hard skill कठिन कौशल</p> <p>A4 : problem solving समस्या को सुलझाना</p>	2.0	0.00
Employability Skills				

66	66	<p>A resume should be _____.</p> <p>एक रिज्यूम _____ होना चाहिए</p> <p>A1 : short and precise छोटा और सटीक</p> <p>A2 : fancy and colourful फैंसी और रंगीन</p> <p>A3 : having long and detailed information लंबी और विस्तृत जानकारी होना</p> <p>A4 : having acronyms and abbreviation समरूप और संक्षिप्त नाम होना</p>	2.0	0.00
Employability Skills				
67	67	<p>A written description of duties and responsibilities to be carried out in a job is called _____.</p> <p>किसी कार्य में किए जाने वाले कर्तव्यों और जिम्मेदारियों का लिखित विवरण _____ कहा जाता है</p> <p>A1 : CV CV</p> <p>A2 : job description नौकरी का विवरण</p> <p>A3 : resume रिज्यूम</p> <p>A4 : job application नौकरी के लिए आवेदन</p>	2.0	0.00
Employability Skills				
68	68	<p>After receiving interview call, what is the next step?</p> <p>साक्षात्कार कॉल प्राप्त करने के बाद, अगला कदम क्या है?</p> <p>A1 : Send application letter आवेदन पत्र भेजें</p> <p>A2 : Prepare the resume रिज्यूम तैयार करें</p> <p>A3 : Appear at interview साक्षात्कार में जायें</p> <p>A4 : Send resume रिज्यूम भेजे</p>	2.0	0.00
Employability Skills				
69	69	<p>Choose suitable "wh" word for the given sentence. " _____ animal do you like?"</p> <p>दिए गए वाक्य के लिए उपयुक्त "wh" शब्द चुनें। " _____ animal do you like?"</p> <p>A1 : Which Which</p> <p>A2 : Why Why</p> <p>A3 : Where Where</p> <p>A4 : When When</p>	2.0	0.00
Employability Skills				

70	70	<p>Choose the correct punctuation mark after the word "Rohan" in the given sentence. "Rohan David and Ram are playing hide and seek"</p> <p>दिए गए वाक्य में शब्द "रोहन" के बाद सही विराम चिह्न चुनें। "Rohan David and Ram are playing hide and seek"</p> <p>A1 : Comma (,) अल्पविराम (,)</p> <p>A2 : Period (.) अवधि (.)</p> <p>A3 : Slash (/) स्लैश (/)</p> <p>A4 : Hyphen (-) हाइफ़न (-)</p>	2.0	0.00
Employability Skills				
71	71	<p>Choose the correct response for the given question. "How have you been"?</p> <p>दिए गए प्रश्न के लिए सही उत्तर चुनिए। "How have you been"?</p> <p>A1 : Very well, And you? Very well, And you?</p> <p>A2 : Thank you_ And you? Thank you_ And you?</p> <p>A3 : Same to you Same to you</p> <p>A4 : On vacation_ And you? On vacation_ And you?</p>	2.0	0.00
Employability Skills				
72	72	<p>Choose the correct response of the given question. "When did the accident happen"?</p> <p>दिए गए प्रश्न की सही प्रतिक्रिया चुनें। "When did the accident happen"?</p> <p>A1 : in the hotel in the hotel</p> <p>A2 : during travelling during travelling</p> <p>A3 : At 10:30 last night At 10:30 last night</p> <p>A4 : On the table On the table</p>	2.0	0.00
Employability Skills				
73	73	<p>Choose the correct tense of the verb. "I _____ music when I was child"</p> <p>क्रिया का सही काल चुनें। "I _____ music when I was child"</p> <p>A1 : learn learn</p> <p>A2 : am learning am learning</p> <p>A3 : will learn will learn</p> <p>A4 : learnt learnt</p>	2.0	0.00
Employability Skills				

74	74	<p>Curriculum vitae is also known as _____ . Curriculum vitae को _____ के रूप में भी जाना जाता है।</p> <p>A1 circular : परिपत्र</p> <p>A2 resume : रिज्यूम</p> <p>A3 job application form : नौकरी के लिए आवेदन पत्र</p> <p>A4 leave application : छुट्टी की अर्जी</p>	2.0	0.00
Employability Skills				
75	75	<p>Fill in the blank with comparative adjective. "Your pencil is _____ than mine" तुलनात्मक विशेषण के साथ रिक्त स्थान भरें। "Your pencil is _____ than mine"</p> <p>A1 sharp : sharp</p> <p>A2 sharper : sharper</p> <p>A3 blunt : blunt</p> <p>A4 thick : thick</p>	2.0	0.00



Turner - 1st year (Eng) SET 1

Question Number	Correct Alternative position
1	A3
2	A1
3	A4
4	A3
5	A3
6	A2
7	A4
8	A1
9	A2
10	A4
11	A4
12	A3
13	A1
14	A3
15	A3
16	A2
17	A4
18	A2
19	A3
20	A1
21	A3
22	A2
23	A1
24	A2
25	A4
26	A1
27	A3
28	A4
29	A4
30	A1
31	A3
32	A4
33	A4
34	A4
35	A2
36	A2
37	A4
38	A2
39	A3
40	A2
41	A2
42	A2
43	A2
44	A1
45	A1

46	A3
47	A2
48	A4
49	A3
50	A1
51	A1
52	A3
53	A2
54	A1
55	A2
56	A1
57	A2
58	A3
59	A1
60	A4
61	A2
62	A1
63	A3
64	A2
65	A1
66	A1
67	A2
68	A3
69	A1
70	A1
71	A1
72	A3
73	A4
74	A2
75	A2

KEY ANSWER SET ↑