

ALL INDIA TRADE TEST - 2024 FOR CRAFTSMEN
TRAINING SCHEME (CTS)
Trade Name: Wood Work Technician
Year: 1st Year

Exam Date :
Exam Time :

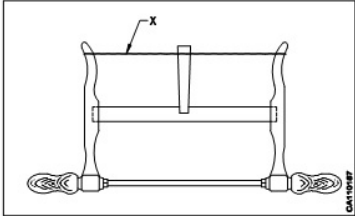
Note:

1. Tick the correct option out of four alternatives provided
2. All questions carry equal marks (2 Marks each)
3. There is no negative marking

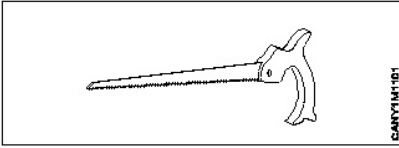
Sr. No.	Q ID	Question Body and Alternatives	Marks	Negative Marks
Trade Theory				
1	1	<p>Which material is used to make a rip saw blade? रिप सॉ ब्लेड बनाने के लिए किस सामग्री का उपयोग किया जाता है?</p> <p>A1 : Steel स्टील</p> <p>A2 : Thin spring steel थीन स्प्रिंग स्टील</p> <p>A3 : Forged carbon steel फोर्ज्ड कार्बन स्टील</p> <p>A4 : Forged tool steel फोर्ज्ड टूल स्टील</p>	2.0	0.00
Trade Theory				
2	2	<p>What is the benefit of a breast drilling machine? ब्रेस्ट ड्रिलिंग मशीन का क्या लाभ है?</p> <p>A1 : Deep holes डीप होल बनाने में काम आता है</p> <p>A2 : Very small diameter holes बहुत छोटे व्यास के होल करने में काम आता है</p> <p>A3 : Small diameter holes छोटे व्यास के होल करने में काम आता है</p> <p>A4 : Large diameter holes बड़े व्यास के होल करने में काम आता है</p>	2.0	0.00
Trade Theory				
3	3	<p>What is the use of a bradawl? ब्रेडॉल का उपयोग क्या है?</p> <p>A1 : Making small holes छोटे छोटे होल बनाना</p> <p>A2 : Making deep holes गहरा होल बनाना</p> <p>A3 : Making large holes बड़े होल बनाना</p> <p>A4 : Making shallow holes उथले होल बनाना</p>	2.0	0.00

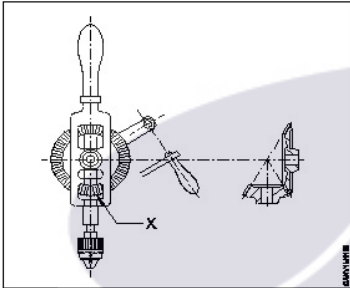
Trade Theory				
4	4	<p>What is the use of a trying plane? ट्राइंग प्लेन का उपयोग क्या है?</p> <p>A1 : Producing grooves surface खांचे वाली सतह बनाना</p> <p>A2 : Producing rebate surface रिबेट वाली सतह बनाना</p> <p>A3 : Producing rough gluing surface खुरदरी ग्लूइंग सतह बनाना</p> <p>A4 : Producing true and straight surface टू और सीधी सतह बनाना</p>	2.0	0.00
Trade Theory				
5	5	<p>What is the use of a plough plane? प्लॉग प्लेन का उपयोग क्या है?</p> <p>A1 : Form rebate रिबेट बनाना</p> <p>A2 : Form grooves ग्रूव बनाना</p> <p>A3 : Form surface सतह बनाना</p> <p>A4 : Form smoothing चिकनी बनाने के लिए</p>	2.0	0.00
Trade Theory				
6	6	<p>What is the use of a portable power planing machine? पोर्टेबल पावर प्लेनिंग मशीन का उपयोग क्या है?</p> <p>A1 : Producing grooves surface कोने की सतह को चिकना बनाना</p> <p>A2 : Producing trenching घुमावदार एज को चिकना बनाना</p> <p>A3 : Producing curving चिपकने वाली सतह को खुरदुरा बनाना</p> <p>A4 : Smooth surface लकड़ी की सतह को चिकना बनाना</p>	2.0	0.00
Trade Theory				
7	7	<p>Which part of the hammer fits the handle rigidly? हैमर के कौनसे भाग को कठोर रूप से हैंडल में फिट करने के लिए आकार दिया जाता है?</p> <p>A1 : Face हैंडल</p> <p>A2 : Peen पीन</p> <p>A3 : Cheek चीक</p> <p>A4 : Eye hole आई होल</p>	2.0	0.00
Trade Theory				
8	8	<p>What is the speciality of a tack hammer?</p>	2.0	0.00

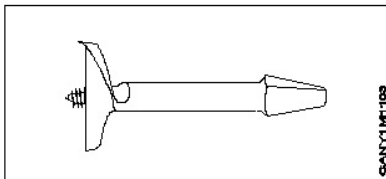
		<p>टेक हेमर की क्या विशेषता है?</p> <p>A1 : Heavy weight अधिक वजन</p> <p>A2 : Slight magnetic थोड़ा चुंबकीय</p> <p>A3 : Rough finishing खुरदरी फिनिशिंग</p> <p>A4 : Pulling nails कील निकालना</p>		
Trade Theory				
9	9	<p>Which wood is used to manufacture the head of a mallet? मैलेट के हेड का निर्माण करने के लिए किस प्रकार की लकड़ी का उपयोग किया जाता है?</p> <p>A1 : Sap wood सैप वुड</p> <p>A2 : Soft wood सॉफ्ट वुड</p> <p>A3 : Thin wood थिन वुड</p> <p>A4 : Hard wood हार्ड वुड</p>	2.0	0.00
Trade Theory				
10	10	<p>Which is used to hold the job while sawing? किसका उपयोग साईंग करते समय जॉब को पकड़ने के लिए किया जाता है?</p> <p>A1 : Bench hook बेंच हुक</p> <p>A2 : Saw vice सॉ वाईस</p> <p>A3 : Bench stop बेंच स्टॉप</p> <p>A4 : Shooting board शूटिंग बोर्ड</p>	2.0	0.00
Trade Theory				
11	11	<p>Which one involves general discipline of institute? इनमें से कौन संस्थान के सामान्य अनुशासन को शामिल करता है?</p> <p>A1 : Keep the floor and gangway clean फर्श और गैंगवे को साफ रखना</p> <p>A2 : Avoid polluting environment पर्यावरण को प्रदूषित होने से बचना</p> <p>A3 : Use correct tools for the job जॉब के लिए सही टूल्स का इस्तेमाल करना</p> <p>A4 : Keep the tools at their proper place टूल्स को उनके उचित स्थान पर रखें</p>	2.0	0.00
Trade Theory				
12	12	<p>What is the safety precaution observed in a carpentry workshop? बढ़ईगिरी कार्यशाला में क्या सुरक्षा सावधानी बरती जाती है?</p>	2.0	0.00

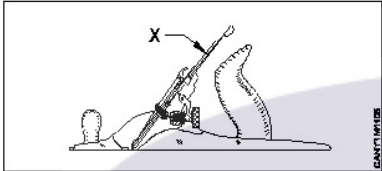
		<p>A1 : Wear loose clothing ढीले कपड़े पहनें</p> <p>A2 : Secure the work piece rigidly before cutting काटने से पहले वर्क पीस को मजबूती से सुरक्षित करें</p> <p>A3 : Hold sharpening tools in hand loosely हाथ में धार लगाने वाले औजारों को ढीला पकड़ें</p> <p>A4 : Avoid safety goggles सुरक्षा चश्मे से बचें</p>		
Trade Theory				
13	13	<p>What is the part marked as "x" in bow saw? धनुषनुमा आरी में "x" के रूप में चिह्नित भाग क्या है?</p>  <p>A1 : Bar बार</p> <p>A2 : Lever लीवर</p> <p>A3 : Frame फ्रेम</p> <p>A4 : String स्ट्रिंग</p>	2.0	0.00
Trade Theory				
14	14	<p>What is the grinding angle of firmer chisel? फर्मर चीजल का ग्राइंडिंग एंगल क्या है?</p> <p>A1 : 10° - 15° 10° - 15°</p> <p>A2 : 15° - 20° 15° - 20°</p> <p>A3 : 20° - 25° 20° - 25°</p> <p>A4 : 25° - 30° 25° - 30°</p>	2.0	0.00
Trade Theory				
15	15	<p>What is used for sawing across the grains of timber? टिम्बर के रेशों के आर-पार काटने के लिए क्या उपयोग किया जाता है?</p> <p>A1 : Rip saw रिप सॉ</p> <p>A2 : Tenon saw टेनन सॉ</p> <p>A3 : Dovetail saw डवटेल् सॉ</p>	2.0	0.00

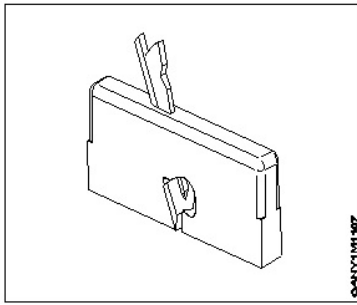
		A4 : Cross cut saw क्रॉस कट सॉ		
Trade Theory				
16	16	What is the use of portable power circular saw machine? पोर्टेबल पावर सर्कुलर सॉ मशीन का क्या उपयोग है? A1 : Cross cutting and ripping क्रॉस कटिंग और रिपिंग A2 : Key hole cutting की होल कटिंग A3 : Leather cutting लेदर कटिंग A4 : Curved cutting घुमावदार कटिंग	2.0	0.00
Trade Theory				
17	17	What is the use of portable electrical heavy duty drill machine? पोर्टेबल इलेक्ट्रिकल हेवी ड्यूटी ड्रिल मशीन का क्या उपयोग है? A1 : Large diameter holes बड़े व्यास के छेद A2 : Shallow holes उथले छेद A3 : Counter sinking the top of holes छेदों के ऊपर काउंटर सिंकिंग A4 : Boring small holes छोटे छेद बोर करना	2.0	0.00
Trade Theory				
18	18	Which plane is used for planning the job to size quickly and truly? जॉब को जल्दी और सही आकार देने की योजना बनाने के लिए किस प्लेन का उपयोग किया जाता है? A1 : Jack plane जैक प्लेन A2 : Tothing plane टूथिंग प्लेन A3 : Furnishing plane फर्निशिंग प्लेन A4 : Smoothing plane समतल समतल	2.0	0.00
Trade Theory				
19	19	Which tool is used for testing the flatness of job? जॉब की समतलता का परीक्षण करने के लिए किस उपकरण का उपयोग किया जाता है? A1 : Steel rule स्टील रूल A2 : Bevel square बेवल स्कायर A3 : Plumb bob प्लंब बॉब A4 : Winding strips	2.0	0.00

20	20	<p>What is the name of saw?</p> <p>सॉ का क्या नाम है?</p>  <p>A1 Fret saw : फ्रेट सॉ</p> <p>A2 Coping saw : कॉपिंग सॉ</p> <p>A3 Nest of saw : नेस्ट ऑफ सॉ</p> <p>A4 Compass saw : कम्पास सॉ</p>	2.0	0.00
----	----	--	-----	------

21	21	<p>What is the part name of "X" in hand drill machine?</p> <p>हैंड ड्रिल मशीन में "X" के भाग का क्या नाम है?</p>  <p>A1 Handle : हैंडल</p> <p>A2 Frame : फ्रेम</p> <p>A3 Adjustable chuck : एडजस्टेबल चक</p> <p>A4 Bevel pinion : बेवल प्रिनियन</p>	2.0	0.00
----	----	---	-----	------

22	22	<p>What is the name of drill bit?</p> <p>ड्रिल बिट का क्या नाम है?</p>  <p>A1 Centre bit : सेंटर बिट</p> <p>A2 Dowel bit : डॉवेल बिट</p>	2.0	0.00
----	----	---	-----	------

		A3 Forstner bit : फोर्स्टर बिट A4 Expansion bit : एक्सपेंशन बिट		
Trade Theory				
23	23	Which wooden plane is long? कौन सा लकड़ी का प्लेन लंबा है? A1 Plough plane : प्लो प्लेन A2 Router plane : राउटर प्लेन A3 Trying plane : ट्राइंग प्लेन A4 Smoothing plane : स्मूथिंग प्लेन	2.0	0.00
Trade Theory				
24	24	What is the Name of part marked as "X" in adjustable metal jack plane? एडजस्टेबल मेटल जैक प्लेन में "X" के रूप में चिह्नित भाग का क्या नाम है?  A1 Knob : नॉब A2 Bobby : बॉबी A3 Cap iron : कैप आयरन A4 Cutting iron : कटिंग आयरन	2.0	0.00
Trade Theory				
25	25	What is the cutting angle of finishing plane? फिनिशिंग प्लेन का कटिंग एंगल क्या है? A1 20° - 25° : 20° - 25° A2 30° - 35° : 30° - 35° A3 45° - 50° : 45° - 50° A4 55° - 60° : 55° - 60°	2.0	0.00
Trade Theory				
26	26	What is the name of wood working plane? लकड़ी के वर्किंग प्लेन का नाम क्या है?	2.0	0.00



A1
: Rebate plane

रिबेट प्लेन

A2
: Compass plane

कम्पास प्लेन

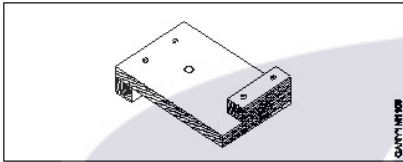
A3
: Convex plane

उत्तल प्लेन

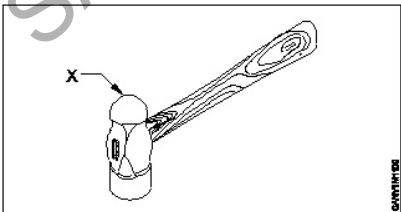
A4
: Hollow plane

खोखला प्लेन

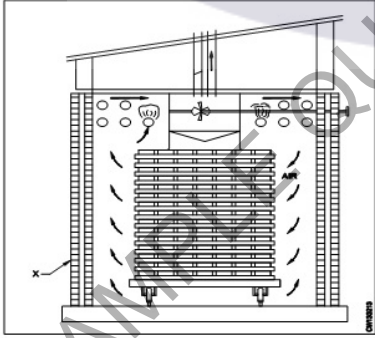
Trade Theory

27	27	What is the name of supporting tool? सहायक उपकरण का नाम क्या है?	2.0	0.00
				
		<p>A1 : Bench stop</p> <p>बेंच स्टॉप</p> <p>A2 : Bench hook</p> <p>बेंच हुक</p> <p>A3 : Planning trough</p> <p>प्लानिंग ट्रफ</p> <p>A4 : Shooting board</p> <p>शूटिंग बोर्ड</p>		

Trade Theory

28	28	What is the name of part marked as 'X'? 'X' से चिह्नित भाग का नाम क्या है?	2.0	0.00
				
		<p>A1 : Pein</p> <p>पेन</p> <p>A2 : Face</p> <p>फेस</p> <p>A3 : Check</p> <p>चीक</p>		

		A4 Wedge : वेज		
Trade Theory				
29	29	Which fire extinguisher is used for class "B" fire? क्लास "B" आग के लिए किस अग्निशामक यंत्र का उपयोग किया जाता है? A1 Foam extinguisher : फोम एक्सटिंगुइशर A2 Halon extinguisher : हेलॉन एक्सटिंगुइशर A3 Carbon dioxide extinguisher : कार्बन डाइऑक्साइड एक्सटिंगुइशर A4 Cooling with water extinguisher : कूलिंग विद वाटर एक्सटिंगुइशर	2.0	0.00
Trade Theory				
30	30	What is the extinguisher media used on class "A" fire? क्लास "A" आग पर किस अग्निशामक यंत्र का उपयोग किया जाता है? A1 Water : पानी A2 Foam : फोम A3 Halon : हेलॉन A4 Dry powder : सूखा पाउडर	2.0	0.00
Trade Theory				
31	31	Which trees is used for engineering purposes? इंजीनियरिंग उद्देश्यों के लिए किस पेड़ का उपयोग किया जाता है? A1 Endogenous trees : अंतर्जात पेड़ A2 Grow in wards trees : वार्ड में उगने वाले वृक्ष A3 Needle shape trees : नीडल के आकार के पेड़ A4 Exogenous trees : बहिर्जात वृक्ष	2.0	0.00
Trade Theory				
32	32	Which wood is used in building works? भवन निर्माण कार्यों में किस लकड़ी का उपयोग किया जाता है? A1 Sap wood : सैप वुड A2 Hard wood : हार्ड वुड A3 Soft wood : सॉफ्ट वुड A4 Conifer wood :	2.0	0.00

		कोनिफर बुड		
		Trade Theory		
33	33	<p>Which chisel is used for general chiselling purposes? सामान्य चीजल के लिए किस चीजल का उपयोग किया जाता है?</p> <p>A1 : Paring chisel पैरिंग चीजल</p> <p>A2 : Socket firmer chisel सॉकेट फ़र्मर चीजल</p> <p>A3 : Bench firmer chisel बेंच फ़र्मर चीजल</p> <p>A4 : Socket mortise chisel सॉकेट मोर्टिस चीजल</p>	2.0	0.00
		Trade Theory		
34	34	<p>What is the use of bevel edge firmer chisel? बेवल एज फ़र्मर चीजल का उपयोग क्या है?</p> <p>A1 : Cleaning of grooves section ग्रूव सेक्शन की सफाई</p> <p>A2 : Cleaning of inside circular section अंदर के गोलाकार सेक्शन की सफाई</p> <p>A3 : Heavy work such as mortising भारी काम जैसे कि मोर्टिसिंग</p> <p>A4 : Cleaning up corner and joints कोने और जोड़ों की सफाई</p>	2.0	0.00
		Trade Theory		
35	35	<p>What is the name of the part marked as "x" shown in the figure? चित्र में दिखाए गए "x" से चिह्नित भाग का नाम क्या है?</p>  <p>A1 : Fan फैन</p> <p>A2 : Trolley ट्राली</p> <p>A3 : Brick wall ईंटो की दीवार</p> <p>A4 : Heating pipe हीटिंग पाइप</p>	2.0	0.00
		Trade Theory		
36	36	<p>What is the formula for calculating the percentage of the moisture content in timber? टिम्बर में नमी की मात्रा के प्रतिशत का सूत्र क्या है?</p> <p>A1 :</p>	2.0	0.00

$$MC = \frac{W - D}{W} \times 100 = \%$$

A2
:

$$MC = \frac{D - W}{W} \times 100 = \%$$

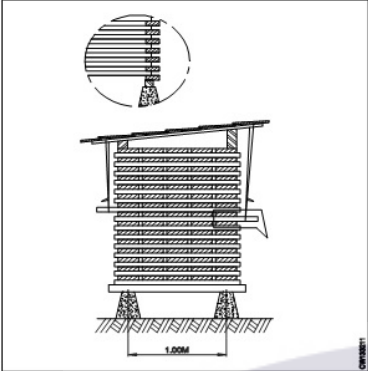
A3
:

$$MC = \frac{D - W}{D} \times 100 = \%$$

A4
:

$$MC = \frac{W - D}{D} \times 100 = \%$$

Trade Theory

37	37	<p>What is the name of the seasoning shown in the figure?</p> <p>सीज़निंग का नाम क्या है?</p>  <p>A1 Air seasoning : एयर सीज़निंग</p> <p>A2 Kiln seasoning : किलन सीज़निंग</p> <p>A3 Water seasoning : वाटर सीज़निंग</p> <p>A4 Steam seasoning : स्टीम सीज़निंग</p>	2.0	0.00
----	----	--	-----	------

Trade Theory

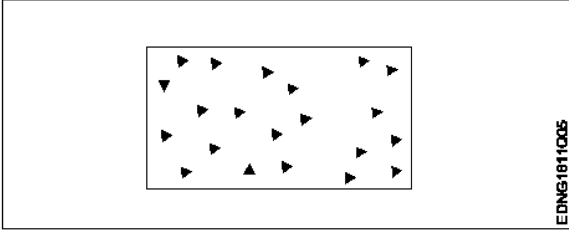
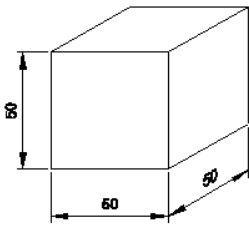
38	38	<p>Which timber is used to avoid knots?</p> <p>दरारों और गांठों से बचने के लिए किस टिम्बर का उपयोग किया जाता है?</p> <p>A1 Case hardening timber : केस हार्डनिंग टिम्बर</p> <p>A2 Irregular growth timber : अनियमित विकास टिम्बर</p> <p>A3 Shrinkage of timber : टिम्बर की सिकुड़न</p> <p>A4 Quality of good timber : अच्छी टिम्बर की गुणवत्ता</p>	2.0	0.00
----	----	--	-----	------

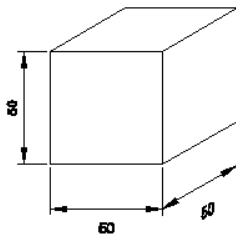
Workshop Calculation Science

39	39	<p>What will be the rpm of smaller gear if a 180 mm dia meshes with 60 mm dia gear and the bigger gear makes 60 rpm?</p> <p>यदि 180 मिमी व्यास वाला गियर 60 मिमी व्यास वाले गियर पर जुड़ा हुआ है और बड़ा गियर 60 आरपीएम से घूमता है तो छोटे गियर का आरपीएम क्या होगा?</p> <p>A1 120 rpm : 120 rpm</p>	2.0	0.00
----	----	---	-----	------

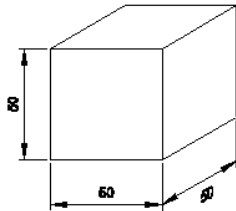
		A2 140 rpm : 140 rpm A3 160 rpm : 160 rpm A4 180 rpm : 180 rpm		
Workshop Calculation Science				
40	40	Convert 0.456 decimal fraction into percentage. 0.456 दशमलव भिन्न को प्रतिशत में बदलिये? A1 45.6% : 45.6% A2 4.56% : 4.56% A3 0.456% : 0.456% A4 0.0456% : 0.0456%	2.0	0.00
Workshop Calculation Science				
41	41	Which metal contains iron as a major content? इनमें से किस धातु में प्रमुख सामग्री के रूप में लोहा होता है? A1 Brass metal : पीतल धातु A2 Bronze metal : ब्रॉज धातु A3 Zinc : ज़िंक A4 Ferrous metal : लोह धातु	2.0	0.00
Workshop Calculation Science				
42	42	Which property of metal has its power of returning to its original shape after the applied force is released? धातु की कौन सा गुण बल लगाने पर विरूपित तथा बल हटाने पर वापस अपने पूर्ववस्था में आने की क्षमता रखता है? A1 Malleability : आघातवर्धनीयता A2 Tenacity : दृढ़ता A3 Elasticity : प्रत्यास्तथा A4 Plasticity : सुघट्यता	2.0	0.00
Workshop Calculation Science				
43	43	Which cast iron cannot be welded? इनमेंसे कौनसा ढलवां लोहा की वेल्डिंग नहीं किया जा सकता है? A1 Grey cast iron : धूसर ढलवां लोहा A2 White cast iron : सफेद ढलवां लोहा	2.0	0.00

		<p>A3 Malleable cast iron : पिटवां ढलवां लोहा</p> <p>A4 Nodular cast iron : गांठदार ढलवां लोहा</p>		
Workshop Calculation Science				
44	44	<p>Which metal is widely used for making casting of machinery parts? मशीनरी भागों की ढलाई बनाने के लिए किस धातु का व्यापक रूप से उपयोग किया जाता है?</p> <p>A1 Grey cast iron : धूसर ढलवां लोहा</p> <p>A2 White cast iron : सफेद ढलवां लोहा</p> <p>A3 Malleable cast iron : पिटवां ढलवां लोहा</p> <p>A4 Wrought iron : लोहा</p>	2.0	0.00
Engineering Drawing				
45	45	<p>Identify the conventional symbol of material? सामग्री के पारंपरिक प्रतीक को पहचानें?</p> <div data-bbox="264 891 850 1120" data-label="Image"> </div> <p>A1 Lead : लेड</p> <p>A2 Steel : इस्पात</p> <p>A3 Glass : कांच</p> <p>A4 Porcelain : चीनी मिट्टी</p>	2.0	0.00
Engineering Drawing				
46	46	<p>Identify the conventional symbol of material? सामग्री के पारंपरिक प्रतीक को पहचानें?</p> <div data-bbox="255 1684 841 1906" data-label="Image"> </div> <p>A1 Concrete : संगीत कार्यक्रम</p> <p>A2 Steel : इस्पात</p>	2.0	0.00

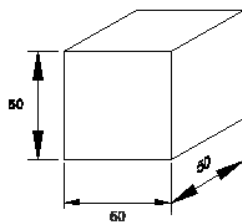
		A3 : Wood लकड़ी A4 : Glass कांच		
Engineering Drawing				
47	47	Identify the conventional symbol of material? सामग्री के पारंपरिक प्रतीक को पहचानें? 	2.0	0.00
		A1 : Steel इस्पात A2 : Wood लकड़ी A3 : Glass कांच A4 : Concrete ठोस		
Engineering Drawing				
48	48	What is the trimmed size of A4 sheet? A4 शीट का ट्रिम किया हुआ आकार क्या है? A1 : 841 x 1189 841 x 1189 A2 : 594 x 841 594 x 841 A3 : 210 x 297 210 x 297 A4 : 148 x 210 148 x 210	2.0	0.00
Engineering Drawing				
49	49	Which drawing dimension is correct as per IS standard? IS मानक के अनुसार कौन सा ड्राइंग आयाम सही है? A1 :  A2 :	2.0	0.00



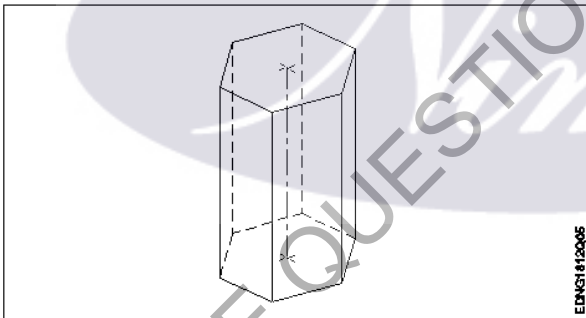
A3
:



A4
:



Engineering Drawing

50	50	<p>Identify the name of prism? चित्र में दिखाए गए प्रिज्म का नाम क्या है?</p>  <p>EDNG112005</p> <p>A1 : Square prism स्क्वायर प्रिज्म</p> <p>A2 : Pentagonal prism पंचकोणीय प्रिज्म</p> <p>A3 : Triangular prism त्रिकोणीय प्रिज्म</p> <p>A4 : Hexagonal prism हेक्सागोनल प्रिज्म</p>	2.0	0.00
----	----	---	-----	------

Employability Skills

51	51	<p>Fill in the blank with correct word. "They _____ good friends" रिक्त में सही शब्द भरें। "They _____ good friends"</p> <p>A1 : is is</p> <p>A2 : am am</p>	2.0	0.00
----	----	--	-----	------

		<p>A3 are : are</p> <p>A4 was : was</p>		
Employability Skills				
52	52	<p>Fill in the blank with present progressive tense of the verb. "The train _____ through the tunnel" क्रिया के वर्तमान प्रगतिशील काल के साथ रिक्त स्थान भरें। "The train _____ through the tunnel"</p> <p>A1 passed : passed</p> <p>A2 is passing : is passing</p> <p>A3 had passed : had passed</p> <p>A4 was passing : was passing</p>	2.0	0.00
Employability Skills				
53	53	<p>Fill in the blank with proper interrogative adjective. _____ are you going? उचित ईंटोरोगेटिव विशेषण के साथ रिक्त स्थान भरें। _____ are you going?</p> <p>A1 Who : Who</p> <p>A2 Where : Where</p> <p>A3 Which : Which</p> <p>A4 What : What</p>	2.0	0.00
Employability Skills				
54	54	<p>Fill in the blank with proper pronoun. "I made this cake _____" रिक्त स्थान में उचित सर्वनाम के साथ भरें। "I made this cake _____"</p> <p>A1 myself : myself</p> <p>A2 yourself : yourself</p> <p>A3 himself : himself</p> <p>A4 itself : itself</p>	2.0	0.00
Employability Skills				
55	55	<p>Fill in the blank with proper pronoun. "She made this cake _____" रिक्त स्थान में उचित सर्वनाम के साथ भरें। "She made this cake _____"</p> <p>A1 itself : itself</p> <p>A2 myself : myself</p> <p>A3 herself : herself</p>	2.0	0.00

		A4 : himself himself		
Employability Skills				
56	56	Fill in the blank with proper reflexive pronoun. "She has hurt _____" रिक्त स्थान में उचित प्रतिवर्ती सर्वनाम के साथ भरें। "She has hurt _____" A1 : myself myself A2 : herself herself A3 : himself himself A4 : itself itself	2.0	0.00
Employability Skills				
57	57	Fill in the blank with suitable adjective for the given sentence "The little girl's..... eyes revealed her mischief" दिए गए वाक्य के लिए उपयुक्त विशेषण के साथ रिक्त स्थान भरें। "The little girl's..... eyes revealed her mischief" A1 : chubby chubby A2 : weak weak A3 : short sighted short sighted A4 : twinkling twinkling	2.0	0.00
Employability Skills				
58	58	Fill in the blank with suitable place preposition. "My house is _____ the third floor" उपयुक्त स्थान पूर्वसर्ग के साथ रिक्त स्थान भरें। "My house is _____ the third floor" A1 : at at A2 : in in A3 : on on A4 : under under	2.0	0.00
Employability Skills				
59	59	Fill in the correct question word. "_____ is the speaker at the function?" सही प्रश्न शब्द भरें। "_____ is the speaker at the function?" A1 : What What A2 : When When A3 : Why Why A4 : Who Who	2.0	0.00
Employability Skills				

60	60	Low level language is also called _____. निम्न स्तर की भाषा को _____ भी कहा जाता है	2.0	0.00
		A1 : source code सोर्स कोड A2 : middle ware मध्यस्थ A3 : machine language मशीन भाषा A4 : assembly language असेंबली भाषा		
Employability Skills				
61	61	Pronunciation refers to _____. उच्चारण _____ को संदर्भित करता है	2.0	0.00
		A1 : diphthong संयुक्त स्वर A2 : consonant व्यंजन A3 : punctuation विराम चिह्न A4 : production of sound ध्वनि का उत्पादन		
Employability Skills				
62	62	Re-arrange the following set of words into meaningful sentence. "teacher / school / worked / she / a / as". शब्दों के निम्नलिखित सेट को सार्थक वाक्य में फिर से व्यवस्थित करें। "teacher / school / worked / she / a / as"	2.0	0.00
		A1 : School worked as a she teacher School worked as a she teacher A2 : She worked as a school teacher She worked as a school teacher A3 : She teacher worked as a school She teacher worked as a school A4 : Worked she as a school teacher Worked she as a school teacher		
Employability Skills				
63	63	Rise and fall of pitch of voice is called _____. आवाज़ की पिच का उठना और गिरना _____ कहलाता है	2.0	0.00
		A1 : vowel स्वर A2 : intonation आवाज़ का उतार-चढ़ाव A3 : consonant व्यंजन A4 : pronunciation उच्चारण		
Employability Skills				
64	64	The word that expresses a sudden and strong feeling is called _____. वह शब्द जो अचानक और मजबूत भावना व्यक्त करता है उसे _____ कहा जाता है	2.0	0.00

		<p>A1 punctuation : विराम चिह्न</p> <p>A2 interjection : विस्मयादिबोधक</p> <p>A3 conjunction : संयोजन के रूप</p> <p>A4 apostrophe : एपोस्ट्रॉफी</p>		
Employability Skills				
65	65	<p>When you greet higher official's such as Teacher, Instructor or Supervisor, you should use _____. जब आप शिक्षक, प्रशिक्षक या पर्यवेक्षक जैसे उच्च अधिकारियों का अभिवादन करते हैं, तो आपको _____ का उपयोग करना चाहिए</p> <p>A1 Good morning : Good morning</p> <p>A2 Hello : Hello</p> <p>A3 Hey : Hey</p> <p>A4 Hi : Hi</p>	2.0	0.00
Employability Skills				
66	66	<p>Which is a silent letter in the word "ANSWER"? "ANSWER" शब्द में कौन सा मूक अक्षर है?</p> <p>A1 R : R</p> <p>A2 E : E</p> <p>A3 S : S</p> <p>A4 W : W</p>	2.0	0.00
Employability Skills				
67	67	<p>Which one is a "Do's" of discussion etiquettes? चर्चा के शिष्टाचारों में से कौन सा "Do's" है?</p> <p>A1 Loose your temper : अपना आपा खोएं</p> <p>A2 Listen to others : दूसरों की सुनें</p> <p>A3 Talk about irrelevant details : अप्रासंगिक विवरण के बारे में बात करें</p> <p>A4 Use impolite or rude language : अभद्र या अशिष्ट भाषा का उपयोग करें</p>	2.0	0.00
Employability Skills				
68	68	<p>Which one is a "Don't" of discussion etiquette? चर्चा शिष्टाचार का "Don't" है?</p> <p>A1 Be open minded :</p>	2.0	0.00

		<p>दिमाग खुला रखना</p> <p>A2 : Use moderate tone</p> <p>मध्यम स्वर का प्रयोग करें</p> <p>A3 : Listen to others</p> <p>दूसरों की सुनें</p> <p>A4 : Argue unnecessary</p> <p>अनावश्यक बहस करें</p>		
Employability Skills				
69	69	<p>Which one is a brain of computer? कंप्यूटर का मस्तिष्क कौन सा है?</p> <p>A1 : Keyboard</p> <p>कीबोर्ड</p> <p>A2 : CPU</p> <p>सी पी यू</p> <p>A3 : Monitor</p> <p>मॉनिटर</p> <p>A4 : Hard disk</p> <p>हार्ड डिस्क</p>	2.0	0.00
Employability Skills				
70	70	<p>Which one is an exclamatory sentence? कौन सा विस्मयादिबोधक वाक्य है?</p> <p>A1 : What a beautiful house it is!</p> <p>What a beautiful house it is!</p> <p>A2 : It is a beautiful house.</p> <p>It is a beautiful house.</p> <p>A3 : Is it a beautiful house?</p> <p>Is it a beautiful house?</p> <p>A4 : Your house is beautiful.</p> <p>Your house is beautiful.</p>	2.0	0.00
Employability Skills				
71	71	<p>Which one is in active voice? सक्रिय आवाज में कौन सा है?</p> <p>A1 : Ram has passed the exam.</p> <p>Ram has passed the exam.</p> <p>A2 : The ball was caught by him.</p> <p>The ball was caught by him.</p> <p>A3 : The book was being read by her.</p> <p>The book was being read by her.</p> <p>A4 : We were driven home by dad.</p> <p>We were driven home by dad.</p>	2.0	0.00
Employability Skills				
72	72	<p>Which one is in passive voice? निष्क्रिय आवाज में कौन सा है?</p> <p>A1 : Mohan is painting a house.</p> <p>Mohan is painting a house.</p> <p>A2 : She was reading a book.</p>	2.0	0.00

		<p>She was reading a book.</p> <p>A3 : Her birthday was celebrated by us.</p> <p>Her birthday was celebrated by us.</p> <p>A4 : I have seen that movie.</p> <p>I have seen that movie.</p>		
Employability Skills				
73	73	<p>Which one is NOT a conjunction? कौन सा एक संयोजन नहीं है?</p> <p>A1 : And</p> <p>And</p> <p>A2 : Or</p> <p>Or</p> <p>A3 : But</p> <p>But</p> <p>A4 : On</p> <p>On</p>	2.0	0.00
Employability Skills				
74	74	<p>Which one is NOT a benefit of the role playing? भूमिका निभाने का कौन सा लाभ नहीं है?</p> <p>A1 : Builds confidence</p> <p>आत्मविश्वास पैदा करता है</p> <p>A2 : Develops listening skill</p> <p>सुनने का कौशल विकसित करता है</p> <p>A3 : Develops creative problem-solving skill</p> <p>रचनात्मक समस्या-समाधान कौशल विकसित करता है</p> <p>A4 : Develops boredom</p> <p>बोरियत पैदा करता है</p>	2.0	0.00
Employability Skills				
75	75	<p>Which one is NOT a vowel? कौन सा स्वर नहीं है?</p> <p>A1 : a</p> <p>a</p> <p>A2 : e</p> <p>e</p> <p>A3 : f</p> <p>f</p> <p>A4 : i</p> <p>i</p>	2.0	0.00

Wood Work Technician - 1 Year - Set 2

S.No.	Correct Answer Key
1	A2
2	A4
3	A1
4	A4
5	A2
6	A4
7	A4
8	A2
9	A4
10	A1
11	A2
12	A2
13	A4
14	A3
15	A4
16	A1
17	A1
18	A1
19	A4
20	A4
21	A4
22	A1
23	A3
24	A4
25	A3
26	A1
27	A2
28	A1
29	A1
30	A1
31	A4
32	A2
33	A3
34	A4
35	A3
36	A4
37	A1
38	A4

S.No.	Correct Answer Key
39	A4
40	A1
41	A4
42	A3
43	A2
44	A1
45	A2
46	A4
47	A4
48	A3
49	A1
50	A4
51	A3
52	A2
53	A2
54	A1
55	A3
56	A2
57	A4
58	A3
59	A4
60	A3
61	A4
62	A2
63	A2
64	A2
65	A1
66	A4
67	A2
68	A4
69	A2
70	A1
71	A1
72	A3
73	A4
74	A4
75	A3

Note:

"In case answers found to be inaccurate due to typographical error or any other reason please sent mail to qbnimigrievance@gmail.com"