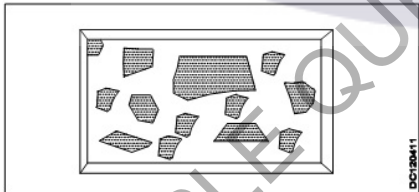


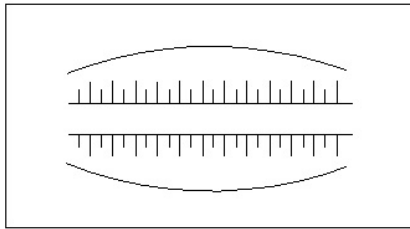
ALL INDIA TRADE TEST - 2024 FOR CRAFTSMEN
TRAINING SCHEME (CTS)
Trade Name: Draughtsman Civil
Year: 1st Year

Exam Date :
Exam Time :

Note:

1. Tick the correct option out of four alternatives provided
2. All questions carry equal marks (2 Marks each)
3. There is no negative marking

Sr. No.	Q ID	Question Body and Alternatives	Marks	Negative Marks
Trade Theory				
1	1	<p>What is the name of the rock that marble is extracted? उस चट्टान का क्या नाम है जिससे मार्बल निकाला जाता है?</p> <p>A1 : Metamorphic rock रूपांतरित चट्टान</p> <p>A2 : Foliated rock पत्तेदार चट्टान</p> <p>A3 : Sedimentary rock अवसादी चट्टान</p> <p>A4 : Igneous rock आग्नेय चट्टान</p>	2.0	0.00
Trade Theory				
2	2	<p>What is the name of stone dressing finish shown in the figure? चित्र में दिखाए गए स्टोन ड्रेसिंग फ़िनिश का क्या नाम है?</p>  <p>A1 : Boasted finish बोस्टेड फ़िनिश</p> <p>A2 : Hammer finish हेमर फ़िनिश</p> <p>A3 : Reticulated finish रेटिकुलेटेड फ़िनिश</p> <p>A4 : Polished finish पॉलिशड फ़िनिश</p>	2.0	0.00
Trade Theory				
3	3	<p>What is the name of the symbol shown in the figure? सिम्बल का नाम क्या है?</p>	2.0	0.00



A1
: Cutting

कटिंग

A2
: Embankment

एम्बैंकमेंट

A3
: Culvert

कल्वर्ट

A4
: Bridge

ब्रिज

Trade Theory

4	4	<p>What is the name of the scale that is denoted by 5 : 1? उस स्केल का नाम क्या है जिसे 5 : 1 से दर्शाया जाता है?</p> <p>A1 : Full scale फुल स्केल</p> <p>A2 : Plain scale प्लेन स्केल</p> <p>A3 : Reduced scale रिड्यूस्ड स्केल</p> <p>A4 : Enlarged scale इंलार्ज्ड स्केल</p>	2.0	0.00
---	---	---	-----	------

Trade Theory

5	5	<p>What is known as the capacity of material to permit water to pass through it under pressure? किसी पदार्थ की दबाव में पानी को उसमें से गुजरने देने की क्षमता को क्या कहा जाता है?</p> <p>A1 : Durability टिकाऊपन</p> <p>A2 : Permeability पारगम्यता</p> <p>A3 : Porosity सरंभ्रता</p> <p>A4 : Ductility लचीलापन</p>	2.0	0.00
---	---	---	-----	------

Trade Theory

6	6	<p>Which test is conducted to know the classification of lime? चूने का वर्गीकरण जानने के लिए कौन सा परीक्षण किया जाता है?</p> <p>A1 : Ball test बॉल टेस्ट</p> <p>A2 : Visual test विजुअल टेस्ट</p> <p>A3 : Impurity test इम्प्योरिटी टेस्ट</p>	2.0	0.00
---	---	--	-----	------

		A4 : Workability test "वर्कएबिलिटी टेस्ट"		
Trade Theory				
7	7	Which BIS code no is recommended for folding of drawing sheets? ड्राइंग शीट को फोल्ड करने के लिए किस BIS कोड को रिकमेंड करते है? A1 : IS 11664 - 1989 IS 11664 - 1989 A2 : IS 11664 - 1987 IS 11664 - 1987 A3 : IS 11664 - 1986 IS 11664 - 1986 A4 : IS 11664 - 1981 IS 11664 - 1981	2.0	0.00
Trade Theory				
8	8	What is the untrimmed size of A5 designation drawing sheet? अनट्रिम्ड A5 नाम की ड्राइंग शीट का प्रयुक्त आकार क्या है? A1 : 450 x 625 450 x 625 A2 : 330 x 450 330 x 450 A3 : 240 x 330 240 x 330 A4 : 165 x 240 165 x 240	2.0	0.00
Trade Theory				
9	9	What is the projection if the receding lines are drawn to $\frac{1}{2}$ scale? यदि आवर्ती रेखाएं $\frac{1}{2}$ स्केल पर आरेखित हो तो प्रोजेक्शन है? A1 : Cavalier projection कैवलियर प्रोजेक्शन A2 : Cabinet projection कैबिनेट प्रोजेक्शन A3 : Clinographic projection क्लिनोग्राफिक प्रोजेक्शन A4 : Axonometric projection एक्सोनोमेट्रिक प्रोजेक्शन	2.0	0.00
Trade Theory				
10	10	Which quadrilateral has all the sides are equal and angles are not at right angles? किस चतुर्भुज में सभी भुजाएँ समान हैं और कोण समकोण पर नहीं हैं? A1 : Rhombus विषमकोण A2 : Trapezoid समलम्ब A3 : Rectangle आयताकार A4 : Rhomboid विषमकोण	2.0	0.00

Trade Theory				
11	11	<p>Which rock has main content of calcium carbonate? किस चट्टान में कैल्शियम कार्बोनेट की मुख्य मात्रा होती है?</p> <p>A1 : Argillaceous rocks आर्गिलैसियस रॉक</p> <p>A2 : Siliceous rocks सिलीसियस रॉक</p> <p>A3 : Foliated rocks फोलिएटेड रॉक</p> <p>A4 : Calcareous rocks कैल्केरीअस रॉक</p>	2.0	0.00
Trade Theory				
12	12	<p>Where the plan is placed in third angle projection? थर्ड एंगल प्रोजेक्शन में प्लेन को कहाँ रखा गया है?</p> <p>A1 : Below elevation एलीवेशन के नीचे</p> <p>A2 : Above elevation एलीवेशन के ऊपर</p> <p>A3 : Left of elevation एलीवेशन के लेफ्ट</p> <p>A4 : Right of elevation एलीवेशन के राइट</p>	2.0	0.00
Trade Theory				
13	13	<p>What is the property of material to absorb water vapour from air? वायु से जलवाष्प को अवशोषित करने का पदार्थ का गुण क्या है?</p> <p>A1 : Hygroscopicity आर्द्रताग्राहीता</p> <p>A2 : Water absorption जल अवशोषण</p> <p>A3 : Permeability पारगम्यता</p> <p>A4 : Durability टिकाऊपन</p>	2.0	0.00
Trade Theory				
14	14	<p>Which test is conducted on stone to study minor constituents grain size? माइनर कंस्टीट्यूेंट ग्रेन साइज का अध्ययन करने के लिए स्टोन पर कौन सा टेस्ट किया जाता है?</p> <p>A1 : Freezing फ्रीजिंग</p> <p>A2 : Smiths स्मिथ</p> <p>A3 : Microscopic test माइक्रोस्कोपिक टेस्ट</p> <p>A4 : Hardness हार्डनेस</p>	2.0	0.00
Trade Theory				
15	15	<p>Name the process of removing about 20 cm depth of soil to a certain area for manufacturing of brick?</p>	2.0	0.00

		ईट के निर्माण के लिए एक निश्चित क्षेत्र में मिट्टी की लगभग 20 cm गहराई को हटाने की प्रक्रिया का नाम बताइए?		
		A1 : Unsoiling अनसॉइलिंग A2 : Tempering टेम्परिंग A3 : Blending ब्लेंडिंग A4 : Cleaning क्लीनिंग		
Trade Theory				
16	16	Which cement is more suitable for the construction of chemical plant and furnace? केमिकल प्लांट और फर्नेस के निर्माण के लिए कौन सी सीमेंट अधिक उपयुक्त है? A1 : Expanding cement एक्सपेंडिंग सीमेंट A2 : High alumina cement हाई एल्यूमिना सीमेंट A3 : Extra rapid hardening cement एक्स्ट्रा रैपिड हार्डनिंग सीमेंट A4 : Hydrophobic cement हाइड्रोफोबिक सीमेंट	2.0	0.00
Trade Theory				
17	17	How the unidirectional system of dimensions are read in engineering drawings? इंजीनियरिंग ड्राइंग में डाइमेंशन्स की यूनिडायरेक्शनल सिस्टम को कैसे पढ़ा जाता है? A1 : From the top of the drawing ड्राइंग के शीर्ष से A2 : From left side to right बायीं ओर से दायीं ओर A3 : From the bottom of drawing ड्राइंग के नीचे से A4 : From right side to left दायीं ओर से बायीं ओर	2.0	0.00
Trade Theory				
18	18	Which scale is generally used in MAPS? MAPS में आमतौर पर किस स्केल का उपयोग किया जाता है? A1 : 1:10 1:10 A2 : 1:100 1:100 A3 : 1:10000 1:10000 A4 : 1:1000000 1:1000000	2.0	0.00
Trade Theory				
19	19	How many grades are there in a portland cement? पोर्टलैंड सीमेंट में कितने ग्रेड होते हैं?	2.0	0.00

		A1 : 2 grades 2 ग्रेड A2 : 3 grades 3 ग्रेड A3 : 4 grades 4 ग्रेड A4 : 5 grades 5 ग्रेड		
Trade Theory				
20	20	Where is the rear view placed in first angle projection? फर्स्ट एंगल प्रोजेक्शन में रियर व्यू कहाँ रखा जाता है? A1 : Right side of right side view दाईं ओर के दृश्य का दाहिना भाग A2 : Bottom of elevation एलिवेशन का निचला भाग A3 : Left side of right side view दाईं ओर के दृश्य का बायां भाग A4 : Top of elevation ऊंचाई का शीर्ष	2.0	0.00
Trade Theory				
21	21	What percentage of gypsum is added in the manufacturing of cement? सीमेंट के निर्माण में जिप्सम का कितना प्रतिशत मिलाया जाता है? A1 : 7 - 10% 7 - 10% A2 : 5 - 7 % 5 - 7 % A3 : 3 - 4 % 3 - 4 % A4 : 1 - 2 % 1 - 2 %	2.0	0.00
Trade Theory				
22	22	Which BIS code is recommended for Engineering drawing practice ? इंजीनियरिंग ड्राइंग प्रैक्टिस के लिए कौन सा BIS कोड अनुशंसित है? A1 : IS: 9069 - 2001 IS: 9069 - 2001 A2 : IS: 11662 - 1983 IS: 11662 - 1983 A3 : IS: 962- 1989 IS: 962- 1989 A4 : IS: 10711 - 1986 IS: 10711 - 1986	2.0	0.00
Trade Theory				
23	23	What is the name of the given architectural symbol shown in figure? चित्र में दिखाए गए आर्किटेक्चरल सिम्बल का नाम क्या है?	2.0	0.00



A1
:

सिंक

A2
:

वॉश बेसिन

A3
:

टॉयलेट

A4
:

बाथ टब

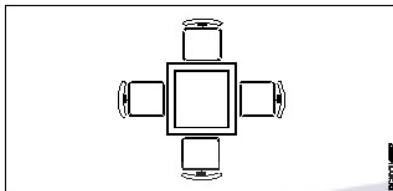
Trade Theory

24

24

What is the name of the given architectural symbol shown in figure?

चित्र में दिखाए गए आर्किटेक्चरल सिंबल का नाम क्या है?



A1
:

गैस स्टोव

A2
:

क्लोसेट

A3
:

शॉवर

A4
:

स्क्वायर डाइनिंग

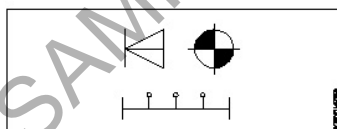
Trade Theory

25

25

What is the name of the given architectural symbol shown in figure?

चित्र में दिखाए गए आर्किटेक्चरल सिंबल का नाम क्या है?



A1
:

फ्लोर प्लेन सिंबल

A2
:

डाटा/कॉमा/TV सिंबल

A3
:

लाइटिंग सिंबल

A4
:

इलेक्ट्रिक सिंबल

Trade Theory

26

26

What is the name of the triangle that has three unequal sides and angles?

2.0


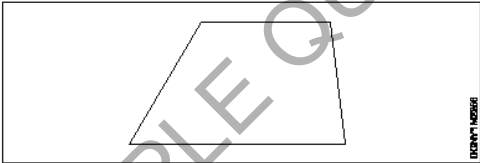
0.00

2.0

0.00

2.0

0.00

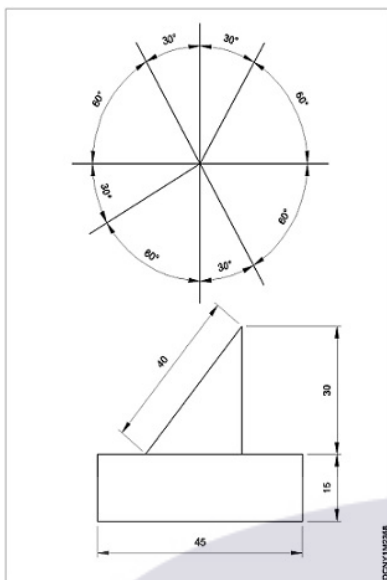
		<p>उस त्रिभुज का क्या नाम है जिसकी तीन भुजाएँ और कोण असमान हैं?</p> <p>A1 : Scalene triangle विषमबाहु त्रिकोण</p> <p>A2 : Isosceles triangle समद्विबाहु त्रिकोण</p> <p>A3 : Equilateral triangle समबाहु त्रिकोण</p> <p>A4 : Right angled triangle समकोण त्रिभुज</p>		
Trade Theory				
27	27	<p>What is the name of the line shown in figure? चित्र में दिखाई गई लाइन का नाम क्या है?</p>  <p>A1 : Perpendicular line लम्बवत रेखा</p> <p>A2 : Curved line वक्र रेखा</p> <p>A3 : Inclined line झुकी हुई (इन्क्लाइन्ड) रेखा</p> <p>A4 : Parallel line समानांतर रेखा</p>	2.0	0.00
Trade Theory				
28	28	<p>What is the name of the diagram shown in figure? चित्र में दिखाए गए डायग्राम का नाम क्या है?</p>  <p>A1 : Trapezoid समलम्ब चतुर्भुज</p> <p>A2 : Rhombus समचतुर्भुज</p> <p>A3 : Trapezium समलम्ब</p> <p>A4 : Parallelogram समानान्तर चतुर्भुज</p>	2.0	0.00
Trade Theory				
29	29	<p>What is the sum of the interior angle of Hexagon corresponding to the external angle? षट्कोण के बाह्य कोण के संगत आंतरिक कोण का योग क्या है?</p> <p>A1 : 270° 270°</p>	2.0	0.00

- A2
: 90°
90°
A3
: 120°
120°
A4
: 180°
180°

Trade Theory

30 30 What is the method of dimensioning shown in figure?
चित्र में दर्शाई गई डायमेंशनिंग निर्धारण की मेथड क्या है?

2.0 0.00

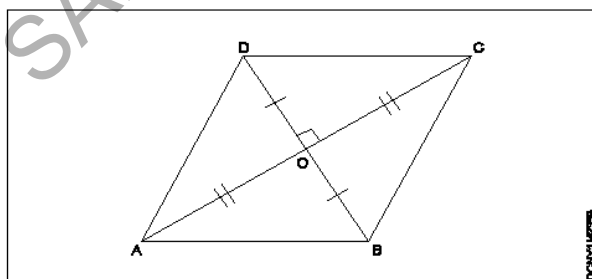


- A1
: Aligned system
अलाइन्ड सिस्टम
A2
: Unidirectional system
यूनिडायरेक्शनल सिस्टम
A3
: Chain dimension
चेन डायमेंशन
A4
: Parallel dimension
पैरेलल डायमेंशन

Trade Theory

31 31 What is the name of the diagram shown in figure?
चित्र में दिखाए गए डायग्राम का नाम क्या है?

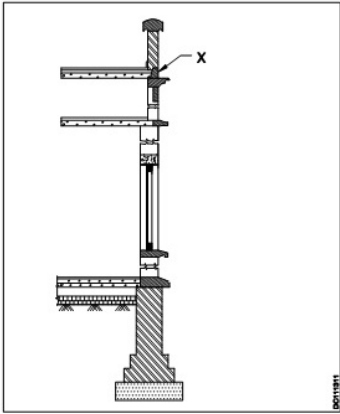
2.0 0.00

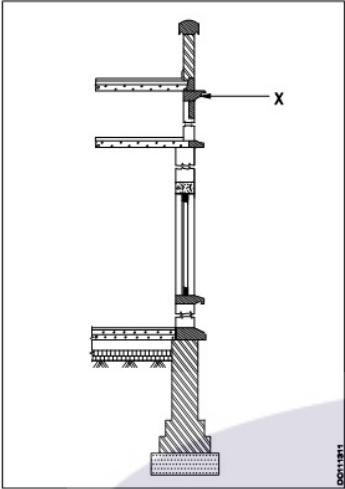


- A1
: Square
वर्ग
A2
: Rectangle
आयताकार
A3
: Trapezoid

		<p>समलंब चतुर्भुज</p> <p>A4 : Rhombus</p> <p>समचतुर्भुज</p>		
Trade Theory				
32	32	<p>What does the factor 1:1 represents?</p> <p>फैक्टर 1:1 क्या दर्शाता है?</p> <p>A1 : Enlarging scale</p> <p>एनलार्जिंग स्केल</p> <p>A2 : Reducing scale</p> <p>रिड्यूसिंग स्केल</p> <p>A3 : Full scale</p> <p>फुल स्केल</p> <p>A4 : Chord scale</p> <p>कॉर्ड स्केल</p>	2.0	0.00
Trade Theory				
33	33	<p>What does the factor 2:1 represents?</p> <p>फैक्टर 2:1 क्या दर्शाता है?</p> <p>A1 : Enlarging scale</p> <p>एनलार्जिंग स्केल</p> <p>A2 : Reducing scale</p> <p>रिड्यूसिंग स्केल</p> <p>A3 : Full scale</p> <p>फुल स्केल</p> <p>A4 : Chord scale</p> <p>कॉर्ड स्केल</p>	2.0	0.00
Trade Theory				
34	34	<p>Which scale is used in the Isometric projection?</p> <p>आइसोमेट्रिक प्रोजेक्शन में किस स्केल का उपयोग किया जाता है?</p> <p>A1 : True scale</p> <p>ट्रू स्केल</p> <p>A2 : Isometric scale</p> <p>आइसोमेट्रिक स्केल</p> <p>A3 : Vernier scale</p> <p>वर्नियर स्केल</p> <p>A4 : Chord scale</p> <p>कॉर्ड स्केल</p>	2.0	0.00
Trade Theory				
35	35	<p>Which projection has projector from the object parallel to each other and incline to the plane?</p> <p>किस प्रोजेक्शन में ऑब्जेक्ट से प्रोजेक्टर एक दूसरे के समानांतर और प्लेन की ओर झुके होते हैं?</p> <p>A1 : Isometric projection</p> <p>आइसोमेट्रिक प्रोजेक्शन</p> <p>A2 : Oblique projection</p> <p>ऑब्लिक प्रोजेक्शन</p> <p>A3 : Orthographic projection</p> <p>ऑर्थोग्राफिक प्रोजेक्शन</p>	2.0	0.00

		A4 : Isometric view आइसोमेट्रिक प्रोजेक्शन		
Trade Theory				
36	36	Which projection has projector from the object perpendicular to the plane? किस प्रोजेक्शन में ऑब्जेक्ट से प्लेन तक प्रोजेक्टर लंबवत होता है? A1 : Isometric projection आइसोमेट्रिक प्रोजेक्शन A2 : Oblique projection ऑब्लिक प्रोजेक्शन A3 : Orthographic projection ऑर्थोग्राफिक प्रोजेक्शन A4 : Perspective projection पर्सपेक्टिव प्रोजेक्शन	2.0	0.00
Trade Theory				
37	37	Which is the other name of the perspective view? पर्सपेक्टिव व्यू का दूसरा नाम क्या है? A1 : Photographic view फोटोग्राफिक व्यू A2 : Oblique view ऑब्लिक व्यू A3 : Isometric view आइसोमेट्रिक व्यू A4 : Orthographic view ऑर्थोग्राफिक व्यू	2.0	0.00
Trade Theory				
38	38	What will be at the same height as that of station point and will lie on the horizon line? स्टेशन बिंदु के समान ऊंचाई पर क्या होगा और क्षितिज रेखा (हॉरिज़न लाइन) पर स्थित होगा? A1 : Focus फोकस A2 : Vanishing point लुप्त बिंदु A3 : Eccentricity उत्केन्द्रता A4 : Station point स्टेशन बिंदु	2.0	0.00
Trade Theory				
39	39	Where should be the left side view drawn at 3rd angle projection in relation to elevation? एलिवेशन के संबंध में 3rd एंगल के प्रोजेक्शन पर लेफ्ट साइड व्यू कहाँ ड्रा किया जाना चाहिए? A1 : Above the elevation एलिवेशन से ऊपर A2 : Below the elevation एलिवेशन से नीचे A3 : To the right of elevation एलिवेशन के राइट ओर A4 : To the left of elevation एलिवेशन के लैफ्ट ओर	2.0	0.00

		एलिवेशन के लेफ्ट ओर		
		Trade Theory		
40	40	<p>Where should be the left side view drawn at 1st angle projection in relation to elevation? एलिवेशन के संबंध में 1st एंगल के प्रोजेक्शन पर लेफ्ट साइड व्यू कहाँ ड्रा किया जाना चाहिए?</p> <p>A1 : Above the elevation एलिवेशन से ऊपर</p> <p>A2 : Below the elevation एलिवेशन से नीचे</p> <p>A3 : To the right of elevation एलिवेशन के दाईं ओर</p> <p>A4 : To the left of elevation एलिवेशन के बाईं ओर</p>	2.0	0.00
		Trade Theory		
41	41	<p>What is the water absorption percentage for bricks? ईंटों के लिए जल अवशोषण प्रतिशत क्या है?</p> <p>A1 : <16% <16%</p> <p>A2 : <30% <30%</p> <p>A3 : >50% >50%</p> <p>A4 : >35% >35%</p>	2.0	0.00
		Trade Theory		
42	42	<p>What is the recommended slumps of concrete for road construction? सड़क निर्माण के लिए कंक्रीट की अनुशंसित स्लंप क्या है?</p> <p>A1 : 40 to 50 40 से 50</p> <p>A2 : 70 to 80 70 से 80</p> <p>A3 : 30 to 40 30 से 40</p> <p>A4 : 20 to 40 20 से 40</p>	2.0	0.00
		Trade Theory		
43	43	<p>What is the part marked as X shown in the figure? चित्र में दिखाए गए X के रूप में चिह्नित भाग क्या है?</p> 	2.0	0.00

		<p>A1 : Blocking course ब्लॉकिंग कोर्स</p> <p>A2 : Cornice कॉर्निस</p> <p>A3 : Corbel कार्टेल</p> <p>A4 : Lintel लिंग्टल</p>		
Trade Theory				
44	44	<p>What is the part marked as X shown in the figure? चित्र में दिखाए गए X के रूप में चिह्नित भाग क्या है?</p>  <p>A1 : Corbel कॉर्बल</p> <p>A2 : Cornice कॉर्निस</p> <p>A3 : Blocking ब्लॉकिंग</p> <p>A4 : String स्ट्रिंग</p>	2.0	0.00
Workshop Calculation and Science				
45	45	<p>Which metal contains iron as a major content? इनमें से किस धातु में प्रमुख सामग्री के रूप में लोहा होता है?</p> <p>A1 : Brass metal पीतल धातु</p> <p>A2 : Bronze metal ब्रॉज धातु</p> <p>A3 : Zinc ज़िंक</p> <p>A4 : Ferrous metal लोह धातु</p>	2.0	0.00
Workshop Calculation and Science				
46	46	<p>Which property of metal has its power of returning to its original shape after the applied force is released? धातु की कौन सा गुण बल लगाने पर विरूपित तथा बल हटाने पर वापस अपने पूर्ववस्था में आने की क्षमता रखता है?</p> <p>A1 : Malleability</p>	2.0	0.00

		आघातवर्धनीयता A2 : Tenacity दृढ़ता A3 : Elasticity प्रत्यास्तथा A4 : Plasticity सुघट्यता		
Workshop Calculation and Science				
47	47	Which among the following is an insulator? निम्नलिखित में से कौन एक कुचालक है? A1 : Copper तांबा A2 : Aluminium एल्युमिनियम A3 : Silver चाँदी A4 : Mica मिका	2.0	0.00
Workshop Calculation and Science				
48	48	What is termed as the quantity of matter contained in a body? वस्तु में निहित पदार्थ की मात्रा को क्या कहा जाता है? A1 : Density घनत्व A2 : Volume आयतन A3 : Mass द्रव्यमान A4 : Specific gravity विशिष्ट गुरुत्व	2.0	0.00
Workshop Calculation and Science				
49	49	What is called mass per unit volume of a substances? किसी पदार्थ के द्रव्यमान प्रति इकाई आयतन को क्या कहते हैं? A1 : Mass द्रव्यमान A2 : Weight भार A3 : Density घनत्व A4 : Volume आयतन	2.0	0.00
Workshop Calculation and Science				
50	50	What is the S.I unit of heat? ऊष्मा की एस.आई. इकाई क्या है? A1 : Calorie Calorie	2.0	0.00

		A2 : Joule Joule A3 : Centigrade heat unit Centigrade heat unit A4 : British thermal unit British thermal unit		
Employability Skills				
51	51	Fill in the blank with correct word. "They _____ good friends" रिक्त में सही शब्द भरें। "They _____ good friends" A1 : is is A2 : am am A3 : are are A4 : was was	2.0	0.00
Employability Skills				
52	52	Fill in the blank with present progressive tense of the verb. "The train _____ through the tunnel" क्रिया के वर्तमान प्रगतिशील काल के साथ रिक्त स्थान भरें। "The train _____ through the tunnel" A1 : passed passed A2 : is passing is passing A3 : had passed had passed A4 : was passing was passing	2.0	0.00
Employability Skills				
53	53	Fill in the blank with proper interrogative adjective. _____ are you going? उचित ईटोरोगेटिव विशेषण के साथ रिक्त स्थान भरें। _____ are you going? A1 : Who Who A2 : Where Where A3 : Which Which A4 : What What	2.0	0.00
Employability Skills				
54	54	Fill in the blank with proper pronoun. "I made this cake _____" रिक्त स्थान में उचित सर्वनाम के साथ भरें। "I made this cake _____" A1 : myself myself A2 : yourself yourself	2.0	0.00

		A3 himself : himself A4 itself : itself		
Employability Skills				
55	55	Fill in the blank with proper pronoun. "She made this cake _____" रिक्त स्थान में उचित सर्वनाम के साथ भरें। "She made this cake _____" A1 itself : itself A2 myself : myself A3 herself : herself A4 himself : himself	2.0	0.00
Employability Skills				
56	56	Fill in the blank with proper reflexive pronoun. "She has hurt _____" रिक्त स्थान में उचित प्रतिवर्ती सर्वनाम के साथ भरें। "She has hurt _____" A1 myself : myself A2 herself : herself A3 himself : himself A4 itself : itself	2.0	0.00
Employability Skills				
57	57	Fill in the blank with suitable adjective for the given sentence "The little girl's..... eyes revealed her mischief" दिए गए वाक्य के लिए उपयुक्त विशेषण के साथ रिक्त स्थान भरें "The little girl's..... eyes revealed her mischief" A1 chubby : chubby A2 weak : weak A3 short sighted : short sighted A4 twinkling : twinkling	2.0	0.00
Employability Skills				
58	58	Fill in the blank with suitable place preposition. "My house is _____ the third floor" उपयुक्त स्थान पूर्वसर्ग के साथ रिक्त स्थान भरें। "My house is _____ the third floor" A1 at : at A2 in : in A3 on : on	2.0	0.00

		A4 : under under		
Employability Skills				
59	59	Fill in the correct question word. “_____ is the speaker at the function?” सही प्रश्न शब्द भरें। “_____ is the speaker at the function?” A1 : What What A2 : When When A3 : Why Why A4 : Who Who	2.0	0.00
Employability Skills				
60	60	Low level language is also called _____. निम्न स्तर की भाषा को _____ भी कहा जाता है A1 : source code सोर्स कोड A2 : middle ware मध्यस्थ A3 : machine language मशीन भाषा A4 : assembly language असेंबली भाषा	2.0	0.00
Employability Skills				
61	61	Pronunciation refers to _____. उच्चारण _____ को संदर्भित करता है A1 : diphtong संयुक्त स्वर A2 : consonant व्यंजन A3 : punctuation विराम चिह्न A4 : production of sound ध्वनि का उत्पादन	2.0	0.00
Employability Skills				
62	62	Re-arrange the following set of words into meaningful sentence. “teacher / school / worked / she / a / as”. शब्दों के निम्नलिखित सेट को सार्थक वाक्य में फिर से व्यवस्थित करें। “teacher / school / worked / she / a / as” A1 : School worked as a she teacher School worked as a she teacher A2 : She worked as a school teacher She worked as a school teacher A3 : She teacher worked as a school She teacher worked as a school A4 : Worked she as a school teacher Worked she as a school teacher	2.0	0.00

Employability Skills			
63	63	<p>Rise and fall of pitch of voice is called _____.</p> <p>आवाज की पिच का उठना और गिरना _____ कहलाता है</p> <p>A1 : vowel स्वर</p> <p>A2 : intonation आवाज़ का उतार-चढ़ाव</p> <p>A3 : consonant व्यंजन</p> <p>A4 : pronunciation उच्चारण</p>	2.0 0.00
Employability Skills			
64	64	<p>The word that expresses a sudden and strong feeling is called _____.</p> <p>वह शब्द जो अचानक और मजबूत भावना व्यक्त करता है उसे _____ कहा जाता है</p> <p>A1 : punctuation विराम चिह्न</p> <p>A2 : interjection विस्मयादिबोधक</p> <p>A3 : conjunction संयोजन के रूप</p> <p>A4 : apostrophe एपोस्ट्रॉफी</p>	2.0 0.00
Employability Skills			
65	65	<p>When you greet higher official's such as Teacher, Instructor or Supervisor, you should use _____.</p> <p>जब आप शिक्षक, प्रशिक्षक या पर्यवेक्षक जैसे उच्च अधिकारियों का अभिवादन करते हैं, तो आपको _____ का उपयोग करना चाहिए</p> <p>A1 : Good morning Good morning</p> <p>A2 : Hello Hello</p> <p>A3 : Hey Hey</p> <p>A4 : Hi Hi</p>	2.0 0.00
Employability Skills			
66	66	<p>Which is a silent letter in the word "ANSWER"?</p> <p>"ANSWER" शब्द में कौन सा मूक अक्षर है?</p> <p>A1 : R R</p> <p>A2 : E E</p> <p>A3 : S S</p> <p>A4 : W W</p>	2.0 0.00
Employability Skills			
67	67	<p>Which one is a "Do's" of discussion etiquettes?</p> <p>चर्चा के शिष्टाचारों में से कौन सा "Do's" है?</p>	2.0 0.00

		<p>A1 : Loose your temper अपना आपा खोएं</p> <p>A2 : Listen to others दूसरों की सुनें</p> <p>A3 : Talk about irrelevant details अप्रासंगिक विवरण के बारे में बात करें</p> <p>A4 : Use impolite or rude language अभद्र या अशिष्ट भाषा का उपयोग करें</p>		
Employability Skills				
68	68	<p>Which one is a “Don’t” of discussion etiquette? चर्चा शिष्टाचार का “Don’t” है?</p> <p>A1 : Be open minded दिमाग खुला रखना</p> <p>A2 : Use moderate tone मध्यम स्वर का प्रयोग करें</p> <p>A3 : Listen to others दूसरों की सुनें</p> <p>A4 : Argue unnecessary अनावश्यक बहस करें</p>	2.0	0.00
Employability Skills				
69	69	<p>Which one is a brain of computer? कंप्यूटर का मस्तिष्क कौन सा है?</p> <p>A1 : Keyboard कीबोर्ड</p> <p>A2 : CPU सी पी यू</p> <p>A3 : Monitor मॉनिटर</p> <p>A4 : Hard disk हार्ड डिस्क</p>	2.0	0.00
Employability Skills				
70	70	<p>Which one is an exclamatory sentence? कौन सा विस्मयादिबोधक वाक्य है?</p> <p>A1 : What a beautiful house it is! What a beautiful house it is!</p> <p>A2 : It is a beautiful house. It is a beautiful house.</p> <p>A3 : Is it a beautiful house? Is it a beautiful house?</p> <p>A4 : Your house is beautiful. Your house is beautiful.</p>	2.0	0.00
Employability Skills				
71	71	<p>Which one is in active voice? सक्रिय आवाज में कौन सा है?</p> <p>A1 : Ram has passed the exam.</p>	2.0	0.00

		<p>Ram has passed the exam.</p> <p>A2 : The ball was caught by him.</p> <p>The ball was caught by him.</p> <p>A3 : The book was being read by her.</p> <p>The book was being read by her.</p> <p>A4 : We were driven home by dad.</p> <p>We were driven home by dad.</p>		
Employability Skills				
72	72	<p>Which one is in passive voice? निष्क्रिय आवाज में कौन सा है?</p> <p>A1 : Mohan is painting a house.</p> <p>Mohan is painting a house.</p> <p>A2 : She was reading a book.</p> <p>She was reading a book.</p> <p>A3 : Her birthday was celebrated by us.</p> <p>Her birthday was celebrated by us.</p> <p>A4 : I have seen that movie.</p> <p>I have seen that movie.</p>	2.0	0.00
Employability Skills				
73	73	<p>Which one is NOT a conjunction? कौन सा एक संयोजन नहीं है?</p> <p>A1 : And</p> <p>And</p> <p>A2 : Or</p> <p>Or</p> <p>A3 : But</p> <p>But</p> <p>A4 : On</p> <p>On</p>	2.0	0.00
Employability Skills				
74	74	<p>Which one is NOT a benefit of the role playing? भूमिका निभाने का कौन सा लाभ नहीं है?</p> <p>A1 : Builds confidence</p> <p>आत्मविश्वास पैदा करता है</p> <p>A2 : Develops listening skill</p> <p>सुनने का कौशल विकसित करता है</p> <p>A3 : Develops creative problem-solving skill</p> <p>रचनात्मक समस्या-समाधान कौशल विकसित करता है</p> <p>A4 : Develops boredom</p> <p>बोरियत पैदा करता है</p>	2.0	0.00
Employability Skills				
75	75	<p>Which one is NOT a vowel? कौन सा स्वर नहीं है?</p> <p>A1 : a</p> <p>a</p> <p>A2 : e</p> <p>e</p>	2.0	0.00

		e		
		A3 f		
		:		
		f		
		A4 i		
		:		
		i		


 SAMPLE QUESTION PAPER SET 2

Draughtsman Civil - 1st Year - Set 2

S.No.	Correct Answer Key
1	A1
2	A3
3	A2
4	A4
5	A2
6	A1
7	A3
8	A4
9	A2
10	A1
11	A4
12	A2
13	A1
14	A3
15	A1
16	A2
17	A3
18	A4
19	A2
20	A3
21	A3
22	A3
23	A3
24	A4
25	A3
26	A1
27	A4
28	A1
29	A4
30	A1
31	A4
32	A3
33	A1
34	A2
35	A2
36	A3
37	A1
38	A2

S.No.	Correct Answer Key
39	A4
40	A3
41	A1
42	A4
43	A1
44	A2
45	A4
46	A3
47	A4
48	A3
49	A3
50	A2
51	A3
52	A2
53	A2
54	A1
55	A3
56	A2
57	A4
58	A3
59	A4
60	A3
61	A4
62	A2
63	A2
64	A2
65	A1
66	A4
67	A2
68	A4
69	A2
70	A1
71	A1
72	A3
73	A4
74	A4
75	A3

Note:

"In case answers found to be inaccurate due to typographical error or any other reason please sent mail to qbnimigrievance@gmail.com"