

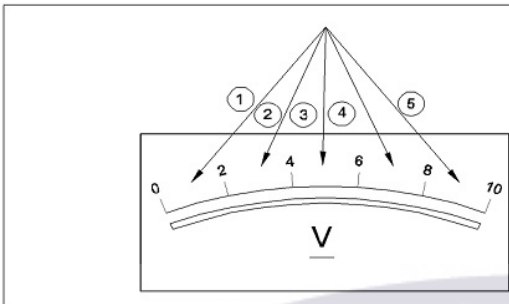

**ALL INDIA TRADE TEST - 2024 FOR CRAFTSMEN**  
**TRAINING SCHEME (CTS)**  
**Trade Name: Electronic Mechanic**  
**Year: 1st Year**

**Exam Date :**  
**Exam Time :**




**Note:**

1. Tick the correct option out of four alternatives provided
2. All questions carry equal marks (2 Marks each)
3. There is no negative marking

Sr. No.	Q ID	Question Body and Alternatives	Marks	Negative Marks
Trade Theory				
1	1	<p>Which terminal of the meter is connected for measuring electrical quantity?  विद्युत मात्रा को मापने के लिए मीटर का कौन सा टर्मिनल जुड़ा हुआ है?</p> <p>A1 : Input terminal इनपुट टर्मिनल</p> <p>A2 : Output terminal आउटपुट टर्मिनल</p> <p>A3 : Meter movement मीटर की आवाजाही</p> <p>A4 : Pointer mechanism सूचक तंत्र</p>	2.0	0.00
Trade Theory				
2	2	<p>How electrical quantity is measured by the meter marked on it?  मीटर पर अंकित विद्युत मात्रा को किस प्रकार मापा जाता है?</p> <p>A1 : Using colour codes रंग कोड का उपयोग करना</p> <p>A2 : Printing the values मान छापना</p> <p>A3 : Using parameter symbols पैरामीटर प्रतीकों का उपयोग करना</p> <p>A4 : Directly printing the specifications सीधे विनिर्देशों को मुद्रित करना</p>	2.0	0.00
Trade Theory				
3	3	<p>Which electrical parameter is measured by megger?  मेगर द्वारा कौन सा विद्युत पैरामीटर मापा जाता है?</p> <p>A1 : Current करंट</p> <p>A2 : Voltage वोल्टेज</p> <p>A3 : Insulation resistance इन्सुलेशन प्रतिरोध</p> <p>A4 : Frequency आवृत्ति</p>	2.0	0.00

Trade Theory				
4	4	<p>What are insulators called? इन्सुलेटर किसे कहते हैं?</p> <p>A1 : Thyristors थायरिस्टर</p> <p>A2 : Molecules अणु</p> <p>A3 : Dielectric परावैद्युत</p> <p>A4 : Semiconductors अर्धचालक</p>	2.0	0.00
Trade Theory				
5	5	<p>What is the value of each division marked by numbers on the voltmeter shown in the figure? चित्र में दिखाए गए वोल्टमीटर पर संख्याओं द्वारा अंकित प्रत्येक भाग का मान क्या है?</p> <div></div> <p>A1 : 1 V 1 V</p> <p>A2 : 2 V 2 V</p> <p>A3 : 4 V 4 V</p> <p>A4 : 5 V 5 V</p>	2.0	0.00
Trade Theory				
6	6	<p>What is the ideal AC voltage in domestic electricity? घरेलू बिजली में आईडियल AC वोल्टेज क्या होती है?</p> <p>A1 : 440V 440V</p> <p>A2 : 240V 240V</p> <p>A3 : 150V 150V</p> <p>A4 : 110V 110V</p>	2.0	0.00
Trade Theory				
7	7	<p>What symbol on the meter indicates the measurement of voltage for both AC and DC? मीटर पर कौन सा प्रतीक AC और DC दोनों के लिए वोल्टेज की माप को दर्शाता है?</p> <p>A1 :</p> <div></div>	2.0	0.00

		<p>A2 :</p> <p><math>\square</math></p> <p>A3 :</p> <p><math>\square</math></p> <p>A4 :</p> <p><math>\square</math></p>		
Trade Theory				
8	8	<p>What is the degree for AC signal to complete one cycle? AC सिग्नल के एक साइकिल पूरा करने की डिग्री क्या है?</p> <p>A1 : 90°</p> <p>90°</p> <p>A2 : 180°</p> <p>180°</p> <p>A3 : 270°</p> <p>270°</p> <p>A4 : 360°</p> <p>360°</p>	2.0	0.00
Trade Theory				
9	9	<p>What is the purpose of test lamp? टेस्ट लैम्प का उद्देश्य क्या है?</p> <p>A1 : To measure voltage वोल्टेज को मापने के लिए</p> <p>A2 : To measure current करंट मापने के लिए</p> <p>A3 : To identify phase and current फेज और धारा की पहचान करने के लिए</p> <p>A4 : To measure power पावर को मापने के लिए</p>	2.0	0.00
Trade Theory				
10	10	<p>What is the name of the voltage measured between any two lines in a three phase AC circuit? तीन फेज AC सर्किट में किन्हीं दो लाइनों के बीच मापी गई वोल्टेज का नाम क्या है?</p> <p>A1 : Phase voltage फेज़ वोल्टेज</p> <p>A2 : Line voltage लाइन वोल्टेज</p> <p>A3 : Supply voltage सप्लाय वोल्टेज</p> <p>A4 : Load voltage लोड वोल्टेज</p>	2.0	0.00
Trade Theory				
11	11	<p>Which electric measuring instrument is used for measuring potential difference? संभावित अंतर को मापने के लिए किस विद्युत मापक यंत्र का उपयोग किया जाता है?</p>	2.0	0.00

		A1 : Volt meter वोल्ट मीटर A2 : Ammeter एम्मीटर A3 : Galvanometer गैल्वनोमीटर A4 : Ohm meter ओह्ममीटर		
Trade Theory				
12	12	Which electrical measuring instrument is used to measure current? करंट मापने के लिए किस विद्युत मापक यंत्र का उपयोग किया जाता है?  A1 : Volt meter वोल्ट मीटर A2 : Ammeter एम्मीटर A3 : Ohm meter ओह्ममीटर A4 : Watt meter वॉटमीटर	2.0	0.00
Trade Theory				
13	13	How ammeter is connected for the measurement of current in an electrical circuit? विद्युत परिपथ में विद्युत धारा के मापन के लिए एमीटर को कैसे जोड़ा जाता है?  A1 : Across the source स्रोत के पार A2 : Across the load लोड के पार A3 : In parallel with fuse फ्यूज के समानांतर A4 : In series with load लोड के साथ श्रृंखला में	2.0	0.00
Trade Theory				
14	14	What is the symbol for moving iron type measuring instrument? चलिंग आयरन मापक यंत्र का प्रतीक क्या है?  A1 :  A2 :  A3 :  A4 :	2.0	0.00



Trade Theory			
15	15	<p>What is the other name for tong tester? टोंग टेस्टर का दूसरा नाम क्या है?</p> <p>A1 : Clamp meter क्लैप मीटर</p> <p>A2 : Multimeter मल्टीमीटर</p> <p>A3 : Volt meter वोल्ट मीटर</p> <p>A4 : Ammeter एमीटर</p>	2.0 0.00
Trade Theory			
16	16	<p>Which is a contact less meter? कौन सा संपर्क रहित मीटर है?</p> <p>A1 : Ammeter एमीटर</p> <p>A2 : Volt meter वोल्ट मीटर</p> <p>A3 : Multimeter मल्टीमीटर</p> <p>A4 : Clamp meter क्लैप मीटर</p>	2.0 0.00
Trade Theory			
17	17	<p>Which current is used in clamp meter? क्लैप मीटर में किस धारा का उपयोग किया जाता है?</p> <p>A1 : Large alternating current लार्ज अल्टरनेटिंग करंट</p> <p>A2 : Small alternating current लघु अल्टरनेटिंग करंट</p> <p>A3 : Small direct current लघु डायरेक्ट करंट</p> <p>A4 : Large direct current बड़ी प्रत्यक्ष करंट</p>	2.0 0.00
Trade Theory			
18	18	<p>What is the name of the pair of metal strips used in battery cell? बैटरी सेल में प्रयुक्त धातु स्ट्रिप्स की जोड़ी का क्या नाम है?</p> <p>A1 : Cathode कैथोड</p> <p>A2 : Electrolyte इलेक्ट्रोलाइट</p> <p>A3 : Electrodes इलेक्ट्रोड</p> <p>A4 : Carbon rod</p>	2.0 0.00

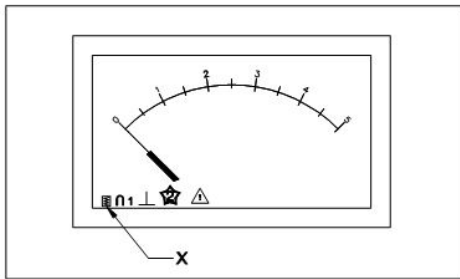
		कार्बन रॉड		
		Trade Theory		
19	19	Which electrolyte is used in lead-acid battery? लीड-एसिड बैटरी में किस इलेक्ट्रोलाइट का उपयोग किया जाता है?  A1 : Zinc chloride जिंक क्लोराइड A2 : Sulphuric acid सल्फ्यूरिक एसिड A3 : Alkaline solution क्षारीय घोल A4 : Potassium hydroxide solution पोटेशियम हाइड्रॉक्साइड समाधान	2.0	0.00
		Trade Theory		
20	20	How batteries are classified? बैटरी को कैसे वर्गीकृत किया जाता है?  A1 : Dry cells and alkaline cells सूखी कोशिकाएँ और क्षारीय कोशिकाएँ A2 : Button cells and lithium cells बटन सेल और लिथियम सेल A3 : Primary cells and secondary cells प्राथमिक कोशिकाएँ और द्वितीयक कोशिकाएँ A4 : Cylindrical cells and rectangular cells बेलनाकार कोशिकाएँ और आयताकार कोशिकाएँ	2.0	0.00
		Trade Theory		
21	21	What is the colour of positive electrode in a fully charged lead - acid battery? पूरी तरह से चार्ज लीड-एसिड बैटरी में धनात्मक इलेक्ट्रोड का रंग कैसा होता है?  A1 : Red लाल A2 : Grey ग्रे A3 : Reddish brown लाल भूरे A4 : Spongy grey स्पंजी ग्रे	2.0	0.00
		Trade Theory		
22	22	Which method is adopted to charge a car battery with voltage rating of 2.3 V per cell? 2.3 V प्रति सेल की वोल्टेज रेटिंग के साथ कार बैटरी चार्ज करने के लिए कौन सी विधि अपनाई जाती है?  A1 : Float charging method फ्लोट चार्जिंग विधि A2 : Trickle charging method ट्रिकल चार्जिंग विधि A3 : Constant current charging method लगातार चालू चार्जिंग विधि A4 : Constant voltage charging method लगातार वोल्टेज चार्ज करने की विधि	2.0	0.00
		Trade Theory		

23	23	<p>What is the specific gravity of concentrated sulphuric acid?          केंद्रित सल्फ्यूरिक एसिड का विशिष्ट गुरुत्व क्या है?</p> <p>A1 : 1.175 1.175</p> <p>A2 : 1.245 1.245</p> <p>A3 : 1.835 1.835</p> <p>A4 : 1.945 1.945</p>	2.0	0.00
Trade Theory				
24	24	<p>Which electrolyte is used in the maintenance of free lead acid batteries?          फ्री लेड एसिड बैटरियों के रखरखाव में किस इलेक्ट्रोलाइट का उपयोग किया जाता है?</p> <p>A1 : Gelled electrolyte इलेक्ट्रोलाइट मिला हुआ</p> <p>A2 : Sodium electrolyte सोडियम इलेक्ट्रोलाइट</p> <p>A3 : Ceramic electrolyte सिरेमिक इलेक्ट्रोलाइट</p> <p>A4 : Potassium electrolyte पोटासियम इलेक्ट्रोलाइट</p>	2.0	0.00
Trade Theory				
25	25	<p>What is the rated voltage of a single cell in lead-acid battery?          लेड-एसिड बैटरी में एकल सेल का रेटेड वोल्टेज कितना होता है?</p> <p>A1 : 1.5 V 1.5 V</p> <p>A2 : 2.0 V 2.0 V</p> <p>A3 : 2.2 V 2.2 V</p> <p>A4 : 12 V 12 V</p>	2.0	0.00
Trade Theory				
26	26	<p>What is the effect on a secondary cell supplying current to the load?          लोड करने के लिए वर्तमान में आपूर्ति करने वाले माध्यमिक सेल पर क्या प्रभाव पड़ता है?</p> <p>A1 : Leaking लीक</p> <p>A2 : Charging चार्ज</p> <p>A3 : Unloading उतराई</p> <p>A4 : Discharging निर्वहन</p>	2.0	0.00
Trade Theory				
27	27	<p>What is the total voltage of six 1.5 V cells, connected in a series?          एक श्रृंखला में जुड़े छह 1.5 V सेलों का कुल वोल्टेज क्या है?</p>	2.0	0.00

		A1 : 3 VDC 3 VDC A2 : 6 VDC 6 VDC A3 : 9 VDC 9 VDC A4 : 12 VDC 12 VDC		
Trade Theory				
28	28	Which type of connection increases the capacity rating of two or more batteries? किस प्रकार का कनेक्शन दो या दो से अधिक बैटरियों की क्षमता रेटिंग बढ़ाता है?  A1 : Parallel समानांतर A2 : Series सीरीज A3 : Series - Parallel सीरीज - पैरेलल A4 : Opposite विपरीत	2.0	0.00
Trade Theory				
29	29	What is the full form of PMMC meter? PMMC मीटर का पूर्ण रूप क्या है?  A1 : Parallel Magnet Moving Coil Meter Parallel Magnet Moving Coil Meter A2 : Position Magnet Moving Coil Meter Position Magnet Moving Coil Meter A3 : Principle Magnet Moving Coil Meter Principle Magnet Moving Coil Meter A4 : Permanent Magnet Moving Coil Meter Permanent Magnet Moving Coil Meter	2.0	0.00
Trade Theory				
30	30	Which bearing supports the shaft of a moving coil assembly in a PMMC instrument? कौन सा बियरिंग PMMC उपकरण में चल कुंडल संयोजन के शाफ्ट को सपोर्ट करता है?  A1 : Steel bearings स्टील बीयरिंग A2 : Bush bearings बुश बेयरिंग A3 : Jeweled bearings जड़ित बेयरिंग A4 : Gun metal bearings बंदूक धातु बीयरिंग	2.0	0.00
Trade Theory				
31	31	Which characteristic enable the deflection of pointer in the attraction type moving iron meter? कौन सी विशेषता आकर्षण प्रकार के गतिशील लौह मीटर में पॉइंटर के विक्षेपण को सक्षम बनाती है?  A1 : Weight of the soft iron pieces नरम लोहे के टुकड़ों का वजन	2.0	0.00



		<p>A2 : Deflection is inversely proportional to current विक्षेपण धारा के व्युत्क्रमानुपाती होता है</p> <p>A3 : Deflection is independent of current direction विक्षेपण वर्तमान दिशा से स्वतंत्र है</p> <p>A4 : Deflecting and controlling torques are unequal टार्कों की अवहेलना और नियंत्रण असमान है</p>		
Trade Theory				
32	32	<p>Which parameter is measured by a multimeter? कौन सा पैरामीटर एक मल्टीमीटर द्वारा मापा जाता है?</p> <p>A1 : Voltage वोल्टेज</p> <p>A2 : Energy ऊर्जा</p> <p>A3 : Frequency आवृत्ति</p> <p>A4 : Time duration समय अवधि</p>	2.0	0.00
Trade Theory				
33	33	<p>What is the value of shunt resistance required for 1 mA meter to extend the range and measure 10 mA (<math>R_M = 27 \text{ Ohm}</math>). 1 mA मीटर के लिए सीमा का विस्तार करने और 10 mA (<math>R_M = 27 \text{ Ohm}</math>) मापने के लिए आवश्यक शंट प्रतिरोध का मान क्या है।</p> <p>A1 : 1 Ohm 1 Ohm</p> <p>A2 : 2 Ohms 2 Ohms</p> <p>A3 : 3 Ohms 3 Ohms</p> <p>A4 : 4 Ohms 4 Ohms</p>	2.0	0.00
Trade Theory				
34	34	<p>What is the advantage of using digital multimeter? डिजिटल मल्टीमीटर का उपयोग करने का क्या फायदा है?</p> <p>A1 : Accuracy शुद्धता</p> <p>A2 : Linear scale रैखिक पैमाने</p> <p>A3 : Easy portability आसान पोर्टेबिलिटी</p> <p>A4 : Logarithmic scale लघुगणक मापक</p>	2.0	0.00
Trade Theory				
35	35	<p>What is the name of the symbol marked as 'X' in the panel meter shown in the figure? चित्र में दिखाए गए पैनल मीटर में 'X' के रूप में चिह्नित प्रतीक का नाम क्या है?</p>	2.0	0.00



- A1  
: Moving coil meter  
मूविंग काइल मीटर
- A2  
: Moving iron meter  
मूविंग आयरन मीटर
- A3  
: Hot wire instrument  
हॉट वायर इंस्ट्रूमेंट
- A4  
: Moving coil with rectifier  
मूविंग काइल विथ रेक्टिफायर

Trade Theory

36	36	<p>What control is used in repulsion type moving iron instruments to maintain the pointer at the zero position? प्रतिकर्षण प्रकार के गतिमान लौह उपकरणों में पॉइंटर को शून्य स्थिति पर बनाए रखने के लिए किस नियंत्रण का उपयोग किया जाता है?</p> <p>A1 : Spring control स्प्रिंग कण्ट्रोल</p> <p>A2 : Air damping control एयर डंपिंग कंट्रोल</p> <p>A3 : Magnetic repulsion control चुंबकीय प्रतिकर्षण नियंत्रण</p> <p>A4 : Magnetic attraction control चुंबकीय आकर्षण नियंत्रण</p>	2.0	0.00
----	----	---	-----	------

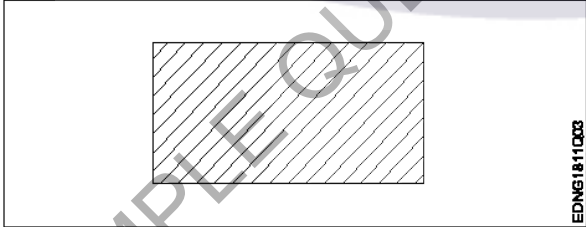
Trade Theory

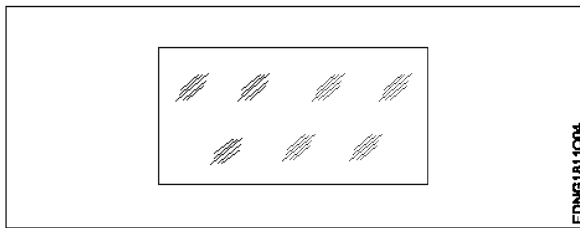
37	37	<p>Which torque is used in PMMC meter movement? PMMC मीटर मूवमेंट में किस टॉर्क का उपयोग किया जाता है?</p> <p>A1 : Low torque कम टॉर्क</p> <p>A2 : High torque उच्च टॉर्क</p> <p>A3 : Moderate torque मध्यम टॉर्क</p> <p>A4 : Insufficient torque अपर्याप्त टॉर्क</p>	2.0	0.00
----	----	---	-----	------

Trade Theory

38	38	<p>Which meter uses a moving coil for measurement? माप के लिए कौन सा मीटर एक गतिमान काइल का उपयोग करता है?</p> <p>A1 : LCR meter LCR मीटर</p> <p>A2 : PMMC meter PMMC मीटर</p> <p>A3 : MI repulsion type</p>	2.0	0.00
----	----	--	-----	------

		MI प्रतिकर्षण प्रकार A4 : MI attraction type MI आकर्षण प्रकार		
Workshop Calculation and Science				
39	39	Which one is non-metal? इनमे से अधातु कौन सी है?  A1 : Mercury पारा A2 : Graphite ग्रेफाइट A3 : Brass पीतल A4 : Iron लोहा	2.0	0.00
Workshop Calculation and Science				
40	40	Which metal contains iron as a major content? इनमे से किस धातु में प्रमुख सामग्री के रूप में लोहा होता है?  A1 : Brass metal पीतल धातु A2 : Bronze metal ब्रॉज धातु A3 : Zinc जिंक A4 : Ferrous metal लोह धातु	2.0	0.00
Workshop Calculation and Science				
41	41	What is termed as the quantity of matter contained in a body? वस्तु में निहित पदार्थ की मात्रा को क्या कहा जाता है?  A1 : Density घनत्व A2 : Volume आयतन A3 : Mass द्रव्यमान A4 : Specific gravity विशिष्ट गुरुत्व	2.0	0.00
Workshop Calculation and Science				
42	42	What is called mass per unit volume of a substances? किसी पदार्थ के द्रव्यमान प्रति इकाई आयतन को क्या कहते हैं?  A1 : Mass द्रव्यमान A2 : Weight भार A3 : Density घनत्व	2.0	0.00

		A4 : Volume आयतन		
Workshop Calculation and Science				
43	43	What is the S.I unit of heat? ऊष्मा की एस.आई. इकाई क्या है?	2.0	0.00
		A1 : Calorie Calorie A2 : Joule Joule A3 : Centigrade heat unit Centigrade heat unit A4 : British thermal unit British thermal unit		
Workshop Calculation and Science				
44	44	What is the value for specific heat of water? पानी की विशिष्ट ऊष्मा का मान क्या है?	2.0	0.00
		A1 : 4 4 A2 : 3 3 A3 : 2 2 A4 : 1 1		
Engineering Drawing				
45	45	Identify the conventional symbol of material? सामग्री के पारंपरिक प्रतीक को पहचानें?	2.0	0.00
		 <p>A1 : Lead लेड A2 : Steel इस्पात A3 : Glass कांच A4 : Porcelain चीनी मिट्टी</p>		
Engineering Drawing				
46	46	Identify the conventional symbol of material? सामग्री के पारंपरिक प्रतीक को पहचानें?	2.0	0.00



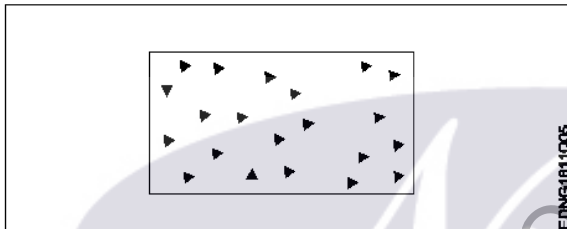
EDNG1811004

- A1  
: Concrete  
संगीत कार्यक्रम
- A2  
: Steel  
इस्पात
- A3  
: Wood  
लकड़ी
- A4  
: Glass  
कांच

Engineering Drawing

47 47 Identify the conventional symbol of material? 2.0 0.00

सामग्री के पारंपरिक प्रतीक को पहचानें?



EDNG1811005

- A1  
: Steel  
इस्पात
- A2  
: Wood  
लकड़ी
- A3  
: Glass  
कांच
- A4  
: Concrete  
ठोस

Engineering Drawing

48 48 What is the trimmed size of A4 sheet? 2.0 0.00

A4 शीट का ट्रिम किया हुआ आकार क्या है?

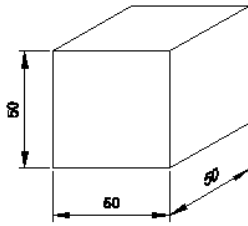
- A1  
: 841 x 1189
- A2  
: 594 x 841
- A3  
: 210 x 297
- A4  
: 148 x 210

Engineering Drawing

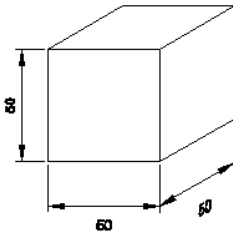
49 49 Which drawing dimension is correct as per IS standard? 2.0 0.00

IS मानक के अनुसार कौन सा ड्राइंग आयाम सही है?

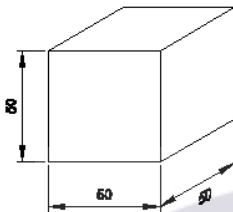
A1  
:



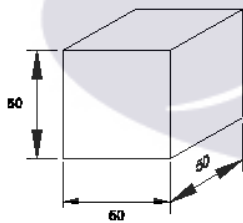
A2  
:



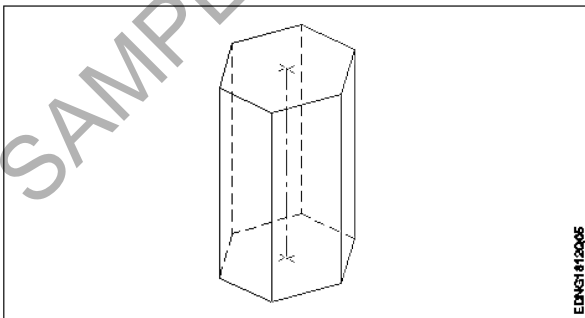
A3  
:



A4  
:



Engineering Drawing

50	50	Identify the name of prism? चित्र में दिखाए गए प्रिज्म का नाम क्या है?	2.0	0.00
				
A1	:	Square prism स्क्वायर प्रिज्म		
A2	:	Pentagonal prism पंचकोणीय प्रिज्म		
A3	:	Triangular prism त्रिकोणीय प्रिज्म		
A4	:	Hexagonal prism		

		हेक्सगोनल प्रिज्म		
		Employability Skills		
51	51	<p>Fill in the blank with correct word. "They _____ good friends"</p> <p>रिक्त में सही शब्द भरें। "They _____ good friends"</p> <p>A1 is : is</p> <p>A2 am : am</p> <p>A3 are : are</p> <p>A4 was : was</p>	2.0	0.00
		Employability Skills		
52	52	<p>Fill in the blank with present progressive tense of the verb. "The train _____ through the tunnel"</p> <p>क्रिया के वर्तमान प्रगतिशील काल के साथ रिक्त स्थान भरें। "The train _____ through the tunnel"</p> <p>A1 passed : passed</p> <p>A2 is passing : is passing</p> <p>A3 had passed : had passed</p> <p>A4 was passing : was passing</p>	2.0	0.00
		Employability Skills		
53	53	<p>Fill in the blank with proper interrogative adjective. _____ are you going?</p> <p>उचित ईंटोरोगेटिव विशेषण के साथ रिक्त स्थान भरें। _____ are you going?</p> <p>A1 Who : Who</p> <p>A2 Where : Where</p> <p>A3 Which : Which</p> <p>A4 What : What</p>	2.0	0.00
		Employability Skills		
54	54	<p>Fill in the blank with proper pronoun. "I made this cake _____"</p> <p>रिक्त स्थान में उचित सर्वनाम के साथ भरें। "I made this cake _____"</p> <p>A1 myself : myself</p> <p>A2 yourself : yourself</p> <p>A3 himself : himself</p> <p>A4 itself : itself</p>	2.0	0.00
		Employability Skills		
55	55	<p>Fill in the blank with proper pronoun. "She made this cake _____"</p>	2.0	0.00

		रिक्त स्थान में उचित सर्वनाम के साथ भरें। "She made this cake _____"		
		A1 :    itself itself A2 :    myself myself A3 :    herself herself A4 :    himself himself		
Employability Skills				
56	56	Fill in the blank with proper reflexive pronoun. "She has hurt _____" रिक्त स्थान में उचित प्रतिवर्ती सर्वनाम के साथ भरें। "She has hurt _____"	2.0	0.00
		A1 :    myself myself A2 :    herself herself A3 :    himself himself A4 :    itself itself		
Employability Skills				
57	57	Fill in the blank with suitable adjective for the given sentence "The little girl's..... eyes revealed her mischief" दिए गए वाक्य के लिए उपयुक्त विशेषण के साथ रिक्त स्थान भरें। "The little girl's..... eyes revealed her mischief"	2.0	0.00
		A1 :    chubby chubby A2 :    weak weak A3 :    short sighted short sighted A4 :    twinkling twinkling		
Employability Skills				
58	58	Fill in the blank with suitable place preposition. "My house is _____ the third floor" उपयुक्त स्थान पूर्वसर्ग के साथ रिक्त स्थान भरें। "My house is _____ the third floor"	2.0	0.00
		A1 :    at at A2 :    in in A3 :    on on A4 :    under under		
Employability Skills				
59	59	Fill in the correct question word. "_____ is the speaker at the function?" सही प्रश्न शब्द भरें। "_____ is the speaker at the function?"	2.0	0.00
		A1 :    What		



		What A2 : When When A3 : Why Why A4 : Who Who		
Employability Skills				
60	60	Low level language is also called _____. निम्न स्तर की भाषा को _____ भी कहा जाता है A1 : source code सोर्स कोड A2 : middle ware मध्यस्थ A3 : machine language मशीन भाषा A4 : assembly language असेंबली भाषा	2.0	0.00
Employability Skills				
61	61	Pronunciation refers to _____. उच्चारण _____ को संदर्भित करता है A1 : dipthong संयुक्त स्वर A2 : consonant व्यंजन A3 : punctuation विराम चिह्न A4 : production of sound ध्वनि का उत्पादन	2.0	0.00
Employability Skills				
62	62	Re-arrange the following set of words into meaningful sentence. "teacher / school / worked / she / a / as". शब्दों के निम्नलिखित सेट को सार्थक वाक्य में फिर से व्यवस्थित करें। "teacher / school / worked / she / a / as" A1 : School worked as a she teacher School worked as a she teacher A2 : She worked as a school teacher She worked as a school teacher A3 : She teacher worked as a school She teacher worked as a school A4 : Worked she as a school teacher Worked she as a school teacher	2.0	0.00
Employability Skills				
63	63	Rise and fall of pitch of voice is called _____. आवाज की पिच का उठना और गिरना _____ कहलाता है A1 : vowel स्वर A2 : intonation	2.0	0.00

		आवाज़ का उतार-चढ़ाव A3 : consonant व्यंजन A4 : pronunciation उच्चारण		
Employability Skills				
64	64	The word that expresses a sudden and strong feeling is called _____. वह शब्द जो अचानक और मजबूत भावना व्यक्त करता है उसे _____ कहा जाता है A1 : punctuation विराम चिह्न A2 : interjection विस्मयादिबोधक A3 : conjunction संयोजन के रूप A4 : apostrophe एपोस्ट्रॉफी	2.0	0.00
Employability Skills				
65	65	When you greet higher official's such as Teacher, Instructor or Supervisor, you should use _____. जब आप शिक्षक, प्रशिक्षक या पर्यवेक्षक जैसे उच्च अधिकारियों का अभिवादन करते हैं, तो आपको _____ का उपयोग करना चाहिए A1 : Good morning Good morning A2 : Hello Hello A3 : Hey Hey A4 : Hi Hi	2.0	0.00
Employability Skills				
66	66	Which is a silent letter in the word "ANSWER"? "ANSWER" शब्द में कौन सा मूक अक्षर है? A1 : R R A2 : E E A3 : S S A4 : W W	2.0	0.00
Employability Skills				
67	67	Which one is a "Do's" of discussion etiquettes? चर्चा के शिष्टाचारों में से कौन सा "Do's" है? A1 : Loose your temper अपना आपा खोएं A2 : Listen to others दूसरों की सुनें A3 : Talk about irrelevant details	2.0	0.00

		<p>अप्रासंगिक विवरण के बारे में बात करें</p> <p>A4 : Use impolite or rude language</p> <p>अभद्र या अशिष्ट भाषा का उपयोग करें</p>		
Employability Skills				
68	68	<p>Which one is a "Don't" of discussion etiquette?</p> <p>चर्चा शिष्टाचार का "Don't" है?</p> <p>A1 : Be open minded</p> <p>दिमाग खुला रखना</p> <p>A2 : Use moderate tone</p> <p>मध्यम स्वर का प्रयोग करें</p> <p>A3 : Listen to others</p> <p>दूसरों की सुनें</p> <p>A4 : Argue unnecessary</p> <p>अनावश्यक बहस करें</p>	2.0	0.00
Employability Skills				
69	69	<p>Which one is a brain of computer?</p> <p>कंप्यूटर का मस्तिष्क कौन सा है?</p> <p>A1 : Keyboard</p> <p>कीबोर्ड</p> <p>A2 : CPU</p> <p>सी पी यू</p> <p>A3 : Monitor</p> <p>मॉनिटर</p> <p>A4 : Hard disk</p> <p>हार्ड डिस्क</p>	2.0	0.00
Employability Skills				
70	70	<p>Which one is an exclamatory sentence?</p> <p>कौन सा विस्मयादिबोधक वाक्य है?</p> <p>A1 : What a beautiful house it is!</p> <p>What a beautiful house it is!</p> <p>A2 : It is a beautiful house.</p> <p>It is a beautiful house.</p> <p>A3 : Is it a beautiful house?</p> <p>Is it a beautiful house?</p> <p>A4 : Your house is beautiful.</p> <p>Your house is beautiful.</p>	2.0	0.00
Employability Skills				
71	71	<p>Which one is in active voice?</p> <p>सक्रिय आवाज में कौन सा है?</p> <p>A1 : Ram has passed the exam.</p> <p>Ram has passed the exam.</p> <p>A2 : The ball was caught by him.</p> <p>The ball was caught by him.</p> <p>A3 : The book was being read by her.</p> <p>The book was being read by her.</p> <p>A4 : We were driven home by dad.</p> <p>We were driven home by dad.</p>	2.0	0.00

		We were driven home by dad.		
		Employability Skills		
72	72	<p>Which one is in passive voice? निष्क्रिय आवाज में कौन सा है?</p> <p>A1 : Mohan is painting a house. Mohan is painting a house.</p> <p>A2 : She was reading a book. She was reading a book.</p> <p>A3 : Her birthday was celebrated by us. Her birthday was celebrated by us.</p> <p>A4 : I have seen that movie. I have seen that movie.</p>	2.0	0.00
		Employability Skills		
73	73	<p>Which one is NOT a conjunction? कौन सा एक संयोजन नहीं है?</p> <p>A1 : And And</p> <p>A2 : Or Or</p> <p>A3 : But But</p> <p>A4 : On On</p>	2.0	0.00
		Employability Skills		
74	74	<p>Which one is NOT a benefit of the role playing? भूमिका निभाने का कौन सा लाभ नहीं है?</p> <p>A1 : Builds confidence आत्मविश्वास पैदा करता है</p> <p>A2 : Develops listening skill सुनने का कौशल विकसित करता है</p> <p>A3 : Develops creative problem-solving skill रचनात्मक समस्या-समाधान कौशल विकसित करता है</p> <p>A4 : Develops boredom बोरियत पैदा करता है</p>	2.0	0.00
		Employability Skills		
75	75	<p>Which one is NOT a vowel? कौन सा स्वर नहीं है?</p> <p>A1 : a a</p> <p>A2 : e e</p> <p>A3 : f f</p> <p>A4 : i i</p>	2.0	0.00

## Electronics Mechanic - 1st Year - Set 2

S.No.	Correct Answer Key
1	A1
2	A3
3	A3
4	A3
5	A2
6	A2
7	A3
8	A4
9	A3
10	A2
11	A1
12	A2
13	A4
14	A4
15	A1
16	A4
17	A1
18	A3
19	A2
20	A3
21	A3
22	A4
23	A3
24	A1
25	A3
26	A4
27	A3
28	A1
29	A4
30	A3
31	A3
32	A1
33	A3
34	A1
35	A2
36	A1
37	A3
38	A2

S.No.	Correct Answer Key
39	A2
40	A4
41	A3
42	A3
43	A2
44	A4
45	A2
46	A4
47	A4
48	A3
49	A1
50	A4
51	A3
52	A2
53	A2
54	A1
55	A3
56	A2
57	A4
58	A3
59	A4
60	A3
61	A4
62	A2
63	A2
64	A2
65	A1
66	A4
67	A2
68	A4
69	A2
70	A1
71	A1
72	A3
73	A4
74	A4
75	A3

### Note:

"In case answers found to be inaccurate due to typographical error or any other reason please sent mail to [qbnimigrievance@gmail.com](mailto:qbnimigrievance@gmail.com)"