

ALL INDIA TRADE TEST - 2024 FOR CRAFTSMEN
TRAINING SCHEME (CTS)
Trade Name: Electronic Mechanic
Year: 2nd Year

Exam Date :

Exam Time :

Note:

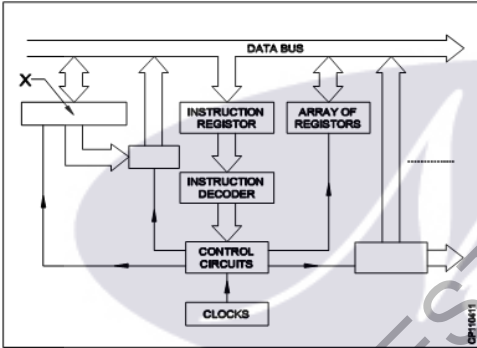
1. Tick the correct option out of four alternatives provided
2. All questions carry equal marks (2 Marks each)
3. There is no negative marking

Sr. No.	Q ID	Question Body and Alternatives	Marks	Negative Marks
Trade Theory				
1	1	<p>What is the size of thinnet type coaxial cable used in network installations? नेटवर्क प्रतिष्ठानों में उपयोग किए जाने वाले थिननेट प्रकार की समाक्षीय केबल का आकार क्या है?</p> <p>A1 : 0.15 inch 0.15 inch</p> <p>A2 : 0.25 inch 0.25 inch</p> <p>A3 : 0.35 inch 0.35 inch</p> <p>A4 : 0.45 inch 0.45 inch</p>	2.0	0.00
Trade Theory				
2	2	<p>What is the data transmission speed of USB 3.0 for interfacing computers? कंप्यूटर को इंटरफेस करने के लिए USB 3.0 की डेटा ट्रांसमिशन गति क्या है?</p> <p>A1 : 225 Mbps 225 Mbps</p> <p>A2 : 625 Mbps 625 Mbps</p> <p>A3 : 725 Mbps 725 Mbps</p> <p>A4 : 825 Mbps 825 Mbps</p>	2.0	0.00
Trade Theory				
3	3	<p>What is the full form of DVI? DVI का पूर्ण रूप क्या है?</p> <p>A1 : Digital Video Interface Digital Video Interface</p> <p>A2 : Digital Visual Interface Digital Visual Interface</p> <p>A3 : Digital Versatile Interface Digital Versatile Interface</p> <p>A4 : Digital Vector Interface Digital Vector Interface</p>	2.0	0.00
Trade Theory				

4	4	<p>What is the audible frequency range in communication? संचार में श्रव्य/ऑडिबल आवृत्ति रेंज क्या है?</p> <p>A1 : 20 Hz to 20 KHz 20 Hz to 20 KHz</p> <p>A2 : 30 KHz to 400 KHz 30 KHz to 400 KHz</p> <p>A3 : 452 KHz to 455 KHz 452 KHz to 455 KHz</p> <p>A4 : 550 KHz to 1600 KHz 550 KHz to 1600 KHz</p>	2.0	0.00
Trade Theory				
5	5	<p>What is the data transmission speed of category 4 twisted pair Network cables? श्रेणी 4 ट्विस्टेड पेअर नेटवर्क केबलों की डेटा ट्रांसमिशन गति क्या है?</p> <p>A1 : 14 Mbps 14 Mbps</p> <p>A2 : 15 Mbps 15 Mbps</p> <p>A3 : 16 Mbps 16 Mbps</p> <p>A4 : 17 Mbps 17 Mbps</p>	2.0	0.00
Trade Theory				
6	6	<p>What is the purpose of screen wire used in audio cables? ऑडियो केबल में उपयोग किए जाने वाले स्क्रीन वायर का उद्देश्य क्या है?</p> <p>A1 : To increase the quality गुणवत्ता को बढ़ाने के लिए</p> <p>A2 : To reject unwanted signal अवांछित सिग्नल को अस्वीकार करने के लिए</p> <p>A3 : To increase the flexibility लचीलापन बढ़ाने के लिए</p> <p>A4 : To provide mechanical strength यांत्रिक शक्ति प्रदान करने के लिए</p>	2.0	0.00
Trade Theory				
7	7	<p>What is the use of F-connector? F-कनेक्टर का उपयोग क्या है?</p> <p>A1 : Telephone circuits टेलीफोन सर्किट</p> <p>A2 : Power supply circuits विद्युत आपूर्ति सर्किट</p> <p>A3 : Cable TV circuits केबल टीवी सर्किट</p> <p>A4 : Audio circuits only केवल ऑडियो सर्किट</p>	2.0	0.00
Trade Theory				
8	8	<p>Which part of the signal cable is crimped to the outer conductor of F-connector? सिग्नल केबल का कौन सा भाग F-कनेक्टर के बाहरी कंडक्टर के लिए crimped होता है?</p>	2.0	0.00

		A1 : Central conductor सेंट्रल कंडक्टर A2 : Outer insulation बाहरी इन्सुलेशन A3 : Inner insulation इनर इन्सुलेशन A4 : Shield of the cable केबल की शील्ड		
Trade Theory				
9	9	Which speed of maximum data signal is carried by the CAT-6 twisted pair network cable? CAT-6 ट्विस्टेड पेयर नेटवर्क केबल द्वारा अधिकतम डेटा सिग्नल की कौन सी गति होती है? A1 : 250 MHz 250 MHz A2 : 550 MHz 550 MHz A3 : 650 MHz 650 MHz A4 : 750 MHz 750 MHz	2.0	0.00
Trade Theory				
10	10	What is the full form of HDMI? HDMI का पूर्ण रूप क्या है? A1 : High Digital Multimedia Input High Digital Multimedia Input A2 : Hybrid Digital Multifunction Interface Hybrid Digital Multifunction Interface A3 : High Definition Multimedia Interface High Definition Multimedia Interface A4 : Hybrid Design Multifunction Interconnect Hybrid Design Multifunction Interconnect	2.0	0.00
Trade Theory				
11	11	Which signal is sent by the SMPS to computer motherboard? SMPS द्वारा कंप्यूटर मदरबोर्ड को कौन सा सिग्नल भेजा जाता है? A1 : Device signal डिवाइस का संकेत A2 : Peripheral signal पेरिपेहल संकेत A3 : Processor signal प्रोसेसर संकेत A4 : Power good signal गुड पॉवर संकेत	2.0	0.00
Trade Theory				
12	12	What is the full form of ISA? ISA का फुल फॉर्म क्या है? A1 : Industry System Architecture Industry System Architecture	2.0	0.00

		A2 Industry Software Architecture : Industry Software Architecture A3 Industry Standard Architecture : Industry Standard Architecture A4 Institution Standard Architecture : Institution Standard Architecture		
Trade Theory				
13	13	Which device is used to produce hard copy of a document in a computer? कंप्यूटर में दस्तावेज़ की हार्ड कॉपी बनाने के लिए किस उपकरण का उपयोग किया जाता है? A1 Printer : प्रिंटर A2 Monitor : मॉनिटर A3 Modem : मोडम A4 Speaker : स्पीकर	2.0	0.00
Trade Theory				
14	14	What is the function of schottky diode BA 157 in SMPS circuit? SMPS सर्किट में स्कॉट कीय डायोड BA 157 का कार्य क्या है? A1 Error amplifier : त्रुटि एम्पलीफायर A2 Switching diode : स्विचिंग डायोड A3 Voltage regulator : वोल्टेज रेगुलेटर A4 Fast recovery diode : फ़ास्ट रिकवरी डायोड	2.0	0.00
Trade Theory				
15	15	What is the advantage of SMPS in a computer? कंप्यूटर में SMPS का क्या फायदा है? A1 Bulky : बल्की A2 High efficiency : उच्च दक्षता A3 High frequency noise low : उच्च आवृत्ति शोर कम A4 Servicing of SMPS is easy : SMPS की सर्विसिंग आसान है	2.0	0.00
Trade Theory				
16	16	What is the full form of electronic component MOV? इलेक्ट्रॉनिक घटक MOV का पूर्ण रूप क्या है? A1 Metal Over Varistor : Metal Over Varistor A2 Metal Over Varactor : Metal Over Varactor	2.0	0.00

		<p>Metal Over Varactor</p> <p>A3 : Metal Oxide Varistor</p> <p>Metal Oxide Varistor</p> <p>A4 : Metal Oxide Varactor</p> <p>Metal Oxide Varistor</p>		
Trade Theory				
17	17	<p>What is the full form of CD-ROM in a computer?</p> <p>कम्प्यूटर में CD-ROM का पूरा नाम क्या है?</p> <p>A1 : Classified Device Read Only Memory</p> <p>Classified Device Read Only Memory</p> <p>A2 : Computer Disk Read Only Memory</p> <p>Computer Disk Read Only Memory</p> <p>A3 : Connectivity Digital Read Only Memory</p> <p>Connectivity Digital Read Only Memory</p> <p>A4 : Compact Disk Read Only Memory</p> <p>Compact Disk Read Only Memory</p>	2.0	0.00
Trade Theory				
18	18	<p>What is the name of the block marked as 'x' in the microprocessor shown in the figure?</p> <p>चित्र में दिखाए गए माइक्रोप्रोसेसर में 'x' से चिह्नित ब्लॉक का नाम क्या है?</p>  <p>A1 : ALU</p> <p>ALU</p> <p>A2 : Memory</p> <p>मेमोरी</p> <p>A3 : Accumulator</p> <p>एकुम्लेटर</p> <p>A4 : Program counter</p> <p>प्रोग्राम काउंटर</p>	2.0	0.00
Trade Theory				
19	19	<p>Which section is used by the processor to save instructions?</p> <p>निर्देशों को सहेजने के लिए प्रोसेसर द्वारा किस अनुभाग का उपयोग किया जाता है?</p> <p>A1 : Memory</p> <p>मेमोरी</p> <p>A2 : System unit</p> <p>सिस्टम इकाई</p> <p>A3 : Graphics card</p> <p>ग्राफिक्स कार्ड</p> <p>A4 : Microprocessor</p> <p>माइक्रोप्रोसेसर</p>	2.0	0.00

Trade Theory			
20	20	<p>Which an is active first in PC during booting process?</p> <p>बूटिंग प्रक्रिया के दौरान पीसी में सबसे पहले कौन सा सक्रिय होता है?</p> <p>A1 RAM BIOS : RAM BIOS</p> <p>A2 CMOS : CMOS</p> <p>A3 ROM BIOS : ROM BIOS</p> <p>A4 Hard Disk information : हार्ड डिस्क की जानकारी</p>	2.0 0.00
Trade Theory			
21	21	<p>What is the valid address for configuring a new network interface card for installation?</p> <p>इंस्टॉलेशन के लिए नया नेटवर्क इंटरफ़ेस कार्ड कॉन्फ़िगर करने के लिए वैध पता क्या है?</p> <p>A1 378 : 378</p> <p>A2 2F8 : 2F8</p> <p>A3 3F8 : 3F8</p> <p>A4 360 : 360</p>	2.0 0.00
Trade Theory			
22	22	<p>Which device should not be plugged into a standard UPS?</p> <p>कौन सा डिवाइस मानक UPS में प्लग नहीं किया जाना चाहिए?</p> <p>A1 Monitor : मानीटर</p> <p>A2 Laser Printer : लेजर प्रिंटर</p> <p>A3 Inkjet printer : इंकजेट प्रिंटर</p> <p>A4 External Modem : एक्सटर्नल मॉडेम</p>	2.0 0.00
Trade Theory			
23	23	<p>What is the main communication method from one PDA to another PDA?</p> <p>एक PDA से दूसरे PDA तक संचार का मुख्य तरीका क्या है?</p> <p>A1 IR : IR</p> <p>A2 USB : USB</p> <p>A3 RS-232 : RS-232</p> <p>A4 IEEE 1394 : IEEE 1394</p>	2.0 0.00
Trade Theory			
24	24	<p>What allows the printer to print on both sides of the paper?</p> <p>प्रिंटर को कागज़ के दोनों तरफ़ प्रिंट करने की अनुमति क्या देता है?</p>	2.0 0.00

		A1 Fuser : फ्यूज़र A2 Duplexer : डुप्लेक्सर A3 Toner cartridge : टोनर कार्ट्रिज A4 Paper swapping Unit : पेपर स्विपिंग यूनिट		
Trade Theory				
25	25	What type of field Replaceable Unit is SCSI host adapter? SCSI होस्ट एडाप्टर किस प्रकार की फ़ील्ड रिप्लेसेबल यूनिट है? A1 CPU : CPU A2 I/O card : I/O कार्ड A3 Video card : वीडियो कार्ड A4 Hard drive : हार्ड ड्राइव	2.0	0.00
Trade Theory				
26	26	How many DMA channels are there in an AT-machine? AT-मशीन में कितने DMA चैनल होते हैं? A1 3 : 3 A2 4 : 4 A3 7 : 7 A4 8 : 8	2.0	0.00
Trade Theory				
27	27	Which provides the fastest data access time? कौन सा सबसे तेज़ डेटा एक्सेस समय प्रदान करता है? A1 RAM : RAM A2 ROM : ROM A3 CD-ROM : CD-ROM A4 Hard Disk : हार्ड डिस्क	2.0	0.00
Trade Theory				
28	28	Which component is easiest to environmentally recycle? पर्यावरण के लिहाज़ से कौन सा घटक रीसायकल करना सबसे आसान है? A1 Motherboard : Motherboard	2.0	0.00

		मदरबोर्ड A2 : CMOS batteries CMOS बैटरी A3 : Toner cartridge टोनर कार्ट्रिज A4 : Cathode Ray Tubes कैथोड रे ट्यूब		
Trade Theory				
29	29	How much information can be stored in a CD (Compact Disk)? CD (कॉम्पैक्ट डिस्क) में कितनी जानकारी संग्रहीत की जा सकती है? A1 : 100Mb 100Mb A2 : 150Mb 150Mb A3 : 650Mb 650Mb A4 : 1.4 Gb 1.4 Gb	2.0	0.00
Trade Theory				
30	30	Which software allows the user to browse through the web pages? कौन सा सॉफ्टवेयर उपयोगकर्ता को वेब पेज ब्राउज़ करने की अनुमति देता है? A1 : Mail client मेल क्लाइंट A2 : FTP Client FTP क्लाइंट A3 : Messenger मैसेंजर A4 : Browser ब्राउज़र	2.0	0.00
Trade Theory				
31	31	How many bytes does an IP address has? IP एड्रेस में कितने बाइट्स होते हैं? A1 : Two दो A2 : Four चार A3 : Eight आठ A4 : Sixteen सोलह	2.0	0.00
Trade Theory				
32	32	How many logical drives can fit onto a physical disk? एक भौतिक डिस्क पर कितने लॉजिकल ड्राइव फिट हो सकते हैं? A1 : Four चार	2.0	0.00

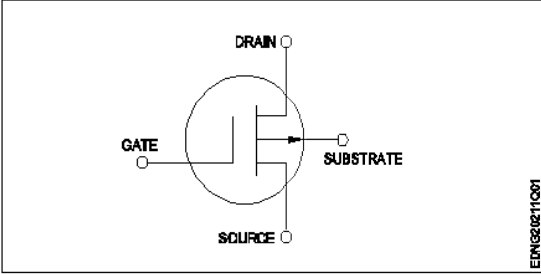
		A2 : Eight आठ A3 : Sixteen सोलह A4 : Twenty four चौबीस		
Trade Theory				
33	33	How many bytes make one megabyte? कितने बाइट्स एक मेगाबाइट बनाते हैं? A1 : One Million दस लाख A2 : Ten Thousands दस हजार A3 : One Hundred एक सौ A4 : One Thousand एक हजार	2.0	0.00
Trade Theory				
34	34	What is the name of a computer system that is on the network? नेटवर्क पर मौजूद कंप्यूटर सिस्टम का नाम क्या है? A1 : Online ऑनलाइन A2 : Node नोड A3 : Client क्लाइंट A4 : Terminal टर्मिनल	2.0	0.00
Trade Theory				
35	35	Which device understands the difference between data and programs? कौन सी डिवाइस डेटा और प्रोग्राम के बीच अंतर को समझती है A1 : Input device इनपुट डिवाइस A2 : Output device आउटपुट डिवाइस A3 : Memory मेमोरी A4 : Microprocessor माइक्रोप्रोसेसर	2.0	0.00
Trade Theory				
36	36	What is the address given to a Computer connected to a network? नेटवर्क से जुड़े कंप्यूटर को दिया जाने वाला एड्रेस क्या है? A1 : SYSID SYSID A2 : System Address System Address	2.0	0.00

		सिस्टम एड्रेस A3 : IP Address IP एड्रेस A4 : Process ID प्रक्रिया आईडी		
Trade Theory				
37	37	Which storage device can store maximum amount of data? कौन सी स्टोरेज डिवाइस अधिकतम मात्रा में डेटा स्टोर कर सकती है? A1 : Hard Disk हार्ड डिस्क A2 : Compact Disk कॉम्पैक्ट डिस्क A3 : Floppy Disk फ्लॉपी डिस्क A4 : Magneto optic Disk मैग्नेटिक ऑप्टिकल डिस्क	2.0	0.00
Trade Theory				
38	38	Where does the actual execution of instructions takes place during the processing operations in a computer? कंप्यूटर में प्रोसेसिंग ऑपरेशन के दौरान निर्देशों का वास्तविक निष्पादन कहाँ होता है? A1 : Memory मेमोरी A2 : Control Unit कंट्रोल यूनिट A3 : Central Processing Unit सेंट्रल प्रोसेसिंग यूनिट A4 : Arithmetic Logic Unit अरिथमेटिक लॉजिक यूनिट	2.0	0.00
Workshop Calculation and Science				
39	39	What is the value of $14x+3y+25x+2y$? $14x + 3y + 25x + 2y$ का मान क्या है? A1 : $17x + 27y$ $17x + 27y$ A2 : $16x + 28y$ $16x + 28y$ A3 : $39x + 5y$ $39x + 5y$ A4 : $44xy$ $44xy$	2.0	0.00
Workshop Calculation and Science				
40	40	What is the multiplication value of $5a^2b \times 8a^5b^3$? $5a^2b \times 8a^5b^3$ का गुणन मान क्या है? A1 : $40a^7b^4$ $40a^7b^4$ A2 : $40a^3b^2$ $40a^3b^2$	2.0	0.00

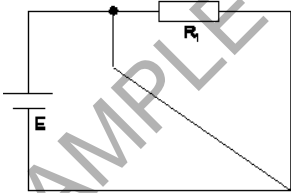
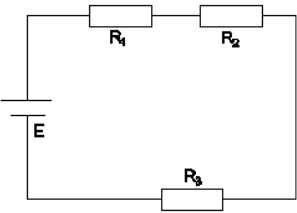
		A3 : $40a^4b^7$ $40a^4b^7$ A4 : $40a^2b^3$ $40a^2b^3$		
Workshop Calculation and Science				
41	41	What is the value of x if $13+x=20$? यदि $13+x=20$ है तो x का मान क्या है? A1 : 8 8 A2 : 7 7 A3 : 9 9 A4 : 13 13	2.0	0.00
Workshop Calculation and Science				
42	42	What is the formula for $a^m \times a^n$? $a^m \times a^n$ के लिए फार्मूला क्या है? A1 : a^{m+n} a^{m+n} A2 : a^{m-n} a^{m-n} A3 : a^{mn} a^{mn} A4 : $n.a^m$ $n.a^m$	2.0	0.00
Workshop Calculation and Science				
43	43	Which is the formula for कौन सा सूत्र है $\frac{a^m}{a^n}$? A1 : a^{m+n} a^{m+n} A2 : a^{m-n} a^{m-n} A3 : $a^m \times n$ $a^m \times n$ A4 : $(a^m)^n$ $(a^m)^n$	2.0	0.00
Workshop Calculation and Science				
44	44	Which is equal to $(a^m)^n$? $(a^m)^n$ किसके बराबर हो। A1 : $a^m - n$ $a^m - n$	2.0	0.00

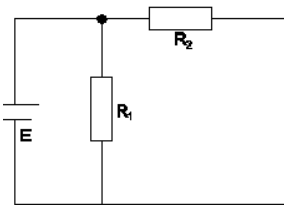
- A2
: a^{m+n}
 a^{m+n}
- A3
: a^m / n
 a^m / n
- A4
: a^{mn}
 a^{mn}

Engineering Drawing

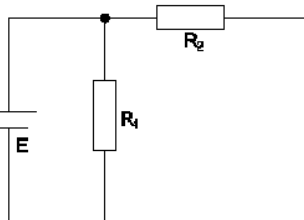
45	45	<p>Identify this picture</p> <p>इस तस्वीर को पहचानें</p>  <p>A1 : N-channel MOSFET N-चैनल MOSFET</p> <p>A2 : P-channel MOSFET P-चैनल MOSFET</p> <p>A3 : NPN transistor NPN ट्रांजिस्टर</p> <p>A4 : PNP transistor PNP ट्रांजिस्टर</p>	2.0	0.00
----	----	--	-----	------

Engineering Drawing


46	46	<p>Which is the short circuit?</p> <p>शॉर्ट सर्किट कौन सा है?</p> <p>A1 :</p>  <p>A2 :</p>  <p>A3 :</p>	2.0	0.00
----	----	---	-----	------



A4
:



Engineering Drawing

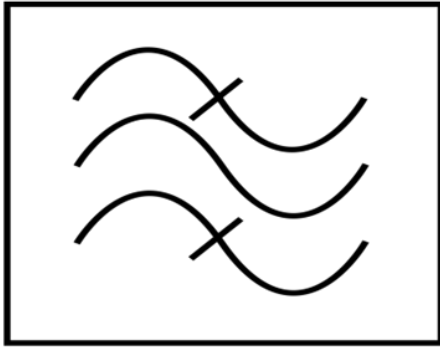
47	47	<p>Identify the type of resistor. रेसिस्टर के प्रकार को पहचानें।</p>  <p>A1 : Metal film resistor मेटल फिल्म रेसिस्टर</p> <p>A2 : Carbon composition resistor कार्बन कम्पोजिशन रेसिस्टर</p> <p>A3 : Potentiometer पोटेंशियोमीटर</p> <p>A4 : Wire wound resistor वायर वाउंड रेसिस्टर</p>	2.0	0.00
----	----	---	-----	------

Engineering Drawing

48	48	<p>What is the form of curve that represents Ohm's law? वक्र का वह रूप क्या है जो ओम के नियम का प्रतिनिधित्व करता है?</p> <p>A1 : Parabolic पेराबोलिक</p> <p>A2 : Hyperbolic हेइपरबोलिक</p> <p>A3 : Linear रैखिक</p> <p>A4 : Sinusoidal सिनुसाइडल</p>	2.0	0.00
----	----	---	-----	------

Engineering Drawing

49	49	<p>What is the name of the symbol? प्रतीक का नाम क्या है?</p>	2.0	0.00
----	----	---	-----	------



A1
: Band-pass filter

बैंड-पास फिल्टर

A2
: Band-stop filter

बैंड-स्टॉप फिल्टर

A3
: Low-pass filter

लो-पास फिल्टर

A4
: High-pass filter

हाई-पास फिल्टर

Engineering Drawing

50	50	<p>Name the symbol. प्रतीक का नाम बताइए।</p> <p>A1 : ICDP ICDP</p> <p>A2 : ICTP ICTP</p> <p>A3 : DPDT DPDT</p> <p>A4 : DTDP DTDP</p>	2.0	0.00
----	----	--	-----	------

Employability Skills

51	51	<p>Which is the most essential skill to get a job? नौकरी पाने के लिए सबसे जरूरी स्किल कौन सी है?</p> <p>A1 : Interview Skill इंटरव्यू स्किल</p> <p>A2 : Translation Skill ट्रांसलेशन स्किल</p> <p>A3 : Entrepreneurship Skill एंटरप्रेन्योरशिप स्किल</p>	2.0	0.00
----	----	--	-----	------

		A4 : Learning more language skill और अधिक भाषा कौशल सीखना		
Employability Skills				
52	52	For applying a job your first preparation is _____ नौकरी के लिए आवेदन करने के लिए आपकी पहली तैयारी _____ है। A1 : book a ticket to interview place साक्षात्कार स्थल के लिए एक टिकट बुक करें A2 : save money for expenses खर्चों के लिए पैसे बचाएं A3 : preparing resume बायोडाटा तैयार करें A4 : prepare for interview इंटरव्यू के लिए तैयारी करें	2.0	0.00
Employability Skills				
53	53	Campus recruitment is conducted at _____ कैम्पस भर्ती _____ में आयोजित की जाती है। A1 : capital city of the state राज्य की राजधानी में A2 : ITI ITI A3 : in a company कंपनी में A4 : on line ऑनलाइन	2.0	0.00
Employability Skills				
54	54	In your resume, which information has less importance? आपके बायोडाटा में कौन सी जानकारी कम महत्व रखती है? A1 : Qualification योग्यता A2 : Experience अनुभव A3 : Skill training completed पुरे हुए कौशल प्रशिक्षण A4 : Expected salary अपेक्षित वेतन	2.0	0.00
Employability Skills				
55	55	The ability to connect well with people _____ लोगों के साथ अच्छी तरह जुड़ने की क्षमता _____ है। A1 : interpersonal skill इंटरपर्सनल स्किल A2 : leadership लीडरशिप A3 : time management टाइम मैनेजमेंट A4 : creativity	2.0	0.00

		क्रिएटिविटी		
		Employability Skills		
56	56	<p>The ability to wait and stay calm _____ प्रतीक्षा करने और शांत रहने की क्षमता _____ है ।</p> <p>A1 : creativity क्रिएटिविटी</p> <p>A2 : problem solving प्रॉब्लम सॉल्विंग</p> <p>A3 : patience पेशेंस</p> <p>A4 : interpersonal skill इंटरपर्सनल स्किल</p>	2.0	0.00
		Employability Skills		
57	57	<p>Punctuality means _____ समय की पाबंदी का अर्थ _____ है ।</p> <p>A1 : done by punching machine पंचिंग मशीन द्वारा किया गया है</p> <p>A2 : informal इनफॉर्मल</p> <p>A3 : politeness पलाइटनेस</p> <p>A4 : being on time समय पर होना</p>	2.0	0.00
		Employability Skills		
58	58	<p>When you borrow a pen from your classmate, you should say? जब आप अपने सहपाठी से कलम उधार लेते हैं, तो आपको क्या कहना चाहिए?</p> <p>A1 : Give me your pen मुझे अपना पेन दो</p> <p>A2 : Can you please give me a pen क्या आप कृपया मुझे एक पेन दे सकते हैं</p> <p>A3 : I want a pen मुझे एक पेन चाहिए</p> <p>A4 : I take your pen मैं आपका पेन लेता हूँ</p>	2.0	0.00
		Employability Skills		
59	59	<p>Magnificent, sharp, lengthy, bright, - are examples of _____ मैग्निफिकेंट, शार्प, लेंग्थी, ब्राइट, - _____ के उदाहरण हैं</p> <p>A1 : describing words डिस्क्राइबिंग वर्ड्स</p> <p>A2 : action words एक्शन वर्ड्स</p> <p>A3 : nouns नाउन</p> <p>A4 : pronouns प्रोनाउन</p>	2.0	0.00
		Employability Skills		

60	60	Table, wire, socket, cable, hammer, nail - are _____ टेबल, तार, सॉकेट, केबल, हथौड़ा, कील _____ हैं।	2.0	0.00
		A1 : describing words डिस्क्राइबिंग वर्ड्स A2 : pronouns प्रोनाउन A3 : naming words नेमिंग वर्ड्स A4 : action words एक्शन वर्ड्स		
Employability Skills				
61	61	Comma, full stop, question mark are examples of _____ कॉमा, फुल स्टॉप, क्वेश्चन मार्क _____ के उदाहरण हैं।	2.0	0.00
		A1 : design डिज़ाइन A2 : next paragraph नेक्स्ट पैराग्राफ A3 : formal communication फॉर्मल कम्युनिकेशन A4 : punctuation mark पंकचुएशन मार्क		
Employability Skills				
62	62	When you start a discussion on a topic, what do you say? जब आप किसी विषय पर चर्चा आरंभ करते हैं तो आप क्या कहते हैं?	2.0	0.00
		A1 : Let you start आइए शुरू करें A2 : Let me say मुझे कहने दीजिये A3 : Let us discuss आइए चर्चा करें A4 : Let us finish आइए खत्म करें		
Employability Skills				
63	63	While addressing your boss, you should be _____ अपने बॉस को सम्बोधित करते समय आपको _____ होना चाहिए।	2.0	0.00
		A1 : Impolite इम्पलाइट A2 : Informal इनफॉर्मल A3 : Formal फॉर्मल A4 : Expressive एक्सप्रेसिव		
Employability Skills				
64	64	You are requested to complete the given assignment by Monday This is an example of _____ आपसे अनुरोध है कि दिए गए कार्य को सोमवार तक पूरा करें। यह _____ का एक उदाहरण है।	2.0	0.00

		<p>A1 : informal communication इनफॉर्मल कम्युनिकेशन</p> <p>A2 : a request एक रिक्वेस्ट</p> <p>A3 : an order एक आर्डर</p> <p>A4 : formal communication फॉर्मल कम्युनिकेशन</p>		
Employability Skills				
65	65	<p>Gestures, facial expressions, eye contact are examples of _____ जेस्चर, फेसिअल एक्सप्रेसन, आइ कांटेक्ट _____ के उदाहरण हैं।</p> <p>A1 : verbal communication वर्बल कम्युनिकेशन</p> <p>A2 : non-verbal communication नॉन-वर्बल कम्युनिकेशन</p> <p>A3 : oral communication ओरल कम्युनिकेशन</p> <p>A4 : written communication रिटेन कम्युनिकेशन</p>	2.0	0.00
Employability Skills				
66	66	<p>Hi, how are you, whats up, these are examples of _____ नमस्ते, आप कैसे हैं, क्या चल रहा है, ये _____ के उदाहरण हैं।</p> <p>A1 : formal communication फॉर्मल कम्युनिकेशन</p> <p>A2 : informal communication इनफॉर्मल कम्युनिकेशन</p> <p>A3 : polite communication पोलाइट कम्युनिकेशन</p> <p>A4 : impolite communication इम्पलाइट कम्युनिकेशन</p>	2.0	0.00
Employability Skills				
67	67	<p>Complete these sentence with suitable describing words The roads in my town are in _____ condition. इन वाक्यों को उपयुक्त वर्णनात्मक शब्दों से पूरा करें। The roads in my town are in _____ condition.</p> <p>A1 : good good</p> <p>A2 : expensive expensive</p> <p>A3 : beautiful beautiful</p> <p>A4 : safe safe</p>	2.0	0.00
Employability Skills				
68	68	<p>Complete the sentence with suitable describing words There is a _____ garden with lovely flowers. उचित वर्णनात्मक शब्दों से वाक्य पूरा करें। There is a _____ garden with lovely flowers.</p>	2.0	0.00

		<p>A1 : good good</p> <p>A2 : spacious spacious</p> <p>A3 : big big</p> <p>A4 : beautiful beautiful</p>		
Employability Skills				
69	69	<p>Complete the sentence with suitable describing words. There is a _____ playground near our house. उपयुक्त वर्णनात्मक शब्दों से वाक्य पूरा करें। There is a _____ playground near our house.</p> <p>A1 : spacious spacious</p> <p>A2 : big big</p> <p>A3 : beautiful beautiful</p> <p>A4 : good good</p>	2.0	0.00
Employability Skills				
70	70	<p>Complete the sentence with suitable describing words. There are _____ apartments in my neighbourhood. उपयुक्त वर्णनात्मक शब्दों से वाक्य पूरा करें। There are _____ apartments in my neighbourhood.</p> <p>A1 : expensive expensive</p> <p>A2 : beautiful beautiful</p> <p>A3 : good good</p> <p>A4 : spacious spacious</p>	2.0	0.00
Employability Skills				
71	71	<p>Fill up the blanks with suitable words so as to become a meaningful sentence. The Principal called Manoj. The Principal asked _____ to show _____ hall ticket for the CTS Examination. रिक्त स्थानों को उचित शब्दों से भरें ताकि एक सार्थक वाक्य बन सके। The Principal called Manoj. The Principal asked _____ to show _____ hall ticket for the CTS Examination.</p> <p>A1 : him, his him, his</p> <p>A2 : him, her him, her</p> <p>A3 : her, his her, his</p> <p>A4 : her, him her, him</p>	2.0	0.00
Employability Skills				
72	72	<p>Fill up the blanks with suitable words so as to become a meaningful sentence "Tell us about a difficult situation you have _____ and how you _____ to come out of it."</p>	2.0	0.00

		<p>रिक्त स्थानों को उचित शब्दों से भरें ताकि एक सार्थक वाक्य बन सके । "Tell us about a difficult situation you have _____ and how you _____ to come out of it."</p> <p>A1 : face, manage face, manage</p> <p>A2 : managed, face managed, face</p> <p>A3 : faced, manage faced, manage</p> <p>A4 : faced, managed faced, managed</p>		
Employability Skills				
73	73	<p>Complete the sentence with suitable describing words There is a factory in the area. The air is _____. उचित वर्णनात्मक शब्दों से वाक्य पूरा करें । There is a factory in the area. The air is _____.</p> <p>A1 : polluted polluted</p> <p>A2 : boring boring</p> <p>A3 : uneven uneven</p> <p>A4 : noisy noisy</p>	2.0	0.00
Employability Skills				
74	74	<p>Complete the sentence with suitable describing words There is water scarcity in the locality. The area is _____. उचित वर्णनात्मक शब्दों से वाक्य पूरा करें । There is water scarcity in the locality. The area is _____.</p> <p>A1 : uneven uneven</p> <p>A2 : noisy noisy</p> <p>A3 : dry dry</p> <p>A4 : boring boring</p>	2.0	0.00
Employability Skills				
75	75	<p>Complete the sentence with suitable describing words The transportation to some rural areas is difficult as the roads are _____ उचित वर्णनात्मक शब्दों से वाक्य पूरा करें । The transportation to some rural areas is difficult as the roads are _____</p> <p>A1 : dry dry</p> <p>A2 : polluted polluted</p> <p>A3 : boring boring</p> <p>A4 : uneven uneven</p>	2.0	0.00

Electronics Mechanic - 2nd Year - Set 1

S.No.	Correct Answer Key
1	A2
2	A2
3	A2
4	A1
5	A3
6	A2
7	A3
8	A4
9	A2
10	A3
11	A4
12	A3
13	A1
14	A4
15	A2
16	A3
17	A4
18	A3
19	A1
20	A3
21	A4
22	A2
23	A1
24	A2
25	A2
26	A2
27	A1
28	A3
29	A3
30	A4
31	A2
32	A4
33	A1
34	A2
35	A4
36	A3
37	A1
38	A4

S.No.	Correct Answer Key
39	A3
40	A1
41	A2
42	A1
43	A2
44	A4
45	A2
46	A1
47	A3
48	A3
49	A1
50	A3
51	A1
52	A3
53	A2
54	A4
55	A1
56	A3
57	A4
58	A2
59	A1
60	A3
61	A4
62	A3
63	A3
64	A4
65	A2
66	A2
67	A1
68	A4
69	A2
70	A4
71	A1
72	A4
73	A1
74	A3
75	A4

Note:

"In case answers found to be inaccurate due to typographical error or any other reason please sent mail to qbnimigrievance@gmail.com"