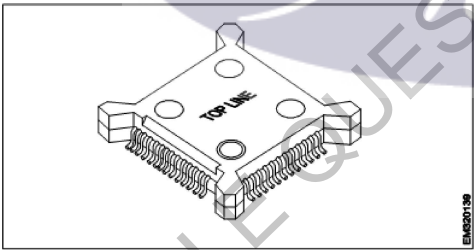


All India Trade Test - 2024 for Craftsmen Training Scheme (CTS)
Trade Name: Electronics Mechanic _ Year 2
Year: 2nd Year

Exam Date :
 Exam Time :

- Note:**
 1. Tick the correct option out of four alternatives provided
 2. All questions carry equal marks (2 Marks each)
 3. There is no negative marking

Sr. No.	Client Question ID	Question Body and Alternatives	Marks	Negative Marks
Trade Theory				
1	1	What is the full form of SOIC? SOIC का पूर्ण रूप क्या है? A1 : Surface Optimized Internal Circuits Surface Optimised Internal Circuits A2 : Small Outline Integrated Circuits Small Outline Integrated Circuits A3 : Service Outline Internal Circuits Service Outline Internal Circuits A4 : Solder Oriented Integrated Circuits Solder Oriented Integrated Circuits	2.0	0.00
Trade Theory				
2	2	What is the name of the IC package? IC पैकेज का नाम क्या है?  A1 : CQFP CQFP A2 : PQFP PQFP A3 : BQFP BQFP A4 : LQFP LQFP	2.0	0.00
Trade Theory				
3	3	What is the full form of SMT? SMT का फुल फॉर्म क्या है? A1 : Specific Multipin Technology Specific Multipin Technology A2 : Small Metalized Technology	2.0	0.00


		<p>Small Metalised Technology</p> <p>A3 Surface Mount Technology : Surface Mount Technology</p> <p>A4 Solder Mount Technology : Solder Mount Technology</p>		
Trade Theory				
4	4	<p>What is the use of Bench top Ionisers? बेंच शीर्ष Ionisers का उपयोग क्या है?</p> <p>A1 To control moisture in atmosphere : वातावरण में नमी को नियंत्रित करने के लिए</p> <p>A2 To control ESD in work environment : काम के माहौल में ESD को नियंत्रित करने के लिए</p> <p>A3 To control voltage : वोल्टेज को नियंत्रित करने के लिए</p> <p>A4 To eliminate molecules : अणुओं को कम करने के लिए</p>	2.0	0.00
Trade Theory				
5	5	<p>What is called 'tinning' in soldering? टांका लगाने में 'टिनिंग' क्या है?</p> <p>A1 Clean the tip of the iron : लोहे की नोक को साफ करें</p> <p>A2 Change the tip of the iron : लोहे की नोक को बदलें</p> <p>A3 Melt a little solder on the tip of the iron : लोहे की नोक पर थोड़ा फ्लक्स पिघलाएं</p> <p>A4 Remove the tip of the iron : लोहे की नोक को हटा दें</p>	2.0	0.00
Trade Theory				
6	6	<p>What is the composition of solder paste used for reflow soldering process? रिफ्लो सोल्डरिंग प्रक्रिया के लिए सोल्डर पेस्ट की संरचना क्या है?</p> <p>A1 Tin and Lead : टिन और लेड</p> <p>A2 Tin, Lead and flux : टिन, लेड और फ्लक्स</p> <p>A3 Powdered solder and flux : पाउडर सोल्डर और फ्लक्स</p> <p>A4 Rosin cored solder and flux : राल कोर्ड सोल्डर और फ्लक्स</p>	2.0	0.00
Trade Theory				
7	7	<p>Which conformal coating material is used as two part thermosetting mixture? दू पार्ट थर्मोसेटिंग मिश्रण के रूप में कौन सी कंफर्मल कोटिंग सामग्री का उपयोग किया जाता है?</p> <p>A1 Epoxy resin : एपॉक्सी रेजिन</p> <p>A2 Acrylic resin</p>	2.0	0.00

		<p>ऐक्रेलिक रेसिन A3 : Silicone resin सिलिकॉन राल A4 : Polyurethane resin पोलीयूरीथेन राल</p>		
Trade Theory				
8	8	<p>Which material is used to make the drill bits for drilling PCB holes? PCB छेद ड्रिलिंग के लिए ड्रिल बिट बनाने के लिए किस सामग्री का उपयोग किया जाता है?</p> <p>A1 : Stainless steel स्टेनलेस स्टील A2 : High speed steel हाई स्पीड स्टील A3 : High carbon steel उच्च कार्बन स्टील A4 : Solid coated Tungsten carbide ठोस लेपित टंगस्टन कार्बाइड</p>	2.0	0.00
Trade Theory				
9	9	<p>What is the size of pad width for soldering resistors, capacitors and diodes on the PCB? PCB पर टांका लगाने वाले प्रतिरोधक, कैपेसिटर और डायोड के लिए पैड की चौड़ाई का आकार क्या है?</p> <p>A1 : 50 Thou 50 Thou A2 : 60 Thou 60 Thou A3 : 70 Thou 70 Thou A4 : 80 Thou 80 Thou</p>	2.0	0.00
Trade Theory				
10	10	<p>Which colour of solder mask is used on PCBs? पीसीबी(PCBs) पर सोल्डर मास्क का कौन सा रंग इस्तेमाल किया जाता है?</p> <p>A1 : Brown भूरा A2 : Orange नारंगी A3 : Green हरा A4 : Violet बैंगनी</p>	2.0	0.00
Trade Theory				
11	11	<p>What is the shape of pad used to solder Dual In Line (DIL) components on PCB? PCB पर डुअल इन लाइन (DIL) घटकों में मिलाप के लिए पैड का आकार क्या है?</p> <p>A1 : Oval अंडाकार A2 : Round</p>	2.0	0.00

		<p>गोल A3 Square : वर्ग A4 Rectangle : आयत</p>		
Trade Theory				
12	12	<p>Which method of conformal coating is used for epoxy coated on PCBs? कन्फर्मल कोटिंग की कौन सी विधि का उपयोग PCB पर लेपित एपॉक्सी के लिए किया जाता है?</p> <p>A1 Solvent : विलायक</p> <p>A2 Peeling off : छीलना</p> <p>A3 Microblasting : माइक्रो ब्लास्टिंग</p> <p>A4 Mechanical removal : यांत्रिक निष्कासन</p>	2.0	0.00
Trade Theory				
13	13	<p>Which conformal coating is easy to apply and remove with low moisture absorption? कम नमी अवशोषण के साथ कौन सा कन्फर्मल लेप लगाना और हटाना आसान है?</p> <p>A1 Epoxy resin : एपॉक्सी रेजिन</p> <p>A2 Acrylic resin : ऐक्रेलिक रेसिन</p> <p>A3 Silicon resin : सिलिकॉन राल</p> <p>A4 Poly para xylylene : पॉलीपरासीलीलें</p>	2.0	0.00
Trade Theory				
14	14	<p>Which is the last zone on the reflow soldering? रिफ्लो सोल्डरिंग पर अंतिम ज़ोन कौन सा है?</p> <p>A1 Preheat zone : पहले से गरम ज़ोन</p> <p>A2 Reflow zone : रीफ्लो ज़ोन</p> <p>A3 Cooling zone : शीतलक ज़ोन</p> <p>A4 Thermal soak zone : थर्मल सोख ज़ोन</p>	2.0	0.00
Trade Theory				
15	15	<p>Which is the second stage in the reflow soldering process? रिफ्लो सोल्डरिंग प्रक्रिया में दूसरा चरण कौन सा है?</p> <p>A1 Reflow zone : रीफ्लो ज़ोन</p> <p>A2 Cooling zone : शीतलक ज़ोन</p>	2.0	0.00

		शीतलक ज़ोन A3 Preheat zone : पहले से गरम ज़ोन A4 Thermal soak zone : थर्मल सोख ज़ोन		
Trade Theory				
16	16	What is the ramp-up rate of temperature in the preheat zone of reflow soldering process? रिफ्लो सोल्डरिंग प्रक्रिया के प्रीहीट ज़ोन में तापमान की रैम्प-अप दर क्या है? A1 : 1°C to 3°C / sec 1°C to 3°C / sec A2 : 4°C to 5°C / sec 4°C to 5°C / sec A3 : 6°C to 10°C / sec 6°C to 10°C / sec A4 : 11°C to 20°C / sec 11°C to 20°C / sec	2.0	0.00
Trade Theory				
17	17	Which is the common method of attaching surface mount components to a printed circuit board? मुद्रित सर्किट बोर्ड में सतह माउंट घटकों को संलग्न करने की सामान्य विधि क्या है? A1 Wave soldering : वेव सोल्डरिंग A2 Manual soldering : मैनुअल सोल्डरिंग A3 Soldering station : सोल्डरिंग स्टेशन A4 Reflow soldering : रिफ्लो सोल्डरिंग	2.0	0.00
Trade Theory				
18	18	What is the purpose of providing solder mask on the PCBs? PCB पर सोल्डर मास्क प्रदान करने का उद्देश्य क्या है? A1 Easy soldering : आसान सोल्डरिंग A2 Remove conformal coating : कोन्फोर्मल कोटिंग निकालने के लिए A3 Provide conformal coating : कोन्फोर्मल कोटिंग प्रदान करने के लिए A4 Prevent solder bridges : सोल्डर ब्रिज को रोकने के लिए	2.0	0.00
Trade Theory				
19	19	How the solder mask is removed on the PCB for replacement of components? घटकों के प्रतिस्थापन के लिए PCB पर सोल्डर मास्क कैसे हटाया जाता है? A1 Microblasting : माइक्रो ब्लास्टिंग A2 Grinding and scraping : Grinding and scraping	2.0	0.00

		पीसना और खुरचना A3 : Conformal coating peeled off अनुरूप कोटिंग को छीलकर A4 : Photolithography फोटोलिथोग्राफी		
Trade Theory				
20	20	What is the range of peak temperature reached at reflow zone of reflow soldering process? रिफ्लो सोल्डरिंग प्रक्रिया के रिफ्लो ज़ोन में पहुंचने वाले शिखर तापमान की सीमा क्या है? A1 : 10°C to 15°C 10°C to 15°C A2 : 20°C to 40°C 20°C to 40°C A3 : 41°C to 60°C 41°C to 60°C A4 : 61°C to 80°C 61°C to 80°C	2.0	0.00
Trade Theory				
21	21	How the fine grain structure of soldered joint is achieved by using reflow soldering process? टांका लगाने की प्रक्रिया का उपयोग करके टांका लगाने वाले जोड़ की फाइन ग्रेन संरचना कैसे प्राप्त की जाती है A1 : Fast cooling rate तेजी से ठंडा करने की दर A2 : Slow cooling rate मंद शीतलन दर A3 : Oven temperature change ओवन का तापमान बदल जाता है A4 : Higher thermal soak time उच्च ताप सोक समय	2.0	0.00
Trade Theory				
22	22	Which fabrication technology is used for the assembly of the circuit board? सर्किट बोर्ड की असेंबली के लिए किस निर्माण तकनीक का उपयोग किया जाता है? A1 : Microchip fabrication माइक्रोचिप फैब्रिकेशन A2 : Single layer fabrication सिंगल लेयर फैब्रिकेशन A3 : Double sided fabrication डबल साइडेड फैब्रिकेशन A4 : Plated through hole fabrication प्लैटेड थ्रू होल फैब्रिकेशन	2.0	0.00
Trade Theory				
23	23	What is the name of technology used to mount components on multilayer PCBs? बहुपरत PCBs पर घटकों को माउंट करने के लिए उपयोग की जाने वाली तकनीक का नाम क्या है?	2.0	0.00



- A1 Microblasting
: माइक्रोचिप फैब्रिकेशन
- A2 Peeling technique
: छीलने की तकनीक
- A3 Joining technique
: जोड़ने तकनीक
- A4 Plated through hole
: प्लेटेड थ्रू होल

Trade Theory

24	24	<p>Which type of coating process is used to apply para-xylylene as conformal coating on PCB? PCB पर कंफर्मल लेप कोटिंग के रूप में पैरा-जाइलीन को लगाने के लिए किस प्रकार की कोटिंग प्रक्रिया का उपयोग किया जाता है?</p> <p>A1 Dipping : डूबना</p> <p>A2 Brushing : ब्रश करना</p> <p>A3 Spraying : छिड़काव</p> <p>A4 Chemical vapour deposition : रासायनिक वाष्प जमाव</p>	2.0	0.00
----	----	--	-----	------

Trade Theory

25	25	<p>What is the fusing factor of rewirable HRC fuse? HRC फ्यूज के पुनः उपयोग करने योग्य कारक क्या है?</p> <p>A1 1 : 1</p> <p>A2 1.1 : 1.1</p> <p>A3 1.2 : 1.2</p> <p>A4 1.5 : 1.5</p>	2.0	0.00
----	----	--	-----	------

Trade Theory

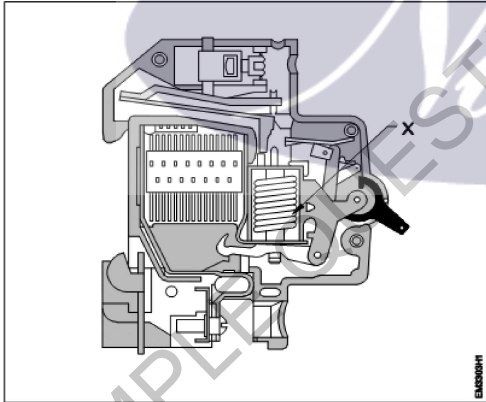
26	26	<p>What is the current rating of cartridge fuse used for domestic wiring? घरेलू वायरिंग के लिए इस्तेमाल होने वाले कार्ट्रिज फ्यूज की करंट रेटिंग क्या है?</p>	2.0	0.00
----	----	---	-----	------

- A1
: 1250 Ampere
1250 Ampere
A2
: 1350 Ampere
1350 Ampere
A3
: 1450 Ampere
1450 Ampere
A4
: 1550 Ampere
1550 Ampere

Trade Theory

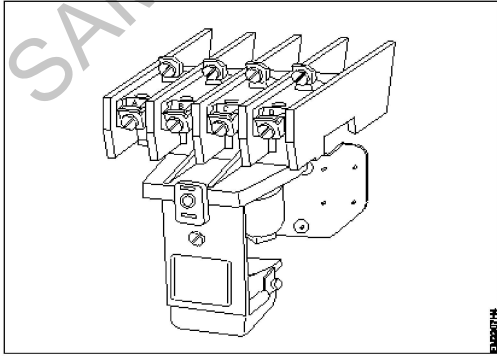
27	27	<p>What is the current rating of rewirable fuse used for domestic wiring? घरेलू वायरिंग के लिए उपयोग किए जाने वाले पुनः उपयोग योग्य फ्यूज की करंट रेटिंग क्या है?</p> <p>A1 : 200 A 200 A A2 : 300 A 300 A A3 : 400 A 400 A A4 : 500 A 500 A</p>	2.0	0.00
----	----	--	-----	------

Trade Theory

28	28	<p>What is the name of the part marked as 'X' in the MCB? MCB में 'X' के रूप में चिह्नित भाग का नाम क्या है?</p>  <p>A1 Latch : लैच A2 Plunger : प्लंजर A3 Solenoid : सोलेनोइड A4 Contact : कांटेक्ट</p>	2.0	0.00
----	----	---	-----	------

Trade Theory

29	29	<p>What is the full form of ELCB used in Electrical circuit? इलेक्ट्रिकल सर्किट में प्रयुक्त किया ELCB का पूर्ण रूप क्या है?</p> <p>A1 : Earth Lead Circuit Breakers</p>	2.0	0.00
----	----	--	-----	------

		<p>Earth Lead Circuit Breakers</p> <p>A2 Electrical Live Contact Breakers : Electrical Live Contact Breakers</p> <p>A3 Equipment Load Circuit Breakers : Equipment Load Circuit Breakers</p> <p>A4 Earth Leakage Circuit Breakers : Earth Leakage Circuit Breakers</p>		
Trade Theory				
30	30	<p>What is the name of the current interrupted by the circuit breaker? सर्किट ब्रेकर द्वारा बाधित करंट का नाम क्या है?</p> <p>A1 Rated current : रेटेड करंट</p> <p>A2 Residual current : रेसिडुअल करंट</p> <p>A3 Earth leakage current : अर्थ लीकेज करंट</p> <p>A4 Prospective fault current : प्रोस्पेक्टिव फाल्ट करंट</p>	2.0	0.00
Trade Theory				
31	31	<p>Which relay is activated whenever the current in the coil reaches the upper limit? जब भी कॉइल में करंट अपर लिमिट तक पहुँचती है तो कौन सा रिले सक्रिय हो जाता है?</p> <p>A1 Latching relay : लॉचिंग रिले</p> <p>A2 Under current relay : अंडर करंट रिले</p> <p>A3 Current sensing relay : करंट सेंसिंग रिले</p> <p>A4 Voltage sensing relay : वोल्टेज सेंसिंग रिले</p>	2.0	0.00
Trade Theory				
32	32	<p>What is the name of device shown below? नीचे दिखाए गए डिवाइस का नाम क्या है?</p> <div style="text-align: center;">  </div> <p>A1 Starter : स्टार्टर</p> <p>A2 Relay : रिले</p>	2.0	0.00

		रिले A3 Contactor : कंटैक्टर A4 Switch : स्विच		
Trade Theory				
33	33	What is the maximum earth fault loop impedance if an ELCB with a rated tripping current of 30 mA? यदि कोई ELCB 30 mA के रेटेड ट्रिपिंग करंट का है तो अधिकतम अर्थ फाल्ट पाश प्रतिबाधा क्या होगी? A1 900 Ω : 900 Ω A2 1200 Ω : 1200 Ω A3 1666 Ω : 1666 Ω A4 2666 Ω : 2666 Ω	2.0	0.00
Trade Theory				
34	34	Which parameter opens the fuse element in the circuit under fault, without damaging the load? कौन सा पैरामीटर लोड को नुकसान पहुंचाए बिना, फॉल्ट के तहत सर्किट में फ्यूज एलिमेंट को खोलता है? A1 Current rating : करंट रेटिंग A2 Voltage rating : वोल्टेज रेटिंग A3 Power rating : पावर रेटिंग A4 Rupturing capacity : रुप्चरिंग कैपेसिटी	2.0	0.00
Trade Theory				
35	35	What is the trip time for clearing short circuits in ELCB+MCB combination circuit breaker? ELCB+MCB कॉम्बिनेशन सर्किट ब्रेकर में शॉर्ट सर्किट को साफ करने के लिए ट्रिप का समय क्या है? A1 1 milli second : 1 milli second A2 3 milli second : 3 milli second A3 4 milli second : 4 milli second A4 5 milli second : 5 milli second	2.0	0.00
Trade Theory				
36	36	What is the range of frequency for short wave (SW) band? शॉर्ट वेव (SW) बैंड के लिए आवृत्ति की सीमा क्या है? A1 550 KHz to 1650 KHz : 550 KHz to 1650 KHz A2 3 MHz to 30 MHz : 3 MHz to 30 MHz	2.0	0.00

- A3
: 30 MHz to 100 MHz
30 MHz to 100 MHz
- A4
: 200 MHz to 300 MHz
200 MHz to 300 MHz

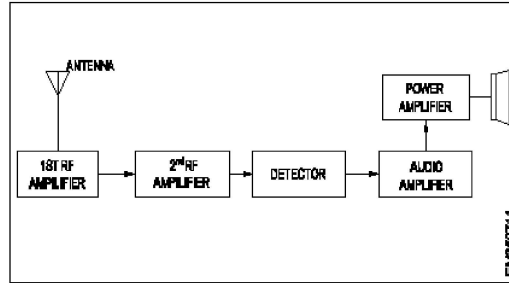
Trade Theory

37 37

What is the name of block diagram?
ब्लॉक आरेख का नाम क्या है?

2.0

0.00



- A1
: TRF receiver
TRF रिसीवर
- A2
: FM receiver
FM रिसीवर
- A3
: Satellite receiver
उपग्रह पकड़नेवाला
- A4
: Superheterodyne receiver
सुपरहेट्रोडाइन रिसीवर

Trade Theory

38 38

What is fidelity of receiver circuits?
रिसीवर सर्किट की निष्ठा क्या है?

2.0

0.00

- A1
: Generated automatic gain
जनरेट किया गया स्वतः लाभ
- A2
: Stability of amplifier
एम्पलीफायर की स्थिरता
- A3
: Accuracy of reproduction
प्रजनन की यथार्थता
- A4
: Mixing complicated signals
जटिल संकेतों मिश्रण

Workshop Calculation Science

39 39

What is the expanded form of $(a+b)^2$?
 $(a+b)^2$ का विस्तारित रूप क्या है?

2.0

0.00

- A1
: $a^2 + 2ab + b^2$
 $a^2 + 2ab + b^2$
- A2
: $a^2 - 2ab + b^2$
 $a^2 - 2ab + b^2$
- A3
: $a^2 + 2ab - b^2$
 $a^2 + 2ab - b^2$
- A4
: $-a^2 - 2ab + b^2$
 $-a^2 - 2ab + b^2$

$$-a^2 - 2ab + b^2$$

Workshop Calculation Science

40	40	What is the formula for $(a-b)^2$? $(a-b)^2$ का सूत्र क्या है? A1 $a^2 - 2ab + b^2$: $a^2 - 2ab + b^2$ A2 $a^2 + 2ab + b^2$: $a^2 + 2ab + b^2$ A3 $a^2 - 2ab - b^2$: $a^2 - 2ab - b^2$ A4 $-a^2 - 2ab - b^2$: $-a^2 - 2ab - b^2$	2.0	0.00
----	----	--	-----	------

Workshop Calculation Science

41	41	What is the value of any number raised to the power of 0? 0 की घात में उठाए गए किसी भी संख्या का मूल्य क्या है? A1 0 : 0 A2 1 : 1 A3 -1 : -1 A4 α : α	2.0	0.00
----	----	--	-----	------

Workshop Calculation Science

42	42	What is the value of $a \times a^2 \times a^3 \times a^4$? $a \times a^2 \times a^3 \times a^4$ का मान क्या है? A1 a^7 : a^7 A2 a^8 : a^8 A3 a^9 : a^9 A4 a^{10} : a^{10}	2.0	0.00
----	----	---	-----	------

Workshop Calculation Science

43	43	What is the value of $(a^5)^7$? $(a^5)^7$ का मान क्या है? A1 a^{35} : a^{35} A2 a^{12} : a^{12} A3 a^{21} : a^{21}	2.0	0.00
----	----	---	-----	------

A4 a²²
:
a²²

Workshop Calculation Science

44

44

What is the value of 625°?
625° का मान क्या है?

2.0

0.00

A1 0
:

0

A2 1
:

1

A3 525
:

525

A4 25
:

25

Engineering Drawing


45

45

Name the symbol.
प्रतीक का नाम बताइए।

2.0

0.00



A1 Electric bell
:

बिजली की घंटी

A2 Magnetic head
:

चुंबकीय हेड

A3 Buzzer
:

बजर

A4 Magnetic relay
:

चुंबकीय रिले

Engineering Drawing

46

46

Which one is not a resistor?
कौन सा रेसिस्टर नहीं है?

2.0

0.00

A1
:

ennglearn.com



A2
:



A3
:



A4
:



Engineering Drawing

47

47

Which is the symbol of relay?
रिले का प्रतीक कौन सा है?

2.0

0.00

A1
:



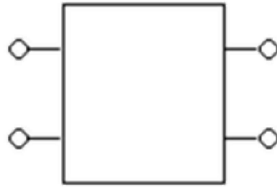
A2
:



A3
:



A4
:



Engineering Drawing

48

48

What is represented by the following electrical symbol?

निम्नलिखित विद्युत प्रतीक द्वारा क्या दर्शाया जाता है?



A1
Transformer

:
ट्रांसफार्मर

A2
Relay

:
रिले

A3
Resistor

:
रेसिस्टर

A4
Fuse

:
फ्यूज

2.0

0.00

Engineering Drawing


49

49

Which is not a type of LED?

एलईडी का कौन सा प्रकार नहीं है?

A1
:



A2
:

2.0

0.00



A3
:



A4
:



Engineering Drawing

50

50

What is represented by the following electrical symbol?

निम्नलिखित विद्युत प्रतीक द्वारा क्या दर्शाया जाता है?



A1 Terminal
:

टर्मिनल

A2 Transformer
:

ट्रांसफार्मर

A3 Cell
:

सेल

A4 Fuse
:

फ्यूज

2.0

0.00

Employability Skills

51

51

Complete the sentence with suitable describing words It is a _____ neighbourhood. One need not fear.

Complete the sentence with suitable describing words It is a _____ neighbourhood. One need not fear.

A1 good
:

good

A2 big
:

big

2.0

0.00

		<p>big</p> <p>A3 safe :</p> <p>safe</p> <p>A4 expensive :</p> <p>expensive</p>		
Employability Skills				
52	52	<p>Complete the sentence with suitable describing words There isn't any amusement park in the area. It is a ___ place. Complete the sentence with suitable describing words There isn't any amusement park in the area. It is a ___ place.</p> <p>A1 polluted :</p> <p>polluted</p> <p>A2 dry :</p> <p>dry</p> <p>A3 noisy :</p> <p>noisy</p> <p>A4 boring :</p> <p>boring</p>	2.0	0.00
Employability Skills				
53	53	<p>Complete the sentence with suitable describing words There is a factory in the area. The air is _____. Complete the sentence with suitable describing words There is a factory in the area. The air is _____.</p> <p>A1 polluted :</p> <p>polluted</p> <p>A2 boring :</p> <p>boring</p> <p>A3 uneven :</p> <p>uneven</p> <p>A4 noisy :</p> <p>noisy</p>	2.0	0.00
Employability Skills				
54	54	<p>Complete the sentence with suitable describing words There is water scarcity in the locality. The area is _____. Complete the sentence with suitable describing words There is water scarcity in the locality. The area is _____.</p> <p>A1 uneven :</p> <p>uneven</p> <p>A2 noisy :</p> <p>noisy</p> <p>A3 dry :</p> <p>dry</p> <p>A4 boring :</p> <p>boring</p>	2.0	0.00
Employability Skills				
55	55	<p>Complete the sentence with suitable describing words The transportation to some rural areas is difficult as the roads are _____ Complete the sentence with suitable describing words The transportation to some rural areas is difficult as the roads are _____</p> <p>A1 dry :</p> <p>dry</p> <p>A2 polluted :</p> <p>polluted</p>	2.0	0.00

		<p>A3 boring : boring</p> <p>A4 uneven : uneven</p>		
Employability Skills				
56	56	<p>What help us to maintain the balance between mental and physical activities? What help us to maintain the balance between mental and physical activities?</p> <p>A1 Hobbies : Hobbies</p> <p>A2 Running : Running</p> <p>A3 Walking : Walking</p> <p>A4 Reading : Reading</p>	2.0	0.00
Employability Skills				
57	57	<p>When you meet the instructor inside or outside the ITI, it is.... When you meet the instructor inside or outside the ITI, it is....</p> <p>A1 always formal : always formal</p> <p>A2 . formal inside the ITI : . formal inside the ITI</p> <p>A3 informal the ITI : informal the ITI</p> <p>A4 informal outside : informal outside</p>	2.0	0.00
Employability Skills				
58	58	<p>Role models _____ people to follow them Role models _____ people to follow them</p> <p>A1 elevate : elevate</p> <p>A2 instruct : instruct</p> <p>A3 inspire : inspire</p> <p>A4 motivate : motivate</p>	2.0	0.00
Employability Skills				
59	59	<p>Spoken communication is usually not only _____ but also _____ Spoken communication is usually not only _____ but also _____</p> <p>A1 formal, informal : formal, informal</p> <p>A2 verbal, nonverbal : verbal, nonverbal</p> <p>A3 verbal, informal : verbal, informal</p>	2.0	0.00

		<p>verbal, informal</p> <p>A4 formal, nonverbal</p> <p>: formal, nonverbal</p>		
Employability Skills				
60	60	<p>The immediate surroundings to the place you live in is called _____</p> <p>The immediate surroundings to the place you live in is called _____</p> <p>A1 village</p> <p>: village</p> <p>A2 town</p> <p>: town</p> <p>A3 city</p> <p>: city</p> <p>A4 neighbourhood</p> <p>: neighbourhood</p>	2.0	0.00
Employability Skills				
61	61	<p>The conditions in a place that affect the behaviour and development of somebody or something is called _____</p> <p>The conditions in a place that affect the behaviour and development of somebody or something is called _____</p> <p>A1 neighbourhood</p> <p>: neighbourhood</p> <p>A2 environment</p> <p>: environment</p> <p>A3 locality</p> <p>: locality</p> <p>A4 facilities</p> <p>: facilities</p>	2.0	0.00
Employability Skills				
62	62	<p>Which kind of persons are with very good behaviour, achievements and lead as an example?</p> <p>Which kind of persons are with very good behaviour, achievements and lead as an example?</p> <p>A1 customer service executives</p> <p>: customer service executives</p> <p>A2 ITI instructors</p> <p>: ITI instructors</p> <p>A3 role models</p> <p>: role models</p> <p>A4 sales supervisors</p> <p>: sales supervisors</p>	2.0	0.00
Employability Skills				
63	63	<p>There ----- a coffee shop -----the park.</p> <p>There ----- a coffee shop -----the park.</p> <p>A1 are, next to</p> <p>: are, next to</p> <p>A2 is, next to</p> <p>: is, next to</p> <p>A3 is, next</p> <p>: is, next</p>	2.0	0.00

		A4 are, next : arc, next		
Employability Skills				
64	64	Rainwater harvesting ----- to prevent water scarcity Rainwater harvesting ----- to prevent water scarcity A1 gives : gives A2 gave : gave A3 help : help A4 helps : helps	2.0	0.00
Employability Skills				
65	65	Identify the opposites. clean x -----, healthy x ----- Identify the opposites. clean x -----, healthy x ----- A1 dirty, health : dirty, health A2 . dirty, healthy : . dirty, healthy A3 dirt, unhealthy : dirt, unhealthy A4 dirty, unhealthy : dirty, unhealthy	2.0	0.00
Employability Skills				
66	66	Which one is not an adventure? Which one is not an adventure? A1 climbing mountains : climbing mountains A2 trekking : trekking A3 surfing : surfing A4 driving : driving	2.0	0.00
Employability Skills				
67	67	Travelling in the sea is called a ____ Travelling in the sea is called a ____ A1 voyage : voyage A2 boating : boating A3 fishing : fishing A4 tour : tour	2.0	0.00

		tour		
Employability Skills				
68	68	<p>There are many dos and don'ts to be -----while preparing for/ attending an _____</p> <p>There are many dos and don'ts to be -----while preparing for/ attending an _____</p> <p>A1 : there, interview : there, interview</p> <p>A2 : identify, : identify,</p> <p>A3 : identified, interviewed : identified, interviewed</p> <p>A4 : identified, interview : identified, interview</p>	2.0	0.00
Employability Skills				
69	69	<p>Always ----- your mobile phone ----- silent mode.</p> <p>Always ----- your mobile phone ----- silent mode.</p> <p>A1 : know, in : know, in</p> <p>A2 : know, of : know, of</p> <p>A3 : keep, in : keep, in</p> <p>A4 : keep, of : keep, of</p>	2.0	0.00
Employability Skills				
70	70	<p>The Everest, the ----- peak in the world, ----- in Tibet.</p> <p>The Everest, the ----- peak in the world, ----- in Tibet.</p> <p>A1 : high, is : high, is</p> <p>A2 : higher, is : higher, is</p> <p>A3 : highest, are : highest, are</p> <p>A4 : highest, is : highest, is</p>	2.0	0.00
Employability Skills				
71	71	<p>Which language is essential to become a Computer professional?</p> <p>Which language is essential to become a Computer professional?</p> <p>A1 : Mother tongue : Mother tongue</p> <p>A2 : Chinese : Chinese</p> <p>A3 : English : English</p> <p>A4 : Hindi : Hindi</p>	2.0	0.00
Employability Skills				

72	72	<p>Which is the Synonym for "loyal"?</p> <p>Which is the Synonym for "loyal"?</p> <p>A1 Faithful : Faithful</p> <p>A2 Prosperous : Prosperous</p> <p>A3 Utopian : Utopian</p> <p>A4 Perfect : Perfect</p>	2.0	0.00
Employability Skills				
73	73	<p>When you speak to your supervisor, you should be _____.</p> <p>When you speak to your supervisor, you should be _____.</p> <p>A1 Aggressive : Aggressive</p> <p>A2 Formal : Formal</p> <p>A3 Informal : Informal</p> <p>A4 Casual : Casual</p>	2.0	0.00
Employability Skills				
74	74	<p>Which one is the describing word from among the words given?</p> <p>Which one is the describing word from among the words given?</p> <p>A1 Mobile phone : Mobile phone</p> <p>A2 Water : Water</p> <p>A3 Pull : Pull</p> <p>A4 Magnificent : Magnificent</p>	2.0	0.00
Employability Skills				
75	75	<p>A _____ sentence is a sentence that expresses a direct , command, invitations, warning or instruction.</p> <p>A _____ sentence is a sentence that expresses a direct , command, invitations, warning or instruction.</p> <p>A1 simple : simple</p> <p>A2 compound : compound</p> <p>A3 imperative : imperative</p> <p>A4 adjective : adjective</p>	2.0	0.00

Electronics Mechanic - 2nd year (Eng) SET 2

Question Number	Correct Alternative position
1	A2
2	A3
3	A3
4	A2
5	A3
6	A3
7	A1
8	A4
9	A3
10	A3
11	A1
12	A3
13	A2
14	A3
15	A4
16	A1
17	A4
18	A4
19	A4
20	A2
21	A1
22	A1
23	A4
24	A4
25	A2
26	A1
27	A1
28	A3
29	A4
30	A4
31	A3
32	A3
33	A3
34	A4
35	A2
36	A2
37	A1
38	A3
39	A1
40	A1
41	A2
42	A4
43	A1
44	A2
45	A3

46	A3
47	A3
48	A1
49	A2
50	A3
51	A3
52	A4
53	A1
54	A3
55	A4
56	A1
57	A1
58	A3
59	A2
60	A4
61	A2
62	A3
63	A2
64	A4
65	A4
66	A4
67	A1
68	A4
69	A3
70	A4
71	A3
72	A1
73	A2
74	A4
75	A3

KEY ANSWER SET 2