

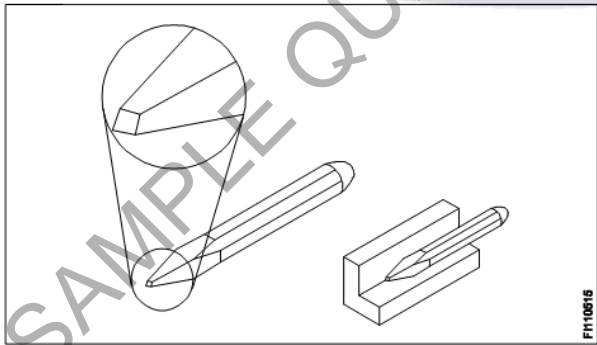
**ALL INDIA TRADE TEST - 2024 FOR CRAFTSMEN**  
**TRAINING SCHEME (CTS)**  
**Trade Name: Refrigeration & Air Conditioning Technician**  
**Year: 1st Year**

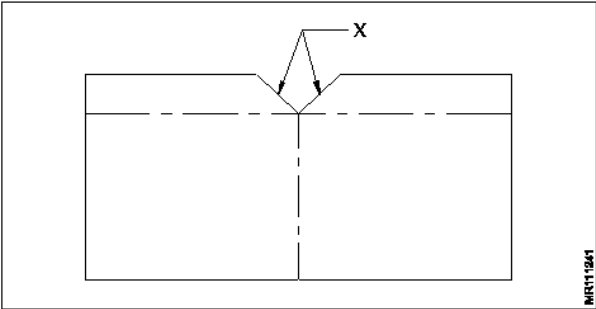
Exam Date :

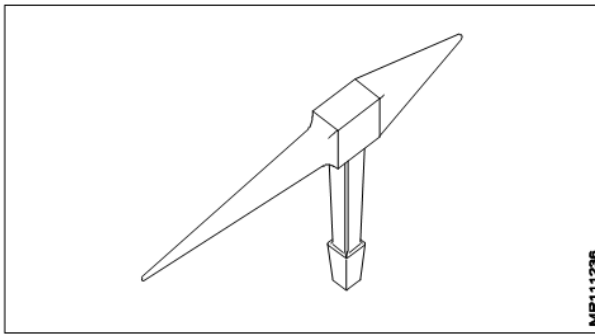
Exam Time :

**Note:**

1. Tick the correct option out of four alternatives provided
2. All questions carry equal marks (2 Marks each)
3. There is no negative marking

Sr. No.	Q ID	Question Body and Alternatives	Marks	Negative Marks
Trade Theory				
1	1	<p>Which extinguishes the fire of flammable liquids? ज्वलनशील तरल पदार्थों की आग को कौन बुझाता है?</p> <p>A1 Water : पानी</p> <p>A2 Air : वायु</p> <p>A3 CO<sub>2</sub> : CO<sub>2</sub></p> <p>A4 Oil : तेल</p>	2.0	0.00
Trade Theory				
2	2	<p>What is the type of chisel? चिज़ल का प्रकार क्या है?</p>  <p>A1 Flat : फ्लैट</p> <p>A2 Cross cut : क्रॉस कट</p> <p>A3 Half round : हाफ राउंड</p> <p>A4 Diamond point : डायमंड पॉइंट</p>	2.0	0.00
Trade Theory				
3	3	<p>Which materials are used to make mallets? मेलेट बनाने के लिए किन सामग्रियों का उपयोग किया जाता है?</p>	2.0	0.00

		<p>A1 Wood, cast iron : लकड़ी, कास्ट आयरन</p> <p>A2 Wood, rubber : लकड़ी, रबर</p> <p>A3 Rubber, brass : रबर, पीतल</p> <p>A4 Wood, brass : लकड़ी, पीतल</p>		
Trade Theory				
4	4	<p>What is the angle marked as X in sheet metal V notch? शीट मेटल V नौच में X के रूप में चिह्नित कोण कितना होता है?</p>  <p>A1 90° : 90°</p> <p>A2 60° : 60°</p> <p>A3 45° : 45°</p> <p>A4 30° : 30°</p>	2.0	0.00
Trade Theory				
5	5	<p>Which tool is used for bending, seaming and forming of sheet metal? शीट मेटल के बेन्डिंग, सीमिंग और फॉर्मिंग के लिए किस उपकरण का उपयोग किया जाता है?</p> <p>A1 Bench vice : बेंच वाइस</p> <p>A2 Hand vice : हैंड वाइस</p> <p>A3 Stakes : स्टेक्स</p> <p>A4 Shear : शियर</p>	2.0	0.00
Trade Theory				
6	6	<p>What is the name of the tool used for bending sheet metal? शीट मेटल बेन्डिंग के लिए प्रयुक्त उपकरण का नाम क्या है?</p>	2.0	0.00



A1 : Bevel edged square stake

बेवेल ऐज्ड स्क्वायर स्टेक

A2 : Blow horn stake

ब्लो हॉर्न स्टेक

A3 : Hatchet stake

हैचेट स्टेक

A4 : Square stake

स्क्वायर स्टेक

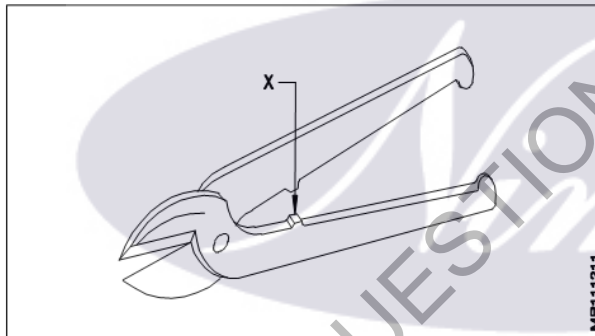
Trade Theory

7

7

What is the name of part marked as X in snips?

सिप्स में X के रूप में चिह्नित भाग का नाम क्या है?



A1 : Handle

हैंडल

A2 : Black

ब्लैक

A3 : Stops

स्टॉप्स

A4 : Bolt

बोल्ट

Trade Theory

8

8

What is the name of the soldering tool?

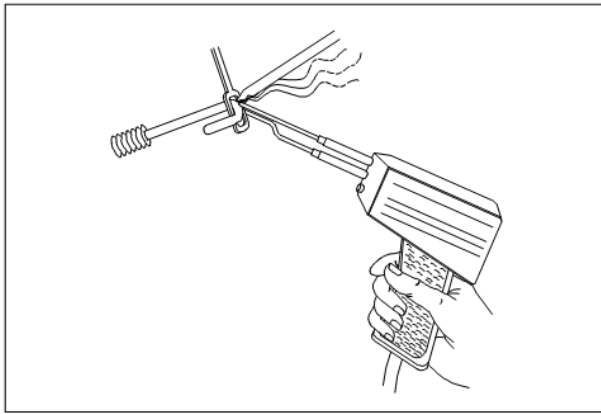
सोल्डरिंग टूल का नाम क्या है?

2.0

0.00

2.0

0.00



A1  
: Blow lamp

ब्लो लैंप

A2  
: Pot and ladle

पॉट एंड लेडल

A3  
: Soldering gun

सोल्डरिंग गन

A4  
: Soldering iron

सोल्डरिंग आयरन

Trade Theory

9	9	<p>Which tool is used for bending long sheet metal? लंबी शीट मेटलको झुकाने के लिए किस उपकरण का उपयोग किया जाता है?</p> <p>A1 : Folding bar फोल्डिंग बार</p> <p>A2 : Bench vice बेंच वाइस</p> <p>A3 : Hand vice हैण्ड वाइस</p> <p>A4 : Shear शियर</p>	2.0	0.00
---	---	--	-----	------

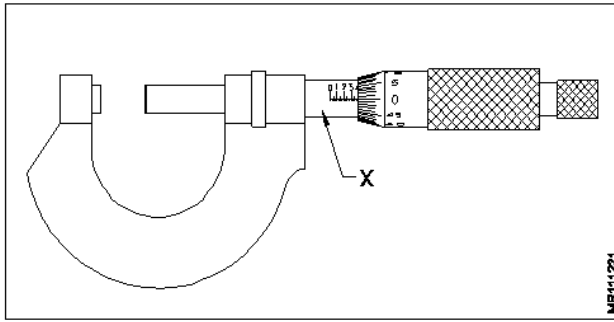
Trade Theory

10	10	<p>Which tool is used for tightening the odd size bolts and nuts? ओड साइज़ के बोल्ट और नट्स को कसने के लिए किस उपकरण का उपयोग किया जाता है?</p> <p>A1 : Socket set सॉकेट सेट</p> <p>A2 : Nose pliers नोज़ प्लायर्स</p> <p>A3 : Ring spanner रिंग स्पेनर</p> <p>A4 : Adjustable spanner अडजस्टेबल स्पेनर</p>	2.0	0.00
----	----	---	-----	------

Trade Theory

11	11	<p>Which tool is used for trimming the edges of a sheet metal cylinder? शीट मेटल सिलेंडर के किनारों को ट्रिम करने के लिए किस उपकरण का उपयोग किया जाता है?</p> <p>A1 : Straight snips</p>	2.0	0.00
----	----	--	-----	------

		<p>स्ट्रेट स्निप</p> <p>A2 : Bent snips</p> <p>बेंट स्निप</p> <p>A3 : Tube cutter</p> <p>ट्यूब कटर</p> <p>A4 : Scissors</p> <p>कैंची</p>		
Trade Theory				
12	12	<p>What is "smothering" in fire extinguishing? आग बुझाने में "स्मूथिंग" क्या है?</p> <p>A1 : Pouring of CTC</p> <p>CTC का डालना</p> <p>A2 : Flashing with dry powder</p> <p>सूखे पाउडर से झलकना</p> <p>A3 : Use water to lower temperature</p> <p>पानी का उपयोग तापमान कम करना</p> <p>A4 : Cutting off oxygen supply to fire</p> <p>आग से ऑक्सीजन की आपूर्ति में कटौती करना</p>	2.0	0.00
Trade Theory				
13	13	<p>What is "starving" in extinguishing the fire? आग बुझाने में "स्टार्विंग" क्या है?</p> <p>A1 : Adding fuel</p> <p>ईंधन जोड़ना</p> <p>A2 : Removal of fuel</p> <p>ईंधन निकालना</p> <p>A3 : Clearing the hazards</p> <p>जोखिम को हटाना</p> <p>A4 : Stop the supply of oxygen</p> <p>ऑक्सीजन की आपूर्ति को बंद करना</p>	2.0	0.00
Trade Theory				
14	14	<p>What is the material composition of a Tin man's solder? टिन मैन सोल्डर की सामग्री संरचना क्या है?</p> <p>A1 : 50% Tin 50% Zinc</p> <p>50% टिन 50% जस्ता</p> <p>A2 : 50% Tin 50% lead</p> <p>50% टिन 50% लीड</p> <p>A3 : 50% Zinc 50% lead</p> <p>50% जस्ता 50% सीसा</p> <p>A4 : 50% Tin 50% Bronze</p> <p>50% टिन 50% कांसा</p>	2.0	0.00
Trade Theory				
15	15	<p>What is the name of part marked as X in outside micro meter? आउटर माइक्रो मीटर में X के रूप में चिह्नित भाग का नाम क्या है?</p>	2.0	0.00



A1  
: Barrel

बैरल

A2  
: Spindle

स्पिंडल

A3  
: Lock nut

लॉक नट

A4  
: Steel frame

स्टील फ्रेम

Trade Theory

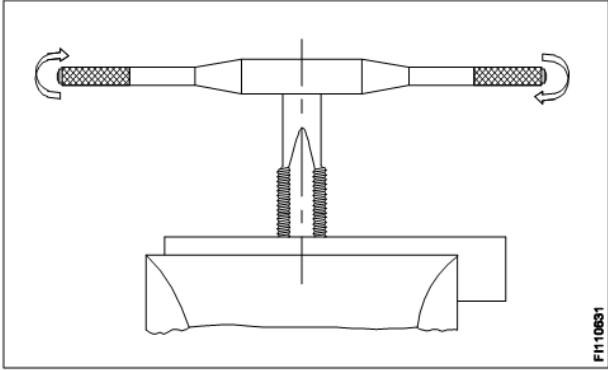
16	16	Which is the point angle of a twist drill used for zinc alloy? जस्ता मिश्र धातु के लिए उपयोग की जाने वाली मोड़ ड्रिल का बिंदु कोण कितना होता है?	2.0	0.00
A1 :	90°			
A2 :	100°			
A3 :	118°			
A4 :	125°			

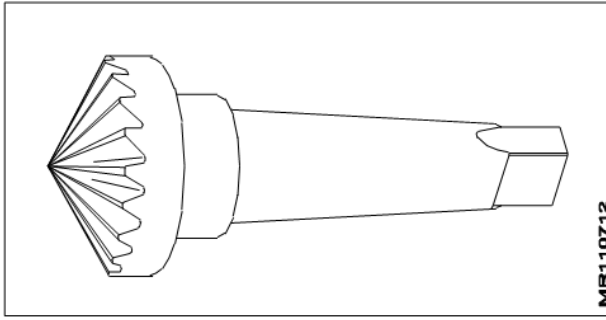
Trade Theory

17	17	What is the angle of the tip of centre punch? सेंटर पंच के टिप का कोण कितना होता है?	2.0	0.00
A1 :	30°			
A2 :	60°			
A3 :	90°			
A4 :	120°			

Trade Theory

18	18	Which file is used for filing wood? लकड़ी की फाइलिंग की लिए किस फाइल का उपयोग किया जाता है?	2.0	0.00
A1 :	Double cut file			
	डबल कट फाइल			

		<p>A2 Single cut file : सिंगल कट फ़ाइल</p> <p>A3 Rasp cut file : रास्प कट फ़ाइल</p> <p>A4 Smooth file : स्मूथ फ़ाइल</p>		
Trade Theory				
19	19	<p>Which operation is in progress? कौन सा ऑपरेशन चल रहा है?</p>  <p>A1 Reaming : रिमिंग</p> <p>A2 Marking : मार्किंग</p> <p>A3 Tapping : टेपिंग</p> <p>A4 Drilling : ड्रिलिंग</p>	2.0	0.00
Trade Theory				
20	20	<p>Which medium is used to extinguish Class - A fire? क्लास - A से लगी आग को बुझाने के लिए किस माध्यम का उपयोग किया जाता है?</p> <p>A1 CO<sub>2</sub> : CO<sub>2</sub></p> <p>A2 Foam : फ़ोम</p> <p>A3 Water : पानी</p> <p>A4 Dry powder : सूखा पाउडर</p>	2.0	0.00
Trade Theory				
21	21	<p>What is the use of the tool in bevelling a drilled hole on job? जॉब पर ड्रिल किए गए होल को झुकाने के लिए उपकरण का उपयोग क्यों किता जाता है?</p>	2.0	0.00



A1 : Drilling

: ड्रिलिंग के लिए

A2 : Reaming

: रिमिंग के लिए

A3 : Counter boring

: काउंटर बोरिंग के लिए

A4 : Counter sinking

: काउंटर सिंकिंग के लिए

Trade Theory

22 22 Which material is used to clean oil and grease on the floor?  
फर्श पर तेल और ग्रीस को साफ करने के लिए किस पदार्थ का उपयोग किया जाता है?

A1 : Cotton waste

: कॉटन वेस्ट

A2 : Saw dust

: सॉ डस्ट

A3 : Water

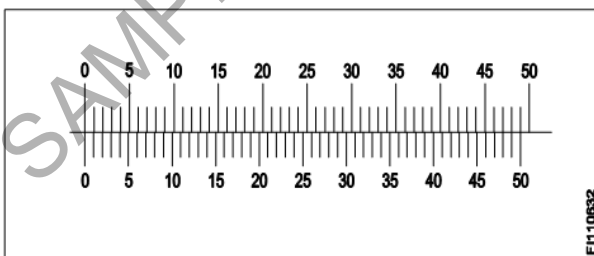
: पानी

A4 : Air

: वायु

Trade Theory

23 23 What is the least count of vernier calipers?  
वर्नियर कैलिपर्स की अल्पतमांक क्या है?



A1 : 0.01

: 0.01

A2 : 0.02

: 0.02

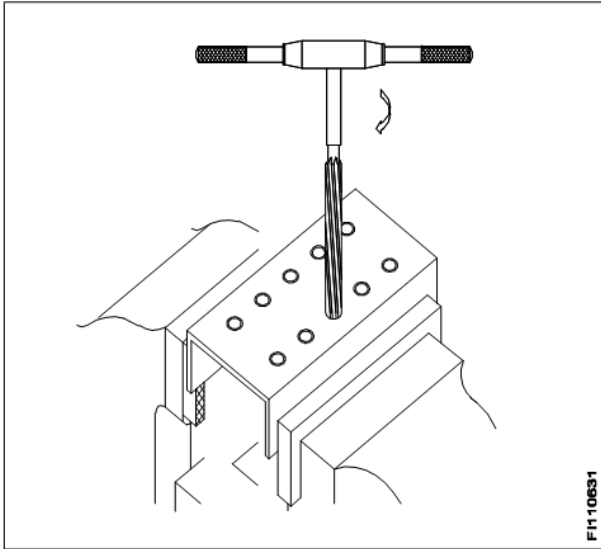
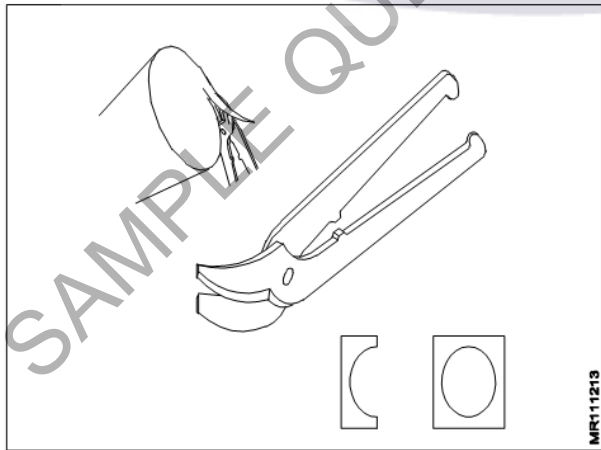
A3 : 0.10

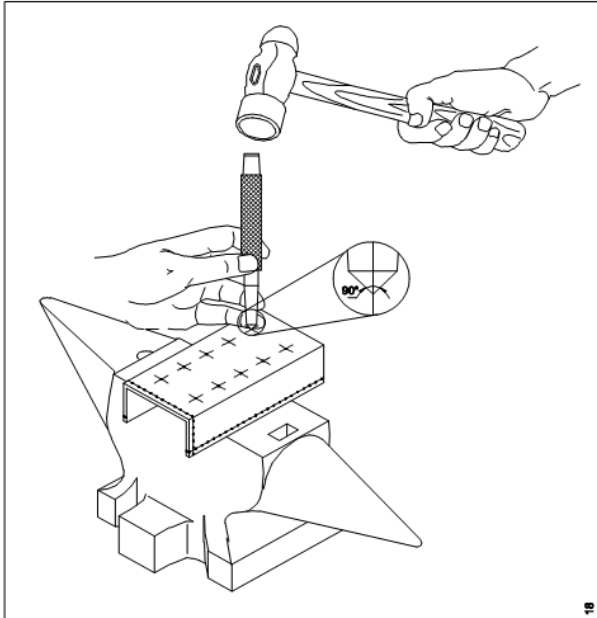
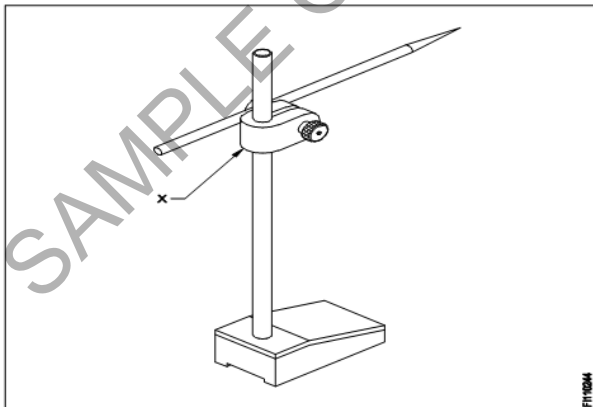
: 0.10

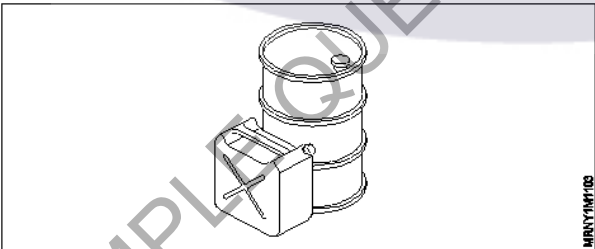
A4 : 0.20

: 0.20



		Trade Theory			
24	24	<div>Which operation is progressed on the job? जॉब पर कौन सा ऑपरेशन किया जाता है?</div> <div><p>FI110631</p></div> <div><div>A1 Drilling : ड्रिलिंग</div><div>A2 Marking : मार्किंग</div><div>A3 Tapping : टेपिंग</div><div>A4 Reaming : रिमिंग</div></div>	2.0	0.00	
Trade Theory					
25	25	<div>Which operation is in progress by snips? स्निप द्वारा कौन सा ऑपरेशन किया जाता है?</div> <div><p>MR111213</p></div> <div><div>A1 Straight cutting : स्ट्रेट कटिंग</div><div>A2 Steel tube cutting : स्टील ट्यूब कटिंग</div><div>A3 Trimming cylinder : ट्रिमिंग सिलेंडर</div><div>A4 Copper tube cutting : कॉपर ट्यूब कटिंग</div></div>	2.0	0.00	

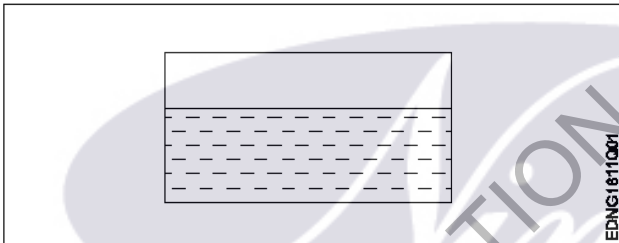
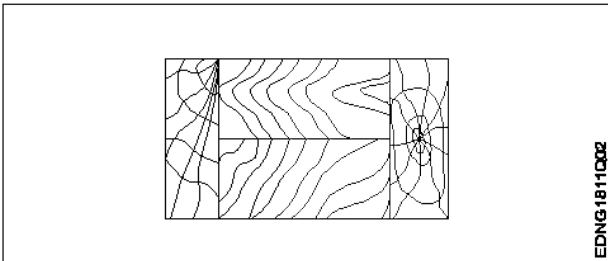
		Trade Theory			
26	26	<p>Which operation is in progress? कौन सा ऑपरेशन चल रहा है?</p> <div></div> <p>A1 Cutting : कटिंग</p> <p>A2 Drilling : ड्रिलिंग</p> <p>A3 Marking : मार्किंग</p> <p>A4 Punching : पंचिंग</p>	2.0	0.00	
		Trade Theory			
27	27	<p>What is the name of part marked as X in surface gauge? सरफेस गेज में X के रूप में चिह्नित भाग का नाम क्या है?</p> <div></div> <p>A1 Nut : नट</p> <p>A2 Snug : स्नग</p> <p>A3 Base : बेस</p> <p>A4 Spindle : स्पिंदल</p>	2.0	0.00	

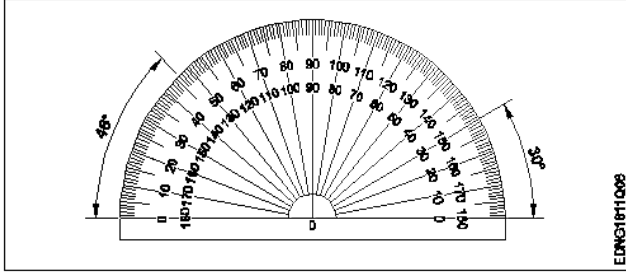
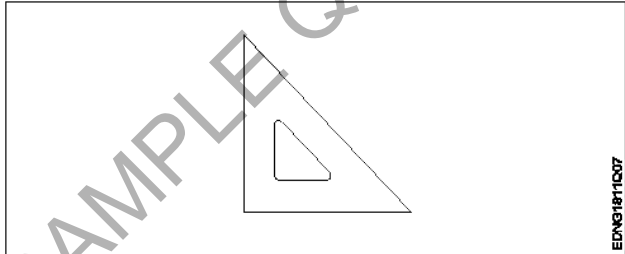
		स्पिंडल		
		Trade Theory		
28	28	<p>What is the name of the caliper having one leg with an adjustable divider point and other leg is bent? अडस्टेबल डिवाइडर पॉइंट के साथ एक लेग वाले कैलीपर का नाम क्या है जिसका दूसरा लेग मुड़ा हुआ हो?</p> <p>A1 Jenny Caliper : जेनी कैलिपर</p> <p>A2 Inside Caliper : इनसाइड कैलीपर</p> <p>A3 Outside caliper : आउटसाइड कैलीपर</p> <p>A4 Spring joint caliper : स्प्रिंग ज्वाइंट कैलीपर</p>	2.0	0.00
		Trade Theory		
29	29	<p>What is the least count of a metric micrometer? मीट्रिक माइक्रोमीटर अल्पतमांक क्या है?</p> <p>A1 0.1 mm : 0.1 mm</p> <p>A2 0.01 mm : 0.01 mm</p> <p>A3 0.001 mm : 0.001 mm</p> <p>A4 000.1 mm : 000.1 mm</p>	2.0	0.00
		Trade Theory		
30	30	<p>What is the type of fire class? फायर क्लास कितने प्रकार का होता है?</p>  <p>A1 Class A fire : क्लास A फायर</p> <p>A2 Class B fire : क्लास B फायर</p> <p>A3 Class C fire : क्लास C फायर</p> <p>A4 Class D fire : क्लास D फायर</p>	2.0	0.00
		Trade Theory		
31	31	<p>What is the ideal temperature for bacteria to grow slowly? बैक्टीरिया के धीरे-धीरे बढ़ने के लिए आदर्श तापमान क्या है?</p> <p>A1 2°C : 2°C</p>	2.0	0.00

		A2 : 3°C 3°C A3 : 4°C 4°C A4 : 5°C 5°C		
Trade Theory				
32	32	What is the method for preserving food for extended period? भोजन को लम्बे समय तक सुरक्षित रखने की विधि क्या है?  A1 : Air conditioning एयर कंडीशनिंग A2 : Heating हीटिंग A3 : Fast freezing फ़ास्ट फ्रीजिंग A4 : Ventilation वेंटिलेशन	2.0	0.00
Trade Theory				
33	33	What is the angle of teeth for a single cut file? एकल कट फाइल के लिए दांतों का कोण क्या है?  A1 : 45° 45° A2 : 60° 60° A3 : 70° 70° A4 : 90° 90°	2.0	0.00
Trade Theory				
34	34	Which tool is used for holding work pieces? वर्क पीस को पकड़ने के लिए किस उपकरण का उपयोग किया जाता है?  A1 : Stakes स्टेक्स A2 : Shear शियर A3 : Bench vice बेंच वाइस A4 : Folding bar फ़ोल्डिंग बार	2.0	0.00
Trade Theory				
35	35	What is the angle of blade of try square? ट्राई स्कायर के ब्लेड का कोण कितना होता है?  A1 : 45° 45°	2.0	0.00

		A2 : 60°  60° A3 : 70°  70° A4 : 90°  90°		
Trade Theory				
36	36	Which hand tool is used for checking vertical alignment of wall? दीवार के ऊर्ध्वाधर सरिखण की जाँच के लिए किस हैंड टूल का उपयोग किया जाता है?  A1 Try square : ट्राई स्क्वायर A2 Steel rule : स्टील रूल A3 Measuring tape : मिजरिंग टेप A4 Plumb bob : प्लम्ब बॉब	2.0	0.00
Trade Theory				
37	37	What is the instrument used for measuring the thickness of sheet metal? शीट मेटल की मोटाई मापने के लिए किस इंस्ट्रूमेंट का उपयोग किया जाता है?  A1 Steel rule : स्टील रूल A2 Try square : ट्राई स्क्वायर A3 Standard wire gauge : स्टैंडर्ड वायर गेज A4 Measuring tape : मिजरींग टेप	2.0	0.00
Trade Theory				
38	38	How many types of rivets are there? रिवेट्स कितने प्रकार के होते हैं?  A1 2 : 2 A2 3 : 3 A3 4 : 4 A4 5 : 5	2.0	0.00
Workshop Calculation Science				
39	39	What are the two classifications of system of units? इकाइयों की प्रणाली के दो प्रकार कौनसे हैं?  A1 British and Metric : ब्रिटिश और मीट्रिक	2.0	0.00

		<p>A2 : Gravitational and non-gravitational गुरुत्वाकर्षण और गैर-गुरुत्वाकर्षण</p> <p>A3 : Fundamental and derived मौलिक और व्युत्पन्न</p> <p>A4 : Metric and International मैट्रिक और इंटरनेशनल</p>		
Workshop Calculation Science				
40	40	<p>What are fundamental units? इनमे से मूलभूत इकाइयाँ कोन-कोनसी हैं?</p> <p>A1 : Length, Mass, Volume लंबाई, द्रव्यमान, आयतन</p> <p>A2 : Length, Mass, Time लंबाई, द्रव्यमान, समय</p> <p>A3 : Length, Mass, Area लंबाई, द्रव्यमान, क्षेत्रफल</p> <p>A4 : Length, Pressure, Volume लंबाई, दाब, आयतन</p>	2.0	0.00
Workshop Calculation Science				
41	41	<p>What denotes letter 'M' in MKS system? MKS प्रणाली में 'M' अक्षर क्या दर्शाता है?</p> <p>A1 : Mile Mile</p> <p>A2 : Meter Meter</p> <p>A3 : Millimeter Millimeter</p> <p>A4 : Micron Micron</p>	2.0	0.00
Workshop Calculation Science				
42	42	<p>How many millimetres are there in 1 inch? 1 इंच में कितने मिलीमीटर होते हैं?</p> <p>A1 : 2.54 mm 2.54 mm</p> <p>A2 : 25.4 mm 25.4 mm</p> <p>A3 : 24.5 mm 24.5 mm</p> <p>A4 : 2.45 mm 2.45 mm</p>	2.0	0.00
Workshop Calculation Science				
43	43	<p>What is the square root of 529? 529 का वर्गमूल क्या है?</p> <p>A1 : 13 13</p> <p>A2 : 23 23</p>	2.0	0.00

		23 A3 : 33 33 A4 : 43 43		
Workshop Calculation Science				
44	44	Convert 0.456 decimal fraction into percentage? 0.456 दशमलव भिन्न को प्रतिशत में बदलिये?  A1 : 45.6% 45.6% A2 : 4.56% 4.56% A3 : 0.456% 0.456% A4 : 0.0456% 0.0456%	2.0	0.00
Engineering Drawing				
45	45	Identify the conventional symbol of material? चित्र में दिखाए गए सामग्री के पारंपरिक प्रतीक का पता लगाएं?   A1 : Water पानी A2 : Concrete ठोस A3 : Asbestos ऐस्बेटस A4 : Glass कांच	2.0	0.00
Engineering Drawing				
46	46	Identify the conventional symbol of material? चित्र में दिखाए गए सामग्री के पारंपरिक प्रतीक का पता लगाएं?   A1 : Lead लेड	2.0	0.00

		A2 Glass : कांच A3 Wood : लकड़ी A4 Paper : कागज़		
Engineering Drawing				
47	47	Identify the name of instrument? चित्र में दिखाए गए उपकरणों के नाम की पहचान करें? 	2.0	0.00
		A1 Set square : गुनिया A2 Protractor : चांदा A3 French curve : फ्रान्सीसी वक्र A4 'T' square : टी स्कायर		
Engineering Drawing				
48	48	Identify the name of set square? सेट स्कायर का नाम खोजें? 	2.0	0.00
		A1 15° set square : 15° सेट स्कायर A2 60° set square : 60° सेट स्कायर A3 30° set square : 30° सेट स्कायर A4 45° set square : 45° सेट स्कायर		
Engineering Drawing				
49	49	Compass used to draw for ____. कम्पास का उपयोग ____ को ड्रा करने के लिए किया जाता है.	2.0	0.00



		<p>A1 : rectangle आयत</p> <p>A2 : square वर्ग</p> <p>A3 : circle वृत्त</p> <p>A4 : triangle त्रिकोण</p>		
--	--	---	--	--

Engineering Drawing

50	50	<p>Which title block position is correct as standard practice? एक मानक अभ्यास के रूप में कौन सी शीर्षक ब्लॉक स्थिति सही है?</p> <p>A1 :</p>  <p>A2 :</p>  <p>A3 :</p>  <p>A4 :</p> 	2.0	0.00
----	----	--	-----	------

Employability Skills

51	51	<p>To be in a job or work is _____ नौकरी या काम में होना है .....</p> <p>A1 Employ रोजगार</p> <p>A2 Skill कौशल</p> <p>A3 Knowledge ज्ञान</p> <p>A4 Aptitude योग्यता</p>	2.0	0.00
----	----	---	-----	------

Employability Skills				
52	52	<p>Information like date of birth, permanent address form a part of one's _____ in the resume.</p> <p>जन्म तिथि, स्थायी पता जैसी जानकारी रिज्यूमे में किसी के _____ का हिस्सा होती है।</p> <p>A1 : Career objectives कैरियर के उद्देश्यों</p> <p>A2 : Personal details व्यक्तिगत विवरण</p> <p>A3 : Achievements उपलब्धियों</p> <p>A4 : Qualifications योग्यता</p>	2.0	0.00
Employability Skills				
53	53	<p>A person with a growth mindset is always willing to _____</p> <p>एक विकास मानसिकता वाला व्यक्ति हमेशा ..... तैयार रहता है।</p> <p>A1 : relax आराम करने में</p> <p>A2 : grow, change, learn बढ़ो, बदलो, सीखो</p> <p>A3 : keep quiet चुप रहने में</p> <p>A4 : become rich अमीर बनने</p>	2.0	0.00
Employability Skills				
54	54	<p>Jobs that have become outdated in the past 5 years _____</p> <p>..... नौकरियां जो पिछले 5 वर्षों में पुरानी हो गई हैं।</p> <p>A1 : STD booth STD बूथ</p> <p>A2 : ola ओला</p> <p>A3 : uber उबेर</p> <p>A4 : swiggy Swiggy</p>	2.0	0.00
Employability Skills				
55	55	<p>Ethics means _____</p> <p>नैतिकता का अर्थ है....।</p> <p>A1 : decide what is right and wrong for a human conduct तय करें कि मानव आचरण के लिए क्या सही है और क्या गलत</p> <p>A2 : name of a city एक शहर का नाम</p> <p>A3 : employability skills रोज़गार कौशल</p> <p>A4 : not relevant to society समाज से संबंधित नहीं है</p>	2.0	0.00
Employability Skills				

56	56	<p>Values are _____ मान हैं .....।</p> <p>A1 : not punctual समयनिष्ठ नहीं</p> <p>A2 : Motivates our attitude and action हमारे दृष्टिकोण और कार्यवाही को प्रेरित करता है</p> <p>A3 : very costly बहुत कीमती</p> <p>A4 : all have same value सभी का मूल्य समान है</p>	2.0	0.00
Employability Skills				
57	57	<p>_____ is a brief statement about purpose and principles of the Constitution. .....संविधान के उद्देश्य और सिद्धांतों के बारे में संक्षिप्त विवरण है।</p> <p>A1 : Syllabus पाठ्यक्रम</p> <p>A2 : Module मापांक</p> <p>A3 : The Preamble प्रस्तावना</p> <p>A4 : Unit इकाई</p>	2.0	0.00
Employability Skills				
58	58	<p>Identify the improper term _____ अनुचित पद को पहचानिए .....।</p> <p>A1 : green pollution हरित प्रदूषण</p> <p>A2 : water pollution जल प्रदूषण</p> <p>A3 : air pollution वायु प्रदूषण</p> <p>A4 : sound pollution ध्वनि प्रदूषण</p>	2.0	0.00
Employability Skills				
59	59	<p>NAPS Stands for _____ NAPS का मतलब _____</p> <p>A1 : National Apprenticeship Promotion Scheme National Apprenticeship Promotion Scheme</p> <p>A2 : National Appointment Promoting Scheme National Appointment Promoting Scheme</p> <p>A3 : Non Apprenticeship Promotion Scheme Non Apprenticeship Promotion Scheme</p> <p>A4 : National Advertising Promotion Scheme National Advertising Promotion Scheme</p>	2.0	0.00
Employability Skills				
60	60	_____ is major changes takes place in manufacturing.	2.0	0.00

		..... मैनुफैक्चरिंग में प्रमुख परिवर्तन होते हैं।		
		A1 : Green revolution हरित क्रांति A2 : Industry revolution उद्योग क्रांति A3 : Water revolution जल क्रांति A4 : Food revolution खाद्य क्रांति		
Employability Skills				
61	61	1st industrial revolution started in _____ पहली औद्योगिक क्रांति की शुरुआत .....।  A1 : 18th century 18 वीं सदी A2 : 19th century 19 वीं सदी A3 : 20th century 20 वीं सदी A4 : 21st century 21 वीं सदी	2.0	0.00
Employability Skills				
62	62	Hard Skill _____ कठिन कौशल.....।  A1 : quick learner त्वरित शिक्षार्थी A2 : time management समय प्रबंधन A3 : 60 WPM typing speed 60 WPM टाइपिंग स्पीड A4 : spoken English मौखिक अंग्रेजी	2.0	0.00
Employability Skills				
63	63	To grow yourself you must _____ अपने आप को विकसित करने के लिए आपको चाहिए .....।  A1 : know your office अपने कार्यालय को जानें A2 : know yourself खुद को जानें A3 : know your institute अपने संस्थान को जानें A4 : know your country अपने देश को जानो	2.0	0.00
Employability Skills				
64	64	Time management _____	2.0	0.00

		<p>समय प्रबंधन.....।</p> <p>A1 : complete your task on time अपना कार्य समय पर पूरा करें</p> <p>A2 : managing time प्रबंधन समय</p> <p>A3 : hard skill कठिन कौशल</p> <p>A4 : problem solving समस्या को सुलझाना</p>		
Employability Skills				
65	65	<p>A resume should be _____. एक रिज्यूम _____ होना चाहिए</p> <p>A1 : short and precise छोटा और सटीक</p> <p>A2 : fancy and colourful फैंसी और रंगीन</p> <p>A3 : having long and detailed information लंबी और विस्तृत जानकारी होना</p> <p>A4 : having acronyms and abbreviation समरूप और संक्षिप्त नाम होना</p>	2.0	0.00
Employability Skills				
66	66	<p>A written description of duties and responsibilities to be carried out in a job is called _____. किसी कार्य में किए जाने वाले कर्तव्यों और जिम्मेदारियों का लिखित विवरण _____ कहा जाता है</p> <p>A1 : CV CV</p> <p>A2 : job description job description</p> <p>A3 : resume resume</p> <p>A4 : job application job application</p>	2.0	0.00
Employability Skills				
67	67	<p>After receiving interview call, what is the next step? साक्षात्कार कॉल प्राप्त करने के बाद, अगला कदम क्या है?</p> <p>A1 : Send application letter आवेदन पत्र भेजें</p> <p>A2 : Prepare the resume रिज्यूम तैयार करें</p> <p>A3 : Appear at interview साक्षात्कार में जाये</p> <p>A4 : Send resume रिज्यूम भेजे</p>	2.0	0.00
Employability Skills				
68	68	<p>Choose suitable "wh" word for the given sentence. "_____ animal do you like?" दिए गए वाक्य के लिए उपयुक्त "wh" शब्द चुनें। "_____ animal do you like?"</p>	2.0	0.00

		<p>A1 Which :</p> <p>Which</p> <p>A2 Why :</p> <p>Why</p> <p>A3 Where :</p> <p>Where</p> <p>A4 When :</p> <p>When</p>		
Employability Skills				
69	69	<p>Choose the correct punctuation mark after the word “Rohan” in the given sentence. “Rohan David and Ram are playing hide and seek”            दिए गए वाक्य में शब्द "रोहन" के बाद सही विराम चिह्न चुनें। “Rohan David and Ram are playing hide and seek”</p> <p>A1 Comma (,) :</p> <p>अल्पविराम (,)</p> <p>A2 Period (.) :</p> <p>अवधि (.)</p> <p>A3 Slash (/) :</p> <p>स्लैश (/)</p> <p>A4 Hyphen (-) :</p> <p>हाइफ़न (-)</p>	2.0	0.00
Employability Skills				
70	70	<p>Choose the correct response for the given question. “How have you been?”            दिए गए प्रश्न के लिए सही उत्तर चुनिए। “How have you been?”</p> <p>A1 Very well, And you? :</p> <p>Very well, And you?</p> <p>A2 Thank you_ And you? :</p> <p>Thank you_ And you?</p> <p>A3 Same to you :</p> <p>Same to you</p> <p>A4 On vacation_ And you? :</p> <p>On vacation_ And you?</p>	2.0	0.00
Employability Skills				
71	71	<p>Choose the correct response of the given question. “When did the accident happen?”            दिए गए प्रश्न की सही प्रतिक्रिया चुनें। “When did the accident happen?”</p> <p>A1 in the hotel :</p> <p>in the hotel</p> <p>A2 during travelling :</p> <p>during travelling</p> <p>A3 At 10:30 last night :</p> <p>At 10:30 last night</p> <p>A4 On the table :</p> <p>On the table</p>	2.0	0.00
Employability Skills				
72	72	<p>Choose the correct tense of the verb. “I _____ music when I was child”            क्रिया का सही काल चुनें। “I _____ music when I was child”</p>	2.0	0.00

		<p>A1 learn : learn</p> <p>A2 am learning : am learning</p> <p>A3 will learn : will learn</p> <p>A4 had learnt : had learnt</p>		
Employability Skills				
73	73	<p>Curriculum vitae is also known as _____ . Curriculum vitae को _____ के रूप में भी जाना जाता है।</p> <p>A1 circular : परिपत्र</p> <p>A2 resume : रिज्यूम</p> <p>A3 job application form : नौकरी के लिए आवेदन पत्र</p> <p>A4 leave application : छुट्टी की अर्जी</p>	2.0	0.00
Employability Skills				
74	74	<p>Fill in the blank with comparative adjective. "Your pencil is _____ than mine." तुलनात्मक विशेषण के साथ रिक्त स्थान भरें। "Your pencil is _____ than mine"</p> <p>A1 sharp : sharp</p> <p>A2 sharper : sharper</p> <p>A3 blunt : blunt</p> <p>A4 thick : thick</p>	2.0	0.00
Employability Skills				
75	75	<p>Fill in the blank with correct future tense of verb. "We _____ to the zoo after Breakfast " क्रिया के सही भविष्य काल के साथ रिक्त स्थान भरें। "We _____ to the zoo after Breakfast "</p> <p>A1 went : went</p> <p>A2 are going : are going</p> <p>A3 had gone : had gone</p> <p>A4 will go : will go</p>	2.0	0.00

## Refrigeration & AC Technician - 1 Year - Set 1

S.No.	Correct Answer Key
1	A3
2	A4
3	A2
4	A1
5	A3
6	A2
7	A3
8	A3
9	A1
10	A4
11	A2
12	A4
13	A2
14	A2
15	A1
16	A3
17	A3
18	A3
19	A3
20	A3
21	A4
22	A2
23	A2
24	A4
25	A3
26	A4
27	A2
28	A1
29	A2
30	A2
31	A3
32	A3
33	A2
34	A3
35	A4
36	A4
37	A3
38	A3

S.No.	Correct Answer Key
39	A3
40	A2
41	A2
42	A2
43	A2
44	A1
45	A1
46	A3
47	A2
48	A4
49	A3
50	A1
51	A1
52	A2
53	A2
54	A1
55	A1
56	A2
57	A3
58	A1
59	A1
60	A2
61	A1
62	A3
63	A2
64	A1
65	A1
66	A2
67	A3
68	A1
69	A1
70	A1
71	A3
72	A4
73	A2
74	A2
75	A4

**Note:**

"In case answers found to be inaccurate due to typographical error or any other reason please sent mail to [qbnimigrievance@gmail.com](mailto:qbnimigrievance@gmail.com)"