


ALL INDIA TRADE TEST - 2024 FOR CRAFTSMEN
TRAINING SCHEME (CTS)
Trade Name: Solar Technician (Electrical)
Year: 1st Year

Exam Date :

Exam Time :

Note:

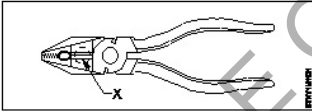
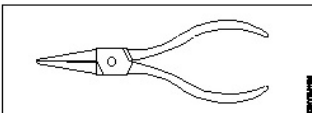
1. Tick the correct option out of four alternatives provided
2. All questions carry equal marks (2 Marks each)
3. There is no negative marking

Sr. No.	Q ID	Question Body and Alternatives	Marks	Negative Marks
Trade Theory				
1	1	<p>How many types of professional classification of solar technician-electrical based on national code of occupation? राष्ट्रीय व्यवसाय संहिता के आधार पर सोलर टेक्नीशियन-इलेक्ट्रिकल का व्यावसायिक वर्गीकरण कितने प्रकार का होता है?</p> <p>A1 : Two दो</p> <p>A2 : Three तीन</p> <p>A3 : Four चार</p> <p>A4 : Five पाँच</p>	2.0	0.00
Trade Theory				
2	2	<p>Which is the key skill of solar technician? सोलर टेक्नीशियन का मुख्य कौशल कौन सा है?</p> <p>A1 : Heat energy calculation ऊष्मा ऊर्जा गणना</p> <p>A2 : Electric energy calculation विद्युत ऊर्जा गणना</p> <p>A3 : Mechanical energy calculation यांत्रिक ऊर्जा गणना</p> <p>A4 : Pneumatic energy calculation वायवीय ऊर्जा गणना</p>	2.0	0.00
Trade Theory				
3	3	<p>What is the name of safety sign shown in figure? चित्र में दिखाए गए सुरक्षा चिह्न का नाम क्या है?</p> <div style="text-align: center;">  </div> <p>A1 : Prohibition signs निषेध संकेत</p> <p>A2 : Mandatory signs अनिवार्य संकेत</p>	2.0	0.00

		<p>A3 Warning signs : चेतावनी संकेत</p> <p>A4 Information signs : सूचना संकेत</p>		
Trade Theory				
4	4	<p>Which type of safety sign indicate smoking and naked flames prohibited? किस प्रकार के सुरक्षा चिह्न धूम्रपान और खुली लपटों के निषेध को दर्शाते हैं?</p> <p>A1 Prohibition signs : निषेध संकेत</p> <p>A2 Mandatory signs : अनिवार्य संकेत</p> <p>A3 Warning signs : चेतावनी संकेत</p> <p>A4 Information signs : सूचना संकेत</p>	2.0	0.00
Trade Theory				
5	5	<p>Which is the warning signs? चेतावनी चिह्न कौन से हैं?</p> <p>A1 Risk of fire : आग का खतरा</p> <p>A2 Wear respirator : श्वासयंत्र पहनें</p> <p>A3 Wear hard gloves : कठोर दस्ताने पहनें</p> <p>A4 First aid point : प्राथमिक चिकित्सा बिंदु</p>	2.0	0.00
Trade Theory				
6	6	<p>How can be avoid hazard in a work electrical work place? विद्युत कार्यस्थल में खतरे से कैसे बचा जा सकता है?</p> <p>A1 By using phone : फोन का उपयोग करके</p> <p>A2 By using personal protective equipment : व्यक्तिगत सुरक्षा उपकरण का उपयोग करके</p> <p>A3 By using torque wrench : टॉर्क रिच का उपयोग करके</p> <p>A4 By using measuring instruments : मापन उपकरणों का उपयोग करके</p>	2.0	0.00
Trade Theory				
7	7	<p>What is called the measuring or calculating the hazard by instruments? उपकरणों द्वारा खतरे को मापने या गणना करने को क्या कहते हैं?</p> <p>A1 Acceptance : स्वीकृति</p> <p>A2 Evaluation : मूल्यांकन</p>	2.0	0.00

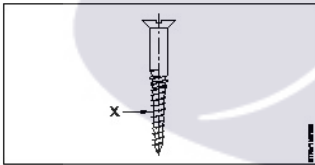
		A3 Anticipation : पूर्वानुमान A4 Identification : पहचान		
Trade Theory				
8	8	What is called for isolate the fire from the supply of oxygen by blanketing? आग को ऑक्सीजन की आपूर्ति से अलग करने के लिए कंबल का उपयोग करना क्या कहलाता है? A1 Starving : भूख से मरना A2 Smothering : दबाना A3 Cooling : शीतलन A4 Converting : परिवर्तित करना	2.0	0.00
Trade Theory				
9	9	Which is provide absolute and full protection against hazard? खतरे के विरुद्ध पूर्ण सुरक्षा कौन सी है? A1 BIS : BIS A2 ISO : ISO A3 PPE : PPE A4 BSI : BSI	2.0	0.00
Trade Theory				
10	10	Which type of marked product given free replacement to consumers, in case of found to be substandard quality of their product? किस प्रकार के चिह्नित उत्पाद उपभोक्ताओं को उनके उत्पाद की घटिया गुणवत्ता पाए जाने पर मुफ्त प्रतिस्थापन प्रदान करते हैं? A1 CIS : CIS A2 IOB : IOB A3 ISI : ISI A4 SBI : SBI	2.0	0.00
Trade Theory				
11	11	Which section of national electrical code-2011 part-1 of the code describes about the scope of the NEC? कोड के राष्ट्रीय विद्युत संहिता-2011 भाग-1 की कौन सी धारा NEC के दायरे के बारे में बताती है? A1 Section-1 : धारा-1 A2 Section-2 : धारा-2 A3 Section-3 :	2.0	0.00

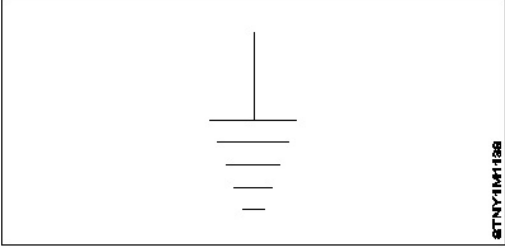
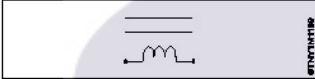
		धारा-3 A4 : Section-4 धारा-4		
Trade Theory				
12	12	Which section of national electrical code-2011 part-1 of the code covers general criteria for selection of equipment? कोड के राष्ट्रीय विद्युत संहिता-2011 भाग-1 की कौन सी धारा उपकरणों के चयन के लिए सामान्य मानदंडों को शामिल करती है? A1 : Section-10 धारा-10 A2 : Section-12 धारा-12 A3 : Section-15 धारा-15 A4 : Section-19 धारा-19	2.0	0.00
Trade Theory				
13	13	Which is the alphanumeric notation and colour code used for phase-3 supply ac system? फेज-3 आपूर्ति ac प्रणाली के लिए उपयोग किए जाने वाले अल्फान्यूमेरिक संकेतन और रंग कोड कौन से हैं? A1 : L1, Red L1, Red A2 : L2, Yellow L2, Yellow A3 : M, Black M, Black A4 : L3, Blue L3, Blue	2.0	0.00
Trade Theory				
14	14	Which is the electrical symbols indicate a winding-star? कौन से विद्युत प्रतीक वाइंडिंग-स्टार को दर्शाते हैं? A1 : ~ ~ A2 : Y Y A3 : X X A4 : Δ Δ	2.0	0.00
Trade Theory				
15	15	Which type of plier used for holding small objects in places where fingers cannot reach? उन जगहों पर छोटी वस्तुओं को पकड़ने के लिए किस प्रकार के प्लायर का उपयोग किया जाता है जहाँ उंगलियाँ नहीं पहुँच सकतीं? A1 : Combination plier संयोजन प्लायर A2 : Flat nose plier फ्लैट नोज़ प्लायर A3 : Long nose plier लंबी नाक वाला प्लायर	2.0	0.00

		A4 Round nose plier : गोल नाक प्लायर		
Trade Theory				
16	16	Which is the tool used for cutting, twisting, holding and gripping small jobs in wiring works? वायरिंग कार्यों में छोटे-छोटे जॉब्स को काटने, मोड़ने, पकड़ने और जकड़ने के लिए किस उपकरण का उपयोग किया जाता है? A1 Round nose plier : गोल नाक प्लायर A2 Side cutting plier : साइड कटिंग प्लायर A3 Combination plier : संयोजन प्लायर A4 Long nose plier : लंबी नाक प्लायर	2.0	0.00
Trade Theory				
17	17	Which type of hammer made out of hard wood or nylon? कठोर लकड़ी या नायलॉन से बना किस प्रकार का हैमर है? A1 Ball peen hammer : बॉल पीन हैमर A2 Cross-peen hammer : क्रॉस-पीन हैमर A3 Straight peen hammer : सीधा पीन हैमर A4 Mallet hammer : मैलेट हैमर	2.0	0.00
Trade Theory				
18	18	What is the name of part marked as 'X'? 'X' से चिह्नित भाग का नाम क्या है?  A1 Joint cutter : जॉइन्ट कटर A2 Side cutter : साइड कटर A3 Pipe cutter : पाइप कटर A4 Gripping surface : ग्रीपिंग सरफेस	2.0	0.00
Trade Theory				
19	19	What is the name of plier shown in a figure? चित्र में दिखाए गए प्लायर का नाम क्या है? 	2.0	0.00

		<p>A1 Flat nose plier : फ्लैट नोज़ प्लायर</p> <p>A2 Long nose plier : लॉन्ग नोज़ प्लायर</p> <p>A3 Round nose plier : राउंड नोज़ प्लायर</p> <p>A4 Cutting plier : कटिंग प्लायर</p>		
Trade Theory				
20	20	<p>Which is the tool for skinning the insulation of cables and cleaning the wire surface? केबल के इन्सुलेशन को हटाने और तार की सतह को साफ करने के लिए कौन सा उपकरण है?</p> <p>A1 Electrician's plier : इलेक्ट्रीशियन प्लायर</p> <p>A2 Electrician's knife : इलेक्ट्रीशियन का नाइफ</p> <p>A3 Electrician's screwdriver : इलेक्ट्रीशियन का स्कूड्राइवर</p> <p>A4 Electrician's neon tester : इलेक्ट्रीशियन का नियोन टेस्टर</p>	2.0	0.00
Trade Theory				
21	21	<p>How many types of try square used in engineering field? इंजीनियरिंग क्षेत्र में कितने प्रकार के ट्राई स्क्वायर का उपयोग किया जाता है?</p> <p>A1 Two types : दो प्रकार</p> <p>A2 Three types : तीन प्रकार</p> <p>A3 Four types : चार प्रकार</p> <p>A4 Five types : पांच प्रकार</p>	2.0	0.00
Trade Theory				
22	22	<p>Which is the tool used for marking and punching pilot holes on metals? धातुओं पर पायलट होल्स को चिह्नित करने और छिद्रित करने के लिए किस उपकरण का उपयोग किया जाता है?</p> <p>A1 Nail : कील</p> <p>A2 Wood screw : वुड स्कू</p> <p>A3 Centre punch : सेंटर पंच</p> <p>A4 Chisel : चीजल</p>	2.0	0.00
Trade Theory				
23	23	<p>What is the cause for hard rotation of portable electric drilling machine? पोर्टेबल इलेक्ट्रिक ड्रिलिंग मशीन के कठोर घुमाव का क्या कारण है?</p>	2.0	0.00

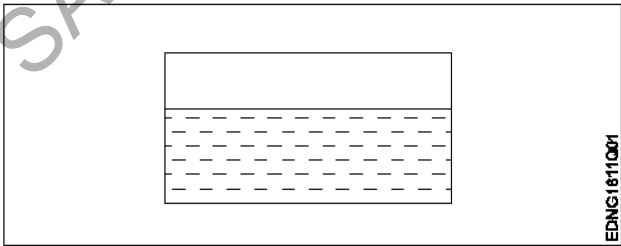
		<p>A1 Lubricated all moving parts : सभी चलने वाले भागों को लुब्रिकेट दें</p> <p>A2 Poor lubrication on moving parts : चलने वाले हिस्सों पर खराब लुब्रिकेशन</p> <p>A3 Drill bit fixed in the jaws : जॉब्स में फिक्स ड्रिल बिट</p> <p>A4 Low pressure on drill bits : ड्रिल बिट्स पर कम दबाव</p>		
Trade Theory				
24	24	<p>Which is the file used for good finishing purposes? अच्छी फिनिशिंग के लिए किस फाइल का उपयोग किया जाता है?</p> <p>A1 Rough file : रफ फाइल</p> <p>A2 Bastard file : बास्टर्ड फ़ाइल</p> <p>A3 Second cut file : सेकंड कट फ़ाइल</p> <p>A4 Dead smooth file : डेड स्मूथ फ़ाइल</p>	2.0	0.00
Trade Theory				
25	25	<p>Which type of cutting tool has provided with multiple cutting edges? किस प्रकार के कटिंग टूल में कई कटिंग एज दिए गए हैं?</p> <p>A1 Chisel : चीजल</p> <p>A2 Snip : स्निप</p> <p>A3 File : फ़ाइल</p> <p>A4 Drill bit : ड्रिल बिट</p>	2.0	0.00
Trade Theory				
26	26	<p>Why bench vice is used in engineering work shop? इंजीनियरिंग वर्कशॉप में बेंच वाइस का उपयोग क्यों किया जाता है?</p> <p>A1 Marking the workpieces : वर्कपीस को चिह्नित करना</p> <p>A2 Holding the workpieces : वर्कपीस को पकड़ना</p> <p>A3 Threading the workpieces : वर्कपीस को थ्रेड करना</p> <p>A4 Sizing the workpieces : वर्कपीस का आकार निर्धारण</p>	2.0	0.00
Trade Theory				
27	27	<p>What is to be ensure before using hammer? हैमर का उपयोग करने से पहले क्या सुनिश्चित किया जाना चाहिए?</p>	2.0	0.00

		<p>A1 Hammer face with oil : हैमर के फेस पर ऑयल लगाना</p> <p>A2 Handle is property fitted : हैंडल ठीक से फिट है</p> <p>A3 Under weigh of hammer for the work : काम के लिए हैमर का कम वजन</p> <p>A4 Hammer handle with grease : ग्रीस के साथ हैमर हैंडल</p>		
Trade Theory				
28	28	<p>Which is used to making a round holes on metals? धातुओं पर राउंड होल्स बनाने के लिए किसका उपयोग किया जाता है?</p> <p>A1 Chisel : चीजल</p> <p>A2 Punch : पंच</p> <p>A3 Drill bits : ड्रिल बिट्स</p> <p>A4 Nose plier : नोज प्लायर</p>	2.0	0.00
Trade Theory				
29	29	<p>What is the name of part marked as 'X'?</p> <p>'X' से चिह्नित भाग का नाम क्या है?</p>  <p>A1 Head : हेड</p> <p>A2 Pitch : पिच</p> <p>A3 Shank : शेक</p> <p>A4 Thread : थ्रेड</p>	2.0	0.00
Trade Theory				
30	30	<p>Which is used to recognize a components in a electrical circuit and electrical diagrams? विद्युत परिपथ और विद्युत आरेखों में घटकों को पहचानने के लिए किसका उपयोग किया जाता है?</p> <p>A1 Photo : फोटो</p> <p>A2 Symbols : सिंबल</p> <p>A3 Antenna : एंटीना</p> <p>A4 Polarity indicator :</p>	2.0	0.00

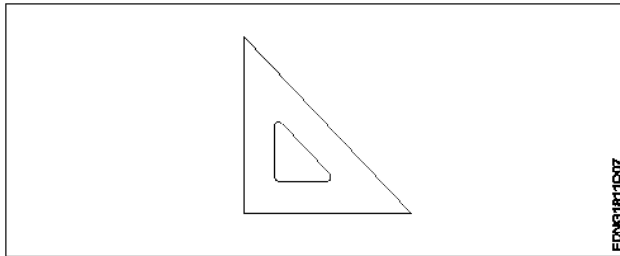
		ध्रुवीयता सूचक		
		Trade Theory		
31	31	<p>What is the name of symbols shown in figure?</p> <p>आकृति में दिखाए गए प्रतीकों का नाम क्या है?</p>  <p>A1 Earth ground : अर्थ ग्राउंड</p> <p>A2 Chassis ground : चैसिस ग्राउंड</p> <p>A3 Digital ground : डिजिटल ग्राउंड</p> <p>A4 Common ground : कॉमन ग्राउंड</p>	2.0	0.00
		Trade Theory		
32	32	<p>What is the name of coil symbols shown in figure?</p> <p>आकृति में दिखाए गए कुंडल प्रतीकों का नाम क्या है?</p>  <p>A1 Inductor : इंडक्टर</p> <p>A2 Iron core inductor : आयरन कोर इंडक्टर</p> <p>A3 Variable inductor : वेरिएबल इंडक्टर</p> <p>A4 Copper core inductor : कॉपर कोर इंडक्टर</p>	2.0	0.00
		Trade Theory		
33	33	<p>Which type of resistor change resistance when temperature changes in a circuit function?</p> <p>सर्किट फंक्शन में तापमान में परिवर्तन होने पर किस प्रकार का प्रतिरोधक प्रतिरोध बदलता है?</p> <p>A1 Thermistor : थर्मिस्टर</p> <p>A2 Photo resistor : फोटो रेसिस्टर</p> <p>A3 Variable resistor : वेरिएबल इंडक्टर</p> <p>A4 Trimmer resistor : ट्रिंमर रेसिस्टर</p>	2.0	0.00
		Trade Theory		
34	34	<p>What is the use of nails and wood screws?</p> <p>नेल्स और वुड स्क्रू का क्या उपयोग है?</p>	2.0	0.00

		<p>A1 Fastening wood work : फास्टनिंग वुड वर्क</p> <p>A2 Fastening meter works : फास्टनिंग मीटर वर्क</p> <p>A3 Fastening aluminium works : फास्टनिंग एल्यूमीनियम वर्क</p> <p>A4 Fastening brass works : फास्टनिंग ब्रास वर्क</p>		
Trade Theory				
35	35	<p>Which is the nearest shell layer of nucleus? नक्लेयर्स की सबसे नजदीकी कोश परत कौन सी है?</p> <p>A1 K shell : K शेल</p> <p>A2 L shell : L शेल</p> <p>A3 M shell : M शेल</p> <p>A4 N shell : N शेल</p>	2.0	0.00
Trade Theory				
36	36	<p>How many electrons would have in four shell of copper atom? तांबे के परमाणु के चार सेल में कितने इलेक्ट्रॉन होंगे?</p> <p>A1 10 : 10</p> <p>A2 13 : 13</p> <p>A3 26 : 26</p> <p>A4 29 : 29</p>	2.0	0.00
Trade Theory				
37	37	<p>Which is the instrument used for measure the current in a circuit? सर्किट में करंट मापने के लिए किस उपकरण का उपयोग किया जाता है?</p> <p>A1 Ammeter : एमीटर</p> <p>A2 Odometer : ओडोमीटर</p> <p>A3 RPM meter : RPM मीटर</p> <p>A4 Speedo meter : स्पीडो मीटर</p>	2.0	0.00
Trade Theory				
38	38	<p>What is called the simplest parts of a molecule? अणु के सबसे सरल भाग को क्या कहते हैं?</p>	2.0	0.00

		<p>A1 Nucleus : न्यूक्लियस</p> <p>A2 Protons : प्रोटॉन</p> <p>A3 Atom : परमाणु</p> <p>A4 Conductor : कंडक्टर</p>		
Workshop Calculation Science				
39	39	<p>What are the two classifications of system of units? इकाइयों की प्रणाली के दो प्रकार कौनसे हैं?</p> <p>A1 British and Metric : ब्रिटिश और मीट्रिक</p> <p>A2 Gravitational and non-gravitational : गुरुत्वाकर्षण और गैर-गुरुत्वाकर्षण</p> <p>A3 Fundamental and derived : मौलिक और व्युत्पन्न</p> <p>A4 Metric and International : मैट्रिक और इंटरनेशनल</p>	2.0	0.00
Workshop Calculation Science				
40	40	<p>What are fundamental units? इनमें से मूलभूत इकाइयाँ कौन-कौनसी हैं?</p> <p>A1 Length, Mass, Volume : लंबाई, द्रव्यमान, आयतन</p> <p>A2 Length, Mass, Time : लंबाई, द्रव्यमान, समय</p> <p>A3 Length, Mass, Area : लंबाई, द्रव्यमान, क्षेत्रफल</p> <p>A4 Length, Pressure, Volume : लंबाई, दाब, आयतन</p>	2.0	0.00
Workshop Calculation Science				
41	41	<p>What denotes letter 'M' in MKS system? MKS प्रणाली में 'M' अक्षर क्या दर्शाता है?</p> <p>A1 Mile : Mile</p> <p>A2 Meter : Meter</p> <p>A3 Millimeter : Millimeter</p> <p>A4 Micron : Micron</p>	2.0	0.00
Workshop Calculation Science				
42	42	<p>How many millimetres are there in 1 inch? 1 इंच में कितने मिलीमीटर होते हैं?</p>	2.0	0.00

		A1 2.54 mm : 2.54 mm A2 25.4 mm : 25.4 mm A3 24.5 mm : 24.5 mm A4 2.45 mm : 2.45 mm		
Workshop Calculation Science				
43	43	What is the square root of 529? 529 का वर्गमूल क्या है? A1 13 : 13 A2 23 : 23 A3 33 : 33 A4 43 : 43	2.0	0.00
Workshop Calculation Science				
44	44	Convert 0.456 decimal fraction into percentage? 0.456 दशमलव भिन्न को प्रतिशत में बदलिये? A1 45.6% : 45.6% A2 4.56% : 4.56% A3 0.456% : 0.456% A4 0.0456% : 0.0456%	2.0	0.00
Engineering Drawing				
45	45	Identify the conventional symbol of material? चित्र में दिखाए गए सामग्री के पारंपरिक प्रतीक का पता लगाएं?  A1 Water : पानी A2 Concrete : ठोस A3 Asbestos : ऐस्बेटस	2.0	0.00

		<p>A4 Glass : कांच</p>		
Engineering Drawing				
46	46	<p>Identify the conventional symbol of material? चित्र में दिखाए गए सामग्री के पारंपरिक प्रतीक का पता लगाएं?</p> <div data-bbox="263 309 874 566" data-label="Image"> </div> <p>A1 Lead : लेड</p> <p>A2 Glass : कांच</p> <p>A3 Wood : लकड़ी</p> <p>A4 Paper : कागज़</p>	2.0	0.00
Engineering Drawing				
47	47	<p>Identify the name of instrument? चित्र में दिखाए गए उपकरणों के नाम की पहचान करें?</p> <div data-bbox="263 1135 895 1408" data-label="Image"> </div> <p>A1 Set square : गुनिया</p> <p>A2 Protractor : चांदा</p> <p>A3 French curve : फ्रेंचसीसी वक्र</p> <p>A4 'T' square : टी स्क्वायर</p>	2.0	0.00
Engineering Drawing				
48	48	<p>Identify the name of set square? सेट स्क्वायर का नाम खोजें?</p>	2.0	0.00



A1
: 15° set square

15° सेट स्कायर

A2
: 60° set square

60° सेट स्कायर

A3
: 30° set square

30° सेट स्कायर

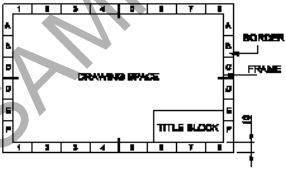
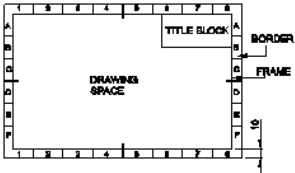
A4
: 45° set square

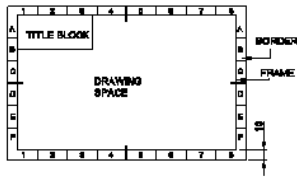
45° सेट स्कायर

Engineering Drawing

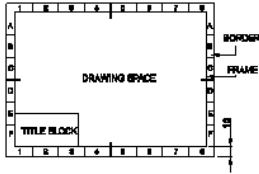
49	49	Compass used to draw for ____. कम्पास का उपयोग ____ को ड्रा करने के लिए किया जाता है.	2.0	0.00
		<p>A1 : rectangle आयत</p> <p>A2 : square वर्ग</p> <p>A3 : circle वृत्त</p> <p>A4 : triangle त्रिकोण</p>		

Engineering Drawing

50	50	Which title block position is correct as standard practice? एक मानक अभ्यास के रूप में कौन सी शीर्षक ब्लॉक स्थिति सही है?	2.0	0.00
		<p>A1 :</p>  <p>A2 :</p>  <p>A3 :</p>		



A4
:



Employability Skills

51	51	<p>To be in a job or work is _____ नौकरी या काम में होना है</p> <p>A1 Employ : रोजगार</p> <p>A2 Skill : कौशल</p> <p>A3 Knowledge : ज्ञान</p> <p>A4 Aptitude : योग्यता</p>	2.0	0.00
----	----	---	-----	------

Employability Skills

52	52	<p>Information like date of birth, permanent address form a part of one's _____ in the resume. जन्म तिथि, स्थायी पता जैसी जानकारी रिज्यूमे में किसी के _____ का हिस्सा होती है।</p> <p>A1 Career objectives : कैरियर के उद्देश्यों</p> <p>A2 Personal details : व्यक्तिगत विवरण</p> <p>A3 Achievements : उपलब्धियों</p> <p>A4 Qualifications : योग्यता</p>	2.0	0.00
----	----	--	-----	------

Employability Skills

53	53	<p>A person with a growth mindset is always willing to _____ एक विकास मानसिकता वाला व्यक्ति हमेशा तैयार रहता है।</p> <p>A1 relax : आराम करने में</p> <p>A2 grow, change, learn : बढ़ो, बदलो, सीखो</p> <p>A3 keep quiet : चुप रहने में</p> <p>A4 become rich : अमीर बनने</p>	2.0	0.00
----	----	---	-----	------

Employability Skills

54	54	Jobs that have become outdated in the past 5 years _____	2.0	0.00
----	----	--	-----	------

		<p>..... नौकरियां जो पिछले 5 वर्षों में पुरानी हो गई हैं।</p> <p>A1 : STD booth STD बूथ</p> <p>A2 : ola ओला</p> <p>A3 : uber उबेर</p> <p>A4 : swiggy Swiggy</p>		
Employability Skills				
55	55	<p>Ethics means _____ नैतिकता का अर्थ है....।</p> <p>A1 : decide what is right and wrong for a human conduct तय करें कि मानव आचरण के लिए क्या सही है और क्या गलत</p> <p>A2 : name of a city एक शहर का नाम</p> <p>A3 : employability skills रोज़गार कौशल</p> <p>A4 : not relevant to society समाज से संबंधित नहीं है</p>	2.0	0.00
Employability Skills				
56	56	<p>Values are _____ मान हैं।</p> <p>A1 : not punctual समयनिष्ठ नहीं</p> <p>A2 : Motivates our attitude and action हमारे दृष्टिकोण और कार्रवाई को प्रेरित करता है</p> <p>A3 : very costly बहुत कीमती</p> <p>A4 : all have same value सभी का मूल्य समान है</p>	2.0	0.00
Employability Skills				
57	57	<p>_____ is a brief statement about purpose and principles of the Constitution.संविधान के उद्देश्य और सिद्धांतों के बारे में संक्षिप्त विवरण है।</p> <p>A1 : Syllabus पाठ्यक्रम</p> <p>A2 : Module मापांक</p> <p>A3 : The Preamble प्रस्तावना</p> <p>A4 : Unit इकाई</p>	2.0	0.00
Employability Skills				
58	58	<p>Identify the improper term _____ अनुचित पद को पहचानिए।</p>	2.0	0.00

		A1 : green pollution हरित प्रदूषण A2 : water pollution जल प्रदूषण A3 : air pollution वायु प्रदूषण A4 : sound pollution ध्वनि प्रदूषण		
Employability Skills				
59	59	NAPS Stands for _____ NAPS का मतलब _____ A1 : National Apprenticeship Promotion Scheme National Apprenticeship Promotion Scheme A2 : National Appointment Promoting Scheme National Appointment Promoting Scheme A3 : Non Apprenticeship Promotion Scheme Non Apprenticeship Promotion Scheme A4 : National Advertising Promotion Scheme National Advertising Promotion Scheme	2.0	0.00
Employability Skills				
60	60	_____ is major changes takes place in manufacturing. मैनुफैक्चरिंग में प्रमुख परिवर्तन होते हैं। A1 : Green revolution हरित क्रांति A2 : Industry revolution उद्योग क्रांति A3 : Water revolution जल क्रांति A4 : Food revolution खाद्य क्रांति	2.0	0.00
Employability Skills				
61	61	1st industrial revolution started in _____ पहली औद्योगिक क्रांति की शुरुआत। A1 : 18th century 18 वीं सदी A2 : 19th century 19 वीं सदी A3 : 20th century 20 वीं सदी A4 : 21st century 21 वीं सदी	2.0	0.00
Employability Skills				
62	62	Hard Skill _____ कठिन कौशल.....।	2.0	0.00

		<p>A1 quick learner : त्वरित शिक्षार्थी</p> <p>A2 time management : समय प्रबंधन</p> <p>A3 60 WPM typing speed : 60 WPM टाइपिंग स्पीड</p> <p>A4 spoken English : मौखिक अंग्रेजी</p>		
Employability Skills				
63	63	<p>To grow yourself you must _____ अपने आप को विकसित करने के लिए आपको चाहिए।</p> <p>A1 know your office : अपने कार्यालय को जानें</p> <p>A2 know yourself : खुद को जानें</p> <p>A3 know your institute : अपने संस्थान को जानें</p> <p>A4 know your country : अपने देश को जानो</p>	2.0	0.00
Employability Skills				
64	64	<p>Time management _____ समय प्रबंधन.....।</p> <p>A1 complete your task on time : अपना कार्य समय पर पूरा करें</p> <p>A2 managing time : प्रबंधन समय</p> <p>A3 hard skill : कठिन कौशल</p> <p>A4 problem solving : समस्या को सुलझाना</p>	2.0	0.00
Employability Skills				
65	65	<p>A resume should be _____. एक रिज्यूम _____ होना चाहिए</p> <p>A1 short and precise : छोटा और सटीक</p> <p>A2 fancy and colourful : फैसी और रंगीन</p> <p>A3 having long and detailed information : लंबी और विस्तृत जानकारी होना</p> <p>A4 having acronyms and abbreviation : समरूप और संक्षिप्त नाम होना</p>	2.0	0.00
Employability Skills				
66	66	<p>A written description of duties and responsibilities to be carried out in a job is called _____. किसी कार्य में किए जाने वाले कर्तव्यों और जिम्मेदारियों का लिखित विवरण _____ कहा जाता है</p>	2.0	0.00

		A1 : CV CV A2 : job description job description A3 : resume resume A4 : job application job application		
Employability Skills				
67	67	After receiving interview call, what is the next step? साक्षात्कार कॉल प्राप्त करने के बाद, अगला कदम क्या है? A1 : Send application letter आवेदन पत्र भेजें A2 : Prepare the resume रिज्यूम तैयार करें A3 : Appear at interview साक्षात्कार में जाये A4 : Send resume रिज्यूम भेजे	2.0	0.00
Employability Skills				
68	68	Choose suitable "wh" word for the given sentence. "_____ animal do you like?" दिए गए वाक्य के लिए उपयुक्त "wh" शब्द चुनें। "_____ animal do you like?" A1 : Which Which A2 : Why Why A3 : Where Where A4 : When When	2.0	0.00
Employability Skills				
69	69	Choose the correct punctuation mark after the word "Rohan" in the given sentence. "Rohan David and Ram are playing hide and seek" दिए गए वाक्य में शब्द "रोहन" के बाद सही विराम चिह्न चुनें। "Rohan David and Ram are playing hide and seek" A1 : Comma (,) अल्पविराम (,) A2 : Period (.) अवधि (.) A3 : Slash (/) स्लैश (/) A4 : Hyphen (-) हाइफन (-)	2.0	0.00
Employability Skills				
70	70	Choose the correct response for the given question. "How have you been?" दिए गए प्रश्न के लिए सही उत्तर चुनिए। "How have you been?"	2.0	0.00

		<p>A1 : Very well, And you?</p> <p>Very well, And you?</p> <p>A2 : Thank you_ And you?</p> <p>Thank you_ And you?</p> <p>A3 : Same to you</p> <p>Same to you</p> <p>A4 : On vacation_ And you?</p> <p>On vacation_ And you?</p>		
Employability Skills				
71	71	<p>Choose the correct response of the given question. "When did the accident happen?" दिए गए प्रश्न की सही प्रतिक्रिया चुनें। "When did the accident happen?"</p> <p>A1 : in the hotel</p> <p>in the hotel</p> <p>A2 : during travelling</p> <p>during travelling</p> <p>A3 : At 10:30 last night</p> <p>At 10:30 last night</p> <p>A4 : On the table</p> <p>On the table</p>	2.0	0.00
Employability Skills				
72	72	<p>Choose the correct tense of the verb. "I _____ music when I was child" क्रिया का सही काल चुनें। "I _____ music when I was child"</p> <p>A1 : learn</p> <p>learn</p> <p>A2 : am learning</p> <p>am learning</p> <p>A3 : will learn</p> <p>will learn</p> <p>A4 : had learnt</p> <p>had learnt</p>	2.0	0.00
Employability Skills				
73	73	<p>Curriculum vitae is also known as _____. Curriculum vitae को _____ के रूप में भी जाना जाता है।</p> <p>A1 : circular</p> <p>परिपत्र</p> <p>A2 : resume</p> <p>रिज्यूम</p> <p>A3 : job application form</p> <p>नौकरी के लिए आवेदन पत्र</p> <p>A4 : leave application</p> <p>छुट्टी की अर्जी</p>	2.0	0.00
Employability Skills				
74	74	<p>Fill in the blank with comparative adjective. "Your pencil is _____ than mine" तुलनात्मक विशेषण के साथ रिक्त स्थान भरें। "Your pencil is _____ than mine"</p> <p>A1 : sharp</p>	2.0	0.00

		sharp A2 sharper : sharper A3 blunt : blunt A4 thick : thick		
Employability Skills				
75	75	Fill in the blank with correct future tense of verb. "We _____ to the zoo after Breakfast " क्रिया के सही भविष्य काल के साथ रिक्त स्थान भरें। "We _____ to the zoo after Breakfast " A1 went : went A2 are going : are going A3 had gone : had gone A4 will go : will go	2.0	0.00


 SAMPLE QUESTION PAPER SET 1