


ALL INDIA TRADE TEST - 2024 FOR CRAFTSMEN
TRAINING SCHEME (CTS)
Trade Name: Solar Technician (Electrical)
Year: 1st Year

Exam Date :
Exam Time :

Note:



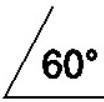
1. Tick the correct option out of four alternatives provided
2. All questions carry equal marks (2 Marks each)
3. There is no negative marking

Sr. No.	Q ID	Question Body and Alternatives	Marks	Negative Marks
Trade Theory				
1	1	<p>What is the electrical symbol shown in figure?</p> <p>चित्र में दिखाए गए विद्युत प्रतीक से क्या संकेत मिलता है?</p>  <p>A1 : Pane lamp पैन लैंप</p> <p>A2 : Fluorescent lamp फ्लोरोसेंट लैंप</p> <p>A3 : Bulk-head lamp बल्क-हेड लैंप</p> <p>A4 : Emergency lamp आपातकालीन लैंप</p>	2.0	0.00
Trade Theory				
2	2	<p>How the switches are classified?</p> <p>स्विच का वर्गीकरण कैसे किया जाता है?</p> <p>A1 : According pole provision पोल प्रावधान के अनुसार</p> <p>A2 : According switch size स्विच आकार के अनुसार</p> <p>A3 : According to colour switch रंग स्विच के अनुसार</p> <p>A4 : According to length of suit सूट की लंबाई के अनुसार</p>	2.0	0.00
Trade Theory				
3	3	<p>Which is used as a safety device for the purpose of protecting a circuit against excess current?</p> <p>सर्किट को अत्यधिक करंट से बचाने के उद्देश्य से सुरक्षा उपकरण के रूप में किसका उपयोग किया जाता है?</p> <p>A1 : Switch स्विच</p> <p>A2 : Fuse फ्यूज</p> <p>A3 : Condenser कंडेनसर</p>	2.0	0.00


		A4 : Sensor सेंसर		
Trade Theory				
4	4	<p>What is called the part of fuse which is designed to melt and open up a circuit? फ्यूज का वह हिस्सा क्या कहलाता है जिसे सर्किट को पिघलाने और खोलने के लिए डिज़ाइन किया गया है?</p> <p>A1 : Fuse carrier फ्यूज वाहक</p> <p>A2 : Fuse element फ्यूज तत्व</p> <p>A3 : Fuse base फ्यूज बेस</p> <p>A4 : Fusing Current फ्यूजिंग करंट</p>	2.0	0.00
Trade Theory				
5	5	<p>Where is the electrical system earthing is done? विद्युत प्रणाली में अर्थिंग कहाँ की जाती है?</p> <p>A1 : Power generating station पावर जनरेटिंग स्टेशन</p> <p>A2 : Power distribution pole पावर डिस्ट्रीब्यूशन पोल</p> <p>A3 : High power transmission line हाई पावर ट्रांसमिशन लाइन</p> <p>A4 : Low power transmission line लो पावर ट्रांसमिशन लाइन</p>	2.0	0.00
Trade Theory				
6	6	<p>What is the formula for calculation of voltage drop in DC and single phase AC two wire circuits? DC और सिंगल फेज AC दो तार सर्किट में वोल्टेज ड्रॉप की गणना के लिए सूत्र क्या है?</p> <p>A1 : $2 IR$ $2 IR$</p> <p>A2 : $3 IR$ $3 IR$</p> <p>A3 : $4 IR$ $4 IR$</p> <p>A4 : $5 IR$ $5 IR$</p>	2.0	0.00
Trade Theory				
7	7	<p>What is the name of part marked as 'X' in a wiring diagram figure? वायरिंग आरेख चित्र में 'X' के रूप में चिह्नित भाग का नाम क्या है?</p> <p>A1 : Lamp holder</p>	2.0	0.00

		लैप होल्डर A2 : Two way switch टू वे स्विच A3 : Three way switch थ्री वे स्विच A4 : Main switch board मुख्य स्विच बोर्ड		
Trade Theory				
8	8	How many types of conduits used for wiring? वायरिंग के लिए कितने प्रकार के नलिका का उपयोग किया जाता है? A1 : Two types दो प्रकार A2 : Three types तीन प्रकार A3 : Four types चार प्रकार A4 : Five types पांच प्रकार	2.0	0.00
Trade Theory				
9	9	How many basic operating principles are used for heat detection? गर्मी का पता लगाने के लिए कितने बुनियादी ऑपरेटिंग सिद्धांतों का उपयोग किया जाता है? A1 : Two दो A2 : Three तीन A3 : Four चार A4 : Five पांच	2.0	0.00
Trade Theory				
10	10	How many types of earthing method used in electrical installation? विद्युत स्थापना में कितने प्रकार की अर्थिंग विधि का उपयोग किया जाता है? A1 : Two method दो विधि A2 : Three method तीन विधि A3 : Four method चार विधि A4 : Five method पांच विधि	2.0	0.00
Trade Theory				
11	11	Which is used for electrically connect to the general mass of the earth electrode? अर्थ इलेक्ट्रोड के सामान्य द्रव्यमान से विद्युत रूप से कनेक्ट करने के लिए किसका उपयोग किया जाता है? A1 : PVC pipe PVC पाइप	2.0	0.00

		A2 : Metal pipe मेटल पाइप A3 : Glass pipe ग्लास पाइप A4 : Rubber pipe रबर पाइप		
Trade Theory				
12	12	What is the reason for earthing? अर्थिंग का कारण क्या है? A1 : Prevent the excess volt flow अतिरिक्त वोल्ट प्रवाह को रोकें A2 : Prevent the risk of shock झटके के जोखिम को रोकें A3 : Prevent the excess current flow अतिरिक्त करंट प्रवाह को रोकें A4 : Prevent the heat by current flow करंट फ्लो द्वारा हीट को रोकें	2.0	0.00
Trade Theory				
13	13	How many mill amperes of current passes through human body is considered dangerous? मानव शरीर से गुजरने वाले कितने मिल एम्पीयर करंट को खतरनाक माना जाता है? A1 : Beyond one mill amperes एक मिल एम्पीयर से परे A2 : Beyond two mill amperes दो मिल एम्पीयर से परे A3 : Beyond four mill amperes चार मिल एम्पीयर से परे A4 : Beyond five mill amperes पांच मिल एम्पीयर से परे	2.0	0.00
Trade Theory				
14	14	What is the maximum resistance value of human body wet skin? मानव शरीर की गीली त्वचा का अधिकतम प्रतिरोध मूल्य क्या है? A1 : 500 ohms 500 ohms A2 : 1000 ohms 1000 ohms A3 : 1500 ohms 1500 ohms A4 : 2000 ohms 2000 ohms	2.0	0.00
Trade Theory				
15	15	Which is used to protect the power system from lightening and thundering affect? बिजली प्रणाली को बिजली और गड़गड़ाहट के प्रभाव से बचाने के लिए किसका उपयोग किया जाता है? A1 : Current flow arrester करंट फ्लो अरेस्टर A2 : Lightening wave arrester	2.0	0.00

		<p>लाइटनिंग वेव अरेस्टर</p> <p>A3 : Voltage flow arrester</p> <p>वोल्टेज फ्लो अरेस्टर</p> <p>A4 : Thundering sound arrester</p> <p>थंडरिंग साउंड अरेस्टर</p>		
Trade Theory				
16	16	<p>Which is the letter symbol indicate the frequency? कौन सा अक्षर प्रतीक आवृत्ति को दर्शाता है?</p> <p>A1 : V</p> <p>V</p> <p>A2 : A</p> <p>A</p> <p>A3 : W</p> <p>W</p> <p>A4 : HZ</p> <p>HZ</p>	2.0	0.00
Trade Theory				
17	17	<p>What is indicate the symbols shown in figure? चित्र में दिखाए गए प्रतीकों को क्या दर्शाता है?</p> <div data-bbox="252 904 561 994" data-label="Image"> </div> <p>A1 : Direct current</p> <p>डायरेक्ट करंट</p> <p>A2 : Alternating current</p> <p>अल्टरनेटिंग करंट</p> <p>A3 : One phase current</p> <p>वन फेज करंट</p> <p>A4 : Three phase current</p> <p>थ्री फेज करंट</p>	2.0	0.00
Trade Theory				
18	18	<p>Which is the symbol indicate the electrical instrument using vertical position? विद्युत उपकरण को ऊर्ध्वाधर स्थिति में उपयोग करने वाला प्रतीक कौन सा है?</p> <p>A1 : </p> <p>A2 : </p> <p>A3 : </p> <p>A4 : </p>	2.0	0.00

$\pm 10^\circ$



Trade Theory

19	19	<p>Which is the instrument commonly used for measuring direct current quantities? प्रत्यक्ष धारा की मात्रा मापने के लिए आमतौर पर किस उपकरण का उपयोग किया जाता है?</p> <p>A1 : Sensitivity of voltmeter वोल्टमीटर की संवेदनशीलता</p> <p>A2 : Multi-range voltmeter मल्टी-रेंज वोल्टमीटर</p> <p>A3 : Permanent magnet moving coil परमानेंट मैग्नेट मूविंग काइल</p> <p>A4 : Phase sequence meter फेज सीक्वेंस मीटर</p>	2.0	0.00
----	----	---	-----	------

Trade Theory

20	20	<p>What is happen, while current is passed through the permanent magnet moving coil? स्थायी चुंबक की मूविंग काइल से धारा प्रवाहित होने पर क्या होता है?</p> <p>A1 : Magnetic tension चुंबकीय तनाव</p> <p>A2 : Magnetic force चुंबकीय बल</p> <p>A3 : Magnetic heat चुंबकीय गर्मी</p> <p>A4 : Magnetic attraction चुंबकीय आकर्षण</p>	2.0	0.00
----	----	--	-----	------

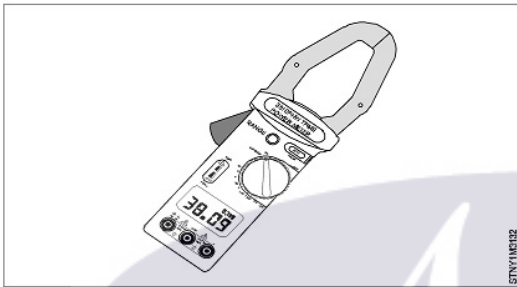
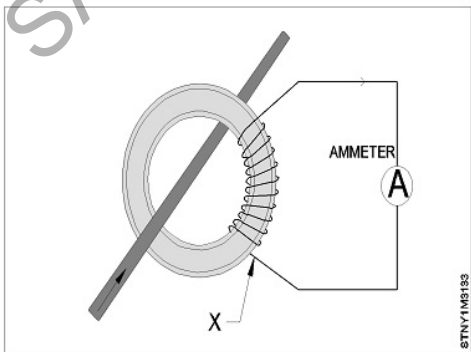
Trade Theory

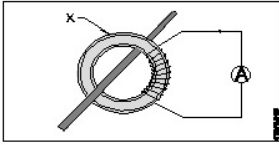
21	21	<p>Which is the advantage of PMMC instrument? PMMC उपकरण का क्या लाभ है?</p> <p>A1 : Low toque / weight ratio कम टोर्क / वजन अनुपात</p> <p>A2 : Consumes less power कम विद्युत की खपत करता है</p> <p>A3 : Consumes more power अधिक विद्युत की खपत</p> <p>A4 : Inefficient damping अकुशल भिगोना</p>	2.0	0.00
----	----	--	-----	------

Trade Theory

22	22	<p>Which measuring instrument can be used as volt meter and ammeter? कौन सा मापक उपकरण वोल्ट मीटर और एमीटर के रूप में उपयोग किया जा सकता है?</p> <p>A1 : Watt meter वाट मीटर</p> <p>A2 : Moving iron instrument चलता हुआ लोहे का यंत्र</p> <p>A3 : Phase sequence meter</p>	2.0	0.00
----	----	---	-----	------

		<p>फेज अनुक्रम मीटर</p> <p>A4 : Earth tester</p> <p>अर्थ टेस्टर</p>		
Trade Theory				
23	23	<p>What is the name of meter shown in figure?</p> <p>चित्र में दिखाए गए मीटर का नाम क्या है?</p> <div data-bbox="264 333 914 777" data-label="Figure"> </div> <p>A1 : Watt meter</p> <p>वाट मीटर</p> <p>A2 : Power factor meter</p> <p>पावर फैक्टर मीटर</p> <p>A3 : Energy meter</p> <p>ऊर्जा मीटर</p> <p>A4 : Frequency meter</p> <p>आवृत्ति मीटर</p>	2.0	0.00
Trade Theory				
24	24	<p>Which is the meter used for measuring the electric power?</p> <p>विद्युत शक्ति मापने के लिए किस मीटर का उपयोग किया जाता है?</p> <p>A1 : Energy meter</p> <p>ऊर्जा मीटर</p> <p>A2 : Watt meter</p> <p>वाट मीटर</p> <p>A3 : Power factor meter</p> <p>पावर फैक्टर मीटर</p> <p>A4 : Phase sequence meter</p> <p>फेज अनुक्रम मीटर</p>	2.0	0.00
Trade Theory				
25	25	<p>What is called the induction motor's ratio between the real power and the apparent power?</p> <p>वास्तविक शक्ति और स्पष्ट शक्ति के बीच प्रेरण मोटर के अनुपात को क्या कहा जाता है?</p> <p>A1 : Moving factor</p> <p>मूविंग फैक्टर</p> <p>A2 : Power factor</p> <p>पावर फैक्टर</p> <p>A3 : Frequency factor</p> <p>फ्रीक्वेंसी फैक्टर</p>	2.0	0.00

		A4 : Magnetic factor मैग्नेटिक फैक्टर		
Trade Theory				
26	26	<p>Which type of meter used for measuring the power consumption of domestic and industrial AC circuit? घरेलू और औद्योगिक AC सर्किट की बिजली खपत को मापने के लिए किस प्रकार के मीटर का उपयोग किया जाता है?</p> <p>A1 : Watt meter वाट मीटर</p> <p>A2 : Energy meter ऊर्जा मीटर</p> <p>A3 : Phase sequence meter चरण अनुक्रम मीटर</p> <p>A4 : Multimeter मल्टीमीटर</p>	2.0	0.00
Trade Theory				
27	27	<p>What is the type of multimeter shown in figure? चित्र में दिखाए गए मल्टीमीटर का प्रकार क्या है?</p>  <p>A1 : Analog multimeter एनालॉग मल्टीमीटर</p> <p>A2 : Digital multimeter डिजिटल मल्टीमीटर</p> <p>A3 : Clamp digital multimeter क्लैप डिजिटल मल्टीमीटर</p> <p>A4 : Phase sequence meter फेज सीक्वेंस मीटर</p>	2.0	0.00
Trade Theory				
28	28	<p>What is the name of part marked as 'X' in shown figure? दिखाए गए चित्र में 'X' से चिह्नित भाग का नाम क्या है?</p>  <p>A1 : Primary current प्राथमिक धारा</p> <p>A2 : Secondary current</p>	2.0	0.00

		<p>द्वितीयक धारा</p> <p>A3 : Secondary winding</p> <p>द्वितीयक वाइंडिंग</p> <p>A4 : Primary winding</p> <p>प्राथमिक वाइंडिंग</p>		
Trade Theory				
29	29	<p>What is the name of part marked as 'X' in a instrument transformers figure?</p> <p>उपकरण ट्रांसफार्मर चित्र में 'X' से चिह्नित भाग का नाम क्या है?</p>  <p>A1 : Volt meter</p> <p>वोल्ट मीटर</p> <p>A2 : Ammeter</p> <p>एमीटर</p> <p>A3 : Toroidal core</p> <p>टोरॉयडल कोर</p> <p>A4 : Conductor</p> <p>कंडक्टर</p>	2.0	0.00
Trade Theory				
30	30	<p>How many types of smoke detectors used in power wiring?</p> <p>बिजली की वायरिंग में कितने प्रकार के स्मोक डिटेक्टर का उपयोग किया जाता है?</p> <p>A1 : Two types</p> <p>दो प्रकार</p> <p>A2 : Three types</p> <p>तीन प्रकार</p> <p>A3 : Four types</p> <p>चार प्रकार</p> <p>A4 : Five types</p> <p>पांच प्रकार</p>	2.0	0.00
Trade Theory				
31	31	<p>What is the function of current transformer?</p> <p>करंट ट्रांसफॉर्मर का कार्य क्या है?</p> <p>A1 : Step up the voltage</p> <p>वोल्टेज को बढ़ाना</p> <p>A2 : Step up current</p> <p>करंट को बढ़ाना</p> <p>A3 : Step down the voltage</p> <p>वोल्टेज को कम करना</p> <p>A4 : No change the current</p> <p>करंट में कोई परिवर्तन नहीं करना</p>	2.0	0.00
Trade Theory				
32	32	<p>What is the function of potential transformer?</p> <p>पोटेंशियल ट्रांसफॉर्मर का कार्य क्या है?</p> <p>A1 : Step up the current</p>	2.0	0.00

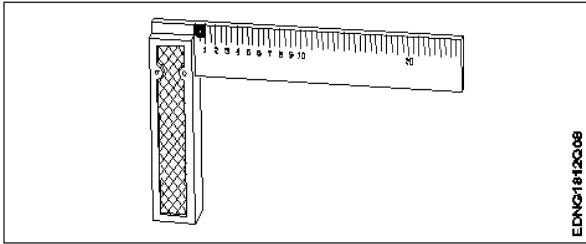
		करंट को बढ़ाना A2 : Step down the current करंट को घटाना A3 : Step down the voltage वोल्टेज को कम करना A4 : Step up the voltage वोल्टेज को बढ़ाना		
Trade Theory				
33	33	Suppose 100 w bulb 5 numbers used in a building for 6 hours per day, then calculate the total watt hour per day? मान लीजिए कि एक इमारत में 100 वाट का बल्ब 5 नंबर प्रतिदिन 6 घंटे इस्तेमाल होता है, तो प्रतिदिन कुल वाट घंटा की गणना करें? A1 : 2000 whr 2000 whr A2 : 3000 whr 3000 whr A3 : 4000 whr 4000 whr A4 : 5000 whr 5000 whr	2.0	0.00
Trade Theory				
34	34	What is the current consumption of 500 whr X 1 number and 300 whr television X 2 numbers used for 3 hours per day? 500 वाट घंटा x 1 नंबर और 300 वाट घंटा टेलीविजन x 2 नंबर प्रतिदिन 3 घंटे इस्तेमाल होने पर करंट खपत क्या है? A1 : 1500 whr per day 1500 whr per day A2 : 1800 whr per day 1800 whr per day A3 : 2800 whr per day 2800 whr per day A4 : 3300 whr per day 3300 whr per day	2.0	0.00
Trade Theory				
35	35	What is the current unit consumed per day if total watt hour 18280 is consumed per day? यदि प्रतिदिन कुल वाट घंटा 18280 खपत होती है, तो प्रतिदिन खपत की जाने वाली करंट यूनिट क्या है? A1 : 18.28 units 18.28 units A2 : 182.8 units 182.8 units A3 : 1828 units 1828 units A4 : 1.828 units 1.828 units	2.0	0.00
Trade Theory				
36	36	What is the power consumption of a year, if power consumed 200 units per month? यदि प्रति माह 200 यूनिट बिजली की खपत होती है, तो एक वर्ष की बिजली खपत क्या है? A1 : 400 units 400 units A2 : 800 units 800 units	2.0	0.00

		800 units A3 : 1600 units 1600 units A4 : 2400 units 2400 units		
Trade Theory				
37	37	What is the average daily consumption of current unit, if 1749 units consumed in a year? यदि एक वर्ष में 1749 यूनिट बिजली की खपत होती है, तो करंट यूनिट की औसत दैनिक खपत क्या है? A1 : 2.79 unit 2.79 unit A2 : 3.79 unit 3.79 unit A3 : 4.79 unit 4.79 unit A4 : 5.79 unit 5.79 unit	2.0	0.00
Trade Theory				
38	38	What is watt hour value of one unit current? एक यूनिट करंट का वाट घंटा मान क्या है? A1 : 500 whr 500 whr A2 : 1000 whr 1000 whr A3 : 1500 whr 1500 whr A4 : 2000 whr 2000 whr	2.0	0.00
Workshop Calculation Science				
39	39	Which is the unit of current? धारा की इकाई क्या है? A1 : Ampere एम्पियर A2 : Volt वोल्ट A3 : Ohm ओम A4 : Watt वाट	2.0	0.00
Workshop Calculation Science				
40	40	What is the flow of electrons in any conductor? किसी कंडक्टर में इलेक्ट्रॉन का प्रवाह क्या होता है? A1 : Voltage वोल्टेज A2 : Current धारा A3 : Resistance	2.0	0.00

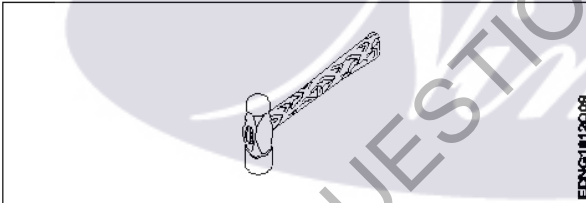
		प्रतिरोध A4 : Power शक्ति		
Workshop Calculation Science				
41	41	Which is very good conductor? कौन-सा बहुत अच्छा कंडक्टर है? A1 : Copper तांबा A2 : Cast iron कास्ट आयरन A3 : Wrought iron रॉट आयरन A4 : Steel स्टील	2.0	0.00
Workshop Calculation Science				
42	42	Which is mineral insulator? कौन-सा खनिज इन्सुलेटर है? A1 : Glass काँच A2 : Quartz क्वार्ट्ज A3 : Mica माईका A4 : Porcelain पोर्सलीन	2.0	0.00
Workshop Calculation Science				
43	43	What is the side of a square whose area is 625 mm ² ? एक वर्ग की भुजा क्या होगी, जिसका क्षेत्रफल 625 मिमी ² है? A1 : 15 mm 15 mm A2 : 20 mm 20 mm A3 : 25 mm 25 mm A4 : 30 mm 30 mm	2.0	0.00
Workshop Calculation Science				
44	44	What is the area of a rectangle, whose length and breadth are 10cm and 8cm respectively? एक आयत का क्षेत्रफल क्या होगा, जिसकी लम्बाई एवं चौड़ाई क्रमशः 10 से.मी. एवं 8 से.मी. हैं? A1 : 75 cm ² 75 cm ² A2 : 80 cm ² 80 cm ² A3 : 85 cm ² 85 cm ²	2.0	0.00

A4
: 90 cm²
90 cm²

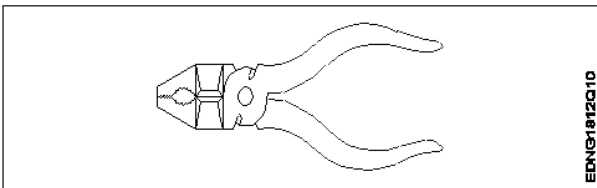
Engineering Drawing

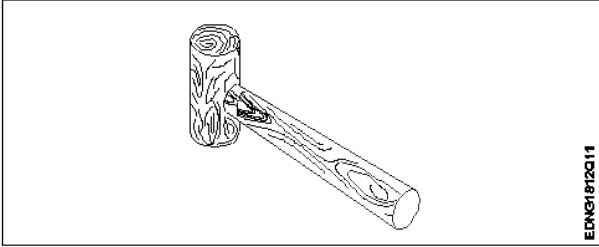
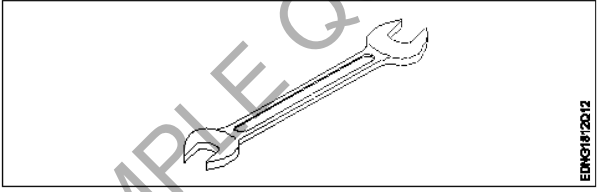
45	45	Identify the name of tool? उपकरण का नाम पहचानें?	2.0	0.00
				
		A1 : Try square बढ़ई की गुनिया		
		A2 : Surface gauge सतह नापने का यंत्र		
		A3 : Steel rule स्टील रूल		
		A4 : Feeler gauge फ़ीलर गोज़		

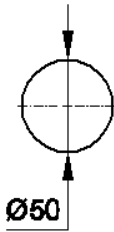
Engineering Drawing

46	46	Identify the name of tool? उपकरण का नाम पहचानें?	2.0	0.00
				
		A1 : Ball pein hammer बॉल पीन हैमर		
		A2 : Cross pein hammer क्रॉस पीन हैमर		
		A3 : Straight pein hammer सीधे पीन हथौड़ा		
		A4 : Sledge hammer स्लेज हैमर		

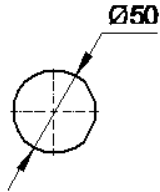
Engineering Drawing

47	47	Identify the name of tool? उपकरण का नाम पहचानें?	2.0	0.00
				
		A1 : Hawk-billed shear		

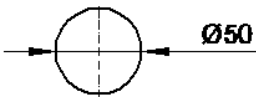
		हॉक-बिल शीयर A2 : Aviation shear उड्डयन कतरनी A3 : Cutting plier काटने वाला सरोता A4 : Double cutting shear डबल काटने कतरनी		
Engineering Drawing				
48	48	Identify the name of tool? उपकरण का नाम पहचानें?  A1 : Ball pein hammer बॉल पीन हैमर A2 : Mallet लकड़ी का हथौड़ा A3 : Cross pein hammer क्रॉस पीन हैमर A4 : Staright pein hammer स्ट्रेट पीन हैमर	2.0	0.00
Engineering Drawing				
49	49	Identify the name of tool? उपकरण का नाम पहचानें?  A1 : Open end spanner ओपन एंड स्पेनर A2 : Ring spanner गोल पाना A3 : Combination spanner संयोजन स्पेनर A4 : Adjustable spanner समायोज्य औजार	2.0	0.00
Engineering Drawing				
50	50	Which dimension correctly marked in the circle as per standard? मानक के अनुसार सर्कल में कौन सा आयाम सही ढंग से चिह्नित है? A1 :	2.0	0.00



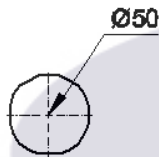
A2
:



A3
:



A4
:



Employability Skills

51	51	Which one of the following is a good office etiquette? निम्नलिखित में से कौन सा एक अच्छा कार्यालय शिष्टाचार है?	2.0	0.00
	A1 :	One should dress formally एक को औपचारिक रूप से पोशाक पहननी चाहिए		
	A2 :	One should not be punctual to work काम के लिए समय का पाबंद नहीं होना चाहिए		
	A3 :	One should have fancy mobile ring tone एक के पास फैंसी मोबाइल रिंग टोन होना चाहिए		
	A4 :	One should litter one's work place व्यक्ति को अपने काम के स्थान पर कूड़ा डालना चाहिए		

Employability Skills

52	52	Word that is pronounced the same as another word but differs in meaning is called _____ वह शब्द जो किसी दूसरे शब्द के समान होता है, लेकिन अर्थ में भिन्न होता है, जिसे _____ कहा जाता है	2.0	0.00
	A1 :	homophone होमोफोन		
	A2 :	homograph होमोग्रफ़		
	A3 :	diphthong संयुक्त स्वर		
	A4 :	syllable		

		शब्दांश		
		Employability Skills		
53	53	<p>_____ can help me learn English. मुझे अंग्रेजी सीखने में मदद कर सकता है।</p> <p>A1 : dedication निष्ठा</p> <p>A2 : fear डर</p> <p>A3 : anger क्रोध</p> <p>A4 : shyness शर्म</p>	2.0	0.00
		Employability Skills		
54	54	<p>Which punctuation mark should be used in the following sentence? Is there any site engineer here निम्नलिखित वाक्य में किस विराम चिह्न का प्रयोग किया जाना चाहिए? Is there any site engineer here</p> <p>A1 : ? (question mark) ? (question mark)</p> <p>A2 : , (comma) , (comma)</p> <p>A3 : . (full stop) . (full stop)</p> <p>A4 : ! (exclamation) ! (exclamation)</p>	2.0	0.00
		Employability Skills		
55	55	<p>When is capital letter used? बड़े अक्षर का प्रयोग कब किया जाता है?</p> <p>A1 : Beginning of a sentence एक वाक्य की शुरुआत</p> <p>A2 : Names of persons व्यक्तियों के नाम</p> <p>A3 : Names of places स्थानों के नाम</p> <p>A4 : All the above सब से ऊपर</p>	2.0	0.00
		Employability Skills		
56	56	<p>Which one of the following is a describing word? निम्नलिखित में से कौन-सा एक वर्णनात्मक शब्द है?</p> <p>A1 : eat खाना खा लो</p> <p>A2 : repair मरम्मत</p> <p>A3 : hot गरम</p> <p>A4 : soup शोरबा</p>	2.0	0.00

Employability Skills				
57	57	<p>When someone says 'Thank you' we should reply and say _____. जब कोई 'Thank you (धन्यवाद)' कहता है तो हमें जवाब देना चाहिए और _____ कहना चाहिए।</p> <p>A1 : Thank you. शुक्रिया</p> <p>A2 : You're welcome. आपका स्वागत है</p> <p>A3 : Bye-bye बाई-बाई</p> <p>A4 : How are you? आप कैसे हैं?</p>	2.0	0.00
Employability Skills				
58	58	<p>Choose the odd word. odd (विषम) शब्द चुनें।</p> <p>A1 : please please</p> <p>A2 : sorry sorry</p> <p>A3 : paper paper</p> <p>A4 : thanks thanks</p>	2.0	0.00
Employability Skills				
59	59	<p>I am a welder. I work with _____. मैं एक वेल्डर हूँ। मैं _____ साथ कार्य करता हूँ।</p> <p>A1 : nail polish नेल पॉलिश</p> <p>A2 : robots रोबोटों</p> <p>A3 : welding tools वेल्डिंग उपकरण</p> <p>A4 : laptops लैपटॉप</p>	2.0	0.00
Employability Skills				
60	60	<p>Today's weather is going to be _____. आज का मौसम _____ होने जा रहा है।</p> <p>A1 : Hopeful आशापूर्ण</p> <p>A2 : Warm गरम</p> <p>A3 : Blue नीला</p> <p>A4 : Urgent बहुत ज़रूरी</p>	2.0	0.00
Employability Skills				
61	61	<p>The word 'when' denotes _____</p>	2.0	0.00

		<p>शब्द 'when (जब)' _____ को दर्शाता है</p> <p>A1 : place स्थान</p> <p>A2 : thing चीज़</p> <p>A3 : person व्यक्ति</p> <p>A4 : time समय</p>		
Employability Skills				
62	62	<p>Rahul enjoys _____ with his pet dog. राहुल को अपने पालतू कुत्ते के साथ _____ में मजा आता है।</p> <p>A1 : playing खेलने</p> <p>A2 : writing लिखने</p> <p>A3 : doing करने</p> <p>A4 : washing धुलाने</p>	2.0	0.00
Employability Skills				
63	63	<p>Having a clear idea of our personality including strengths, weaknesses, thoughts, beliefs, motivation, values etc is called _____. हमारे व्यक्तित्व का स्पष्ट विचार रखने को ताकत, कमजोरियों, विचारों, विश्वासों, प्रेरणा, मूल्यों आदि सहित को _____ कहा जाता है।</p> <p>A1 : Belief विश्वास</p> <p>A2 : Self Awareness आत्म जागरूकता</p> <p>A3 : Myth मिथ</p> <p>A4 : Threat धमकी</p>	2.0	0.00
Employability Skills				
64	64	<p>_____ are the abilities and qualities you have as a person that helps you grow well in life and career. एक व्यक्ति के रूप में आपके पास मौजूद क्षमताएं और गुण हैं जो आपको जीवन और करियर में अच्छी तरह से बढ़ने में मदद करते हैं।</p> <p>A1 : Personal Strengths व्यक्तिगत ताकत</p> <p>A2 : Personal weaknesses व्यक्तिगत कमजोरियां</p> <p>A3 : Opportunities मौके</p> <p>A4 : Threats धमकी</p>	2.0	0.00
Employability Skills				
65	65	_____ are the qualities that are considered negative, and need to be worked on.	2.0	0.00

		<p>_____ ऐसे गुण हैं जिन्हें नकारात्मक माना जाता है और जिन पर काम करने की आवश्यकता है।</p> <p>A1 : Personal Strengths व्यक्तिगत ताकत</p> <p>A2 : Personal weaknesses व्यक्तिगत कमजोरियाँ</p> <p>A3 : Opportunities मौके</p> <p>A4 : Threats धमकी</p>		
Employability Skills				
66	66	<p>Which of the following is an example of personal weakness? व्यक्तिगत कमजोरी का उदाहरण निम्नलिखित में से कौन सी है?</p> <p>A1 : Confidence आत्मविश्वास</p> <p>A2 : Being lazy आलसी होना</p> <p>A3 : Hard working मेहनती</p> <p>A4 : Active सक्रिय</p>	2.0	0.00
Employability Skills				
67	67	<p>Goals are of 2 types _____ लक्ष्य 2 प्रकार के होते हैं:</p> <p>A1 : Good and bad goals अच्छे और बुरे लक्ष्य</p> <p>A2 : Long-term and short-term goals दीर्घकालिक और अल्पकालिक लक्ष्य</p> <p>A3 : Rich and poor goals अमीर और गरीब लक्ष्य</p> <p>A4 : Fixed-term and non-fixed term goals निश्चित अवधि और गैर-निश्चित अवधि के लक्ष्य</p>	2.0	0.00
Employability Skills				
68	68	<p>What is stress? तनाव क्या है?</p> <p>A1 : Feeling of joy आनंद की अनुभूति</p> <p>A2 : Feeling of surprise आश्चर्य की अनुभूति</p> <p>A3 : Feeling of delight आनंद की अनुभूति</p> <p>A4 : Feeling of frustration / disappointment निराशा / निराशा की भावना</p>	2.0	0.00
Employability Skills				
69	69	<p>Which of these is a sign of good stress? अच्छे तनाव का संकेत इनमें से कौन सा है?</p>	2.0	0.00

		<p>A1 : It prevents you from pursuing your goals. यह आपको अपने लक्ष्यों का पीछा करने से रोकता है।</p> <p>A2 : It makes you doubt yourself. यह आपको खुद पर शक करता है।</p> <p>A3 : Does not lead to long-term tension, loss of sleep. लंबे समय तक तनाव, नींद की कमी नहीं होती है।</p> <p>A4 : Makes you physically ill or causes pain. आपको शारीरिक रूप से बीमार बनाता है या दर्द का कारण बनता है।</p>		
Employability Skills				
70	70	<p>An activity that stops or reduces stress is called a stress buster. Which of the following according to you is not a stress buster? एक गतिविधि जो तनाव को रोकती है या कम करती है उसे स्ट्रेस बस्टर कहा जाता है। आपके अनुसार निम्नलिखित में से कौन एक स्ट्रेस बस्टर नहीं है?</p> <p>A1 : Spending long hours thinking about the problem. लंबे समय तक समस्या के बारे में सोचते रहना।</p> <p>A2 : Going to bed on time. समय पर बिस्तर जाना</p> <p>A3 : Listening to music. संगीत सुनना</p> <p>A4 : Gardening बागवानी</p>	2.0	0.00
Employability Skills				
71	71	<p>What is mindfulness? माइंडफुलनेस क्या है?</p> <p>A1 : It is the technique of not minding anything. यह किसी भी चीज पर ध्यान न देने की तकनीक है।</p> <p>A2 : It is about sharpening your brain. यह आपके दिमाग को तेज करने के बारे में है।</p> <p>A3 : It is the ability to be fully present in a moment. यह एक पल में पूरी तरह से उपस्थित होने की क्षमता है।</p> <p>A4 : It is the word used to describe people who are full of thoughts. यह उन लोगों का वर्णन करने के लिए इस्तेमाल किया जाने वाला शब्द है जो विचारों से भरे हुए हैं।</p>	2.0	0.00
Employability Skills				
72	72	<p>Which of the following is true about stress? तनाव के बारे में सही निम्नलिखित में से कौन सी है?</p> <p>A1 : Stress can be managed तनाव को प्रबंधित किया जा सकता है</p> <p>A2 : Stress cannot be controlled तनाव को नियंत्रित नहीं किया जा सकता</p> <p>A3 : Stress can not be decreased तनाव कम नहीं हो सकता</p> <p>A4 : All of the above ऊपर के सभी</p>	2.0	0.00
Employability Skills				
73	73	<p>Which of the following statements is true? निम्नलिखित में से कौन से वक्तव्य विवरण सत्य हैं?</p>	2.0	0.00

		<p>A1 : Only experts can solve any problem किसी भी समस्या का समाधान केवल विशेषज्ञ ही कर सकते हैं</p> <p>A2 : The more problems you solve, the better you will get at problem solving! आप जितनी अधिक समस्याओं का समाधान करेंगे, समस्या को सुलझाने में आप उतने ही बेहतर होंगे!</p> <p>A3 : We need to pursue a course to even solve a simple problem हमें एक साधारण समस्या को हल करने के लिए भी एक कोर्स करने की आवश्यकता है</p> <p>A4 : It is not important to solve any problem किसी भी समस्या का समाधान जरूरी नहीं है</p>		
Employability Skills				
74	74	<p>Which of these should be considered while making decisions? निर्णय लेते समय इनमें से किस पर विचार किया जाना चाहिए?</p> <p>A1 : Your mood तुम्हारा मिज़ाज</p> <p>A2 : The choices of your friends आपके दोस्तों की पसंद</p> <p>A3 : The rules of your community आपके समुदाय के नियम</p> <p>A4 : Your personal priorities. आपकी व्यक्तिगत प्राथमिकताएं।</p>	2.0	0.00
Employability Skills				
75	75	<p>Which of these is the full form of SWOT? इनमें से कौन SWOT का पूर्ण रूप है?</p> <p>A1 : Special Wellness Organization Theme Special Wellness Organization Theme</p> <p>A2 : Speak Work Openly Together Speak Work Openly Together</p> <p>A3 : Strong World Olympic Team Strong World Olympic Team</p> <p>A4 : Strength Weakness Opportunity Threat Strength Weakness Opportunity Threat</p>	2.0	0.00

Solar Technician (Electrical) - 1 Year - Set 3

S.No.	Correct Answer Key
1	A3
2	A1
3	A2
4	A2
5	A1
6	A1
7	A2
8	A3
9	A2
10	A1
11	A2
12	A2
13	A4
14	A2
15	A2
16	A4
17	A4
18	A1
19	A3
20	A2
21	A2
22	A2
23	A1
24	A2
25	A2
26	A2
27	A3
28	A3
29	A3
30	A2
31	A1
32	A3
33	A2
34	A4
35	A1
36	A4
37	A3
38	A2

S.No.	Correct Answer Key
39	A1
40	A2
41	A1
42	A3
43	A3
44	A2
45	A1
46	A1
47	A3
48	A2
49	A1
50	A2
51	A1
52	A1
53	A1
54	A1
55	A4
56	A3
57	A2
58	A3
59	A3
60	A2
61	A4
62	A1
63	A2
64	A1
65	A2
66	A2
67	A2
68	A4
69	A3
70	A1
71	A3
72	A1
73	A2
74	A4
75	A4

Note:

"In case answers found to be inaccurate due to typographical error or any other reason please sent mail to qbnimigrievance@gmail.com"