

ALL INDIA TRADE TEST - 2024 FOR CRAFTSMEN
TRAINING SCHEME (CTS)
Trade Name: Health Sanitary Inspector
Year: 1st Year

Exam Date :
Exam Time :

Note:

1. Tick the correct option out of four alternatives provided
2. All questions carry equal marks (2 Marks each)
3. There is no negative marking

Sr. No.	Q ID	Question Body and Alternatives	Marks	Negative Marks
Trade Theory				
1	1	<p>Which of the following is considered an adequate water supply/head/day in urban area?</p> <p>निम्नलिखित में से किसे शहरी क्षेत्र में पर्याप्त जलापूर्ति / व्यक्ति / दिन माना जाता है?</p> <p>A1 : 100-150 litre 100-150 litres</p> <p>A2 : 200-250 litre 200-250 litres</p> <p>A3 : 150-200 litre 150-200 litres</p> <p>A4 : 50-100 litre 50-100 litres</p>	2.0	0.00
Trade Theory				
2	2	<p>A ventilated and improved latrine is called...</p> <p>एक वेंटिलेटेड और उन्नत लैटरीन कहा जाता है?</p> <p>A1 : Temporary latrine अस्थायी शौचालय</p> <p>A2 : Bore hole latrine बोर होल लैटरीन</p> <p>A3 : Water seal latrine वाटर सील शौचालय</p> <p>A4 : VIP latrine VIP शौचालय</p>	2.0	0.00
Trade Theory				
3	3	<p>Depth of water seal in RCA latrine is...</p> <p>RCA शौचालय में पानी की सील की गहराई है?</p> <p>A1 : 2.0 cm 2.0 cm</p> <p>A2 : 5.0 cm 5.0 cm</p> <p>A3 : 4.0 cm 4.0 cm</p> <p>A4 : 7.5 cm 7.5 cm</p>	2.0	0.00
Trade Theory				

4	4	<p>Aqua privy is used for...</p> <p>एक्का प्रिडी के लिए उपयोग किया जाता है?</p> <p>A1 : Water-purification जल शुद्धीकरण</p> <p>A2 : Refuse disposal कचरे का निष्पारण</p> <p>A3 : Household sewage disposal घरेलू सीवेज निष्पारण</p> <p>A4 : Biogas बायोगैस</p>	2.0	0.00
Trade Theory				
5	5	<p>What would be the choice of latrine for short term?</p> <p>कम अवधि के लिए लेट्रिन का चुनाव क्या होगा?</p> <p>A1 : Aqua privy एक्का प्रिडी</p> <p>A2 : Shallow trench latrine उथला खाई शौचालय</p> <p>A3 : Pit latrine गड्ढे वाला शौचालय</p> <p>A4 : Chemical closed रासायनिक कोठरी</p>	2.0	0.00
Trade Theory				
6	6	<p>What diseases can you catch from human feces?</p> <p>मानव मल से आप किस बीमारी को पकड़ सकते हैं?</p> <p>A1 : AIDS AIDS</p> <p>A2 : Tuberculosis यक्ष्मा</p> <p>A3 : Measles खसरा</p> <p>A4 : Polio पोलियो</p>	2.0	0.00
Trade Theory				
7	7	<p>Disease acquires via oral route are all except...</p> <p>मौखिक मार्ग से होने वाले रोग को छोड़कर सभी हैं।</p> <p>A1 : Typhoid आंत्र ज्वर</p> <p>A2 : Cholera हैज़ा</p> <p>A3 : Anthrax बिसहरिया</p> <p>A4 : Malaria मलेरिया</p>	2.0	0.00
Trade Theory				
8	8	<p>Solid waste pollution create are all except...</p> <p>सॉलिड वेस्ट पॉल्यूशन उत्पन्न करता है को छोड़कर सभी।</p>	2.0	0.00

		<p>A1 : Bad smell nuisance दुर्गन्ध व्यवधान</p> <p>A2 : House flies nuisance मक्खी व्यवधान</p> <p>A3 : Soil pollution मृदा प्रदूषण</p> <p>A4 : Noise pollution ध्वनि प्रदूषण</p>		
Trade Theory				
9	9	<p>Leachate is a coloured liquid that comes out of... लिचेट एक रंगीन तरल है जो से बाहर आता है।</p> <p>A1 : Septic tanks सेप्टिक टैंक</p> <p>A2 : Sanitary landfill सैनिटरी लैंडफिल</p> <p>A3 : Compost Plants कम्पोस्ट संयंत्र</p> <p>A4 : Aerated lagoons एरोटे लैगून</p>	2.0	0.00
Trade Theory				
10	10	<p>Waste matter coming from industries called... उद्योगों से आने वाला अपशिष्ट पदार्थ कहा जाता है?</p> <p>A1 : Trade refuse व्यावसायिक अपशिष्ट</p> <p>A2 : House refuse घरेलू अपशिष्ट</p> <p>A3 : Street refuse सड़क अपशिष्ट</p> <p>A4 : Stable refuse अस्तबल अपशिष्ट</p>	2.0	0.00
Trade Theory				
11	11	<p>What is the colour category used in hospital as to dispose of human anatomical wastes? अस्पताल में मानव शरीरगत कचरे के निपटान के लिए किस श्रेणी के रंग को उपयोग किया जाता है?</p> <p>A1 : Yellow पीला</p> <p>A2 : Black काली</p> <p>A3 : Red लाल</p> <p>A4 : Blue नीला</p>	2.0	0.00
Trade Theory				
12	12	<p>Street refuse is called as... स्ट्रीट अपशिष्ट को कहा जाता है।</p>	2.0	0.00

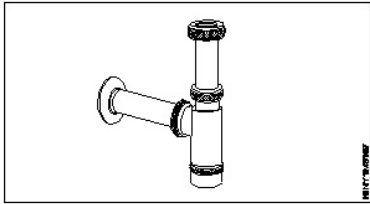
		<p>A1 : Refuse that is collected from market बाजार से एकत्र किया गया अपशिष्ट</p> <p>A2 : Refuse that is collected from street सड़क से एकत्र किया गया अपशिष्ट</p> <p>A3 : Refuse that is collected from industries उद्योगों से एकत्र किया गया अपशिष्ट</p> <p>A4 : Refuse that is collected from domestic घरों से एकत्र किया गया अपशिष्ट</p>		
Trade Theory				
13	13	<p>The colour category used for disposal of waste sharps is... तीखे अपशिष्ट के निपटान के लिए उपयोग की जाने वाली रंग श्रेणी है।</p> <p>A1 : Yellow पीला</p> <p>A2 : Red लाल</p> <p>A3 : White सफेद</p> <p>A4 : Black काला</p>	2.0	0.00
Trade Theory				
14	14	<p>Most insanitary method of refuse disposal is... अपशिष्ट निपटान की सबसे अस्वास्थ्यकर विधि है।</p> <p>A1 : Dumping डम्पिंग</p> <p>A2 : Composting खाद</p> <p>A3 : Burial दफ़न</p> <p>A4 : Sanitary landfill सैनिटरी लैंडफिल</p>	2.0	0.00
Trade Theory				
15	15	<p>Which is second fundamental function of solid waste management? ठोस अपशिष्ट प्रबंधन का दूसरा मूलभूत कार्य कौन सा है?</p> <p>A1 : Collection संग्रह</p> <p>A2 : Processing प्रसंस्करण</p> <p>A3 : Disposal निपटान</p> <p>A4 : Manual disposal मैन्युअल निपटान</p>	2.0	0.00
Trade Theory				
16	16	<p>Incineration is used for disposal of all of the following except... निम्न को छोड़कर सभी के निस्तारण के लिए भस्मीकरण का उपयोग किया जाता है।</p> <p>A1 : Cytotoxic drug</p>	2.0	0.00

		<p>साइटोटोक्सिक दवा</p> <p>A2 : Waste sharps</p> <p>तीखे अपशिष्ट</p> <p>A3 : Human anatomical waste</p> <p>मानव शरीरगत अपशिष्ट</p> <p>A4 : Cotton contaminated by blood</p> <p>रक्त से दूषित कपास</p>		
Trade Theory				
17	17	<p>Depending upon their use, the traps may again be of types. उनके उपयोग के आधार पर, जाल फिर से प्रकार के हो सकते हैं।</p> <p>A1 : One type</p> <p>एक प्रकार</p> <p>A2 : Two type</p> <p>दो प्रकार</p> <p>A3 : Three type</p> <p>तीन प्रकार</p> <p>A4 : Four type</p> <p>चार प्रकार</p>	2.0	0.00
Trade Theory				
18	18	<p>Depending upon their depth, the manhole may be classified as... उनकी गहराई के आधार पर, मैनहोल को इस प्रकार वर्गीकृत किया जा सकता है।</p> <p>A1 : One</p> <p>एक</p> <p>A2 : Two</p> <p>दो</p> <p>A3 : Three</p> <p>तीन</p> <p>A4 : Four</p> <p>चार</p>	2.0	0.00
Trade Theory				
19	19	<p>All the sewer pipes are generally laid starting from सभी सीवर पाइप आम तौर पर से शुरू होते हैं।</p> <p>A1 : Outfall ends</p> <p>आउटफॉल खत्म होता है</p> <p>A2 : Starting ends</p> <p>शुरू होता है समाप्त</p> <p>A3 : Middle ends</p> <p>मिडल समाप्त होता है</p> <p>A4 : Submiddle ends</p> <p>सबमिडल समाप्त होता है</p>	2.0	0.00
Trade Theory				
20	20	<p>When chlorine is added to the treated sewage as a final step in its treatment , it is called as... जब क्लोरीन को उसके उपचार में अंतिम चरण के रूप में उपचारित सीवेज में मिलाया जाता है, तो उसे कहा जाता है।</p> <p>A1 : Post Chlorination</p> <p>पोस्ट क्लोरीनेशन</p>	2.0	0.00

		<p>A2 : Pre chlorination पूर्व क्लोरीनीकरण</p> <p>A3 : Super chlorination सुपर क्लोरीनीकरण</p> <p>A4 : Plain chlorination सादा क्लोरीनेशन</p>		
Trade Theory				
21	21	<p>The detention time in the oxidation period is usually ऑक्सीकरण अवधि में रोके रखने का समय आमतौर पर है।</p> <p>A1 : 2 to 5 week 2 to 5 week</p> <p>A2 : 2 to 6 week 2 to 6 week</p> <p>A3 : 4 to 10 week 4 to 10 week</p> <p>A4 : 5 to 12 week 5 to 12 week</p>	2.0	0.00
Trade Theory				
22	22	<p>Dug well latrine was first introduces in singur, (West Bengal) in the year of डग वेल लैट्रिन को पहले के वर्ष में सिंगुर, (पश्चिम बंगाल) में पेश किया गया था।</p> <p>A1 : 1940-1941 1940-1941</p> <p>A2 : 1840-1841 1840-1841</p> <p>A3 : 1949-1950 1949-1950</p> <p>A4 : 1930-1931 1930-1931</p>	2.0	0.00
Trade Theory				
23	23	<p>What type of latrine is on RCA latrine? RCA लैट्रिन किस प्रकार के लैट्रिन पर होता है?</p> <p>A1 : Water seal latrine वाटर सील शौचालय</p> <p>A2 : Privy latrine प्रिवी लैट्रिन</p> <p>A3 : Temporary latrine अस्थायी शौचालय</p> <p>A4 : Bore hole latrine बोर होल लैटरीन</p>	2.0	0.00
Trade Theory				
24	24	<p>Night soil disposal methods are... विष्टा के निपटान के तरीके हैं।</p> <p>A1 : Privy system commode system प्रिवी सिस्टम कमोड सिस्टम</p> <p>A2 : Bore hole latrine, pain system बोर होल लैट्रीन, पेन प्रणाली</p>	2.0	0.00

		<p>A3 : Aeration system, Sludge system वातन प्रणाली, जल निकासी प्रणाली</p> <p>A4 : Privy system, commode system, bore hole and pain system प्रिवी सिस्टम, कमोड सिस्टम, बोर होल और पेन प्रणाली</p>		
Trade Theory				
25	25	<p>Which type of Hepatitis spreads through faecal borne? किस प्रकार का हेपेटाइटिस मल जनित बीमारी से फैलता है?</p> <p>A1 : Hepatitis-A हेपेटाइटिस ए</p> <p>A2 : Hepatitis-B हेपेटाइटिस बी</p> <p>A3 : Hepatitis-C हेपेटाइटिस सी</p> <p>A4 : Hepatitis-D हेपेटाइटिस-डी</p>	2.0	0.00
Trade Theory				
26	26	<p>Incineration is used for... भस्मीकरण का प्रयोग के लिए किया जाता है।</p> <p>A1 : Cytotoxic drug साइटोटोक्सिक दवा</p> <p>A2 : Radiographic waste रेडियोग्राफिक अपशिष्ट</p> <p>A3 : Waste sharp तीखे अपशिष्ट</p> <p>A4 : Contaminated intravenous (IV) sets दूषित इंटरस वेनस (IV) सेट</p>	2.0	0.00
Trade Theory				
27	27	<p>Depending upon their shapes, the traps may be of types. उनके आकार के आधार पर, जाल प्रकार के हो सकते हैं।</p> <p>A1 : One type एक प्रकार का</p> <p>A2 : Two type दो प्रकार</p> <p>A3 : Three type तीन प्रकार</p> <p>A4 : Four type चार प्रकार</p>	2.0	0.00
Trade Theory				
28	28	<p>Identify the name of following figure. निम्नलिखित आकृति का नाम पहचानिए ।</p> 	2.0	0.00

		A1 : RCA Latrine RCA शौचालय A2 : Borehole latrine बोरहोल शौचालय A3 : Septic tank सेप्टिक टैंक A4 : Dug well latrine खोदा हुआ शौचालय		
Trade Theory				
29	29	What is the name of release waste water and human excreta by homes? घरों से निकलने वाले अपशिष्ट जल और मानव मल को क्या कहते हैं? A1 : River नदी A2 : Bore well बोरवेल A3 : Sewage सीवेज A4 : Well कुंआ	2.0	0.00
Trade Theory				
30	30	Identify the disease causes of salmonella paratyphoid. साल्मोनेला पैराटाइफाइड के रोग कारणों की पहचान करें। A1 : Cholera हैज़ा A2 : Typhoid टाइफाइड A3 : Cancer कैंसर A4 : Hepatitis हेपेटाइटिस	2.0	0.00
Trade Theory				
31	31	What is the effect of solid waste disposal? ठोस अपशिष्ट निस्तारण का क्या प्रभाव पड़ता है ? A1 : Fresh air ताज़ी हवा A2 : Environmental pollution पर्यावरण प्रदूषण A3 : Purification of water जल का शुद्धिकरण A4 : Healthy for human मानव के लिए स्वस्थ	2.0	0.00
Trade Theory				
32	32	Identify the name of following figure. निम्नलिखित आकृति का नाम पहचानिए।	2.0	0.00



A1
: Bottle trap

बोतल ट्रेप

A2
: Gully trap

गुल्ली ट्रेप

A3
: S - Trap

स्ट्रेप

A4
: R- trap

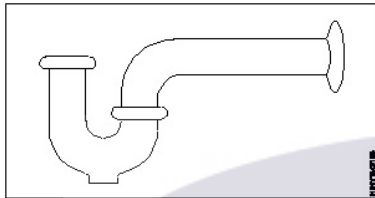
R - ट्रेप

Trade Theory

33

33

Identify the name of following figure.
निम्नलिखित आकृति का नाम पहचानिए।



A1
: R - trap

R - ट्रेप

A2
: P - trap

P - ट्रेप

A3
: S - Trap

S - ट्रेप

A4
: Gully trap

गुल्ली ट्रेप

2.0

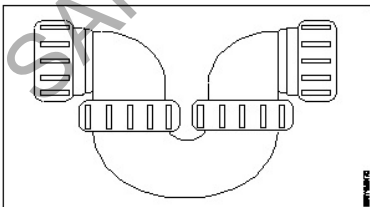
0.00

Trade Theory

34

34

What is the name of following figure?
निम्नलिखित आकृति का नाम क्या है ?



A1
: Gully trap

गुल्ली ट्रेप

A2
: Running trap

रनिंग ट्रेप

A3
: S - trap

S - ट्रेप

A4
: U - trap

2.0

0.00

		U - ट्रेप		
		Trade Theory		
35	35	<p>Identify the name of tool used to loosen or tighten a nut or bolt. नट या बोल्ट को ढीला करने या कसने के लिए प्रयुक्त औजार का नाम बताइये।</p> <p>A1 : Pipe wrench पाइप रिंच</p> <p>A2 : Basin wrench बेसिन रिंच</p> <p>A3 : Adjustable wrench समायोज्य रिंच</p> <p>A4 : Fault key दोष कुंजी</p>	2.0	0.00
		Trade Theory		
36	36	<p>Most important prerequisite in sanitary latrine is... सेनेटरी लैट्रिन है सबसे महत्वपूर्ण शर्त?</p> <p>A1 : Water seal वाटर सील</p> <p>A2 : Adequate drainage पर्याप्त जल निकासी</p> <p>A3 : Squatting plate/slab स्क्वाटिंग प्लेट / स्लैब</p> <p>A4 : Smooth slope of the pan पैन की चिकनी ढलान</p>	2.0	0.00
		Trade Theory		
37	37	<p>Trap is used in which type of following latrine? ट्रेप का उपयोग निम्नलिखित में से किस प्रकार के लैट्रिन में किया जाता है?</p> <p>A1 : Bore hole latrine बोर होल लैटरीन</p> <p>A2 : Dug well latrine डग वेल लैटरीन</p> <p>A3 : RCA latrine RCA शौचालय</p> <p>A4 : Chemical closet रासायनिक कोठरी</p>	2.0	0.00
		Trade Theory		
38	38	<p>A small percentage of hazardous waste is generated in the home. Which of the following is a hazardous waste that is generated in the home? खतरनाक कचरे का एक छोटा प्रतिशत घर में उत्पन्न होता है निम्न में से एक खतरनाक अपशिष्ट है जो घरों में उत्पन्न होता है?</p> <p>A1 : Paper कागज़</p> <p>A2 : Leftover food stuff बचा हुआ खाद्य पदार्थ</p> <p>A3 : Old batteries पुरानी बैटरी</p> <p>A4 : Plastic bags प्लास्टिक की थैली</p>	2.0	0.00

Trade Theory			
39	39	<p>All of the following are methods for controlled tipping except? निम्नलिखित में से सभी नियंत्रित टिपिंग के लिए तरीके हैं?</p> <p>A1 : Bangalore method बेंगलोर विधि</p> <p>A2 : Ramp method रैप विधि</p> <p>A3 : Trench method ट्रेंच विधि</p> <p>A4 : Area method क्षेत्र विधि</p>	2.0 0.00
Trade Theory			
40	40	<p>Bore hole latrine is a which type of latrine... बोर होल लैटरिन किस प्रकार का लैट्रिन है?</p> <p>A1 : Service रिवाइस</p> <p>A2 : Non-service नॉन सर्विस</p> <p>A3 : Water seal वाटर सील</p> <p>A4 : RCA RCA</p>	2.0 0.00
Trade Theory			
41	41	<p>The privy pit should be located at least... प्रिवी गड्ढे कम से कम स्थित होने चाहिए?</p> <p>A1 : 3m 3m</p> <p>A2 : 10m 10m</p> <p>A3 : 30m 30m</p> <p>A4 : 50m 50m</p>	2.0 0.00
Trade Theory			
42	42	<p>Latrines suitable for camps and temporary use are all except... शिविरों और अस्थायी उपयोग के लिए उपयुक्त सभी लैट्रिन हैं सिवाय के</p> <p>A1 : Shallow trench latrine उथला खाई शौचालय</p> <p>A2 : Water seal latrine वाटर सील शौचालय</p> <p>A3 : Pit latrine गड्ढे वाला शौचालय</p> <p>A4 : Bore hole latrine बोर होल लैटरिन</p>	2.0 0.00
Trade Theory			
43	43	<p>The effluents from the septic tank are discharge into... सेप्टिक टैंक से अपशिष्टों का निष्पादन किया जाता है में</p>	2.0 0.00

		<p>A1 : Soak pit सोखता गड्ढा</p> <p>A2 : Drainage जलनिकास</p> <p>A3 : Oxidation point ऑक्सीकरण बिंदु</p> <p>A4 : Sewer गंदा नाला</p>		
Trade Theory				
44	44	<p>Temporary latrine are made during all are except... अस्थायी शौचालय सभी के दौरान बने होते हैं सिवाय के</p> <p>A1 : Camp शिविर</p> <p>A2 : Fairs मेलों</p> <p>A3 : NCC camps NCC कैप</p> <p>A4 : Duling house सत्तारूढ़ घर</p>	2.0	0.00
Trade Theory				
45	45	<p>Pit latrine has depth of ____ feet. पिट लैट्रिन में ____ फीट की गहराई होती है</p> <p>A1 : 2-10 2-10</p> <p>A2 : 4-6 4-6</p> <p>A3 : 6-10 6-10</p> <p>A4 : 10-12 10-12</p>	2.0	0.00
Trade Theory				
46	46	<p>The digested sludge from septic tank is removed after a maximum period of... सेप्टिक टैंक से पचा हुआ कीचड़ अधिकतम अवधि के बाद हटा दिया जाता है?</p> <p>A1 : 3 years 3 years</p> <p>A2 : 1 year 1 year</p> <p>A3 : 4 years 4 years</p> <p>A4 : 5 years 5 years</p>	2.0	0.00
Trade Theory				
47	47	<p>For providing an Indian type water closet, the reinforcement concrete (R.C.C.) Slab in the toilet port... एक भारतीय प्रकार की पानी की अलमारी प्रदान करने के लिए, शौचालय के पोर्ट में प्रबलित सीमेंट कंक्रीट (R.C.C.) स्लेब?</p> <p>A1 : Should be sink by 20 cm</p>	2.0	0.00

		<p>20 cm से सिक होना चाहिए</p> <p>A2 : Should be kept 20 cm above the adjacent port</p> <p>आसन्न पोर्ट से 20 cm ऊपर रखा जाना चाहिए</p> <p>A3 : Should be sink by 50 cm</p> <p>50 cm से सिक होना चाहिए</p> <p>A4 : Need not be sink</p> <p>डूबने की जरूरत नहीं है</p>		
Trade Theory				
48	48	<p>All of the following are fecal-oral transmission disease except...</p> <p>निम्नलिखित में से सभी डीकल-ओराट ट्रांसमिशन बीमारी हैं को छोड़कर</p> <p>A1 : Diarrhea</p> <p>दस्त</p> <p>A2 : Typhoid</p> <p>आंत्र ज्वर</p> <p>A3 : Polio</p> <p>पोलियो</p> <p>A4 : AIDS</p> <p>AIDS</p>	2.0	0.00
Trade Theory				
49	49	<p>Which of the main cause of fecal-oral disease transmission?</p> <p>फेकल-ओरल रोग संचरण का मुख्य कारण कौन सा है?</p> <p>A1 : Lack of adequate sanitation</p> <p>पर्याप्त स्वच्छता का अभाव</p> <p>A2 : Lack of adequate food</p> <p>पर्याप्त भोजन का अभाव</p> <p>A3 : Lack of adequate housing</p> <p>पर्याप्त आवास की कमी</p> <p>A4 : Lack of adequate space</p> <p>पर्याप्त स्थान का अभाव</p>	2.0	0.00
Trade Theory				
50	50	<p>The faecal oral transmission route are all except...</p> <p>मल मौखिक संचरण मार्ग को छोड़कर सभी हैं</p> <p>A1 : Air</p> <p>वायु</p> <p>A2 : Water</p> <p>पानी</p> <p>A3 : Food</p> <p>खाना</p> <p>A4 : Flies</p> <p>मक्खियों</p>	2.0	0.00
Employability Skills				
51	51	<p>Which one of the following is a good office etiquette?</p> <p>निम्नलिखित में से कौन सा एक अच्छा कार्यालय शिष्टाचार है?</p> <p>A1 : One should dress formally</p> <p>एक को औपचारिक रूप से पोशाक पहननी चाहिए</p>	2.0	0.00

		<p>A2 : One should not be punctual to work काम के लिए समय का पाबंद नहीं होना चाहिए</p> <p>A3 : One should have fancy mobile ring tone एक के पास फैंसी मोबाइल रिंग टोन होना चाहिए</p> <p>A4 : One should litter one's work place व्यक्ति को अपने काम के स्थान पर कूड़ा डालना चाहिए</p>		
Employability Skills				
52	52	<p>Word that is pronounced the same as another word but differs in meaning is called _____ वह शब्द जो किसी दूसरे शब्द के समान होता है, लेकिन अर्थ में भिन्न होता है, जिसे _____ कहा जाता है</p> <p>A1 : homophone होमोफोन</p> <p>A2 : homograph होमोग्राफ़</p> <p>A3 : diphthong संयुक्त स्वर</p> <p>A4 : syllable शब्दांश</p>	2.0	0.00
Employability Skills				
53	53	<p>_____ can help me learn English. मुझे अंग्रेजी सीखने में मदद कर सकता है।</p> <p>A1 : dedication निष्ठा</p> <p>A2 : fear डर</p> <p>A3 : anger क्रोध</p> <p>A4 : shyness शर्म</p>	2.0	0.00
Employability Skills				
54	54	<p>Which punctuation mark should be used in the following sentence? Is there any site engineer here निम्नलिखित वाक्य में किस विराम चिह्न का प्रयोग किया जाना चाहिए? Is there any site engineer here</p> <p>A1 : ? (question mark) ? (question mark)</p> <p>A2 : , (comma) , (comma)</p> <p>A3 : . (full stop) . (full stop)</p> <p>A4 : ! (exclamation) ! (exclamation)</p>	2.0	0.00
Employability Skills				
55	55	<p>When is capital letter used? बड़े अक्षर का प्रयोग कब किया जाता है?</p> <p>A1 : Beginning of a sentence एक वाक्य की शुरुआत</p> <p>A2 : Names of persons</p>	2.0	0.00

		<p>व्यक्तियों के नाम</p> <p>A3 : Names of places</p> <p>स्थानों के नाम</p> <p>A4 : All the above</p> <p>सब से ऊपर</p>		
Employability Skills				
56	56	<p>Which one of the following is a describing word? निम्नलिखित में से कौन-सा एक वर्णनात्मक शब्द है?</p> <p>A1 : eat खाना खा लो</p> <p>A2 : repair मरम्मत</p> <p>A3 : hot गरम</p> <p>A4 : soup शोरबा</p>	2.0	0.00
Employability Skills				
57	57	<p>When someone says 'Thank you' we should reply and say _____. जब कोई 'Thank you (धन्यवाद)' कहता है तो हमें जवाब देना चाहिए और _____ कहना चाहिए।</p> <p>A1 : Thank you. शुक्रिया</p> <p>A2 : You're welcome. आपका स्वागत है</p> <p>A3 : Bye-bye बाई-बाई</p> <p>A4 : How are you? आप कैसे हैं?</p>	2.0	0.00
Employability Skills				
58	58	<p>Choose the odd word. odd (विषम) शब्द चुनें।</p> <p>A1 : please please</p> <p>A2 : sorry sorry</p> <p>A3 : paper paper</p> <p>A4 : thanks thanks</p>	2.0	0.00
Employability Skills				
59	59	<p>I am a welder. I work with _____. मैं एक वेल्डर हूँ। मैं _____ साथ कार्य करता हूँ।</p> <p>A1 : nail polish नेल पॉलिश</p> <p>A2 : robots रोबोटों</p>	2.0	0.00

		A3 welding tools : वेल्डिंग उपकरण A4 laptops : लैपटॉप		
Employability Skills				
60	60	Today's weather is going to be _____. आज का मौसम _____ होने जा रहा है। A1 Hopeful : आशापूर्ण A2 Warm : गरम A3 Blue : नीला A4 Urgent : बहुत ज़रूरी	2.0	0.00
Employability Skills				
61	61	The word 'when' denotes _____. शब्द 'when (जब)' _____ को दर्शाता है A1 place : स्थान A2 thing : चीज़ A3 person : व्यक्ति A4 time : समय	2.0	0.00
Employability Skills				
62	62	Rahul enjoys _____ with his pet dog. राहुल को अपने पालतू कुत्ते के साथ _____ में मजा आता है। A1 playing : खेलने A2 writing : लिखने A3 doing : करने A4 washing : धुलाने	2.0	0.00
Employability Skills				
63	63	Having a clear idea of our personality including strengths, weaknesses, thoughts, beliefs, motivation, values etc is called _____. हमारे व्यक्तित्व का स्पष्ट विचार रखने को ताकत, कमजोरियों, विचारों, विश्वासों, प्रेरणा, मूल्यों आदि सहित को _____ कहा जाता है। A1 Belief : विश्वास A2 Self Awareness : आत्म जागरूकता A3 Myth	2.0	0.00

		: मिथ A4 Threat : धमकी		
Employability Skills				
64	64	_____ are the abilities and qualities you have as a person that helps you grow well in life and career. एक व्यक्ति के रूप में आपके पास मौजूद क्षमताएं और गुण हैं जो आपको जीवन और करियर में अच्छी तरह से बढ़ने में मदद करते हैं। A1 Personal Strengths : व्यक्तिगत ताकत A2 Personal weaknesses : व्यक्तिगत कमजोरियां A3 Opportunities : मौके A4 Threats : धमकी	2.0	0.00
Employability Skills				
65	65	_____ are the qualities that are considered negative, and need to be worked on. ऐसे गुण हैं जिन्हें नकारात्मक माना जाता है और जिन पर काम करने की आवश्यकता है। A1 Personal Strengths : व्यक्तिगत ताकत A2 Personal weaknesses : व्यक्तिगत कमजोरियां A3 Opportunities : मौके A4 Threats : धमकी	2.0	0.00
Employability Skills				
66	66	Which of the following is an example of personal weakness? व्यक्तिगत कमजोरी का उदाहरण निम्नलिखित में से कौन सी है? A1 Confidence : आत्मविश्वास A2 Being lazy : आलसी होना A3 Hard working : मेहनती A4 Active : सक्रिय	2.0	0.00
Employability Skills				
67	67	Goals are of 2 types _____ लक्ष्य 2 प्रकार के होते हैं: A1 Good and bad goals : अच्छे और बुरे लक्ष्य A2 Long-term and short-term goals : दीर्घकालिक और अल्पकालिक लक्ष्य A3 Rich and poor goals :	2.0	0.00

		अमीर और गरीब लक्ष्य A4 : Fixed-term and non-fixed term goals निश्चित अवधि और गैर-निश्चित अवधि के लक्ष्य		
Employability Skills				
68	68	What is stress? तनाव क्या है? A1 : Feeling of joy आनंद की अनुभूति A2 : Feeling of surprise आश्चर्य की अनुभूति A3 : Feeling of delight आनंद की अनुभूति A4 : Feeling of frustration / disappointment निराशा / निराशा की भावना	2.0	0.00
Employability Skills				
69	69	Which of these is a sign of good stress? अच्छे तनाव का संकेत इनमें से कौन सा है? A1 : It prevents you from pursuing your goals. यह आपको अपने लक्ष्यों का पीछा करने से रोकता है। A2 : It makes you doubt yourself. यह आपको खुद पर शक करता है। A3 : Does not lead to long-term tension, loss of sleep. लंबे समय तक तनाव, नींद की कमी नहीं होती है। A4 : Makes you physically ill or causes pain. आपको शारीरिक रूप से बीमार बनाता है या दर्द का कारण बनता है।	2.0	0.00
Employability Skills				
70	70	An activity that stops or reduces stress is called a stress buster. Which of the following according to you is not a stress buster? एक गतिविधि जो तनाव को रोकती है या कम करती है उसे स्ट्रेस बस्टर कहा जाता है। आपके अनुसार निम्नलिखित में से कौन एक स्ट्रेस बस्टर नहीं है? A1 : Spending long hours thinking about the problem. लंबे समय तक समस्या के बारे में सोचते रहना। A2 : Going to bed on time. समय पर बिस्तर जाना A3 : Listening to music. संगीत सुनना A4 : Gardening बागवानी	2.0	0.00
Employability Skills				
71	71	What is mindfulness? माइंडफुलनेस क्या है? A1 : It is the technique of not minding anything. यह किसी भी चीज पर ध्यान न देने की तकनीक है। A2 : It is about sharpening your brain. यह आपके दिमाग को तेज करने के बारे में है। A3 : It is the ability to be fully present in a moment. यह एक पल में पूरी तरह से उपस्थित होने की क्षमता है।	2.0	0.00

		<p>A4 : It is the word used to describe people who are full of thoughts.</p> <p>यह उन लोगों का वर्णन करने के लिए इस्तेमाल किया जाने वाला शब्द है जो विचारों से भरे हुए हैं।</p>		
Employability Skills				
72	72	<p>Which of the following is true about stress? तनाव के बारे में सही निम्नलिखित में से कौन सी है?</p> <p>A1 : Stress can be managed तनाव को प्रबंधित किया जा सकता है</p> <p>A2 : Stress cannot be controlled तनाव को नियंत्रित नहीं किया जा सकता</p> <p>A3 : Stress can not be decreased तनाव कम नहीं हो सकता</p> <p>A4 : All of the above ऊपर के सभी</p>	2.0	0.00
Employability Skills				
73	73	<p>Which of the following statements is true? निम्नलिखित में से कौन से वास्तविक विवरण सत्य हैं?</p> <p>A1 : Only experts can solve any problem किसी भी समस्या का समाधान केवल विशेषज्ञ ही कर सकते हैं</p> <p>A2 : The more problems you solve, the better you will get at problem solving! आप जितनी अधिक समस्याओं का समाधान करेंगे, समस्या को सुलझाने में आप उतने ही बेहतर होंगे!</p> <p>A3 : We need to pursue a course to even solve a simple problem हमें एक साधारण समस्या को हल करने के लिए भी एक कोर्स करने की आवश्यकता है</p> <p>A4 : It is not important to solve any problem किसी भी समस्या का समाधान जरूरी नहीं है</p>	2.0	0.00
Employability Skills				
74	74	<p>Which of these should be considered while making decisions? निर्णय लेते समय इनमें से किस पर विचार किया जाना चाहिए?</p> <p>A1 : Your mood तुम्हारा मिज़ाज</p> <p>A2 : The choices of your friends आपके दोस्तों की पसंद</p> <p>A3 : The rules of your community आपके समुदाय के नियम</p> <p>A4 : Your personal priorities. आपकी व्यक्तिगत प्राथमिकताएं।</p>	2.0	0.00
Employability Skills				
75	75	<p>Which of these is the full form of SWOT? इनमें से कौन SWOT का पूर्ण रूप है?</p> <p>A1 : Special Wellness Organization Theme Special Wellness Organization Theme</p> <p>A2 : Speak Work Openly Together Speak Work Openly Together</p> <p>A3 : Strong World Olympic Team Strong World Olympic Team</p> <p>A4 : Strength Weakness Opportunity Threat</p>	2.0	0.00

SAMPLE QUESTION PAPER SET 3



Health Sanitary Inspector - 1 Year - Set 3

S.No.	Correct Answer Key
1	A3
2	A4
3	A2
4	A3
5	A2
6	A4
7	A4
8	A4
9	A2
10	A1
11	A1
12	A2
13	A3
14	A1
15	A2
16	A2
17	A3
18	A3
19	A1
20	A1
21	A2
22	A3
23	A1
24	A4
25	A1
26	A1
27	A3
28	A4
29	A3
30	A2
31	A2
32	A1
33	A2
34	A2
35	A3
36	A1
37	A3
38	A3

S.No.	Correct Answer Key
39	A1
40	A2
41	A1
42	A4
43	A1
44	A4
45	A4
46	A2
47	A3
48	A4
49	A1
50	A1
51	A1
52	A1
53	A1
54	A1
55	A4
56	A3
57	A2
58	A3
59	A3
60	A2
61	A4
62	A1
63	A2
64	A1
65	A2
66	A2
67	A2
68	A4
69	A3
70	A1
71	A3
72	A1
73	A2
74	A4
75	A4

Note:

"In case answers found to be inaccurate due to typographical error or any other reason please sent mail to qbnimigrievance@gmail.com"