

CITS QUESTION BANK

VOCATIONAL SCIENCE CALCULATION THEORY LEVEL-1

Q 1. There are how many types of pronoun?

- A). 8
- B). 5
- C). 6
- D). 7

Q 2. Self management skills include - \ आत्म प्रबंधन कौशल में शामिल हैं -

- A). Initiative \ पहल
- B). Organisation \ संगठन
- C). Accountability \ जवाबदेही
- D). All of these \ ये सभी

Q 3. Which of the following is included in personal hygiene? \ निम्नलिखित में से कौन सा व्यक्तिगत स्वच्छता में सम्मिलित है?

- A). Nail and hair care \ नाखून और बाल की देखभाल
- B). Foot care \ पैरों की देखभाल
- C). Keeping the body clean \ शरीर को साफ रखना
- D). All of these \ ये सभी

Q 4. An interviewee must showcase which of the following qualities for an effective interview? \ एक साक्षात्कार अभ्यर्थी में एक प्रभावी साक्षात्कार के लिए निम्नलिखित में से कौन सा गुण होना चाहिए?

- A). Maintain eye contact \ आंखों के संपर्क बनाए रखना
- B). Shake hands firmly \ मजबूती से हाथ मिलाना
- C). Maintain proper body posture and body language \ उचित शारीरिक मुद्रा और भाषा बनाए रखना
- D). All of these \ ये सभी

Q 5. _____ is the process whereby two or more people exchange information or ideas in a face-to-face situation to achieve a goal. \ _____ वह प्रक्रिया है जिसके द्वारा दो या दो से अधिक लोग लक्ष्य प्राप्ति के लिए आमने-सामने बैठकर जानकारी या विचारों का आदान-प्रदान करते हैं।

- A). Discussion \ चर्चा
- B). Argument \ तर्क-वितर्क
- C). Quarrel \ झगड़ा
- D). None of these \ इनमें से कोई नहीं

Q 6. "The activity of setting up a business or businesses, taking on financial risks in the hope of profit" is called _____. \ "लाभ की आशा में वित्तीय जोखिम लेने पर व्यवसाय या व्यवसाय स्थापित करने की गतिविधि" को _____ कहा जाता है।

- A). Entrepreneurship \ उद्यमिता
- B). Social work \ समाज सेवा
- C). Risk management \ जोखिम प्रबंधन
- D). Profit management \ लाभ प्रबंधन

Q 7. In the area of entrepreneurship promotion, DPR stands for - \ उद्यमिता के क्षेत्र में, DPR से अभिप्राय है -

- A). Delete Proposal Request
- B). Detailed Project Report
- C). Daily Presence Required
- D). Detailed Project Requirement

Q 8. In manufacturing sector, an enterprise with an investment of Rs. 20 Lakhs in Plant and Machinery is a _____ enterprise. \ विनिर्माण क्षेत्र में, संयंत्र और मशीनरी में 20 लाख रुपये के निवेश के साथ एक उद्यम, एक _____ उद्यम है।

- A). Small \ लघु
- B). Medium \ मध्यम
- C). Micro \ सूक्ष्म
- D). Large \ वृहद

Q 9. The ratio of radius of two circles is 1:2. The ratio of their area would be _____. \ दो वृत्तों की त्रिज्या का अनुपात 1: 2 है। उनके क्षेत्रफल का अनुपात _____ होगा।

- A). 1:4
- B). 1:2
- C). 1:3
- D). None of these

Q 10. If the length of a rectangle is 6 cm and its perimeter is 30 cm then the area is _____. \ यदि आयताकार की लंबाई 6 सेमी है और इसकी परिधि 30 सेमी है तो उसका क्षेत्रफल _____ होगा।

- A). 54 cm²
- B). 45 cm²
- C). 36 cm²
- D). 90 cm²

Q 11. 10% of 200% of 100 is equal to _____. \ 100 के 200% का 10% _____ के बराबर होता है।

- A). 20
- B). 40
- C). 200
- D). 100

Q 12. The ratio of two numbers is 3:4 and their sum is 35. Find the value of the smaller number. \ दो संख्याओं का अनुपात 3: 4 है और उनका योग 35 है। छोटी संख्या का मान ज्ञात करें।

- A). 15
- B). 20
- C). 14
- D). 21

Q 13. The value of $(\sqrt{7})^6$ is equal to _____. \ $(\sqrt{7})^6$ का मान _____ के बराबर होता है।

- A). 343
- B). $49\sqrt{7}$
- C). 49
- D). $343\sqrt{7}$

Q 14. The _____ energy is released when a fuel is burnt. \ ईंधन जलाने पर _____ ऊर्जा निकलती है।

- A). chemical \ रासायनिक
- B). sound \ ध्वनि

- C). electrical \ विद्युतीय
D). electric potential \ विद्युत विभवांतर

Q 15. The _____ encompasses all living and non-living things occurring naturally, meaning in this case not artificial. \ _____ में स्वाभाविक रूप से होने वाली सभी सजीव और निर्जीव वस्तुएं समाहित हैं, जिसमें कृत्रिम वस्तुएं समाहित नहीं हैं।

- A). natural environment \ प्राकृतिक पर्यावरण
B). artificial environment \ कृत्रिम पर्यावरण
C). man-made environment \ मानव निर्मित पर्यावरण
D). none of these \ इनमें से कोई नहीं

Q 16. Which of the following is the main objective of communication? \ निम्नलिखित में से क्या संचार का मुख्य उद्देश्य है?

- A). Information and Persuasion \ सूचना और उद्देश्य
B). Control and Management \ नियंत्रण और प्रबंधन
C). Skill and Personality Development \ कौशल और व्यक्तित्व विकास
D). Needs \ ज़रूरत

Q 17. Speaking to a group of people in an official gathering is called as _____. \ आधिकारिक सभा में लोगों के समूह से बात करना _____ कहलाता है।

- A). Oral presentation \ मौखिक प्रस्तुतिकरण
B). Visual presentation \ दृश्य प्रस्तुतिकरण
C). Audio presentation \ ध्वनि प्रस्तुतिकरण
D). None of these \ इनमें से कोई नहीं

Q 18. What does the following picture represent? \ निम्न चित्र क्या दर्शाता है?

- A). feedback \ प्रतिक्रिया
B). channel \ चैनल
C). Receiver \ प्राप्त करने वाला
D). None of these \ इनमें से कोई नहीं

Q 19. Which of these is a communication skill? \ इनमें से क्या एक संचार कौशल है?

- A). talking clearly \ स्पष्ट रूप से बात करना

- B). chewing gum \ चीविंग गम चबाना
- C). looking bored \ ऊब जाना दिखना
- D). None of these \ इनमें से कोई नहीं

Q 20. Communication is a non-stop _____ . \ संचार एक अविराम _____ है।

- A). process \ प्रक्रिया
- B). programme \ कार्यक्रम
- C). project \ परियोजना
- D). scheme \ योजना

Q 21. The rabbits fought the turtles is an example of _____ sentence.

- A). Simple
- B). Complex
- C). Compound
- D). None of these

Q 22. Past tense of word "write" is _____ .

- A). wrote
- B). written
- C). right
- D). write

Q 23. Personal appearance is an element of _____ communication. \ व्यक्तिगत दिखावट _____ संचार का एक तत्व है।

- A). non-verbal \ गैर मौखिक
- B). verbal \ मौखिक
- C). written \ लिखित
- D). None of these \ इनमें से कोई नहीं

Q 24. Which of these may convey arrogance ? \ इनमें से क्या घमंड को व्यक्त कर सकता है?

- A). Jointed finger tips \ जुड़े हुए उँगलियों के छोर
- B). A shoulder shrug \ कन्धा उचकाना

- C). A pointed finger \ सामने की गई ऊँगली
D). Hands swinging loosely \ झूलते हुए हाथ

Q 25. _____ is the set of forces that energize, direct, and sustain behavior. \ _____ उन बलों का समूह है जो व्यवहार को सक्रिय, प्रत्यक्ष और निरंतर बनाए रखते हैं

- A). Motivation \ प्रेरणा
B). Expectancy \ उम्मीद
C). Empowerment \ सशक्तिकरण
D). Socialization \ समाजीकरण

Q 26. Which of the following is NOT an "internal motivational force"? \ निम्नलिखित में से कौन सा "आंतरिक प्रेरक बल" नहीं है?

- A). feedback \ प्रतिक्रिया
B). goals \ लक्ष्य
C). attitude \ रवैया
D). Needs \ ज़रूरत

Q 27. You say _____, if you sneeze during a meeting. \ यदि आप एक बैठक के दौरान छींकते हैं, तो आप _____ कहते हैं।

- A). excuse me \ मुझे माफ करें
B). thank you \ धन्यवाद
C). God Bless you \ भगवान आपका भला करे
D). None of these \ इनमें से कोई नहीं

Q 28. You should be dressed _____ for an interview. \ साक्षात्कार के लिए आपको _____ कपड़े पहनने चाहिए।

- A). formally \ औपचारिक
B). casually \ अनौपचारिक
C). semi-casually \ अर्ध अनौपचारिक
D). None of these \ इनमें से कोई नहीं

Q 29. For males, the colour of your socks should match with your _____. \ पुरुषों के लिए, आपके मोड़े का रंग आपके _____ से मेल खाना चाहिए।

- A). trouser \ पैंट
B). shoes \ जूते

- C). tie \ टाई
- D). shirt \ कमीज़

Q 30. The collar of a formal mens' sweater is _____. \ एक औपचारिक पुरुषों के स्वेटर का कॉलर _____ है।

- A). V-shaped \ वी - आकार
- B). O-shaped \ ओ - आकार
- C). U-shaped \ यू - आकार
- D). None of these \ इनमें से कोई नहीं

Q 31. Mens' round-neck T-shirt is _____. \ पुरुषों की गोल-गर्दन टी-शर्ट _____ है।

- A). casual \ अनौपचारिक
- B). semi-formal \ अर्ध - अनौपचारिक
- C). formal \ औपचारिक
- D). None of these \ इनमें से कोई नहीं

Q 32. Structured interview is also called _____. \ संरचित साक्षात्कार को _____ भी कहा जाता है।

- A). non directive interview \ गैर निर्देशन साक्षात्कार
- B). directive interview \ निर्देशन साक्षात्कार
- C). direct interview \ प्रत्यक्ष साक्षात्कार
- D). collaborative approach interview \ सहयोगी दृष्टिकोण साक्षात्कार

Q 33. Which of these documents need not be in your interview file? \ आपके साक्षात्कार फ़ाइल में इनमें से कौन से दस्तावेज की आवश्यकता नहीं है?

- A). family photo \ परिवार की तस्वीर
- B). degree certificate \ डिग्री प्रमाण - पत्र
- C). interview letter \ साक्षात्कार पत्र
- D). None of these \ इनमें से कोई नहीं

Q 34. Which of the following quality is important in a group discussion? \ समूह चर्चा में निम्नलिखित में से कौन-सा गुण महत्वपूर्ण है?

- A). Emotional stability \ भावनात्मक स्थिरता
- B). Aggressiveness \ आक्रामकता

- C). Hostility \ शत्रुता
- D). Ignorance \ अज्ञान

Q 35. In a group discussion, we should be _____. \ समूह चर्चा में, हमें _____ होना चाहिए।

- A). assertive \ मुखर
- B). subjective \ व्यक्तिपरक
- C). dominating \ सभी पर हावी
- D). confused \ परेशान

Q 36. The ideal group usually consists of _____ participants. \ आदर्श समूह में आमतौर पर _____ प्रतिभागी होते हैं।

- A). eight to ten \ आठ से दस
- B). less than 6 \ 6 से कम
- C). more than 15 \ 15 से अधिक
- D). None of these \ इनमें से कोई नहीं

Q 37. Which of the following is not an advantage of time management? \ निम्नलिखित में से क्या समय प्रबंधन का एक लाभ नहीं है?

- A). Missed deadlines \ छूटी हुई समयसीमा
- B). Greater productivity and efficiency \ अधिक उत्पादकता और दक्षता
- C). A better professional reputation \ एक बेहतर पेशेवर प्रतिष्ठा
- D). Less stress \ कम तनाव

Q 38. _____ is the process of organizing and planning how to divide your time between specific activities. \ _____ विशिष्ट गतिविधियों के बीच अपने समय को कैसे विभाजित और व्यवस्थित करने की प्रक्रिया है।

- A). Time management \ समय प्रबंधन
- B). Stress management \ तनाव प्रबंधन
- C). Project management \ परियोजना प्रबंधन
- D). None of these \ इनमें से कोई नहीं

Q 39. Which of the following is a quality of a good entrepreneur? \ निम्नलिखित में से क्या एक अच्छे उद्यमी का गुण है?

- A). Creativity \ रचनात्मकता
- B). Laziness \ आलस

- C). Close-minded \ संकीर्ण दिमाग
- D). Not determined \ निर्धारित नहीं

Q 40. "Wage" is related to which of the following factor of production? \ "मजदूरी" उत्पादन के निम्नलिखित में से किस कारक से संबंधित है?

- A). Labour \ श्रम
- B). Capital \ पूँजी
- C). Land \ भूमि
- D). Enterprise \ उद्यम

Q 41. The 4 P's of a firm's marketing mix consists of _____. \ संस्था के विपणन मिश्रण के 4 P _____ होते हैं।

- A). product, price, promotion, and place \ प्रोडक्ट, प्राइस, प्रमोशन एंड प्लेस
- B). passion, pride, principle, and premium \ पैशन, प्राइड, प्रिंसिपल एंड प्रीमियम
- C). parity, passion, product, and pay \ पैरिटी, पैशन, प्रोडक्ट एंड पे
- D). place, promotion, passion, and performance \ प्लेस, प्रमोशन, पैशन एंड परफॉरमेंस

Q 42. In which of the following situation the company is considered to be on breakeven point? \ निम्नलिखित में से किस स्थिति में कंपनी को ब्रेक-इवन पॉइंट पर माना जाता है?

- A). no profit no loss \ कोई लाभ कोई हानि नहीं
- B). expenses are higher than profits \ व्यय लाभ से अधिक हैं
- C). expenses are higher than revenue \ व्यय राजस्व से अधिक हैं
- D). None of these \ इनमें से कोई नहीं

Q 43. An actor and a person who managed large project were termed as the entrepreneur in the _____. \ एक कर्ता और एक व्यक्ति जो बड़े परियोजना को प्रबंधित करता है को _____ में उद्यमी के रूप में वर्णन किया गया था।

- A). middle ages \ मध्य युग
- B). earliest period \ प्रारंभिक काल
- C). 19th century \ 19 वीं सदी
- D). 21st century \ 21 वीं सदी

Q 44. LMM stands for _____. \ LMM का पूर्ण रूप _____ है।

- A). Locally Manufactured Machinery \ लोकैली मैनुफैक्चर्ड मशीनरी
- B). Locally Manufactured Marble \ लोकैली मैनुफैक्चर्ड मार्बल
- C). Local Marble Market \ लोकल मार्बल मार्केट
- D). Local Meat Market \ लोकल मीट मार्केट

Q 45. For the success of business plan, the goals should be _____. \ व्यावसायिक योजना की सफलता के लिए, लक्ष्य _____ होना चाहिए।

- A). Specific \ विशिष्ट
- B). Limitless \ असीमित
- C). Generalized \ सामान्यीकृत
- D). Imaginary \ काल्पनिक

Q 46. Family business owner is always interested to handover the change of his business to _____. \ पारिवारिक व्यवसाय स्वामी हमेशा अपने व्यवसाय के परिवर्तन को _____ को सौंपने के लिए इच्छुक होता है।

- A). next generation \ अगली पीढ़ी
- B). professional consultants \ पेशेवर सलाहकार
- C). capitalist \ पूंजीपति
- D). None of these \ इनमें से कोई नहीं

Q 47. If the area of a circle is 616 sq. metres; then find its perimeter? \ यदि एक वृत्त का क्षेत्रफल 616 वर्ग मीटर है; तो इसकी परिमिति ज्ञात करें?

- A). 88 m \ 88 मी.
- B). 176 m \ 176 मी.
- C). 44 m \ 44 मी.
- D). 66 m \ 66 मी.

Q 48. Change 0.8% to decimal. \ 0.8% को दशमलव में परिवर्तित करें।

- A). 0.008
- B). 0.8
- C). 0.08
- D). 80

Q 49. Capital invested by Ram, Sohan and Mohan is Rs. 3600, Rs. 4800 and Rs. 6000 respectively. Find the average? \ राम, सोहन और मोहन द्वारा निवेशित पूंजी क्रमशः 3600 रुपये, 4800 रुपये और 6000 रुपये है। औसत ज्ञात करें ?

- A). Rs. 4800
- B). Rs. 5200
- C). Rs. 5000
- D). Rs. 4600

Q 50. What is the Simplest form of 1.5 : 2.25 ? \ 1.5: 2.25 का सरलतम रूप क्या है?

- A). 2:3
- B). 3:4
- C). 1:2
- D). 3:5

Q 51. Find the square root of 1521 ? \ 1521 का वर्गमूल ज्ञात करें ?

- A). 39
- B). 29
- C). 49
- D). 41

Q 52. What is the cube of 12? \ 12 का घन क्या है?

- A). 1728
- B). 144
- C). 1628
- D). 1528

Q 53. Calculate the difference between cube root and square root of 4. \ 4 के घनमूल और वर्गमूल के बीच अंतर की गणना करें।

- A). 48
- B). 16
- C). 64
- D). 4

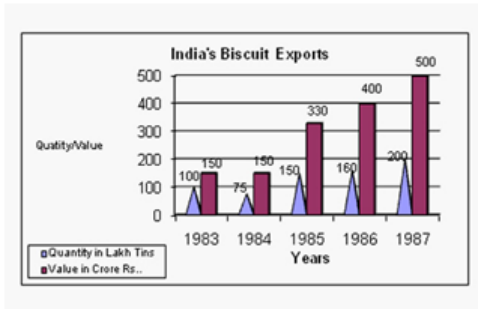
Q 54. Flow is to River as Stagnant is to _____ . \ प्रवाह का सम्बन्ध नदी से है तो प्रवाहहीन का सम्बन्ध _____ से है।

- A). Pool\पूल
- B). Canal\नहर

C). Sea\समुद्र

D). Rain\वर्षा

Q 55. Study the following graph and answer the questions that follow: - \ निम्नलिखित ग्राफ का अध्ययन करें और निम्नलिखित प्रश्नों के उत्तर दें: - In which year was the value per Biscuit the minimum? \ किस वर्ष प्रति बिस्कुट मूल्य न्यूनतम था?



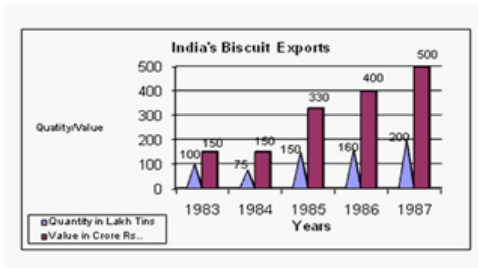
A). 1983

B). 1984

C). 1985

D). 1986

Q 56. Study the following graph and answer the questions that follow: - \ निम्नलिखित ग्राफ का अध्ययन करें और निम्नलिखित प्रश्नों के उत्तर दें: - If in 1986, Biscuit were exported at the same rate per Biscuit as in 1985, then what would be the value of exports in 1986? (in Crores of Rupees) \ यदि 1986 में बिस्कुट, 1985 की प्रति बिस्कुट की दर से निर्यात किया गया था, तो 1986 में निर्यात का मूल्य (करोड़ रुपए में) क्या होगा?



A). 352

B). 322

C). 362

D). 372

Q 57. The energy stored in the chemical bonds of atoms and molecules is called _____ energy. \ परमाणुओं और अणुओं के रासायनिक बंधों में संग्रहित ऊर्जा को _____ ऊर्जा कहा जाता है।

A). chemical \ रासायनिक

- B). nuclear \ नाभिकीय
- C). mechanical \ यांत्रिक
- D). atomic \ परमाणु

Q 58. "A book on the table" is an example of which type of energy? \ "मेज पर किताब" किस प्रकार की ऊर्जा का एक उदाहरण है?

- A). Potential energy \ स्थितिज ऊर्जा
- B). Kinetic Energy \ गतिज ऊर्जा
- C). Mechanical Energy \ यांत्रिक ऊर्जा
- D). Chemical Energy \ रासायनिक ऊर्जा

Q 59. _____ is the main source of energy for earth. \ _____ पृथ्वी के लिए ऊर्जा का मुख्य स्रोत है।

- A). Sun \ सूर्य
- B). Trees \ पेड़
- C). Air \ हवा
- D). Water \ जल

Q 60. Which gas is mainly responsible for green house effect? \ ग्रीन हाउस प्रभाव के लिए मुख्य रूप से कौन सी गैस जिम्मेदार है?

- A). Carbon di-oxide \ कार्बन डाइऑक्साइड
- B). Carbon mono-oxide \ कार्बन मोनो-ऑक्साइड
- C). Hydrogen \ हाइड्रोजन
- D). Helium \ हीलियम

LEVEL 1 ANSWER KEY

Question No.	Option	Question No.	Option
1	A	41	A
2	D	42	A
3	D	43	A
4	D	44	A
5	A	45	A
6	A	46	A
7	B	47	A
8	C	48	A
9	A	49	A
10	A	50	A
11	A	51	A
12	A	52	A
13	A	53	A
14	A	54	A
15	A	55	A
16	A	56	A
17	A	57	A
18	D	58	A
19	A	59	A
20	A	60	A
21	A		
22	A		
23	A		
24	A		
25	A		
26	A		
27	A		
28	A		
29	A		
30	A		
31	A		
32	A		
33	A		
34	A		
35	A		
36	A		
37	A		
38	A		
39	A		
40	A		

VOCATIONAL SCIENCE CALCULATION THEORY LEVEL-2

Q 1. Choose the most appropriate answer from the below mentioned options. _____ is doer of action.

- A). Subject
- B). Predicate
- C). Object
- D). None of these

Q 2. "A word or phrase that modifies the meaning of an adjective, verb, or other adverb, expressing manner, place, time, or degree" is _____.

- A). Conjunction
- B). Noun
- C). Pronoun
- D). Adverb

Q 3. _____ is the act of conveying meanings from one entity or group to another through the use of mutually understood signs and semiotic rules. \ _____ पारस्परिक रूप से समझने वाले संकेतों और अर्धचिकित्सक नियम के उपयोग के माध्यम से एक व्यक्ति या व्यक्तियों के समूह से दूसरे व्यक्ति या व्यक्तियों का समूह को अर्थपूर्ण संदेश देने का कार्य है।

- A). Communication \ संचार
- B). Skills \ कौशल
- C). Listening \ सुनना
- D). Speaking \ बोलना

Q 4. Which of the following should be quality / qualities of a good speaker? \ एक अच्छा वक्ता के निम्नलिखित में से कौन सा / से गुण होने चाहिए?

- A). Stand erect distributing your weight on both the legs. Do not hold onto the mike or to the podium for support. \ दोनों पैरों पर अपना वजन देकर खड़े हो जाओ। समर्थन के लिए माइक या मंच मत पकड़ो।
- B). Have a good posture and appearance. Do not lean on the podium. \ एक अच्छी शारीरिक मुद्रा रखे। पोडियम पर मत झुकें।
- C). Be confident, relaxed and energetic. Do not play with your clothes or

fingers. \ आत्मविश्वासी, शांतचित और ऊर्जावान बनें। अपने कपड़े या उंगलियों के साथ मत खेलें।

D). All of these \ ये सभी

Q 5. Arrange the following in correct order of steps in the motivational process: - 1. Assessing the preferences and personality characteristics of the individual or group to be motivated. 2. Defining motivational strategies appropriate for that target. 3. Conveying expectations for performance to or achieving desired outcomes from the object of the motivation. 4. Communicating benefits, rewards, or sanctions if expectations are (or are not) met. \ "प्रेरक प्रक्रिया में चरणों के सही क्रम में

निम्नलिखित व्यवस्थित करें: - 1. प्रेरित होने के लिए व्यक्ति या समूह की वरीयताओं और व्यक्तित्व विशेषताओं का आकलन करना। 2. उस लक्ष्य के लिए उपयुक्त प्रेरक रणनीतियों को परिभाषित करना। 3. प्रेरणा के उद्देश्य से वांछित परिणामों को निष्पादित करने या प्राप्त करने के लिए अपेक्षाओं को व्यक्त करना। 4. अपेक्षाएं मिलने (या नहीं मिलने) पर लाभ, पुरस्कार या प्रतिबंधों को संचारित करना। "

A). 1,2,3,4

B). 4,3,2,1

C). 1,3,2,4

D). 2,4,1,3

Q 6. An ideal group discussion allows - \ एक आदर्श समूह चर्चा अनुमति देता है -

A). its participants to share their views and opinions with other participants \ इसके प्रतिभागियों को अन्य प्रतिभागियों के साथ अपने विचार और राय साझा करने के लिए

B). systematic exchange of information, views and opinions about a topic, problem, issue or situation among the members of a group who share some common objectives \ कुछ सामान्य उद्देश्यों को साझा करने वाले समूह के सदस्यों के बीच किसी विषय, समस्या, मुद्दा या स्थिति के बारे में जानकारी, विचारों और विचारों का व्यवस्थित विनिमय

C). evaluation of candidates on the basis of their communication skills, knowledge, leadership skills, listening skills, conceptualizing ability, etc. \ अपने संचार कौशल, ज्ञान, नेतृत्व कौशल, श्रवण कौशल, अवधारणा क्षमता, आदि के आधार पर उम्मीदवारों का मूल्यांकन

D). All of these \ ये सभी

Q 7. Which of the following undesirable consequences may happen if one fails to manage its time effectively? \ निम्नलिखित में से कौन सा अवांछित परिणाम हो सकता है यदि कोई अपना समय प्रभावी ढंग से प्रबंधित करने में विफल रहता है?

- A). Higher stress levels \ उच्च तनाव स्तर
- B). Inefficient work flow \ अक्षम कार्य प्रवाह
- C). A poor professional reputation and a stalled career \ निम्न पेशेवर प्रतिष्ठा और एक स्थगित करियर
- D). All of these \ ये सभी

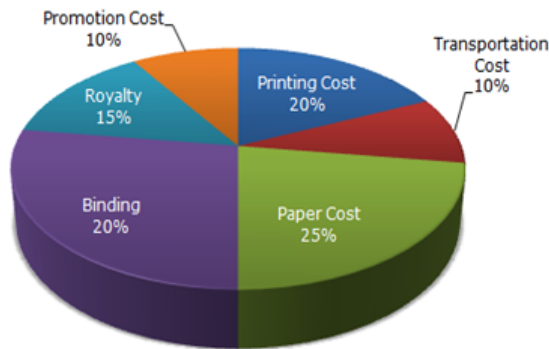
Q 8. Which of the following is not a factor of production? \ निम्नलिखित में से कौन सा उत्पादन का कारक नहीं है?

- A). Land \ जमीन
- B). Labour \ श्रम
- C). Capital \ पूँजी
- D). None of these \ इनमें से कोई नहीं

Q 9. Find the statement that must be true according to the given information : - Vijay is a newspaper delivery boy. Every morning, he delivers 37 newspapers to customers in his neighbourhood. It takes Vijay 50 minutes to deliver all the papers. If Vijay is sick or has other plans, his friend Tejas, who lives on the same street, will sometimes deliver the papers for him. \ "दी गई जानकारी के अनुसार निम्न में से कौन सा विकल्प सही होना चाहिए: - विजय समाचार पत्र पहुँचाने का काम करता है। हर सुबह, वह अपने पड़ोस में ग्राहकों को 37 समाचार पत्र पहुँचाता है। सभी अखबार पहुँचाने में विजय को 50 मिनट लगते हैं। यदि विजय बीमार हो या अन्य योजनाएं हों, तो उसके दोस्त तेजस, जो एक ही पड़ोस में रहते हैं, कभी-कभी उसके लिए समाचार पत्र भी पहुँचायेगा। "

- A). Vijay and Tejas live in the same neighbourhood. \ विजय और तेजस एक ही पड़ोस में रहते हैं।
- B). It takes Tejas more than 50 minutes to deliver the newspapers. \ अखबारों को वितरित करने में 50 मिनट से अधिक तेजस लेता है।
- C). It is dark outside when Vijay begins his deliveries. \ जब विजय काम शुरू करता है तो बाहर अंधेरा रहता है।
- D). Tejas would like to have his own newspaper delivery route. \ तेजस अपना अखबार डिलीवरी मार्ग बनाना चाहता है।

Q 10. The following pie-chart shows the percentage distribution of the expenditure incurred in publishing a book. Study the pie-chart and the answer the questions based on it. \ निम्नलिखित पाई-चार्ट पुस्तक प्रकाशित करने में किए गए व्यय का प्रतिशत वितरण दर्शाता है। पाई-चार्ट का अध्ययन करें एवं इसके आधार पर पूछे गए प्रश्न का उत्तर दें। Various Expenditures (in percentage) Incurred in Publishing a Book \ एक पुस्तक प्रकाशित करने में किए गए विभिन्न व्यय (प्रतिशत में) What is the central angle of the sector corresponding to the expenditure incurred on Binding? \ बाइंडिंग पर किए गए व्यय के अनुरूप केंद्रीय कोण कितना है?



- A). 72°
- B). 20°
- C). 54°
- D). 80°

Q 11. When is the worst time to break into a group discussion? \ समूह चर्चा में बोलने का सबसे खराब समय कब है?

- A). When two or three people are talking simultaneously \ जब दो या तीन लोग एक साथ बात कर रहे हों
- B). When everyone is silent \ जब सब चुप हैं
- C). When one person is talking \ जब एक व्यक्ति बात कर रहा होता है
- D). When there is less time left \ जब कम समय बचा है

Q 12. Full form of GATT is _____. \ GATT का पूर्ण रूप _____ है।

- A). General Agreement on Tariffs and Trade \ जनरल एग्रीमेंट ऑन टैरिफ एंड ट्रेड
- B). German Agreement on Tariffs and Trade \ जर्मन एग्रीमेंट ऑन टैरिफ एंड ट्रेड
- C). General Agreement on Tobacco Tariff \ जनरल एग्रीमेंट ऑन टोबको टैरिफ
- D). General Agreement on Tobacco Trade \ जनरल एग्रीमेंट ऑन टोबको ट्रेड

Q 13. If the sum of measures of two angles of a triangle is 135° ; then what is the measure of third angle? \ यदि एक त्रिभुज के दो कोणों के माप का योग 135° है; तो तीसरे कोण का माप क्या है?

- A). 45°
- B). 55°
- C). 65°
- D). 35°

Q 14. If the perimeter of a rectangular field is 100 metres and its length is 35 metres; then find the measure of its breadth? \ यदि एक आयताकार क्षेत्र की परिमिति 100 मीटर है और इसकी लंबाई 35 मीटर है; फिर इसकी चौड़ाई का माप ज्ञात करें?

- A). 15 m \ 15 मी.
- B). 25 m \ 25 मी.
- C). 20 m \ 20 मी.
- D). 65 m \ 65 मी.

Q 15. Marathon is to race as hibernation is to _____. \ मैराथन का सम्बन्ध दौड़ से है तो शीतनिद्रा का सम्बन्ध _____ से है।

- A). winter \ सर्दी
- B). bear \ भालू
- C). dream \ स्वपन
- D). sleep \ नींद

Level 2 Answer Key

Question No.	Option
1	A
2	D
3	A
4	A
5	A
6	D
7	D
8	D
9	A
10	A
11	A
12	A
13	A
14	A
15	D